

The University of the State of New York

REGENTS HIGH SCHOOL EXAMINATION

물리 분야 지구 과학

2014년 6월 19일, **목요일** — 1시 15분부터 오후 4시 15분까지만 실시

답안 책자

학생명 남자 성별: 여자

교사명

학교명 학년

파트 B-2와 파트 C에 대한 답을 이 책자에 기록하십시오.

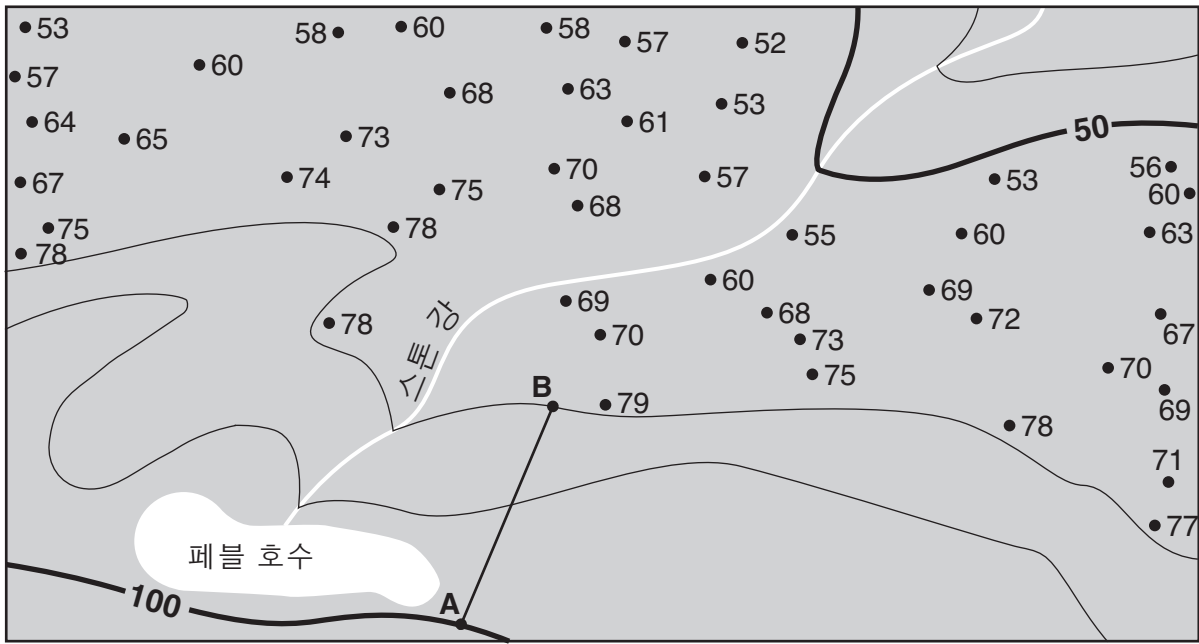
파트 B-2

51 _____ 해류

52 _____

53 _____ 풍과 _____ 풍

54



등고선 간격 = 10미터

55 _____ m

56 경사 도 = _____ m/km

57

시간과 요일	실제 기압계 압력 (mb)	구름량 (%)	바람이 불어오는 방향
목요일 정오 12시			

58 _____ %

59 눈 내리는 속도 = _____ 인치/시간

60 물품 1: _____

물품 2: _____

61 _____

62 _____

63 _____

64 _____

65 _____

파트 C

66 조수 높이: _____ m

시간: _____

67 _____

68 _____

69 _____

70 _____ 시간

71 _____

72 _____ 캄브리아기

73 _____

74 _____

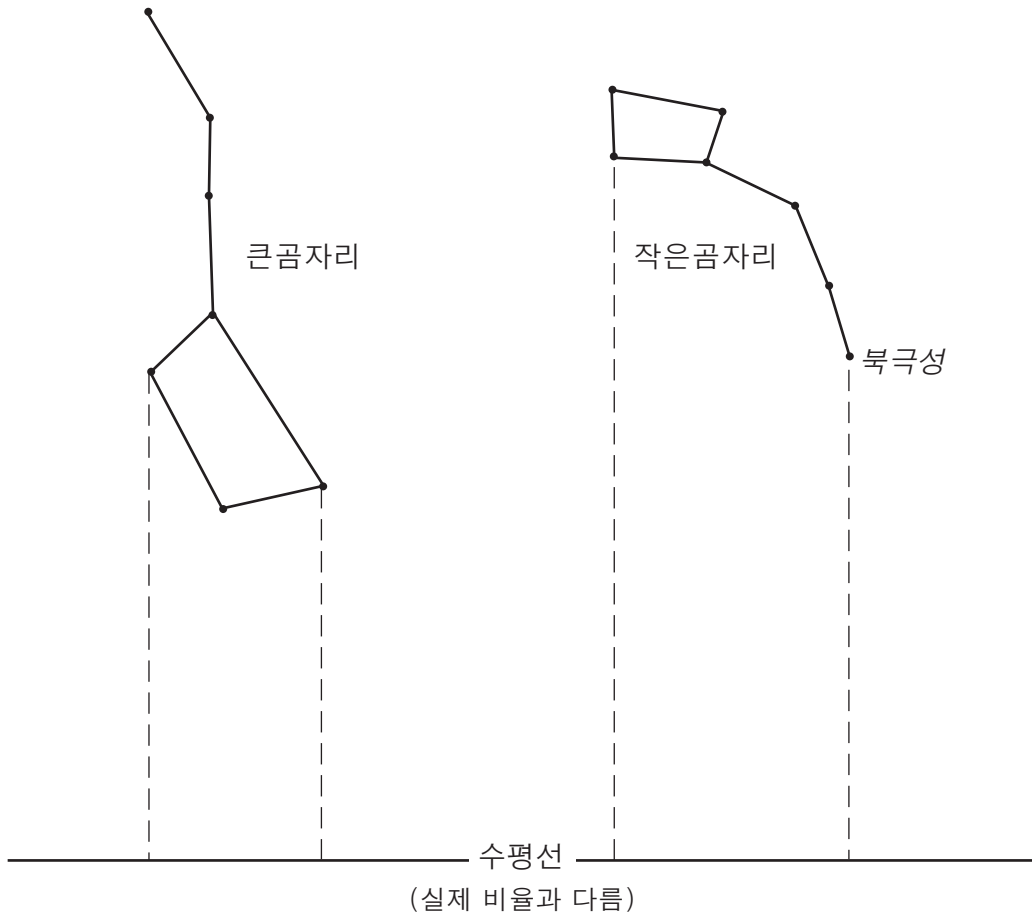
75 _____

76 _____

77 _____ cm

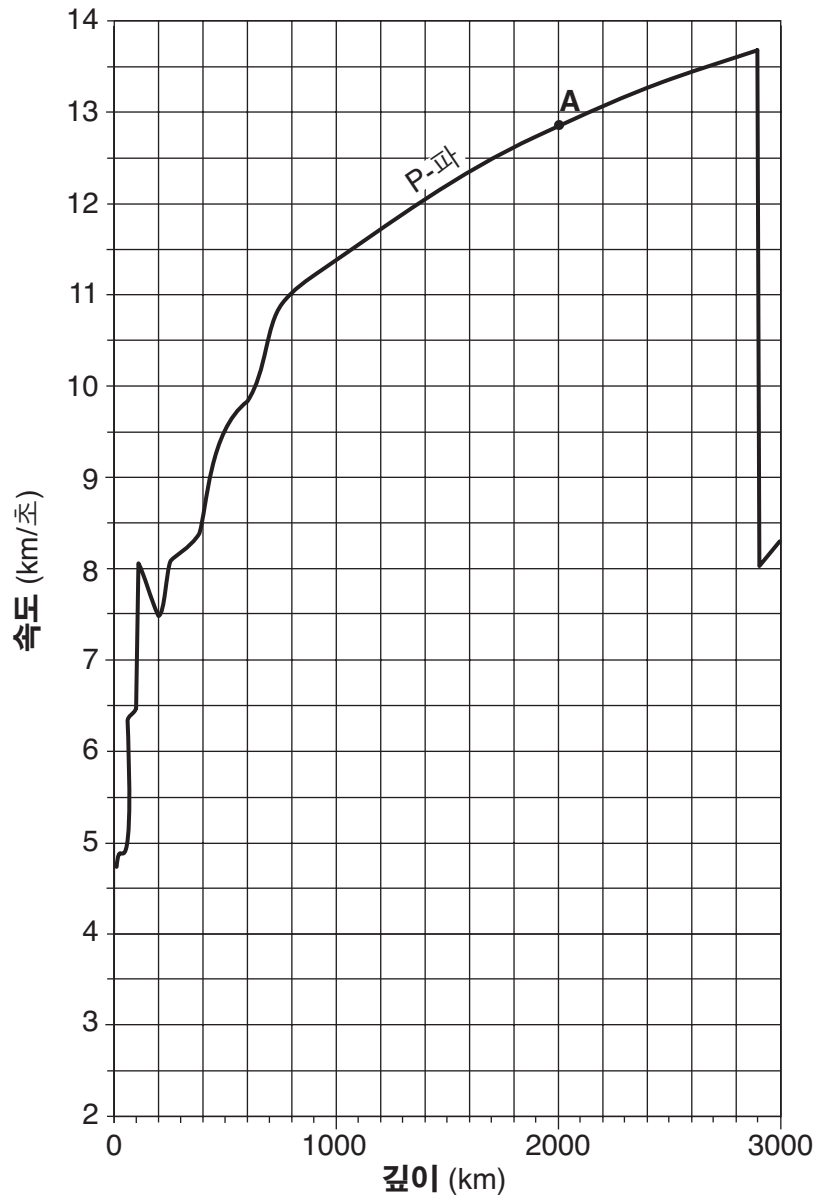
78 _____

79



80 _____ °

81



82 _____

83 압력: _____ 백만 기압

내부 온도: _____ °C

84 _____

85 지름: _____

광도: _____

