

ФИЗИЧЕСКИЕ ХАРАКТЕРИСТИКИ ЕСТЕСТВОЗНАНИЕ

Пятница, 19 июня 2015 г. — Время строго ограничено с 9:15 до 12:15

БЛАНК ДЛЯ ОТВЕТОВ

Учащийся Пол: Мужской
 Женский

Преподаватель

Школа Класс

Запишите в этом буклете свои ответы на вопросы части В–2 и части С.

Часть В–2

51 Ледники: _____

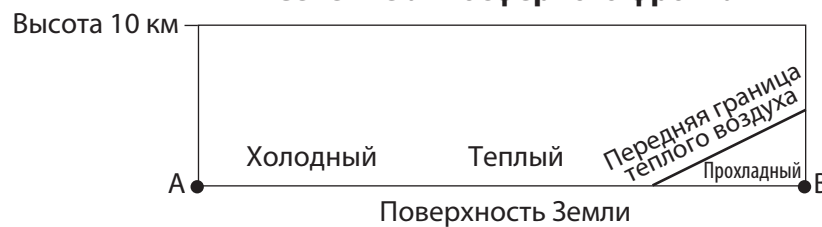
Уровень моря: _____

52 Обведите один вариант: суша океан

Относительная температура на поверхности Земли: _____

53

Сечение атмосферного фронта



54 _____

55 _____ ч

56




21 декабря

(Без учета масштаба)

57 _____ °

58



59 _____

60 _____

61 _____ и _____

62 _____ С°/месяц

63 _____

64 _____

65 _____ течение


Часть С

66 Температура воздуха в X: _____

Содержание водяного пара в X: _____

67 _____ футов

68



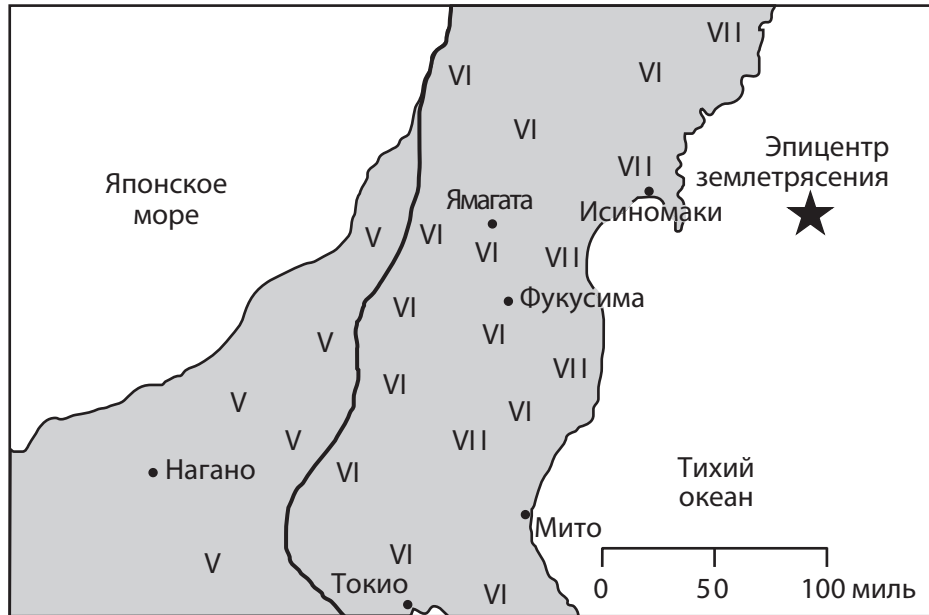
69 _____

70 _____

71 _____

72

Землетрясение в Японии 11 марта 2011 г.



73

- | | |
|--------------------------|-------------------------------------|
| <input type="checkbox"/> | раскачивались припаркованные машины |
| <input type="checkbox"/> | разбились окна и посуда |
| <input type="checkbox"/> | ощутили все люди |
| <input type="checkbox"/> | сдвинулась тяжелая мебель |
| <input type="checkbox"/> | упали трубы и памятники |
| <input type="checkbox"/> | здания сдвинулись с фундаментов |

74 _____

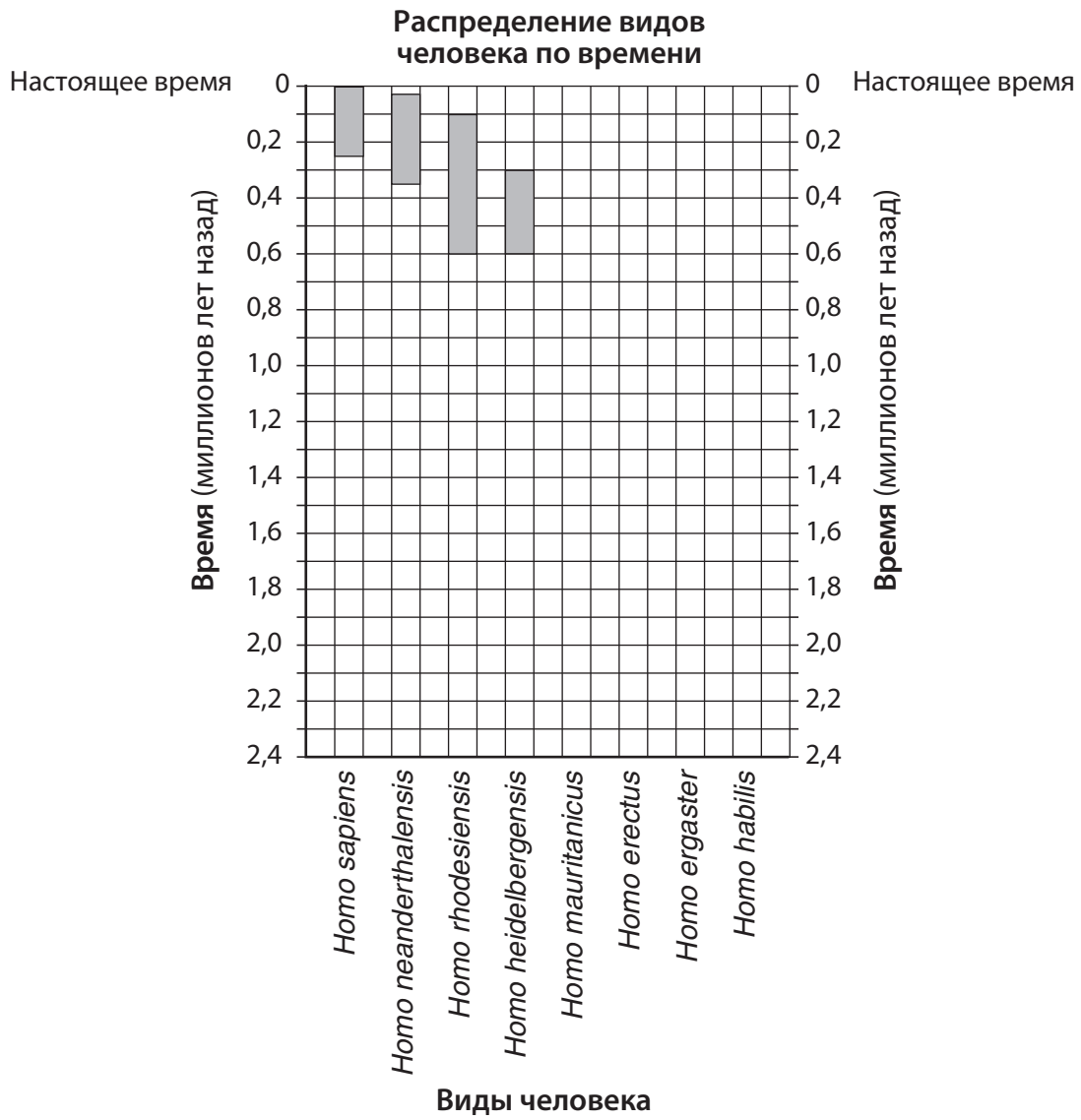
75 _____

76 _____

77 _____ мес.

78 _____

79



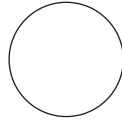
80 _____

81 *Homo* _____ и *Homo* _____

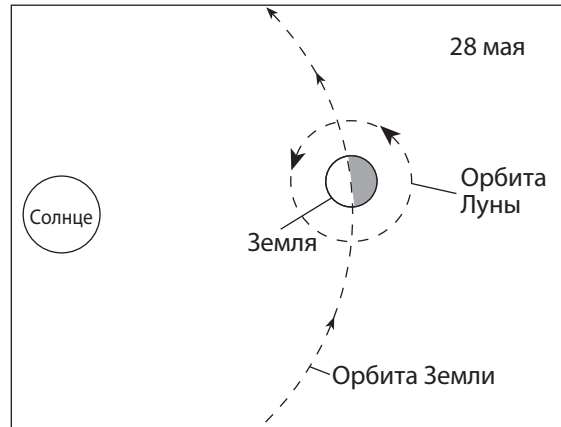
82 _____ Эпоха

83 _____ ч _____ МИН

84



85



(Без учета масштаба)

