

ENTORNO FÍSICO CIENCIAS DE LA TIERRA

Miércoles, 26 de enero de 2005 — 1:15 a 4:15 p.m., solamente

FOLLETO DE RESPUESTAS

Masculino

Estudiante. Sexo: Femenino

Profesor

Escuela Grado

Conteste todas las preguntas de la Parte B-2 y la Parte C. Escriba sus respuestas en este folleto.

	Performance Test Score (Maximum Score: 23)	
Part	Maximum Score	Student's Score
A	35	
B-1	15	
B-2	15	
C	20	
Total Written Test Score (Maximum Raw Score: 85)		<input style="width: 50px; height: 20px;" type="text"/>
Final Score (from conversion chart)		<input style="width: 50px; height: 20px;" type="text"/>
Raters' Initials: Rater 1 Rater 2		

Parte B-2

51

(No está dibujado a escala)

Leyenda
Movimientos de la Tierra
- - ➔ Revolución
↻ Rotación

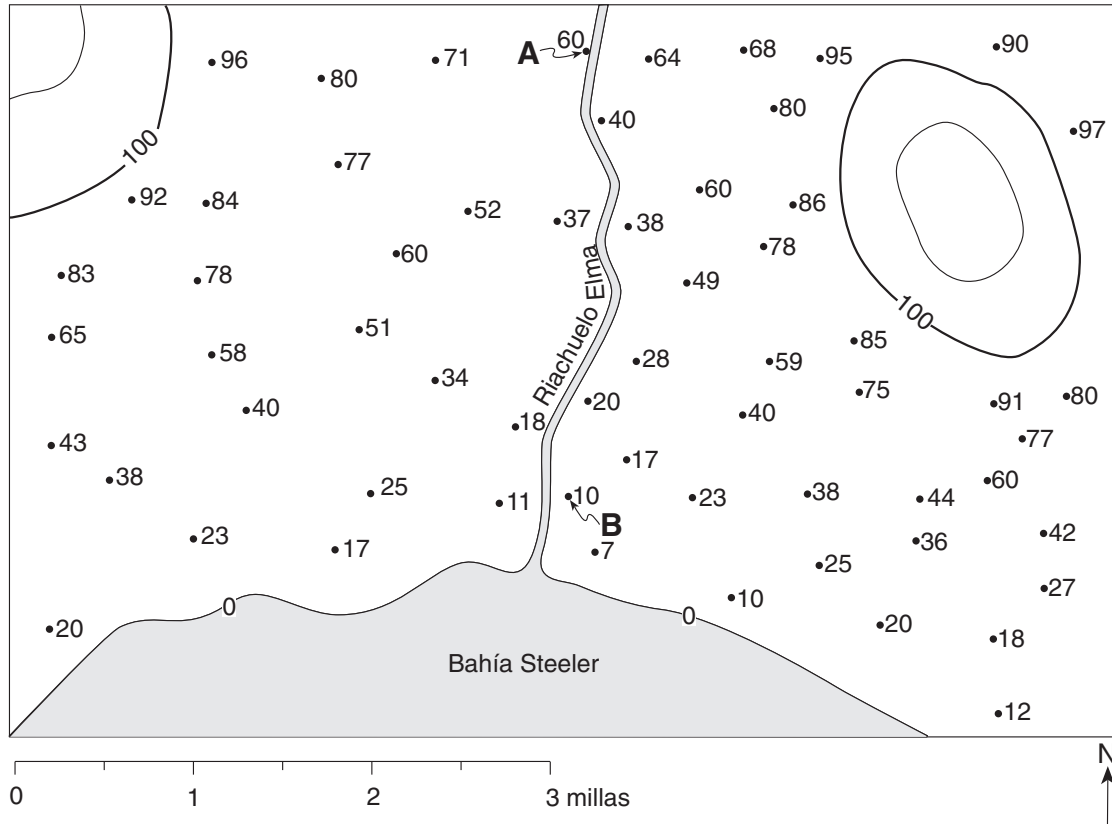
52 _____

For Raters Only

51

52

53



53


54 _____

54

55 Gradiente = _____

55

56

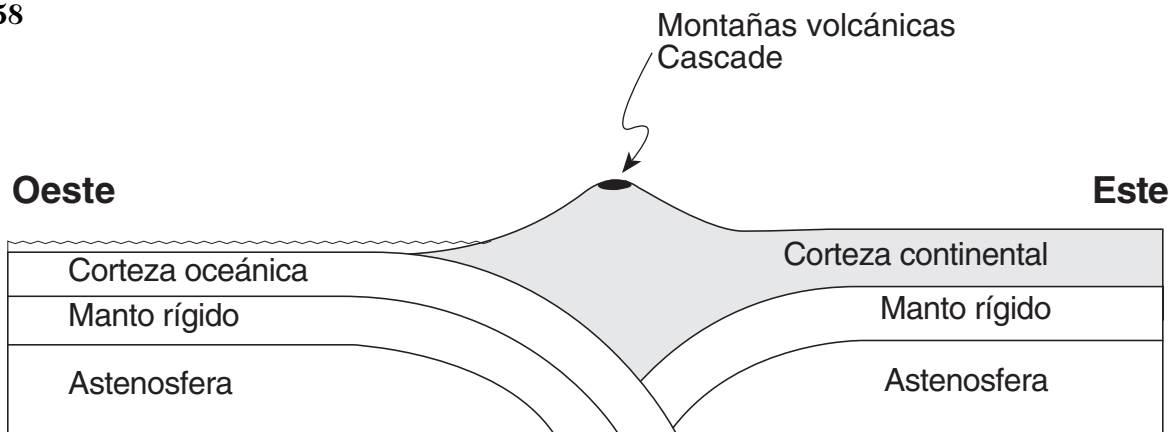


56

57 Época _____

57

58



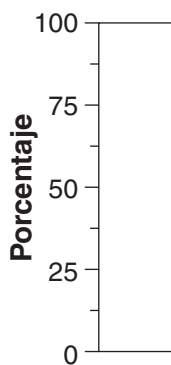
(No está dibujado a escala)

58

59 _____

59

60



Material después de dos vidas medias

Leyenda	
<input type="checkbox"/>	Elemento radioactivo
<input checked="" type="checkbox"/>	Elemento estable de desintegración

60

61 _____ años

61

62 (1) _____

62

(2) _____

Total Score for Part B-2
[AL DORSO]

Parte C

63 _____

63

64 _____

64

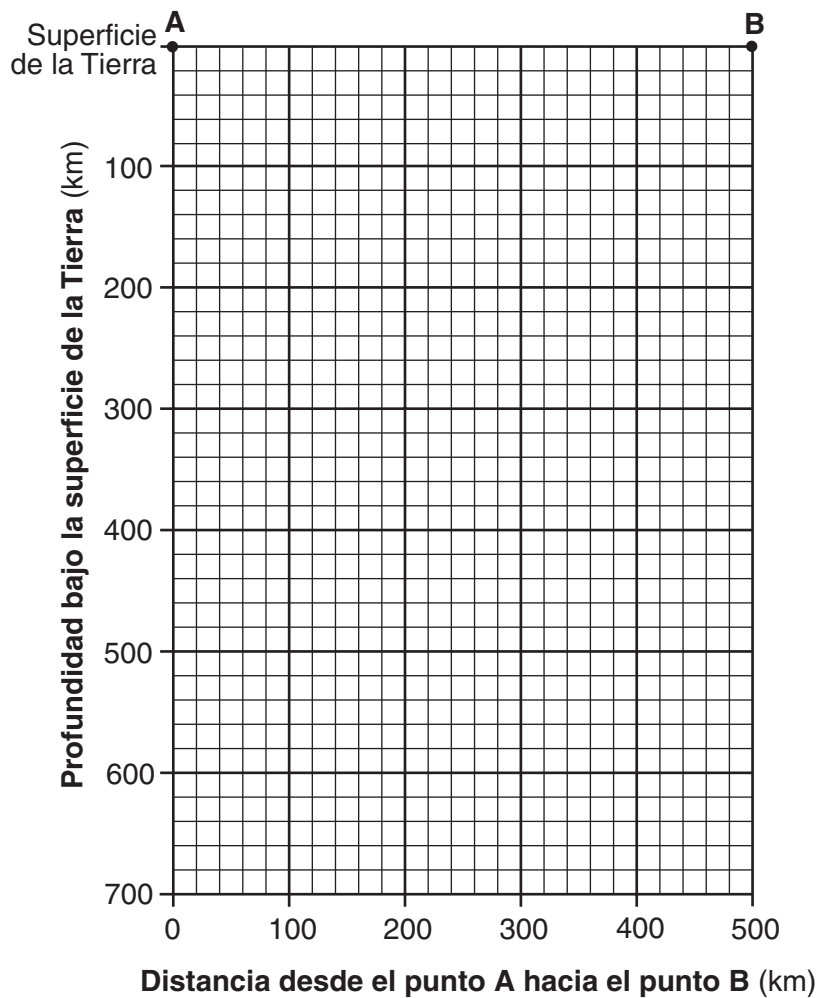
65

65

66 (1) _____
(2) _____

66

67



67

68 _____

68

69 _____

69

70 _____

70

71 _____

71

**For Raters
Only**

72 _____

72

73 _____

73

74 _____

74

75 _____

75

76 _____

76

77 _____

77

78 _____

78

79

Mineral	Nombre del Mineral
<i>A</i>	
<i>B</i>	
<i>C</i>	

79

80 _____ y _____

80

Total Score for Part C

