

# 世界歷史 和地理

僅限用於 2013 年 1 月 25 日 (星期五) 上午 9 時 15 分至下午 12 時 15 分

學生姓名 \_\_\_\_\_

學校名稱 \_\_\_\_\_

**在本考試中，嚴禁持有或使用任何形式的通訊工具。如果你持有或使用了任何的通訊工具，無論多短暫，你的考試都將無效，並且不會得到任何分數。**

請用工整字跡在以上直線上填寫你的姓名和學校名稱。一份分開的第 I 部分專用答題紙會發給你。請遵循監考老師的指示在答題紙上填寫學生資料。然後再填寫論文題本的每一抬頭。

本次考試共有三個部分。你必須回答每一部分的**所有**考題。請用黑筆或藍筆作答第 II 部分、第 III A 部分和第 III B 部分。

**第 I 部分**包括 50 道選擇題。根據指示將答案記錄在答題紙上。

**第 II 部分**包括一道以主題為主的論文題。請在論文本上寫下你對這個問題的答案，從第 1 頁開始。

**第 III 部分**基於幾份文件：

**第 III A 部分**包含這些文件。請務必在這部分的第一頁上填寫你的姓名和學校名稱。

每一文件後有一個或一個以上的問題要回答。在本考題本上，將各題的答案寫在各問題後面的直線上。

**第 III B 部分**包含一個基於這些文件的論文題。請在論文本上寫下你對這個問題的答案，從第 7 頁開始。

在本次考試結束後，你必須簽署印在答題紙最後的聲明，表明在考試之前你沒有非法得到本考試的試題或答案，並且在本考試中沒有給予過或接受過任何的幫助。你如果不簽署本聲明，你的答題紙將不會被接受。

**未經指示請勿打開本考題本。**

## 第 I 部分

### 請回答本部分的所有問題。

答題說明 (1-50)：對於每個陳述或問題，在分開的答題紙上寫下所提供的、最佳完成陳述或回答問題的詞或語句的編號。

- 1 哪一項是關於第一次世界大戰的第二手資料？
  - (1) 朗爾紮克 (Lanrezac) 將軍在策劃馬恩河戰役時使用的地圖
  - (2) 參加索姆河戰役的一名士兵的日記
  - (3) 東線戰場上的俄國士兵使用的步槍使用說明書
  - (4) 雜誌上有關一首詩《弗蘭德斯戰場》(In Flanders Fields) 75 週年紀念的文章
- 2 哪個水域位於西南亞與東南亞之間？
  - (1) 太平洋
  - (2) 加勒比海
  - (3) 印度洋
  - (4) 黑海
- 3 哪個河系位於美索不達米亞 (兩河流域)？
  - (1) 尼羅河
  - (2) 黃河
  - (3) 底格里斯河和幼發拉底河
  - (4) 恒河和布拉馬普得拉河
- 4 非洲班圖人的遷徙 (西元前 500 年—西元 1500 年)，對現代非洲哪一方面的發展影響最大？
  - (1) 語言
  - (2) 市場系統
  - (3) 交通運輸系統
  - (4) 建築
- 5 甲骨文、道教和天意都與哪個地區的早期文明相關？
  - (1) 埃及
  - (2) 俄國
  - (3) 印度
  - (4) 中國
- 6
  - 齋月期間的齋戒 (禁食)
  - 每天祈禱五次
  - 施捨窮人

哪個宗教的教徒會從事這些活動？

  - (1) 基督教
  - (2) 佛教
  - (3) 伊斯蘭教
  - (4) 猶太教

依據以下照片和你的社會學知識來回答第 7 題。

**聖索菲亞大教堂，  
1017-1037 年**



資料來源：Basil Dmytryshyn, ed.,  
*Medieval Russia: A Source Book, 850-1700*,  
Academic International Press

- 7 哪一種文明對這張照片中所示的俄式建築風格影響最大？
  - (1) 倭馬亞
  - (2) 拜占庭
  - (3) 法國
  - (4) 波斯
- 8
  - 阿旃陀石窟中多彩壁畫的創造
  - 十進位制和零的概念的發展
  - 與波斯和非洲東部城市的貿易

這些成就發生在哪一個時期

  - (1) 漢朝
  - (2) 古普塔帝國
  - (3) 唐朝
  - (4) 孔雀帝國

- 9 這些成就與哪個回教文化的黃金時代最密切相關？
- (1) 清真寺、醫療書籍和代數
  - (2) 火藥、佛塔和絲綢
  - (3) 溝渠、道路和多神教寺廟
  - (4) 圓柱、太陽是宇宙中心的理論和民主
- 10 哪項陳述準確地描述回教徒在十字軍東征期間的行動？
- (1) 大多數回教徒改信基督教。
  - (2) 回教徒攻擊並佔領了君士坦丁堡。
  - (3) 回教徒保衛了耶路撒冷，因為這是他們的聖地。
  - (4) 許多回教徒首次來到歐洲以獲取奢侈品。
- 11 蒙古在亞洲和歐洲擴張的一個重要影響是
- (1) 基輔王子的權力增強
  - (2) 絲路沿途的貿易發展
  - (3) 印度教引入中華文化
  - (4) 阿拉伯海岸的海上探勘
- 12 13 世紀卡利卡特、摩加迪休和威尼斯的經濟財富主要是依賴它們的
- (1) 肥沃的土壤
  - (2) 鐵礦
  - (3) 金礦
  - (4) 沿海地區
- 13 歐洲黑死病所引發的直接後果是什麼？
- (1) 城市化的速度增加。
  - (2) 工人短缺的情況加重。
  - (3) 不得不從美洲進口糧食作物。
  - (4) 德國把持了地中海東部的貿易。
- 14 在《君主論》(*The Prince*) 一書中，馬基維里 (Niccolò Machiavelli) 最關心的是
- (1) 政治權力的使用
  - (2) 教會權威的擴張
  - (3) 政府對經濟的調控
  - (4) 所有人的平等和正義
- 15 • 世界觀從脫俗轉為世俗。  
• 希臘和羅馬的思想復興。  
• 印刷機進行了改進。
- 哪種現象與文藝復興時期的這些方面最密切相關？
- (1) 哥德式教堂成為城市活動的重心。
  - (2) 查理曼大帝 (Charlemagne) 被羅馬教皇加冕為神聖羅馬帝國的皇帝。
  - (3) 伽利略 (Galileo Galilei) 發表宇宙以太陽為中心的資訊。
  - (4) 帝王們使用十二銅板法 (Twelve Tables) 帶來了羅馬的和平時期。
- 16 哪種情況是導致阿茲特克文明瓦解的直接原因？
- (1) 海外貿易網路的中斷
  - (2) 被外國人征服
  - (3) 作物接連欠收
  - (4) 缺少軍事訓練
- 17 為什麼 1492 年被認為是歷史上的轉捩點？
- (1) 西班牙建立了歐洲與美洲之間的交流。
  - (2) 明朝發動的遠征船隊到達了非洲東海岸。
  - (3) 阿拉伯回教軍隊成功地征服了埃及和敘利亞。
  - (4) 英國控制了印度新領地。
- 18 在 16 世紀，歐洲人試圖在非洲建立殖民地的行動受到哪一種阻力
- (1) 奴隸貿易的廢除
  - (2) 基督教和回教傳教士的合作努力
  - (3) 非洲地理因素的多種障礙
  - (4) 非洲部落領袖領導的廣泛統一的抗爭

- 19 哪種思想與重商主義的經濟概念最密切相關？
- (1) 殖民地為殖民國家提供原材料與市場。
  - (2) 財富和權力的基礎是貴族之間的土地交換。
  - (3) 貨物和服務的貿易不受政府干預。
  - (4) 地產為集體所有並由國家管理。
- 20 彼得大帝和凱瑟琳大帝的統治的一個相似之處是兩位領袖都
- (1) 推動了農奴解放
  - (2) 加強了國家杜馬的作用和集中王權
  - (3) 與俄國東正教教會分權
  - (4) 推行西方化和擴張的政策
- 21 哪一種組織實力變強並且限制了君主制，因而結束了英國的專制主義？
- (1) 銀行
  - (2) 國會
  - (3) 大學
  - (4) 英國國教教堂
- 22 哪一種觀點是約翰洛克 (John Locke) 《政府論》 (*Two Treatises of Government*) 的核心？
- (1) 政府的權力來自於人民的贊同。
  - (2) 宿命決定誰死後升入天堂。
  - (3) 饑荒、疾病和衝突是對人口成長的自然制衡。
  - (4) 窮人會起義推翻富人的政府。
- 23 安地斯山脈和亞馬遜河盆地影響了西蒙·玻利瓦爾 (Simon Bolivar) 推動哪一項事業的努力
- (1) 經濟帝國主義
  - (2) 政治統一
  - (3) 宗教團結
  - (4) 技術改進
- 24 • 俾斯麥 (Otto von Bismarck) 被任命為首相  
• 1866 年的普奧戰爭  
• 1870–1871 年的普法戰爭
- 這些事件直接導致
- (1) 德國的統一
  - (2) 義大利的外國統治
  - (3) 印度兵的叛亂
  - (4) 塞爾維亞與俄國之間的聯盟
- 25 19 世紀中葉，導致愛爾蘭大規模移民的主要原因是
- (1) 強制性兵役
  - (2) 饑荒
  - (3) 內戰
  - (4) 農業機械化
- 26 19 世紀，社會達爾文主義和「白人的負擔」的觀點經常被用來證明
- (1) 孤立主義
  - (2) 姑息政策
  - (3) 帝國主義
  - (4) 裁軍
- 27 1914 年以前，巴爾幹半島的民族主義促成了
- (1) 種族團體對奧地利統治的反抗
  - (2) 外國外交官發起反對使用塹壕戰的運動
  - (3) 各國無力支付賠償費
  - (4) 參戰國拒絕接受《凡爾賽條約》 (Versailles Treaty)

依據以下的漫畫和你的社會學知識來回答第 28 題。



資料來源：Grant Wallace, *San Francisco Chronicle*, reprinted in *The Literary Digest*, July 14, 1900 (經改編)

28 這幅漫畫中表達的觀點與哪一項最密切相關

- (1) 歐洲形成聯盟
- (2) 柏林會議上討論了對非洲的劃分
- (3) 外國人在中國建立了勢力範圍
- (4) 維也納會議上進行了邊界改動

29 哪個關於第一次世界大戰的陳述是一個觀點而不是事實？

- (1) 歐洲國家在戰爭期間增加了武器產量。
- (2) 大多數國家的政府都表示衝突時期將是短暫的。
- (3) 宣傳海報被用來爭取對戰爭的支持。
- (4) 同盟國公民比軸心國公民表現出更高的愛國熱情。

30 布爾什維克黨在列寧 (Vladimir Lenin) 的領導下採取了哪一種行動？

- (1) 支持傳統的經濟
- (2) 消滅政治上的反對力量
- (3) 向臨時政府投降
- (4) 擴大了對抗奧匈帝國的戰爭

31 蘇聯在史達林 (Joseph Stalin) 的領導下發生的經濟變化應包括

- (1) 建立自由市場改革
- (2) 抵制波羅的海的貿易航線
- (3) 重視消費品的生產
- (4) 農業集體化

32 第二次世界大戰中的哪一項事件最早發生？

- (1) 不列顛之戰
- (2) 諾曼地登陸
- (3) 入侵波蘭
- (4) 在廣島投放原子彈

依據以下的敘述和你的社會學知識來回答第 33 題。

「中東」並不是中東人對自己的稱呼，而是英國人帶有殖民的、歐洲人觀點的用詞。這個詞的起源仍存在[充滿]爭議，起初是歐洲人根據其勢力範圍而強加的地理概念。哪個地區的東部？倫敦的東部。為什麼是「中」？因為它地處英國與遠東印度的中間。...

— Pierre Tristram, "What is the Middle East?"

33 哪一個詞與這段短文的主要觀點最密切相關？

- (1) 相互依存
- (2) 和平主義
- (3) 抑制政策
- (4) 種族中心主義

34 第二次世界大戰以後，韓國與德國的一個相似之處是什麼？

- (1) 他們都拒絕與超級大國結盟。
- (2) 兩國的前任皇帝都因戰爭犯罪而受審。
- (3) 兩個國家在冷戰期間都處於分裂狀態。
- (4) 這兩個國家種族間的緊張局勢都可能引發內戰。

35 歐洲聯盟 (EU) 和北美自由貿易協定 (NAFTA) 這兩個政策的目的都在於

- (1) 減少成員國之間的貿易壁壘
- (2) 減少重點行業之間的競爭
- (3) 控制工業化國家的石油供應
- (4) 提升西方國家的民族主義

36 哪一位中國領導人與領導大躍進和文化大革命最密切相關？

- (1) 孫逸仙 (Sun Yat-sen)
- (2) 蔣介石 (Chiang Kai-shek)
- (3) 毛澤東 (Mao Zedong)
- (4) 鄧小平 (Deng Xiaoping)

37 為什麼有大量的印度教徒和回教徒在印度剛獲得獨立之後立即遷徙？

- (1) 許多工作機會被外包至國外。
- (2) 政府在新開發的地區提供住房激勵政策。
- (3) 規定按照自己的信仰前往鄰國進行宗教朝聖。
- (4) 這塊次大陸主要按照大多數信徒的分佈而分裂為不同的國家。

38 德克勒克 (F. W. de Klerk) 和曼德拉 (Nelson Mandela) 因致力於結束哪一件事而獲得了諾貝爾和平獎

- (1) 外國對鑽石礦的控制
- (2) 歧視性的種族隔離政策
- (3) 索馬利亞的無政府狀態
- (4) 波爾戰爭

39 波爾布特、赤棉、「殺戮曠野」和元年都與哪個國家的暴力時期相關？

- (1) 越南
- (2) 柬埔寨
- (3) 中國
- (4) 韓國

40 哪一種情況與旱災結合，最直接地導致了與撒哈拉接壤的南部地區居民遷出？

- (1) 城市化
- (2) 沿海污染
- (3) 野生動物旅遊
- (4) 荒漠化

依據以下的漫畫和你的社會學知識來回答第 41 題。



資料來源：Robert ARIAL, *The State*, April 27, 2008 (經改編)

41 這幅漫畫表達的主要觀點是什麼？

- (1) 騎馬比開汽車危險。
- (2) 使用由玉米製成的生物燃料將提高汽車的安全性。
- (3) 汽車使用由玉米製成的生物燃料將加劇食物短缺。
- (4) 給馬餵食玉米不如使用玉米製造汽車燃料的效率。

依據以下的敘述和你的社會學知識來回答第 42 題。

... 然而，對於烏克蘭而言，河水導致的污染仍是主要問題，因為大多數河流都流向南方。為了減緩輻射擴散的速度，事故發生後，在第聶伯河沿岸建造了保護性水壩。正如烏克蘭政府機構車諾比 Interinform 在其情況總結中指出：「但是，當然並不是所有的河岸都能以這種方式進行保護。尤其在洪水爆發期間，輻射仍將淋溶至河水中。從第聶伯河盆地獲取飲用水的三千萬人尤其會受到威脅。」 ...

— Chernobyl.info

42 這段短文中描述了哪一種問題的後果？

- (1) 火山爆發
- (2) 核災難
- (3) 全球暖化
- (4) 森林消失化

43 下列哪一項因素影響了 21 世紀非洲南部國家的經濟發展？


- (1) 對咖啡出口的依賴
- (2) 財富的公平分配
- (3) 建立共產主義政府
- (4) 愛滋病疫情蔓延

44 工業國家中的工人必須發起革命，並在必要時使用武力推翻現有的政府，然後建立新的無階級社會。

這項陳述表達了誰的觀點

- (1) 戈巴契夫 (Mikhail Gorbachev)
- (2) 喬莫·肯雅塔 (Jomo Kenyatta)
- (3) 卡爾·馬克思 (Karl Marx)
- (4) 凱末爾 (Kemal Atatürk)

依據以下的畫作和你的社會學知識來回答第 45 題和第 46 題。



資料來源：Bridging World History, Annenberg Learner

45 哪一種經濟體制與這幅藝術作品中所示的活動最密切相關？

- (1) 莊園制度
- (2) 資本主義
- (3) 共產主義
- (4) 社會主義

46 這幅藝術作品與哪一種歷史背景最密切相關？

- (1) 日本—德川幕府
- (2) 中東—阿巴思王朝
- (3) 西歐—中世紀
- (4) 印度—莫臥兒王國

47 對紐倫堡法律的最佳描述是

- (1) 羅馬天主教會懲罰異端的努力
- (2) 《人權宣言》(Declaration of the Rights of Man) 中的主要條文
- (3) 《查士丁尼法典》(Justinian's Code) 中包含的特定法律
- (4) 20 世紀德國反猶太人的法律

48 哪一項因素幫助俄國軍隊擊敗拿破崙的軍隊，並幫助蘇聯軍隊擊敗希特勒的軍隊？

- (1) 嚴寒的冬天
- (2) 隘口
- (3) 強大的空軍力量
- (4) 聯合國維和人員

49 印度賤民的遭遇、猶太人在大屠殺時期的遭遇以及天安門廣場中國學生示威者的遭遇都是什麼的例子

- (1) 法西斯政策
- (2) 治外法權
- (3) 革出教門
- (4) 侵犯人權

50 杜桑·盧維圖爾 (Toussaint L'Ouverture)、恩克魯瑪 (Kwame Nkrumah) 和胡志明 (Ho Chi Minh) 的一個相似之處是每一位領導人都

- (1) 反對羅馬天主教會在政治中的作用
- (2) 在自己的國家中建立了第一個民主政府
- (3) 為自己的國家擺脫歐洲的控制而抗爭
- (4) 接受不合作主義的原則



論文題的答案應填寫在分開的論文本上。

在回答第 II 部分的問題時，請注意以下一般性定義：

- (a) **描述**指「用文字闡述或陳述」
- (b) **論述**指「透過事實、推理和論證來對某件事發表意見；加以詳述」

## 第 II 部分

### 主題論文題

答題說明：撰寫一篇條理分明的論文，包括引言、解決以下任務的幾個段落、以及結論。

#### 主題：變化—政府的垮臺

統治者的暴亡、戰敗或革命的勝利通常會導致政府的垮臺。政府垮臺導致政治、社會和經濟發生變化。

#### 任務：

選擇說明政府垮臺導致國家或地區出現巨大變化的**兩個**例子，並且對於**每個**例子

- 描述導致政府垮臺的歷史背景
- 論述政府垮臺所導致的政治、社會**和/或**經濟變化

你可以使用在學習世界歷史和地理時所學到的政府垮臺對國家或地區帶來巨大變化的任何例子。你不妨考慮的一些例子包括羅馬帝國的滅亡、路易十六 (Louis XVI) 政府的垮臺、德川 (Tokugawa) 幕府的垮臺、沙皇尼古拉二世 (Czar Nicholas II) 政府的垮臺、奧斯曼帝國的滅亡、中國的國民政府[國民黨]的垮臺、古巴的巴蒂斯塔 (Batista) 政府的垮臺、伊朗的巴勒維 (Reza Pahlavi) 政府的垮臺、南斯拉夫的解體和蘇聯的解體。

**你不必侷限於以上建議。**

**不要使用美國歷史中的例子。**

#### 指南：

**在你的論文中，請務必**

- 闡述任務的各個方面
- 引用相關事實、例證及細節來支持主題
- 須合乎邏輯、條理分明，包括一個不只是重複主題的引言和結論

第 III 部分  
基於文件題

本問題是基於隨附的文件。該問題的設計是為了測驗你運用歷史文件的能力。其中一些文件是為這個問題編輯的。當你分析文件時，請參考每份文件的來源及文件中所論述的任何觀點。

**歷史背景：**

縱觀歷史，對於特定產品的需要和渴望對人、社會和地區造成了長期性的影響。這些產品包括**鹽**、**糖**和**棉花**。

**任務：**運用文件資料和你的世界歷史知識，回答 A 部分每一份文件後面的問題。你對這些問題的回答將有助於撰寫 B 部分的論文，在這篇論文中，你將被要求

選擇歷史背景中所提到的**兩種**產品，並且對於**每種**產品

- 說明為什麼人們需要或渴望這種產品
- 論述這種產品對人、社會**和/或**地區有何影響

在回答第 III 部分的問題時，請注意以下一般性定義：

- (a) **說明指**「使其平實易懂；提供原因或來由；顯示邏輯發展或關係」  
(b) **論述指**「透過事實、推理和論證來對某件事發表意見；加以詳述」

## A 部分 簡答題

答題說明：分析以下文件，在所提供的空白處上回答每份文件後的簡答題。

### 文件 1

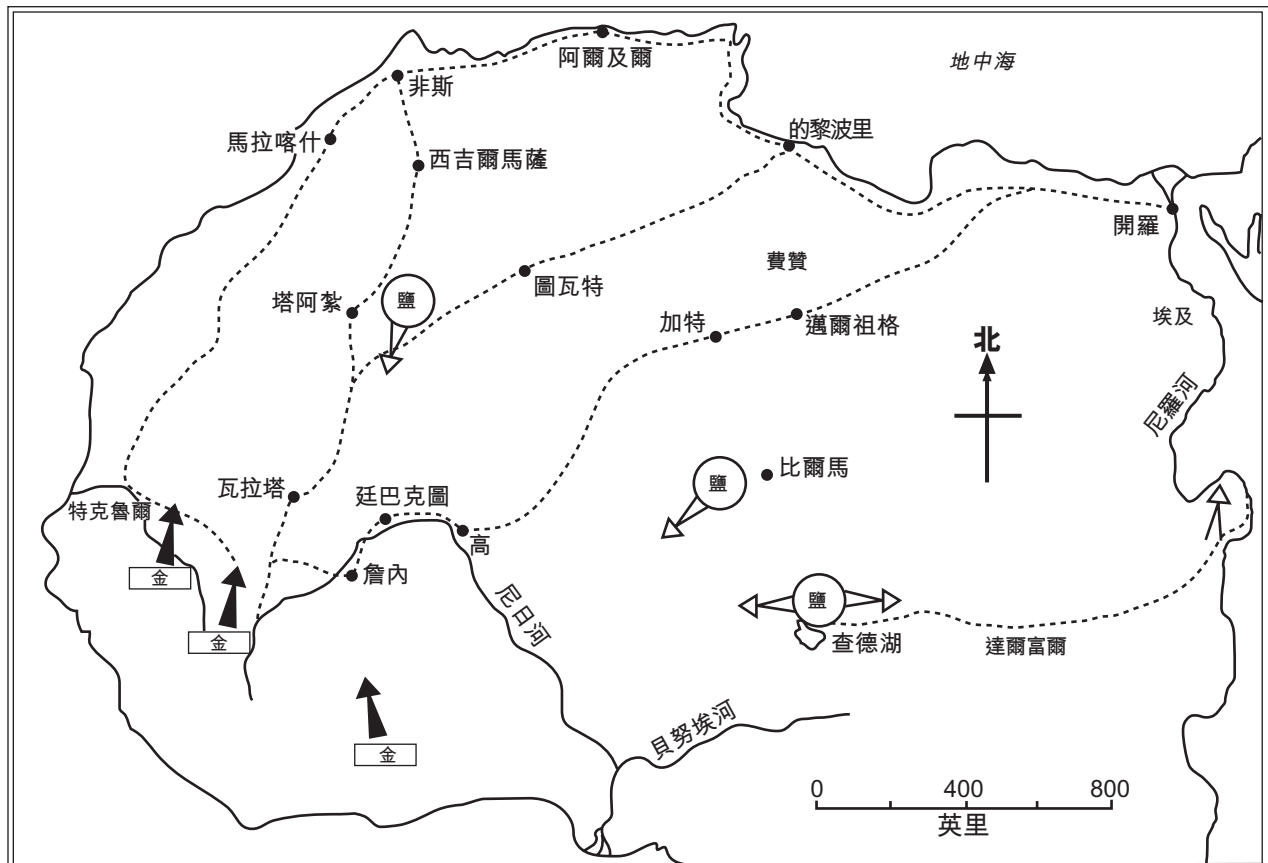
... 地中海地區不僅有很多鹽層，還有夠強的陽光可以曬乾海鹽，因此人們老早就會使用鹽巴來保存食物了。埃及人和羅馬人早在古典期前時代就已經有鹹魚，並且發展出繁榮的貿易。醃肉很受歡迎，羅馬高盧地區因醃燻火腿而聞名。在開始食用鱈魚之前，巴斯克人有時會用鹽醃製鯨魚肉；醃鯨魚肉與豌豆一起食用非常美味，而鯨魚身上最有價值的部分——舌頭——也經常被拿來用鹽醃製。...

資料來源：Mark Kurlansky, *Cod*, Penguin Books

1 根據馬克·科蘭斯基 (Mark Kurlansky)，人們為什麼使用鹽？ [1]

Score

早期跨撒哈拉地區的金鹽貿易



... 貿易帶動了城市的興起。這些城市大多數都與跨撒哈拉地區的貿易緊密相關。它們一開始只是小型的貿易聚居地，但是隨著更多的商人頻繁來往，便逐漸發展成為皮革、木材、象牙、金屬工匠們的中心。市政府有了存在的必要性，也需要訓練有素的人員來負責記帳、維護法律與秩序，並確保公民的安全。隨後，這些城市的統治者們開始將他們的權力擴展至周圍農村更廣泛的地區。這些城市逐漸變成國家，又變成帝國。...

資料來源：Basil Davidson, *A History of West Africa to the Nineteenth Century*, Anchor Books (經改編)

2 根據這份文件，西非的金鹽貿易所產生的一個結果是什麼？ [1]

---



---

Score

### 文件 3

... 古代世界中，鹽的其中一個主要貿易中心是傳說中的廷巴克圖城。這座城市位於撒哈拉沙漠的南端，從食鹽貿易中獲利而蓬勃發展。...

食鹽貿易使這座城市繁榮發展；在非洲，鹽的價值與黃金和奴隸並列。商人們甘願冒險騎著駱駝穿越數百英里炙熱的沙漠，這其中的利潤一定非常豐厚。不過這座城市也沒有任意揮霍[浪費]財富。廷巴克圖的食鹽貿易支持了學校和圖書館的發展；商人們住在漂亮的房子裡；國王支付豐厚的薪水給法官、醫生和神職人員，這些都來自每頭駱駝所扛的三百磅鹽貨所得的利潤。...

資料來源：Robert Kraske, *Crystals of Life: The Story of Salt*, Doubleday & Company

3 根據羅伯特·克拉斯克 (Robert Kraske)，食鹽貿易產生的利潤對廷巴克圖城產生了哪**兩種**影響？ [2]

(1) \_\_\_\_\_

Score

(2) \_\_\_\_\_

Score

#### 文件 4

... 當葡萄牙人和西班牙人開始在他們控制的大西洋島嶼上建立製糖工業的時候[15 世紀 50 年代]，糖在西歐仍然被視為是一種奢侈品、藥物和調料。希臘、義大利、西班牙和北非的人們熟悉甘蔗作物，在一定程度上也瞭解糖本身是一種甜味劑。但是隨著地中海地區糖的產量減少[降低]，歐洲人對糖的認識和需求卻加強[增多]了。當歐洲人的需求增長時，製糖工業轉移至西太平洋島嶼。私人企業家受到鼓勵，在大西洋島嶼上設立甘蔗（和其他）種植園，使用非洲奴隸做勞力，目的是為葡萄牙和其他歐洲市場生產糖，因為他們為葡萄牙在非洲附近以及通向東方的貿易航線的延伸提供了保護。...

資料來源：Sidney W. Mintz, *Sweetness and Power: The Place of Sugar in Modern History*, Penguin Books (經改編)

4 根據西尼·敏茨 (Sidney Mintz)，西歐人使用糖的一種方式是什麼？ [1]

Score

文件 5a

... 糖類作物適合生長在全年熱量和水分充足的地區。因此，地中海地區不是糖類作物生長的理想地區。即使在地中海南部，氣候環境也是冬季涼爽而夏季乾燥。隨著 15 世紀歐洲海上革命的興起，歐洲人可以輕易地到達大西洋島嶼，其中一些島嶼的環境遠比地中海海適合種植糖類作物。...

資料來源：Philip D. Curtin, *The Rise and Fall of the Plantation Complex: Essays in Atlantic History*, Cambridge University Press

文件 5b



資料來源：Aronson and Budhos, *Sugar Changed the World*, Clarion Books (經改編)

5 根據菲力浦·柯丁 (Philip D. Curtin) 這段文章的摘錄和這幅地圖資料，糖的生產擴展至大西洋島嶼和美洲地區的一個原因是什麼？ [1]

Score

## 文件 6

... [葡萄牙人]於 16 世紀在巴西的東北部建立了製糖工業，這為該地區帶來繁榮，直到 18 世紀由法國人（海地）和英國人（牙買加）在加勒比海建立的製糖工業對其構成競爭。製糖工業包括甘蔗種植園和將甘蔗加工製成糖的工廠。葡萄牙人將受其控制的非洲南部地區（安哥拉和莫三比克）的奴隸帶到[巴西]的甘蔗種植園）做勞動。...

資料來源：Thayer Watkins, "The Economic History of Brazil," online at San José State University

6 根據塞耶·沃特金斯 (Thayer Watkins)，美洲建立製糖工業之後產生了哪**兩個**變化？ [2]

(1) \_\_\_\_\_

Score

(2) \_\_\_\_\_

Score



## 文件 7

... 棉花產業在英國早期的工業化中具有核心作用。棉花是一種織物纖維，相對適於機械化加工；它比羊毛、特別是亞麻更耐磨損。而且，棉花在歐洲是新的生產線，更適合創新。印度已經普遍地使用棉花，亞洲也已經存在棉布市場。然而，在英國，雖然纖維原料需要進口，但是它的新奇性促成了新機器的引入。因為傳統的亞麻生產衰落，所以棉花的興起間接導致了工人的失業。棉花產業缺少大量成熟的勞動力，這使許多傳統工人不得不[乾脆]直接改變他們的方式，而這個事實反倒限制了抗拒。同時，棉花這種產品很吸引人：對於越來越渴望藉由服裝來表達自我的人們來說，棉布可以染成鮮豔的顏色，而且容易清洗，這一點很吸引對個人衛生越來越重視[挑剔]的人們。對棉布的需求，帶動了大量生產棉布的新技術的產生。...

資料來源：Peter N. Stearns, *The Industrial Revolution in World History*, Westview Press

7a 根據彼得·仕坦 (Peter N. Stearns)，棉花貿易對英國所產生的一**個**影響是什麼？ [1]

---

---

Score

b 根據彼得·仕坦 (Peter N. Stearns)，英國對棉花有需求的一**個**原因是什麼？ [1]

---

---

Score

## 文件 8a

在英國工業革命之前，印度是紡織品的主要產地。

... 印度不僅擁有大量廉價的勞動力，而且積累了幾個世紀棉紡織品的專業技能。將成百上千萬短小而脆弱的棉纖維組合成耐用的棉線，這並不是一件簡單[普通]的事。在 1750 年以前，英國紡織工生產的棉線不夠強韌，不能用作縱向的布料經線，所以英國國內生產的布料通常是將亞麻或羊毛的經線與棉質緯紗混紡；只有技藝更高的印度紡織工才能生產出有夠強韌的成匹的純棉布料。因此，18 世紀實用紡織機問世以前，幾乎所有西方國家的棉布都是印度紡線。...

資料來源：William J. Bernstein, *A Splendid Exchange: How Trade Shaped the World*, Grove Press

8a 根據威廉·伯恩斯坦 (William J. Bernstein)，西方國家在 1750 年以前從印度進口棉布的一個原因是什麼？ [1]

Score

## 文件 8b

英國對於印度原棉的需求影響了英國紡織工業的發展，也影響了英國與印度之間的關係。


... 印度的棉布不可避免地成為具有爭議[爭論]的政治問題。英國剝削了印度的勞動果實，幾乎註定了這種作物將成為殖民征服[控制]的象徵，也是反抗的焦點。20 世紀初期，當這一天最終來臨時，一位身體虛弱、但心靈如獅子一般堅強的戰士，聖雄甘地 (Mahatma Gandhi)，高明[巧妙]地將國產棉布與自治事業相結合，使兩者難以區分。自由化身為所紡、所穿的棉布，反對國外暴政的抗議變得有形而[可見]。...

資料來源：Stephen Yafa, *Cotton: The Biography of a Revolutionary Fiber*, Penguin Books

8b 根據 史蒂芬·雅法 (Stephen Yafa)，英國的棉紡織工業對印度產生了什麼影響？ [1]

Score

文件 9



資料來源：Jack Abramowitz, *World History Study Lessons*, Follett Publishing Company (經改編)

9 根據這幅圖片，說明棉花進口對英國所造成的一個影響。 [1]

Score

## B 部分

### 論文題

答題說明：撰寫一篇條理分明的論文，包括引言、幾個段落、以及結論。在你的論文中，引述取自最少**四份**文件中的證據。引用相關事實、例證及細節來支持你的答案。包括其他的外部資料。

#### 歷史背景：

縱觀歷史，對於特定產品的需要和渴望對人、社會和地區造成了長期性的影響。這些產品包括**鹽**、**糖**和**棉花**。

**任務：**運用文件資料和你的世界歷史知識撰寫一篇論文，在這篇論文中

選擇歷史背景中所提到的**兩種**產品，並且對於**每種**產品

- 說明為什麼人們需要或渴望這種產品
- 論述這種產品對人、社會**和/或**地區有何影響

#### 指南：

**在你的論文中，請務必**

- 闡述任務的各個方面
- 綜合來自至少**四份**文件的資料
- 綜合相關的外部資料
- 引用相關事實、例證及細節來支持主題
- 須合乎邏輯、條理分明，包括一個不只是重複主題的引言和結論







REGENTS EXAM IN GLOBAL HISTORY AND GEOGRAPHY CHINESE EDITION

採用再生紙印製

REGENTS EXAM IN GLOBAL HISTORY AND GEOGRAPHY CHINESE EDITION