

世界歷史 和地理

僅限用於 2014 年 1 月 28 日 (星期二) 上午 9 時 15 分至下午 12 時 15 分

學生姓名 _____

學校名稱 _____

在本考試中，嚴禁持有或使用任何形式的通訊工具。如果你持有或使用了任何的通訊工具，無論多短暫，你的考試都將無效，並且不會得到任何分數。

請用工整字跡在以上直線上填寫你的姓名和學校名稱。一份分開的第 I 部分專用答題紙會發給你。請遵循監考老師的指示在答題紙上填寫學生資料。然後再填寫論文題本的每一抬頭。

本次考試共有三個部分。你必須回答每一部分的**所有**考題。請用黑筆或藍筆作答第 II 部分、第 III A 部分和第 III B 部分。

第 I 部分包括 50 道選擇題。根據指示將答案記錄在答題紙上。

第 II 部分包括一道以主題為主的論文題。請在論文本上寫下你對這個問題的答案，從第 1 頁開始。

第 III 部分基於幾份文件：

第 III A 部分包含這些文件。請務必在這部分的第一頁上填寫你的姓名和學校名稱。

每一文件後有一個或一個以上的問題要回答。在本考題本上，將各題的答案寫在各問題後面的直線上。

第 III B 部分包含一個基於這些文件的論文題。請在論文本上寫下你對這個問題的答案，從第 7 頁開始。

在本次考試結束後，你必須簽署印在答題紙最後的聲明，表明在考試之前你沒有非法得到本考試的試題或答案，並且在本考試中沒有給予過或接受過任何的幫助。你如果不簽署本聲明，你的答題紙將不會被接受。

未經指示請勿打開本考題本。

第 I 部分

請回答本部分的所有問題。

答題說明 (1-50)：對於每個陳述或問題，在分開的答題紙上寫下所提供的、最佳完成陳述或回答問題的詞或語句的編號。

- 1 「石油價格創歷史新高」
「部落爭奪自然資源的控制權」
「戰爭期間政府供應商品」

這些標題都涉及到什麼經濟概念

- (1) 生產過剩 (3) 企業家精神
(2) 相互依存 (4) 稀缺性

- 2 哪個國家位於半島上？

- (1) 巴西 (3) 沙烏地阿拉伯
(2) 菲律賓 (4) 奧地利

- 3 印度河、恒河以及雅魯藏布江對古印度很重要，因為他們是

- (1) 保護印度不受外來侵略的高山山脈
(2) 流經印度北部肥沃平原的主要河流
(3) 祭司向其祈雨的雅利安神
(4) 統一了哈拉巴和摩罕佐陀羅的統治王朝

- 4 希臘雅典城邦最重要的貢獻之一是什麼？

- (1) 直接民主制的發展
(2) 一神論信仰體系的傳播
(3) 促進所有人類的平等
(4) 使用象形文字，創造書寫系統

- 5 哪個信仰體系是漢唐宋朝時科舉考試的基礎？

- (1) 法家 (3) 佛教
(2) 道家 (4) 儒家

根據以下地圖和你的社會學知識來回答第 6 題。



資料來源：Guide to the Essentials, Prentice Hall (經改編)

- 6 9 世紀查理曼大帝 (Charlemagne) 帝國統治的領土包括今天的哪些國家

- (1) 波蘭和俄羅斯
(2) 西班牙和葡萄牙
(3) 法國和德國
(4) 愛爾蘭和英國

- 7 哪項關於回教黃金時代的陳述是事實而非觀點？
- (1) 回教醫學比中醫先進。
 - (2) 對於回教徒來說，詩歌和文學研究領域比數學更重要。
 - (3) 回教徒運用天文學知識來履行宗教義務。
 - (4) 回教哲學不像印度哲學大師那麼地依賴希臘哲學大師。
- 8 在基輔的早期東歐斯拉夫文明採行東正教、西里爾字母以及一些藝術和建築風格是因為
- (1) 與日本的戰爭
 - (2) 被蒙古侵略者征服
 - (3) 到訪西歐國家
 - (4) 與拜占庭帝國從事貿易往來
- 9 中國、韓國及日本的文化在某種程度上具有相似性是因為他們
- (1) 與俄羅斯帝國主義衝突
 - (2) 有相同的河流系統
 - (3) 有貿易往來
 - (4) 在蒙古統治之下統一
- 10 西歐的銀行在商業革命時期有重大發展是因為
- (1) 提供資本資源給商人去進行投資
 - (2) 允許農民融資建造新屋
 - (3) 使無產階級能夠挑戰資產階級
 - (4) 為退休工人提供養老金
- 11 黑死病在 14 世紀通常向哪個方向傳播？
- (1) 從歐洲傳到美洲
 - (2) 從非洲傳到東南亞
 - (3) 從亞洲傳到歐洲
 - (4) 從美洲傳到亞洲

- 12 宗教改革運動的成果之一是
- (1) 減少對教會權威的挑戰
 - (2) 西歐宗教團結式微
 - (3) 耶穌會解散
 - (4) 宗教法庭衰弱
- 13 蘇萊曼大帝 (Suleiman the Magnificent) 最出名的是哪一項成就？
- (1) 在耶路撒冷建造圓頂清真寺
 - (2) 把基督教傳播到巴爾幹半島
 - (3) 攻克俄羅斯的首都莫斯科
 - (4) 把奧圖曼帝國統一在一個高效的政府構架之下

根據下文和你的社會學知識來回答第 14 題。

... 20 世紀 30 年代，哈佛大學的莫利 (Sylvanus G. Morley)，可說是當時世上最知名的瑪雅文化專家，提出[主張]至今仍是最有名的理論：瑪雅的滅亡是因為他們超過其環境的承載能力。他們耗盡了他們的資源基礎，開始死於饑餓和乾渴，然後集體逃離了城市，使他們成為生態狂妄[過度自信]的危險過後所遺留下來的無聲的警告。...

— Charles C. Mann, 1491: *New Revelations of the Americas Before Columbus*

- 14 根據這段話，莫利在 20 世紀 30 年代試圖回答關於瑪雅人的一個重大問題是什麼？
- (1) 瑪雅人為什麼遺棄他們的城市？
 - (2) 瑪雅政府結構是什麼？
 - (3) 宗教信仰對瑪雅經濟產生了怎樣的影響？
 - (4) 哪個鄰近的城邦征服了瑪雅人？
-
- 15 哪項技術發展使歐洲航海家在大冒險時代 (Age of Exploration) 能夠確定自己的所在位置？
- (1) 三角帆
 - (2) 星盤
 - (3) 十字弓
 - (4) 輕帆船

- 16 遭遇時期 (The Encounter) 發生在歐洲航海家橫渡什麼的時候
- (1) 大西洋
 - (2) 撒哈拉沙漠
 - (3) 安地斯山脈
 - (4) 地中海
- 17 在西班牙美洲殖民地時期，西班牙人發展哪項制度來促進種植農業？
- (1) 以物易物
 - (2) 監護制
 - (3) 家庭工業制
 - (4) 行會制度
- 18 在俄羅斯因為彼得大帝 (Peter the Great) 採取的行動而發生了什麼？
- (1) 俄國實力被法國侵略削弱。
 - (2) 天主教被認定為國教。
 - (3) 杜馬改革，農奴得到解放。
 - (4) 俄國借鑒西方思想，擴張其領土。
- 19 哪個標題最好地完成了以下關於英國歷史的部分大綱？
- I. _____

 - A. 大憲章 (Magna Carta)
 - B. 光榮革命
 - C. 人權法案 (Bill of Rights)
- (1) 專制主義的興起
 - (2) 社會主義的開端
 - (3) 挑戰羅馬教皇的勢力
 - (4) 議會民主制的演變
- 20 啟蒙運動為什麼被認為是世界歷史的一個轉折點？
- (1) 運用工廠制度大量生產商品。
 - (2) 馬丁·路德 (Martin Luther) 脫離羅馬天主教會。
 - (3) 歐洲人改變對政府角色的看法。
 - (4) 發生哥倫布大交換。
- 21 羅伯斯比爾 (Robespierre) 和法國的路易十六 (Louis XVI) 的一個相似之處在於他們都
- (1) 在法國大革命期間被趕下臺
 - (2) 採納維也納會議的思想
 - (3) 實行宗教寬容政策
 - (4) 減少政府對經濟的控制
- 22 杜桑·盧維圖爾 (Toussaint L'Ouverture)、西蒙·玻利瓦爾 (Simón Bolívar) 及荷西·聖馬丁 (José de San Martín) 的一個相似之處在於他們都是
- (1) 重商主義政策支持者
 - (2) 獨立運動領袖
 - (3) 民選的領袖
 - (4) 工業勞動改革者
- 23 在工業革命時期，哪個地理特徵最有利於英國？
- (1) 沙漠氣候
 - (2) 天然港灣
 - (3) 多山地形
 - (4) 季風
- 24 19 世紀 40 年代愛爾蘭的大範圍饑荒直接導致
- (1) 公社的形成
 - (2) 授予獨立
 - (3) 人們移民海外
 - (4) 石化肥料的使用
- 25 歐洲國家在 19 世紀末葉投入帝國主義的一個主要原因是
- (1) 對未知的領域有更深入的了解
 - (2) 緩和與對手的緊張關係
 - (3) 開發疾病的治療
 - (4) 獲得其製成品的市場
- 26 日本的明治天皇 (Emperor Meiji) 和土耳其的凱末爾 (Kemal Atatürk) 的一個相似之處在於他們都
- (1) 鎮壓分離主義運動
 - (2) 致力於國家的現代化
 - (3) 征服東部鄰近地區
 - (4) 抗議經濟制裁

根據以下海報和你的社會學知識來回答第 27 題。



資料來源：Poster by E. Kealy in Susan R. Grayzel, *Women and the First World War*, Pearson Education

27 這張第一次世界大戰的海報是什麼的一個例子

- (1) 多樣性
- (2) 意見分歧
- (3) 包容性
- (4) 宣傳

28 《凡爾賽條約》(Treaty of Versailles) 所規定的條款給德國帶來怎樣的發展？

- (1) 蘇維埃政府的佔領
- (2) 政治上的不穩定
- (3) 海外擴張
- (4) 經濟繁榮

29 泛非主義最初的目標是

- (1) 要求民主改革
- (2) 鼓勵種族對立
- (3) 促進非洲統一
- (4) 把非洲劃分成不同國家

30 捷克斯洛伐克、匈牙利和南斯拉夫建立獨立的國家是因為

- (1) 普法戰爭
- (2) 柏林會議
- (3) 第一次世界大戰
- (4) 慕尼黑公約

31 印度民族主義運動最重要的一個目標是什麼？

- (1) 從英國的統治下獨立
- (2) 建立自由放任（不干預）經濟
- (3) 形成極權主義國家
- (4) 擴張領土

32 哪個地理因素在第二次世界大戰中最有助於蘇聯抵擋德國的攻擊？

- (1) 烏拉山脈阻擋了德國軍隊的推進。
- (2) 距離和天氣惡劣的冬季阻斷了德軍的補給線。
- (3) 廣泛的糧食產區確保蘇聯軍隊糧食供給充足。
- (4) 北冰洋沿岸的眾多港口為蘇聯的運輸船舶提供燃料補給。

33 下面哪個地理區域的石油輸出國組織 (OPEC) 成員國最多？

- (1) 南美洲
- (2) 撒哈拉沙漠以南的非洲
- (3) 東南亞
- (4) 中東

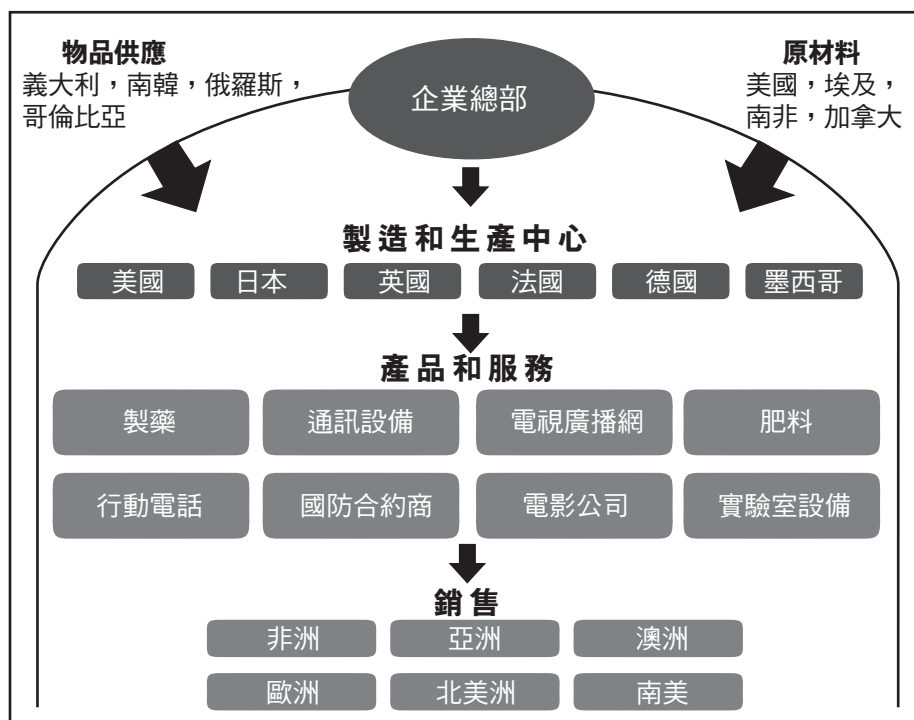
34 蘇聯戈巴契夫 (Mikhail Gorbachev) 和中國鄧小平的經濟政策都包括

- (1) 資本主義的要素
- (2) 抵制外國產品
- (3) 一胎化政策
- (4) 依靠農業自給自足

35 20 世紀 90 年代難民逃離盧旺達的主要原因是什麼？

- (1) 民族衝突
- (2) 薩赫爾地區的擴張
- (3) 地震造成的破壞
- (4) 冷戰的緊張局勢

根據下圖和你的社會學知識來回答第 36 題。



資料來源：Roger B. Beck et al., *World History: Patterns of Interaction*, McDougal Littell, 2005 (經改編)

36 哪個概念顯示在這個 2005 年的圖表中？

- (1) 經濟衰退
- (2) 城市化
- (3) 社會主義
- (4) 全球化

37 印度和巴基斯坦在克什米爾的衝突和巴勒斯坦和以色列在中東地區的衝突的一個相似之處是什麼？

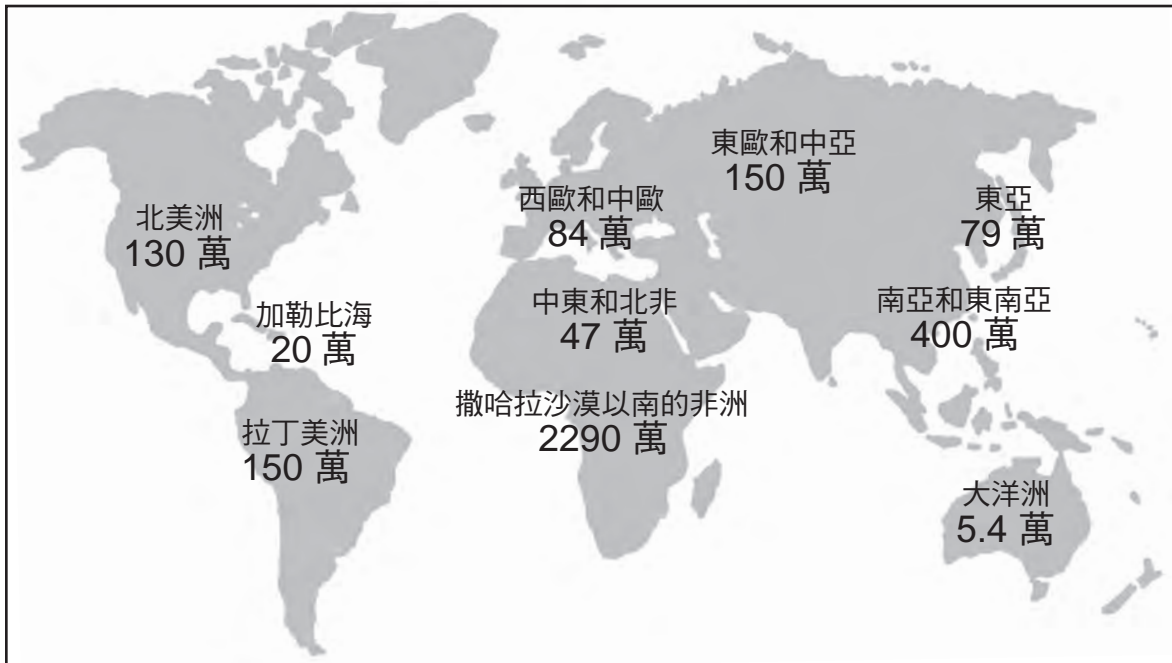
- (1) 這兩個衝突都涉及領土和宗教問題。
- (2) 是聯合國挑起這些地區的敵對行動。
- (3) 這兩個衝突都是由於蘇聯解體造成的。
- (4) 努力保持不結盟是造成這些地區局勢緊張的原因。

38 建立歐洲聯盟 (EU) 和北美自由貿易協定 (NAFTA) 的努力是為了

- (1) 透過區域組織來實現經濟利益
- (2) 透過軍事聯盟來實現世界和平
- (3) 透過經濟規劃來減少資源枯竭
- (4) 透過協調研究來解決環境問題

根據以下地圖和你的社會學知識來回答第 39 題。

截至 2010 年感染愛滋病毒和罹患愛滋病的成人和兒童估計人數



資料來源：UNAIDS: World AIDS Day Report 2011 (經改編)

39 地圖上的數據表明愛滋病病毒/愛滋病

- (1) 起源於南亞和東南亞
- (2) 在發展中社會中正在減少
- (3) 需要全球共同合作以解決這個問題
- (4) 一直侷限於溫帶氣候

40 自 1999 年以來，北大西洋公約組織 (NATO) 在處理世界事務中發揮的主要作用是什麼？

- (1) 進行戰爭罪審判
- (2) 保護西歐不受蘇聯的侵略
- (3) 降低成員國之間的關稅
- (4) 進行危機管理並執行和平任務

41 哪個當前全球問題是由發展原子武器所引起的？

- (1) 無限制的核武擴散威脅世界和平
- (2) 工業污染增加人類和動物的健康風險
- (3) 砍伐熱帶雨林，導致大氣中二氧化碳含量升高
- (4) 極地冰蓋融化，導致全球氣候模式的變化和物種棲息地的變化

42 與新石器革命最密切相關的是

- (1) 在工廠裡使用童工
- (2) 馴養植物和動物
- (3) 學會控制火
- (4) 發展鑄鐵技術

43 這些法律正確的時間順序是什麼？

- (1) 漢摩拉比法典 → 查士丁尼法典 → 拿破崙法典 → 十二銅表法
- (2) 查士丁尼法典 → 十二銅表法 → 拿破崙法典 → 漢摩拉比法典
- (3) 漢摩拉比法典 → 十二銅表法 → 查士丁尼法典 → 拿破崙法典
- (4) 十二銅表法 → 拿破崙法典 → 漢摩拉比法典 → 查士丁尼法典

44 文藝復興時期所發展的哪個哲學涉及重點偏離宗教題材，轉而走向更加世俗的主題？

- (1) 人本主義
- (2) 專制主義
- (3) 共產主義
- (4) 經院主義

根據以下陳述和你的社會學知識來回答第 45 題。

... 我對被人民敬畏和獲得愛戴的結論是，有術之君應行必然之道，而不隨適然之善；如前所述，他應該努力去避免仇恨。

45 上面這一段話取自誰的著作

- (1) 約翰·洛克 (John Locke)
- (2) 尼可羅·馬基維利 (Niccolò Machiavelli)
- (3) 亞當·斯密 (Adam Smith)
- (4) 依納爵·羅耀拉 (Ignatius Loyola)

46 阿克巴大帝 (Akbar the Great) 和伊麗莎白一世 (Elizabeth I) 的統治的一個相似之處是，兩位領導人都實行政策鼓勵

- (1) 義務教育
- (2) 裁軍
- (3) 參與選舉
- (4) 宗教寬容

47 傳統的印度種姓制度和法國革命前的莊園制度的一個很相似之處在於

- (1) 論功授職
- (2) 社會流動性非常有限
- (3) 教育決定地位
- (4) 對人們的日常生活影響不大

- 48 • 鴉片戰爭 (1839–1842 年)
- 太平天國起義 (1850–1864 年)
- 義和團起義 (1898–1901 年)

與這一連串事件最密切相關的是

- (1) 共產主義傳播到中國和朝鮮
- (2) 對西方在中國的影響力日益增加的擔憂
- (3) 越南與中國結盟
- (4) 中國不斷擴大的公民權利和政治權利

49 烏克蘭的強迫饑荒 (1932–1933 年) 是什麼的直接後果

- (1) 沙皇尼古拉 (Czar Nicholas) 加入第一次世界大戰
- (2) 列寧 (Vladimir Lenin) 的新經濟政策
- (3) 史達林 (Joseph Stalin) 的集體化
- (4) 赫魯雪夫 (Nikita Khrushchev) 下臺

50 「悲傷之河再度氾濫成災」

「黃河泛濫導致數千人失蹤」

「據報導，1931 年的洪水使得近 1 千萬人無家可歸」

這些報紙的頭條新聞描述地理對哪個國家的人民的影響

- (1) 中國
- (2) 日本
- (3) 印度
- (4) 越南

論文題的答案應填寫在分開的論文本上。

在回答第 II 部分的問題時，請注意以下一般性定義：

- (a) **描述**指「用文字闡述或陳述」
- (b) **論述**指「透過事實、推理和論證來對某件事發表意見；加以詳述」

第 II 部分

主題論文題

答題說明：撰寫一篇條理分明的論文，包括引言、解決以下任務的幾個段落、以及結論。

主題：人權—正義

在歷史的不同時期，人們用各種方式捍衛人權。他們的努力取得了不同程度的成功。

任務：

- 選擇**兩個**人物，並且對於**每個人**
- 描述導致他們捍衛人權的歷史背景
 - 描述此人物捍衛人權的一種方式
 - 論述此人物的努力所取得的成功程度

你可以使用在學習世界歷史和地理時所學到的任何人。你不妨考慮的一些建議包括拉斯卡薩斯 (Bartolomé de las Casas)、約翰·洛克 (John Locke)、沃斯通克拉夫特 (Mary Wollstonecraft)、伊達爾戈神父 (Father Miguel Hidalgo)、薩帕塔 (Emiliano Zapata)、甘地 (Mohandas Gandhi)、羅慕洛總主教 (Father Oscar Romero)、瓦文薩 (Lech Walesa)、曼德拉 (Nelson Mandela)、翁山蘇姬 (Aung San Suu Kyi) 和達賴喇嘛 (Dalai Lama)。

你不必侷限於以上建議。

不要在你的回答中使用美國的人物。

指南：

在你的論文中，請務必

- 闡述任務的各個方面
- 引用相關事實、例證及細節來支持主題
- 須合乎邏輯、條理分明，包括一個不只是重複主題的引言和結論

本頁刻意留白。

翻到下頁 

第 III 部分

基於文件題

本問題是基於隨附的文件。該問題的設計是為了測驗你運用歷史文件的能力。其中一些文件是為這個問題編輯的。當你分析文件時，請參考每份文件的來源及文件中所論述的任何觀點。請記住，文件中使用的語言可能反映出撰寫當時的歷史背景。

歷史背景：

縱觀歷史，人們總是改變環境以滿足自身的需要。這些改變對人們、社會和地區產生了正負兩面的作用。例如，**古埃及發展灌溉**、**阿茲特克人建造水中田畦**、以及**大不列顛（英國）在工業革命時期開採煤炭**。

任務：運用文件資料和你的世界歷史知識，回答 A 部分每一份文件後面的問題。你對這些問題的回答將有助於撰寫 B 部分的論文，在這篇論文中，你將被要求

選擇在歷史背景中提到的人們對環境做出的**兩個**改變，並且對於**每個**改變

- 說明為什麼他們的環境需要這種改變
- 論述這種改變對人們、社會和/或地區產生了怎樣的影響

在回答問題時，請注意以下一般性定義：

- (a) **說明**指「使其平實易懂；提供原因或理由；顯示邏輯發展或關係」
- (b) **論述**指「透過事實、推理和論證來對某件事發表意見；加以詳述」

A 部分 簡答題

答題說明：分析以下文件，在所提供的空白處上回答每份文件後的簡答題。

文件 1

為控制水流所做出的努力在美索不達米亞和埃及獲得了首次成功，那裡依然保存著史前灌溉工程的遺址。在古埃及，從天蠟時期開始，建設運河便成為法老和其臣子的一項主要工作。省長的首要任務之一就是挖掘和修復運河，這些運河可以在尼羅河徑流量高時引洪淤積大片土地。一個堤防系統用許多小盆地將土地縱橫交錯地排列成棋盤的形狀。人們早已意識到尼羅河徑流量變化所帶來的問題。當徑流量非常高的時候，堤防會被沖走，村莊被洪水淹沒，導致數以千計的人溺斃。而在徑流量低時，土地吸收不到任何水分，作物無法生長。很多地方地勢太高，無法透過運河輸送水源，人們就用槓桿或是汲水吊桿從運河或是直接從尼羅河中抽取河水。這些裝置是在槓桿較長的一端用繩索懸掛一個水桶，利用槓桿較短一端的起重作用來運作。埃及的運河建設幾個世紀以來一直持續著。...

資料來源：Larry W. Mays, "Irrigation Systems, Ancient," *Water Encyclopedia* online (經改編)

1 根據這份文件，說明由於尼羅河徑流量變化不定而使古埃及人面臨的**兩個**問題。 [2]

(1) _____

Score

(2) _____

Score

文件 2a



這座古廟上的雕帶，或者說是建築裝飾，描繪埃及人使用汲水吊桿，即一種能將尼羅河水輸送到田裡的裝置。

資料來源：James Barter, *The Nile*, Lucent Books

文件 2b

亞歷山大大帝 (Alexander the Great) 過世之後，連續三代由名叫托勒密的法老統治埃及。這段時期的埃及文化主要是希臘文化。

... 在托勒密時代，希臘神廟的記錄將每個地區當成一個經濟單元，並且提到灌溉這個地區的運河的名稱，位於河岸上直接由河水灌溉的耕作區，以及位於該地區邊界可恢復成耕地的土地。河床灌溉系統可以耕種冬播作物；然而在夏天，唯一可以耕作的土地就是遠離洪澇的高地了。因此，當埃及人發明諸如汲水吊桿等提水工具時，他們就能夠每年耕種兩種作物，這被認為是灌溉領域的一項偉大進步。汲水吊桿發明於阿瑪爾納時代，這是一種需要兩到四人一齊操作的簡單工具。汲水吊桿由末端懸掛一個重物長懸桿和繫在另一端的水桶組成。它可以在 12 小時內提起約 100 立方公尺 (100,000 升) 的水，足以灌溉三分之一多英畝的土地。...

資料來源：Agriculture – Part I, Ancient Egypt History, EgyptHistory.com

2 根據這些文件，發明汲水吊桿對埃及產生的一**個**影響是什麼？ [1]

Score

文件 3

... 古埃及的水利法主要是為了確保沿河耕種的每個農民都能在洪澇期間公平地獲取水源，並且任何農民都不能被剝奪獲得其應得的灌溉用水的權利。例如，如果一個農民在距河數英里遠的地方耕作，那些擁有靠近河流的土地的農民必須允許這名農民從流經他們土地的運河中取水。

水利法也禁止那些沒有出力用水灌裝運河的農民從運河中取水。農民有權從運河中提取多少水，視他們為灌裝運河所花的時間而定。例如，如果有 10 個農民勞動了 10 小時用水灌裝灌溉運河，假如他們其中有人拿取超過一小時價值的水，就將會被處死。...

資料來源：James Barter, *The Nile*, Lucent Books

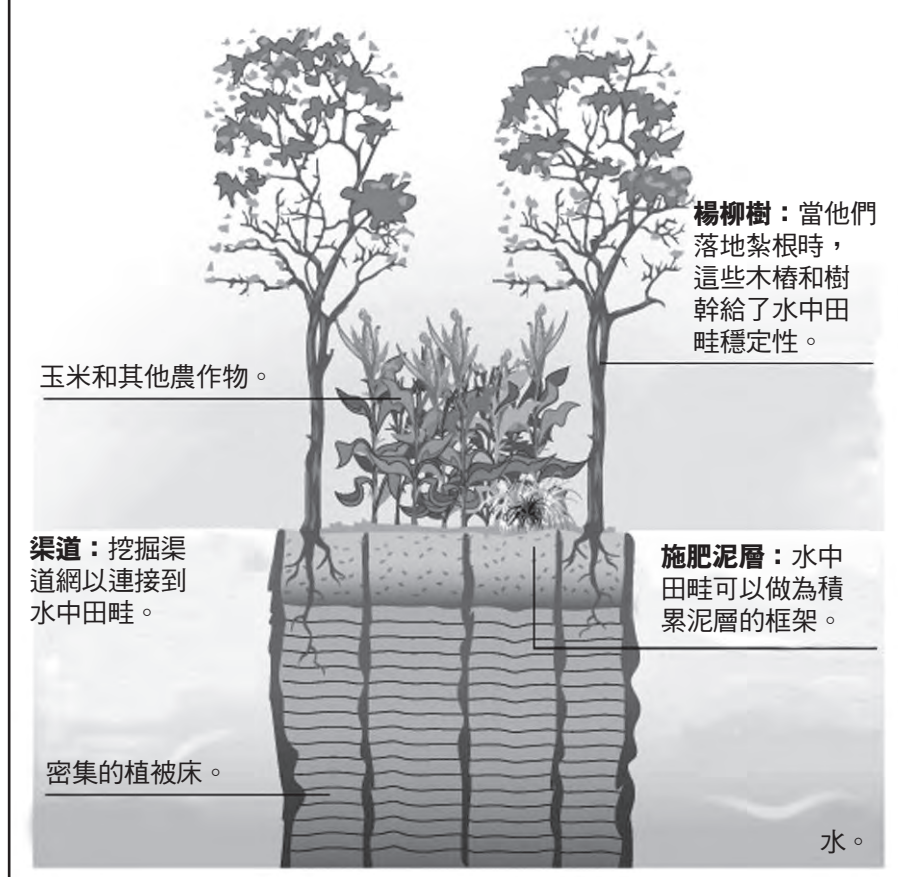
3 根據詹姆斯·巴特 (James Barter) 所說，政府採用哪種方法確保農民能公平地獲取水源？ [1]

Score

阿茲特克人的耕作方法

水中田畦

這些真實的浮動花園使人們可以在湖的淺水部分開闢種植區域。



資料來源：www.icarito.cl (經改編)

4 根據這張圖所提供的資料，阿茲特克人為什麼建造水中田畦？ [1]

Score

文件 5

... 水中田畦為這座島嶼增加了生活與農業空間。當水中田畦穩固之後，人們可以在上面搭建房子。這些小塊土地被用來種植從玉米到豆子，再到番茄和花卉等各種各樣的作物。墨西哥 [阿茲特克] 在特諾奇提特蘭各地建滿了水中田畦，就像他們南方淡水湖中的鄰居一樣。然而，他們也時常面臨洪水的危險，這會使整個水中田畦浸在鹽水之中，並且毀壞土地和農作物。流入特斯科科湖的河水中含有礦物質，經過累積，湖水變成了含鹽 [淡水和鹽水的混合]。這個問題在 15 世紀中葉得到了解決；人們修建了一道堤防，將特諾奇提特蘭所在的湖的西部分隔出來，以保護該城免受鹽水和一些洪水的影響。...

資料來源：Frances F. Berdan, *The Aztecs*, Chelsea House Publishers

5a 根據法蘭西斯·伯爾但 (Frances F. Berdan) 所說，水中田畦使阿茲特克人受益的一**種**方式是什麼？ [1]

Score

b 根據法蘭西斯·伯爾但 (Frances F. Berdan) 所說，水中田畦上的農民所面臨的一**個**問題是什麼？ [1]

Score

文件 6

... 這座人口在 16 世紀初可能一度達到 20 萬到 30 萬之多的首都，是城市規劃發展的絕佳例證。藉由將修建延伸到湖中，阿茲特克人得以鞏固並擴大原本的兩座島嶼，而後來這些島嶼也通過三條大型堤道與大陸連在一起。而淡水也經由溝渠從大陸輸送到了這座城市中。...

資料來源：Jeremy A. Sabloff, *The Cities of Ancient Mexico: Reconstructing a Lost World*, Thames and Hudson

- 6 根據傑若米·塞布洛夫 (Jeremy A. Sabloff) 所說，延伸到湖中的修建使阿茲特克帝國和其首都特諾茲提蘭受益的一**種**方式是什麼？ [1]

Score

文件 7a

... 木材短缺非常嚴重。木材是做飯的主要燃料。它是造船的必要材料，同時冶煉 [加工] 鐵礦石也需要木炭。人們急需一種新能源。這是由煤炭供應的。

在任何海運和航運可以到達的地方，煤炭已經取代木材成為做飯和取暖的燃料。雖然英國鐵礦石資源豐富，但鐵還是要從國外進口。由於近地球表層的煤層已被開發殆盡，而深層的煤層則需要用幫浦抽取[礦井中的積水]，煤炭的開採越來越難。...

資料來源：Diana Knox, *The Industrial Revolution*, Greenhaven Press

7a 根據戴安娜·諾克斯 (Diana Knox) 所說，為什麼需要煤炭？ [1]

Score

文件 7b

... 人們一開始從露天礦中挖煤，但是逐漸地，礦井就挖得越來越深。將豎井向下沉，然後挖掘出可橫向連通進入煤層的地道[地下室]。當豎井下沉到更深處時，裡面就溢滿了積水。一些礦工不得不整天把腿泡在水裡工作。直到蒸汽幫浦於 18 世紀初被引進，才能將礦井裡的水排出去。...

資料來源：Andrew Langley, *The Industrial Revolution*, Viking

7b 根據安德魯·蘭利 (Andrew Langley) 所說，人們改良環境以獲得煤炭的一種方法是什麼？ [1]

Score

文件 8

在使用煤炭之前，水是大不列顛（英國）工廠和機器的主要動力來源。能為這些工廠提供燃料的水資源很有限。因此當時工業無法發展壯大，並且工廠位置也都很偏遠。

... 隨著向煤炭的轉變，這個模式被逆轉，反映出動力來源的差異。煤炭引生 [產生] 出更多更大型的機械化工廠，因為從地下獲取的動力來源比水車所供應的動力要大得多。而且，由於其能量已經過了數百萬年的凝聚濃縮，煤炭使工廠和勞動力集中在城市地區，而不是分散在鄉村各處。簡言之，煤炭為英國的工業化提供了所謂革命性的動力。...

資料來源：Barbara Freese, *Coal: A Human History*, Perseus Publishing

- 8 根據芭芭拉·弗里斯 (Barbara Freese) 所說，從水力到使用煤炭作為主要動力來源的轉變給大不列顛 (英國) 帶來的一個影響是什麼？ [1]

Score

文件 9

1817 年 12 月 18 日在大不列顛（英國）杜倫發生的雷恩頓礦災

一場爆炸奪去了 27 條人命，其中有 11 名成年男性和 16 名男孩。爆炸發生在所有人降井[進入煤礦]之前。如果發生得再晚的話，爆炸時礦井中就會有 160 名成年男性和男孩。最初報告的死亡總數是 26 人，並且其中主要是男孩。爆炸發生在凌晨 3 點，那時煤礦工[負責在煤層中挖煤的礦工]還未下到礦井中，因此有大約 160 人逃過了一劫。人們施盡全力去營救礦井中的礦工和兩名因吸入不淨空氣窒息而死的工人。圍觀者和工作人員在營救中非常賣力，差一點和遇難者遭遇相同的命運。事故發生的礦井一直被認為不太可能發生爆炸的危險，正因為這所謂的安全，礦井從沒有讓礦工在採礦時使用安全燈，礦工一直是藉著蠟燭光在工作的。

資料來源：The Coalmining History Resource Centre online, UK

9 根據這份文件，雷恩頓煤礦的工人所面臨的**兩個**危險是什麼？ [2]

(1) _____

Score

(2) _____

Score

B 部分

論文題

答題說明：撰寫一篇條理分明的論文，包括引言、幾個段落、以及結論。在你的論文中，引述取自最少**四份**文件中的證據。引用相關事實、例證及細節來支持你的答案。包括其他的外部資料。

歷史背景：

縱觀歷史，人們總是改變環境以滿足自身的需要。這些改變對人們、社會和地區產生了正負兩面的作用。例如，**古埃及發展灌溉**、**阿茲特克人建造水中田畦**、以及**大不列顛（英國）在工業革命時期開採煤炭**。

任務：運用文件資料和你的世界歷史知識撰寫一篇論文，在這篇論文中

選擇在歷史背景中提到的人們對環境做出的**兩個**改變，並且對於**每個**改變

- 說明為什麼他們的環境需要這種改變
- 論述這種改變對人們、社會和/或地區產生了怎麼樣的影響

指南：

在你的論文中，請務必

- 闡述任務的各個方面
- 綜合來自至少**四份**文件的資料
- 綜合相關的外部資料
- 引用相關事實、例證及細節來支持主題
- 須合乎邏輯、條理分明，包括一個不只是重複主題的引言和結論

REGENTS EXAM IN GLOBAL HISTORY AND GEOGRAPHY CHINESE EDITION

採用再生紙印製

REGENTS EXAM IN GLOBAL HISTORY AND GEOGRAPHY CHINESE EDITION