

世界歷史 和地理

僅限用於 2016 年 1 月 26 日 (星期二) 上午 9 時 15 分至下午 12 時 15 分

學生姓名 _____

學校名稱 _____

在本考試中，嚴禁持有或使用任何形式的通訊工具。如果你持有或使用了任何的通訊工具，無論多短暫，你的考試都將無效，並且不會得到任何分數。

請用工整字跡在以上直線上填寫你的姓名和學校名稱。一份分開的第 I 部分專用答題紙會發給你。請遵循監考老師的指示在答題紙上填寫學生資料。然後再填寫論文題本的每一抬頭。

本次考試共有三個部分。你必須回答每一部分的**所有**考題。請用黑筆或藍筆作答第 II 部分、第 III A 部分和第 III B 部分。

第 I 部分包括 50 道選擇題。根據指示將答案記錄在答題紙上。

第 II 部分包括一道以主題為主的論文題。請在論文本上寫下你對這個問題的答案，從第 1 頁開始。

第 III 部分基於幾份文件：

第 III A 部分包含這些文件。請務必在這部分的第一頁上填寫你的姓名和學校名稱。

每一文件後有一個或一個以上的問題要回答。在本考題本上，將各題的答案寫在各問題後面的直線上。

第 III B 部分包含一個基於這些文件的論文題。請在論文本上寫下你對這個問題的答案，從第 7 頁開始。

在本次考試結束後，你必須簽署印在答題紙最後的聲明，表明在考試之前你沒有非法得到本考試的試題或答案，並且在本考試中沒有給予過或接受過任何的幫助。你如果不簽署本聲明，你的答題紙將不會被接受。

未經指示請勿打開本考題本。

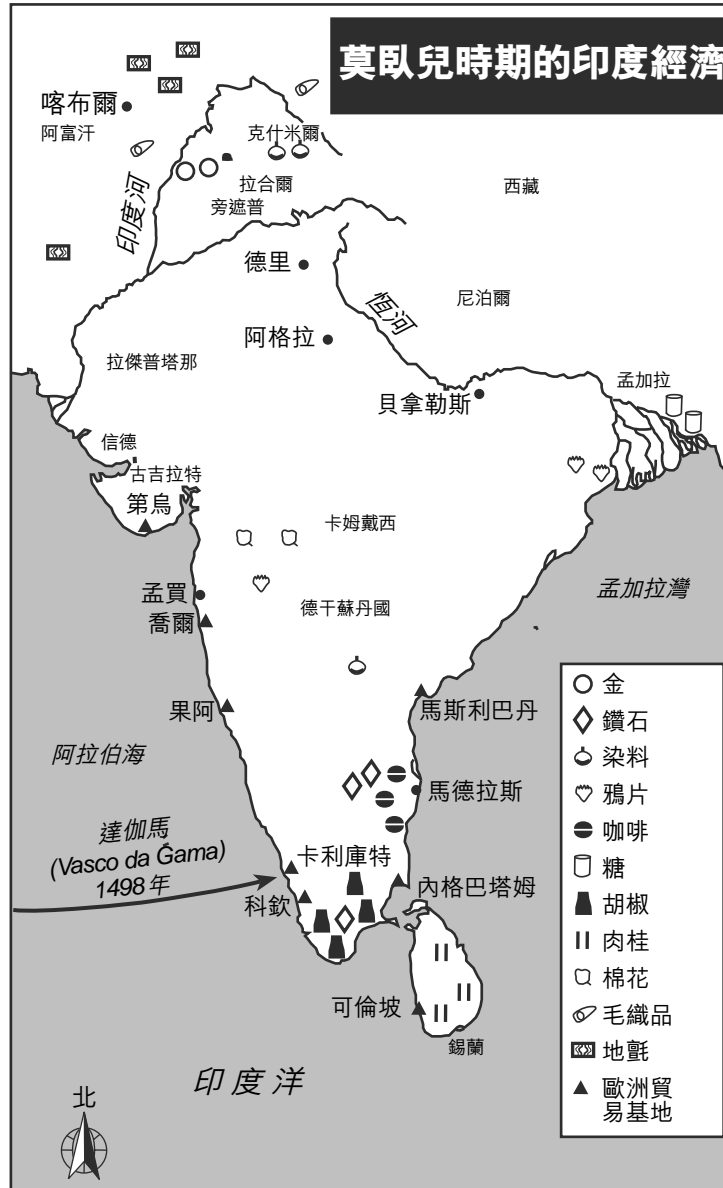
第 I 部分

請回答本部分的所有問題。

答題說明 (1–50)：對於每個陳述或問題，在分開的答題紙上寫下所提供的、最佳完成陳述或回答問題的詞或語句的編號。

- 1 哪種社會學家的研究著重在稀缺性、資源以及利潤動機？
 - (1) 考古學家
 - (2) 歷史學家
 - (3) 經濟學家
 - (4) 社會學家
- 2 地理學家試圖理解和詮釋模式和過程的主要方法是
 - (1) 檢討政治理論
 - (2) 證實口述歷史
 - (3) 研究供需模型
 - (4) 分析不同規模的空間數據
- 3 在沒有單一政黨獲得大多數席位的多黨議會制度下，選舉結果通常會導致
 - (1) 計劃經濟
 - (2) 宗教衝突
 - (3) 聯合政府
 - (4) 分離主義運動
- 4 哪個因素對新石器時代建造半永久性定居地的影響最大？
 - (1) 生產多餘的糧食
 - (2) 石窟壁畫
 - (3) 利用火的能力
 - (4) 引進漁網
- 5 哪種地理特徵對羅馬人統一帝國幫助最大？
 - (1) 阿爾卑斯山
 - (2) 臺伯河
 - (3) 地中海
 - (4) 東非大裂谷
- 6 儒家、佛教和印度教誕生在哪個地區？
 - (1) 非洲
 - (2) 亞洲
 - (3) 歐洲
 - (4) 南美洲
- 7 哪個地區是早期中國和日本之間的文化橋樑？
 - (1) 波斯
 - (2) 俄羅斯
 - (3) 印度
 - (4) 高麗 (韓國)
- 8 非洲回教宗教領袖的作用是
 - (1) 傳播四聖諦 (Four Noble Truths)
 - (2) 強調祖先崇拜的重要性
 - (3) 提倡種姓制度
 - (4) 介紹可蘭經 (Koran) 的教義
- 9 阿巴思王朝和倭馬亞帝國與什麼最密切相關
 - (1) 導致西羅馬帝國滅亡
 - (2) 創造回教的黃金時期
 - (3) 控制麻六甲海峽的貿易
 - (4) 發明羅盤和火藥
- 10 歐洲莊園制度與以下什麼最密切相關
 - (1) 提倡社會流動性
 - (2) 復興並保護學習
 - (3) 為社會的精神需要服務
 - (4) 維持經濟自給自足

根據以下地圖和你的社會學知識來回答第 11 題和第 12 題。



資料來源: World History: Patterns of Interaction: In-Depth Resources, McDougal Littell, 1999 (經改編)

- 11 根據這幅地圖，歐洲人在哪個地區的貿易基地最多？
- (1) 恆河沿岸 (2) 印度河沿岸 (3) 阿拉伯海沿岸 (4) 孟加拉灣地區
- 12 這幅地圖中的資訊最能用來支持關於莫臥兒時期印度經濟的哪個結論？
- (1) 克什米爾地區主要出產肉桂和辣椒。
 (2) 大多數紡織品都產自德干蘇丹國北部。
 (3) 鑽石和黃金開採自孟加拉地區。
 (4) 許多熱帶產品都來自德里附近。

根據以下的漫畫和你的社會學知識來回答第 13 題。

威滕伯格教堂



資料來源: Paula J. Becker (經改編)

13 哪個時期的開始是這幅漫畫中顯示的行動的結果？

- (1) 義大利文藝復興
- (2) 新教革命
- (3) 科學革命
- (4) 光榮革命

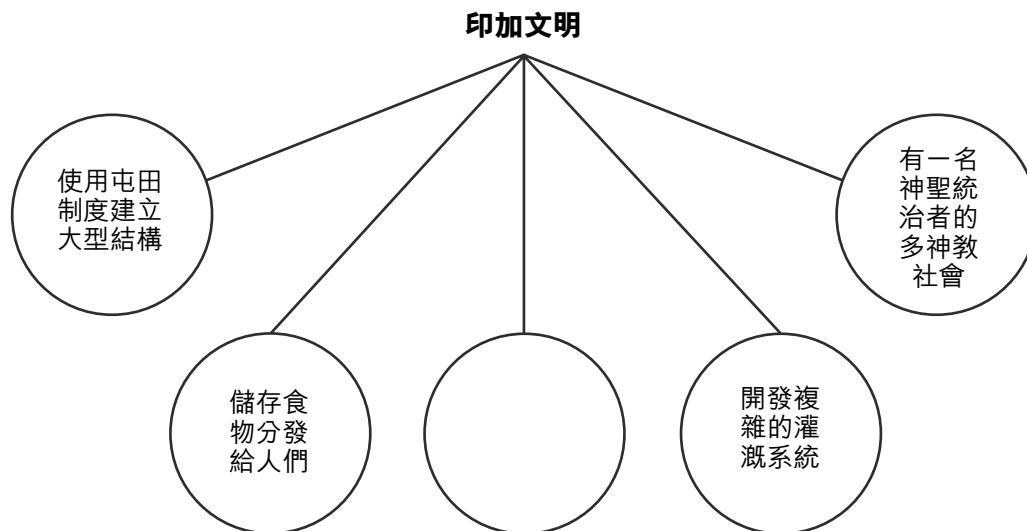
14 迦納和馬利王國變得繁榮而強大的原因是

- (1) 他們參與黃金和鹽的貿易
- (2) 埃及人為他們提供軍事保護
- (3) 他們依靠法家強化社會控制
- (4) 向基督徒傳教士徵收稅賦

15 中國人相信中國是中央之國，這是什麼的例子

- (1) 治外法權
- (2) 種族中心主義
- (3) 孝道
- (4) 天意

根據以下架構圖和你的社會學知識來回答第 16 題。



16 哪一句話最好地完成了這幅架構圖？

- (1) 修建成千上萬英里的道路
- (2) 維持大規模的海軍艦隊
- (3) 建立收藏數百本書的國家圖書館
- (4) 依靠駱駝商隊

- 17 • 有些中亞游牧民族依靠促進絲綢之路沿線的貿易為生。
- 當氣候變化影響他們的食物供給時，中亞游牧民族就會入侵村莊和城市。
 - 有些中亞游牧民族採行回教，而有些則信奉回教文化。

根據這些陳述，哪個關於中亞游牧民族的概括性結論能得到最好的支持？

- (1) 他們對定居社會構成的挑戰極小。
- (2) 他們與定居的鄰居結盟對抗共同的敵人。
- (3) 他們與定居社會有互動。
- (4) 他們對定居鄰居的文化貢獻極少。

- 18 奧圖曼土耳其人認為君士坦丁堡具有重要的策略意義，因為它

- (1) 是先知穆罕默德 (Muhammad) 的誕生地
- (2) 能讓他們控制梵蒂岡
- (3) 是歐亞之間的交會點
- (4) 能讓他們進入波斯灣

- 19 中國永樂皇帝 (Emperor Yongle) 授權鄭和 (Zheng He) 進行的遠航與西班牙費迪南國王 (King Ferdinand) 和西班牙伊莎貝拉女王 (Queen Isabella) 資助的探險的一個相似之處是這些遠航和探險都導致

- (1) 投入更多努力維持現狀
- (2) 貿易和文化的傳播
- (3) 殖民帝國的建立
- (4) 敵對勢力之間的海戰

- 20 哪個國家位於拉丁美洲地區？
- (1) 葡萄牙
 - (2) 索馬利亞
 - (3) 越南
 - (4) 阿根廷
- 21 哪種情形是西班牙進行美洲殖民計劃時的意外後果？
- (1) 建立貿易順差
 - (2) 引入監護制
 - (3) 傳播傳染病
 - (4) 利用新領土的資源
- 22 蘇萊曼大帝 (Suleiman the Magnificent) 和路易十四 (Louis XIV) 的一個相似之處是他們都
- (1) 進行政治中央集權
 - (2) 引入新的國教
 - (3) 加強貴族的威權
 - (4) 解除農民的封建義務
- 23 在 16 和 17 世紀，以日心說為辯論中心的兩派是
- (1) 資本主義和共產主義
 - (2) 科學和宗教
 - (3) 殖民主義和民族主義
 - (4) 孤立主義和全球主義
- 24 啓蒙運動的理念對法國大革命有什麼影響？
- (1) 促進迷信和無知。
 - (2) 贊美重商主義原則。
 - (3) 挑戰君權神授論。
 - (4) 出於復仇的目的懲罰犯罪行為。
- 25 拉丁美洲的地理對新的獨立國家有什麼影響？
- (1) 限制克里奧爾人的軍事力量
 - (2) 強迫教堂保證土地改革
 - (3) 使政治統一面臨困難
 - (4) 使依賴西班牙成為必要

- 26 哪項陳述最能描述拿破崙命沒能瞭解俄國地理的後果？
- (1) 波羅的海的洶湧波濤摧毀了他的艦隊。
 - (2) 嚴酷的寒冬切斷了他的軍隊補給。
 - (3) 他的軍隊無法翻越高聳的烏拉爾山脈。
 - (4) 長期的高溫缺水擊潰了他的部隊。

根據以下的摘錄和你的社會學知識來回答第 27 題。

... 除去用餐時間以外，正常的工作時間很少不超過 10 小時；有時候是 11 小時，但更常見的是 12 小時；而且在很多時後，工作持續 15、16 甚至 18 小時不間斷。

在幾乎所有情況下，兒童工作的時間都和成人一樣長；有些時候工作 16 甚至 18 小時得不到任何休息。...

— *The Physical and Moral Condition of the Children and Young Persons Employed in Mines and Manufactures*, 1843

- 27 這類證據被用作什麼的論據
- (1) 調整自由放任（不干預）實踐
 - (2) 反對共產主義的蔓延
 - (3) 限制投票權
 - (4) 改革土地所有制

根據下文和你的社會學識來回答第 28 題。

... 資產階級，由於一切生產工具的迅速改進，由於交通的極其便利，把所有民族，甚至是最野蠻的民族都捲入文明中來了。它的商品價格低廉，是它用來摧毀中國的一切壁壘並強迫野蠻人最頑強[固執]的仇外心理投降[屈服]的重炮。它迫使所有民族——如果它們不想滅亡的話——採行資產階級的生產方式；它迫使其他民族在自己那裡推行所謂的文明，即變成資產者。一句話，它按照自己的面貌創造出一個世界。...

— Karl Marx and Friedrich Engels

28 哪項陳述支持這段話所表達的觀點？

- (1) 資產階級需要運用武力以打開市場。
- (2) 資產階級比起野蠻民族更加落後。
- (3) 外國人和資產階級必須共同合作以結束文化的滅絕。
- (4) 低廉的價格和產業的改進是資產階級推行自身價值觀的工具。

- 29 • 1791年—《女性與女公民權利宣言》（法國）
• 1829年—《禁止用人殉葬》（印度）
• 1857年, 1882年—《已婚婦女財產法案》（英國）

這些與女性相關的國際發展反映出觀念上的哪種變化？

- (1) 女性政治權力減少
- (2) 女性經濟地位下降
- (3) 對女性待遇的關切增加
- (4) 全球對女性的剝削增加

30 海地革命和印度士兵叛變 (Sepoy Rebellion) 是對什麼的回應

- (1) 歐洲的殖民政策
- (2) 本土的敵對種族
- (3) 城市化發展
- (4) 宗教分歧

根據以下告示和你的社會學知識來回答第 31 題。

注意！

有意進行大西洋航行的旅客請注意，德國及其盟友與英國及其盟友處於戰爭狀態；交戰區包括不列顛群島的鄰近水域：即，根據德意志帝國政府的正式通知，所有懸掛英國國旗或其任何盟友旗幟的船隻在這些水域都可能遭到摧毀，搭乘英國或其盟國船隻駛入交戰區的旅客自行承擔風險。

德意志帝國大使館
華盛頓特區，1915 年 4 月 22 日。

資料來源：New York Times, May 1, 1915 (經改編)

31 第一次世界大戰中的哪項技術創新與這個德國通告最密切相關？

- (1) 坦克車
- (2) 飛機
- (3) 潛水艇
- (4) 機關槍

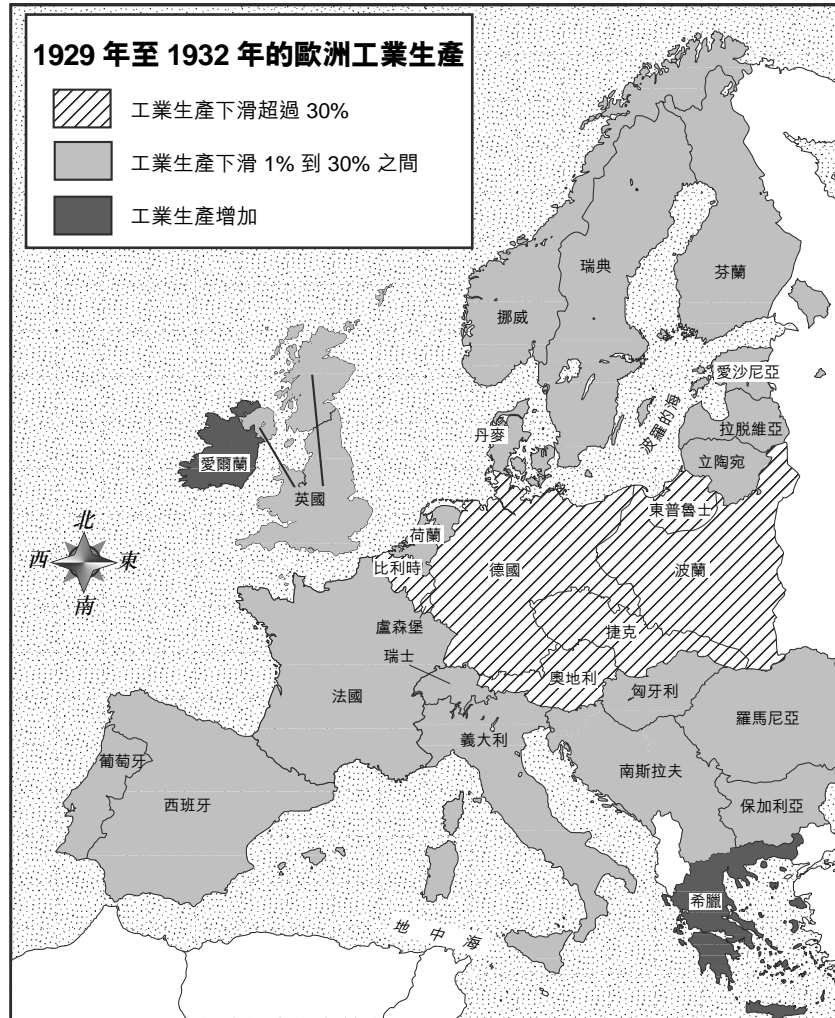
32 猶太復國主義的主要目標是什麼？

- (1) 在中國成立代表政府
- (2) 在巴勒斯坦地區建立猶太國
- (3) 改善發展中國家的生活水準
- (4) 建立國際維和組織以解決全球衝突

33 在蘇聯國內發生的以下事件中，哪一件是其他三件的原因？

- (1) 烏克蘭大饑荒
- (2) 實施五年計劃
- (3) 建立集體農場
- (4) 發展重工業

根據以下地圖和你的社會學知識來回答第 34 題。



資料來源：World History on File, Facts on File (經改編)

34 根據以下地圖，1929 年到 1932 年間，哪個地區的工業生產下滑最嚴重？

- | | |
|--------|---------|
| (1) 西歐 | (3) 中歐 |
| (2) 北歐 | (4) 東南歐 |

35 極端民族主義，個人為了國家的利益而存在，對領袖絕對忠誠，是什麼的標志性特徵

- | | |
|-----------|----------|
| (1) 法西斯主義 | (3) 民主 |
| (2) 自由主義 | (4) 神權政治 |

36 蘇聯對成立北大西洋公約組織 (NATO) 的回應是建立

- | | |
|------------------------------|--------------------------------|
| (1) 馬歇爾計劃
(Marshall Plan) | (3) 杜魯門主義
(Truman Doctrine) |
| (2) 華沙公約
(Warsaw Pact) | (4) 歐洲聯盟
(European Union) |

根據以下的漫畫和你的社會學知識來回答第 37 題。



資料來源：Leslie Illingworth, June 23, 1941,
The National Library of Wales (經改編)

37 這幅漫畫所表現的希特勒的行動導致史達林

- (1) 採行綏靖政策
- (2) 接管德國的工業
- (3) 加入同盟國與德國作戰
- (4) 削減蘇聯軍隊的規模

38 哪項關於地理對 20 世紀中東地區文化和歷史影響的陳述最準確？

- (1) 沙漠防止軍事入侵。
- (2) 資源分佈不均引發衝突。
- (3) 豐富的水資源促進農業自給自足。
- (4) 山脈阻止文化的傳播。

根據以下的歌詞和你的社會學知識來回答第 39 題和第 40 題。

東方紅

東方紅，太陽升。
中國出了個毛澤東。
他為人民謀幸福，
呼兒嗨喲，他是人民大救星。

毛主席愛人民，
他是我們的帶路人，
為了建設新中國，
呼兒嗨喲，領導我們向前進！

共產黨像太陽，
照到哪裡哪裡亮。
哪裡有了共產黨，
呼兒嗨喲，那裡人民得解放！

39 這首 20 世紀 60 年代中國歌曲的主要觀點是什麼？

- (1) 中國共產主義將會永放光芒。
- (2) 共產主義政策將會解放毛澤東。
- (3) 中國人民在共產主義社會將富裕起來。
- (4) 毛澤東會領導共產黨建設新中國。

40 這首 20 世紀 60 年代中國歌曲傳唱的時期最可能是

- (1) 歸還香港
- (2) 文化大革命
- (3) 義和團起義
- (4) 天安門廣場事件

41 在冷戰期間，印度決定既不支持美國也不支持蘇聯，這項決定是基於什麼政策

- (1) 不結盟
- (2) 孤立主義
- (3) 抑制政策
- (4) 分離主義

- 42 • 越共消失在叢林的掩護中。
 • 直升機在伊拉克因沙塵暴而停飛。
 • 賓拉登 (Osama bin Laden) 藏身於阿富汗的山洞。

哪個概括性結論最適用於這些情形？

- (1) 先進技術確保勝利。
 (2) 宗教緊張往往推動分歧。
 (3) 大多數軍事對抗都涉及生物武器。
 (4) 地理因素常常會影響衝突進程。
- 43 制定解決全球暖化問題的主要障礙是哪兩者間的衝突
- (1) 移民勞工和本地工人
 (2) 社會主義政府和民主政府
 (3) 擁有核武器和沒有核武器的國家
 (4) 經濟發展和環境保護
- 44 允許在草地和灌木過度放牧以及砍光樹木用作燃料的做法已經導致
- (1) 沿海污染 (3) 酸雨
 (2) 荒漠化 (4) 脫鹽
- 45 在 20 世紀 70 年代後期，中國政府制定了計劃生育政策，因為其領導人認識到人口增長與什麼直接相關
- (1) 軍事力量 (3) 社會流動性
 (2) 經濟發展 (4) 政治寬容

- 46 印度領袖阿育王 (Asoka) 和阿克巴大帝 (Akbar the Great) 的一個相似之處在於他們都因為提倡什麼而廣為人知

- (1) 宗教寬容
 (2) 奴役囚犯
 (3) 向印度教徒徵收特別稅
 (4) 傳播佛教

- 47 俄國採行東正教和西里爾字母說明

- (1) 伊本·巴圖塔 (Ibn Battuta) 的旅行的影響
 (2) 印刷術在宗教改革中的作用
 (3) 彼得大帝 (Peter the Great) 的領導能力
 (4) 拜占庭帝國的影響力

- 48 奧匈帝國在 1914 年對塞爾維亞的最後通牒和美國從 2001 年起在阿富汗展開的軍事行動都是為了應對什麼行為

- (1) 帝國主義 (3) 共產主義
 (2) 孤立主義 (4) 恐怖主義

- 49 哪些領導人與 1959 年的古巴革命最密切相關？

- (1) 薩帕塔 (Emiliano Zapata) 和比亞 (Francisco Villa)
 (2) 裴隆 (Juan Peron) 和雨果 (Hugo Chávez)
 (3) 卡斯楚 (Fidel Castro) 和格瓦拉 (Che Guevara)
 (4) 奧希金斯 (Bernardo O'Higgins) 和伊達爾戈 (Miguel Hidalgo)


根據以下照片和你的社會學知識來回答第 50 題。

凱末爾 (Kemal Atatürk)



資料來源：İlhan Akşit, Compiler,
Mustafa Kemal Atatürk, Akşit

巴勒維 (Reza Pahlavi)



資料來源：Iran Politics Club online,
Mohamad Reza Shah Pahlavi Photo Album

50 這些照片中土耳其的凱末爾 (Kemal Atatürk) 和伊朗的巴勒維 (Reza Pahlavi) 的穿衣風格表明這些領導人希望

- (1) 讓他們的國家西化
 - (2) 支持民族主義運動
 - (3) 執行回教原教旨主義原則
 - (4) 適應他們國家的物理氣候
-

論文題的答案應填寫在分開的論文本上。

在回答第 II 部分的問題時，請注意以下一般性定義：

論述指「透過事實、推理和論證來對某件事發表意見；加以詳述」

第 II 部分

主題論文題

答題說明：撰寫一篇條理分明的論文，包括引言、解決以下任務的幾個段落、以及結論。

主題：帝國主義

自從 1500 年起，各國出於各種原因推行稱為帝國主義的擴張政策。可以從不同的觀點看待這項政策的影響。

任務：

選擇從 1500 年起參與帝國主義的**一個**國家並

- 討論這個國家參與帝國主義的原因
- 從被接管的人民或社會的角度**和/或**征服者的角度討論帝國主義的影響

你可以從全球歷史和地理的學習中選用 1500 年以來任何參與過帝國主義的國家。你不妨考慮一些建議，包括葡萄牙、西班牙、英國、法國、義大利、比利時和日本。

你不必侷限於以上建議。

不要選擇美國作為回答的重點。

指南：

在你的論文中，請務必

- 闡述任務的各個方面
- 引用相關事實、例證及細節來支持主題
- 須合乎邏輯、條理分明，包括一個不只是重複主題的引言和結論

第 III 部分

基於文件題

本問題是基於隨附的文件。該問題的設計是為了測驗你運用歷史文件的能力。其中一些文件是為這個問題編輯的。當你分析文件時，請參考每份文件的來源及文件中所論述的任何觀點。請記住，文件中使用的語言可能反映出撰寫當時的歷史背景。

歷史背景：

縱觀歷史，政府出於各種原因擬定並建立法律和法令。**德川幕府時期的武士法、納粹時期的第三帝國法律法令以及南非共和國的通行證法**對不同的社會、地區和人群帶來了許多影響。

任務：運用文件資料和你的世界歷史知識，回答 A 部分每一份文件後面的問題。你對這些問題的回答將有助於撰寫 B 部分的論文，在這篇論文中，你將被要求

指出歷史背景中提到的**兩套**法律和/或法令，並且對於**每一套**法律/法令

- 解釋政府希望透過制定這些法律和/或法令來達成什麼目的
- 討論這些法律和/或法令對特定社會、地區或人群造成的影響

在回答第 III 部分的問題時，請注意以下一般性定義：

- (a) **說明**指「使其平實易懂；提供原因或理由；顯示邏輯發展或關係」
- (b) **論述**指「透過事實、推理和論證來對某件事發表意見；加以詳述」

A 部分 簡答題

答題說明：分析以下文件，在所提供的空白處上回答每份文件後的簡答題。

文件 1

1603 年，德川家康 (Tokugawa Ieyasu) 贏得了內戰，成為日本的最高統治者，幕府將軍。他的繼任者德川秀忠 (Hidetada) 推行武家諸法度。武家包括武士階級的成員：大名、大武士和小武士。

《武家諸法度》(Laws Governing Military Households) (1615 年)，摘錄

... [4] 各大名 (daimyō)、小名及諸給人，各養士卒[僕臣]，有人告其為叛逆殺人犯，應速逐出。...

[6] 大名居城，雖為修補，亦當呈報[幕府]。又[嚴令]不許擅建新城。
「大城，國之危也。」高墻深溝乃大亂之源。

[7] 鄰國有[反賊陰謀]結黨者應早報告。...

資料來源：Compiled by Ryusaku Tsunoda, et al., *Sources of the Japanese Tradition*,
Columbia University Press (經改編)

1 根據這份文件，這些法律對武士階級的一**個**限制是什麼？ [1]

Score

文件 2

參觀交代或人質制度也是武士階級法律的一部分。

輪流居住義務，或參觀交代制度發展於戰國時代，在德川幕府時代得以完善。本質上來說，這種制度就是要求大名在江戶的德川城和大名自己的城內輪流居住一段時間，當大名不在德川城內居住時，則要求他把家人留在君主[將軍]的城池之地。簡單來說，這就是人質制度，要求大名或其家人（包括非常重要的繼承人）一直完全處於君主隨心所欲的控制下。...

資料來源：“Sankin Kotai and the Hostage System,” *Nakasendo Way, Walk Japan*

2 根據這份文件，德川家的人質制度（輪流居住義務）對大名的一個影響是什麼？ [1]

Score

文件 3

... 這些措施[人質制度、孤立政策以及禁槍]成功地結束了上一個時期的血腥戰爭。但是幕府將軍無法阻止下層社會的持續變化。大名及其家人集中在江戶，導致大米貿易持續成長，以供他們和僕從食用，還導致城市手工業者和滿足他們需求的商人數量擴張[增加]。日本的城市成長為世界上某些最大的城市。儘管理論上的地位非常低，但是商人階級變得越來越重要，以流行詩歌、戲劇和小說為代表的城市新文化得到了發展，與國家的官方文化有許多不同。1720 年後對西方書籍的禁令有所放鬆，使得一些知識分子表現出對西方理念的興趣，而「荷蘭學派」則開始包攬科學、農學[農業]和哥白尼天文學的研究。隨著金錢變得越來越重要，許多武士變得貧困，不得不變賣他們的武器並從事農業或手工業以償還債務。同時，反復襲來的饑荒在 1732 年造成將近 100 萬農民一死亡（總人口 2600 萬），1775 年有 20 萬人死亡，18 世紀 80 年代一有數十萬人死亡，當地還連續爆發多起農民起義。德川政治結構仍然完好無損。但在表面下，社會力量正在發展，並且與文藝復興時期的西歐存在一些相似之處。 ...

資料來源：Chris Harman, *A People's History of the World*, Verso (經改編)

- 3 根據克里斯·哈曼 (Chris Harman) 的說法，日本作為人質制度和孤立主義的後果而發生的一**個**變化是什麼？ [1]

Score

文件 4a

1933 年 3 月 28 日[納粹]黨抵制法令摘錄

... 3. 行動委員會必須立即透過宣傳和教化宣傳抵制法令。其原則是：德國人不得再從猶太人那裡購物，或允許猶太人和他的支持者促銷商品。抵制必須全面。它必須獲得全體德國人民的支持，並且打擊猶太人最敏感的地方。...

8. 必須同時在所有地點協調並開始進行抵制，這樣才能立即執行所有準備。衝鋒隊 (SA) 和黨衛軍 (SS) 接到了命令，這樣一旦抵制開始，就會有衛兵警告大眾不得進入猶太店鋪。抵制將以海報的形式、透過報刊和傳單等宣佈開始。抵制將於 4 月 1 日，星期六 10 點整開始。除非黨領袖下令停止，否則抵制將一直持續。...

資料來源：J. Noakes and G. Pridham, eds., *Documents on Nazism, 1919–1945*, The Viking Press

4a 根據這段摘錄，納粹黨在 1933 年針對猶太人採取的一項措施是什麼？ [1]

Score

文件 4b

1938 年 11 月 12 日，從德國經濟生活中消除猶太人法令

... 第 1 條

1. 自 1939 年 1 月 1 日起，禁止猶太人經營零售商店、郵局以及從事獨立交易。...

資料來源：J. Noakes and G. Pridham, eds., *Documents on Nazism, 1919–1945*, The Viking Press

4b 由於納粹法令的結果，猶太人民面臨著哪一種特定的經濟境況？ [1]

Score

文件 5a

「水晶之夜」



資料來源：Anne Frank Guide online

文件 5b

... 納粹聲稱水晶之夜是普通德國人的起義。實際上，那是經過精心策劃的。政府命令衝鋒隊走上街頭。他們的任務就是大肆毀壞並製造恐怖。蓋世太保，即秘密警察，則接到命令不要阻止暴行。相反地，他們掃蕩正在燃燒的社區，抓捕猶太人。

水晶之夜是一個轉折點。納粹邁出了將德國經濟「雅利安化」的脚步。自從希特勒掌權後，猶太人就一直在不斷失去財產。如今，從他們手中奪走財產變成了官方政策。

11月 12 日，政府向德國猶太社區徵收 10 億馬克的巨額罰金。這是對一名問題少年所作所為的懲罰。*除此之外，水晶之夜的猶太受害者還要自己為蒙受的損失掏錢。他們無法獲得所受損失的保險賠償。...

資料來源：Linda J. Altman, *The Jewish Victims of the Holocaust*, Enslow Publishers (經改編)

*赫舍·格林斯潘 (Herschel Grynszpan) 出於對父母遭驅逐的憤怒，在巴黎的德國大使館殺死了一名德國人。政府用這件事為水晶之夜的行為辯護。

5 根據這張照片和這段文章，水晶之夜政策對德國的猶太人產生了哪**兩個**影響？ [2]

(1) _____

Score

(2) _____

Score

文件 6

- 1996 年 9 月：倫敦猶太編年史 (*Jewish Chronicle*) 中的一篇報告稱，納粹在第二次世界大戰期間從猶太人和其他人那裡掠奪的 40 億美元（相當於 1996 年的 650 億美元*）被轉移到了瑞士銀行。這個金額是瑞士之前承認的金額的 20 倍；...
- 1996 年 10 月 29 日：... 被納粹從奧地利猶太人那裡奪走的藝術品、金錢和其他物品在維也納一場慈善拍賣會上出售。拍賣組織者意圖將這些物品保留在猶太社區內。最後拍賣的總金額為 1320 萬美元，將用於幫助大屠殺的倖存者和他們的子孫。...
- 1997 年 2 月 12 日：瑞士則受到對該國政府在戰爭時間接受納粹德國從猶太人手中掠奪的資金並為其洗錢[隱藏來源]指控的良心譴責，同意為大屠殺倖存者和他們的子孫建立一筆 7100 萬美元的基金。

資料來源： *The Holocaust Chronicle*, Publications International, 2000

*第二次世界大戰期間 40 億美元的價值大約相當於 1996 年的 650 億美元。

- 6 根據大屠殺編年史 (*The Holocaust Chronicle*) 中的資訊，說明第二次世界大戰結束多年後嘗試補償大屠殺受害者和他們的子孫所採取的一項行動。 [1]

Score

文件 7a

南非聯邦本地法律修正案，1952 年 54 號法案

... 29 (1). 無論何時，只要當局官員相信城市區域或在第 23 節聲明的區域中的任何原住民[南非黑人]—

(a) 是遊手好閒的人，且—

(i) 經常失業，沒有足夠的誠實的謀生手段。...

他[當局官員]就可以在無需逮捕令的情況下逮捕該原住民，或致使他被逮捕，並且任何歐洲警官或根據第 22 節第 (1) 小節任命的警官都可據此將原住民帶至本地委員或執法官面前，他們會要求該原住民給出良好且令人滿意的自我敘述。...

資料來源：Native Laws Amendment Act, Act No. 54 of 1952, Digital Innovation South Africa online (經改編)

7a 依照南非聯邦 1952 年 54 號法案的規定，經常失業的原住民可能會發生什麼？ [1]

Score

文件 7b

原住民（廢除通行證和文件協調）法案， 南非聯邦 1952 年 67 號法案

... 任何警察在任何時間都可要求年滿 16 歲的非洲人[黑人]出示他的身份證明文件[通行證]。如果他已獲簽發身份證明文件但是卻由於當時沒有攜帶而未能出示，那麼就構成犯罪行為，他必須支付不超過 10 鎊的罰金或接受不超過 1 個月的監禁。...

資料來源：Leslie Rubin and Neville Rubin, *This is Apartheid*, Christian Action, London (經改編)

7b 依照南非聯邦 1952 年 67 號法案的規定，如果一名 16 歲或以上的非洲黑人未能出示他的身份證明文件，會遭到什麼樣的處罰？ [1]

Score

文件 8

這段摘錄取自彼得·亞伯拉罕 (Peter Abrahams) 的回憶錄，以及他和他的南非黑人老闆吉姆的對話。

... 當吉姆要離開他位於北德蘭士瓦的佩迪村時，他必須先前往最近的警察局或原住民地事務部。然後他獲得一張旅行通行證。這能准許他前往約翰尼斯堡。到達該市之後，他獲得一張身份證和一張 6 天特別通行證。他每個月要為身份證支付兩先令。6 天特別通行證則是他找工作時的護身符。他在到達該市的頭 6 天並沒有找到工作。他沒去通行證辦公室更新他的 6 天特別證。他在第 8 天被抓了起來，以無業游民[沒有居留或工作資格的人]的身份在監獄里待了 2 週。這教會了他要定期前往通行證辦公室。 ...

資料來源：Peter Abrahams, *Tell Freedom: Memories of Africa*, Alfred A. Knopf

8 根據彼得·亞伯拉罕 (Peter Abrahams) 所說，通行證法對他的老闆，吉姆的**一個**影響是什麼？ [1]

Score

文件 9

對白人統治的反抗一直持續但並不成功。每當黑人起來反對讓自己生活如此悲慘的種族隔離法律時，南非警察和軍隊就會出動。1960 年 3 月 21 日，一群手無寸鐵的黑人前往沙佩維爾（一個黑人城鎮）警察局舉行反對通行證法的和平示威。沒有通行證，南非黑人就無法旅行、生活或者工作。按照白人政府的定義，這份令人痛恨的文件是一個人的人生記錄。成千上萬的示威者把自己的通行證留在家中，期望被逮捕。他們認為如果政府不得不逮捕上千人，就能證明政府的政策是無法持續的。但是和平的示威遊行卻遭遇槍火的攻擊。事件結束後，有 69 名黑人死亡，他們在警方開始射擊時試圖逃走，然後被擊中後背身亡。他們的死激起了全國性的抗議。

資料來源：Blauer and Lauré, *South Africa*, Children's Press

9a 根據這份文件，南非黑人採取什麼行動來反對通行證法？ [1]

Score

b 根據這份文件，南非政府對 1960 年 3 月 21 日沙佩維爾的情況做出什麼回應？ [1]

Score

B 部分 論文題

答題說明：撰寫一篇條理分明的論文，包括引言、幾個段落、以及結論。在你的論文中，引述取自最少**四份**文件中的證據。引用相關事實、例證及細節來支持你的答案。包括其他的外部資料。

歷史背景：

縱觀歷史，政府出於各種原因擬定並建立法律和法令。**德川幕府時期的武士法、納粹時期的第三帝國法律法令**以及**南非共和國的通行證法**對不同的社會、地區和人群帶來許多影響。

任務：運用文件資料和你的世界歷史知識撰寫一篇論文，在這篇論文中

- 指出歷史背景中提到的**兩套**法律和/或法令，並且對於**每一套**法律/法令
- 解釋政府希望透過制定這些法律和/或法令來達成什麼目的
 - 討論這些法律和/或法令對特定社會、地區或人群造成的影響

指南：

在你的論文中，請務必

- 闡述任務的各個方面
- 綜合來自至少**四份**文件的資料
- 綜合相關的外部資料
- 引用相關事實、例證及細節來支持主題
- 須合乎邏輯、條理分明，包括一個不只是重複主題的引言和結論

REGENTS EXAM IN GLOBAL HISTORY AND GEOGRAPHY CHINESE EDITION

採用再生紙印製

REGENTS EXAM IN GLOBAL HISTORY AND GEOGRAPHY CHINESE EDITION