

세계사 및 지리 (GLOBAL HISTORY AND GEOGRAPHY)

목요일, 2005년 1월 27일 - 오전 9:15 - 오후 12:15에만 실시

학생 이름 _____

학교명 _____

자신의 성명과 학교명을 인쇄체로 기입하십시오. 다음, 이 책자의 마지막 페이지에 있는 파트 I 답안지를 여십시오. 점선을 따라서 마지막 페이지를 접은 다음, 주의해서 답안지를 절취하십시오. 다음, 답안지의 위 부분에 기입하십시오. 에세이 책자는 각 페이지의 위 부분에 자신의 성명과 학교명을 인쇄체로 기입하십시오.

이 시험은 세 파트로 구성됩니다. 모든 파트의 **모든** 질문에 답하십시오. 검정 혹은 진한 청색 잉크를 사용하여 답하십시오.

파트 I에는 50개의 선다형 문제가 있습니다. 이 문제에 대한 답을 별도의 답안지에 기입하십시오.

파트 II에는 1개의 주제를 다루는 에세이 문제가 있습니다. 이 질문에 대한 답은 에세이 책자 1페이지부터 기입하십시오.

파트 III은 여러 개의 문서를 기반으로 구성됩니다:

파트 IIIA는 여러 문서를 포함합니다. 각 문서의 끝에는 하나 이상의 문제들이 나옵니다. 각 시험 책자의 문제에 대한 답을 그 질문 뒤에 있는 줄에 기입하십시오. 이 섹션의 첫 페이지에 자신의 성명과 학교명을 반드시 기재합니다.

파트 IIIB는 문서에 기초를 두는 1개의 에세이 문제가 있습니다. 이 문제에 대한 답은 에세이 책자의 7페이지부터 기입하십시오.

시험을 마친 다음에는 파트 I의 답안지에 인쇄된 진술문에 서명함으로써, 시험을 치르기 전에 문제나 답에 대한 불법적인 지식이 없었으며 시험을 치르는 동안 도움을 주지도 또한 받지도 않았음을 표시하십시오. 이 진술문에 서명하지 않는 학생의 답은 인정하지 않습니다.

지시가 있을 때까지 이 시험 책자를 열지 마십시오.

파트 1

이 파트의 모든 문제에 답하십시오.

설명 (1 - 50): 각 문제의 문장이나 질문에 가장 적절한 답의 번호를 답안지에 기입하십시오.

- 1 "고고학자들은 새 발견이 있는 다음에 역사적인 해석을 변경한다"
 "새로운 연구는 제1차 세계대전의 원인을 재조명한다"
 "컴퓨터 기술은 고대 언어를 재구축하는 데 도움이 된다"

위의 헤드라인들은 역사적 사실에 대한 우리의 이해가 어떠하다고 지적하는가?

- (1) 시간이 지나도 동일하다.
- (2) 한 세대에서 다음 세대로 전해진다.
- (3) 다양한 개인들의 의견을 반영한다.
- (4) 실존 하는 증거에 의해 형성된다.

- 2 신석기 혁명의 중요한 결과는 무엇이었는가?

- (1) 식량의 공급이 더욱 믿을만 하게 되었다.
- (2) 새로운 에너지의 공급원들이 가능해졌다.
- (3) 사람들이 유목생활을 더욱 많이 하게 되었다.
- (4) 인구가 감소했다.

- 3 해상 및 육상의 무역 통로의 성장은 무엇을 초래했는가?

- (1) 발명과 기술에 대한 관심이 감소
- (2) 인구 이동의 제한
- (3) 문화적 확산의 증가
- (4) 자급 농업의 발전

- 4 다음 중 실크 로드 사용 전에 지리가 초기 중국에 미친 영향에 관한 올바른 문장은 무엇인가?

- (1) 중국 서부 및 남서부의 산맥과 사막은 사상 교환의 속도를 느리게 했다.
- (2) 북서부 지역은 농사에 적합한 비옥한 영역을 많이 제공했다.
- (3) 3대 주요 하천계는 침입에 대한 장애물을 제공했다.
- (4) 중국 동부 해안의 깊은 항구에 대한 결여는 외국과의 무역 발전을 방해했다.

- 5 다음의 부분적 요약 내용들에 가장 잘 맞는 제목은 무엇인가?

| |
|--|
| <p>I. _____</p> <ul style="list-style-type: none"> A. 사막, 산맥 및 바다에 의한 천연 경계 B. 경작지를 비옥하게 만드는 매년의 홍수 C. 고대 및 중세 왕국 D. 파피루스 식물의 생산 |
|--|

- (1) 이집트 - 나일강의 선물
- (2) 메소포타미아 - 강 사이의 대지
- (3) 중국의 비애 - 황하강
- (4) 하라파 - 인더스 상의 도시

- 6 • 로마 여성은 재산을 소유할 수 있었다.
 • 로마 여성은 자신이 선택하는 자에게 재산을 물리는 유언을 할 수 있었다.

위의 사실에 의해 내릴 수 있는, 로마 여성에 관한 올바른 결론은 무엇인가?

- (1) 투표권이 있었다.
- (2) 일부 법적 권리를 향유했다.
- (3) 남성과 동등했다.
- (4) 정치적 지위를 가질 수 있었다.

- 7 다음 중 고타마 시다르타(부처)의 가르침과 가장 연관이 있는 신앙은 무엇인가?

- (1) 사람은 특정한 카스트로 태어난다.
- (2) 믿는 자는 십계명을 따라야 한다.
- (3) 추종자는 라마단 기간 동안 금식해야 한다.
- (4) 사람은 8도를 따름으로써 욕망을 극복할 수 있다.

- 8 초기 러시아의 발전에 가장 큰 영향을 끼친 제국은 무엇인가?

- (1) 로마
- (2) 비잔틴
- (3) 이집트
- (4) 영국

- 9 • 부모를 존중한다
- 가족의 명예를 유지한다
- 모든 연장자를 공경한다

다음 중 위의 세 가지 행동과 가장 깊은 관계가 있는 용어는?

- (1) 해탈 (3) 효
- (2) 물활론 (4) 메카 참배

10번 문제는 다음 문장과 사회학 지식을 바탕으로 답하십시오.

...그리고 이미 언급한 상인들이 날마다 원주민과 이 땅의 자손들 그리고 저희 귀족과 제후 및 친족의 자손들을 취하므로 그 피해가 얼마나 엄청난 지 헤아릴 수 없습니다. 도둑과 악한자들은 자신들이 탐하는 이왕국의 재산과 물건을 빼앗고자 이들을 잡아가기 때문입니다. 이들은 잡아간 사람들을 팔아 넘기고 있습니다. 그 부패와 방종(제약의 결여)이 너무 심하여, 저희 나라는 완전히 인구가 말살되고 있습니다. 왕께서는 이러한 일에 동의도 하지 않으시며 또한 수락하지도 않으셔야 합니다....

— Nzinga Mbemba(아폰소 왕), 포르투갈 왕에게 보내는 서신, 1526

10 이 문장이 묘사하는 아프리카 역사의 사건은 무엇인가?

- (1) 아프리카 내부의 탐험
- (2) 나이지리아에서의 금광 발견
- (3) 벨기에의 콩고 점령
- (4) 대서양 노예 무역

11 중세 유럽과 초기일본, 그 두지역에서의 봉건 제도는 어떻게 특징 지을 수 있는가?

- (1) 분산화된 정치 체계
- (2) 종교의 다양성
- (3) 교육 중시의 증가
- (4) 부유한 중산층의 발전

12 마르코 폴로의 여행과 이븐 바투타의 여행의 유사점은 무엇인가?

- (1) 민족주의적 운동을 초래했다.
- (2) 종교 지도자들의 사상 전파에 도움이 되었다.
- (3) 무역의 팽창을 촉진시켰다.
- (4) 민주주의 형태의 정부를 지원했다.

13 1500년대 초, 마르틴 루터의 "95개 조항", 헨리 8세의 "수장령", 그리고 존 칼빈의 기독교의 원리는 모두 무엇에 기여했는가?

- (1) 카톨릭 교세의 하락
- (2) 튜더 왕가의 영국에서의 국가주의 인식에 대한 증가
- (3) 유럽에서 중세 귀족의 권력 성장
- (4) 동방 정교회의 대규모 내부 분쟁

14번 문제는 다음 정보와 사회학 지식을 바탕으로 답하십시오.

1635년 일본 쇄국의 칙령

- 일본 선박의 외국 출항이 엄격히 금지된다.
- 어떠한 일본인도 해외로 갈 수 없다. 만약 이를 시도하는 자가 있으면, 반드시 처형되어야 한다. 이를 시도한 선박 또한 압수되고 그 소유주는 체포되며, 그 사실을 상부에 보고해야 한다.
- 외국 거주 후 귀국하는 일본인은 누구라도 반드시 처형시켜야 한다.
- 신부(기독교인)의 추종자들의 행방을 알려주는 제보자는 적절한 보상을 받아야 한다. 고위직 신부의 행방을 공개하는 자에게는 100량을 주어야 한다. 하위직 신부는 그 행동에 따라서 맞게 상을 책정해야 한다
-

출처: David John Lu, *Sources of Japanese History*, McGraw-Hill

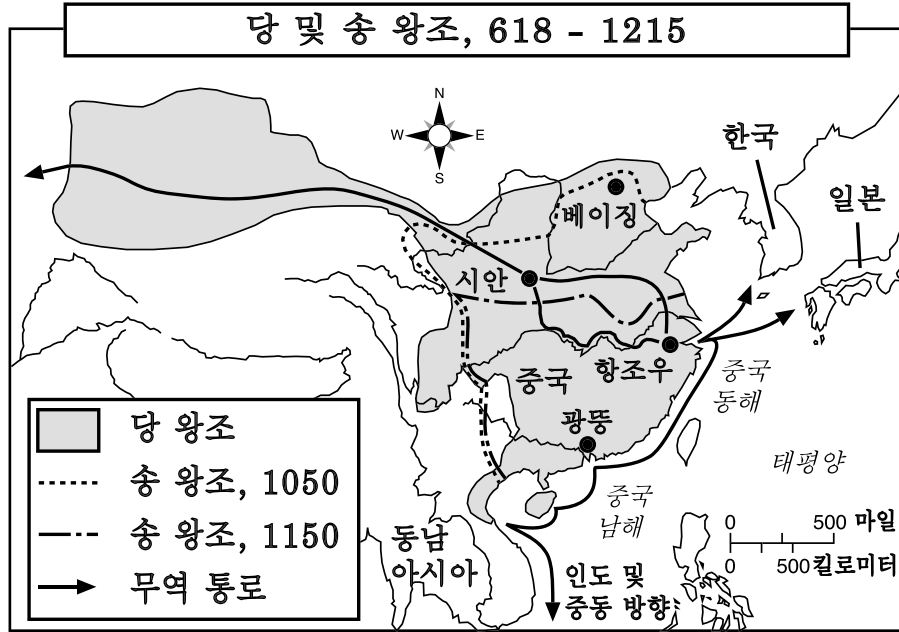
14 이러한 법규는 일본 정책의 어떠한 측면을 반영하는가?

- (1) 전체주의
- (2) 회유
- (3) 상호 의존
- (4) 고립주의

15 상업 혁명 동안, 교역의 중심지는 주로 어디에서 발전되었는가?

- (1) 산악 지방 (3) 수로를 따라서
- (2) 목초지 (4) 툰드라

16번 질문은 다음 지도와 사회학 지식을 바탕으로 답하시오.



출처 : Goldberg 및 DuPré, *Brief Review in Global History and Geography*, Prentice Hall (발췌)

16 위의 지도에 의하면, 다음 중 당과 송 왕조에 관한 정확한 결론은 무엇인가?

- (1) 대부분의 무역 통로는 베이징에서 시작되었다.
- (2) 중국의 육상 무역 통로는 중국과 일본을 연결했다.
- (3) 두 왕조의 통치 하에 있던 지역들은 변화하지 않았다.
- (4) 중국은 다른 국가와 지역들과 활발하게 교역했다.

17 영국에서의 마그나 카르타, 청교도 혁명, 명예 혁명 및 영국의 권리 선언은 무엇의 발전을 가져왔는가?

- (1) 독재
- (2) 절대 군주주의
- (3) 신권정치
- (4) 제한 군주주의

18 아즈텍, 마야 및 잉카의 농업 체계에 대한 연구를 통하여, 이 문명들의 어떤 점을 알 수 있는가?

- (1) 기계화된 농업 기술에 의존했다.
- (2) 서로간의 식량 교역이 활발했다.
- (3) 독창적인 경작 기법으로 환경에 적응했다.
- (4) 단일 작물 경제에 의존했다.

19 1600년대 유럽의 많은 군주들이 절대 권력을 가져야 한다는 입장을 고수한 이유는 무엇인가?

- (1) 서반구의 위협으로부터 국가를 방어할 필요가 있었다.
- (2) 모든 국민은 좋은 통치자에 대한 권리가 있다고 생각했다.
- (3) 신으로부터 통치할 권력을 받았다.
- (4) 공산주의가 우월한 정치 체제라고 생각했다.

20 태양 중심설, 귀납적 추리 및 데카르트의 업적은 모두 어떠한 혁명과 연관이 있는가?

- (1) 신석기
- (2) 농업
- (3) 녹색
- (4) 과학

21 어떠한 사상이 계몽주의의 중심 사상인가?

- (1) 이성의 사용이 인간의 발전을 가져올 것이다.
- (2) 모든 인간 문제의 해결을 위해 수학을 사용할 수 있다.
- (3) 고대 로마가 최상의 형태의 정부를 가졌다.
- (4) 국민은 통치자에 대해 자신의 자연권을 포기해야 한다.

22번 질문은 다음 진술과 사회학 지식을 바탕으로 답하시오.

진술 A: 우리는 시끄럽고 위험한 곳에서 일했습니다. 우리는 같은 일을 반복해서 했습니다. 아동이 포함된 많은 노동자들이 손가락, 팔다리 그리고 심지어 생명을 잃었습니다.

진술 B: 정부는 사업에 간섭해서는 안 된다. 그렇지 않으면 수요와 공급의 균형에 대한 방해할 초래할 것이다.

진술 C: 정부는 그 국민에게 행복하고 안전한 삶을 가장 잘 제공하기 위해 간섭의 의무를 가진다.

진술 D: 농업 기법 및 수단의 발전은 식량과 원료의 공급 증가를 가져왔으며, 농부들의 시골에서 도시로의 이주를 초래했다.

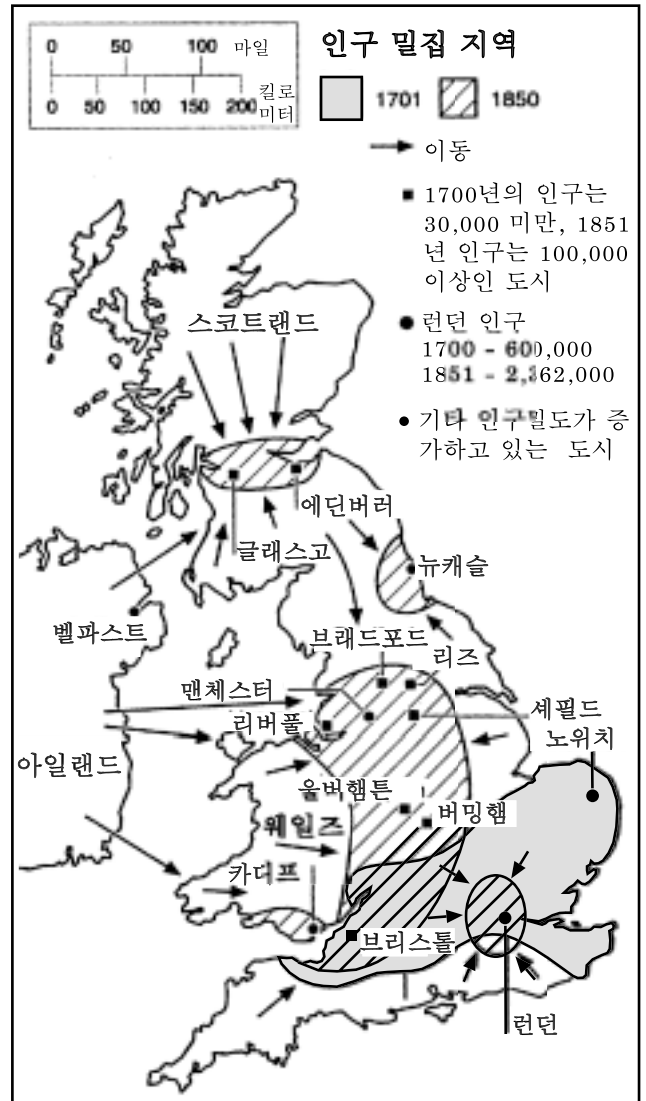
22 위의 진술들은 모두 무엇과 관련 있는 사건이나 관점을 설명하는가?

- (1) 종교 개혁
- (2) 상업 혁명
- (3) 산업 혁명
- (4) 베를린 회의

23 시장 경제의 주요 원리는 무엇인가?

- (1) 생산의 수단이 국가에 의해 통제된다.
- (2) 수요와 공급이 생산과 가격을 결정한다.
- (3) 고용 기회가 사회 계급에 의해 결정된다.
- (4) 사람들이 사업을 집단적으로 소유한다.

24번 문제는 다음 지도와 사회학 지식을 바탕으로 답하시오.



출처: World History on File, 1999

24 다음 중 1701년과 1850년 사이에 대영제국의 인구에 관한 결론을 가장 잘 뒷받침하는 것은?

- (1) 정치적 불안정은 지방 인구의 도시로 이주를 초래했다.
- (2) 많은 사람들이 런던 지역에서 리버풀과 버밍햄 주위의 지역으로 이주했다.
- (3) 대부분 도심 지역의 크기가 감소했다.
- (4) 일부 도시와 소도시의 인구가 극적으로 증가했다.

25 백인의 의무.

"백인의 의무를 떠맡고—
 최고의 품종을 보내라—
 가라, 아들들이 식민지 영토로
 가서 진력하고, 애써 너의 식민지 인들을 도와라;
 종사하라, 네자신을 무겁게 동여매고,
 퍼덕거리고 미개한
 너희의 새 포로, 그 음울한 민족들
 반 악마, 반 어린아이인 그들을 위해...."
 — Rudyard Kipling, 1899

키플링의 이 시구는 서구 식민지 통치자의 어떠한 의무에 대한 신념과 가장 밀접한 연관이 있는가?

- (1) 자신이 정복한 사람들로 부터 배워야 한다는 의무
- (2) 식민지 인들에게 제품 생산 방법을 가르치는 의무
- (3) 자신이 통치하는 사람들을 문명화시키는 의무
- (4) 후진국들을 동등하게 환영하는 의무

26 칼 마르크스가 집필한 내용에 담겨진 주요 사상 두 가지는 무엇인가?

- (1) 적자 생존 및 자연적 선택
- (2) 계급 투쟁 및 혁명적 변화
- (3) 권력의 분리 및 억제와 균형
- (4) 일신교 및 종교적 허용

27 1845년과 1860년 사이에, 아일랜드 인구의 커다란 감소를 초래한 요인은 무엇인가?

- (1) 기근
- (2) 내란
- (3) 전염병
- (4) 스페인과의 전쟁

28 오스만 제국이 국경을 확장할 수 있었던 능력은 무엇에 의존했는가?

- (1) 서부 유럽이 제공한 군사적 지원
- (2) 미주와의 방대한 교역
- (3) 제1차 세계대전 동안 형성된 동맹
- (4) 유럽과 아시아 사이의 전략적 위치

29 제1차 세계대전 동안 많은 정부들이 취한 조처의 하나는 무엇이었던가?

- (1) 정치적 반대 및 언론의 자유 고취
- (2) 생산 증가를 위한 경제 체제의 통제
- (3) 여성의 공장 취업 금지
- (4) 무역 촉진을 위한 관세 인상

30 베르사이유 조약이 제1차 세계대전 이후 많은 독일인들의 분노를 산 이유는 무엇인가?

- (1) 독일을 공산주의자와 비공산주의자 지역으로 분단시켰기 때문
- (2) 독일의 황제를 복원시켰기 때문
- (3) 독일어를 구사하는 모든 유럽인들로 하여금 독일로 돌아올 것을 요구했기 때문
- (4) 독일로 하여금 거액의 전쟁 배상금을 지불하도록 강요했기 때문

31 "...파시즘의 근본 원리는 국가의 개념과 그 기능 및 그 목적이다. 파시즘에 있어서 국가란 절대적이며 개인과 단체는 상대적이다. 개인과 단체는 국가의 내부에 있는 경우에만 허용된다. 사태를 지시하고, 지역사회의 물질의 발달과 도덕의 발달을 지도하는 대신, 자유주의 국가는 그 활동의 범위가 결과의 기록으로만 제한된다. 파시스트 국가는 깨어있으며 그 자신의 의지를 소유한다. 이러한 국가를 '도덕적'이라 부르는 이유가 거기에 있다...."

— Benito Mussolini, *Fascism: Doctrine and Institutions*, Howard Fertig, 1932

다음 중 위 문장의 중심 사상을 표현하는 것은 무엇인가?

- (1) 국민은 비효율적인 정부를 전복시킬 권리를 가진다.
- (2) 국가가 그에 소속된 개인보다 더 중요하다.
- (3) 국가는 개인의 힘으로부터 그 권력을 얻는다.
- (4) 제국의 확립은 분열과 혼란을 초래할 것이다.

32 유럽에서 제2차 세계대전의 발발과 가장 연관이 있는 사건은 무엇인가?

- (1) 나치의 폴란드 침공
- (2) 뮌헨 조약의 체결
- (3) 베를린 장벽의 건축
- (4) 프란츠 페르디난도 대공의 암살

33 쿠바가 많은 국가들의 지지를 잃었음에도 불구하고, 피델 카스트로가 권력을 유지할 수 있었던 이유는 무엇인가?

- (1) 미국과의 자유 무역을 확립했기 때문
- (2) 공산주의에 반대했기 때문
- (3) 카톨릭교의 신앙 생활을 금지했기 때문
- (4) 많은 쿠바인들의 생활 수준을 높였기 때문

34번 문제는 다음 문장과 사회학 지식을 바탕으로 답하시오.

...당사자들은 유럽이나 북미의 그들 국가중 어느 한 국가 혹은 그 이상의 국가에 대한 무력공격을 그들 모두에 대한 공격으로 간주하는데 동의하며, 또한, 만약 그러한 공격이 발생하는 경우 각 국가들은, 개별적 또는 집단적 자위 방어의 권리를 행사하는 데 있어서, 무력의 사용을 포함하여...지역의 보안을 회복하고 유지하는 데 필요하다고 인정하는 행동을 개별적으로 그리고 다른 당사자들과 공동으로 취함으로써, 공격을 당한 당사자 국가나 국가들을 지지하는 것에...동의한다....

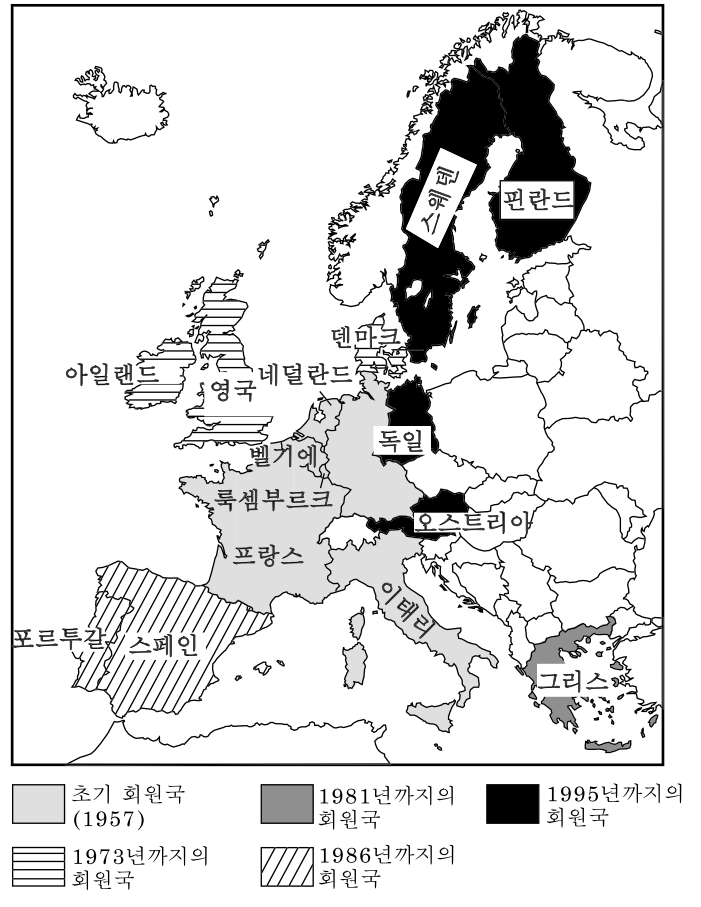
- 34 위의 문장을 그 설립 강령에 포함시킨 조직은 무엇인가?
- (1) 바르샤바 동맹
 - (2) 유엔(UN)
 - (3) 미주 국가 조직
 - (4) 나토(NATO)

- 35 러시아의 피터 대제와 중화 인민 공화국의 덩샤오핑의 유사한 점은 무엇인가?
- (1) 자국의 경제 및 사회적 개혁에 저항했다.
 - (2) 외국 문명을 선호하여 자국의 문화를 거부했다.
 - (3) 자국의 경제 및 기술적 현대화를 추진했다.
 - (4) 거의 성공할뻔한 외세의 침략을 경험했다.

- 36 "...소련의 공산당은 사회적 힘의 자연적이며 떼어낼 수 없는 한 부분이었으며 그렇게 남아 있다.
페레스트로이카의 궁극적 목표 즉, 사회주의자의 선택이란 틀 안에서, 인본적 민주 사회주의에 대한 전진의 노선을 따라 우리 사회를 재생시키는 작업을 성취하려면 그들의 협력이 있어야 가능할 것이다...."
- 위의 진술을 했으리라고 생각되는 지도자는 누구인가?
- (1) Kwame Nkrumah
 - (2) Mohandas Gandhi
 - (3) Benito Mussolini
 - (4) Mikhail Gorbachev

37번 문제는 다음 지도와 사회학 지식을 바탕으로 답하시오.

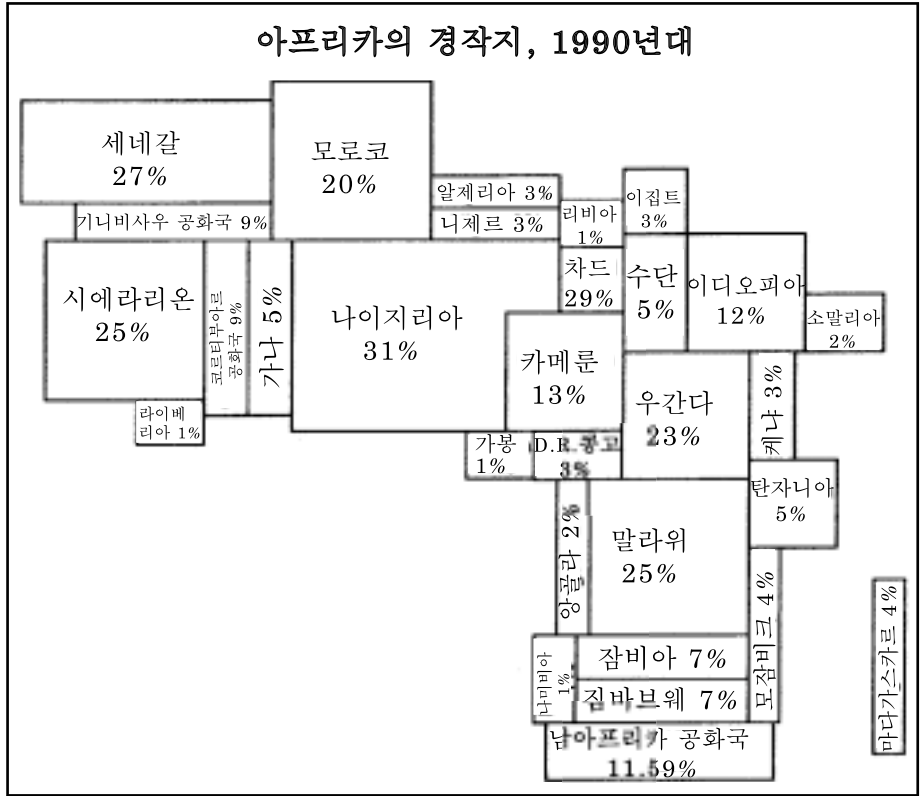
유럽 연합의 발전 1957 - 1995



출처: Elisabeth Gaynor Ellis 및 Anthony Esler, *World History: Connections to Today*, Prentice Hall, 1999 (발췌)

- 37 다음 중 유럽 연합(EU)에 관한 가장 정확한 문장은 무엇인가?
- (1) 유럽의 모든 국가들이 회원국이였다.
 - (2) 1957년 이후 회원국의 숫자가 증가했다.
 - (3) 모든 회원국들은 바르샤바 동맹의 회원국이였다.
 - (4) 유럽과 미주 간의 상호 의존성이 촉진되였다.
- 38 20세기 말, 발칸, 르완다 및 인도네시아에 공통된 문제는 무엇이였는가?
- (1) 핵폐기물의 폐기
 - (2) 민족 또는 종교적 분쟁
 - (3) 가뭄과 기근
 - (4) 도심의 과밀집

39번 문제는 다음의 도표와 사회학 지식을 바탕으로 답하시오.



출처: The 1998 Information Please Almanac, Houghton Mifflin (발췌)

39 위 도표의 정보에 의하면, 1990년대 아프리카의 경작지에 관한 올바른 결론은 무엇인가?

- (1) 아프리카에서 경작지의 분포는 동등하지 않다.
- (2) 아프리카 경작지의 대부분은 남아프리카에 위치한다.
- (3) 아프리카의 경작지는 1990년대에 증가했다.
- (4) 탄자니아의 경작지 비율이 세네갈 보다 더 높다.

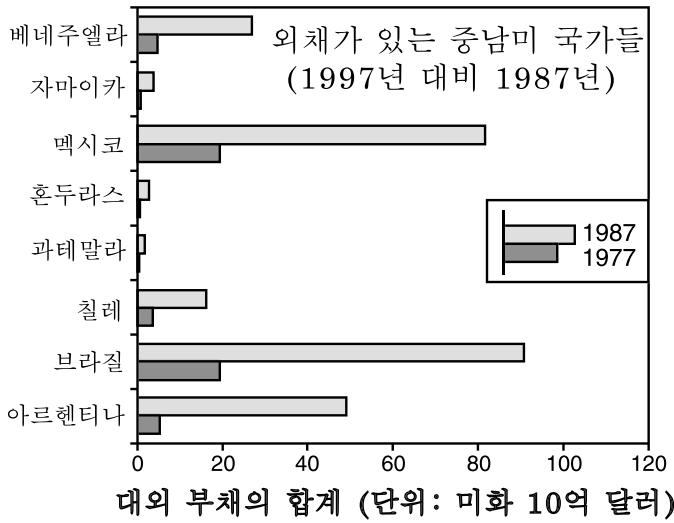
40 산림 벌채, 산성 비 및 온실 효과는 무엇에 대한 필요를 지적하는, 중대한 세계적 문제인가?

- (1) 공해와 환경 파괴의 감소를 위한 국가간의 협력
- (2) 개발도상 국가에서 대중 교통 체계의 발전
- (3) 전세계 원유 생산의 증가
- (4) 세계 일부 지역에서의 작물의 감소

41 굽타 문명(4 - 6세기)과 마야 문명(4 - 10세기)은 어떠한 점에서 유사한가?

- (1) 사원을 건축하고 영(0)의 개념을 발전시켰다.
- (2) 상비군을 없애고 귀족 정치를 도입했다.
- (3) 초기의 민주주의 제도를 발전시켰다.
- (4) 유럽 제국주의자에 의해 정복당했다.

42번 문제는 다음 그래프와 사회학 지식을 바탕으로 답하시오.



대의 부채의 합계 (단위: 미화 10억 달러)

출처: World Bank Development Report, 1979 및 World Bank Development Report, 1989 (발췌)

42 이 그래프가 보여주는 정보에 의하면, 1977년부터 1987년까지 10년 동안, 미화 액수로서 대외 부채가 가장 많이 늘어난 중남미 국가는 어디인가?

- (1) 브라질
- (2) 아르헨티나
- (3) 멕시코
- (4) 베네주엘라

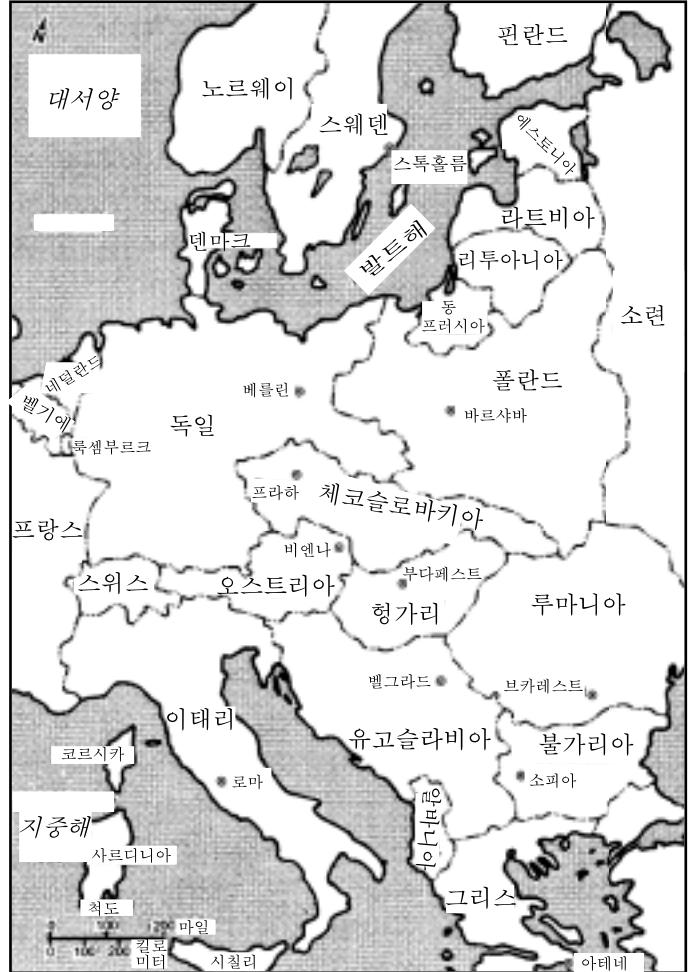
43 가내 공업, 중상주의, 길드 및 방임주의의 용어들은 무엇과 가장 깊은 연관이 있는가?

- (1) 정치 체제
- (2) 사회 체제
- (3) 경제 체제
- (4) 신앙 체제

44 19세기에 있었던 일본의 메이지 유신 그리고 독일의 통일 이후, 두 국가는 어떻게 되었는가?

- (1) 군사적 생산을 경험하고 군사력이 강화되었다.
- (2) 주변 국가들과의 긴장이 감소했다.
- (3) 정부의 구조 조정을 통하여 국민이 선출한 군주를 포함시켰다.
- (4) 산업화와 무역에 대한 의존도가 감소했다.

45번 문제는 다음 지도와 사회학 지식을 바탕으로 답하시오.



출처: Historical Maps on File, Martin Greenwald Associates (발췌)

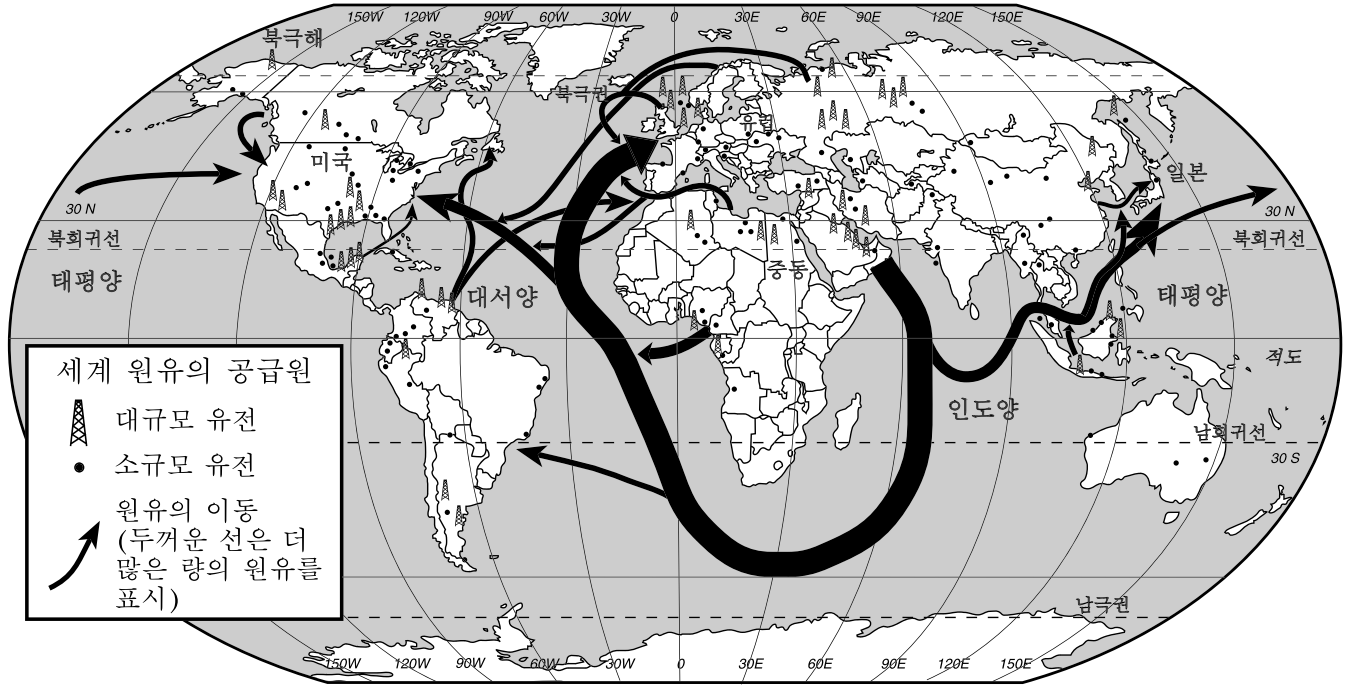
45 이 지도에 가장 알맞은 제목은 무엇이 되겠는가?

- (1) 세계대전 사이의 유럽
- (2) 오늘날의 유럽
- (3) 나폴레옹 하의 유럽
- (4) 르네상스 기간의 유럽

46 러시아 역사에 있어서 알렉산더 2세, 캐더린 여제, 보리스 옐친이 수행한 유사한 역할이란 무엇인가?

- (1) 공산주의 혁명을 이끌었다.
- (2) 개혁을 고취시켰다.
- (3) 스탈린주의자 숙청의 대상이었다.
- (4) 영역의 팽창을 지지했다.

47번과 48번 문제는 다음 지도와 사회학 지식을 바탕으로 답하시오.



출처: Richard G. Boehm 등, *Building Skills in Geography*, Glencoe McGraw-Hill, 1996 (발췌)

47 다음 중 위의 지도에 나와 있는 정보가 뒷받침하는 결론은 무엇인가?

- (1) 러시아는 원유 수입에 크게 의존한다.
- (2) 미국은 원유를 거의 또는 전혀 수출하지 않는다.
- (3) 남미는 아프리카보다 더 많은 원유를 수출한다.
- (4) 중동에서 생산되는 원유의 대부분은 일본으로 간다.

48 이 지도가 가장 잘 보여주는 개념은 무엇인가?

- (1) 동화
- (2) 보호주의
- (3) 상호의존
- (4) 제국주의

- 49 • 베를린 공수
- 쿠바 미사일 위기
- 핵무기 경쟁

위의 사건들은 어떠한 시대의 일부였는가?

- (1) 제국주의 시대
- (2) 과학 혁명
- (3) 계몽 주의
- (4) 냉전

50 후투족과 투치족, 오스만 제국민과 아르메니아인, 그리고 소련과 우크라이나의 부농들 사이에 있었던 분쟁은 모두 무엇에 기인하는가?

- (1) 새 정부의 수립
- (2) 국제적 중재
- (3) 대학살 또는 인종 청소
- (4) 문화적 상호의존

파트 1을 마쳤으면, 파트 2를 시작하시오.

에세이 문제의 답은 별도로 제공되는 에세이 책자에 기입하십시오.

파트 II에 대한 답을 작성할 때, 반드시 다음의 정의를 염두에 둔다:

- (a) 논하시오란 "사실, 논리 및 주장을 사용하여 어떤 것에 대해 관찰하며 어느 정도의 자세한 의견을 제시한다"는 의미이다.
- (b) 평가하시오란 "무엇의 의미, 가치 또는 상태를 조사 및 판단하거나, 무엇의 가치를 결정한다"는 의미이다.

파트 II

주제형 에세이 문제

설명: 서론과 아래의 과제를 다루는 서너 개의 문단 및 결론을 포함시켜 구성이 잘 된 에세이를 작성하십시오.

주제: 변화[정치적 사건]

20세기에 있었던 정치적 사건들은 세계 역사에 긍정적 그리고 부정적 영향을 미쳤다.

과제:

20세기의 정치적 사건을 두 가지 선택한 다음 **각** 사건에 대해,
• 그 사건을 둘러싼 역사적 상황을 논하십시오.
• 그 사건이 세계 역사에 미친 긍정적 **혹은** 부정적 영향의 정도를 평가하십시오.

여기에서는 세계 역사에서 배운 모든 주요 정치적 사건을 사용할 수 있다. 참고로 다음과 같은 것을 사용할 수 있다: 러시아에서 레닌 공산주의 정부의 수립, 유럽에서 전체주의 정부의 부상, 호치민에 의한, 반제국주의로의 베트남 단일화, 중동에서의 이슬람 근본주의에 대해 증가하는 지지, 중국에서 마오쩌둥의 문화 혁명, 베를린 장벽의 붕괴, 인도와 파키스탄에서 핵무기의 개발, 남아프리카 공화국에서 넬슨 만델라의 인종 격리에 대한 대항.

위에 제안된 내용으로 국한되지 **않음**.

긍정적 또는 부정적 영향을 논하는 데 있어서는 미국의 역할을 포함시킬 수 있으나, 미국의 정치적 사건을 답으로는 사용하지 마시오.

지침:

에세이 작성 시 요구사항:

- 과제의 모든 측면을 다룬다.
- 관련 있는 사실과 사례 및 세부사항을 이용하여 주제를 뒷받침한다.
- 단순한 주제의 재진술이 아닌 서론과 결론을 포함시켜, 논리적이고 분명한 계획에 근거하는 문장 구조를 사용한다.

파트 III의 답을 작성할 때, 다음의 일반적 정의를 사용한다:

논하시오란 "사실, 논리 및 주장을 사용하여 어떤 것에 대해 관찰하며 어느 정도의 자세한 의견을 제시한다"는 의미이다.

파트 III

문서형 문제

이 문제는 함께 제공되는 문서를 기반으로 한다. 이 문제들의 의도는 역사적 문서를 처리하는 능력을 시험하기 위한 것이다. 일부 문서들은 문제를 위해 편집되었다. 문서를 분석하는 과정에서, 각 문서의 출처와 그 문서에 나타난 관점을 고려하는 것이 필요하다.

역사적 배경:

역사에 있어서 정복은 특정 사회에 대한 정치적, 경제적 그리고 사회적 변화를 가져왔다. 몽골, 스페인 및 프랑스와 같은 민족들은 자신들이 정복한 지역에서 많은 변화를 야기했다.

과제: 파트 A의 각 문서 뒤에 나오는 문제들은, 문서에 나타난 정보와 세계사에 대한 지식을 사용하여 답하시오. 이 문제들의 답은 다음과 같은 파트 B의 에세이 문제 작성에 도움이 된다:

역사적 배경에서 언급된 민족 가운데 두 민족을 선택한 다음 **각** 민족에 의한,
 • 정복이 가져온 정치적, 경제적 **및/또는** 사회적 변화에 대해 논하시오.

여기서는 미국을 영향을 받은 사회로 사용할 수 없다.

파트 A

단답식 문제

설명: 각 문서를 분석하여 문서 뒤에 나오는 문제의 답을 제공된 공간에 기입하십시오.

문서 1

...1237-40년 사이, 몽골의 러시아 침략 동안 있었던 재산과 인명의 대량 약탈과 파괴는 어마어마한 힘으로 러시아 국민을 강타하여, 그들의 경제적 그리고 정치적 생활의 정상적인 진행을 상당 기간 혼란에 빠트렸다. 러시아인의 인명 피해를 추산하는 것은 어렵지만, 엄청난 숫자임이 틀림 없으며, 몽골의 노예가 된 방대한 숫자의 남녀 민간인을 합친다면, 그 숫자는 전체 인구의 10퍼센트 보다 결코 적지 않을 것이다.

이 패주[처절한 패배]에 의해 가장 피해를 본 것은 도시였다. 러시아 문명의 오랜 중심지인 키예프, 체르니고프, 페레이아슬라브, 리아잔, 수즈달 그리고 덜 오래된 블라디미르-인-수즈달리아는 물론 다수의 다른 소도시들이 철저히 파괴되었으며, 위에서 언급된 처음 세 곳은 수세기에 걸쳐 과거의 중요성을 상실하게 되었다. 스몰렌스크, 노브고라드, 스코브, 할리즈 등 서부와 북부 러시아의 일부 주요 도시들만이 당시의 폐허를 피할 수 있었다. 일차 정복 기간 동안 물리적 파괴를 면한 도시들일지라도, 칸을 위한 장인과 숙련공에 대한, 몽골의 징집[징용]으로 인해 그 부담이 가중되었다. 최고의 러시아 보석 세공인과 기술자들이 정해진 수만큼 위대한 칸에게로 보내졌다. 우리가 본 바와 같이, 플라노 카피니의 수사 존은 그러한 사람 가운데 한 명 즉, 금세공인 쿠즈바를 구육의 캠프에서 만났다. 그 밖에도 황금 군단의 칸은 자신의 수도인 사라이의 건축과 장식 그리고 개인의 서비스를 목적으로 다른 많은 사람들을 징발했다. 세공인, 갑옷과 투구 기술자, 안장 기술자 등 다양한 종류의 숙련공들이, 남부 러시아에 위치한 몽골 군대의 주요 지휘관들의 관저는 물론 Juchi가의 구성원들이 있는 궁궐에 배정되었다....

출처: George Vernadsky, *The Mongols and Russia*, Yale University Press

1 이 문서에 의하면, 몽골의 정복은 **두** 가지 방법으로 러시아를 변화시켰다. 그 두가지 방법은 무엇인가? [2]

(1) _____

점수

(2) _____

점수

문서 2

...유라시아의 역사가들은, 몽골의 영향이 러시아인들에게 매우 유익한 것으로 입증되었다고 주장한다. "타타르족[몽골]은 유럽으로부터 러시아를 방어함으로써" 서방 정복으로부터 러시아를 구했다. 정복 이후, 몽골인과 러스[러시아]의 국민들은 조화와 평화 속에서 공존했다. 러스인들은 자신들의 정복자로부터 우랄알타이어족[아시아인]의 전형적인 기질인, 끈기, 확신, 강인, 신앙적 믿음을 받아들였으며, 이는 모두 러시아인의 발전을 촉진시켰다. 몽골인들은 동방과의 확고한 상업 및 문화적 관계를 러스에게 보장했으며, 정교회의 위치를 강화시켰다. 13세기 중엽, 노브로고드의 왕자인 Alexander Nevskii는 운명적인 선택과 직면하여, 서방 대신 동방을 현명하게 선택하였다: "알렉산더는 라틴계의 서방으로부터 러시아 문화의 정체성을 보존하고 통합시키는 데 있어서, 자신을 도와줄 수 있는 문화적인 의미에서, 우호적인 힘을 몽골인으로부터 발견했다."...

출처: David MacKenzie 및 Michael W. Curran, *A History of Russia, the Soviet Union, and Beyond*, Wadsworth Thomson Learning

2 이 문서에 근거하여, 몽골 지배의 결과로서 러시아에 발생한 변화 **두** 가지를 서술하십시오. [2]

(1) _____

 점수

(2) _____

 점수

문서 3

...징기스칸은 1227년에 죽을 때까지, 중국 북부의 대부분을 지배했지만, 남쪽으로 놓여있는 습지는 그의 기마대의 진격을 막았다. 그의 아들은 동쪽과 서쪽의 지역을 정복하여 그 지배 영역을 확장시켰다. 이들은 제국을 크게 4개의 칸의 영토 즉, 페르시아, 중앙 아시아, 러시아 및 동아시아로 분할했다....

쿠블라이칸은 힘과 능력이 넘치는 통치자였다. 그는 몽골 전통을 지킨다는 것을 보여주기 위해 전쟁과 흡사한 대규모의 사냥을 계속한 반면, 중국 문화도 어느 정도 인정함을 보여주었다. 그는 중국 북부의 황폐함을 어느 정도 복원시키는 행동을 취했다. 그는 대운하의 방대한 복원 역사를 시작했는데, 이는 국가의 부와 통일에 매우 중요했다. 그는 황하를 따라서 댐과 제방과 같은 수관리를 위한 공사를 지시했다....

몽골의 지배 동안, 중앙 아시아 및 중동과의 교역이 소생되었다. 이 지역은 모두 칸의 친척들에 의해 지배를 받았다. 몽골인이 통치한 방대한 지역에서는 *Pax Mongolica*라고 부르는 전반적인 평화를 경험했다. "머리에 금덩이를 단 여인이라도 왕국 어디든지 안전하게 다닐 수 있다"는 말이 있었다. 낙타 대상들은 다시 한 번, 도자기, 차, 의약품, 비단, 놀이 카드 등의 중국산 물품을 중동과 유럽으로 운반했다....

출처: Dorothy Hoobler 등, *China, Globe Book*

3 이 문서에 근거하여, 몽골 지배에 의한 중국의 변화 **두** 가지를 지적하십시오. [2]

(1) _____

점수

(2) _____

점수

문서 4

스페인 신부가 멕시코의 인디언들에게 전도하는 모습을 보여주는 1737년의 판화



출처 : Espinosa Isidro, "Engraving of Father Margil," *El Peregrino Septentrional Atlante: Delineado en la Exemplarissima Vida del Venerable Padre F. Antonio Margil de Jesus*, 1737*

- 4 이 판화에 나타난 내용을 근거하여, 스페인 사람들이 멕시코 원주민의 삶에 끼친 영향 **한** 가지를 서술하시오. [1]

Score

* East Texas Research Center에 위치, Stephen F. Austin State University, Nacogdoches, Texas and through Texas Tides, <http://tidessfasu.edu> (발췌)

서반구에서의 스페인 제국의 통치

식민 통치 하의 뉴 스페인[스페인 식민지]에서의 삶은 복잡했다. 중요한 기관과 문화적 양식은, 근본은 스페인 식이었으나, 신천지 환경 하에서 변경되었다. 사회는 정적이지 않았으며, 정치와 종교 체제는 진화되었다. 또한, 변화는 경제적, 사회적 및 지적 생활의 특징이었다. 이러한 적응들은 일반적으로 유럽에서의 발전을 모방했으며, 기본적인 결정과 통치의 근원이 되었다. 뉴 스페인은 식민지로서 첫 3세기 동안, 여러 면에서 모국에 추종하는 자세를 유지했으며, 이는 왕권에 대한 강화된 충성에서 비롯되었다....

뉴 스페인에서는 총독이 최고의 관리이자 왕권 전제 정치의 대리인이었다. 그는 왕의 개인적 대표자로서 상당한 권위를 소유하며 높은 명예와 존경[존중]을 향유했다. 그는 높은 봉급(17세기에는 2만 페소, 18세기에는 그 세 배)을 받았고, 제복[유니폼]을 입은 시종들에 둘러싸인 휘황찬란한 저택에서 살았으며, 소규모의 유럽 군주와 같이 궁정을 유지했다. 식민 시대 동안 있었던 총독[지사]의 숫자는 61명이었다. 이들의 대부분은 작위가 있는 귀족이거나 적어도 출생 신분이 높았으며, 11명은 성직자 계급 제도[교회 지도자들] 출신이었고, 이 영예스러운[높은] 직위의 세 보유자만이 *criollos*[크리올 사람]이었는데 그 가운데 2명은 총독의 아들이었다.

총독은 멕시코의 최고 통치자, 군대의 총사령관, 지사, 황실 금고(*real hacienda*)의 감독관 그리고 *audiencia*(궁정)의 대통령 기능을 수행했다. 그는 왕실 법과 명령의 집행, 지역 문제를 다루는 법령의 공포, 하급 식민지 공무원의 지명, 대지와 소유권의 분배, 식민지화와 정책의 촉진 그리고 원주민의 보호를 수행했다. 그는 종교적 행사 대부분의 후원자였으며, 그의 종교적[교회] 권위에는 교구[지역] 경계의 결정 및 일부 교회 성직자의 임명에 대한 권리가 포함되었다....

출처: Robert Ryal Miller, *Mexico: A History*, University of Oklahoma Press

5 이 문서에 의하면, 스페인 인들이 뉴 스페인에 있는 그들의 식민지들에 미친 영향은 무엇인가? [1]

점수

문서 6

스페인 식민지의 사회 계급

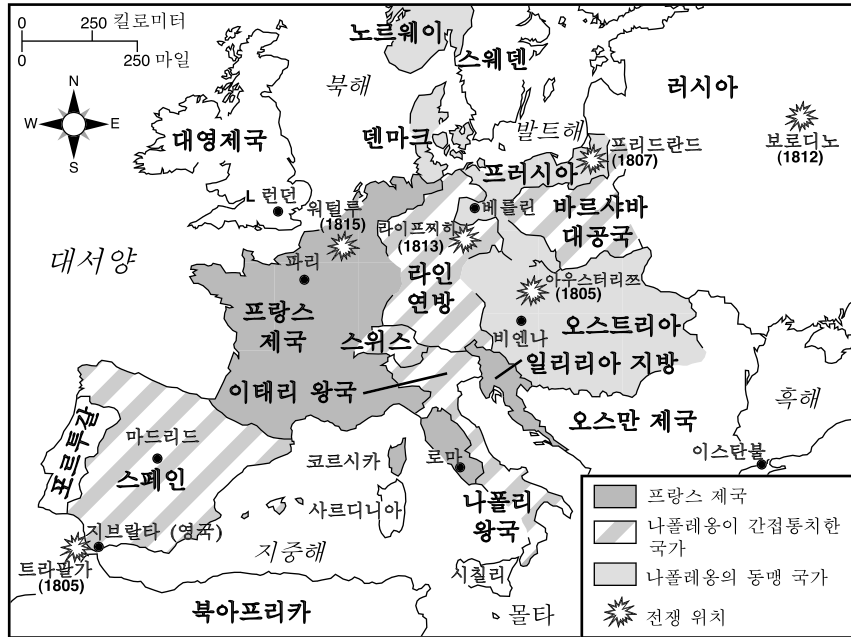


출처 : John Osborne 등, *Global Studies*,
N & N Publishing (발췌)

6 이 차트에 근거하여, 스페인의 라틴 아메리카 정복에 따른 변화 **한** 가지를 지적하시오. [1]

점수

나폴레옹 제국, 1812



출처: Peiser 및 Serber, *Our World*, AMSCO (발췌)

7 이 지도에 근거하여, 유럽에서 나폴레옹의 정복에 따른 정치적 영향 **한** 가지를 서술하시오. [1]

점수

문서 8

...[나폴레옹] 법전이 제국보다 오래 지속되지 못한, 홀란드, 독일, 스위스, 이태리, 일리리아와 같은 곳에서도, 그것은 그 지역의 민법에 강한 영향을 주었다. 법전의 폐지는 일부 국가에서 너무나 커다란 혼돈과 혼란을 초래했기 때문에, 다시 복원되었다. 예를 들어, 이태리 반도의 경우, 두 시칠리정부는 1812년에, 파르마, 모데나, 사르디니아는 그 후에 나폴레옹 법전에서 유래한 법을 채택하였다. 1864년에 채택된 이태리 왕국의 법 또한 그 원천은 나폴레옹 법전에 두고 있다. 1815년에서 1830년 사이에 네덜란드 왕국에 통합된 벨기에 인들은 나폴레옹 법전을 위하여 너무나 강력히 투쟁하여, 그 후 1838년 분리된 홀란드에서는 나폴레옹 법전에 기반하는 법을 채택했다.

나폴레옹 법전은 이를 채택하지 않은 정부에게까지도 강한 인상을 남겨, 19세기는 법전 편찬에 있어서 중대한 한 세기가 되었다. 위에 언급한 국가 외에도, 오스트리아, 포르투갈, 스페인, 독일 및 터키 모두 민법을 채택했다. 그러나 나폴레옹 법전은 관습법에 반하여, 민법의 세계에서 쉽사리 우위를 차지하였다....

이 법전은, 프랑스가 과거를 외면하도록 도운 나폴레옹의 업적에 크게 기여했다. 이 법전은 개인과 계약의 자유(어떠한 직업에라도 종사할 수 있는 자유 포함), 모든 프랑스인의 평등 그리고 교회[종교]의 통제로부터 자유로운 민권 사회에 대한 사상을 확립시켰다. 진정한 최초의 현대 법률로서, 나폴레옹 법전은 현대 역사에서 처음으로 모든 시민에게 차별 없이 적용되는 통일된 법률 체제를 국가에 제공하였다. 더욱이, 이 법전은 법의 확실성을 제공함으로써, 혁명에 의해 부양된 국가적 통일을 촉진했다. 이 법전의 조망 전체는 중산 계급의 상승에 대한 더욱 강력한 충동을 제공했다. 컨벤션과 집정부 하에서 위협을 받은 가족의 붕괴가 첨예하게 중단되었으며, 가족은 또 다시 가장 중요한 사회적 제도가 되었다....

출처 : Robert B. Holtman, *The Napoleonic Revolution*, J.B. Lippincott

8 이 문서에 근거하여, 나폴레옹 법전이 가져온 변화 **두** 가지를 지적하시오. [2]

(1) _____

 점수

(2) _____

 점수

문서 9

...그러나 나폴레옹 보나파르트의 계획과 야망은, 나폴레옹이 전혀 기대하지 못한 방식으로 라틴 아메리카 사람들에게 영감을 주었다. 이 프랑스 독재자는 1808년 스페인을 침략한 다음, 강제로 왕을 양위시키고[왕권을 포기], 스페인 왕권을 자신의 형제인 조셉에게 넘겼다. 한 순간에 스페인의 아메리카가 보나파르트 가족 제국의 일부가 되었다. (그보다 몇 달 전에, 나폴레옹은 포르투갈을 침략했으며, 포르투갈 황실은 자국 식민지인 브라질로 도주했다.)

스페인계 아메리카인들은 이 프랑스 침략자에게 강력히 반발했다. 이들은 조셉 보나파르트를 자신들의 왕으로 수락하는 것을 거부하고, 대신 스페인의 부르봉 왕가에 충성을 확인[선언]했으며, 지역의 정부들을 장악했다. 그러나 거의 처음부터, 나폴레옹에 대한 반발은 완벽한 독립을 위한 혁명으로 바뀌어 있었다. 이들은 더 이상 과거의 제도로 돌아올 수는 없었다....

출처: Robert J. Alexander, *Latin America*, Scholastic Book Services

9 이 문서에 의하면, 나폴레옹의 스페인 침략은 라틴 아메리카에 어떠한 영향을 가져왔는가? [1]

점수

파트 B

에세이

설명: 서문과 서너 문장으로 된 본론 및 결론을 포함하는 잘 짜인 에세이를 작성하시오. 에세이에 적어도 **4개** 문서가 제공하는 증거를 사용하시오. 자신의 의견을 관련 있는 사실, 사례 및 세부 사항으로 뒷받침하시오. 그 밖의 외부 정보를 포함시키시오.

역사적 배경:

역사에 있어서 정복은 특정 사회에 대한 정치적, 경제적 그리고 사회적 변화를 가져왔다. **몽골, 스페인 및 프랑스와** 같은 민족들은 자신들이 정복한 지역에서 많은 변화를 야기했다.

과제: 문서들에 포함된 정보와 자신의 세계사에 대한 지식을 바탕으로, 다음에 대한 에세이를 작성하시오.

역사적 배경에서 언급된 민족 가운데 **두** 민족을 선택한 다음 **각** 민족에 의한, • 정복이 가져온 정치적, 경제적 **및/또는** 사회적 변화에 대해 논하시오.

지침:

에세이의 요구사항:

- 과제의 모든 측면을 발전시킨다.
- 적어도 **4개** 문서에 있는 정보를 포함시킨다.
- 관련 있는 외부 정보를 포함시킨다.
- 관련 있는 사실, 사례 및 세부 사항으로 주제를 뒷받침한다.
- 단순한 주제의 재진술이 아닌 서론과 결론을 포함시켜, 논리적이고 분명한 계획에 근거하는 문장 구조를 사용한다.

