

The University of the State of New York
REGENTS HIGH SCHOOL EXAMINATION**세계사 및 지리**
(GLOBAL HISTORY
AND GEOGRAPHY)**화요일, 2005년 6월 21일 - 오전 9:15 - 오후 12:15 에만 실시**

학생 이름 _____

학교명 _____

자신의 이름과 학교명을 인쇄체로 기입하십시오. 다음, 이 책자의 마지막 페이지에 있는 파트 I 답안지를 여십시오. 점선을 따라서 마지막 페이지를 접은 다음, 주의해서 답안지를 절취하십시오. 다음, 답안지의 윗 부분을 기입하십시오. 에세이 책자는 각 페이지의 윗 부분에 자신의 이름과 학교명을 인쇄체로 기입하십시오.

이 시험은 세 파트로 구성됩니다. 모든 파트의 **모든** 질문에 답하십시오. 검정 혹은 진한 청색 잉크를 사용하여 답하십시오.

파트 I에는 50개의 선다형 문제가 있습니다. 이 질문에 대한 답은 별도의 답안지에 기입하십시오.

파트 II에는 한 개의 주제를 다루는 에세이 문제가 있습니다. 이 질문에 대한 답은 에세이 책자 1 페이지부터 기입하십시오.

파트 III는 여러 문서를 기반으로 구성됩니다.

파트 IIIA는 여러 문서를 포함합니다. 각 문서의 끝에는 하나 이상의 문제들이 나옵니다. 각 시험 책자의 문제에 대한 답을 그 질문 뒤에 있는 줄에 기입하십시오. 이 섹션의 첫 페이지에 자신의 성명과 학교명을 반드시 기재합니다.

파트 IIIB는 문서에 기초를 두는 한 개의 에세이 문제가 있습니다. 이 문제에 대한 답은 에세이 책자의 7페이지 부터 기입하십시오.

시험을 마친 다음에는 파트I의 답안지에 인쇄된 진술문에 서명함으로써, 이 시험을 치르기 전에 문제나 답에 대한 불법적인 지식이 없었으며 시험을 치르는 동안 도움을 주지도 또한 받지도 않았음을 표시하십시오. 이 진술문에 서명하지 않는 학생의 답은 인정 하지 않습니다.

이 시험 중에는 통신 장비의 사용을 철저히 금지합니다. 만일 아주 잠시라도 통신 장비를 사용하는 경우 당신의 시험은 무효화되며 당신은 시험 점수를 받지 못할 것입니다.

지시가 있을 때까지 이 시험 책자를 열지 마십시오.

파트 I

이 파트의 모든 질문에 답하십시오.

지시문 (1-50): 각 문제의 문장이나 질문에 가장 적절한 답의 번호를 답안지에 기입 하시오.

- 1 다음 중 동물의 가축화와 곡물의 경작이 처음으로 등장한 시기는?
- (1) 철기시대
 - (2) 구석기시대
 - (3) 신석기 시대
 - (4) 과학 혁명 시대

2번 문제는 아래의 설명과 사회학 지식에 근거하여 답변하십시오.

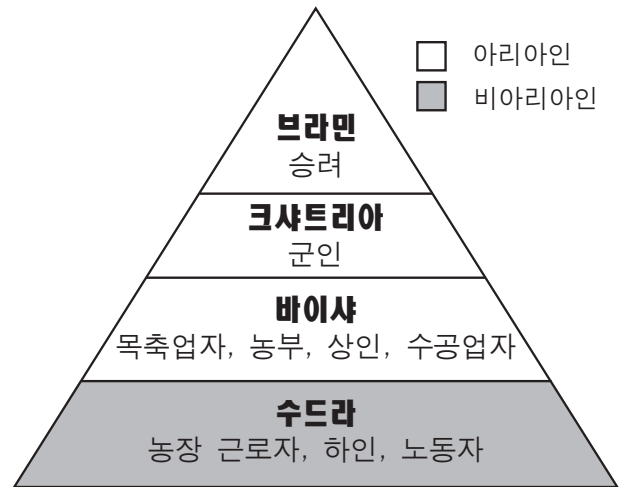
- 하천 유역의 비옥한 토양이 초기 문명의 발달과 번영을 가능케 하였다.
- 1500년대와 1600년대에는 말라카 해협이 지배가 향료 군도 무역권을 결정하였다.
- 일본은 대부분이 산악성 섬인 관계로 인구는 해안 연안 지역에 집중되어 있다.

- 2 다음 중 위의 지문이 가장 잘 뒷받침하는 내용은?
- (1) 주요 도심지들은 하천을 따라서만 발견된다.
 - (2) 국가나 지역의 지리적 특징이 그 지역의 발달에 영향을 끼친다.
 - (3) 산과 하천없이 인류는 문명을 발달 시킬 수 없다.
 - (4) 무역과 정복은 새로운 아이디어의 전파를 방해한다.

- 3 다음 중 아시아 지역의 문화 전파에 대해 가장 정확히 설명한것은?
- (1) 비잔틴 무역상인들이 유스티니아 법전을 중국에 도입하였다.
 - (2) 로마 군단들이 기독교를 인도에 전파하였다.
 - (3) 인도 승려들이 이슬람 교를 중동에 전파하였다.
 - (4) 중국의 사상과 관습들이 한국과 일본에 전파되었다.

- 4 다음 중 그리스 문명에 대한 사실이라기보다 의견에 가까운 것은?
- (1) 스파르타의 소년들은 군인이 되도록 훈련되었다.
 - (2) 아테네가 스파르타보다 더 좋은 문화를 소유했다.
 - (3) 소크라테스, 플라토, 아리스토텔레스는 그리스의 철학자들이었다.
 - (4) 아테네의 많은 성인들은 투표권을 가지지 못했다.

5번과 6번 문제는아래의 도형과 사회학 지식에 근거하여 답하십시오.



출처: *Guide to the Essentials of World History*, Prentice Hall, 1999 (개정판)

- 5 다음 중 어떠한 개념이 이 도형에 설명되어 있는가?
- (1) (중세의) 장원제도
 - (2) 인종차별정책
 - (3) 카스트 제도
 - (4) 엔코미엔다 (원주민 통치 사역권)
- 6 다음 중 어떤 종교 혹은 신앙 체계가 이 도형에 나타난 사회 계급 구조와 가장 밀접히 관련되어 있는가?
- (1) 힌두교
 - (2) 도교
 - (3) 카톨릭
 - (4) 애니미즘 (영혼신앙설)

7번 문제는아래의 지도와 사회학적 지식에 근거하여 답하시오.



출처: Aramco World, May/June 1999 (개정판)

7 제지 기술은 다음 중 어느 경로를 거쳐 중국으로부터 바그다드로 전해졌는가?

- (1) 사하라 사막 대상로
- (2) 대륙 횡단 시베리아 철도
- (3) 비단길
- (4) 수에즈 해협

8 “...왕과 성직자들이 ‘우리는 하늘로부터 포고를 받았으며 이것은 오랜 동안 영속한 (중국의) 하 나라 (Hsia)의 시대만큼 훌륭할 것이며 (중국의) 은 나라 (Yin)의 오랜 역사만큼 융성할 것이다.’라고 말하며 공동의 연민 (공감) 을 통하여 노력하게 하소서. 나는 왕이 평민들의 지지를 통하여 영원한 하늘의 포고를 받을 수 있기를 기원하노라....”

— Clae Waltham, ed., *Shu Ching, Book of History*, Henry Regnery Company

다음 중 이 지문에서 인용하고 있는 개념은 어느것 인가?

- (1) 왕조의 순환
- (2) 모계 사회
- (3) 자연권
- (4) 일신론

9 종교적 용어 “사성제, 팔정도, 해탈”과 가장 밀접히 관련된 것은?

- (1) 유대교
- (2) 이슬람
- (3) 신도교
- (4) 불교

10 이슬람 문화의 황금기는 다음 중 무엇으로 가장 잘 알려졌는가?

- (1) 북미 대륙을 식민지화하려는 시도
- (2) 기독교인과 유대인 간의 잦은 충돌
- (3) 수학, 과학, 의학의 진보
- (4) 중동 지역과 중국 간의 무역을 감소시키려는 정책

11 상업 혁명이 산업 혁명으로의 발달을 이루는데 도움을 준 점은 다음 중 상업 혁명기간 동안의 어떤 사건 때문인가?

- (1) 물물 교환 체계의 제도화
- (2) 새로운 방식의 사업 개발
- (3) 유럽의 사회주의 도입
- (4) 생계를 위한 농업의 증진

12번 문제는 아래의 지도와 사회학 지식에 근거하여 답하시오.

몽고 지배 영역



출처: John K. Fairbank, *China: A New History*, Harvard University Press, 1992 (개정판)

12 다음 중 지도에 나타나 있는 정보로부터 가장 잘 뒷받침되는 몽고에 관한 설명은?

- (1) 원 왕조는 중국을 외부의 영향으로부터 고립시켰다.
- (2) 대부분의 중국인들은 하천 유역에 거주했다.
- (3) 쿠빌라이 칸과 칭기스 칸은 몽고의 영향력을 다른 아시아 지역으로 확대하였다.
- (4) 사마르칸트 시는 원 제국의 일부였다.

13 “목적은 수단을 정당화한다”는 마키아벨리의 사상이 의미하는 바는?

- (1) 지도자는 국가에 최선이 되는 바를 성취하기 위해 어떠한 수단도 사용할 수 있다.
- (2) 대중은 항상 자신의 최상의 이익을 위해 행동한다.
- (3) 일정 기간 모든 사람을 만족시키는 것은 가능하다.
- (4) 지도자는 항상 공동의 선을 위해 행동하여야 한다.

14 유럽의 베니스, 아프리카의 모가디슈, 중국의 광둥 지역은 13세기 동안에 무엇의 중요한 중심지로 부상하였는가?

- (1) 농업
- (2) 무역
- (3) 제조업
- (4) 광업

- 15 다음 중 몽고의 지배가 러시아의 역사에 미친 영향 중 한 가지는?
- (1) 러시아의 서부 유럽 왕국과의 접촉이 크게 증가되었다.
 - (2) 중국의 문자 체계가 러시아에 소개되고 또한 채택되었다.
 - (3) 대부분의 러시아인들이 기독교 정교에서 이슬람교로 개종했다.
 - (4) 러시아 지도자들이 강한 중앙 집권적 왕국의 개념을 받아들였다.

- 16 ● 팀북투(Timbuktu)는 학문과 무역의 중심지로 알려져 있다.
- 대 짐바브웨 성벽은 강력하고 풍요한 사회를 드러낸다.
 - 베냉의 복합 문화가 베냉의 황동 조각품을 산출해냈다

위의 지문을 바탕으로 일반화될 수 있는 사항은?

- (1) 많은 아프리카 사회에서 종교적 믿음은 가장 중요한 요소이었다.
- (2) 몇몇 아프리카 사회는 높은 수준의 경제적 또한 문화적 발전을 이루었다.
- (3) 북부 아프리카 사회는 남부 아프리카 사회보다 훨씬 더 진보하였다.
- (4) 대부분의 아프리카 사회는 기술 이용의 측면에서 아시아 사회보다 수 백년 뒤떨어졌다.

- 17 포르투갈과 스페인이 아시아의 향료시장을 향한 수로를 설립한 가장 주요한 이유는?
- (1) 아스트롤라베(천체관측기구)나 육분기 같은 신 기술의 실험
 - (2) 항해사, 측량사, 선박 제작자들에게 직업 제공
 - (3) 이슬람 무역상이 지배하는 육로를 피하기 위해
 - (4) 새로운 대륙, 식물 및 동물을 발견하기 위해

- 18 다음 중 권리 장전 (Magna Carta)을 가장 잘 설명한 것은?
- (1) 영국 봉건 사회에 관한 기록
 - (2) 영국 군주의 권력을 제한하는 봉건적 권리의 목록
 - (3) 영국 봉건 사회에서의 귀족층 국세 납부(세금) 조사
 - (4) 영국 중산층의 불만을 토로한 성명서

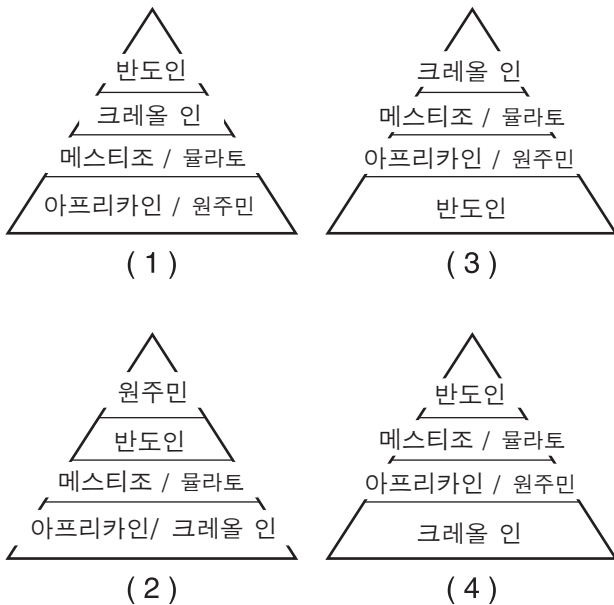
19번 문제는 아래의 지도와 사회학 지식에 근거하여 답하십시오.



출처: Latin American History on File, Media Projects, Inc., 1996 (개정판)

- 19 위의 지도로부터 잉카 도시 마추 피추에 대해 어떠한 결론을 내릴 수 있나?
- (1) 종교적 행위가 이 도시에서 금지되었다.
 - (2) 이 도시는 주거지라기 보다 의례적인 장소였다.
 - (3) 공동 사회 설계와 조직화된 생활이 이 도시에서는 명백하지 않다.
 - (4) 이 도시는 법, 지도자, 군사력을 가진 정부를 지녔다.

20 다음 중 어떤 도형이 서구 스페인 식민제국의 사회 계층 구조를 보여주는가?



21 계몽 사조 시대의 철학자들은 다음 중 무엇을 통해 사회가 발전된다고 믿었나?

- (1) 신앙과 신성한 권리에의 의지
- (2) 고대 그리스와 로마 사상의 차용
- (3) 이성과 자연법의 적용
- (4) 성공적인 지도자들의 선례 연구

22 다음 중 어떠한 지리적 특징이 남미 대륙 통일을 어렵게 하였나?

- (1) 안데스 산맥
- (2) 마젤란 해협
- (3) 멕시코 만
- (4) 아르헨티나의 초원지대

23 다음중 19세기 자유 방임 경제 학자들이 주장 한것은?

- (1) 정부가 경제와 무역을 조절해야 한다.
- (2) 개인들은 자유 경제 시장에서 개인의 이익을 추구하도록 허락되어야 한다.
- (3) 정부는 불안정한 경제 상황을 막기 위해 정부운영의 은행 체계를 개발하여야 한다.
- (4) 만일 모든 남성의 보편적 투표권이 허락 된다면 대 혼란이 야기될 것이다.

24번 문제는 아래의 지도와 사회학 지식에 근거하여 답하시오.



출처: Beers, World History: Patterns of Civilization, 1983 (개정판)

24 다음 중 위의 지도에 나타나 있는 정보에 의해 가장 잘 설명되는 것은?

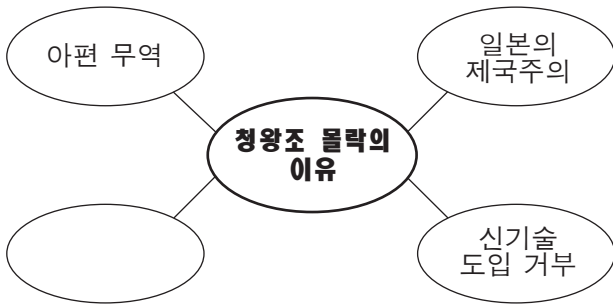
- (1) 영국의 천연 자원이 산업 도시의 발전을 가져 왔다.
- (2) 1830년대에 영국은 불리한 무역 수지를 보였다.
- (3) 대영 제국의 번영은 시민들을 단합시켰다.
- (4) 공해 문제로 인해 사람들이 대영제국으로부터 다른 곳으로 이민을 갔다.

25 칼 막스 (Karl Marx)가 노동자 계급 (proletariat) 혁명이 가장 먼저 일어날것으로 예상한 지역은?

- (1) 산업화된 유럽
- (2) 독립 후의 라틴 아메리카
- (3) 식민지 하 아프리카
- (4) 농업사회의 러시아

- 26 다음 중 Rudyard Kipling의 “백인의 의무 (White Man's Burden)”에 관한 서구의 견해를 가장 잘 나타낸 것은?
- (1) 유럽인들은 아프리카와 아시아의 전통 문화를 보존해야 한다.
 - (2) 유럽인들은 기존의 아프리카와 아시아의 경제를 보호해야 한다.
 - (3) 유럽인들은 아시아로의 새로운 무역로 개척에 큰 어려움을 겪었다.
 - (4) 유럽인들은 그들의 문명의 이익을 비 유럽인에게 전파할 의무를 지녔다.

27번 문제는 아래의 도형과 사회 과학적 지식에 기초하여 답하시오.



- 27 다음 중 빈 도형에 들어갈 가장 적절한 구절은?
- (1) 중국차의 유럽 수출
 - (2) 유교 원리의 전파
 - (3) 의화단 운동의 실패
 - (4) 마오쩌둥 권력의 강화
-
- 28 팔레스타인의 유대인 독립을 도모하기 위해 저널리스트 테오도어 헤르젤(Theodor Herzl)이 시작한 운동은?
- (1) 국토회복 운동 (the Reconquista)
 - (2) 유대인들의 이산 (the Diaspora)
 - (3) 유토피아 사상
 - (4) 시온주의
- 29 20세기 유럽 여성 투표권 운동의 성공은 부분적으로 무엇의 결과인가?
- (1) 여성의 정부 고위 관직에의 참여
 - (2) 제 1차 세계 대전 중 여성의 공장 근로
 - (3) 대가족의 장려
 - (4) 여성의 제 1차 세계 대전 전투에 참여

- 30 “...식민지 인들이 염려하는 그들의 자주권에 결부된 모든 문제를 결정하는 데 있어 원리에 철저히 입각한 자유롭고 개방된, 절대적으로 공평한 모든 식민지 권리 주장에 관한 조정은 식민지에 대한 소유권이 결정될 정부의 공평한 권리 주장과 동등한 중요성을 지녀야 한다...”

— President Woodrow Wilson's Fourteen Points, 1918

위의 지문은 무엇을 제안함으로써 식민 지배하 민족주의자의 공감을 형성했는가?

- (1) 민족 자결주의
 - (2) 경제 개발
 - (3) 연맹 체계
 - (4) 테러 분자로부터의 보호
- 31 1920년대와 1930년대에 무스타파 케말 알타튀크 (Mustafa Kemal Atatürk)는 무엇을 통해 터키 정부를 개혁시켰나?
- (1) 민주적 개혁을 도입함으로써
 - (2) 술탄의 권력을 증가시킴으로써
 - (3) 절대주의를 지지함으로써
 - (4) 시민법에 종교적 지침을 도입함으로써
- 32 1920년대와 1930년대에 이탈리아와 독일의 파시즘 지도자들은 어떻게 권력을 얻게 되었나?
- (1) 국제 연합을 지지함으로써
 - (2) 경제적 곤란을 국민의 지지를 얻기 위해 이용함으로써
 - (3) 모든 형태의 국수주의에 저항함으로써
 - (4) 정치적 관례를 유지함으로써
- 33 나폴레옹과 히틀러의 러시아 침략 시 지리적 특징이 그들의 침략에 끼친 영향은?
- (1) 사막이 침략을 가능하게 했다.
 - (2) 기후가 성공의 장애가 되었다.
 - (3) 툰드라 성 기후가 군대의 이동을 가능케 했다.
 - (4) 온난한 기후의 항구가 급수품의 이동을 방해했다.
- 34 아르메니안 대학살, 유대인 대학살 (홀로코스트), 남경 대학살은 다음 중 무엇의 예인가?
- (1) 유화 정책
 - (2) 저항 운동
 - (3) 러시아화 노력
 - (4) 인권 위반

- 35 인도의 독립 운동 기간 중 인도의 많은 이슬람 교도들이 파키스탄의 분리를 주장한 이유는?
- (1) 영국의 지배하에 남기위해
 - (2) 아프리카니스탄과 중국의 미래의 침략을 막기 위해
 - (3) 종교적 소수 집단으로서의 그들의 지위에 대한 염려를 알리기 위해
 - (4) 신성한 강인 인더스 강과 갠지스 강을 보호하기 위해

36번 문제는 아래의 우표와 사회학 지식에 근거하여 답하시오



EUROPEAN AID = 유럽의 원조
PROGRAM = 프로그램
The Marshall Plan = 마셜 계획

- 36 위의 기념 우표는 마셜 계획 50 주년 기념으로 발행되었다. 조지 마셜이 존경받는 이유는 다음 중 무엇인가?
- (1) 독일과 추축국들이 제 2차 세계 대전을 일으킨 것에 대해 대가를 치뤄야 한다고 주장함으로써
 - (2) 유럽 경제의 재건을 위해 미국으로 부터의 경제적 원조를 제안함으로써
 - (3) 서유럽의 경제 재건을 위해 유럽연합을 설립함으로써
 - (4) 서유럽 국가들이 소련으로 부터의 원조를 받도록 고무함으로써
-
- 37 1970년대와 1980년대의 많은 중미 국가들이 내전을 일으킨 주요 원인은 다음 중 무엇인가?
- (1) 사회 계층간의 경제적 차이
 - (2) 엔코미엔다 (원주민 통치 구역권) 체제 내의 노예 제도의 종결
 - (3) 급격한 경제적 개혁
 - (4) 석유 생산 정책

- 38 레흐 왈레사 (Lech Walesa), 미하일 고르바초프 (Mikhail Gorbachev), 넬슨 만델라 (Nelson Mandela)의 비슷한 점은?
- (1) 보다 민주적인 정부에 국민을 이끌었다.
 - (2) 백인 소수에 대한 흑인 다수의 권력을 위해 투쟁했다.
 - (3) 그들 국가 내의 공산주의 종결을 위해 일했다
 - (4) 국제 연합에의 참여를 거부하였다.

- 39 ● 북미 대서양 조약 (NATO)과 바르샤바 조약(Warsaw Pact)의 체결
● 베를린 장벽의 건설
● 쿠바 미사일 위기

다음 중 위의 사건들과 가장 연관된 것은?

- (1) 제 1차 세계 대전
- (2) 제 2차 세계 대전
- (3) 냉전
- (4) 걸프전

- 40 다음 중 마더 테레사의 활동과 가장 밀접히 관련되는 것은?
- (1) 민주주의와 정치적 자유
 - (2) 산업화와 시장 경제
 - (3) 민족주의와 독립 운동
 - (4) 가난한 자들을 위한 구호와 의료

- 41 ● 체르노빌 원자력 사건
● 프레온 가스로 인한 오존층의 고갈
● 하천과 해수의 오염

다음 중 위의 사건을 통해 어떤 결론을 내릴 수 있나?

- (1) 현대 기술은 심각한 부정적 영향을 끼칠 수 있다.
- (2) 오늘날의 환경은 스스로 정화한다.
- (3) 개발 도상국만이 환경 문제를 지닌다.
- (4) 대부분의 환경 문제들은 유럽으로부터 야기되었다.

42번 문제는아래의 만화와 사회학 지식에 근거하여 답하시오.



출처: Steve Sack, *Minneapolis Star and Tribune*, 1983

- 42 이 정치적 만화의 주제는 무엇인가?
- (1) 미국과 아프리카만 식량 부족에 영향을 받는다.
 - (2) 공해는 종종 기아의 원인이 된다.
 - (3) 아프리카의 정부들은 국민의 식량 부족을 걱정하지 않는다.
 - (4) 기아에 관해 읽는 것과 경험 하는 것은 다르다.

- 43 이란의 아야톨라 코메이니 (Ayatollah Khomeini)와 아프가니스탄의 탈리반 (Taliban)의 공통점 한 가지는?
- (1) 이슬람 국가를 설립했다
 - (2) 여권에 관한 유엔회의를 후원했다
 - (3) 석유 수출 기구 오펙(OPEC)에 가입
 - (4) 공산주의 사상을 정부에 도입했다

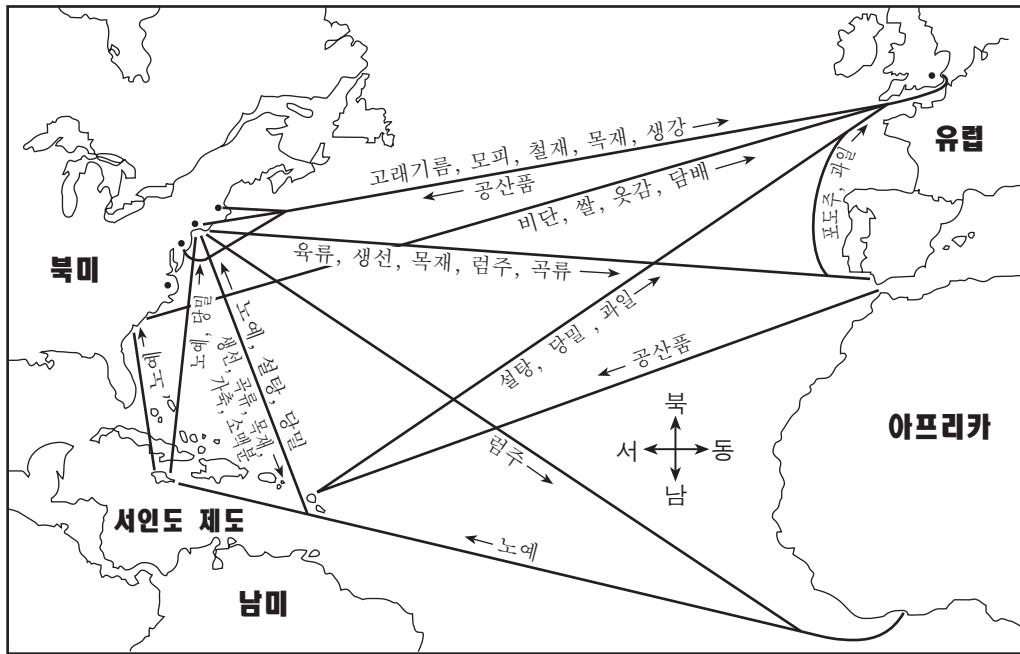
- 44 중동 지역이 국제적으로 중요한 이유는?
- (1) 혁신적 정치와 사회 개혁
 - (2) 뛰어난 무기 제조 기술
 - (3) 전략적 요지에 있는 중요한 천연 자원
 - (4) 과학 발달과 산업 발전
- 45 “...맨체스터 보다 흥미가 더 없는 곳은 상상하기가 어렵다. 8 만명 이상 거주하는 크거나 인구로써는 영국에서 두번째 이다. 상상해 보라. 이 많은 사람들이 좁은 길가에 모여있고, 벽돌로 지어진 집들은 검은 연기로 덮혀있고, 많은 집들은 수도원처럼 크지만, 고풍스러움도, 아름다움도, 신성함도 없고 단지 시끄러운 기계 소리만 들리고, 벨소리가 날때는 기도 대신 이 불쌍한 자들을 일터로 불러내는 것이다....”
- Robert J. Southey, *Letters from England*, 1807
- 이 글에 묘사되어 있는 상황은 어느 시기에 일어났나?
- (1) 신대륙 발견 시대
 - (2) 문예 부흥 (르네상스)
 - (3) 산업 혁명
 - (4) 녹색 혁명
- 46 다음 중 아래 빈 칸에 들어갈 제목으로 적합한 것은?

<p>I. _____</p> <p>A. 콘스탄티노플의 붕괴</p> <p>B. 콜럼버스의 항해</p> <p>C. 마틴 루터의 95개 반박문 게시</p> <p>D. 소련 공산 주의 붕괴</p>

- (1) 혁명의 중요성
- (2) 전쟁과 폭동
- (3) 역사적 전환점
- (4) 경제 변화의 영향

47번 문제는아래 지도와 사회학 지식에 근거하여 답하시오.

대서양 무역 경로



출처: Goldberg and DuPré, *Brief Review in Global History and Geography*, Prentice Hall, 2004 (개정판)

47 지도에 있는 경로는 어느 시대의 대서양 무역을 나타내는가?

- (1) 고대 그리스 (헬레네 문명)
- (2) 로마 왕정
- (3) 중세 초기
- (4) 중상주의 시대

48 다음 중 독일의 통일, 이탈리아의 통일, 그리고 인도의 독립이 갖는 공통점은 무엇인가?

- (1) 천주교 지지
- (2) 민족 주의 지도자들의 기반 강화
- (3) 국제 연맹의 중재
- (4) 민주주의 단체들의 존재

49 식민지법 종결을 위해 시민저항을 사용한 인물은?

- (1) 모마르 카다피 (Momar Khadafi)
- (2) 사담 후세인 (Saddam Hussein)
- (3) 호치민 (Ho Chi Minh)
- (4) 모한다스 간디 (Mohandas Gandhi)

50 프랑스 혁명 시 공포 정치와 중국의 문화 혁명이 갖는 공통점은

- (1) 절대 지도자들의 권력을 제한 시켰다.
- (2) 국가 정책 제정시 여론의 힘을 예증하였다.
- (3) 사회 안정과 경제 성장을 확립하였다.
- (4) 반대 세력의 제거에 폭력적 방법을 사용하였다.

에세이 문제의 답은 별도로 제공되는 에세이 책자에 기입하십시오.

파트 II에 대한 답을 작성할 때, 반드시 다음의 정의를 염두에 둔다:

- (a) 묘사하시오란 “무엇에 관해 단어를 이용해 설명하거나 혹은 그것에 대해 말한다”는 의미이다.
- (b) 논하시오란 “사실, 논리, 및 주장을 사용하여 어떤 것에 대해 관찰하며 어느 정도의 자세한 의견을 제시한다”는 의미이다.

파트 II

주제형 에세이 문제

설명: 서론과 아래의 과제를 다루는 서너 개의 문단 그리고 결론을 포함시켜 구성이 잘 된 에세이를 작성하십시오.

주제: 상호의존 [글로벌 문제]

역사적으로, 글로벌 문제는 많은 나라와 지역에 주요 문제를 제기해 왔다.

과제:

글로벌 문제 두 가지를 선택한 다음 각 문제에 대해

- 그 글로벌 문제의 주요 원인 한 가지를 묘사하십시오.
- 국가 혹은 지역 하나를 골라 그 글로벌 문제가 그 곳에 끼친 영향 하나를 논하십시오.

세계 역사에서 배운 어떠한 글로벌 문제도 사용 가능하다. 다음에 제시된 예들을 사용할 수 있다: 환경 공해, 불모화 (사막화), 남벌, 인구 과잉, 피난민, 질병의 전염, 국제 마약 거래, 인종간의 갈등.

위에 제안된 내용으로 국한되지 않음.

글로벌 문제 토론 중, 한 지역의 글로벌 문제가 미국에 끼친 영향은 언급 될 수 있으나, 미국 내의 글로벌 문제를 예로 들지는 마시오.

지침:

에세이 작성 시 요구사항:

- 과제의 모든 측면을 다룬다.
- 관련 있는 사실과 사례 및 세부사항을 이용하여 주제를 뒷받침한다.
- 단순한 주제의 재진술이 아닌 서론과 결론을 포함시켜, 논리적이고 분명한 계획에 근거하는 문장 구조를 사용한다.

파트III의 답을 작성할 때, 다음의 일반적 정의를 사용한다:

논하시오란 “사실, 논리 및 주장을 사용하여 어떤 것에 관하여 어느 정도의 자세한 의견을 제시한다”는 의미이다.

파트 III**문서형 문제**

이 문제는 함께 제공되는 문서를 기반으로 한다. 이 문제들의 의도는 역사적 문서를 처리하는 능력을 시험하기 위한 것이다. 일부 문서들은 문제를 위해 편집되었다. 문서를 분석하는 과정에서, 각 문서의 출처와 그 문서에 나타난 관점을 고려하는 것이 필요하다.

역사적 배경:

역사적으로 전쟁의 원인은 다양하다. 이런 전쟁들은 예상된 혹은 예상 밖의 결과들을 야기해 왔다.

과제: 파트 A의 각 문서 뒤에 나오는 문제들은, 문서에 나타난 정보와 세계사에 대한 지식을 사용하여 답하시오. 이 문제들의 답은 다음과 같은 파트 B의 에세이 문제 작성에 도움이 된다:

- 전쟁의 경제적, 사회적, **및/또는** 정치적 원인에 대해 논하시오.
- 전쟁의 예상된 결과들 **및** 예상 밖의 결과들에 대해 논하시오.

파트 A

단답식 문제

설명: 각 문서를 분석하여 문서 뒤에 나오는 문제에 대한 답을 제공된 공간에 기입하시오.

문서 1

... (제정 러시아등의) 대공들은 종교 전쟁의 참여에 관심을 보이지 않았으나 서부의 기사들은 종교 전쟁의 참여에 기꺼이 응했다. 그들의 동기는 부분적으로는 순수히 종교적인 차원이었다. 그들은 그들간에 계속되는 싸움을 수치스럽게 생각했다. 그들은 십자가를위해 싸우기를 원했다. 하지만 특히 장자상속제 [장자가 모든것을 물려 받는제도]가 제정화되어 가고 있었던 북 프랑스에서는 땅을 소유하려는 욕심도 그들을 자극했다. 군주가 점점 그의 재산과 정권을 분산시키지 않으려 하고, 석조 성 주변에도 모든 것을 집결시키기 시작하면서, 군주의 장자외 다른 아들들은 다른 곳에서 재산을 찾아야 했다. 프랑스의 기사들은 대체적으로 들떠있고 모험을 좋아하였는데, 이러한 경향은 유독히 유목 약탈자들의 몇 세대 후손인 노르망인들 사이에서 강하였다. 이들에게 남부 지역 땅의 획득과 기독교의 의무를 겸할 수 있는 기회는 아주 매력적인 것이었다. 교회는 이런 움직임의 진행에 만족해 했다. 이러한 경향이 기독교계의 동부 접경에도 적용되지 않았을까? ...

출처: Steven Runciman, *A History of the Crusades*, Cambridge University Press, 1951

- 1 윗 문서에 근거해 볼 때 유럽의 기사들과 군인들이 십자군에 지원한 이유 한 가지를 쓰시오.
[1]

Score

문서 2

. . . 서구 사회가 세계 지리에 관한 그들의 지식을 넓힌 것이 유일하게 모든 사람들이 동의하는 십자군 전쟁의 긍정적인 결과이다. 유럽 각지에 흩어져 있던 유목민의 침략으로 “불가사의한 동양”의 베일이 영원히 벗겨졌다. . . .

아랍 건설자들은 노르망디와 이탈리아에서 기술을 가져온 십자군에게서 많은 군사적 석공기술을 배웠다. 그 유명한 카이로의 요새를 지을 때, 살라딘은 그가 레반트 [동지중해의 땅]에서 보고 관찰한 십자군 성 모양을 모방했다. 이후 유럽의 대성당들이 한참 지어질 무렵, 건설자들은 고대 시리아의 페니키아인으로 부터 기원되어 시리아 계통의 아랍인이 유럽 동부에 살고있던 사람들에게 전한 기법을 통해 만들어진 스테인글라스 창을 설치 하였다...

순수히 군사적 측면에서만 보면, 십자군은 서양의 패배로 기록되어야 한다. 왜냐하면 성지 소유권이 여러번 바뀜으로 인해, 성지 예루살렘의 영역이 이슬람교도들에게 영원히 넘어갔기 때문이다. 하지만 두 세기에 걸친 동.서 투쟁 기간 동안 서로 상호간에 문화적 영향을 미친 것은 명백한 사실이다. 그 거대한 교류는 어두운 유럽에 빛을 비춰주었고, 유럽과 동양 사이에 존재한 무지의 벽을 영원히 제거했다. . . .

출처: “Legacy of the Crusades,” Aramco World, VII, May 1956

2a 윗 문서에 의하면 십자군이 서양 문화에 미친 예기치 않은 긍정적인 결과 한 가지는 무엇인가? [1]

Score

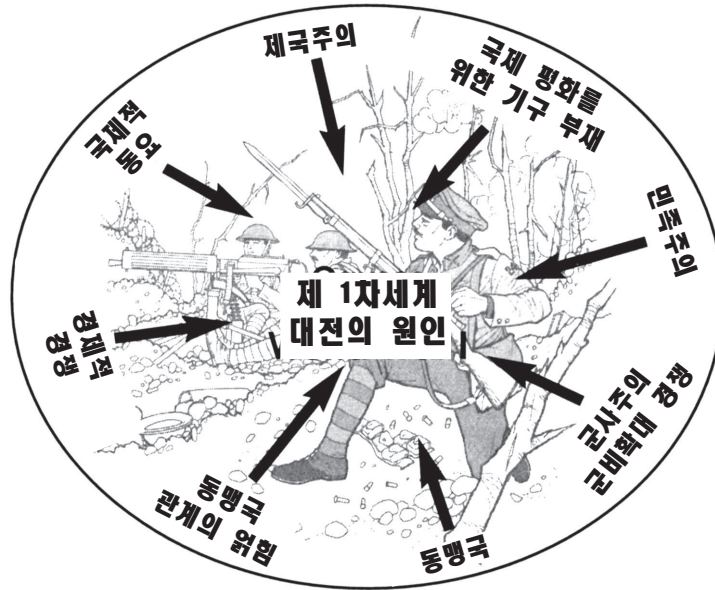
b 이 문서에 의하면, 십자군이 이슬람 문화에 미친 예기치 않은 긍정적인 결과 한 가지는 무엇인가? [1]

Score

c 이 문서를 바탕으로 해서 서구사회가 십자군 전쟁의 결과에 실망한 이유 한 가지를 서술하시오. [1]

Score

문서 3



출처 : Kime and Stitch, *Global History and Geography STARReview*, 2003

3 이 도표에 의하면 제 1차 세계 대전의 원인 두 가지는 무엇인가? [1]

(1) _____

(2) _____

Score

문서 4

베르사이유 조약에서 발췌한 조항들 (1919/6/28)

45 조항: 프랑스 북부의 석탄광산 파괴에 대한 보상과 독일 전쟁으로 인해 일어난 피해의 총 배상금의 일부로 독일은 프랑스에게 사르 강 유역 (Sarr Basin)에 있는 석탄 광산을 독점적으로 사용할 수 있는 절대 권리를 아무 비용 또는 대가없이 주어야 한다.

119 조항: 독일은 동맹국과 연합국을 위해 그들의 해외 점유물에 관한 모든 소유권과 권리를 공식적으로 포기한다 [단념 한다].

231 조항: 동맹국과 연합국은, 독일과 그 연맹국들의 침략에 의해 탄압과 손상을 당한 동맹국과 연합국 그리고 국민들에 대한 그들의 책임을 확인 [인지]하고 독일은 자신들의 책임을 인정한다.

출처: Versailles Treaty

4a 이 문서에 의하면 프랑스는 제 1차 세계 대전으로 인한 피해를 어떻게 배상 받았는가? [1]

Score

b 이 문서에 의하면 제 1차 세계 대전으로 독일에게 돌아온 결과는? [1]

Score

문서 5

...국경은 인간에 의해 만들어지고, 또 인간에 의해 변화한다.

한 나라가 광대한 영역을 얻었다하여 그 나라가 그 지역을 계속적으로 영원히 소유할 이유는 없다. 적어도 그 넓은 영역의 소유는, 정복자의 강인함과 땅을 빼앗긴 민족의 나약함을 증명한다. 그리고 그 강인함만으로도 소유권을 유지할 수 있다. 만일 독일인이 견디기 어려운 영토 안에 갇혀 있어, 그로인해 불행한 미래에 처한다면, 이것은 신이 내린 명령이 아니며, 이런 상황을 거부하는 것은 결코 신의 뜻을 어기는 것이 아니다. 신께서 독일 보다 다른 나라들에게 더 많은 영토를 약속하지 않았으니, 영토의 불공평한 분배 때문에 신을 원망할 수 없다. 우리가 살고 있는 영토는 신이 선조들에게 선물로 준 것이 아니다. 그들은 목숨을 걸면서 영토를 정복했다. 또한 미래에도 우리 민족이 영토가 없음으로 인해 생존의 수단을 얻지 못 한다면 우리는, 남의 도움이 아니라, 칼의 힘으로 승리하여 영토를 획득하여야 할 것이다. . . .

출처: Adolf Hitler, *Mein Kampf*, Hurst and Blackett Ltd.

5 윗 문서에 의하면 아돌프 히틀러가 전쟁이 필요하다고 생각한 이유 **한** 가지는 무엇인가?
[1]

Score

문서 6

1945년 2월 4일 부터 11일까지 열린 미 합중국, 영국, 그리고 소련 연방 수뇌들의 얄타 회담에서 다음과 같은 결론을 내렸다.

유럽 해방 선서
 . . . 유럽의 질서 성립과 경제의 재건은 나치즘과 파시즘의 흔적 [잔재]을 없앨 수 있도록 민족 해방을 통해 이루어져야 한다. 이것이 대서양 헌장의 기본 원리이다. ---그들이 따라야하는 정부의 형태를 선택할 수 있는 권리---- 침략자들에 의해 강제로 빼앗긴 독립권과 자치권의 회복. . . .

폴란드
 . . . 폴란드에서는 적군(赤軍)에 의한 완전한 해방으로 인해서 새로운 상황이 벌어졌다. 이는 폴란드 서부의 해방 전에 가능했던 것 보다 더 넓게 기반을 둔 임시정부를 요구하게 한다. 현재 폴란드에서 기능을 하는 그 임시정부는 폴란드 자체내와 해외의 민주주의 지도자를 포함하여 더 넓은 민주주의를 토대로 재정비되어야 할 것이다. 그렇다면 이 정부는 폴란드 임시 통일 정부라 불려져야 한다. . . .

출처: Protocol of the Proceedings of the Crimea (Yalta) Conference, February, 1945 (개정판)

6 얄타 회담에서 제 2차 세계 대전의 결과로 유럽은 어떻게 변화될 것이라고 추정하였는지 두 가지를 쓰시오 [2]

(1) _____

Score

(2) _____

Score

문서 7

. . . 페르시아 만에 대한 우리의 목적은 명확하다. 우리의 목적은 분명하고 잘 알려져 있다.

- 이라크는 즉각 조건없이 쿠웨이트에서 완전히 철수하라.
- 쿠웨이트의 합법적 정부는 회복되어야 한다.
- 페르시아 만에 안전과 안정이 보장되어야 한다.
- 해외에 거주하는 미국 시민들은 보호되어야 한다.

이 사항들은 우리만의 목적은 아니다. 유엔 안전 보장 이사회도 몇 주에 걸쳐 5번이나 승인(지지)했다. 거의 모든 나라들은 우리와 같은 생각이다. 그리고 많은 나라들은 페르시아 만 안정에 관심이 있다. 이는 사담 후세인의 주장처럼 미국이 이라크를 적대시 하는 것이 아니라 이라크가 세계를 적대시 하는 것이다. . . .

출처: Speech by President George H.W. Bush, 1990

7 이 문서에 의하면 조지 H.W. 부시 대통령이 1990년 페르시아 만 지역에 관하여 우려하는 두 가지 이유는 무엇인가? [2]

(1) _____


Score

(2) _____

Score

지문 8

1990년대와 2003년 미-이라크 전쟁 이전에도, 일부 인사들은 이라크와 사담 후세인의 지속적인 행위에 대해 우려했었다.



출처: Jimmy Margulies, *The Record*, 1998 (개정판)

8 1998년에 그려진 이 만화에 근거해 볼 때 예상치 못한 걸프전의 **한** 결과는 무엇인가? [1]

Score

파트 B 에세이

설명: 서문과 서너 문장으로 된 본론 및 결론을 포함하는 잘 짜인 에세이를 작성 하시오. 에세이에는 적어도 **5개** 문서가 제공하는 증거를 사용하시오. 자신의 의견을 관련 있는 사실, 사례 및 세부사항으로 뒷받침하시오. 그 밖의 외부 정보를 포함시키시오.

역사적 배경:

역사적으로 전쟁의 원인은 다양하다. 이런 전쟁들은 예상된 혹은 예상 밖의 결과들을 야기해 왔다.

과제: 문서들에 포함된 정보와 세계사 지식을 바탕으로, 다음에 대한 에세이를 작성 하시오.

- 전쟁의 경제적, 사회적, **및/또는** 정치적 원인에 대해 논하시오.
- 전쟁의 예상된 결과들 **및** 예상 밖의 결과들에 대해 논하시오.

지침:

에세이의 요구사항:

- 과제의 모든 측면을 발전시킨다.
- 적어도 **5개** 문서에 있는 정보를 포함시킨다.
- 관련있는 외부 정보를 포함시킨다.
- 관련있는 사실, 사례 및 세부 사항으로 주제를 뒷받침한다.
- 단순한 주제의 재진술이 아닌 서론과 결론을 포함시켜, 논리적이고 분명한 계획에 근거하는 문장 구조를 사용한다.

세계 역사 및 지리

화요일 2005년 6월 21일 오전 9:15 부터 오후 12:15 에만 실시

답안지

남

학생.....성별: 여

교사.....

학교명.....

파트 I에 대한 답은 이 답안지에 기입하십시오. 파트 III A에 대한 답은 시험 책자에 기입하십시오. 파트 II 및 III B에 대한 답은 별도의 에세이 책자에 기입하십시오.

- 1..... 26
- 2..... 27
- 3..... 28
- 4..... 29
- 5..... 30
- 6..... 31
- 7..... 32
- 8..... 33
- 9..... 34
- 10..... 35
- 11..... 36
- 12..... 37
- 13..... 38
- 14..... 39
- 15..... 40
- 16..... 41
- 17..... 42
- 18..... 43
- 19..... 44
- 20..... 45
- 21..... 46
- 22..... 47
- 23..... 48
- 24..... 49
- 25..... 50

FOR TEACHER USE ONLY

Part I Score _____

Part III A Score _____

Total Part I and III A Score

Part II Essay Score _____

Part III B Essay Score _____

Total Essay Score

Final Score (obtained from conversion chart)

No.
Right

시험을 완료한 학생은 아래 진술서에 서명해야 합니다.

본인은 시험을 치르기 이전에 문제나 답에 대해 어떠한 불법적 사전 지식이 없었으며 시험 동안 문제를 푸는데 있어서 어떠한 도움도 주고 받은 사실이 없음을 본 시험의 종료와 함께 확인하는 바입니다.

서명

진
짜
제

절
취
선

