

REGENTS HIGH SCHOOL EXAMINATION

세계사 및 지리

2011년 1월 28일, **금요일** — 오전 9시 15분 - 오후 12시 15분까지만 실시

학생 이름 _____

학교명 _____

자신의 이름과 학교명을 인쇄체로 기입하십시오. 그런 다음, 이 책자의 마지막 페이지에 있는 파트 I의 답안지를 여십시오. 점선을 따라서 마지막 페이지를 접은 다음 천천히 주의해서 답안지를 절취하십시오. 그런 다음, 답안지의 윗부분을 기입하십시오. 에세이 책자의 각 페이지 윗부분에 자신의 이름과 학교명을 인쇄체로 기입하십시오.

이 시험은 세 파트로 구성되어 있습니다. 모든 파트의 **모든** 질문에 답하십시오. 검정 혹은 진한 청색 잉크를 사용하여 답하십시오.

파트 I에는 50개의 선다형 문제가 있습니다. 이 문제에 대한 답은 별도의 답안지에 기입하십시오.

파트 II에는 한 개의 주제를 다루는 에세이 문제가 있습니다. 이 문제에 대한 답은 에세이 책자 1페이지부터 기입하십시오.

파트 III는 여러 개의 문서에 기반을 둡니다.

파트 III A에는 그 문서들이 포함되어 있습니다. 각 문서에는 하나 이상의 문제가 따릅니다. 각 문제들의 답은 시험책자 안의 질문 아래에 있는 줄에 기입하십시오. 이 부분의 첫 장에 자신의 이름과 학교명을 반드시 기재하십시오.

파트 III B에는 주어진 문서들을 바탕으로 하는 한 개의 에세이 문제가 있습니다. 이 문제에 대한 답은 에세이 책자 7페이지부터 기입하십시오.

시험을 마친 후, 파트I의 답안지에 인쇄된 진술문에 서명함으로써 이 시험을 치르기 전에 문제나 답에 대한 불법적인 지식이 없었으며 시험을 치르는 동안 어떤 문제에 답하는데 있어서도 도움을 주거나 받지 않았음을 표시하십시오. 이 진술문에 서명하지 않은 학생의 답안지는 인정하지 않습니다.

이 시험 중에는 통신 장비의 사용을 철저히 금합니다. 만일 아주 잠시라도 통신 장비를 사용하는 경우, 시험은 무효화되며 시험 점수를 받을 수 없게 됩니다.

지시가 있을 때까지 이 시험 책자를 열지 마십시오.

파트 I

이 파트의 모든 문제에 답하십시오.

지시사항 (1-50): 각 문제의 문장이나 질문에 가장 적절한 답의 번호를 별도의 답안지에 기입하십시오.

1번 문제는 아래의 지문과 본인의 사회과학 지식을 바탕으로 답하십시오.

유전학자들이 우리의 DNA를 타임 머신으로 사용하여, 선사시대의 유럽인들의 이동을 추적하고 있다...

— Joe Palca, "Tracing Human Migration Through DNA," NPR Weekend Edition Saturday, August 11, 2007

1 이 지문은 현대 과학이 무엇에 사용될 수 있다고 제안하고 있습니까?

- (1) 역사적 분석을 돕는 데
(2) 한 관점의 개발을 보여주는 데
(3) 고대의 의술을 설명하는 데
(4) 미래의 사건을 예측하는 데

2 왜 동남 아시아는 교차로라고 여겨지고 있습니까?

- (1) 이용 가능한 석유가 대량으로 매장되어 있기 때문
(2) 많은 수의 무역로가 교차하기 때문
(3) 단일 문화가 우세하기 때문
(4) 강들이 고속도로의 역할을 하기 때문

3 주로 관습, 신념, 습관을 바탕으로 물품 분배가 결정된 초기 문명 경제 제도는 다음 중 어느 것입니까?

- (1) 혼합 경제 (3) 전통 경제
(2) 자유 시장 (4) 계획 경제

4 신석기 혁명이 흔히 역사의 전환점으로 여겨지는 이유는?

- (1) 도시 거주자들이 불을 조절하는 법을 배웠기 때문
(2) 사회들이 더욱 더 유목화 되었기 때문
(3) 핵가족들이 대가족들로 진화하였기 때문
(4) 강 계곡들에 영구적 정착지들이 개발되었기 때문

5 효행 및 오륜과 가장 관련이 깊은 것은?

- (1) 힌두 교 (3) 만물 숭배 신앙
(2) 도교 (4) 유교

6 다음 중 티그리스 강과 유프라테스 강 사이에 위치한 지역을 나타낸 이름은?

- (1) 희망봉 (3) 메소포타미아
(2) 시나이 반도 (4) 아프리카의 뿔

7 자급 농업의 정의로 가장 적합한 것은?

- (1) 해외 수출용으로 농작물을 공급하는 것
(2) 공산품과 농작물을 물물교환 하는 것
(3) 기근에 대비하여 남은 식량을 저장하는 것
(4) 한 가족이 먹기에 충분할 만큼의 식량만 생산하는 것

8 다음 중 그리스 도시국가 발달에 가장 직접적인 영향을 준 지리적 요인은?

- (1) 사막 (3) 거대한 평야
(2) 산악 지형 (4) 계절풍

9 다음 중 비잔티움 제국의 시작과 가장 밀접한 연관이 있는 것은?

- (1) 러시아 정교회의 출현
(2) 로마 제국의 분열
(3) 성 소피아 성당의 건축
(4) 콘스탄티노플의 멸망

10 • 바그다드에 지혜의 집 창조
• 대수학의 개발
• 예술로서의 서예 사용

이 업적들과 가장 밀접한 연관이 있는 황금기는?

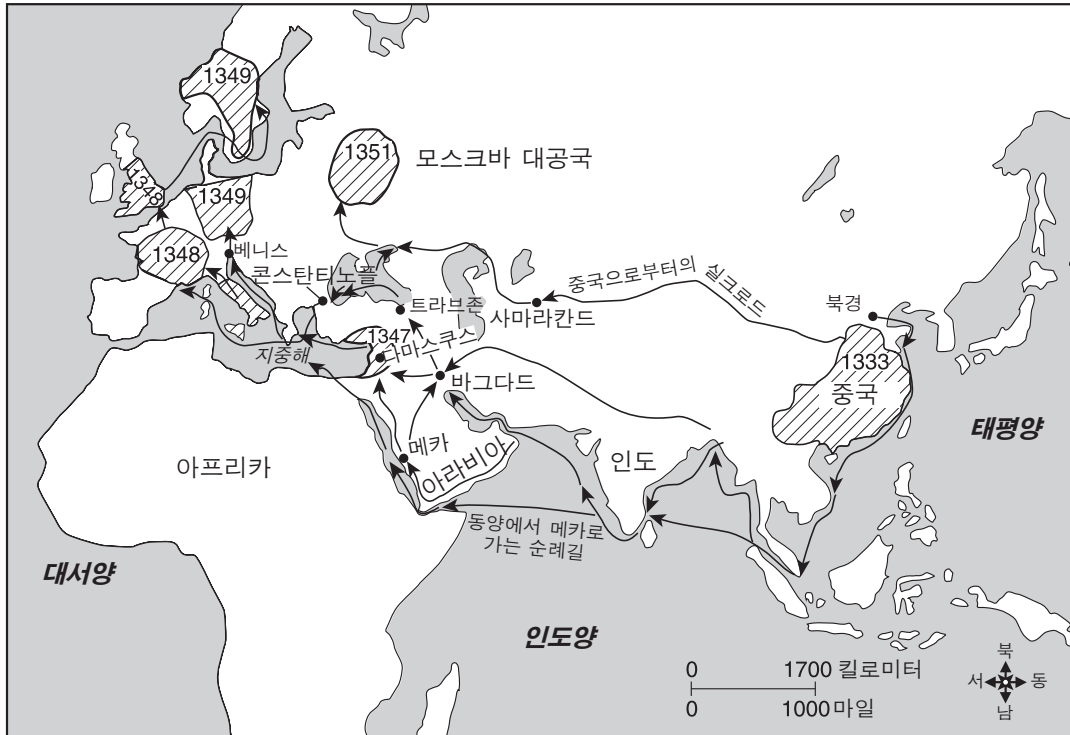
- (1) 이슬람 제국 시대 (3) 당나라 시대
(2) 굽타 왕조 시대 (4) 송가이 제국 시대

11 마르코 폴로와 이븐 바투타를 유명하게 한 그들의 업적은?

- (1) 서반구를 탐험함
(2) 종교 운동을 주도함
(3) 아프리카와 일본 간의 무역을 시작함
(4) 대륙들 및 사람들에 대한 방대한 정보를 제공함

12번 문제는 아래의 그림과 본인의 사회과학 지식을 바탕으로 답하십시오.

1333년-1351년 유럽과 아시아에서의 흑사병 최초 발생



기호 표시

중국으로부터 흑사병이 전파된 통상로	전염병이 발생한 지역들과 최초 발생 날짜
---------------------	------------------------

출처 : Decameron Web, Brown University (개정판)

12 지도상의 정보는 흑사병이 주로 누구의 활동으로 전파되었다고 제시하고 있습니까?

- (1) 침략 군대들
- (2) 유목민들
- (3) 상인들
- (4) 탐험가들

13 • 스테인드 글라스는 사람들이 성경 이야기를 이해하는 데 도움을 준다.
• 더 높고 거대한 성당들은 신의 위대함과 영광을 강조한다.

이 문장들은 다음 중 어느 것의 요소를 잘 묘사하고 있습니까?

- (1) 사제
- (2) 중국의 탑들
- (3) 고딕 건축
- (4) 그리스의 사상들

14 다음 중 사실이라기 보다는 하나의 의견이라고 할 수 있는 것은?

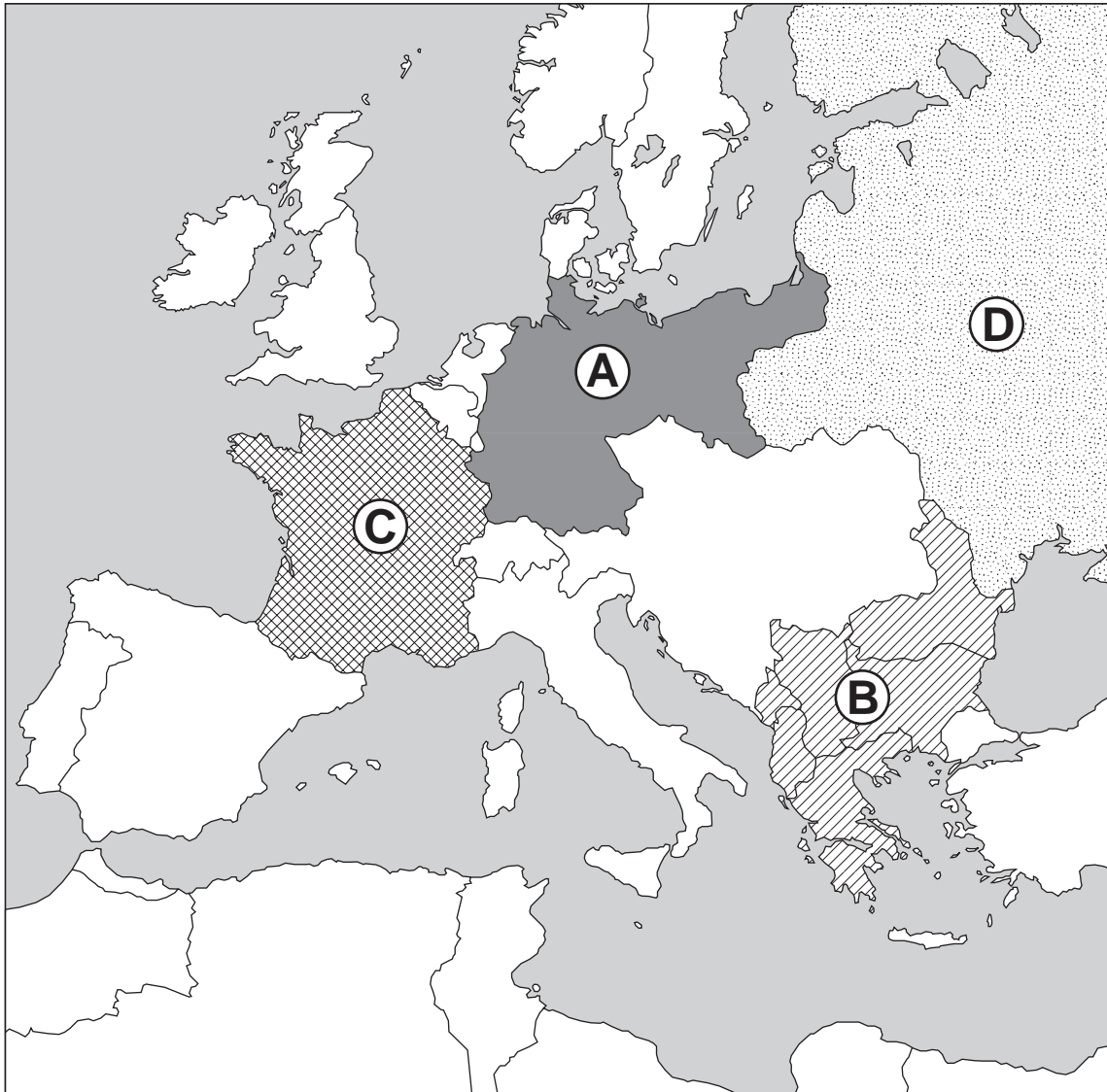
- (1) 만사 무사는 메카로 성지 순례를 했다.
- (2) 말리는 만사 무사의 영향이 없었더라면 번성했었을 것이다.
- (3) 말리의 경제는 금과 소금 무역을 바탕으로 했다.
- (4) 팀북투는 이슬람교 교육의 중심지가 되었다.

- 15 아프리카의 나일 강 계곡과 사바나 땅의 유사점 한 가지는?
 (1) 사람들과 물품의 이동에 주요 장애가 됐다.
 (2) 정착에 필요한 자원들을 제공했다.
 (3) 대륙의 서부 지역에 위치하고 있다.
 (4) 이 지역들에 살고 있는 사람들에게 별로 영향을 주지 않았다.
- 16 1600년대에 대부분의 외국인들에 대해 일본의 항구들을 폐쇄함으로써 도쿠가와 막부들이 시도했던 것은?
 (1) 일본을 유럽의 영향으로부터 보호
 (2) 일본의 농산물의 생산 증가
 (3) 동남 아시아에 대한 일본의 영향력 제거
 (4) 전통적인 일본 문화의 파괴
- 17 1600년대 중반까지 오스만 제국이 강력한 무역 제국이었던 이유는?
 (1) 동부 지중해로의 출입을 지배했기 때문
 (2) 세계에서 가장 강력한 해군을 갖고 있었기 때문
 (3) 서아프리카의 대상을 장악하고 있었기 때문
 (4) 아시아의 대부분을 정복했기 때문
- 18 아즈텍 문명과 잉카 문명의 유사점 한 가지는?
 (1) 스페인 정복자들을 패배시킴
 (2) 고도의 건축 기술을 개발함
 (3) 강력한 중앙 정부가 부족했음
 (4) 주로 강 계곡에 정착했음
- 19 라틴 아메리카의 엔코미엔다(encomienda) 제도의 영향 한 가지는?
 (1) 동업 조합의 사용을 제거했다.
 (2) 고립주의를 권장했다.
 (3) 토착 민족들을 착취했다.
 (4) 스페인의 영향을 감소했다.
- 20 대헌장(마그나 카르타), 권리 청원 및 영국 권리 장전의 결과로 영국 정부는 어떤 한 정치 체제를 개발하게 되었습니까?
 (1) 지도자들이 국민에 대한 책임이 있는 체제
 (2) 종교 권위자들이 입법 절차를 통제하는 체제
 (3) 군주의 권력이 신으로부터 부여되는 체제
 (4) 개인에게 배심원 재판을 허락하지 않는 체제

- 21 다음 중 탐험의 시대의 결과로 발생한 인구 변화를 정확하게 반영한 서술은?
 (1) 대부분의 라틴 아메리카의 주민들이 문화적으로 다양해졌다.
 (2) 아메리카 대륙으로부터 전파된 질병들에 노출되어서 유럽 인구의 삼분의 일이 사망했다.
 (3) 아메리카 대륙으로부터 온 물품의 소개가 아시아 인구의 감소를 초래했다.
 (4) 미국 원주민들이 아프리카로 이주함으로써 아프리카 인구의 증가를 초래했다.
- 22 계몽주의 사상가들은 다음 중 어떤 것을 통한 사회 개선을 권장했습니까?
 (1) 교회의 가르침
 (2) 이성의 사용
 (3) 절대주의의 개발
 (4) 엄격한 사회 계층의 수립
- 23 **“화난 군중이 바스티유 감옥을 습격하다”**
“로베스피에르의 처형이 공포 정치의 종말을 가져오다”
“나폴레옹이 권력을 쥐다”
 이 표제들은 어느 나라의 혁명을 논하는 것입니까?
 (1) 스페인 (3) 프랑스
 (2) 오스트리아 (4) 러시아
- 24 “피와 철”이란 슬로건 및 독일 제국과 가장 밀접한 연관이 있는 인물은?
 (1) 메테르니히 왕자 (3) 카밀로 카보우르
 (2) 시몬 볼리바르 (4) 오토 폰 비스마르크
- 25 다음 중 산업 혁명 당시 영국에서 운송업 및 제조업을 변화시키는 데 사용된 두 가지의 천연 자원을 짝 지은 것은?
 (1) 금과 소금
 (2) 다이아몬드와 석유
 (3) 구리와 주석
 (4) 석탄과 철광
- 26 제1차 청·일 전쟁 및 한일 합병에 일본이 참여하게 된 이유 한 가지는?
 (1) 제국주의적 목적의 추구
 (2) 외국 침범에 대한 반응
 (3) 5개년 계획의 설치
 (4) 부동 항구의 필요

27번 문제는 아래의 지도와 본인의 사회과학 지식을 바탕으로 답하십시오.

1914년 8월, 제1차 세계 대전 발발 당시 유럽



출처 : Make History web page, Bedford/St. Martin's (개정판)

27 제1차 세계 대전의 발발 이전 유럽의 "화약고"로 알려져 있던 유럽의 지역은?

- (1) A
- (2) B
- (3) C
- (4) D

28 인도의 세포이 반란과 중국의 의화단 운동의 유사점 한 가지는?

- (1) 종교 개혁 운동이었다.
- (2) 아편 거래에 대한 반응이었다.
- (3) 외국의 간섭을 끝내려는 시도였다.
- (4) 절대 군주에 대항한 성공적 반란이었다.

29 다음 중 1923년부터 1938년 사이에 터키에 현대화 정책을 설립한 지도자는?

- (1) 레자 팔라비 왕
- (2) 자와할랄 네루
- (3) 케말 아타튀르크
- (4) 호 치민

30 제1차 세계 대전과 제2차 세계 대전 사이에 독일 내 파시즘의 발생과 종종 관련지어지는 것은?

- (1) 민족적 다양성의 조장
- (2) 비폭력주의의 호소
- (3) 강력한 의회제도 설립
- (4) 전세계의 경제 불황의 영향

31 일본의 만주 점령(1931)과 독일의 체코슬로바키아 합병(1939)이 가진 유사점 한 가지는?

- (1) 이 국가들의 공격 확장에 종말을 표시했다.
- (2) 국제 연맹의 약점을 입증했다.
- (3) 세계에 힘의 균형을 재건했다.
- (4) 대장정을 초래했다.

32 제2차 세계 대전 중, 1944년 D-Day (진격 개시일) 침공의 중요성은?

- (1) 독일이 여러 전선에서 싸우도록 만들었다.
- (2) 독일이 자국 군대를 러시아 전선으로 이동하도록 했다.
- (3) 독일의 폭격을 종결시켰다.
- (4) 독일 군사력의 우위를 입증했다.

33 사람들은 외국 세력의 좋은 정부에 굴종하기 보다는 오히려 나쁜 정부라도 자기 나라의 정부를 선호한다.

이 문장은 다음 중 어느 개념의 특징을 서술하고 있습니까?

- (1) 국가주의
- (2) 공산주의
- (3) 사회주의
- (4) 군국주의

34 국제 연합(UN)의 다음 기능들 중 집단 안전 보장의 개념에 근거한 것은?

- (1) 의료 서비스의 제공
- (2) 세계적인 평화 유지의 조정
- (3) 교육 프로그램들의 감시
- (4) 농업 연구에 대한 보조

35번 문제는 아래의 만화와 본인의 사회과학 지식을 바탕으로 답하십시오.



출처: Henry Brun, *The World Today: Current Problems and Their Origins*, 2005

35 이 만화에서, 북대서양 조약 기구(NATO)에 가입하기를 추구하는 국가들은 다음 중 어느 지역을 대표합니까?

- (1) 라틴 아메리카
- (2) 중앙 아프리카
- (3) 동남아시아
- (4) 동유럽

36 다음 중 웨스트 뱅크, 골란 고원 및 시나이 반도 내 충돌과 가장 밀접한 연관이 있는 지역은?

- (1) 동아프리카
- (2) 중동
- (3) 서유럽
- (4) 중앙아시아

37 1990년대, 자국 내에서 벌어지고 있었던 종족 학살로 인해 전세계 뉴스거리가 되었던 두 나라는?

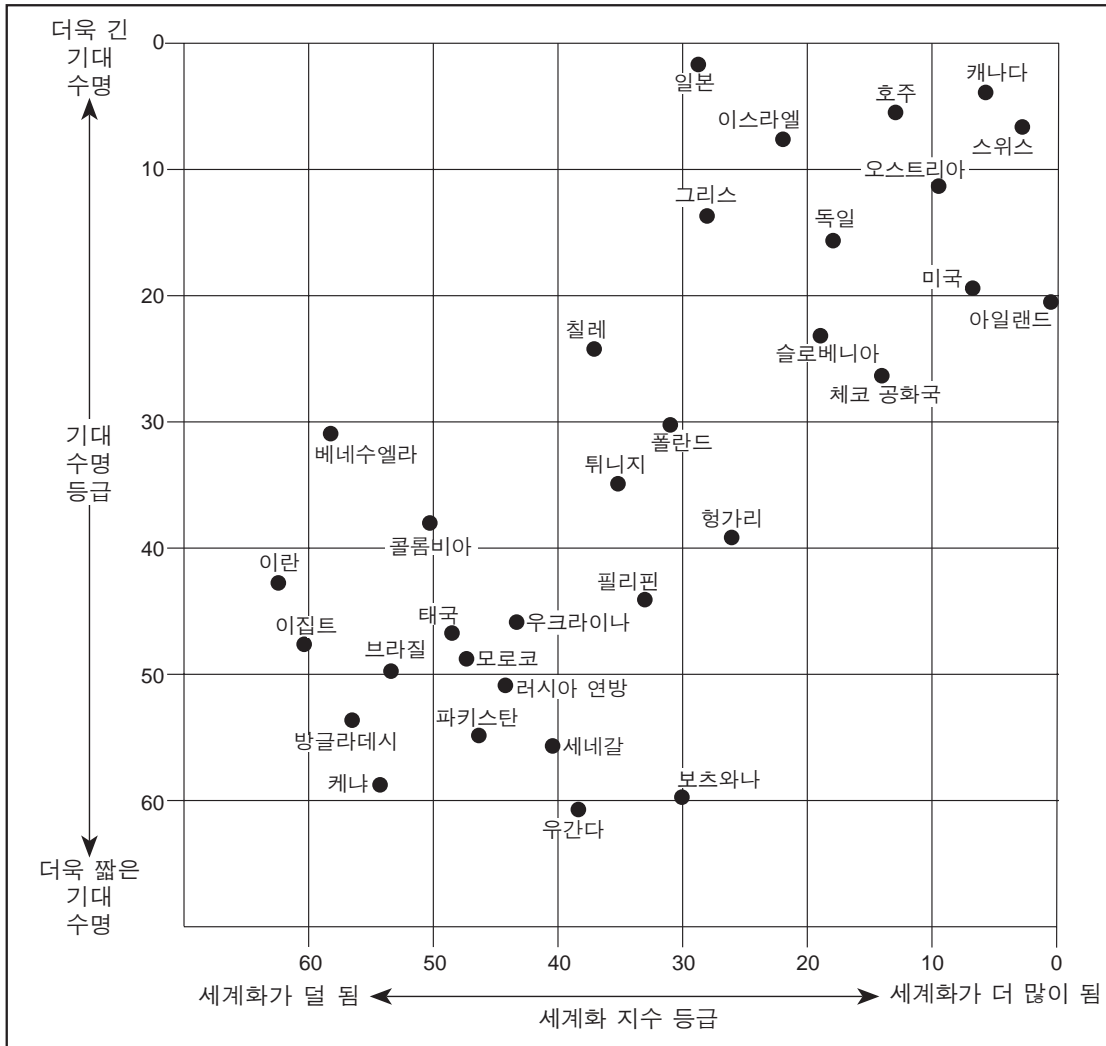
- (1) 스위스와 폴란드
- (2) 베트남과 싱가포르
- (3) 수단과 르완다
- (4) 코스타리카와 자메이카

38 다음 중 어느 지도자의 정책이 글라스노스트와 페레스트로이카를 포함했습니까?

- (1) 피델 카스트로
- (2) 니키타 흐루시초프
- (3) 미하일 고르바초프
- (4) 덩 샤오핑

39번과 40번의 문제는 아래의 도표와 본인의 사회과학 지식을 바탕으로 답하십시오.

세계화와 기대 수명



출처: Roger A. Arnold, *Economics: New Ways of Thinking*, EMC Publishing, 2007 (개정판)

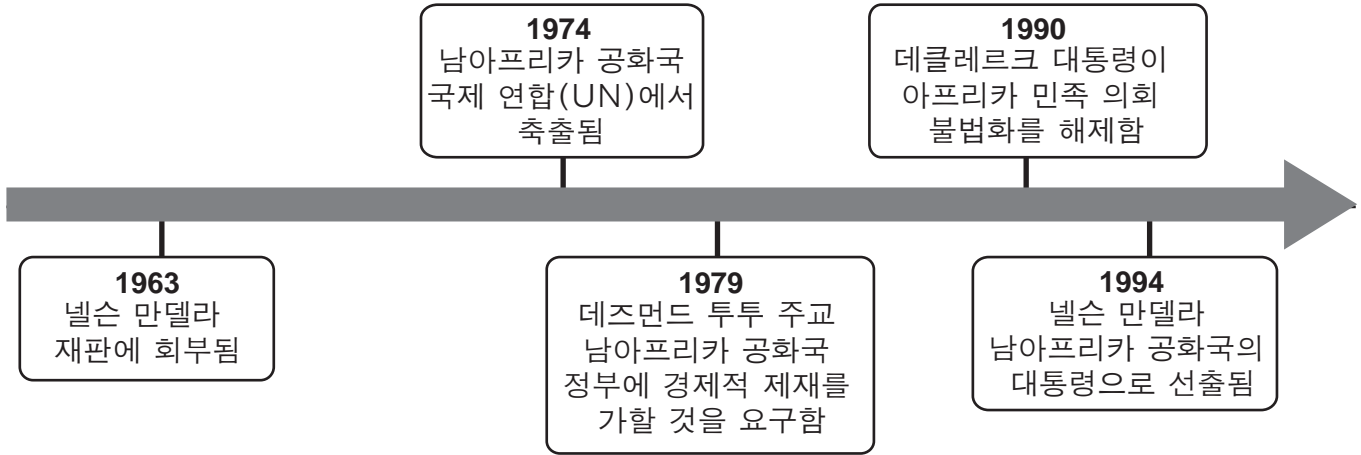
39 이 도표의 정보에 의하면, 다음 중 어느 나라의 기대 수명이 가장 높습니까?

- (1) 아일랜드
- (2) 일본
- (3) 베네수엘라
- (4) 그리스

40 다음 중 이 도표의 정보에 근거한 가장 정확한 서술은?

- (1) 폴란드는 방글라데시보다 세계화가 덜 되었다.
- (2) 스위스는 태국보다 더 세계화가 되었다.
- (3) 브라질인들은 캐나다인들보다 더 장수하는 경향이 있다.
- (4) 파키스탄인들은 우간다인들보다 수명이 더 짧은 경향이 있다.

41번 문제는 아래의 연대표와 본인의 사회과학 지식을 바탕으로 답하십시오.



41 다음 중 이 연대표에 보여진 사건들과 가장 밀접한 연관이 있는 정책은?

- (1) 비동맹 정책
- (2) 데탕트(긴장 완화) 정책
- (3) 봉쇄 정책
- (4) 인종 차별 정책

42 유럽 연합(EU)의 21세기 초반 목표 하나는?

- (1) 그들의 군사 동맹으로부터 탈퇴하는 것
- (2) 그들의 경제 체제를 좀 더 통합하는 것
- (3) 원자력 완충 지대를 설립하는 것
- (4) 대체 연료의 생산을 제한시키는 것

43 “중국산 오염된 음식물 미국에서 판매되다”
 “컴퓨터 바이러스로 전 세계의 수백의 기업들 마비되다”
 “다국적 기업들의 공장들이 이전하다”

이 표제들과 직접적인 연관이 있는 것은?

- (1) 세계의 기아
- (2) 인구 과잉
- (3) 지구 온난화
- (4) 경제적 상호 의존

44 기사, 사무라이, 군벌이 가진 유사점 한 가지는?

- (1) 전통적인 종교 지도자들이었다.
- (2) 중국 제국의 군사 기지들을 점령하였다.
- (3) 스페인으로부터 무어인들을 추방시켰다.
- (4) 장원 제도에서 권력있는 위치를 차지했다.

45 러시아의 강들은 러시아의 역사에 어떤 영향을 주었습니까?

- (1) 비잔티움 제국과 러시아 간에 무역망을 공급해 주었다.
- (2) 러·일 전쟁에서 일본이 러시아를 패배시킬 수 있도록 했다.
- (3) 나폴레옹이 러시아를 침입하는 데 사용되었다.
- (4) 몽골족에게 러시아를 정복할 수 있는 경로를 주었다.

46 아래의 부분적 개요들의 제목으로 가장 적합한 것은?

I. _____

- A. 설탕, 담배, 목화는 유럽으로
- B. 옷감, 럼주, 공산품은 아프리카로
- C. 노예가 된 아프리카인들은 아메리카 대륙으로

- (1) 한자 동맹 내의 무역
- (2) 삼각 무역의 요소들
- (3) 산업화의 요인들
- (4) 빈 회의의 결과들

- 47 • 바스쿠 다 카마는 유럽에서 인도까지의 모든 항로를 하나 발견하였다.
- 페르디난드 마젤란의 선원들은 배로 지구를 일주하였다.
 - 아이작 뉴턴은 중력의 힘을 정의하였다.

이 사건들과 가장 직접적인 관련이 있는 것은?

- (1) 자연 환경들에 대한 이해의 수정
- (2) 중상주의의 잇점에 대한 의문
- (3) 다른 종교들 간의 의심 증가
- (4) 새로운 제조 기술의 개발

- 48 프랑스의 루이 16세 왕과 러시아 황제 니콜라스 2세의 유사점 한 가지는?

- (1) 둘 다 혁명주의자들에 의해 처형되었다.
- (2) 둘 다 위대한 군사적 지도자로 알려져 있었다.
- (3) 둘 다 종교적 개혁을 옹호했다.
- (4) 둘 다 농노의 해방을 지지했다.

- 49 포르피리오 디아스, 프란시스코 “판초” 비야, 및 에밀리아노 사파타는 다음 중 어느 사건에 대한 그들의 투쟁으로 가장 잘 알려졌습니까?

- (1) 아이티의 독립 운동
- (2) 멕시코 혁명
- (3) 니카라과 전쟁
- (4) 쿠바 혁명

- 50 다음 중 가장 밀접한 관련이 있는 사건과 지역으로 짝 지어진 것은?

- (1) 중앙 아프리카 — 교황 우르바노 2세의 십자군 소집
- (2) 동아시아 — 벨푸어 선언의 공포
- (3) 남아메리카 — 뮌헨 회담
- (4) 동유럽 — 베를린 공수작전

에세이 문제의 답은 별도의 에세이 책자에 쓰십시오.

파트 II의 답을 작성할 때, 다음의 일반적 정의를 염두에 두십시오.

논하십시오란 “사실과 추론 및 논증을 이용하여 어떤 것에 대하여 관찰하고, 어느 정도 상세한 정보를 포함하여 진술한다”는 의미입니다.

파트 II

주제형 에세이 문제

지시사항: 서론, 아래 과제를 다루는 여러 개의 문단 및 결론을 포함하는 잘 구성된 에세이를 작성하십시오.

주제: 지리

지리적인 요소들은 세계의 문명들, 제국들, 국가들 및 지역들의 역사적 또한 문화적 발달에 영향을 미쳐 왔습니다.

과제:

세 가지의 다른 지리적인 요소들을 선택한 후 **각** 요소에 대하여

- 그 지리적 요소가 한 특정한 문명, 제국, 국가 및 지역의 역사적인 발달이나 문화적인 발달 둘 중 **하나에 또는 둘 모두에** 어떠한 영향을 끼쳤는지 논하십시오.

세계사 공부를 통해 배운 어떤 지리적 요소를 사용해도 됩니다. 고려할 수 있는 지리적인 요소들을 몇 가지 제안한다면 다음과 같습니다: 강, 바다, 대양, 열대 우림, 평야, 산, 사막, 섬, 및 계절풍.

선택할 수 있는 지리적 요소들은 위에 제안된 요소들에 국한되지 않습니다.

단, 미국의 지리적 요소들은 선택 대상에서 제외됩니다.

지침사항:

에세이 작성 시, 반드시

- 과제의 모든 측면을 전개시키십시오.
- 관련 사실, 사례 및 자세한 내용으로 주제를 뒷받침하십시오.
- 답안을 논리적이고 명확하게 구성하고 주제를 단순히 반복하는 것 이상의 서론과 본론을 포함하십시오.

파트 III

문서에 기초한 문제

이 문제는 주어진 문서들을 바탕으로 합니다. 이 문제는 역사적 문서를 처리하는 능력을 시험하기 위한 의도로 고안되었습니다. 문서들의 일부 내용은 이 문제의 목적에 맞도록 편집되었습니다. 문서들을 분석할 때 각 문서의 출처와 문서에 나타난 관점을 참작하십시오.

역사적 배경:

역사 전반에 걸쳐, 사상들은 다양한 사회들 및 지역들을 형성시키고 영향을 주어 왔습니다. **태양 중심설, 자연권, 마르크스주의**는 이런 사상들에 속합니다.

과제: 문서들이 제공하는 정보와 본인의 세계사 지식을 활용하여 파트 A의 각 문서 아래에 있는 문제들에 답하십시오. 이 문제들에 대한 답은 파트 B의 에세이를 작성하는데 도움이 될 것입니다. 참고로, 아래는 파트 B에서 작성하게 될 에세이 문제입니다.

위의 역사적 배경에 언급된 사상들 중 **두 가지**의 사상을 선택한 다음, **각** 사상에 대하여 아래와 같이 하십시오.

- 그 사상에 대하여 설명하십시오.
- 그 사상이 사회들 및 지역들에 어떠한 영향을 미쳤는지에 대하여 논하십시오.

파트 III의 답을 작성할 때 다음의 일반적 정의를 참고하십시오.

- (a) **설명하십시오**란 “이해하기 쉽게 혹은 명백하게 하고; 이유 혹은 원인을 제공하며; 논리적인 사고 전개 혹은 관계를 보여준다”는 의미입니다.
- (b) **논하십시오**란 “사실과 추론 및 논증을 이용하여 어떤 것에 대하여 관찰하고; 어느 정도 상세한 정보를 포함하여 진술한다”는 의미입니다.

파트 A
단답형 문제

지시사항: 문서들을 분석하고, 각 문서 아래에 있는 단답형 문제의 답을 주어진 공간에 쓰십시오.

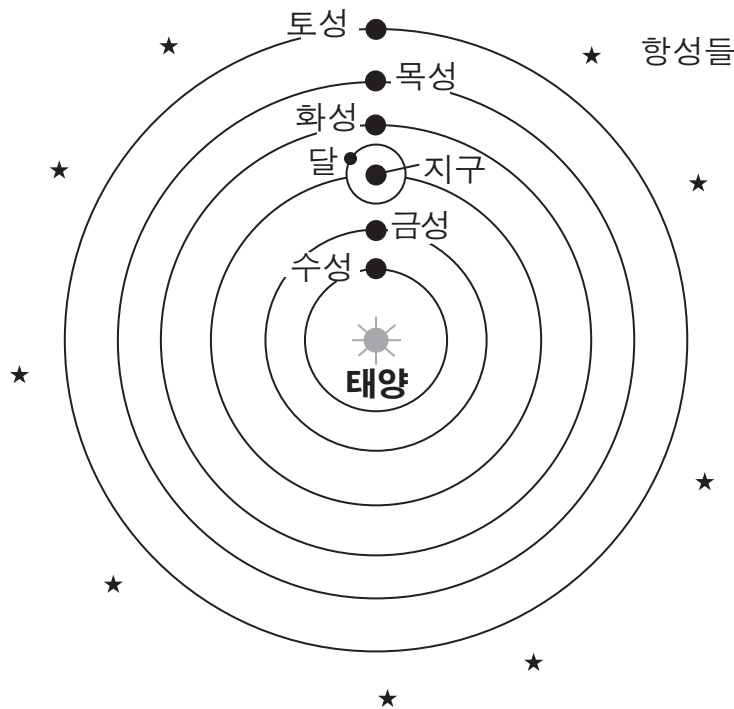
문서 1

코페르니쿠스의 모델: 태양 중심의 태양계

아리스토텔레스와 프톨레마이오스의 지구 중심의 우주관이 서양의 사고방식을 거의 2000년 동안 장악(지배)했었다. 그 후 16세기에 폴란드의 천문학자인 니콜라이 코페르니쿠스(1473-1543)에 의하여 새로운 아이디어가 제안되었다.

태양 중심 체계

(코페르니쿠스가 임종 상태에 있을 때 출판되었던) 천구의 회전에 관하여 라는 책에서 코페르니쿠스는 지구가 아닌 태양이 태양계의 중심이라고 제안하였다. 그러한 구조를 태양 중심 체계라고 한다. 코페르니쿠스가 알고 있던 이 새로운 체계의 행성들의 순서는 다음 그림에 표시되어 있는데, 우리가 알고 있는 현대의 그 행성들의 순서이다....



출처: The Copernican Model: A Sun-Centered Solar System, Department of Physics & Astronomy, University of Tennessee

1 이 문서에 의하면, 코페르니쿠스의 태양 중심설의 이론은 프톨레마이오스의 우주관과 어떻게
다릅니까? [1]

Score

문서 2

다음은 1615년 갈릴레오 갈릴레이가 과학에 대한 자신의 접근법을 변호하며 대 공작 부인 크리스티나에게 쓴 편지에서 발췌한 글입니다.

대 공작 부인에게서 잘 아시듯이 몇 년 전 저는 우리 세대 전에는 보지 못했던 많은 것들을 하늘에서 발견했습니다. 이 새로운 발견물의 진기함, 또한 그 발견이 당시 학계 철학자들이 가지고 있었던 통상 물리학적 개념과 상반한다는 사실은 적지 않은 수의 교수들로 하여금 저에게 반대하고 나서도록 하였습니다. 마치 제가 자연을 깨뜨리고 과학을 뒤엎기 위하여 제 손으로 직접 하늘에 이것들을 갖다 놓은 것처럼 말입니다. 그들은 알려진 진실들의 증진은 예술에 대한 연구, 설립 및 성장을 축소(감소)하거나 파괴하는게 아니라 오히려 촉진시킨다는 사실을 잊은 것 같았습니다.

진실보다는 자신이 갖고 있는 의견에 대하여 더 큰 애착심을 보이며, 그들은 그들 스스로가 찾고자 하는 관심만 있었다라면 직접 입증할 수 있었던 그 새로운 것들을 부인하며 틀렸다고 주장하고 있습니다. 자기들이 옳다고 주장하기 위하여 그들은 각양각색의 비난을 퍼붓고 부질없는 논쟁으로 가득찬 수많은 글들을 출판했으며, 또 그들이 제대로 이해하지도 못하고 그들 목적에도 맞지도 않는 성경 구절들을 그 글들에 뒤섞는 중대한 실수를 범했습니다....

출처: Galileo Galilei, "Letter to the Grand Duchess Christina (1615)"

2a 갈릴레오에 따르면, 진실에 대한 추구가 왜 중요합니까? [1]

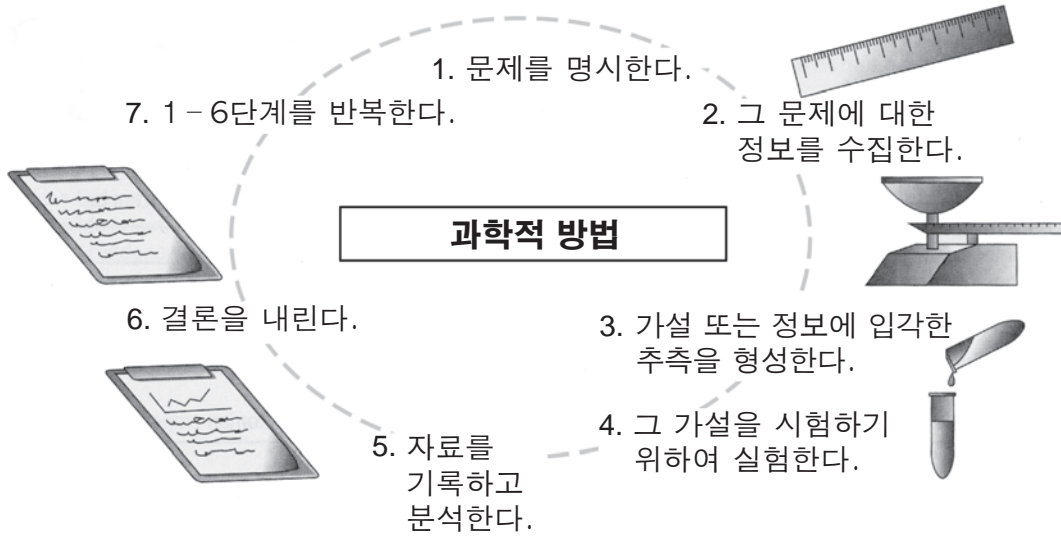
Score

b 갈릴레오의 반대자들은 자신들의 의견을 뒷받침하기 위하여 어떤 문서를 사용했습니까? [1]

Score

문서 3

... 처음에는 코페르니쿠스와 갈릴레오의 발견이 많은 유럽인들을 분노케 하였다. 하지만 시간이 지나면서 과학에 대한 새로운 방식의 사고가 떠올랐다. 과학자들은 자기들 주위의 세상을 관찰하기 시작했고 또한 발생하는 일의 원인들에 대한 견해들을 개발하기 시작했다. 그 견해들을 시험해보기 위하여 실험들을 했다. 이 새로운 방식의 사고는 과학적 방법이라고 불리웠다....

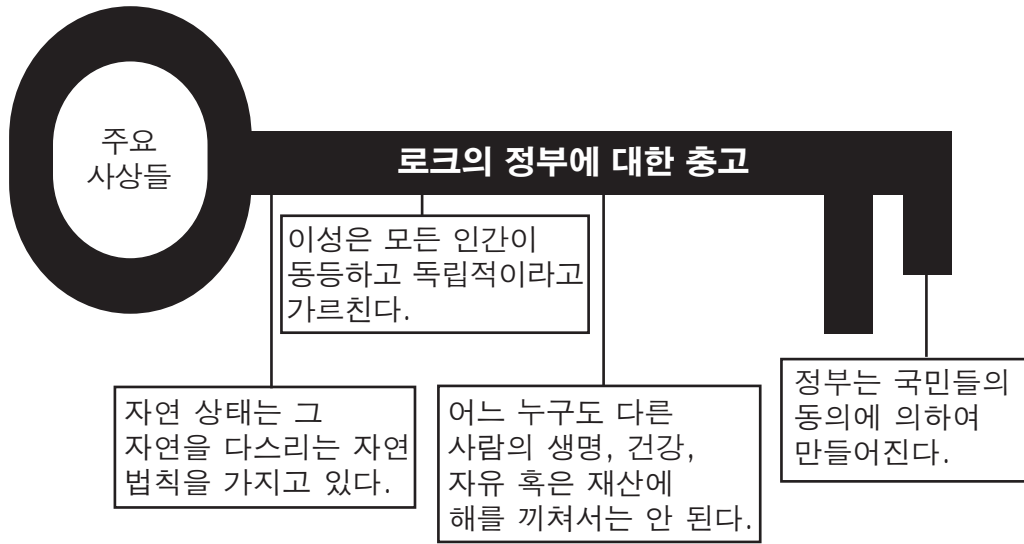


출처: *Guide to the Essentials of World History*, Prentice Hall, 1999 (개정판)

3 위의 *Guide to the Essentials of World History*(세계사의 주요점 안내서)의 발췌글과 그림에 근거하면, 코페르니쿠스와 갈릴레오 및 다른 사람들이 과학자들의 연구 방법에 미친 영향 **한 가지**는 무엇입니까? [1]

Score

문서 4



4 이 도표에서 보여주는 정보를 바탕으로, 존 로크가 믿었던 모든 인간이 갖고 있는 **두 가지** 특정 권리들을 서술하십시오. [2]

(1) _____

Score

(2) _____

Score

문서 5a

인간과 시민의 권리 선언 — 1789

1789년 8월 26일 프랑스 의회에 의하여 승인됨

조항:

1. 인간은 자유롭게 태어나고 자유롭게 살며 평등할 권리가 있다. 사회적 차별은 공공의 이익이 될 때에만 둘 수 있다.
2. 모든 정치적 결합의 목적은 그 무엇도 침해할 수 없는(빼앗을 수 없는) 인간의 자연권을 보전하는 데 있다. 그 권리는 자유, 재산, 안전 및 압제에 대한 저항이다....
4. 자유권은 남을 해치지 않는 한 모든 것을 할 수 있는 자유로움이다. 그러므로 같은 사회에 속한 다른 사람들도 같은 권리들을 즐길 수 있도록 보장하는 것 외에는 각 사람의 자연권 행사에는 제한이 없다. 이러한 제한은 오직 법에 의해서만 결정될 수 있다....

출처: The Avalon Project at Yale Law School (개정판)

문서 5b

국제 연합(UN)의 세계 인권 선언은 국제 연합 총회에 의하여 1948년 12월 10일에 채택되었습니다.

세계 인권 선언

제1조: 인간은 자유롭게 태어났으며 존엄성과 권리에 있어 동등하다. 인간은 타고난 이성과 양심을 갖고 있고 서로에게 형제애의 정신을 가지고 대하여야 한다....

제3조: 인간은 개인의 생존, 자유, 안전보장에 대한 권리를 가지고 있다....

제7조: 인간은 법 앞에서 동등하며 아무 차별 없이 동일한 법의 보호를 받을 권리가 있다. 모든 사람은 이 선언문을 위반하는 어떤 차별 및 그런 차별을 향한 어떤 선동으로부터 동일한 보호를 받을 권리가 있다....

출처: United Nations

5 인간과 시민의 권리 선언과 국제 연합(UN)의 세계 인권 선언이 갖고 있는 공통적인 생각 **두 가지**를 서술하십시오. [2]

(1) _____

Score

(2) _____

Score

문서 6

1998년 10월 16일 런던에서 아우구스토 피노체트 장군이 체포되었습니다. 칠레의 전 지도자로서 인권법들을 위반한 범죄로 기소되었습니다. 피노체트 장군은 이런 범죄들에 대한 재판을 받기 위하여 스페인으로 넘겨졌습니다.

피노체트 사건 — 탄압자들과 희생자들 모두에게 올리는 주의 경보

...1996년, 아르헨티나와 칠레의 군사 억압의 희생자들을 대표하는 변호사들이 자국에서는 추진할 수 없었던 피노체트 장군을 포함한 아르헨티나와 칠레의 전 군사 지도자들에 대한 형사 소송을 스페인에서 제기했다. 그 범죄들의 대부분이 아르헨티나와 칠레에서 범해졌음에도 불구하고 인권 침해의 잔악한 행위에 대한 “보편 관할권”의 원칙을 적용하여 스페인의 법정은 이 재판들이 스페인에서 진행되도록 허용했다. 이 보편 관할권은 비록 드물게 적용되지만 스페인 법과 국제법에 견고하게 간직되어 있다....

인권 감시 공안회(Human Rights Watch)는 피노체트의 체포를 각 처에 있는 모든 탄압자들에게 주는 “주의 경보”라고 묘사하였다. 하지만 이 사건의 중요한 영향 한 가지는 다른 희생자들에게 그들의 고문자들을 외국에서 법적으로 처벌할 수 있다는 희망을 준 것이다. 실제로, 2000년 1월에 인권 감시 공안회(Human Rights Watch)는 차드인 희생자들로 하여금 망명해버린 차드의 독재자 히센 하브레를 세네갈에서 형사 처벌할 수 있도록 도와주었다. 그는 현재 고문 혐의로 기소되어 재판을 앞두고 있다....

출처: “The Pinochet Precedent: How Victims Can Pursue Human Rights Criminals Abroad,”
Human Rights Watch, March 2000 (개정판)

- 6 이 문서에 따르면, 인권이 침해 당했을 때 희생자들이 정의를 구하기 위해 취할 수 있는 방법 **한 가지**는 무엇입니까? [1]

Score

문서 7

공산당 선언(Manifesto of the Communist Party), 1848년

II. 프롤레타리아와 공산주의자

...공산주의자들의 당면한 목표는 모든 다른 프롤레타리아 당들의 목표와 일치한다. 즉, 프롤레타리아 계급의 형성, 부르주아 지상주의의 타도, 프롤레타리아의 정치적 권력 획득이 그 목표이다....

공산주의의 현저한 특징은 일반적 재산의 폐지가 아니고, 부르주아 재산의 폐지이다. 그러나 현대 부르주아의 사유 재산은 계급 투쟁 및 소수에 의한 다수의 착취에 근거하여 제품을 생산하고 유통하는 제도의 최종적이고 가장 완전한 표현이다....

출처: Marx and Engels, *Manifesto of the Communist Party*, International Publishers

7 마르크스와 엥겔스(Marx and Engels)에 따르면, 마르크스식 공산주의의 특징을 이루는 **두 가지**의 사상은 무엇입니까? [2]

(1) _____

Score

(2) _____

Score

새로운 사회주의 정부의 선언, 1917년 11월

동지들, 볼셰비키 당원들이 필요성을 늘 말해오던 노동자들의 혁명과 농부들의 혁명이 성취되었습니다.

이 노동자들의 혁명과 농부들의 혁명의 중요성은 무엇입니까? 무엇보다도 그것의 중요성은 우리가 우리들만의 권력의 기관 소비에트 정부를 가질 것이라는 것입니다. 거기서 부르주아가 차지할 수 있는 몫은 하나도 없을 것입니다. 억압 당했던 대중들 스스로가 권력을 창조할 것입니다. 구정부 체제는 기초까지 산산이 부서지고 새로운 행정 체제가 소비에트 기관들의 형상으로 설립될 것입니다.

이제부터는, 러시아 역사의 새로운 국면이 시작되고, 또 이 세 번째 러시아 혁명은 결국 사회주의의 승리로 이끌어 가야만 합니다....

러시아 내 소작농의 아주 큰 집단이 말하기를, 그들은 자본주의자들과 충분히 놀만큼 놀았고 이제는 노동자들과 함께 행진하겠다고 했습니다. 토지 소유권을 폐쇄하는 단 하나의 법령이 우리들로 하여금 농부들의 신뢰를 얻을 수 있게 할 것입니다. 농부들은 소작농의 구원은 오직 노동자들과의 연합에 달려있다는 것을 이해할 것입니다. 우리는 생산에 대한 참된 노동자들의 통제를 설립할 것입니다....

우리는 러시아에 프롤레타리아 사회주의 정부를 건설하는 작업에 착수해야 합니다....

출처: V. I. Lenin, *Collected Works*, Volume 26, Progress Publishers

8 V. I. 레닌(V. I. Lenin)에 따르면, 볼셰비키 혁명의 한 가지 목적은 무엇입니까? [1]

Score

문서 9

... 중국의 공산주의자들은 그들의 소련 동지들과는 다르게 기초를 소작농들과 함께 시작하였다. 그리고 그 새로운 정부는 사회 개조의 첫 번째 시도를 농촌에서부터 시작했다.

1950년 6월 30일, 중국 정부는 한 농토를 그 농토에서 실제로 일하는 사람들에게 돌려주도록 고안된 농지(농업) 개혁 법을 통과시켰다. 가난한 농부들과 중산층 농부들에게 유리하도록 토지를 재분배하고, 협회들 또는 상호 부조 단체들, 집단 농장의 전신들을 구성하기 위하여 팀들이 나라 곳곳에 파견되었다....

출처: Associated Press, "China: From the Long March to Tiananmen Square," Henry Holt and Company

- 9 이 연합 통신사(Associated Press)의 발췌글에 따르면, 중국 공산주의자들이 그들의 사회를 개조하기 위하여 시도한 **한 가지** 방법은 무엇입니까? [1]

Score

파트 B

에세이 문제

지시사항: 서론, 아래의 과제를 다루는 여러 개의 문단 및 결론을 포함하는 잘 구성된 에세이를 작성하십시오. **최소한 네 개의** 문서에서 근거를 찾아 에세이에 사용하십시오. 관련 사실, 사례 및 자세한 정보를 사용하여 자신의 답변을 뒷받침하십시오. 다른 출처의 추가 정보도 포함시키십시오.

역사적 배경:

역사 전반에 걸쳐, 사상들은 다양한 사회들 및 지역들을 형성짓고 영향을 주어 왔습니다. **태양 중심설, 자연권, 마르크스주의**는 이런 사상들에 속합니다.

과제: 문서들이 제공하는 정보와 본인의 세계사 지식을 활용하여 다음 사항들에 맞게 에세이를 작성하십시오.

위의 역사적 배경에 언급된 사상들 중 **두 가지**의 사상을 선택한 다음, **각** 사상에 대해

- 그 사상을 설명하십시오.
- 그 사상이 사회들 및 지역들에 어떠한 영향을 미쳤는지 논하십시오.

지침사항:

에세이 작성 시, 반드시

- 과제의 모든 측면을 전개시키십시오.
- **최소 네 개의** 문서로부터 찾은 정보를 포함시키십시오.
- 관련된 다른 출처의 정보도 포함시키십시오.
- 관련 사실, 사례 및 상세한 정보로 주제를 뒷받침하십시오.
- 답안을 논리적이고 명확하게 구성하고 주제를 단순히 반복하는 것 이상의 서론과 본론을 포함하십시오.

세계사 및 지리

2011년 1월 28일, **금요일** — 오전 9시 15분 – 오후 12시 15분까지만 실시

답안지

학생 성별: 남
 여
 교사
 학교

파트 I에 대한 답은 이 답안지에 기입하십시오. 파트 III A에 대한 답은 시험 책자에 기입하고, 파트 II 및 III B의 답은 별도의 에세이 책자에 기입하십시오.

1.....	26.....
2.....	27.....
3.....	28.....
4.....	29.....
5.....	30.....
6.....	31.....
7.....	32.....
8.....	33.....
9.....	34.....
10.....	35.....
11.....	36.....
12.....	37.....
13.....	38.....
14.....	39.....
15.....	40.....
16.....	41.....
17.....	42.....
18.....	43.....
19.....	44.....
20.....	45.....
21.....	46.....
22.....	47.....
23.....	48.....
24.....	49.....
25.....	50.....

교사 전용	
Part I Score	_____
Part III A Score	_____
Total Part I and III A Score	<input style="width: 80px; height: 25px;" type="text"/>
Part II Essay Score	_____
Part III B Essay Score	_____
Total Essay Score	<input style="width: 80px; height: 25px;" type="text"/>
Final Score (obtained from conversion chart)	<input style="width: 80px; height: 25px;" type="text"/>

No.
Right

시험을 완료한 학생은 아래 진술문에 서명해야 합니다.

본인은 시험을 치르기 전, 문제나 답에 대하여 어떠한 불법적인 지식도 없었으며 시험을 치르는 동안 문제를 푸는 데 있어 어떠한 도움도 주고 받은 사실이 없음을 본 시험의 종료와 함께 확인하는 바입니다.

서명

절취선

절취선

