

세계사 및지리 (GLOBAL HISTORY & GEOGRAPHY)

2003년 1월 29일 (수) — 오전 9:15 — 오후 12:15에만 실시

학생 성명 _____

학교명 _____

자신의 성명과 학교명을 위 줄에 인쇄체로 기입하십시오. 다음, 이 책자의 마지막 페이지에 있는 파트 I 답안지를 여십시오. 점선을 따라 마지막 페이지를 접은 다음, 주의해서 천천히 답안지를 절취하십시오. 다음, 답안지의 위 부분에 기입하십시오. 에세이 책자는 각 페이지의 위 부분에 자신의 성명과 학교명을 인쇄체로 기입하십시오.

이 시험은 세 파트로 구성됩니다. 모든 파트의 **모든** 질문에 답하십시오. 검정 혹은 진한 청색 잉크를 사용하여 답하십시오.

파트 I에는 50개의 선다형 문제가 있습니다. 이 문제에 대한 답을 별도의 답안지에 기입하십시오.

파트 II에는 특정 주제를 다루는 에세이 문제가 하나 있습니다. 이 질문에 대한 답은 에세이 책자의 1페이지부터 기입하십시오.

파트 III는 여러 개의 문서에 기반을 두고 있습니다.

파트 IIIA에는 여러 문서들이 있습니다. 각 문서의 끝에는 하나 이상의 문제들이 나옵니다. 각 시험 책자의 문제에 대한 답을 그 질문 뒤에 있는 줄에 기입하십시오. 이 섹션의 첫 페이지에 자신의 성명과 학교명을 반드시 기재합니다.

파트 IIIB에는 문서들에 근거한 에세이 문제가 하나 있습니다. 이 문제에 대한 답은 에세이 책자의 7페이지부터 기입하십시오.

시험을 마친 다음에는 파트 I 답안지에 인쇄된 진술문에 서명함으로써, 시험을 치르기 전에 문제나 답에 대한 불법적인 지식이 없었으며 시험을 치르는 동안 도움을 주지도 또한 받지도 않았음을 의미합니다. 이 진술문에 서명하지 않는 학생의 답안지는 인정하지 않습니다.

지시가 있을 때까지 이 시험 책자를 열지 마십시오.

파트 I

이 파트의 모든 문제에 답변을 하십시오.

지시사항(1-50): 각 문장이나 질문에 대해, 그 문장이나 질문에 가장 적절한 단어나 표현에 해당하는 번호를 답안지에 기입하십시오.

1 구술역사 연구, 고고학적 증거 및 문화사는 누구에 의해 가장 자주 사용되는 방법인가?

- (1) 경제학자 (3) 철학자
- (2) 인류학자 (4) 정치학자

2 고대 문명을 연구할 때, 지리학자가 가장 관심 있게 관찰하는 것은?

- (1) 표현의 형태로서의 언어
- (2) 가족 구조
- (3) 식량 생산에 대한 기후의 영향
- (4) 지도력의 기준

3 다음 중 가장 전통적인 사회들을 묘사한 것은?

- (1) 자연 환경과 밀접히 연관되어 있다
- (2) 대규모 도심 지역 가까이에 위치한다
- (3) 복잡한 경제 체계를 중심으로 조직된다
- (4) 제조업에 의존한다

4 황하, 인더스 및 나일 문명들 사이에 한가지 유사한 점은?

- (1) 소금과 금의 교역으로 번성했다
- (2) 일신교를 발전시켰다
- (3) 반복된 침입으로 고통을 당했다
- (4) 강 유역에서 발생했다

5 함무라비 법전과 12표법을 제정한 목적은?

- (1) 안정된 사회의 창출
- (2) 타 문화와의 평화적 관계 촉진
- (3) 민주주의 발전을 위한 틀의 제공
- (4) 사후의 생에 대한 중요성 강조

6 브라마(Brahma), 달마(Dharma) 및 모스크(moska) 등의 용어는 어느 종교와 가장 긴밀히 연관되어 있는가?

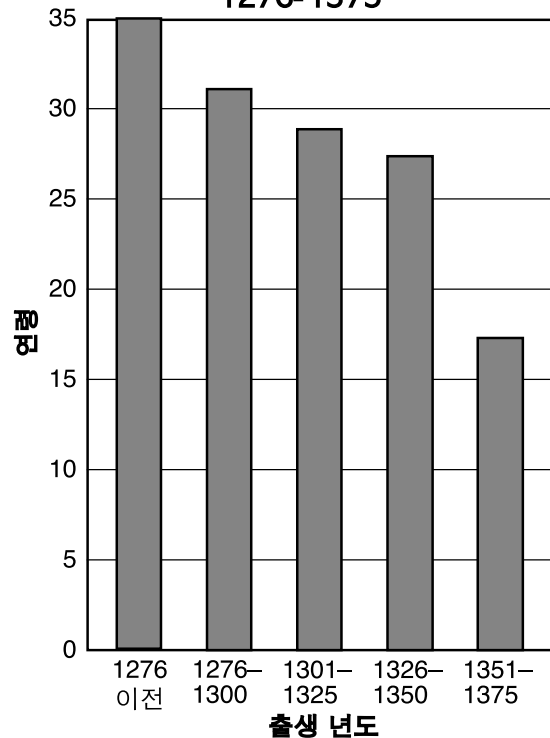
- (1) 유대교
- (2) 이슬람교
- (3) 힌두교
- (4) 정령 신앙

7 콘스탄티노플이 비잔틴 제국의 중심지가 된 이유는?

- (1) 교황이 기독교 세계의 수도로 정했기 때문
- (2) 이슬람교도의 종교적 중심지였기 때문
- (3) 유럽과 아시아의 교차로에 위치했기 때문
- (4) 주위 제국들로부터 지리적으로 고립되었기 때문

아래 그래프와 본인의 사회과에 대한 지식을 바탕으로 8번 문제에 답하십시오.

중세 영국인의 평균 여명
1276-1375



출처: World History Strategies, Glencoe (발췌)

8 그래프가 보여주는 추세가 영국에서 나타난 주요 원인은?

- (1) 기근
- (2) 질병
- (3) 이민
- (4) 낮은 출생률

아래 지도와 사회과에 대한 지식을 바탕으로 9번 및 10번 문제에 답하시오.

1300년 경의 몽골 제국



출처: H. Braun, L. Forman, H. Brodsky, *Reviewing Global History and Geography*, Amsco (발췌)

9 만리장성 건립 취지는??

- (1) 북아시아와 중앙아시아의 유목 민족으로부터 중국인을 보호하기 위하여
- (2) 남부로부터 칸발릭(베이징)으로 식량을 공급하기 위하여
- (3) 황하 강과 장강의 홍수를 통제하기 위하여
- (4) 광저우 항구 도시의 보호하기 위하여

10 다음 중 이 지도에 묘사된 사항을 가장 적절히 표현한 것은?

- (1) 1300년에 이르러 몽골 제국은 홍해까지 진출했다.
- (2) 1300년에 이르러 몽골 제국은 인도와 일본을 통치했다.
- (3) 1300년에 이르러 몽골 제국은 유럽의 대부분을 정복했다.
- (4) 1300년에 이르러 몽골 제국은 아시아의 많은 부분을 통치했다.

11 유럽의 기사도 규범과 일본의 무사도 (Bushido) 규범이 다음 중 어느 사항을 의도 했다는 면에서 유사합니까?

- (1) 통치자가 국민을 다스리도록 지원
- (2) 무사 계급의 행동을 지도
- (3) 모든 사회 계급에 대한 혜택 제공
- (4) 혁명적인 생각을 지지

12 세심한 붓글씨, 선(Zen) 정원 및 다도는 무엇의 실례인가?

- (1) 만사 무사(Mansa Musa)의 팀북투 문화 유물
- (2) 종교 개혁의 업적
- (3) 초기의 일본 문화
- (4) 르네상스 시대에 이루어진 플로렌스에서의 업적

13 아래 내용에 대한 제목으로서 가장 적절한 것은?

- I.
- A. 봉건 사회의 의무로부터의 해방에 대한 염원
 - B. 성지의 방어
 - C. 죄의 용서
 - D. 중동의 부에 대한 염원

- (1) 종교개혁의 이유
- (2) 십자군 전쟁에 참가한 유럽인들의 동기
- (3) 로마 제국 멸망의 원인
- (4) 동서 교회의 분열에 대한 이유

14 1500년대에 이루어진 항해, 조선 공학 및 지도 제작 분야의 기술적 발전은 무엇이 시작되는데 직접적으로 기여했는가?

- (1) 굽타 제국 (3) 탐험 시대
- (2) 몽골 제국 (4) 중세 길드

15 그리스와 로마 문화의 부흥, 1400년대에 있었던 이탈리아 도시 국가의 경제적 성장 그리고 인본주의 발전은 다음 사항 중 어느것과 관계가 있는가?

- (1) 혁명 시대
- (2) 종교 개혁
- (3) 이슬람교의 전파
- (4) 유럽의 문예부흥

16 1521년 헤르난 코르테즈(Hernán Cortés)에 의한 테노흐티트란(Tenochtitlán) 정복의 직접적인 결과는?

- (1) 스페인으로부터 유태인과 이슬람교도의 축출
- (2) 아프리카 주위에 포르투갈 무역 경로의 구축
- (3) 아즈텍 제국의 멸망
- (4) 쿠쉬(Kush) 왕국의 정복

17 삼각 무역 제도의 성공은 다음 중 어느사항의 증가에 의존했는가?

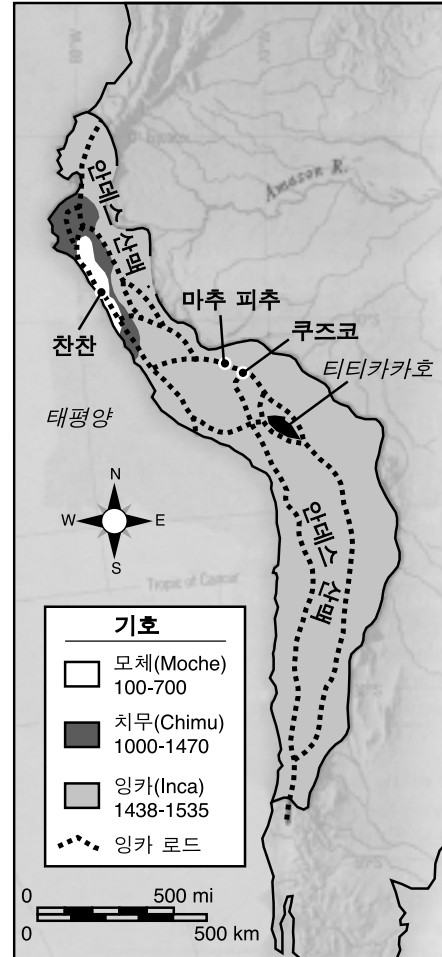
- (1) 카리브해 국가들의 정치적 독립
- (2) 유럽 국가들의 자유 무역에 대한 중시
- (3) 서반구에서의 노예 무역
- (4) 남미 식민지들의 산업화

18 가나와 말리 왕국 안으로의 이슬람교 전파는 다음 중 어느사항에 기인했는가?

- (1) 제국주의
- (2) 자기 민족 중심주의
- (3) 문화적 확산
- (4) 자결주의

아래 지도와 사회과에 대한 지식을 바탕으로 19번 문제에 답하십시오.

**남아메리카 문명
100-1535**



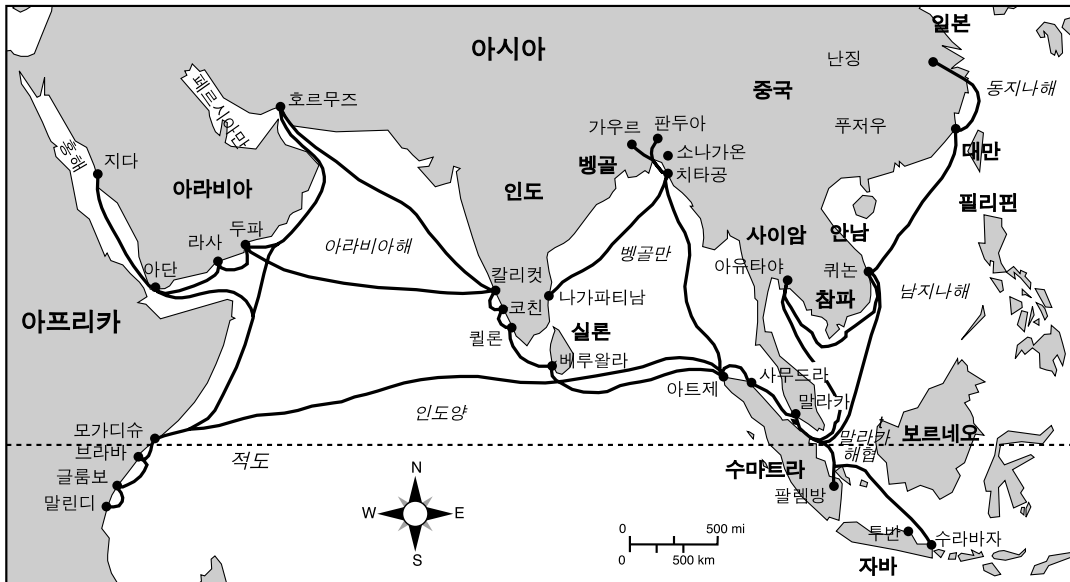
출처: World History: Patterns of Interaction, McDougal Littell

19 위의 지도로부터 잉카 사회에 관하여 어떠한 결론을 내릴 수 있는가?

- (1) 무역을 위한 광범위한 도로 체계가 제국의 모든 부분을 연결했다.
- (2) 무역은 다수의 항구에 의존했다.
- (3) 열대성 기후 조건이 제국 전체에 걸쳐 존재했다.
- (4) 유사한 언어가 잉카 문명을 단일화 시켰다

아래 지도와 사회과에 대한 지식을 바탕으로 20번 문제에 답하십시오.

중국 명조 시대에 쟁허(Zheng He)의 항해



출처: Harriett Geller 및 Erwin M. Rosenfeld, *Global Studies, 1권, Asia, Africa, and Latin America*, Barrons Educational Services, Inc. (발췌)

20 쟁허 여행의 결과가 중국 명조에 끼친 영향에 대해 어떠한 결론을 내릴 수 있는가?

- (1) 중국은 아시아 무역보다는 아프리카 무역을 통해 더 많은 이익을 얻었다.
- (2) 이슬람교가 중국의 제일 종교가 되었다.
- (3) 명조에는 유럽으로의 통상로가 구축되었다.
- (4) 중국에는 진보된 항해 기술이 있었다.

21 다음 중 절대 군주의 착상을 가장 적절하게 표현한 귀절은??

- (1) "최상의 통치 정부는 최소한으로 통치 하는 정부이다."
- (2) "내가 곧 국가이다."
- (3) "정부는 건전한 헌법에 기초해야 한다."
- (4) "국회가 법을 제정해야 한다."

22 영국의 명예 혁명이 초래한 결과는 ??

- (1) 신수한 왕권 통치의 강화
- (2) 제한 군주제의 성립
- (3) 국회의 국고에 대한 권한의 약화
- (4) 권리 청원이 보장하는 공민권의 종료

23 과학 혁명과 계몽주의의 유사점 한 가지는?

- (1) 로마 카톨릭 교회의 지지를 받았다
- (2) 전통적인 신앙을 중시했다
- (3) 인간 이성의 가치를 강조했다
- (4) 봉건주의의 종료에 기여했다

24 "스페인 제도 내에 거주하는 현대 미국인들은 과거 그 어느 때 보다도, 노동의 운명을 타고나는 농노보다 그 사회적 지위가 나은 것이 없으며 혹은 조금 낮게 표현하더라도 단순한 소비자의 사회적 지위보다 나은 것이 없습니다"

위의 인용문은 1815년 9월에 쓰여졌는데, 누구의 관점을 나타내는가?

- (1) 마틴 루터 (3) 캐터린 여제
- (2) 시몬 볼리바르 (4) 아담 스미스

25 "자연 상태로서 인간이 자유롭고 동시에 자신과 소유물의 절대적인 소유자라고 가정할 때, 주어진 자유를 포기하고 또한 다른 개인이나 제도의 통제를 받기를 기원하는 이유는 어디에 있습니까? 이에 대한 자명한 답변은 자연 상태로서의 권리는 언제나 타인의 공격대상이 된다는 것 입니다. 각 개인들이 동등하고 그리고 대부분의 인간들이 자신들에 주어진 평등과 정의에 무관심하기 때문에 자연 상태에서 자유에 대한 권리보유는 불안정하며 또한 불확실합니다. 따라서 각 개인은 타인들과 합류하여 자신의 생명과 자유 및 재산을 보전하게 됩니다."

- 존 로크, *정부에 대한 두 논문*(1690년)

다음 중 어느 사항의 상기의 인용문을 대변합니까?

- (1) 자유 방임 자본주의의 배제
- (2) 사회적 계약에 근거한 정부의 성립
- (3) 절대 군주제의 존속
- (4) 자연권 철학의 거부

26 독일과 이탈리아의 통일 그리고 오스트리아-헝가리 및 오스토티만 제국의 분열을 초래한 19세기 사상은 다음 중 어느것입니까?

- (1) 제국주의 (3) 자유주의
- (2) 국가주의 (4) 사회주의

27 "기근이란 최후의 그리고 가장 무시무시한 자연적인 자원인 것 같다. 인구력은 이 지구가 인간에게 제공하는 모든 생활 조건력을 초월하기 때문에 어떠한 형태로든지 때 이른 죽음은 인류에게 필연적인 것이다..."

- 토마스 맬서스, "인구론" (1798년)

이러한 예측은 부분적으로 잘못된 것으로 판명되었는데, 그 이유 중 하나는?

- (1) 인종 정화(ethnic cleansing)
- (2) 농업 생산성의 증가
- (3) 전쟁 횟수의 증가
- (4) 가뭄의 증가

아래 문장과 사회과에 대한 지식을 바탕으로 28번과 29번 문제에 답하십시오.

"빨간 벽돌, 아니 연기와 재가 없었더라면 빨간색으로 남아 있을 벽돌로 된 마을이었다; 하지만 실제로는 야만인의 칙한 얼굴과도 같은 자연스럽지 못한 암흑색의 마을이었다. 그것은 기계와 높은 굴뚝으로 가득찬 마을이었으며, 굴뚝에서 끊임없이 나오는 뱀과 같은 연기는 꼬리에 꼬리를 물고 이어졌다. 그 마을 안에는 흑색의 운하가 있었으며, 약취를 풍기는 염료로 염색된 자색의 강이 흘렀다..."

- 찰스 디킨스, *Hard Times*

28 이 글을 쓴 작가가 묘사한 상황은 다음 중 무엇 때문에 비롯되었는가?

- (1) 상업 혁명
- (2) 프랑스 혁명
- (3) 산업 혁명
- (4) 과학 혁명

29 어떤 문제가 이 글의 주제는 ?

- (1) 경제적 불평등
- (2) 도시의 오염
- (3) 아동 노동법의 결여
- (4) 불량한 교통 체계

30 일본의 메이지 유신을 촉진시킨 원인은 무엇인가?

- (1) 일본이 서방 국가의 식민지가 될 수 있다는 두려움
- (2) 일본 팽창주의의 실패
- (3) 쇼군의 기독교 개종
- (4) 고립 유지에 대한 희망

31 유럽의 국가주의와 군국주의 확산 그리고 비밀 동맹의 형성은 무엇과 관련이 있는가?

- (1) 민주주의 대두 이유
- (2) 제1차 세계대전의 원인
- (3) 경제 개발의 필요조건
- (4) 공산주의 붕괴의 이유

아래 표와 사회과에 대한 지식을 바탕으로 32번 문제에 답하십시오.

강대국들의 국방 예산(1870-1914)
(단위: 백만 파운드)

	1870	1880	1890	1900	1910	1914
독일	10.8	20.4	28.8	41.0	64.0	110.8
오스트리아-헝가리	8.2	13.2	12.8	13.6	17.4	36.4
프랑스	22.0	31.4	37.4	42.4	52.4	57.4
영국	23.4	25.2	31.4	116.0	68.0	76.8
이탈리아	7.8	10.0	14.8	14.6	24.4	28.2
러시아	22.0	29.6	29.0	40.8	63.4	88.2

출처: A.J.P. Taylor, *The Struggle for Mastery in Europe: 1848-1918*, Oxford University Press(발췌)

32 이 표의 데이터가 가장 잘 뒷받침하는 진술은 무엇인가?

- (1) 오스트리아-헝가리는 1880년에 대규모의 군사비를 충당할 능력이 없었다.
- (2) 프랑스는 1900년에 가장 많은 금액의 국방비를 사용했다.
- (3) 독일은 1890년 이후 군사비를 급격히 증가시켰다.
- (4) 영국은 장기 지상전에 대한 준비를 시도했다.

33 일본, 독일 및 이탈리아는 제2차 세계대전 이전에 무엇을 얻기 위해 팽창주의 정책을 추구했는가?

- (1) 천연 자원
- (2) 부동산
- (3) 생산 공장
- (4) 공해 자유 항해권

34 폴란드 역사에 미친 지형이 미친 영향을 가장 정확히 묘사한 문장은 무엇인가?

- (1) 천연 장벽이 폴란드를 고립시키고 보호했다.
- (2) 북부의 유럽 평원은 폴란드를 침략에 취약하게 만들었다.
- (3) 폴란드 문화의 확산은 산맥들에 의해 제약을 받았다.
- (4) 항구의 부재는 폴란드의 경제 성장을 제한했다.

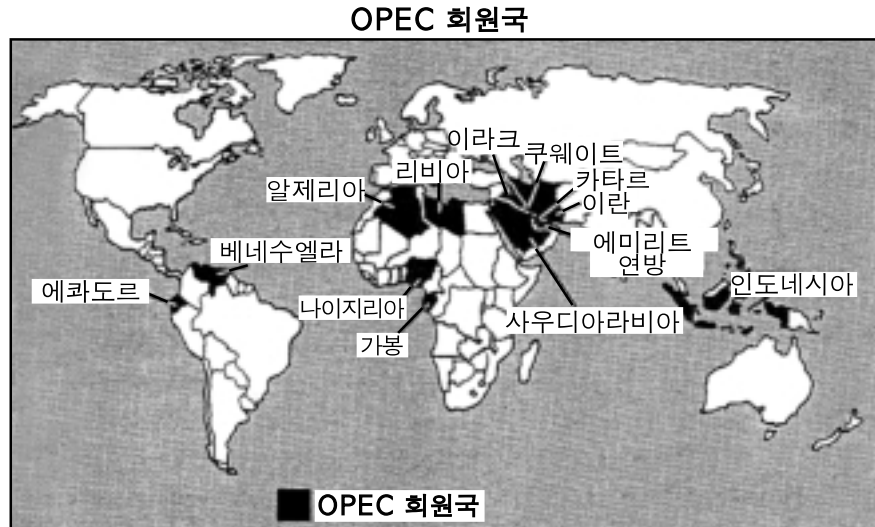
35 1931년 일본의 만주 침략과 1935년 히틀러의 군사 재건은 다음 중 어느 사항을 입증하는가?

- (1) 방어 동맹의 성공
- (2) 공산주의 팽창에 대한 두려움
- (3) 베르사이유 조약에 대한 지지
- (4) 국제 연맹의 실패

36 어떠한 조치가 대량 학살의 개념의 실제 본보기인가?

- (1) 1938년 뮌헨 회의에서의 영국과 아돌프 히틀러의 평화 협상
- (2) 1939년 아돌프 히틀러와 조셉 스탈린의 불가침 조약 체결
- (3) 아돌프 히틀러의 최종 해결안의 일환으로 나치 군대에 의한 유태인과 다른 집단을 제거함
- (4) 독일 장성들의 아돌프 히틀러에 대한 음모

아래 지도와 사회과에 대한 지식을 바탕으로 37번 및 38번 문제에 답하십시오.



출처: Killoran, Zimmer 및 Zarret, *The Key to Understanding Global History*, Jarret Publishing

37 이 지도에 의하면, 세계에서 석유 수출국 기구(OPEC)의 회원국이 가장 많은 지역은 어디인가?

- (1) 중동 (3) 북미
- (2) 남부 아프리카 (4) 동남 아시아

38 OPEC 회원국들의 잠재력은 다음 중 어디에 존재하는가?

- (1) 열대 지방에서의 정치적 영향
- (2) 중요한 종교적 사적지에 대한 접근 통제
- (3) 전략적 수로에 대한 군사적 통제
- (4) 산업화 국가에 미치는 경제적 영향

39 마셜 플랜의 목적은 무엇인가?

- (1) 일본 경제 발전의 회복
- (2) 중동 맹방에 대한 군사 지원 제공
- (3) 중국 내란전에서 국가주의자의 성공 보장
- (4) 서부 유럽의 경제 회복 지원

40 트루만 선언, 한국 전쟁, 과테말라의 위기 및 소련의 아프카니스탄 침공의 공통점은?

- (1) 산업 혁명의 이유
- (2) 일본 제국주의의 실례
- (3) 냉전의 사건
- (4) 제2차 세계대전의 원인

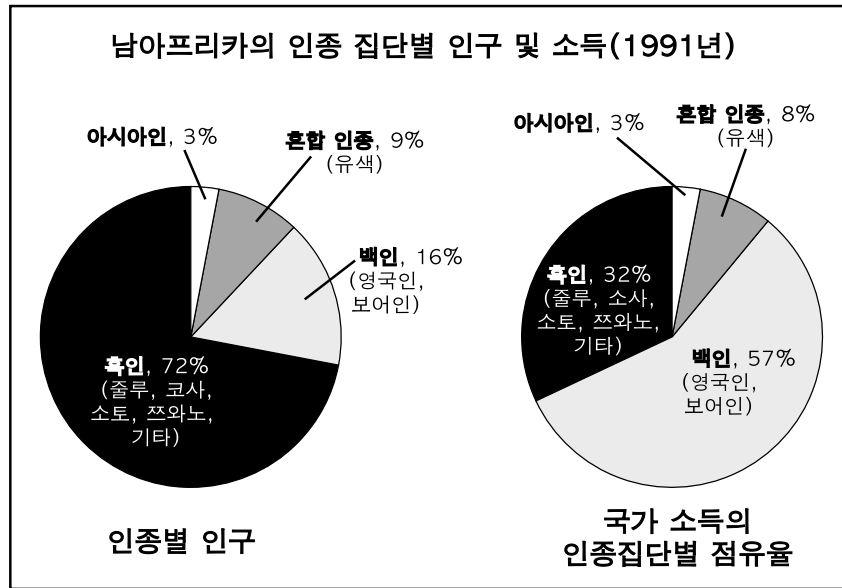
41 미하일 고르바체프(Mikhail Gorbachev)가 글라스노스트 및 페레스트로이카 정책을 채택한 목적은 무엇인가?

- (1) 공산주의의 기본 경제 원칙을 강화하기 위함
- (2) 소련의 유럽 경제 공동체 가입을 위함
- (3) 소련의 정치 경제적 개혁을 위함
- (4) 자유로운 선거의 수용을 위함

42 20세기 말에 산림 벌채는 어떤 지역에서 심각한 문제로 대두되었는가?

- (1) 유럽 대평원
- (2) 아마존 유역
- (3) 데칸 고원
- (4) 동아프리카 대지구대

아래 그래프와 사회과에 대한 지식을 바탕으로 43번 문제에 답하십시오.



43 1991년을 대상으로 하여 위의 그래프로부터 추론할 수 있는 가장 적절한 결론은?

- (1) 남아프리카에서는 보어인의 숫자가 영국인보다 많았다
- (2) 흑인 인구가 이민으로 인해 감소되었다
- (3) 아시아인이 인구에 비해 소득의 상당 부분을 차지했다
- (4) 백인은 인종 차별 정책(apartheid)이 폐지된 후에도 계속해서 가장 많은 소득을 차지했다

1998년 신문 기사의 일부인 아래 문장을 바탕으로 44번 문제에 답하십시오.

“핵실험에 대한 반응으로, 뉴델리 주민들은 거리로 몰려나가 폭죽을 터뜨리며 힌두 신들에 감사하고 ‘Bharat Mata Jai!(모국 인도의 승리)’를 외쳤다.”

“빌 클린턴 대통령은 인도 정부가 시행한 세 번의 지하 핵폭발을 이유로 오늘 밤 경제 봉쇄를 가했다.”

44 다음 중 위의 두 발췌 기사가 뒷받침하는 것은 무엇인가?

- (1) 인도가 핵무기 개발 경쟁에서 뒤지고 있다.
- (2) 미국은 인도의 핵무기 프로그램을 공식적으로 지지한다.
- (3) 인도와 미국의 국민들은 인도의 핵실험에 각각 매우 다르게 반응했다.
- (4) 인도의 핵무기 개발은 그 지역에 평화가 정착할 가능성을 높여줄 것이다.

45 지구 오존층의 파괴와 산성비의 증가에 의해 생겨난 문제들은 범 세계적으로 무엇이 필요함을 제안하는가?

- (1) 경제개발도상국가 들의 신속한 산업화
- (2) 개선된 의료 프로그램
- (3) 핵발전 시설
- (4) 엄격한 오염 법규

46 1960년대 이후, 세계 여러 지역에서의 기근은 다음 중 어느 사항에 의해 감소되어 왔는가?

- (1) 도시화의 증가
- (2) 세계 온난화
- (3) 무간섭 자본주의
- (4) 녹색 혁명

47 다음의 부분적인 개요에 대한 가장 합당한 제목은?

- I. _____
- A. 아일랜드의 대량 기아 (1845-1850)
 - B. 인도의 분할 (1947)
 - C. 중남미인들의 미국에서의 취업 노력 (제2차 세계대전 이후)
 - D. 발칸 지역에서의 인종 정화 (1990년대)

- (1) 세계적 인구 이동의 원인
- (2) 산업화의 원인
- (3) 식민주의의 이유
- (4) 문화 차용의 이유

48 유럽 역사의 전개

- A 종교 혁명
- B 중세 기간
- C 산업 혁명
- D 신석기 혁명

다음 중 위의 사건들을 연대순으로 배열한 것은?

- (1) C → A → B → D
- (2) D → C → B → A
- (3) B → D → A → C
- (4) D → B → A → C

49 마하트마 간디와 조모 케냐타는 어떠한 점에서 유사한가?

- (1) 식민지 정책의 지지
- (2) 영국으로부터의 독립 추구
- (3) 영국 상품에 대한 세계적 불매 운동을 지도
- (4) 목적 달성을 위해 폭력적 혁명을 사용

- 50
- 수니파와 시아파는 이슬람교 지도자에 대해 관점이 서로 다르다.
 - 오늘날 일부 힌두교도는 누구보다도 카스트 제도를 신봉한다.
 - 대부분의 불교 신자들은 두 가지 주요종파 중 하나에 속한다.
 - 카톨릭교와 개신교 모두 기독교를 믿는다.

다음 중 위의 네 문장에 나타난 정보가 뒷받침하는 일반적인 내용은 무엇인가?

- (1) 많은 종교들에서 다양한 믿음이 존재한다.
- (2) 신에 대한 믿음은 모든 종교에 공통된다.
- (3) 모든 종교에 있어서 성직자의 계급이 존재한다.
- (4) 종교는 사람들에게 덜 중요해지고 있다.

에세이 문제에 대한 답은 별도의 에세이 책자에 기입하십시오.

파트 II 및 III에 대한 답을 작성할 때, 다음의 개괄적인 정의에 유념하십시오.

- (a) 설명하다의 의미는 "분명히 하거나 이해할 수 있도록 만드는 것; 이유나 원인을 제공; 논리적 전개나 관계를 보여주는 것"
- (b) 묘사하다의 의미는 "글로 무엇을 표시하거나 그에 대해 말하는 것"
- (c) 평가하다의 의미는 "중요성, 가치 또는 상태에 대한 조사 및 판단; 가치의 결정"
- (d) 비교 및 대조하다의 의미는 "유사점과 차이점을 표현"

파트 II

주제 에세이 문제

지시 사항: 서문 및 아래의 과제를 다루는 몇 개의 문장으로 구성된 본론 및 결론을 포함하는 잘 짜여진 에세이를 작성하십시오.

주제: 변화

역사 전반에 걸쳐, 정치적 혁명에는 많은 원인이 있었다. 이러한 혁명은 사회에 영향을 주었으며 많은 변화를 초래했다. 그러한 변화는 혁명을 초래한 문제들을 해결했을 수도 또는 해결하지 못했을 수도 있었다.

과제:

본인의 세계 역사와 지리에 대한 지식을 바탕으로 **정치적** 혁명 하나를 선택한 다음:

- 그 혁명의 **원인들**을 설명하십시오
- 그 정치적 혁명이 사회에 미친 **영향**을 묘사하십시오
- 그 정치적 혁명이 **가져온** 변화가 혁명을 초래한 문제들을 해결했는지 평가하십시오

세계 역사에 존재하는 실례를 사용할 수 있으나 **미국의 독립혁명은 사용하지 말 것**. 그러한 실례에는 프랑스 혁명(1788), 멕시코 혁명(1910), 러시아 혁명(1917), 중국 혁명(1949), 쿠바 혁명(1959), 이란 혁명(1979) 등이 있습니다.

위의 제안에만 제안받지 않아도 됨.

지침:

에세이에 반드시 포함시켜야 할 사항:

- *과제*의 모든 측면을 다룬다.
- 관련 있는 사실, 실례 및 세부 사항으로 주제를 뒷받침한다.
- 논리적이고 분명한 계획에 근거하는 구조를 사용한다.
- *과제*의 단순한 반복이 아닌 틀을 확립하여 주제를 도입하며 주제의 요약을 통해 결론을 내린다.

파트 III**문서를 바탕으로 한 문제**

이 문제는 함께 제공하는 문서들(1-8)를 바탕으로 한 것입니다. 이 문제의 의도는 역사적 문서를 다루는 능력을 테스트하는 것입니다. 문서들의 일부는 문제로 만들기 위해 편집되었습니다. 문서의 분석 시 그 출처와 문서에 반영된 관점을 고려하면 도움이 될 것입니다.

역사적 배경:

자원의 소재지와 이용도라는 지리적 요인은 영국과 일본의 역사에 영향을 끼쳤다.

과제: 문서들에 포함된 정보와 자신의 세계 역사에 대한 지식을 바탕으로, 파트 A의 문서 뒤에 나오는 문제들에 답하십시오. 이러한 문제에 대한 답은 다음과 같은 파트 B의 에세이 문제 작성에 도움이 될 것입니다.

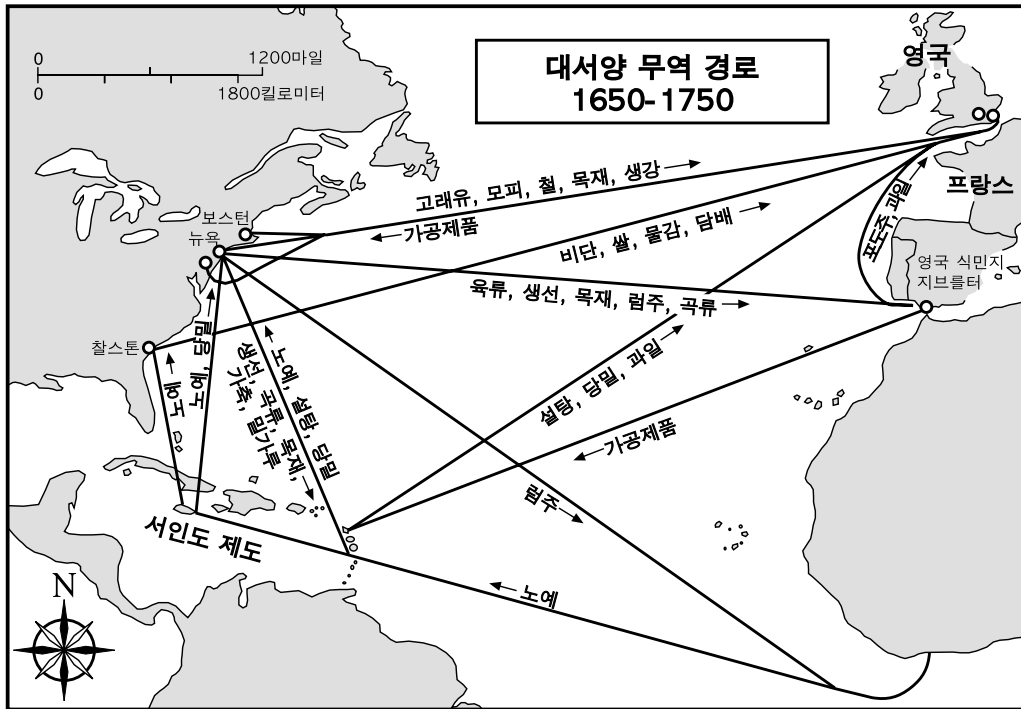
- 자원의 소재지와 이용도와 같은 지리적 요인들이 영국과 일본의 정치적 그리고 경제적 발전에 끼친 영향을 비교하고 대조하라.

파트 A

단답식 문제

설명: 문서를 분석한 다음 문서 뒤에 나오는 문제에 대한 답을 빈칸에 기입하십시오.

문서 1



출처: Steven Goldberg 및 Judith Clark DuPré, *Brief Review in Global History and Geography*, Prentice-Hall (발췌)

1 영국은 대서양 무역 경로를 통해 무엇을 수출했는가? [1]

점수

문서 2

영국의 제조업의 이점을 다른 국가와 비교할 때, 이 국가의 우수한 상업적 위치 즉, 유럽 북부와 남부의 중간이라는 이점을 결코 간과할 수 없다; 또한 섬나라라는 상황(섬 위치)과 제해력과 아울러 괴롭힘으로 부터 우리 영토를 보호해 준다. 게르만해, 발트해 및 지중해는 우리 선박의 정기 항로이다; 우리의 서부 항구들은 장애물이 없는(방해 받지 않는) 대서양으로의 그리고 세계 모든 지역(부분)으로의 통로이다.

출처: Edward Baines, *History of the Cotton Manufacture in Great Britain*, A.M. Kelly

2 이 문서에 근거하여, 영국이 지역상의 위치로 인하여 입고있는 혜택 **두** 가지를 지적하십시오.[2]

(1) _____

(2) _____

점수

문서 3

공업과 상업은 제해력 못지않게 자연 조건의 제한을 받는다. 현대의 공장들은 싼 값으로 전력을 얻을 수 있는 탄광 주위에 모여들게 된다; 훌륭한 항구의 소유는 해상 무역에 필수적이다; 넓고 유유히 흐르는 강들이 천연 운하의 역할을 하는 국가는 산맥에 의해 끊긴 국가에 비해 국내 교통의 이점을 가지게 된다 영국에 이러한 이점이 풍부하고, 석탄과 철강이 가까운 곳에 위치하고, 최상의 양모를 얻을 수 있으며, 풍부한 항구 그리고 강의 조건도 양호하며, 전국의 모든 곳이 바다로부터 70마일 이내에 위치한다는 것을 지적하더라도 이것이 이점의 전부는 아닐 것이다...

출처: George T. Warner, *Landmarks in English Industrial History*, Blackie & Son Limited

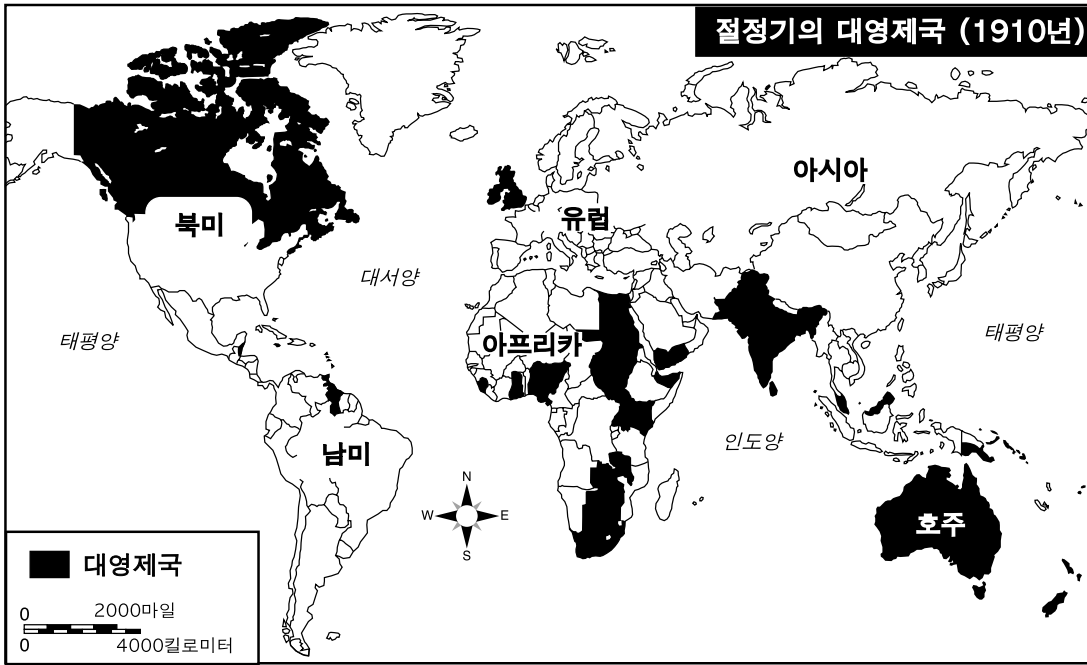
3 이 문서에 의하면, 영국이 그 지리적 여건을 통해 어떻게 혜택을 받았는지 **두** 가지를 제시하십시오.[2]

- (1) _____

- (2) _____

점수

문서 4



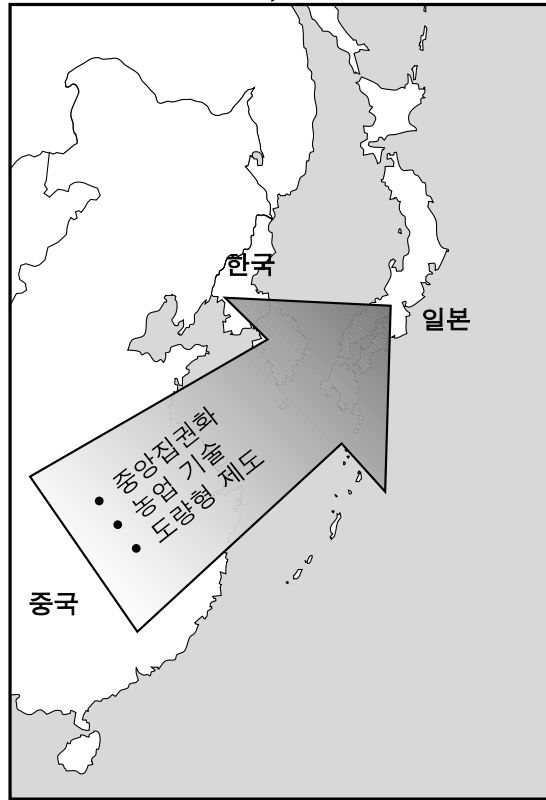
출처: Roger Beck, Linda Black 등, *World History: Patterns of Interaction*, McDougal Littell (발췌)

4. 이 지도는 1910년경 대영제국의 영토 범위에 관하여 무엇을 보여주는가? [1]

점수

문서 5

중국 문명의 확산
500-1,000 AD



5a 일본의 위치는 중국 문명의 확산에 어떠한 영향을 주었는가? [1]

점수

b 중국으로부터 도래한 문명이 일본 사회에 기여한 내용 **한** 가지를 쓰시오. [1]

점수

문서 6

...일본의 지리적 특징은 고대 헬라(그리스)의 그것과 공통점이 매우 많은 편이다. 두 나라 모두 산, 계곡, 평야 (그리고) 선명한 해안선과 만, 반도 및 해안선 주위의 섬들로 이루어져 있다. 산맥으로부터 멀리 떨어진 내륙 지방은 거의 없으며 바다로부터 멀리 떨어진 지역은 전무하다...

국토 전체가 사방으로 잘 보호를 받으면서도 바다에 대해 열려 있다; 그리고 두 국가 모두 초기부터 상업과 문명에 대한 접근이 자유로웠다...

일본의 깊숙한 해안선은 태평양 연안에 위치한 다수의 뛰어난 항구를 제공하며, 근해의 풍부하고 다양한 어류는 수세기 동안 주요한 식량 공급원이 되었다. 어업은 현대사에서 가장 강력한 해군의 하나가 될 수 있었던 기반을 일본에 제공했다...

출처: Walter Weston, "일본의 지리가 일본인의 특성에 미친 영향", *The Japan Society of London, Transaction and Proceedings, XX* (1922-1923)

6 이 문서에 근거하여, 일본의 지리가 일본의 발전에 어떻게 영향을 미쳤는지 **두** 가지를 지적하십시오. [2]

(1) _____

(2) _____

점수

문서 7

...(메이지) 유신 시대(1868-1912) 일본은 순전한 농업국가 였다. 중요한 산업은 거의 없는 편이었다. 농업 종사자(농부)들은 국가 전체에 충분한 식량을 생산했으며, 일본은 완전한 자급자족을 하였다. 심지어 세금까지도 쌀로 지불했으며, 농부의 신분은 상인보다 훨씬 높았다. 그러나 일본 역사는, 국가의 세입과 국민의 번영이 강우량과 일조 시간에 절대적으로 의존하는 경우 강한 국력을 유지하는 것이 매우 어렵다는 사실을 잘 보여주고 있다...

이러한 필요성 외에도, 극동 지역뿐만 아니라 유럽 국가들 가운데에서도 산업 성장이 국력 신장에 크게 기여했다는 사실을 통해 또 다른 이유가 존재함을 알 수 있다. 상공업의 발전은 군사력보다 더 확실한 국력의 보장이며 또한 시장의 정복은 육해군에 의한 파괴보다 더욱 효율적(효과적)이라는 점이 인식되었다. 이러한 측면에서 일본은 동방의 영국이 되기를 염원했다...

출처: Alfred Stead, *Great Japan: A study of National Efficiency*, John Lane Company

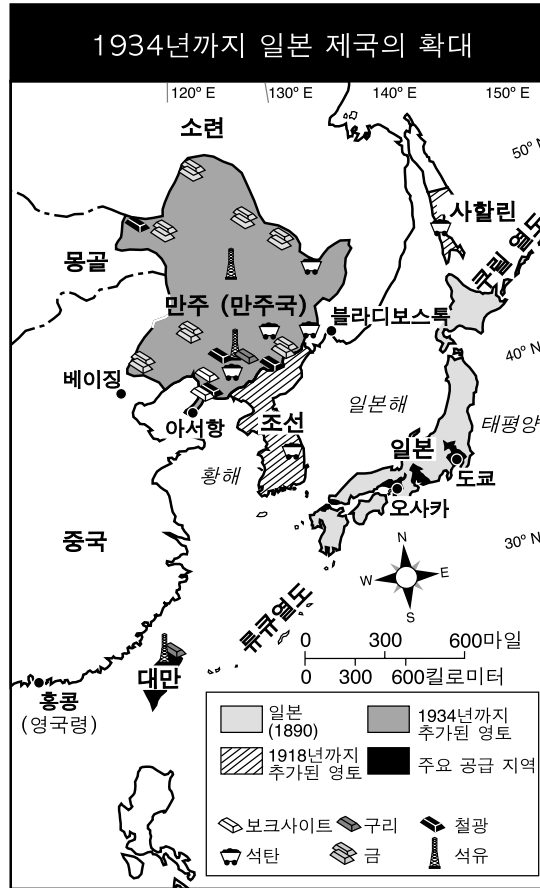
7a 메이지 유신 이전에 일본인의 경제 생활에 대한 특징 **한** 가지를 지적하십시오. [1]

점수

b 메이지 유신이 일본의 경제 생활을 어떻게 변화시켰는지 **한** 가지를 지적하십시오. [1]

점수

문서 8



출처: Elisabeth Gaynor Ellis 및 Antony Esler, *World History Connections to Today: The Modern Era*, Prentice-Hall (발췌)

8 이 지도에 나와 있는 정보에 근거하여, 일본이 한국과 만주의 점령을 했을만한 **한** 가지 이유를 서술하십시오. [1]

점수

파트 B

에세이

문제: 서론 과 몇 개의 문장으로 된 본론 및 결론을 포함하는 잘 짜여진 에세이를 쓰십시오. 에세이의 본론에는 적어도 **5개** 문서가 제공하는 증거를 사용하십시오. 자신의 의견을 관련 있는 사실, 사례 및 세부 사항으로 뒷받침하십시오. 추가로 외부 정보를 포함시키십시오.

역사적 배경:

자원의 소제지와 이용도라는 지리적 요인은 영국과 일본의 역사에 영향을 끼쳤다.

과제: 문서들에 포함된 정보와 자신의 세계 역사에 대한 지식을 바탕으로, 아래에 요구한 에세이를 작성하십시오.

- 자원의 위치와 가용도와 같은 지리적 요인들이 영국과 일본의 정치경제적 발전에 끼친 영향을 비교하고 대조하라.

지침:

에세이에 포함되어야 할 사항:

- 적어도 **5개** 문서를 정확히 분석하고 해석하여 *과제*의 모든 측면을 다룬다.
- 에세이 본론에 문서가 제공하는 정보를 포함시킨다.
- 그 밖의 관련 있는 외부 정보를 포함시킨다.
- 관련 있는 사실, 실례 및 세부 사항으로 주제를 뒷받침한다.
- 논리적이고 분명한 계획에 근거하는 구조를 사용한다.
- *과제*나 *역사적 배경*의 단순한 반복 이상의 틀을 확립하여 주제를 도입하며 주제의 요약을 통해 결론을 내린다.

The University of the State of New York

REGENTS HIGH SCHOOL EXAMINATION

세계사 및 지리

2003년 1월 29일 - 오전 9:15 - 오후 12:15에만 실시

답안지

학생 () 남
..... 성별: () 여

교사

학교명

파트 I에 대한 답은 답안지에 기입하십시오. 파트 III A에 대한 답은 시험
책자에 기입하십시오. 파트 II 및 III B에 대한 답은 별도의 에세이 책자에 기입하
십시오.

교사가 기입

파트 I 점수	_____
파트 III A 점수	_____
파트 I 및 III A 점수 합계	<input type="text"/>
파트 II 에세이 점수	_____
파트 III B 에세이 점수	_____
에세이 점수 합계	<input type="text"/>
최종 점수 (환산표에 의한 점수)	<input type="text"/>

파트 I

- 1..... 26.....
- 2..... 27.....
- 3..... 28.....
- 4..... 29.....
- 5..... 30.....
- 6..... 31.....
- 7..... 32.....
- 8..... 33.....
- 9..... 34.....
- 10..... 35.....
- 11..... 36.....
- 12..... 37.....
- 13..... 38.....
- 14..... 39.....
- 15..... 40.....
- 16..... 41.....
- 17..... 42.....
- 18..... 43.....
- 19..... 44.....
- 20..... 45.....
- 21..... 46.....
- 22..... 47.....
- 23..... 48.....
- 24..... 49.....
- 25..... 50.....

정답

시험을 완료한 학생은 아래 진술문에 서명해야 합니다.

본인은 시험을 치르기 이전에 문제나 답에 대해 어떠한 불법적 사전 지식이 없었으며 시험 동안 문제에 대한 답변을 하는데 있어서 어떠한
도움도 받지 않았음을 본 시험의 종료와 함께 확인하는 바입니다.

