

세계사 및 지리

2015년 6월 17일, **수요일** — 오전 9시 15분 - 오후 12시 15분까지만 실시

학생 이름 _____

학교명 _____

이 시험 중에는 모든 통신 장비의 소지 및 사용을 철저히 금지합니다. 잠시라도 통신 장비를 소지하거나 사용할 경우, 시험은 무효화되며 시험 점수를 받을 수 없게 됩니다.

위 칸에 자신의 이름과 학교명을 인쇄체로 기입하십시오. 파트 I에 대한 별도의 답안지가 제공되었습니다. 감독관의 지시에 따라 답안지에 학생 정보를 기입하십시오. 그런 다음, 에세이 책자 각 페이지 윗부분에 기입하십시오.

이 시험은 세 파트로 구성되어 있습니다. 모든 파트의 **모든** 질문에 답하십시오. 파트 II, 파트 III A, 그리고 파트 III B의 답안을 작성할 때는 검정색이나 진한 청색 펜을 사용하십시오.

파트 I 50개의 선다형 문제가 있습니다. 이 문제들에 대한 답은 답안지에 지시된 대로 기입하십시오.

파트 II에는 한 개의 주제를 다루는 에세이 문제가 있습니다. 이 문제에 대한 답은 에세이 책자 1페이지부터 기입하십시오.

파트 III는 여러 개의 문서에 기반을 둡니다.

파트 III A에 그 문서들이 포함되어 있습니다. 시험의 이 파트를 하게 될 때, 이 부분의 첫 페이지에 자신의 이름과 학교명을 기재하십시오.

각 문서에는 하나 이상의 문제가 따릅니다. 각 문제의 답은 이 시험책자 안의 문제 아래에 있는 칸에 기입하십시오.

파트 III B에는 그 문서들을 바탕으로 하는 한 개의 에세이 문제가 있습니다. 이 문제에 대한 답은 에세이 책자 7페이지부터 기입하십시오.

시험을 마친 후, 답안지 마지막 부분에 인쇄된 진술문에 서명함으로써 이 시험을 치르기 전에 문제나 답에 대한 불법적인 지식이 없었으며 시험을 치르는 동안 어떤 문제에 답하는 데 있어서도 도움을 주거나 받지 않았음을 표시하십시오. 이 진술문에 서명하지 않은 학생의 답안지는 인정하지 않습니다.

지시가 있을 때까지 이 시험 책자를 열지 마십시오.

파트 I

이 파트의 모든 문제에 답하십시오.

지시사항 (1-50): 각 문제에 가장 적절한 답의 번호를 별도의 답안지에 기입하십시오.

1번 문제는 아래의 글과 자신의 사회과학 지식을 바탕으로 답하십시오.

... 말로 전해지는 역사는 인류의 기원만큼이나 오래되었습니다. 문자가 발명되기 전에는 정보가 말을 통해 세대에서 세대로 전해졌습니다. 세계의 많은 사람들이 지식과 지혜를 전달하기 위해 이러한 구전 전통을 계속 사용하고 있습니다. 역사적 사건에 대한 지역의 연장자나 증인들의 인터뷰나 녹음들은 과거에 대한 흥미로운 이야기, 일화 및 기타 정보들을 제공합니다...

—Library of Congress

1 이 글에 의하면, 역사가들은 구전으로 전해지는 역사나 전통을 어떻게 취급해야 합니까?

- (1) 설득력 있는 논쟁으로
- (2) 통계적인 데이터로
- (3) 편견 없는 자료로
- (4) 문화적인 증거로

2 다음 중 정부의 역할과 기능에 관한 연구에 중점을 두는 학문 분야는?

- (1) 정치학
- (2) 인류학
- (3) 지리학
- (4) 경제학

3 신석기 혁명 동안, 식량 과잉이 직접적으로 초래한 결과는?

- (1) 유목 생활방식
- (2) 석재 무기에 의존
- (3) 인구 증가
- (4) 사냥과 채집에 의존

4 하라파와 모헨조다로에서 바둑판 모양으로 정렬된 도로들과 상수도 시설이 발견된 것은 남아시아의 이 고대 강 계곡 도시들이 다음 중 어느 것을 가지고 있었음을 암시합니까?

- (1) 체계화된 정부
- (2) 생계 기반 경제
- (3) 다신교 종교
- (4) 엄격한 사회 계층

5번 문제는 아래의 글과 자신의 사회 지식을 바탕으로 답하십시오.

... 작물을 재배하는 물을 공급하기 위해 나라 전체가 문순에 의존합니다. 그러나 문순이 너무 심하면 홍수를 일으켜 자주 많은 사망자를 초래합니다. 이러한 홍수는 산업과 농업 용지를 위해 언덕들의 나무를 베어냄에 따라 더욱 악화(심하게)됩니다. 벼가 자라는 들판에 충분한 양의 물을 가지는 것과 비가 너무 많이 와서 농작물, 집, 심지어 사람들이 사망하게 되는 것 간에 중간점을 찾는 것은 어려운 일입니다. 홍수가 나지 않을 경우에는 기근이 생길 수 있습니다. 그러나 인도의 사회 기반 시설은 현재 이러한 재앙들을 성공적으로 다룰 수 있습니다. 어느 한 지역에서 문순이 오지 않으면, 군대가 가뭄이 든 지역에 물자들을 수송할 수 있습니다. 이러한 조직화의 결과로, 1943년 벵골 지역의 기근 동안 2백만 명 이상의 사람들이 사망했던 반면에, 1965년-66년과 1974년-75년 사이에 있었던 마하라시트라 지역의 기근 동안에는 인명 피해가 거의 없었습니다.

—Louise Nicholson, *National Geographic Traveler: India*, 2007

5 이 글에 의하면, 최근 들어 문순의 부정적인 영향이 어떻게 줄어들었습니까?

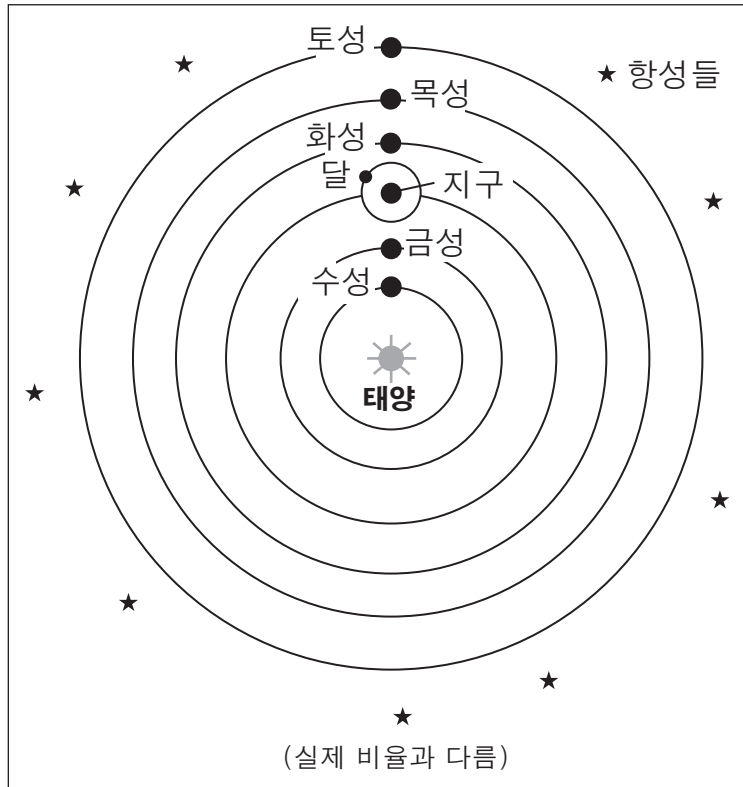
- (1) 군대가 홍수를 막기 위해 댐을 건설하고 있다.
- (2) 농부들이 물이 덜 필요한 농작물들을 재배하기 시작했다.
- (3) 홍수가 난 지역의 집 건축은 정부의 규제에 의해 통제되어 오고 있다.
- (4) 개선된 사회 기반 시설로 인해 도움이 필요한 곳에 물자를 수송할 수 있다.

6 이집트인들이 상형문자를 사용했던 것은 수메르인들이 다음 중 어느 것을 사용했던 것과 같은 방법이었습니까?

- (1) 표의 문자
- (2) 서예
- (3) 설형 문자
- (4) 알파벳 문자

- 7 다음 중 고대 그리스에서 정치적인 통합에는 장애가 되었고 독립 도시국가들 설립은 수월하게 했던 지리적 특성은?
 (1) 드넓은 평야 (2) 산악 지역 (3) 항해할 수 있는 강 (4) 수많은 항구
- 8 다음 중 당나라가 중국 문화 발전에 기여했던 바는?
 (1) 막부체제를 창설함 (2) 도자기와 목판 인쇄를 생산함 (3) 힌두교를 주요 사상으로 도입함 (4) 법률을 창안하고 이를 암석과 기둥에 새겨넣음
- 9 중동 지역에서 싸웠던 유럽 십자군들의 주요 목표는 무엇이었습니까?
 (1) 이탈리아 상인들을 위해 시장을 개척하기 (2) 비잔틴제국으로부터 교황 우르바노 2세를 구출하기 (3) 아시아 대평원에서 몽골 군대의 진격을 막기 (4) 예루살렘에 있는 그리스도교 성지 출입을 확보하기
- 10 중세 후기 동안 유럽에서 있었던 교역과 상업의 증대가 초래한 결과는?
 (1) 길드 구성원들의 생활 수준이 더 낮아짐 (2) 더 많은 마을과 도시들이 개발됨 (3) 왕들 간의 경쟁이 줄어들음 (4) 자급 자족할 수 있는 영지의 수가 늘어남
- 11 마르코폴로와 이븐 바투타의 기록은 다음 중 어느 것에 영감을 주었습니까?
 (1) 탐험과 무역 (2) 중대한 군사 원정 (3) 정치적 자유를 위한 운동 (4) 동남아시아로의 이슬람교 전파
- 12 13세기에 난징, 베니스, 모가디슈가 강력하고 영향력이 있는 도시들이었던 이유는?
 (1) 농업에 기반한 경제를 발달시켰기 때문 (2) 종교적인 성지 순례지였기 때문 (3) 민주적인 정부를 설립했기 때문 (4) 위치적인 요인들을 잘 활용했기 때문
- 13 가나, 말리 및 송가이의 서아프리카 제국들이 번성할 수 있었던 이유는?
 (1) 그들이 금과 소금 무역을 장악했기 때문 (2) 그들의 가축에 대한 수요가 많았기 때문 (3) 그들의 군대가 아프리카의 많은 부분을 점령했기 때문 (4) 그들이 그리스도교를 기본 종교로 채택했기 때문
- 14 흑사병이 가져온 즉각적인 결과는 무엇이었습니까?
 (1) 노동력 부족 (2) 해외 탐험 (3) 반유대주의 감소 (4) 의료 과학의 개선
- 15 다음 중 인본주의 철학을 가장 잘 표현하는 것은?
 (1) 신에 의해 구원될 사람이 정해진다. (2) 교황이 신의 궁극적인 말씀을 전한다. (3) 사람들은 잠재력을 가지며 배움으로써 자신들을 개선시킬 수 있다. (4) 인간의 지구에서의 삶은 사후를 위한 준비에 지나지 않는다.
- 16 다음 중 초기 잉카 제국이 이룩한 업적과 가장 밀접하게 연관이 있는 일은?
 (1) 운송 장비로써 바퀴를 발명함 (2) 철제 무기를 개선시킴 (3) 세계 무역을 확장시킴 (4) 산악 환경에 적응함
- 17 콜럼버스 교역의 주요한 영향은 무엇이었습니까?
 (1) 유럽의 경제가 붕괴함 (2) 유럽으로 새로운 식용 작물이 도입됨 (3) 유럽의 인구 수가 줄어들음 (4) 유럽 전역에서 민주적 권리가 확대됨
- 18 한 나라가 자국의 식민지들의 수입과 수출을 규제하여 유리한 거래의 균형을 만드는 정책은 다음 중 어느 것입니까?
 (1) 통상 금지령 (2) 아웃소싱 (3) 상업주의 (4) 윤회

19번 문제는 아래 그림과 자신의 사회과학 지식을 바탕으로 답하십시오.



19 다음 중 위의 태양계 개념을 개발한 것과 가장 직접적으로 관련이 있는 과학자는?

- (1) 톨레미
- (2) 데카르트
- (3) 코페르니쿠스
- (4) 뉴턴

20 악바르 대제는 다음 중 어느 것을 통하여 무굴 제국을 통합하고 인도의 서로 다른 사람들 간의 평화를 이룩하려 했습니까?

- (1) 종교적인 관용 정책을 장려함으로써
- (2) 모든 사람들에게 근대적인 복장을 채택하도록 강요함으로써
- (3) 치유의 영감을 주는 타지마 할을 건축함으로써
- (4) 불교를 국교로 채택함으로써

21 • 마그나 카르타의 서명
• 권리 청원의 서명
• 영국 권리장전의 통과

영국의 이 사건들은 다음 중 어느 것을 촉진했습니까?

- (1) 무장 해제 정책을 지원
- (2) 정부가 경제를 통제하는 것을 장려
- (3) 해외에서 영토를 획득하는 것을 정당화함
- (4) 의회 민주주의의 발전

22 다음 중 1500년에서 1750년 사이에 노예 노동력을 이용하여 라틴아메리카 농장에서 생산된 상업 생산품들은?

- (1) 옥수수와 호박
- (2) 바나나와 차
- (3) 설탕과 담배
- (4) 감자와 양모

23 계몽주의 철학자들의 사상은 다음 중 어느 것에 기반하였습니까?

- (1) 구원을 얻기 위한 노력
- (2) 인간의 이성에 대한 믿음
- (3) 전통적인 관행들
- (4) 피할 수 없는 가난

24 투생 루베르튀르와 호세 데 산 마르틴은 무엇으로 가장 잘 알려진 지도자들입니까?

- (1) 독립 운동을 주도함
- (2) 종교 개혁을 지원함
- (3) 시민 불복종을 장려함
- (4) 민주주의를 반대함

25번 문제는 아래의 포스터와 자신의 사회과학 지식을 바탕으로 답하십시오.

노동자들의 어깨 위에 올라타고 있는 황제, 성직자 및 부자들



ЦАРЬ, ПОП И БОГАЧ
НА ПЛЕЧАХ У ТРУДОВОГО НАРОДА.

출처: A. Apsit, Coloured Lithograph, 1918 (개정판)

25 다음 중 20세기 초반 러시아에서 위의 포스터를 이용하여 지원을 얻었을 법한 집단은?

- (1) 귀족
- (2) 볼셰비키
- (3) 군주제 지지자
- (4) 동방 정교의 성직자

- 26 자유방임주의 이론은 정부가 다음 중 어느 조치를 따라야 한다고 제안합니까?
- (1) 도움이 필요한 사람들에게 도움을 제공
 - (2) 일자리를 만들기 위해 비즈니스를 창설
 - (3) 자연법이 경제를 조절하게 내버려둠
 - (4) 국가의 광물 자원을 통제
- 27 1800년대 중반 아일랜드와 1900년대 초기 인도에서의 영국 지주제의 한 가지 영향은 무엇이었습니까?
- (1) 기근과 고통을 가져옴
 - (2) 지역 경제가 번성하게 만들
 - (3) 광업에 비해 식용 작물을 중시함
 - (4) 농업 혁명이 일어나게 함
- 28 매튜 페리 준장은 다음 중 어느 조치를 취한 것으로 가장 잘 알려져 있습니까?
- (1) 영국 동인도 회사를 이끔
 - (2) 의화단 사건 동안 유럽인들을 구출함
 - (3) 중국에서 유럽의 영향을 정당화함
 - (4) 미국과 유럽의 영향에 일본을 개방함
- 29 제1차 세계대전 동안, 군사 기술의 발전이 가져온 것은?
- (1) 연합국의 초기 승리
 - (2) 산업 자본주의 확립
 - (3) 독가스 사용과 잠수함 공격
 - (4) 서유럽에서 종족 간의 갈등이 심화됨
- 30 국제 연맹이 실패한 주요한 이유 한 가지는?
- (1) 국제 연맹이 베르사이유 조약에 포함되지 않았기 때문
 - (2) 국제 연맹이 공산 러시아에 의해 조종되었기 때문
 - (3) 국제 연맹이 그 막강한 군사력으로 많은 나라들을 위협했기 때문
 - (4) 국제 연맹이 위기 시에 많은 세계 주요 강대국의 지원을 받지 못했기 때문
- 31 다음 중 20세기 초반에서 중반에 일본이 제국주의에 돌입하기로 결정하는 데 가장 큰 영향을 미친 지리적 특성은?
- (1) 산악 지형
 - (2) 천연 자원의 부족
 - (3) 하천이 많음
 - (4) 섬 위치
- 32 다음 중 이오시프 스탈린의 통제 경제의 결과로 생긴 상황은?
- (1) 농부들이 개인적인 이윤을 위해 남은 곡물을 팔도록 장려되었다.
 - (2) 소비재 생산이 증가하였다.
 - (3) 국가의 재산이 늘어나 개인의 소비가 늘어날 수 있었다.
 - (4) 정부가 집단 농장을 통해 농업을 통제하였다.
- 33 제1차 세계대전 이후, 이탈리아에서 베니토 무솔리니와 독일에서 아돌프 히틀러가 집권하게 된 것은 다음 중 어느 것과 가장 밀접하게 연관되어 있습니까?
- (1) 파시즘의 발전
 - (2) 봉쇄에 대한 갈망
 - (3) 민주적 전통을 강조
 - (4) 보수적 종교 관행으로의 회귀
- 34 제2차 세계대전 이후 소련이 동유럽에 위성 국가들을 설립한 주요한 이유 한 가지는?
- (1) 서구와 더 나은 무역 관계를 발전시키기 위해
 - (2) 미래에 있을 침략에 대비해 완충 지대를 만들기 위해
 - (3) 국제 연합의 평화 유지 임무에 동참하기 위해
 - (4) 석유 수출국 기구(OPEC)를 장악하기 위해

35번 문제는 아래의 발췌문과 자신의 사회과학 지식을 바탕으로 답하십시오.

... 남아프리카에서 흑인과 백인 학생들간의 성취도 격차는 매우 큼니다. 웨스턴케이프 주에서는, 2005년의 한 수학 시험에서 한때 백인 학생들에게만 입학이 허용되었으나 현재에는 통합된, 그러나 일반적으로 좀 더 부유한[더 잘사는] 지역에 위치한 학교들의 학생들이 3명 중 2명이 통과한 것에 비해, 흑인 학생들이 대다수인 학교에서는 6학년 학생 1000명 중 오직 2명만이 이 시험에 통과했습니다....

-Celia W. Dugger

35 다음 중 이러한 성취도 차이에 가장 큰 영향을 미친 근본적인 역사적 요소는?

- (1) 아파르트헤이트 아래 존재하는 인종 간의 불평등
- (2) 학교 공동체에 내려진 경제적 제재
- (3) 백인 교육 프로그램에 대한 정부의 지원 부족
- (4) 정치적 암살과 내전 기간

36 “인도가 독립할 때 분할되었다”
“세르비아가 코소보에서 갈등에 불을 지폈다”
“증오로 인해 후투족과 투트시족이 분리되었다”

다음 중 위의 표제들이 뒷받침하는 결론은?

- (1) 문화적인 다양성이 안정된 사회로 이끈다.
- (2) 종족 및 종교적인 차이점들이 갈등의 원인이 되어왔다.
- (3) 경제적 협력이 정치적 문제들을 극복할 수 있다.
- (4) 성별의 차이가 사회적 지위의 차이보다 더 영향력이 크다.

37 제2차 세계대전 후의 기간 동안 중동에서 일어난 많은 갈등의 직접적인 원인은 무엇이었습니까?

- (1) 아랍 연맹의 해체
- (2) 이란과 중국 간의 국경 충돌
- (3) 팔레스타인과 연관된 분쟁들
- (4) 이집트의 분할

38번 문제는 아래의 글과 자신의 사회 지식을 바탕으로 답하십시오.

... “영 년(Year Zero)” 이후 30년 이상이 지나고, “민주주의로 회귀”한 후 십 년 이상이 지났어도, 캄보디아는 크게 변하지 않았으며 — 여전히 비참하고, 부패하며 무자비합니다. 가장 거칠고 부도덕한 사람들만이 “성공할” 수 있고 앞서갈 수 있습니다. 사회적 체계라고 할 수 있는 것은 거의 없으며, 크메르루즈의 야만적인 광기는 야만적인 자본주의로 대체되었지만, 대부분 똑같은 사람들이 권력을 차지하고 있습니다....

- Andre Vitcek,
“A Tortured History and Unanswered Questions”

38 위의 2006년 글에서 저자가 결론짓는 바는?

- (1) 민주주의가 발달하면 상황이 나아질 것이다.
- (2) 정부가 변해도 상황은 종종 변하지 않는다.
- (3) 크메르루즈를 대체하기 위해 새로운 지도자가 결정되었다.
- (4) 어려운 생활 조건이 사람들로 하여금 사회 체계에 더욱 의존하도록 만들었다.


39 다음 중 중국의 경제를 개선시키기 위해 덩샤오핑이 취한 조치는?

- (1) 해외 투자를 억제함
- (2) 몇몇 자본주의적 관행을 장려함
- (3) 홍위병을 조직함
- (4) 정보 공개를 실시함

40 다음 중 유전적으로 변형된 종자와 많은 양의 화학 비료 및 살충제들을 사용하여 전 세계적으로 식량 생산을 증가시키게 한 혁명은?

- (1) 문화 혁명
- (2) 명예 혁명
- (3) 과학 혁명
- (4) 녹색 혁명

41번 문제는 아래의 만화와 자신의 사회과학 지식을 바탕으로 답하십시오.



출처: Arend Van Dam, <http://www.politicalcartoons.com>, July 22, 2010 (개정판)

- 41 이 2010년 삽화의 주요 견해는?
- (1) 파키스탄이 아프가니스탄 문제들에 있어 중요하지 않은 역할을 한다.
 - (2) 미국과 파키스탄이 탈레반을 제거하기 위해 힘을 합칠 것이다.
 - (3) 물 사용 권리를 두고 파키스탄과 아프가니스탄 간의 분쟁이 계속해서 문제를 야기한다.
 - (4) 미국이 철수하면 탈레반은 아프가니스탄에 위협이 될 것이다.
-
- 42 세계 무역 기구(WTO), 북미자유무역협정(NAFTA) 및 유럽 연합(EU) 모두가 공통으로 가지는 주목적은?
- (1) 우주 탐험을 장려하고 위성을 유지함
 - (2) 개발도상국가들에게 경제적 원조를 증가시킴
 - (3) 국가 간의 무역을 장려하고 관세 장벽을 낮춤
 - (4) 환경을 보존하기 위해 법률들을 제정함

- 43 십진법의 사용, 의학의 발달 및 힌두교 사원의 건축은 다음 중 어느 나라의 황금 시대와 가장 밀접한 연관이 있습니까?
- (1) 압바스 왕조
 - (2) 한나라
 - (3) 굽타 제국
 - (4) 로마 제국
- 44 유스티니아누스 법전이 중요했던 이유 한 가지는?
- (1) 그 법전이 많은 서구 나라들의 근대적 법률 체계의 기초가 되었기 때문
 - (2) 그 법전이 함무라비 법전을 만드는 데 기초가 되었기 때문
 - (3) 그 법전이 아시아와 유럽의 많은 나라들의 법률들을 포함했기 때문
 - (4) 그 법전이 로마 영토에서 양도할 수 없는 권리를 보호하도록 만들었기 때문
- 45 다음의 기술 발전 중 종교 개혁의 성공에 가장 직접적으로 기여한 것은?
- (1) 천문관측
 - (2) 나침반
 - (3) 바퀴
 - (4) 활자 인쇄술
- 46 “자유, 평등, 박애” 및 “평화, 땅 그리고 빵”은 혁명가들이 다음 중 어느 것을 나타내기 위해 사용한 슬로건입니까?
- (1) 경제적인 안정을 위한 기본 틀
 - (2) 정치적 및 경제적 이상
 - (3) 사회적 계급을 유지하기 위한 계획
 - (4) 정치 개혁의 방법들
- 47 오토 폰 비스마르크와 카밀로 카보우르가 비슷했던 점 한 가지는?
- (1) 두 지도자 모두 고립주의 정책을 따랐다
 - (2) 두 지도자 모두 교황의 정책을 채택하였다
 - (3) 두 지도자 모두 아프리카 독립 운동을 이끌었다
 - (4) 두 지도자 모두 새로운 민족 국가를 형성하기 위해 통일에 힘썼다

48 아래의 미완성된 개요를 가장 잘 완성하는 제목은?

I. _____

A. 1800년대 초, 나폴레옹 보나파르트의 대군이 북유럽을 휩쓸다.

B. 제1차 세계대전 중, 독일이 벨기에를 통해 프랑스에 침입한다.

C. 제2차 세계대전 중, 독일이 서유럽을 기습 공격한다.

- (1) 침략 경로로써 강의 중요성
- (2) 참호전의 교착 상태
- (3) 정복을 위해 북부 평원을 이용
- (4) 전쟁에 있어서 해상봉쇄의 역할

49 러시아 피터 대제의 통치와 일본 메이지 황제의 통치의 유사점 한 가지는?

- (1) 두 지도자 모두 농노를 해방했다
- (2) 두 지도자 모두 여성에게 평등권을 부여했다
- (3) 두 지도자 모두 근대화를 장려했다
- (4) 두 지도자 모두 헌법에 따라 통치했다

50 뉘른베르크 재판과 남아프리카에서의 진실과 화해 위원회의 목적 한 가지는 무엇이었습니까?

- (1) 인권 침해를 다룸
- (2) 민주 정부 수립을 지원
- (3) 전세계에 걸쳐 자유무역지대를 설립
- (4) 철의 장막 뒤에 있는 사람들을 격려

에세이 문제의 답은 별도의 에세이 책자에 쓰십시오.

파트 II의 답을 작성할 때, 다음의 일반적 정의를 참고하십시오.

논하십시오란 “사실과 추론 및 논증을 이용하여 어떤 것에 대하여 관찰하고, 어느 정도 상세한 정보를 포함하여 서술한다” 는 의미입니다.

파트 II

주제형 에세이 문제

지시사항: 서론, 아래 과제를 다루는 여러 개의 문단 및 결론을 포함하는 잘 구성된 에세이를 작성하십시오.

주제: 신념 체계—운동

신념 체계는 단체나 개인이 종교적 신앙이나 철학적 원리들을 바라보는 체계화되고 정돈된 하나의 방법입니다. 일부 신념 체계는 그 발생지 밖으로 전파되었습니다. 이러한 신념 체계의 확산은 다양한 방법으로 다른 사회나 지역에 영향을 미쳤습니다.

과제:

그 발생지 밖으로 전파된 신념 체계 **두 가지**를 선택한 다음, **각** 신념 체계에 대하여,

- 그 신념 체계의 중심 원칙을 논하십시오
- 이 신념 체계가 다른 지역으로 어떻게 전파되었는지 논하십시오
- 이러한 신념 체계의 전파가 어느 한 사회나 지역에 미친 영향을 논하십시오

세계사와 지리 공부를 통해 배운 어느 신념 체계를 사용해도 됩니다. 고려해볼 만한 신념 체계로는 불교, 유교, 유대교, 기독교, 이슬람교, 공산주의 사상 등이 있습니다.

답안에 사용할 수 있는 것은 위에 제안된 것에 국한되지 않습니다.

단, 신념 체계가 전파된 지역으로 미국은 사용하지 마십시오.

지침사항:

에세이 작성 시, 반드시

- 과제의 모든 측면을 전개시키십시오
- 관련 사실, 사례 및 상세한 정보로 주제를 뒷받침하십시오
- 주제의 단순 반복이 아닌 서론과 결론을 포함한 논리적이고 명확한 구성 계획을 사용하십시오

파트 III

문서에 기초한 문제

이 문제는 주어진 문서들을 바탕으로 합니다. 이 문제는 역사적 문서를 처리하는 능력을 시험하기 위한 의도로 고안되었습니다. 문서들의 일부 내용은 이 문제의 목적에 맞도록 편집되었습니다. 문서들을 분석할 때, 각 문서의 출처와 문서에 나타난 관점을 참작하십시오. 각 문서에 사용된 언어는 그 문서가 쓰여진 시기의 역사적인 상황을 반영할 수 있다는 점을 참고하십시오.

역사적 배경:

역사에 걸쳐, **로마 제국**, **오스만 제국** 및 **대영 제국**과 같은 제국들은 그들의 몰락을 이끈 다양한 문제들에 직면했습니다. 이 제국들의 몰락은 사회와 지역의 변화에 영향을 미쳤습니다.

과제: 문서들이 제공하는 정보와 자신의 세계사 지식을 활용하여 파트 A의 각 문서 아래에 있는 문제들에 답하십시오. 이 문제들에 대한 답은 파트 B의 다음 에세이를 작성하는 데 도움이 될 것입니다.

위의 역사적 배경에 언급된 제국들 중 **두 가지**를 선택한 다음, **각** 제국에 대하여,

- 이 제국의 몰락을 가져온 문제점들을 묘사하십시오
- 이 제국의 몰락이 어느 한 사회 및/또는 지역의 변화에 어떠한 영향을 미쳤는지 논하십시오

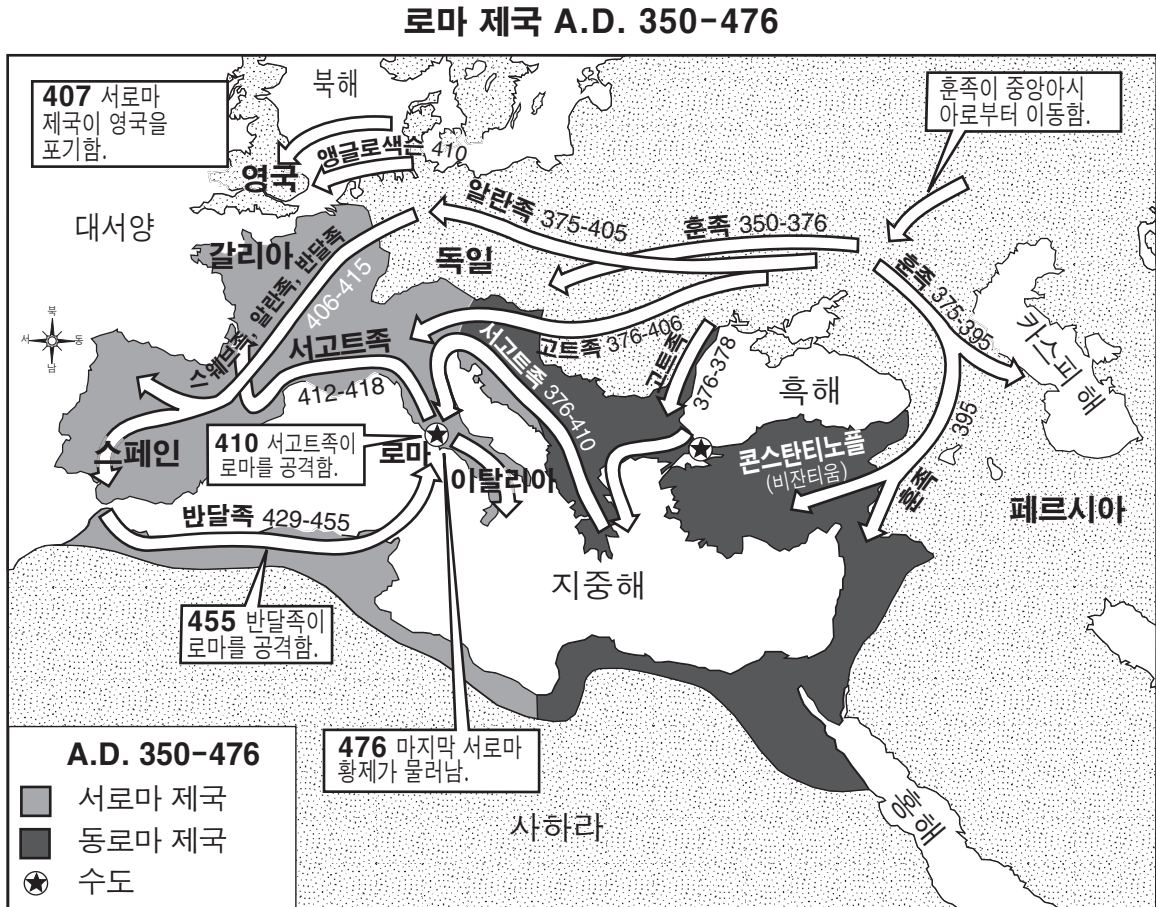
파트 III의 답을 작성할 때 다음의 일반적 정의를 참고하십시오.

- (a) **묘사하십시오**란 “무엇에 관해 글로 설명하거나 그것에 대하여 말한다” 를 의미입니다
 (b) **논하십시오**란 “사실과 추론 및 논증을 이용하여 어떤 것에 대하여 관찰하고, 어느 정도 상세한 정보를 포함하여 서술한다” 는 의미입니다

파트 A
단답형 문제

지시사항: 문서들을 분석하고, 각 문서 아래에 있는 단답형 문제의 답을 주어진 칸에 쓰십시오.

문서 1



1 이 지도에 나와있는 정보에 근거하여, 로마 제국의 몰락에 기여했던 문제 **한 가지**를 쓰십시오. [1]

Score

문서 2

... 2세기 중반에 이르러 이탈리아[로마 제국 내에 있는]는 쇠퇴해가고 있었습니다. 4세기 초기의 디오클레티아누스 황제 시대에 이르러서는, 제국의 모든 곳에 걸쳐 그 몰락이 분명해졌습니다. 구매자가 줄어들고, 바다에서의 해적 행위 및 안전하지 않은 육로들로 인해, 상업은 대부분 사라졌습니다. 일반적으로 말해, 이 시기에 구매력이 있는 사람들은 공공 관료, 군대의 장교 및 거대한 토지 소유주들로 한정되었습니다. 생활 필수품의 교역은 모두 사라졌으며, 사치품의 교역만이 번성했습니다. 정부가 자리잡은 장소를 제외한 서부의 도시들은 대부분 쇠퇴하고 있었으며, 그 도시들의 상업 계층과 산업 계층들은 사라졌으며, 과거의 교역자들은 동방에서 온 상인들로 대체되었는데, 이 중 가장 악명높았던 것은 시리아 상인들이었습니다. 해외 교역은 급격히 줄었습니다. 정부는 여러 경우에 포도주, 오일, 곡류, 소금, 무기, 철 및 금과 같은 다양한 상품들의 수출을 금지했습니다. 이러한 수출의 제한과 더불어, 나라가 비단을 독점했던 것을 볼 때 특정 수입물을 통제하려는 노력도 또한 행해졌습니다. 이러한 두 가지 움직임은 제국 밖에서의 상업 계약을 위축시켰으며 해외 교역의 남은 것 외의 모든 상업 계약들을 없어지게 했습니다....

출처: Louis C. West, "The Economic Collapse of the Roman Empire," *The Classical Journal*, November 1932

2 Louis C. West에 따르면, 로마 제국이 쇠퇴해 가던 기간 동안 직면했던 경제적 문제 **두 가지**는 무엇이었습니까? [2]

(1)

Score

(2)

Score

문서 3

... 서유럽이 게르만의 침공으로 함락됨에 따라, 제국의 힘은 로마 제국의 동부에 위치한, 즉, 콘스탄티노플이 수도인 비잔틴 제국으로 옮겨졌습니다. 과거 로마 제국의 동쪽에 위치했던 주들은 언제나 서쪽에 위치했던 주들보다 그 수가 많았습니다. 이 주들의 문명은 훨씬 오래되었고 더 커다란 도시들이 있었으며, 또한 서쪽에 위치한 주들보다 그 수가 더 많았습니다....

출처: Steven Kreis, *The History Guide: Lectures on Ancient and Medieval European History*, Lecture 17, History Guide online

3 Steven Kreis에 따르면, 서로마 제국의 몰락으로 인하여 생긴 변화 **한 가지**는 무엇이었습니까? [1]

Score

문서 4

비엔나를 정복하기 위해 두 번째 및 마지막 시도를 했던 1683년에 이르러, [오스만] 제국의 힘은 기울어져가고 [사라져가고] 있었습니다. 정복은 실패로 돌아갔습니다. 유럽의 점령이나 막대한 부의 획득에 실패한 채로, 제국은 탄력을 잃었으며 서서히 몰락해갔습니다.

[오스만] 제국의 몰락에 기여한 다른 여러 요인은 다음과 같습니다:

- 남북 아메리카로부터 온 교역과의 경쟁
- 인도와 극동 지역에서 온 값싼 생산품들과의 경쟁
- 다른 무역로들의 개발
- 제국 내의 실업률 증가
- 오스만 제국의 중앙 집중이 점점 약화되고 중앙 집권이 약화됨
- 제국의 통치에 있어서 술탄의 엄격한 도덕적 기준이 약해짐
- 술탄이 대중의 견해에 더 무관심하게 됨

출처: "Ottoman Empire (1301–1922)," BBC online, 2009 (개정판)

4a BBC에 따르면, 오스만 제국의 쇠퇴에 기여한 경제적 문제 **한 가지**는 무엇이었습니까? [1]

Score

b BBC에 따르면, 오스만 제국의 쇠퇴에 기여한 정치/적 문제 **한 가지**는 무엇이었습니까? [1]

Score

문서 5

... 1875년, 보스니아와 헤르체고비나의 오스만 지역(현재의 보스니아 헤르체고비나)에 살고 있던 슬라브족 사람들은 그들의 자유를 얻기 위해 오스만 제국에 대항하는 반란을 이끌었습니다. 오스만 제국의 쇠약함으로 인해, 두 개의 독립된 이웃하는 슬라브족 국가들인 몬테네그로와 세르비아로 하여금 반란을 지원하게 만들었습니다. 일 년이 채 지나지 않아, 반란은 불가리아의 오스만 지역으로 확대되었습니다. 이러한 반란은 범-슬라브 운동이라 불리는 더 커다란 정치적 운동의 일부였으며, 이러한 운동의 목표는—대부분 오스트리아, 독일 및 오스만 제국의 지배를 받고 있던—모든 슬라브족 사람들을 러시아의 보호 아래 하나의 정치적 통일체로 통합하는 것이었습니다. 또한 오스만 제국을 빨리 정복하고 이스탄불을 장악하고 싶었던 러시아는 반란군, 세르비아 및 몬테네그로와 연합하여 오스만 제국에 선전포고를 하였습니다....

출처: Richard Hooker, "European Imperialism and the Balkan Crisis," *The Ottomans, World Cultures*

- 5 Richard Hooker에 따르면, 오스만 제국이 쇠퇴하는 동안 그들이 직면했던 문제 **한 가지**는 무엇이었습니까? [1]

Score

문서 6

... 무스타파 케말[아타튀르크]은 오스만 제국의 모든 전통은 폐기되어야 하며 터키가 근대적인 유럽의 한 국가로 탈바꿈해야 한다고 믿었던 세속적인 민족주의자였습니다. 이는 겉으로 보기보다는 덜 급격하게 과거와 단절하는 것이었습니다. *탄지마트* 개혁[1839년에서 1876년 사이]은 세속 국가가 되는 기초를 놓았고, 청년 터키당 당원들은 제국을 보존하려는 노력을 하면서도 터키 민족주의의 명분에 강력한 자극 [동기]을 주었습니다. 전쟁[1914-1918년] 동안, 교육의 세속화가 진행되었고, 대학과 공공직들이 여성들에게 개방되었습니다. 종교적 지도자들의 통제하에 있었던 몇몇 법원들이 법무부 아래에 속하게 되었습니다. 결혼과 이혼이 1916년에 개정된 법에 의해 개혁되었습니다....

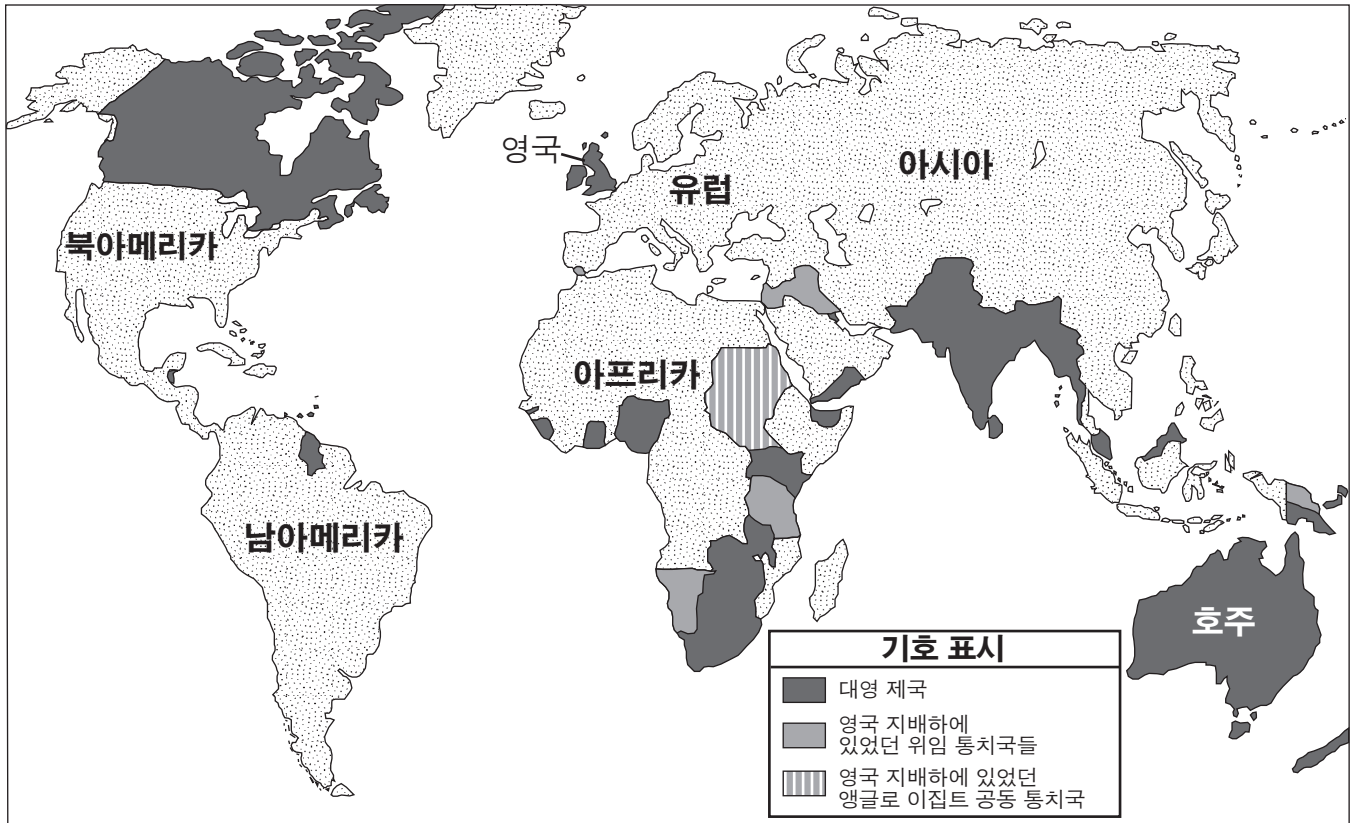
출처: Peter Mansfield, *A History of the Middle East*, Viking

- 6 Peter Mansfield에 따르면, 오스만 제국이 쇠퇴하고 새로운 터키가 기틀이 잡혀가기 시작할 때 생겼던 변화 **한 가지**는 무엇이었습니까? [1]

Score

문서 7

1920년대 초의 대영 제국과 위임 통치국



출처: Encyclopedia Britannica Kids (개정판)

7 이 지도에 나와있는 정보에 의하면, 영국이 대영 제국을 다스리는 것을 어렵게 만들었던, 직면했던 문제점 한 가지는 무엇이었습니까? [1]

Score

문서 8

... 제2차 세계대전은 인도의 독립에 대한 영국의 자세를 매우 크게 변화시켰습니다. 독립한 인도가 영국에 빚진 돈을 갚지 않으리라는 염려는 더 이상 유효하지 않았습니다. 실제적으로는 영국이 인도에게 십억 파운드 이상의 빚을 지고 있었습니다. 또한 인도의 군대를 영국으로부터 인수받을만한 충분한 수의 인도인 장교들이 없다는 염려도 유효하지 않았습니다. 전쟁의 결과로, 만오천명 이상의 인도인 장교가 있었습니다. 또한, 인도에서 복무하다 고국으로 돌아온 많은 영국 군인들은 인도 사람들이 영국 정부를 얼마나 탐탁치 않게 생각하는지를 알게 되었습니다. 영국에서는, 클레멘트 애틀리의 노동당이 윈스턴 처칠의 보수당을 물리치고 정권을 잡았습니다....

인도의 독립에 이미 우호적이었던 노동당은 인도에서 상당한 불안정한 상태에 직면했습니다. 1945년-46년의 추운 겨울은 그나마 부족했던 식량과 의류를 더욱 부족하게 만들었습니다. 최근에 감옥에서 출소한 많은 민족주의자 지도자들은 자유를 얻기 위해 폭력 행동을 장려하는 연설을 했습니다. 켈커타에서는 항의 운동이 폭동으로 번졌으며, 이로 인해 삼십 명이 사망했고 수백 명이 부상을 당했습니다....

출처: *Indian Independence and the Question of Pakistan*, Choices Program, Watson Institute for International Studies, Brown University

8 *Indian Independence and the Question of Pakistan* (인도 독립과 파키스탄의 문제)의 발췌문에 의하면, 영국이 인도의 독립을 더욱 기꺼이 승인하게 만든 **두 가지** 요인은 무엇이었습니까? [2]

(1)

Score

(2)

Score

문서 9

... 지난 60년 동안[1928년부터], 대영 제국은 분해되었습니다. 제국 내의 대부분의 민족들은 그들의 독립을 요구하여 쟁취했습니다. 제국이 사라짐에 따라, 영국은 부의 주요 원천을 잃었습니다. 이와 동시에, 영국은 수 년간 누려온 산업적 이점들도 잃었습니다....

출처: Clare McHugh, *Scholastic World Cultures: Western Europe*, Scholastic, 1988

9 Clare McHugh에 따르면, 대영 제국이 분해됨으로 인하여 영국이 직면했던 변화 **한 가지**는 무엇이었습니까? [1]

Score

파트 B 에세이 문제

지시사항: 서론, 여러 개의 문단 및 결론을 포함하는 잘 구성된 에세이를 작성하십시오. **최소한 네 개의** 문서에서 증거를 찾아 에세이에 사용하십시오. 관련 사실, 사례 및 자세한 정보를 사용하여 자신의 답안을 뒷받침하십시오. 다른 출처의 추가 정보도 포함시키십시오.

역사적 배경:

역사에 걸쳐, **로마 제국**, **오스만 제국** 및 **대영 제국**과 같은 제국들은 그들의 몰락을 이끈 다양한 문제들에 직면했습니다. 이 제국들의 몰락은 사회와 지역의 변화에 영향을 미쳤습니다.

과제: 문서들이 제공하는 정보와 자신의 세계사 지식을 활용하여 다음 사항들에 맞게 에세이를 작성하십시오.

위의 역사적 배경에 언급된 제국들 중 **두 가지**를 선택한 다음, **각** 제국에 대하여,

- 이 제국의 몰락을 가져온 문제점들을 묘사하십시오
- 이 제국의 몰락이 어느 한 사회 및/또는 지역의 변화에 어떠한 영향을 미쳤는지 논하십시오

지침사항:

에세이 작성 시, 반드시

- 과제의 모든 측면을 전개시키십시오
- **최소 네 개의** 문서로부터 찾은 정보를 포함시키십시오
- 관련된 다른 출처의 정보도 포함시키십시오
- 관련 사실, 사례 및 상세한 정보로 주제를 뒷받침하십시오
- 주제의 단순 반복이 아닌 서론과 결론을 포함한 논리적이고 명확한 구성 계획을 사용하십시오

