



**Korean Edition**  
**Grade 3 Mathematics Test, Book 2**  
**March 2-6, 2009**

뉴욕주 시험 프로그램  
수학 시험  
제 2권

**3**학년

2009년 3월 2-6일  
이름 \_\_\_\_\_



Developed and published under contract with the New York State Education Department by CTB/McGraw-Hill LLC, a subsidiary of The McGraw-Hill Companies, Inc., 20 Ryan Ranch Road, Monterey, California 93940-5703. Copyright © 2009 by the New York State Education Department. Permission is hereby granted for school administrators and educators to reproduce these materials, located online at <http://www.emsc.nysed.gov/osa>, in the quantities necessary for their school's use, but not for sale, provided copyright notices are retained as they appear in these publications. This permission does not apply to distribution of these materials, electronically or by other means, other than for school use.

## 시험 관련 도움말

다음은 자신의 실력을 최고로 발휘하는 데 도움이 되는 사항들입니다.

- 시험지에 있는 모든 지시 사항들을 자세히 읽으십시오.
- 각 문제를 자세히 읽고 정답을 쓰기 전에 답이 맞는지 한 번 더 생각해 보십시오.
- 풀이 과정을 써야 하는 문제도 있습니다. 이 경우 풀이 과정을 쓰면 부분 점수를 받을 수도 있습니다.



이 그림이 있는 문제에서는 자를 사용하십시오.



26

저스틴은 소풍에 냅킨을 가져왔습니다. 소풍에 온 사람 한 명 당 3장씩 총 9사람 몫의 냅킨을 가져왔습니다. 저스틴이 소풍에 가져온 냅킨은 모두 몇 장입니까?

풀이 과정을 쓰시오.

답 \_\_\_\_\_ 장

27



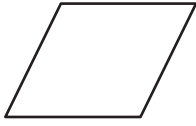
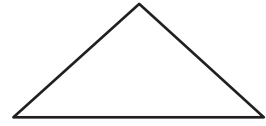
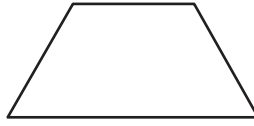

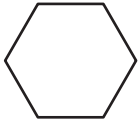
작년에 팔린 학교 축제 티켓은 모두 638장입니다. 올해에는 작년보다 287장 적은 수의 티켓이 팔렸습니다. 올해 학교 축제에서 팔린 티켓은 모두 몇 장입니까?

풀이 과정을 쓰시오.

답 \_\_\_\_\_ 장

계속

**28** 안나는 아래 그림과 같은 도형을 그렸습니다.



**파트 A**

사다리꼴에 크게 X 표시를 하시오.

**파트 B**

안나가 그린 도형들 중 하나는 육각형입니다. 아래의 빈 칸에 육각형이 사다리꼴과 다른 점을 **하나** 쓰십시오.

---

---

---

---


---




---

계속

달튼의 학교에는 분실물 습득 보관상자가 있습니다. 아래의 그림은 세 달 동안 분실물 습득 보관상자 안에 수집된 모자 개수를 표시한 것입니다.

분실물 습득 보관상자 안의 모자

기호 표시
 = 모자 5 개

월	모자 개수
1 월	
2 월	
3 월	

2월달에 분실물 습득 보관상자에 수집된 모자 개수는 1월달에 수집된 모자 수보다 얼마나 많습니까?

풀이 과정을 쓰시오.

답 \_\_\_\_\_ 개의 모자

계속

아래 표는 캐리가 4일 동안 무용 연습을 매일 몇 분 동안 했는지를 보여줍니다.

### 캐리의 무용 연습

일	분
1 일째	18
2 일째	25
3 일째	32
4 일째	39
5 일째	?

계속



표에 적힌 시간의 패턴이 계속된다면 5일째에는 캐리가 몇 분 동안 무용 연습을 하게 될까요?

답 \_\_\_\_\_ 분

위의 답을 구한 과정을 아래 빈 칸에 설명하십시오.

---

---

---

---

---

---

표의 패턴이 몇 일 동안 계속된다면 캐리가 53분 동안 무용 연습을 하게 되는 날은 몇 번째 날일까요?

답 \_\_\_\_\_ 일째

계속

31

아래 표는 수요일 점심 시간 후에 학교 식당에 남은 샌드위치의 개수를 종류별로 표시한 것입니다.

### 수요일에 남은 샌드위치

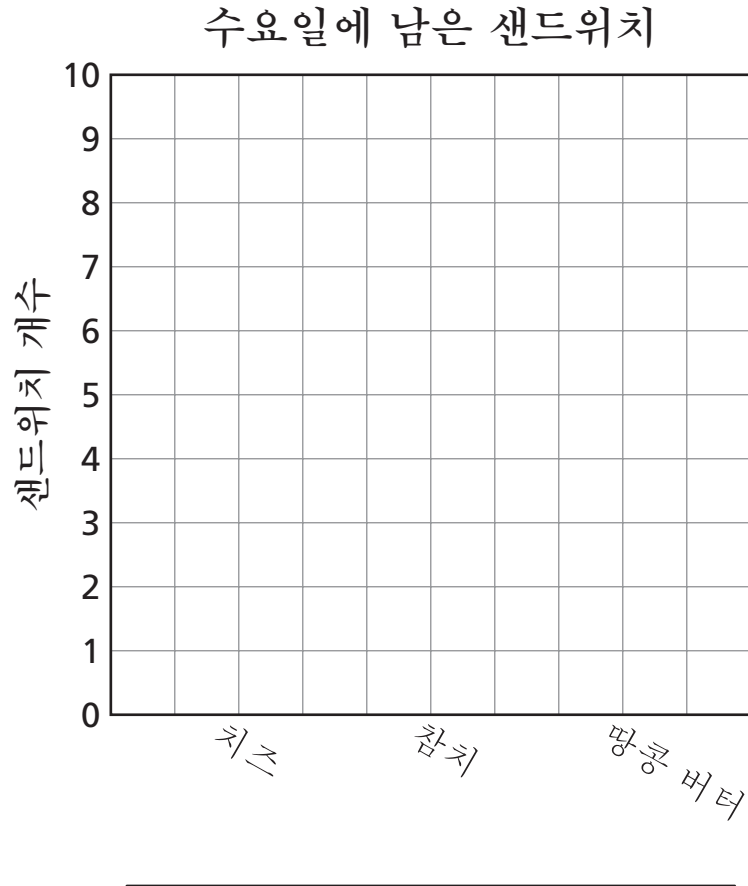
종류	샌드위치 개수
치즈	6
참치	2
땅콩 버터	9

계속

아래의 모눈 그래프에 수요일 점심 시간 후에 학교 식당에 남은 샌드위치의 종류와 개수를 나타내는 막대 그래프를 그리시오.

지켜야 할 사항

- 빈칸에 축의 이름을 표시할 것
- 모든 데이터를 그래프에 표시할 것



중지

---

---

Place Student Label Here



**3학년**  
**수학 시험**  
**제 2권**  
**2009년 3월 2-6일**

**Grade 3**  
**Mathematics Test**  
**Book 2**  
**March 2-6, 2009**

*The McGraw-Hill Companies*

---