



Haitian Creole Edition
Grade 4 Mathematics, Book 3
March 6–10, 2006

Pwogram Egzamen Leta Nouyòk
Matematik
Liv 3

Ane **4**

6–10 Mas 2006

Non _____



Developed and published by CTB/McGraw-Hill LLC, a subsidiary of The McGraw-Hill Companies, Inc., 20 Ryan Ranch Road, Monterey, California 93940-5703. Copyright © 2006 by New York State Education Department. All rights reserved. No part of this publication may be reproduced or distributed in any form or by any means, or stored in a database or retrieval system, without the prior written permission of New York State Education Department.

TRIK POU FÈ EGZAMEN AN

Men kèk sijesyon pou ede ou fè tout sa ou kapab:

- Asire ou li avèk atansyon tout direksyon ki nan tiliv egzamen an.
- Ou ka sèvi avèk zouti pou ede ou rezoud nenpòt pwoblèm ki nan egzamen an.
- Li chak kesyon avèk atansyon epi reflechi sou repons lan anvan ou ekri repons ou.
- Asire ou montre travay ou lè yo mande ou. Ou ka resevwa yon pati nan kredi a si montre travay ou.



Pòtre sa a vle di ou pral sèvi avèk règ ou.



Pòtre sa a vle di ou pral sèvi avèk blòk modèl ou yo.



Pòtre sa a vle di ou pral sèvi avèk kontè ou yo.

40

Ane pase, Msye Madden te fè 4.687 mil avèk oto li. Ane sa, li fè 3.109 mil avèk oto li. Konbyen mil **anplis** Msye Madden te fè ane pase avèk oto li pase ane sa a?

Montre travay ou.

Repons _____ mil

Kontinye

41

Troy genyen egzakteman 3 zan anmwens pase Nicole. Nicole genyen 12 zan jodi a. Ki laj Troy ap genyen nan 2 zan?

Montre travay ou.

Repons _____ ane

42

Kent County Airport lan genyen twa paking.

- Pasèl A genyen 430 espas pou paking.
- Pasèl B genyen 150 espas pou paking an mwens pase Pasèl A.
- Pasèl C genyen 380 espas pou paking anplis pase Pasèl A.

Ki kantite total espas pou paking ki nan ayewopò a?

Montre travay ou.

Repons _____ espas pou paking

Kontinye

43

Madam Ames mete tuil nan miray kwizin li. Li fè 12 ranje tuil, avèk 20 tuil nan chak ranje. Li sèvi ak 188 tuil jòn. Rè s tuil yo te ble. Konbyen tuil **ble** Madam Ames te itilize?

Montre travay ou.

Repons _____ tuil ble

44

Msye Marvin depanse \$54,10 pou achte pantalon ak chemiz. Li ba kesye a \$60,00. Konbyen lajan kesye a remèt Msye Marvin?

Montre travay ou.

Repons \$ _____

Kontinye

45 Jeremy ekri modèl nimerik ki anba a.

3, 9, 15, 21, 27, ?

Pati A

Ki pwochen nonb ki pou nan modèl la?

Repons _____

Sou liy ki anba yo, dekri modèl Jeremy an.

Pati B

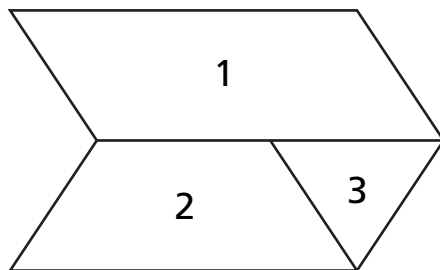
Sou liy ki anba yo, dekri yon ansanm nonb diferan ki itilize menm règ ak modèl Jeremy an. Pa sèvi ak nonb Jeremy ekri yo.

Modèl _____ , _____ , _____ , _____

46

Alison sèvi ak twa figi diferan pou fè Figi A ki anba a.

FIGI A



Pati A

Kouman yo rele twa figi sa yo?

Figi 1 _____

Figi 2 _____

Figi 3 _____

Pati B





Selon kantite kote yo, ki kalite poligòn Figi A ye?

Repons _____


Kontinye

Piktogram anba a prezante kantite papiyon ki nan kat koleksyon diferan.

KOLEKSYON PAPIYON

Koleksyon	Kantite Papiyon
A	
B	
C	
D	

LEJANN

 = ? Papiyon

Pati A

Genyen 20 papiyon nan Koleksyon A. Konbyen papiyon chak desen papiyon nan lejann lan reprezante?

Repons _____ papiyon

Sou liy ki anba yo, eksplike fason ou jwenn repons ou.

Pati B

Konbyen papiyon **anplis** ki nan Koleksyon B pase Koleksyon C?

Montre travay ou.

Repons _____ papiyon

Kontinye

48

Yon dofen ka naje sou 22 mil an 1 èdtan. Yon ti wòkwal (balèn) ka naje sou 15 mil nan 1 èdtan. Konbyen mil **pi lwen** yon dofen ka naje pase yon ti wòkwal an 6 èdtan?

Montre travay ou.

Repons _____ mil

RETE LA

Place Student Label Here



Ane 4
Matematik
Liv 3

Grade 4
Mathematics
Book 3