

五年級

初級程度 社會科學測驗

第一卷

選擇題和問答題

2002年11月13日

學生姓名 _____

學校名稱 _____

請用工整字跡在以上劃線部份填寫您的姓名和學校名稱。

本測驗包含三部份。本卷包含第一部份和第二部份第二卷包含第三部份。

第一部份包含35道多種選擇題。請在單獨的答卷紙上標出答案。在答卷紙上僅限使用2號鉛筆。

第二部份包含幾道簡短的問答題。請把第二部份答案寫在本卷中。

第一卷的答題時間為一個半小時。

在接到指令前請勿打開本考卷

第一部份

說明

本測驗第一部份共有35道題，每一道題後列出四項選擇答案，標為A-D。請認真閱讀每一道題，選擇正確的答案。請在單獨的答卷紙上代表每個問題的圓圈行標出您的答案，方法是塗黑與您選擇的答案字母相同的圓圈。請用鉛筆在答卷紙上作標記。

請閱讀以下例題:

例題

哪一個城市是紐約州的首府?

- A 尤蒂卡(Utica)
- B 奧爾巴尼(Albany)
- C 紐約市(New York City)
- D 布法羅(Buffalo)

正確的答案是「奧爾巴尼(Albany)」，該答案的編號是**B**。在您的答卷紙上找到代表同一例題選擇答案的圓圈。由於選擇**B**是例題的正確答案，標有B的圓圈被塗黑。

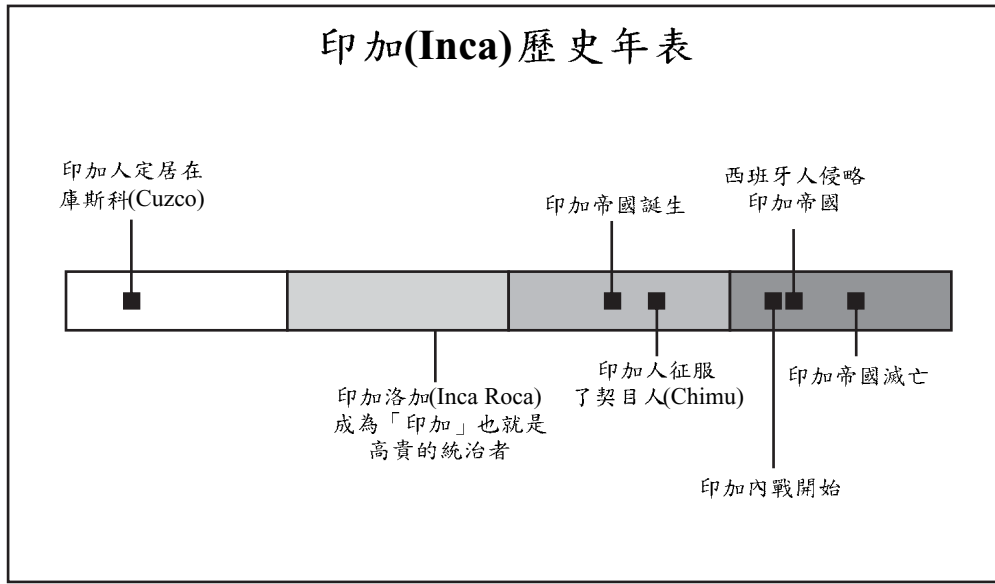
請回答本試卷第一部份的所有35個問題。每道題僅限塗黑一個圓圈。如果需要改動，請務必用橡皮擦把原來填寫的答案擦乾淨。您可能不知道某些問題的答案，但請儘量回答每一道題。

第一部份結束後，請繼續做第二部份。

第一部份

請回答本部份的所有問題。

請按下面的歷史年表作答問題1和2。



1 印加人何時定居於庫斯科？

- (A) 1050 (C) 1438
(B) 1100 (D) 1650

2 按歷史年表所示，印加帝國大約維持了幾年？

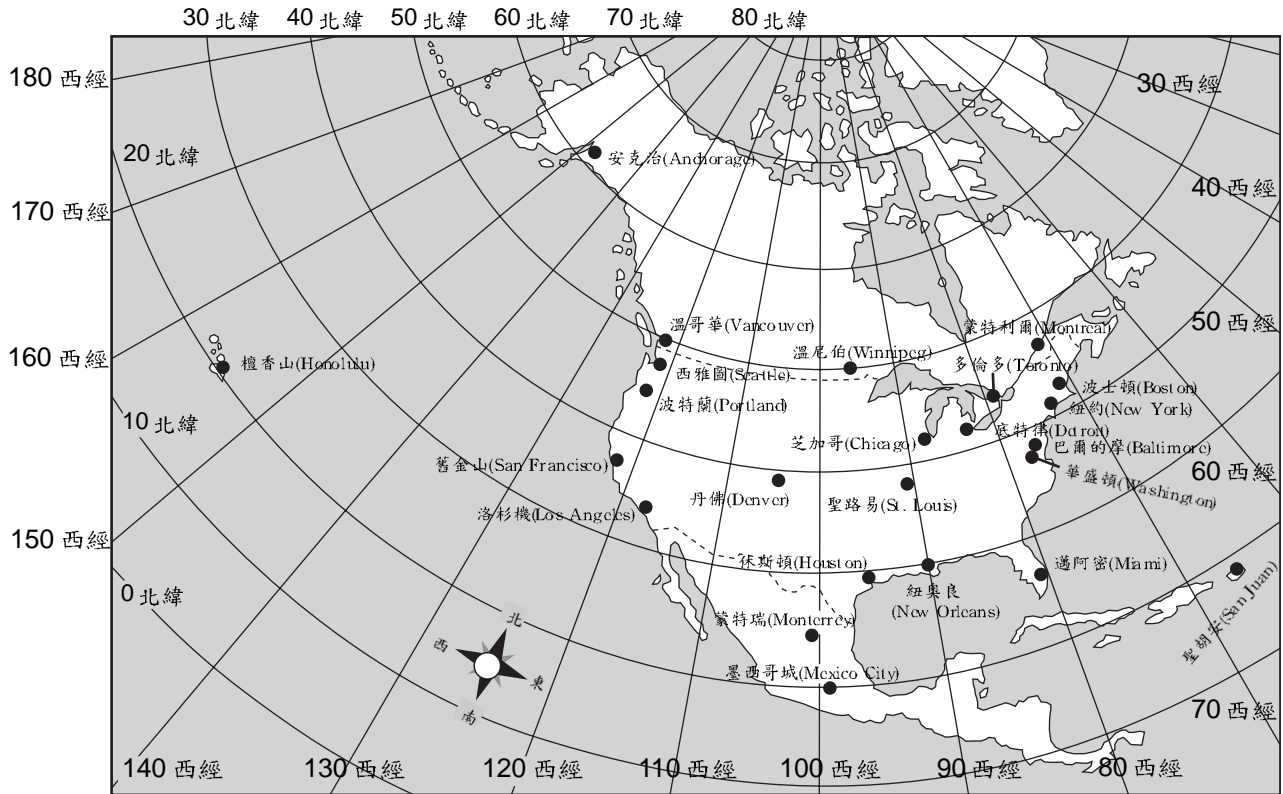
- (A) 135 (C) 1572
(B) 500 (D) 1650

3 一個地區經時的氣象狀態稱為

- (A) 溼度 (C) 溫度
(B) 氣候 (D) 降雨量

按下圖作答問題4和5。

緯度和經度



資料來源：Scott Foresman and Co.發行的*America Past and Present*(改編)

4 位於地圖上西經90度北緯30度的城市是哪一個？

- (A) 溫哥華
- (B) 邁阿密
- (C) 波士頓
- (D) 紐奧良

5 丹佛以西最遠的城市是哪一個？

- (A) 巴爾的摩
- (B) 洛杉磯
- (C) 檀香山
- (D) 舊金山

按下圖作答問題6。



- 6 聖約瑟、哈瓦那、墨西哥城、聖薩爾瓦多這四個城市很相似因為它們都是
- (A) 位於南美洲
 - (B) 屬於美國的一部份
 - (C) 位於牙買加以北
 - (D) 國家的首都

7 下面哪一種屬於環保活動？

- (A) 採煤礦
- (B) 紙和塑膠的回收
- (C) 鑽
- (D) 商業性捕魚

按下面方格內概要部份作答問題8。

I. _____ A. 都市 B. 鄉下 C. 郊區

8 本概要最好的標題是什麼？

- (A) 鄉村生活 (C) 社區分類
(B) 城市景觀 (D) 工作類型
-

9 為什麼大部份的大都市有著許多高大的建築物？

- (A) 高建築物的視野比較好。
(B) 大部份的都市街道太狹窄。
(C) 許多人需要生活與工作的空間。
(D) 這些建築物看起來比房子好。

10 哪一種人是提供物品而不是提供服務的？

- (A) 教師 (C) 農人
(B) 醫師 (D) 女服務員

11 如果是一個民主國家，個人可以成為領導只要是

- (A) 經由人民選舉 (C) 打贏戰爭
(B) 生而為王 (D) 由國王指定

12 哪種行為是表現參與社區的政治活動？

- (A) 利用圖書館 (C) 繳交停車罰單
(B) 競選市長 (D) 使用斑馬線

按下面方框內的資料作答問題13。

- 使用以毛皮換來的鐵鍋
- 不只是穿動物的皮而已，也穿毛、棉和亞麻衣服
- 使用金屬製而非骨製的魚鈎
- 感染到被帶至西半球的疾病像天花、麻疹

13 上述說明

- (A) 亞洲移民改變了美國人的生活
 - (B) 歐洲人改變了美國印第安人的生活
 - (C) 美國印第安人改變了歐洲人的生活
 - (D) 美國人改變了墨西哥人的生活
-

按下面方框內概要部份作答問題14。

I. 拓荒移民者面對新的地方

A. 他們房子的位置

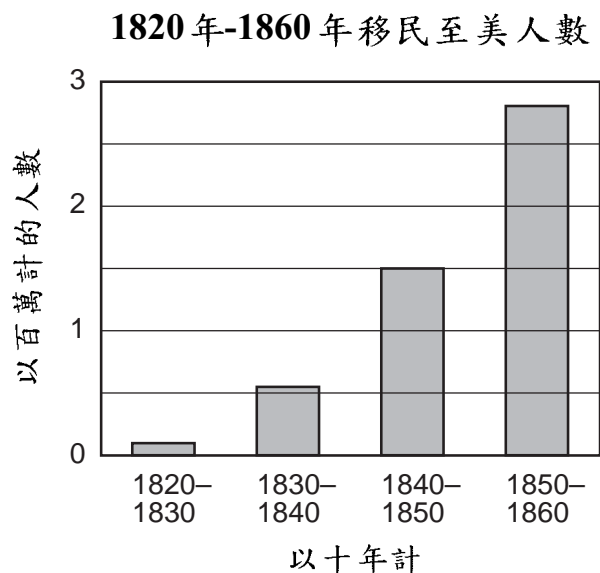
1. _____
2. 靠近林木、石塊、黏土、或其它建築材料
3. 為了耕種田園而靠近肥沃的土地
4. 靠近一個能過活的地方

14 哪一項選擇最能完成本概要？

- (A) 靠近一家店
- (B) 靠近水源
- (C) 靠近鄰居
- (D) 靠近一座山

- 15 誰是美國獨立戰爭時殖民地軍隊的指揮官？
- (A) Benjamin Franklin (班哲明·富蘭克林) (C) George Washington (喬治·華盛頓)
(B) Paul Revere (保羅·瑞米爾) (D) Thomas Jefferson (湯姆斯·傑佛遜)
- 16 哪一組事件的發生是按最早至最晚的排列次序？
- (A) 歐洲人的抵達 → 美國獨立戰爭 → 殖民時期
(B) 美國獨立戰爭 → 歐洲人的抵達 → 殖民時期
(C) 歐洲人的抵達 → 殖民時期 → 美國獨立戰爭
(D) 殖民時期 → 歐洲人的抵達 → 美國獨立戰爭
- 17 1600年初期大部份來到新英格蘭的拓荒移民者都是為了尋求
- (A) 較好的農地 (C) 黃金和銀
(B) 宗教的自由 (D) 通往太平洋的路
- 18 北方殖民地比南方殖民地較少奴隸的主要原因是什麼？
- (A) 奴隸不喜歡冷的氣候。
(B) 北方殖民地有較好的農田。
(C) 從西非洲到北方殖民地所花的時間長過到南方殖民地。
(D) 奴隸制度對北方殖民地沒那麼有利益。
- 19 哪份文件是寫於美國獨立戰爭期間並說明了殖民地人民決定脫離英國？
- (A) 獨立宣言 (Declaration of Independence) (C) 聯邦條例 (Articles of Confederation)
(B) 人權法案 (Bill of Rights) (D) 憲法 (Constitution)

按下圖作答問題20。



資料來源：F. Daniel Larkin 等人所著 *New York Yesterday and Today* 由 Silver Burdett Co. 發行(改編)

20 在哪十年期間大約有150萬人來到美國？

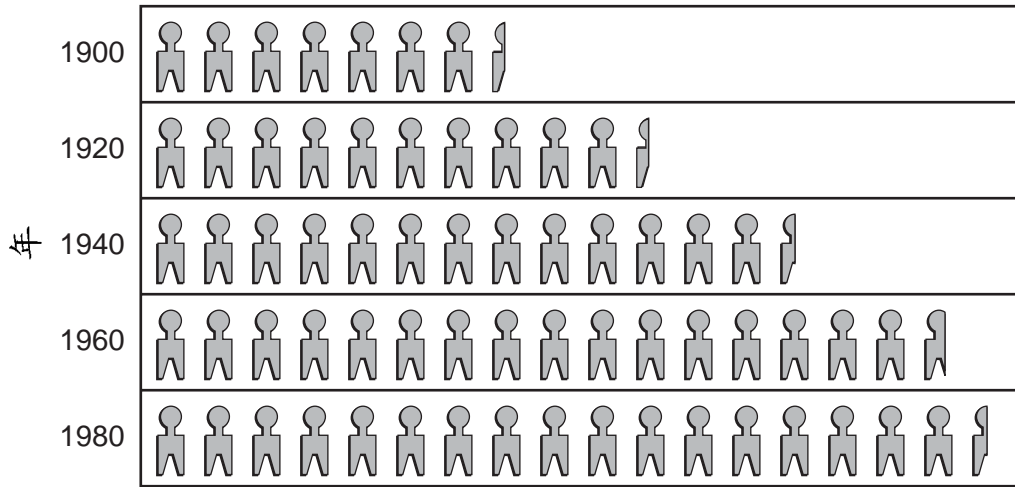
- (A) 1820—1830
- (B) 1830—1840
- (C) 1840—1850
- (D) 1850—1860


21 紐約州界於哪兩大湖之間？

- (A) 休倫湖和伊利湖 (Huron and Erie)
- (B) 密西根湖和休倫湖 (Michigan and Huron)
- (C) 安大略湖和蘇必略湖 (Ontario and Superior)
- (D) 伊利湖和安大略湖 (Erie and Ontario)

按下圖作答問題22。

1900年-1980年紐約州人口



 代表一百萬人口

資料來源：F. Daniel Larkin等人所著*New York Yesterday and Today*由Silver Burdett Co. 發行(改編)

- 22 自1900年以來紐約州人口已有非常大的改變。哪二十年期間人口變化最少？
- (A) 1900—1920 (C) 1940—1960
(B) 1920—1940 (D) 1960—1980
- 23 1876年在紐約北部的一個小鎮上有三百處農田，但到了1996年僅剩下三十處。這是屬於下列哪項範例？
- (A) 經濟的改變 (C) 政治上的互相依賴
(B) 氣候的變化 (D) 文化與傳統
- 24 下列對紐約州政府行政部門的敘述哪項是正確的？
- (A) 行政官是經由選舉一任四年的公職。
(B) 行政部門管理法院系統。
(C) 行政部門的領導是檢查長。
(D) 行政部門辦事處主要位於紐約市內。

按下表作答問題25。

1860年-1900年紐約幾個大城市的人口					
	1860	1870	1880	1890	1900
紐約市 (New York City)	813,669	942,292	1,206,299	1,515,301	3,437,202
水牛城 (Buffalo)	81,120	117,714	155,134	255,664	352,387
奧爾巴尼 (Albany)	62,367	69,422	90,758	94,923	94,151
羅契斯特 (Rochester)	48,204	62,386	89,366	133,896	162,608
西拉克斯 (Syracuse)	28,119	45,051	51,792	88,143	108,374

資料來源：F. Daniel Larkin 等人所著 *New York Yesterday and Today* 由 Silver Burdett Co. 發行

25 在1880年和1890年間哪一個城市人口成長約10萬？

- (A) 紐約市 (C) 奧爾巴尼
(B) 水牛城 (D) 羅契斯特

26 公民面對美國國旗並唸出效忠的誓詞(Pledge of Allegiance)是表現他們的

- (A) 耐心 (C) 互相依賴
(B) 同情 (D) 忠誠

27 在美國投票必須是

- (A) 至少十八歲且為男性
(B) 至少十八歲且為美國公民
(C) 有著全職工作的美國公民
(D) 至少二十一歲並擁有財產

28 我國政府的三大機構是

- (A) 行政、立法、司法 (C) 地方、州、聯邦
(B) 總統、陸軍、海軍 (D) 法院、首都、州長

按下圖作答問題29至31。

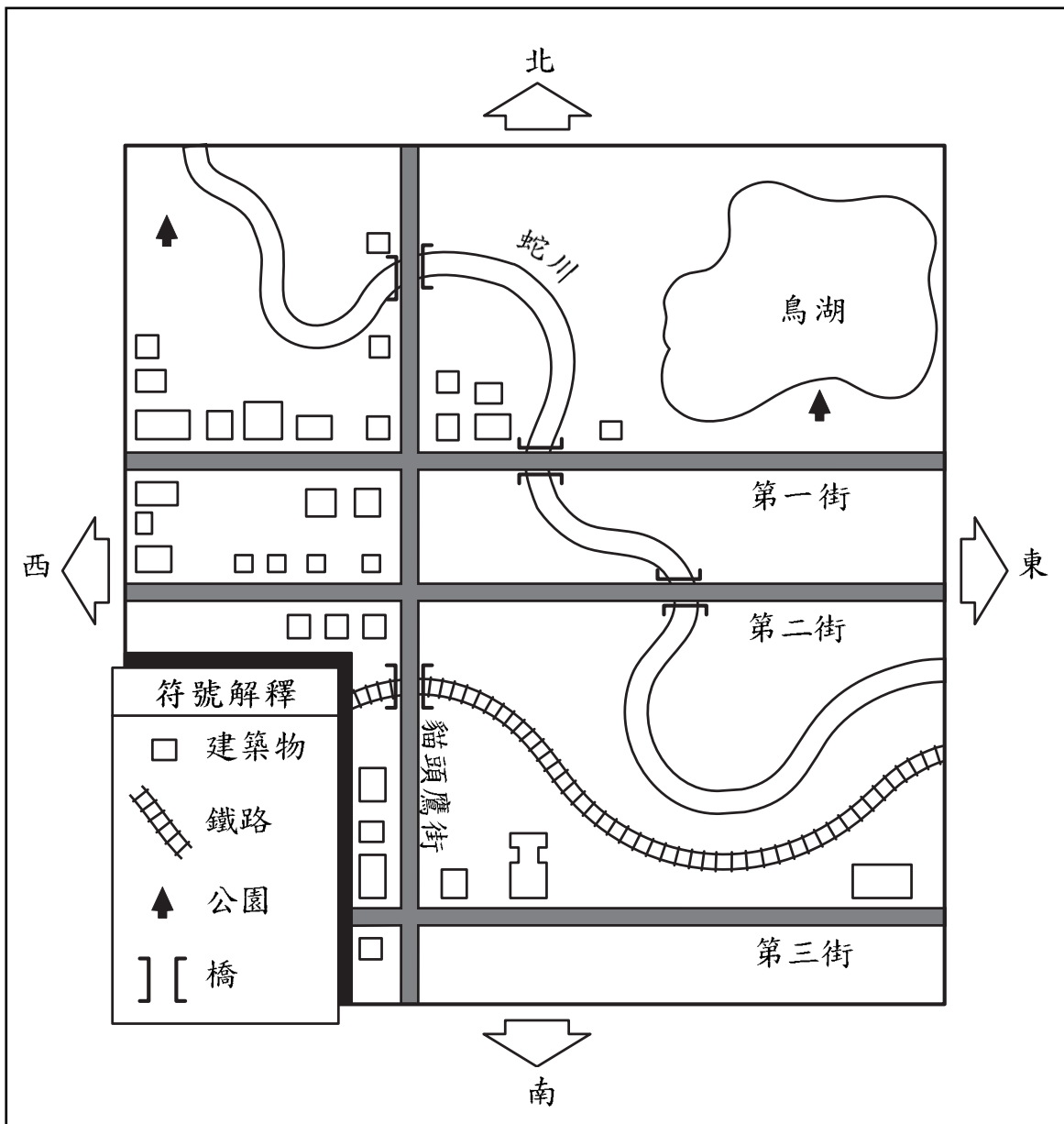
美國眾議員代表(2000年人口普查)



資料來源：美國人口普查局

- 29 一州最少的眾議員代表人數是多少？
- (A) 1 (B) 2 (C) 3 (D) 4
- 30 紐約州有多少名眾議員代表？
- (A) 5 (B) 23 (C) 29 (D) 32
- 31 各州送到華盛頓D.C.的眾議員代表人數是依照各州的
- (A) 區域 (B) 財富 (C) 城市數量 (D) 人口
-

按下圖作答問題32。



資料來源：Macmillan Publishing Co. 發行的 *People and Neighbors*

32 按地圖所示本城市大部份的街道呈

- (A) 南北走向
- (B) 西北到東走向
- (C) 東西走向
- (D) 東北到南走向

按下面所示的加州高速公路圖作答問題33和34。



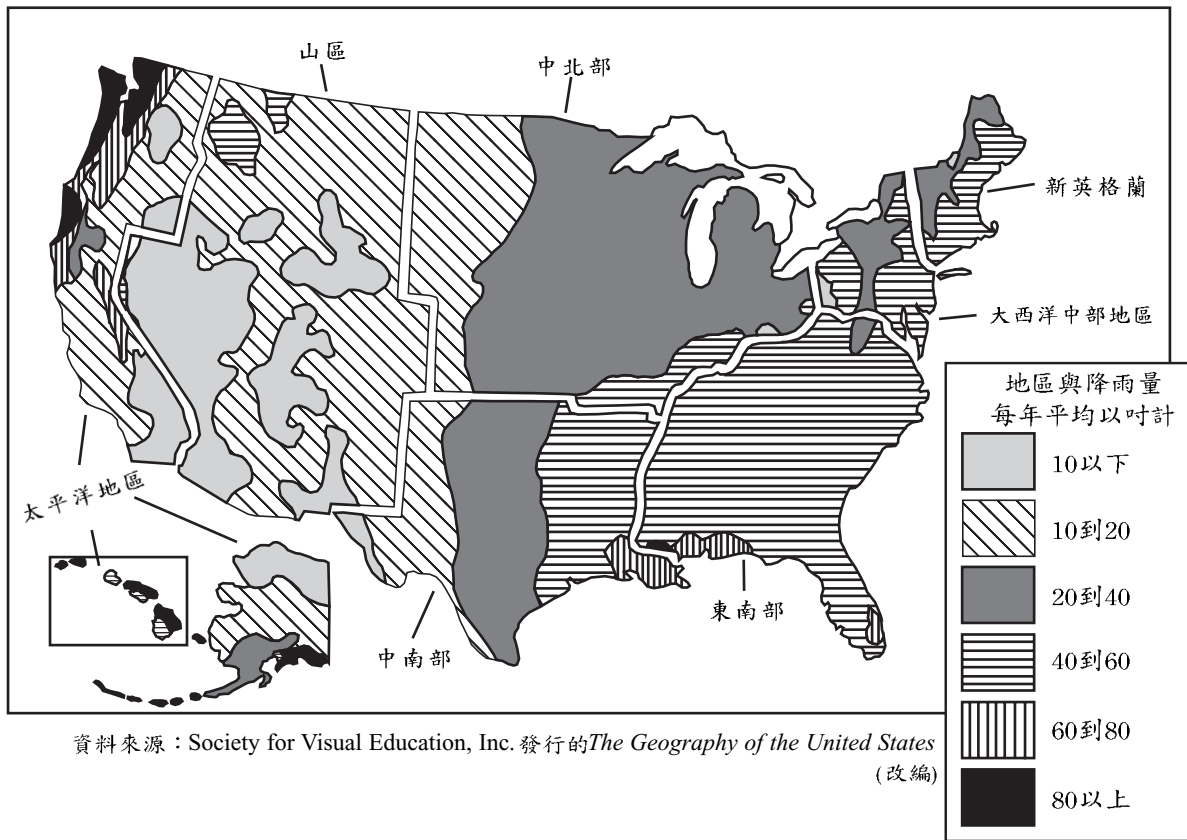
33 299號州內高速公路與5號州際高速公路在哪個城市附近相會？

- (A) 佛瑞斯諾
- (B) 洛杉機
- (C) 好萊塢
- (D) 瑞定

34 從紅木國家公園到舊金山大約有多少英里？

- (A) 150
- (B) 300
- (C) 350
- (D) 450

按下圖以及您對社會學科的知識作答問題35。



35 美國哪一地帶全區的降雨量大致相同？

- (A) 中南部 (C) 大西洋中部地區
(B) 東南部 (D) 太平洋

FOR TEACHER USE ONLY

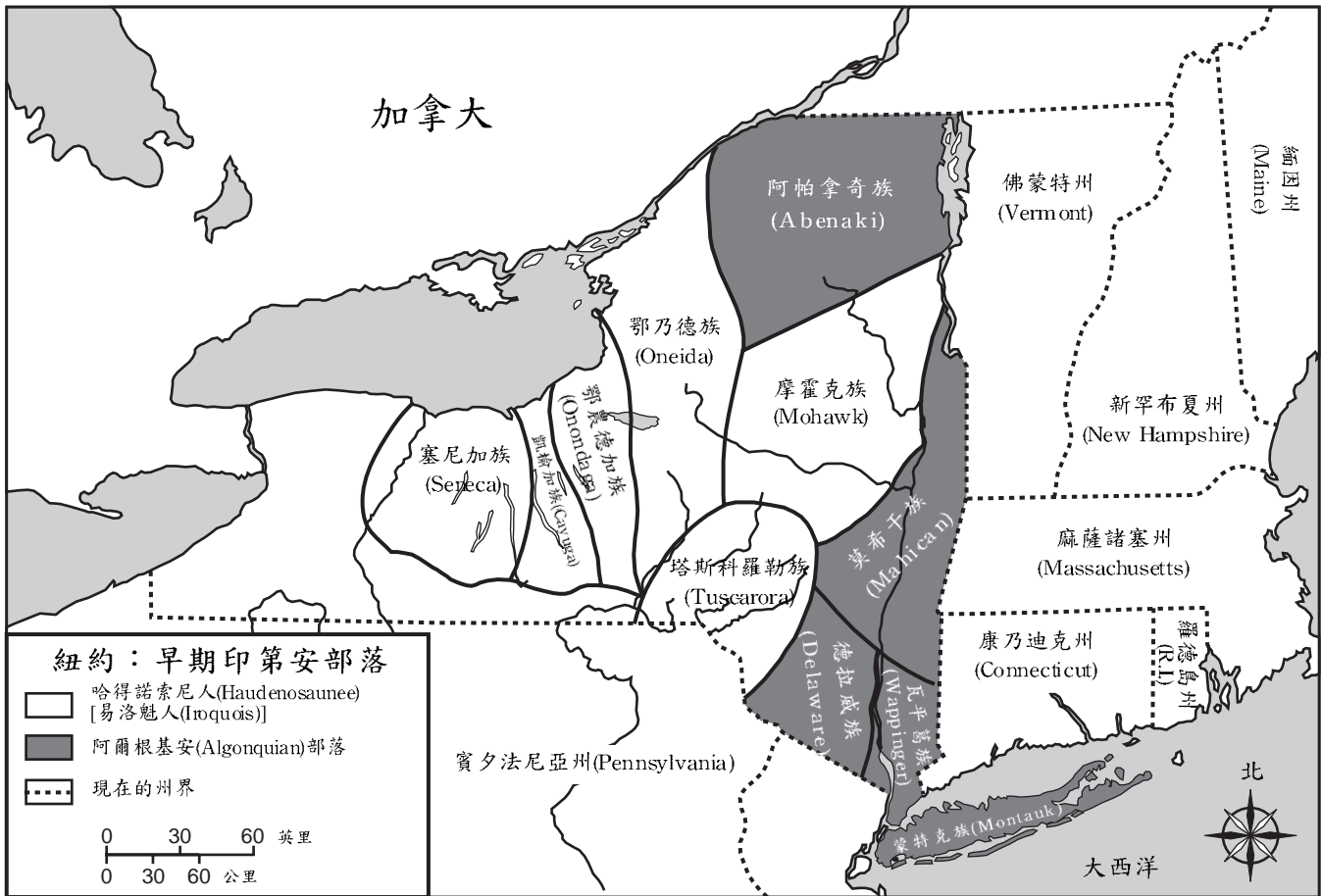
Part I Score _____

Maximum Total is 35 Points

第二部份

說明：在本測驗卷中留出的空白處填寫問題答案。

按下圖作答問題1和2。



1 按本地圖，有幾個部落是屬於哈得諾索尼(易洛魁聯盟)？ [1]

得分

2 阿爾根基安的哪一個部落是位於現在的長島？ [1]

得分

按下面的漫畫作答問題3至5。



美國獨立戰爭的一些起因

資料來源：Jeanne Schwartz 所著的 *The Story of New York State History* 由 Frank E. Richards Publishing Co., Inc. 發行(改編)

3 哪一個國家通過這四個「法」或法律對殖民地人民課稅？ [1]

得分

4 這些稅是用來做什麼的？ [1]

得分

5 為什麼殖民地人民不高興喬治三世王的作為？ [1]

得分

按下面所列的歌詞及您對社會學科的知識作答問題6至8。

伊利運河

我有一頭騾，牠的名字叫莎拉，
伊利運河15英里！
牠是好的老工人也是好的老夥伴，
伊利運河15英里！
在我們的日子裡我們拖曳駁船，
裝滿木材、煤和乾草，
而且我們知道每一吋的路
從奧爾巴尼城到水牛城
(重覆句)
低的橋，每個人彎下去，
低的橋，因為我們快要接近城鎮，
而且你總是會認得你的鄰人，
你總是會認得你的夥伴，
如果你曾航行於伊利運河的話。

— Thomas S. Allen

6 依據本首歌，伊利運河連接哪兩個城市？ [2]

a _____ 得分

b _____ 得分

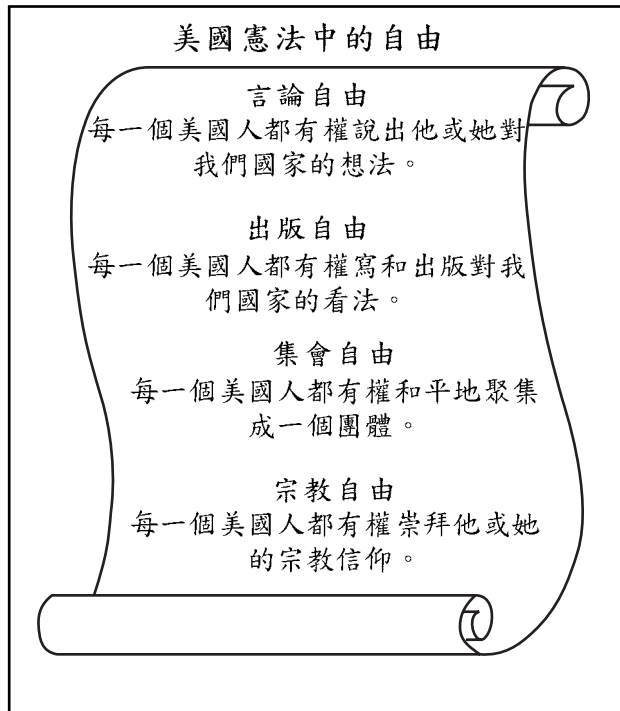
7 為什麼當駁船進入城鎮時在駁船上的人們必須彎下？ [1]

_____ 得分

8 請寫出一個人們與貨物航行在伊利運河的理由。 [1]

_____ 得分

按下面的資料作答問題9和10。



9 哪一項自由是給予每一個美國人有權說出他或她對美國的想法？ [1]

得分

10 這些自由列在美國憲法的哪一部份？ [1]

得分

FOR TEACHER USE ONLY

Part II Score _____

Maximum total is 11 Points