

5年級

初級程度 社會科學測驗

第一卷

選擇題和問答題

2007年11月14日

學生姓名 _____

學校名稱 _____

請用工整字跡在以上畫線部分填寫你的姓名和學校名稱。

本考試包含三部分。第一卷包含第I部分和第II部分；第二卷包含第III部分。

第I部分包含35道選擇題。請在另外的案卷紙上標出答案。在答案卷上僅限用2號鉛筆。

第II部分包含幾道簡答題。請把第II部分的答案寫在本卷中。

第一卷的答題時間為一個半小時。

在接到指令前請勿打開本考卷。

第I部分

答題說明

第I部分考試共有35道考題。每道考題有四個答案供選擇，分別標為A至D。請仔細閱讀考題，選出一個正確的答案。然後在另外的答卷紙上，根據你選擇的答案號碼把該考題下所列的相應答案圓圈塗黑。在答卷紙上請使用鉛筆。

請閱讀以下**例題**：

例題

哪個城市是紐約州的首府？

- (A) 尤蒂卡(Utica)
- (B) 奧爾巴尼(Albany)
- (C) 紐約市(New York City)
- (D) 布法羅(Buffalo)

正確的回答是**奧爾巴尼(Albany)**，答案號碼為**B**。在答卷紙上，你可看到方框內例題下豎列的答案圓圈。由於例題的正確答案為**B**，所以**B**號圓圈已被塗黑。

請回答本試卷第一部分的所有35個問題。每道題僅限塗黑一個圓圈。如果需要更改答案，請務必用橡皮擦把原來填寫的答案擦乾淨。你可能不知道某些問題的答案，但請儘量回答每一道考題。

第I部分結束後，請繼續做第II部分。

第I部分

請回答本部分的所有問題。

請根據下面的圖表及你的社會學知識，回答第1題及第2題。

世界上一些最高的山

山	大陸洲	高度(英呎)	高度(公尺)
珠穆瑯瑪山	亞洲	29,028	8,848
阿空加瓜山	南美洲	22,831	6,959
麥金利山	北美洲	20,320	6,194
乞力馬扎羅山	非洲	19,340	5,895
厄爾布魯士山	歐洲	18,510	5,642

- 1 在此圖表上，**第三**高的山是位於哪個大陸洲？
- (A) 南美洲 (C) 北美洲
(B) 亞洲 (D) 歐洲
- 2 此圖表的資料最佳支持了哪個陳述？
- (A) 世上最高的山是在印度尼西亞。
(B) 所有列出的山的高度都超過5,600公尺。
(C) 珠穆瑯瑪山的高度是乞力馬扎羅山的兩倍。
(D) 最高的山在南美洲。
-
- 3 地形(自然地理)地圖主要用來顯示
- (A) 自然資源 (C) 城市的位置
(B) 地形 (D) 每日的天氣模式
- 4 早期的部落需要居住在哪種資源附近？
- (A) 水 (C) 木材
(B) 煤炭 (D) 黃金

請根據下面的圖表及你的社會學知識，回答第5題及第6題。

意大利和澳大利亞的比較

	意大利	澳大利亞
正式名稱	意大利共和國	澳大利亞聯邦
首都	羅馬(Rome)	堪培拉(Canberra)
人口	5千8百萬	2千萬
面積	116,342平方英里	2,969,910平方英里
宗教	主要是天主教	英國國教、天主教
語言	意大利語	英語
農作物	葡萄、橄欖、小麥	小麥、大麥、甘蔗

5 哪種農產品在意大利和澳大利亞都有種植？

- (A) 葡萄 (C) 橄欖
(B) 小麥 (D) 大麥

6 意大利和澳大利亞有什麼相同之處？

- (A) 兩個國家都以意大利語為其官方語言。
(B) 兩個國家都是聯邦。
(C) 兩個國家的人口數目一樣。
(D) 兩個國家都有天主教徒。

7 在政治地圖上，顯示國家或州的開始和結束的線被稱為

- (A) 緯度線 (C) 邊界線
(B) 經度線 (D) 平行線

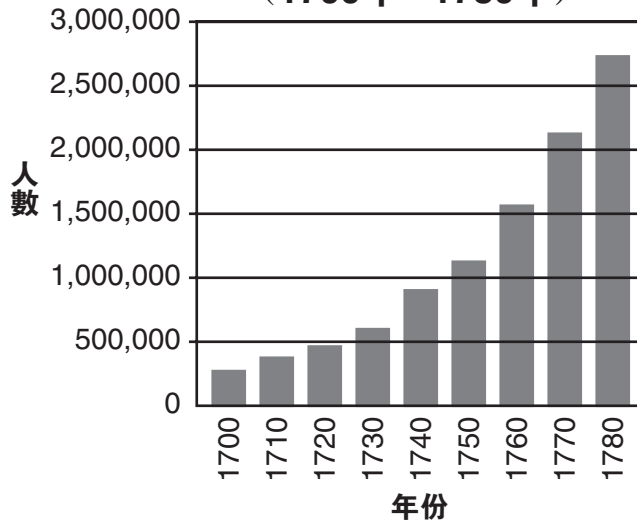
8 哪種行動對於節約自然資源會最有利？

- (A) 遵守交通訊號 (C) 送錢給有需要的人士
(B) 尊重我們的國旗 (D) 回收紙製品

- 9** 人有很多原因去工作，可是多數人工作是因為他們能
- (A) 認識新朋友
 - (B) 消磨時間
 - (C) 購買商品和服務
 - (D) 每天都有地方去
- 10** 約翰的國家有一位首相和一個議會，負責策劃、組織及作決定。這項陳述描述了約翰的國家什麼？
- (A) 其互相依賴
 - (B) 其地理
 - (C) 其人口
 - (D) 其政府
- 11** 退伍軍人節是爲了
- (A) 慶祝豐收
 - (B) 投票選出國會代表
 - (C) 慶祝美國的國慶日
 - (D) 敬重那些曾在美國武裝部隊服役的人
- 12** 美國印第安原住民爲歐洲人引進了哪組物品？
- (A) 玉米、煙草和南瓜
 - (B) 金、銀和銅
 - (C) 絲綢、茶葉和香料
 - (D) 馬、步槍和火藥
- 13** 易洛魁人 (Haudenosaunee) 的長屋與在城市中的公寓，其相似之處在於兩者都是主要被用作
- (A) 崇拜場所
 - (B) 許多家庭的住宅
 - (C) 政府中心
 - (D) 銀行中心

請根據下圖及你的社會學知識，回答第14題及第15題。

**13 個殖民地的人口
(1700年 - 1780年)**



資料來源: *Historical Statistics of the United States: Colonial Times to 1970*, U. S. Bureau of the Census

14 在哪一年，13個殖民地的人口首次超過1,500,000人？

- (A) 1720 (C) 1760
(B) 1750 (D) 1770

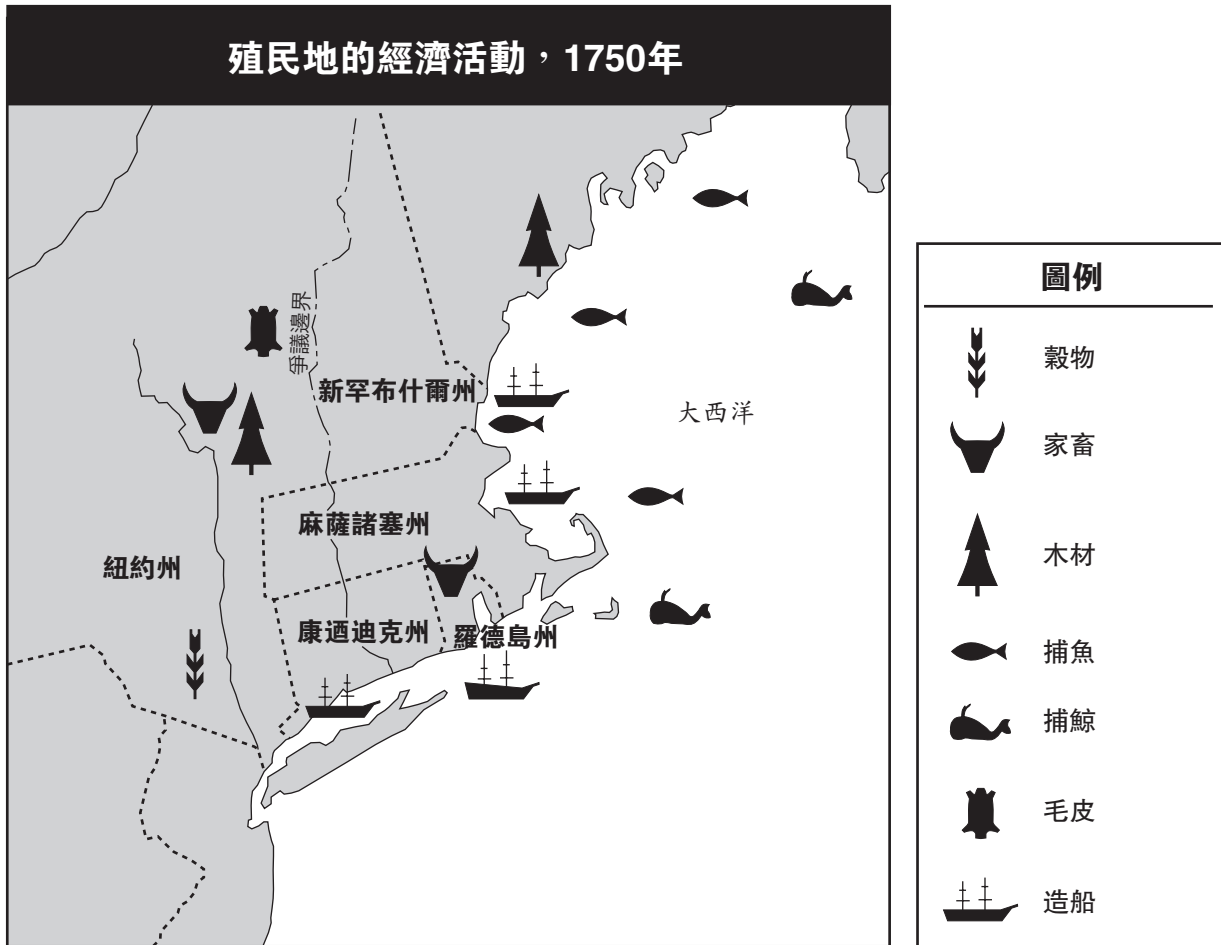
15 在1720年至1740年期間，13個殖民地的人口約增加了

- (A) 100,000人 (C) 1,000,000人
(B) 400,000人 (D) 3,000,000人

16 選出酋長、種植和收割“三姐妹”(three sisters)，以及採摘堅果和漿果，都是誰的傳統工作？

- (A) 阿爾岡昆族(Algonquin)男性
(B) 殖民地婦女
(C) 易洛魁族(Haudenosaunee)婦女
(D) 受契約束縛的僕人

請根據下面的地圖及你的社會學知識，回答第17題。



資料來源：Andrew Cayton et al., *America: Pathways to the Present*, Prentice-Hall (經改編)


17 在1750年，在紐約州和羅德島州都有出產哪種產品？

- (A) 穀物
- (B) 木材
- (C) 毛皮
- (D) 家畜

18 在獨立戰爭期間支持英國政府的美國殖民主義者都被稱為

- (A) 輝格黨
- (B) 造反者
- (C) 愛國者
- (D) 忠誠者

請根據下圖及你的社會學知識，回答第19題。



資料來源: Benjamin Franklin, *Pennsylvania Gazette* (經改編)

19 在獨立戰爭期間，此圖是用來顯示給殖民主義者，讓他們知道他們需要

- (A) 合力對抗英國
- (B) 殺死在殖民地的毒蛇
- (C) 支持對茶葉的徵稅
- (D) 幫助英國士兵

20 哪個名字能最佳地完成下列的部分綱要?

I. 在獨立戰爭時期的殖民地領袖

- A. _____
- B. 約翰·亞當斯(John Adams)
- C. 班傑明·富蘭克林(Benjamin Franklin)
- D. 納丹·海爾(Nathan Hale)

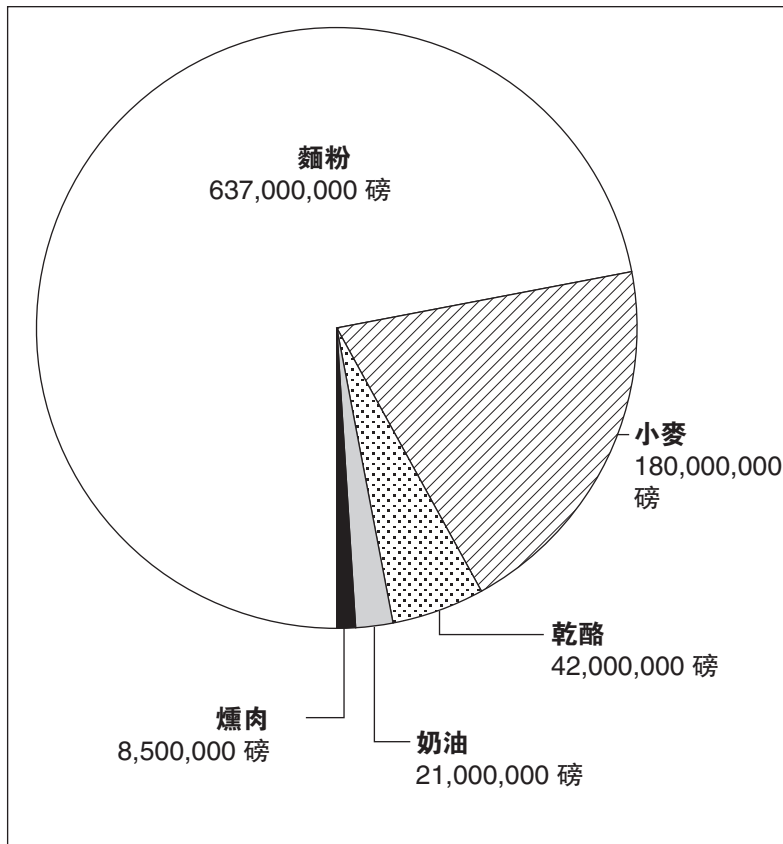
- (A) 德威特·克林頓
(DeWitt Clinton)
- (B) 克里斯多佛·哥倫布
(Christopher Columbus)
- (C) 托馬斯·傑佛遜
(Thomas Jefferson)
- (D) 彼得·史岱文森
(Peter Stuyvesant)

21 在美國獨立戰爭期間，誰是大陸軍隊的領袖？

- (A) 喬治·華盛頓 (George Washington) (C) 帕特里克·亨利 (Patrick Henry)
(B) 班尼迪克·阿諾德 (Benedict Arnold) (D) 約翰·伯戈因 (John Burgoyne)

請根據下圖及你的社會學知識，回答第22題。

伊利運河的糧食運輸，1849年



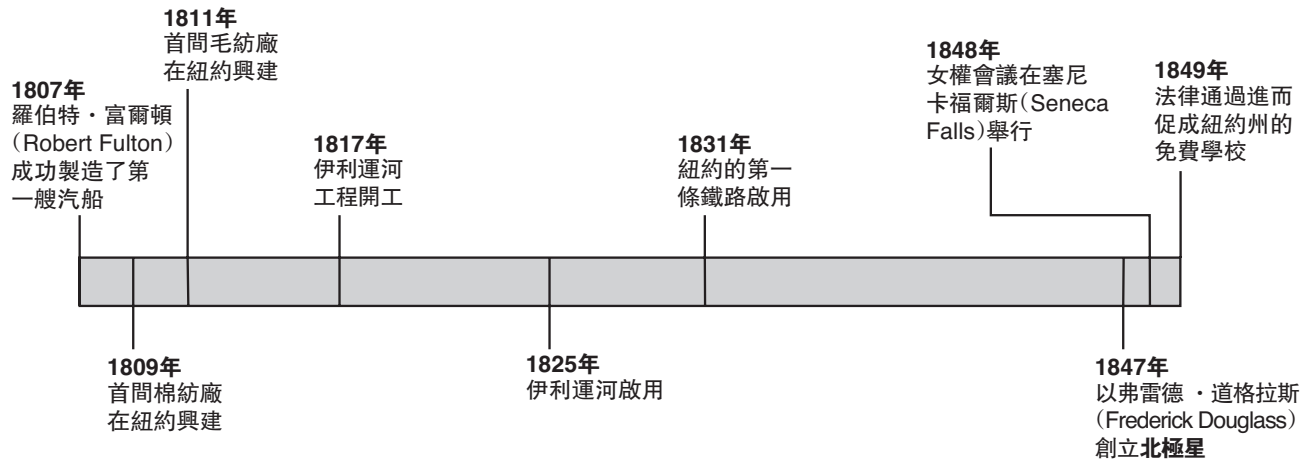
資料來源: James A. Banks et al., *New York: Adventures in Time and Place*, Macmillan/McGraw-Hill (經改編)

22 在1849年，伊利運河運送的糧食中，麵粉大約佔多少百分比？

- (A) 5% (C) 50%
(B) 20% (D) 70%

請根據下面的時間序列表及你的社會學知識，回答第23題及第24題。

在紐約州發生的事件（1807年 - 1849年）



資料來源：F. Daniel Larkin et al., *New York: Yesterday and Today*, Silver Burdett & Ginn (經改編)

23 哪個事件在1848年發生？

- (A) 弗雷德·道格拉斯 (Frederick Douglass) 出版報章。
- (B) 婦女在塞尼卡福爾斯 (Seneca Falls) 舉行大會。
- (C) 第一艘成功汽船被製造。
- (D) 毛紡廠在紐約 (New York) 開始製造生產。

24 興建伊利運河用了多少年？

- (A) 8年
- (B) 14年
- (C) 17年
- (D) 18年

25 哪種行動是抵制的例子？

- (A) 拒絕購買由童工製造的產品
- (B) 輪流玩遊戲
- (C) 接受他人的文化差別
- (D) 在節日期間展示國旗

請根據下面的圖表及你的社會學知識，回答第26題及第27題。

紐約州內最大城市的人口，1870年 – 1900年

	1870年	1880年	1890年	1900年
紐約市 (New York City)	942,292	1,206,299	1,515,301	3,437,202
布法羅 (Buffalo)	117,714	155,134	255,664	352,387
奧爾巴尼 (Albany)	69,422	90,758	94,923	94,151
羅徹斯特 (Rochester)	62,386	89,366	133,896	162,608

F. Daniel Larkin et al., *New York: Yesterday and Today*, Silver Burdett & Ginn (經改編)

26 哪個有關1870年至1900年期間紐約市人口的陳述是準確的？

- (A) 在此期間的人口急劇下降。
- (B) 在此期間的人口維持不變。
- (C) 在此期間的人口不斷增加。
- (D) 在此期間的人口先升後降。

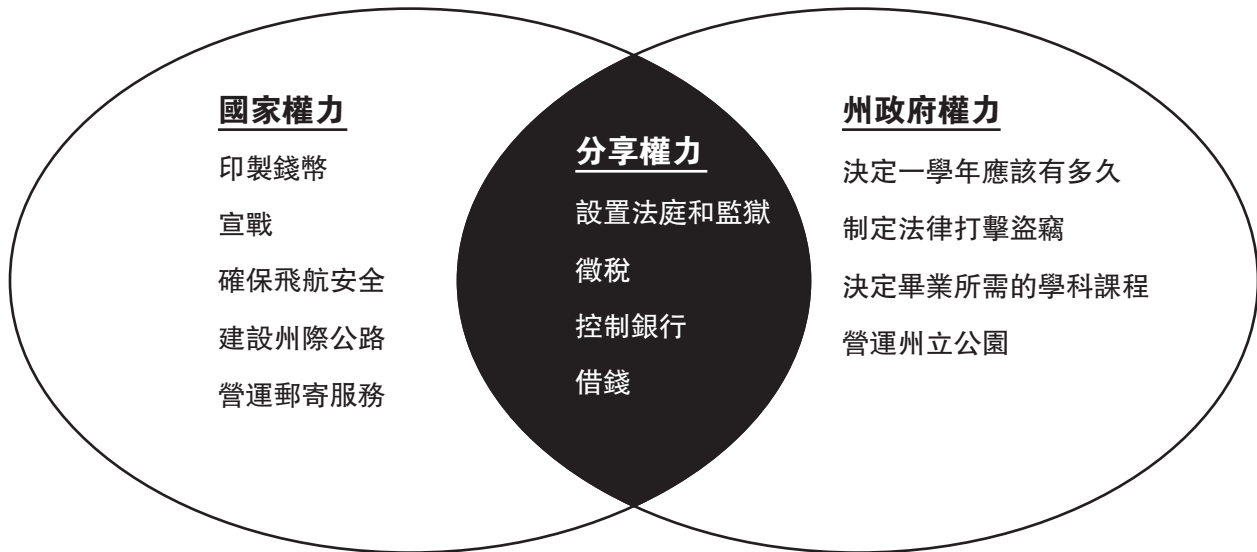
27 哪個城市的人口在1890年至1900年期間下降了？

- (A) 紐約市(New York City)
- (B) 布法羅(Buffalo)
- (C) 羅徹斯特(Rochester)
- (D) 奧爾巴尼(Albany)

28 一班五年級的學生實施民主，當他們

- (A) 以投票選出班長
- (B) 發言前舉手
- (C) 協助教師分發文件
- (D) 聽從教師的課堂紀律

請根據面的維恩圖(Venn diagram)及你的社會學知識，回答第29題。



29 在美國，哪些權力同時授予國家政府和州政府？

- (A) 徵稅
- (B) 宣戰
- (C) 設立州立公園
- (D) 興建郵局

30 哪個標題能最佳地完成下列的部分綱要？

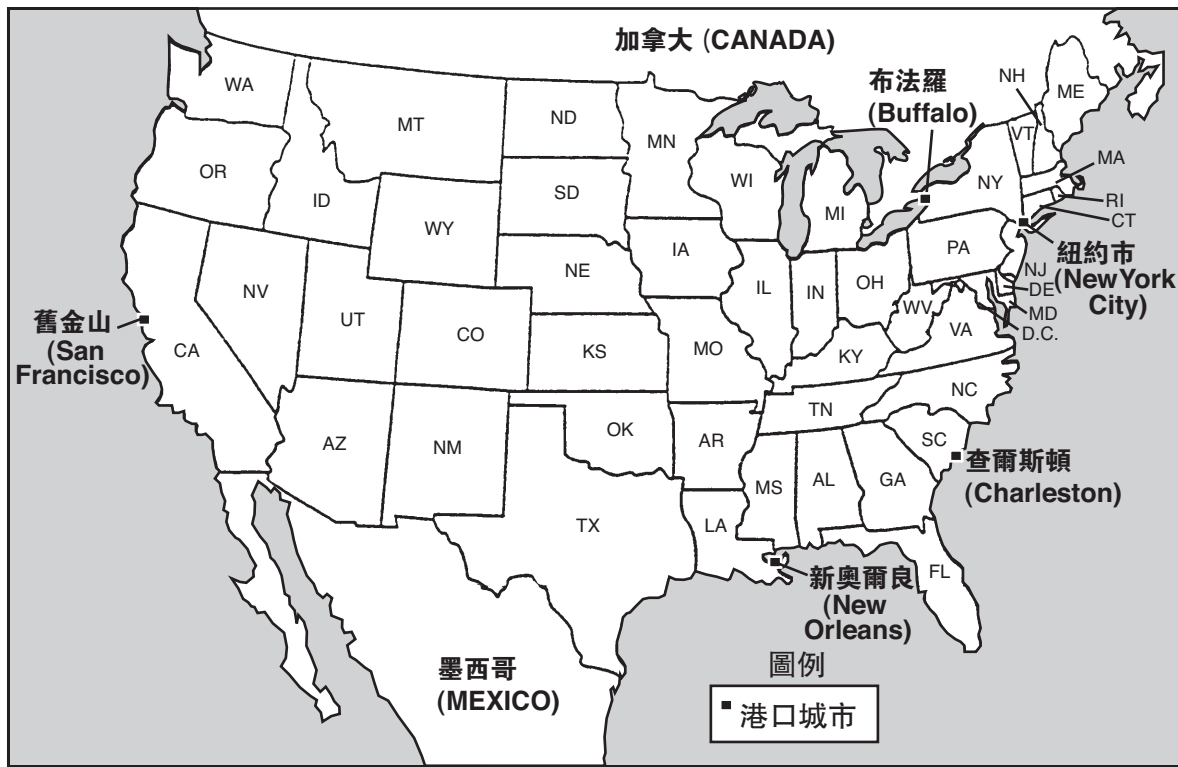
I. _____

- A. 太平 (Pacific)
- B. 北冰 (Arctic)
- C. 印度 (Indian)
- D. 大西 (Atlantic)

- (A) 國家
- (B) 河流
- (C) 海洋
- (D) 州

請根據下面的地圖及你的社會學知識，回答第31題。




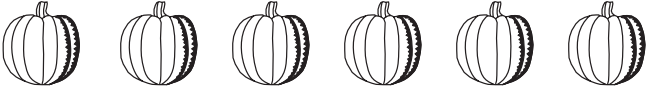

出口貨品的港口



- 31 布法羅(Buffalo)不同於地圖所示的其他港口城市，因為它是唯一的港口位處
- (A) 密西西比河(Mississippi River) (C) 大西洋(Atlantic Ocean)
(B) 五大湖區(Great Lakes) (D) 墨西哥灣(Gulf of Mexico)

- 32 哪個資料來源是原始來源的範例？
- (A) 一齣有關革命戰爭的電視節目
(B) 一篇有關阿爾岡昆族(Algonquin)的百科全書文章
(C) 一封由一名愛爾蘭移民在1870年代撰寫的信函
(D) 一本有關蘇珊·B·安東尼(Susan B. Anthony)一生的書

請根據以下的圖形示意表和你的社會科學知識，回答問題第33題。

約翰市場一週的銷售量	
售出的蔬菜數量	
蘆筍	
玉米	
萵苣	
南瓜	
蕃茄	

圖例
每個符號相當於
出售了5個蔬菜

資料來源: *Communities: Activities Book*, Harcourt Brace & Co. (經改編)

33 根據這個圖形示意表，一週內售出了多少個南瓜？

- (A) 12個 (C) 60個
(B) 30個 (D) 120個
-

請翻下頁 ⇨

請根據下面的地圖及你的社會科學知識，回答第34題及第35題。



資料來源：F. Daniel Larkin et al., *New York: Yesterday and Today*, Silver Burdett & Ginn (經改編)

34 由羅徹斯特(Rochester)奧爾巴尼(Albany)，大約需要多少英里？

- (A) 100英里
- (B) 200英里
- (C) 275英里
- (D) 300英里

35 奧爾巴尼(Albany)到紐約市(New York City)，你一般會往哪個方向走？

- (A) 東
- (B) 西
- (C) 北
- (D) 南

FOR TEACHER USE ONLY

Part I Score _____

Maximum Score is 35

第 II 部分

答題說明：請在本考試卷問題下面的空白處填寫你的答案。

請根據下面的圖表及你的社會學知識，回答第1題至第3題。

國家政府：三個部門



資料來源: James A. Banks et al., *New York: Adventures in Time and Place*, Macmillan/McGraw-Hill (經改編)

1 哪個政府部門決定使用在國家公園上的經費？ [1]

Score

2 美國最高法院的角色是什麼？ [1]

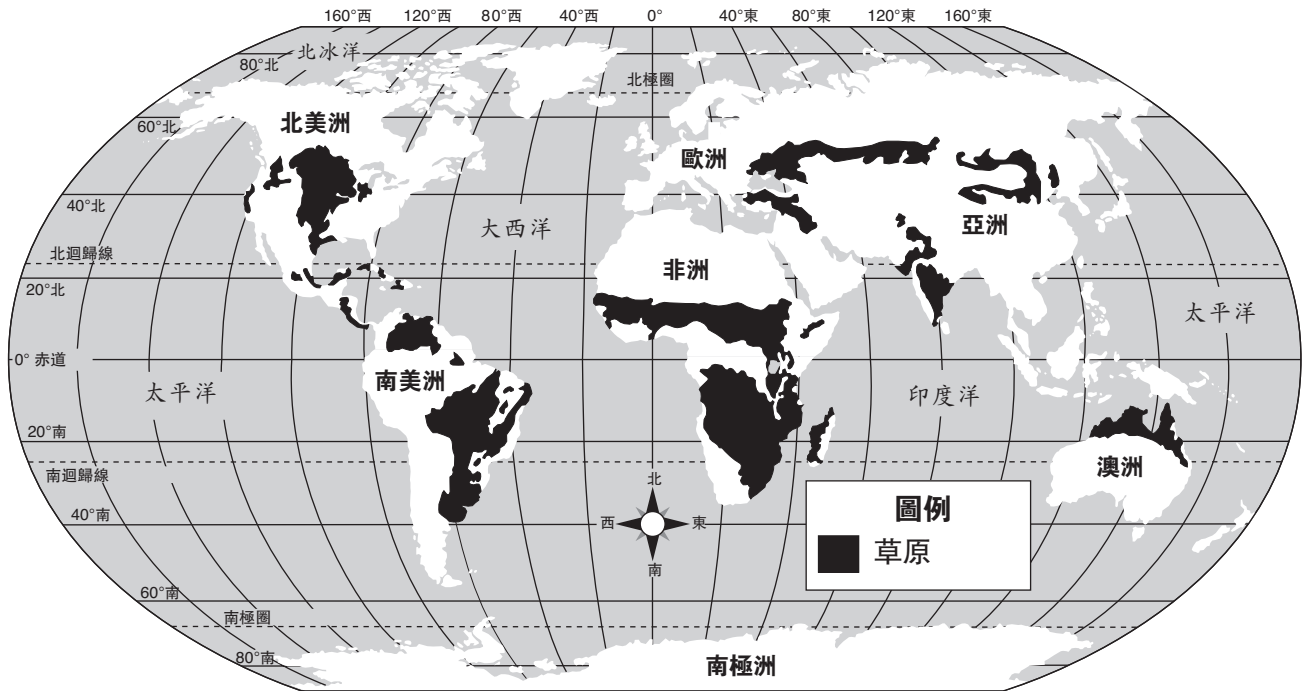
Score

3 誰是美國軍隊的總司令？ [1]

Score

請根據下面的地圖及你的社會學知識，回答第4題至第6題。

世界上的草原地區



資料來源: Howard Veregin, ed., *Goode's World Atlas*, Rand McNally, 2005
(經改編)

4 請指出地圖上所顯示沿著赤道有草原的**兩個**大陸洲的名稱。 [1]

a _____

b _____

Score

5 請指出擁有最多草原地區的大陸洲的名稱。 [1]

_____ Score

6 為什麼在南極洲沒有草原？ [1]

_____ Score

請根據下面的圖表及你的社會學知識，回答第7題至第9題。

大多數美國人會說，擁有表達自由的權利很重要。有很多方式可以表達這種自由。以下列出五種方式。

第一修正案中的自由權利

言論	發表你的想法和意見的權利
新聞	出版你的想法和意見的權利
集會	與別人聚集談論你的想法和意見的權利
請願	要求政府糾正一些你認為是錯誤的事情的權利
信仰	奉行你所選擇的宗教的權利

這些權利——言論自由、新聞自由、集會自由、請願自由及信仰自由都是表達自由權的一部分。我們的表達自由權受到《人權法案》內的第一修正案所保護。

7 請列出第一修正案的**兩種**自由權利。 [2]

a _____ Score

b _____ Score

8 哪種權利允許公民寫給他們的參議員，去要求一條新的法律來糾正他們認為是錯誤的事情？ [1]

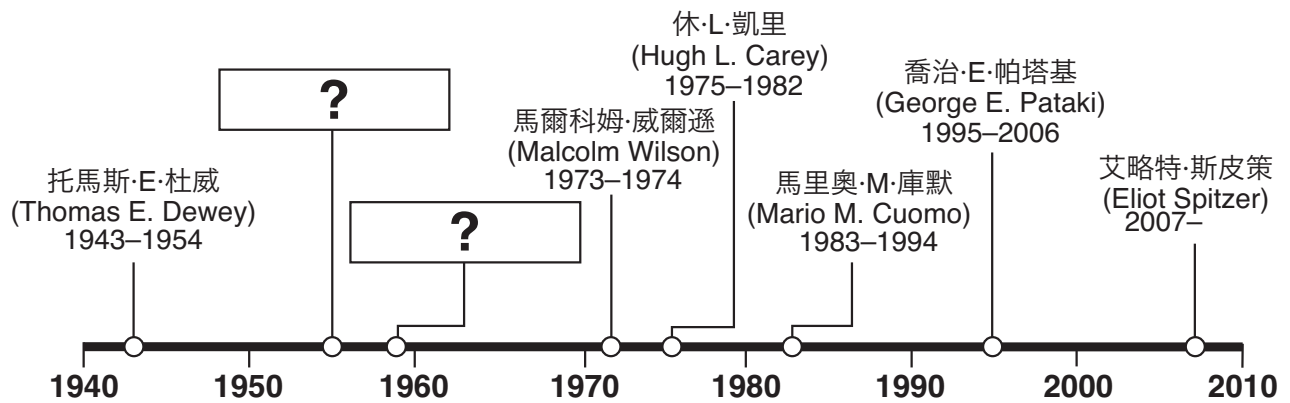
_____ Score

9 哪份重要的文件包含《人權法案》？ [1]

_____ Score

請根據下面的圖表、時間序列表以及你的社會學知識，回答第10題至第12題。

紐約州州長	任期
休·L·凱里 (Hugh L. Carey)	1975年–1982年
馬里奧·M·庫默 (Mario M. Cuomo)	1983年–1994年
托馬斯·E·杜威 (Thomas E. Dewey)	1943年–1954年
W·阿基諾·夏利文 (W. Averell Harriman)	1955年–1958年
喬治·E·帕塔基 (George E. Pataki)	1995年–2006年
納爾遜·A·洛克菲勒 (Nelson A. Rockefeller)	1959年–1973年
艾略特·斯皮策 (Eliot Spitzer)	2007年–
馬爾科姆·威爾遜 (Malcolm Wilson)	1973年–1974年



10 請列出沒有在此時間序列表出現的兩位州長名字。 [2]

a _____ Score

b _____ Score

11 誰在1980年擔任紐約州州長？ [1]

_____ Score

12 誰是現任的紐約州州長？ [1]

_____ Score

FOR TEACHER USE ONLY

Part II Score _____

Maximum Score is 14

