

THE UNIVERSITY OF THE STATE OF NEW YORK

5年級

CHINESE EDITION
SOCIAL STUDIES—GRADE 5
OBJECTIVE & CONSTRUCTED RESPONSE
BOOKLET 1

初級程度 社會科學測驗

第一卷

選擇題和問答題

2008年11月12日

學生姓名 _____

學校名稱 _____

請用工整字跡在以上畫線部分填寫你的姓名和學校名稱。

本考試包含三部分。第一卷包含第I部分和第II部分；第二卷包含第III部分。

第I部分包含35道選擇題。請在另外的答案卷上標出答案。在答案卷上僅限用2號鉛筆。

第II部分包含幾道簡答題。請把第II部分的答案寫在本卷中。

第一卷的答題時間為一個半小時。

在接到指令前請勿打開本考卷。

Copyright 2008
THE UNIVERSITY OF THE STATE OF NEW YORK
THE STATE EDUCATION DEPARTMENT
ALBANY, NEW YORK 12234

第I部分

答題說明

第I部分考試共有35道考題。每道考題有四個答案供選擇，分別標為A至D。請仔細閱讀考題，選出一個正確的答案。然後在另外的答案卷上，根據你選擇的答案號碼把該考題下所列的相應答案圓圈塗黑。在答案卷上請使用鉛筆。

請閱讀以下**例題**：

例題

哪個城市是紐約州的首府？

- (A) 尤蒂卡(Utica)
- (B) 奧爾巴尼(Albany)
- (C) 紐約市(New York City)
- (D) 布法羅(Buffalo)

正確的回答是**奧爾巴尼(Albany)**，答案號碼為**B**。在答案卷上，你可看到方框內例題下豎列的答案圓圈。由於例題的正確答案為**B**，所以**B**號圓圈已被塗黑。

請回答本試卷第一部分的所有35個問題。每道題僅限塗黑一個圓圈。如果需要更改答案，請務必用橡皮擦把原來填寫的答案擦乾淨。你可能不知道某些問題的答案，但請儘量回答每一道考題。

第I部分結束後，請繼續做第II部分。

第I部分

請回答本部分的所有問題。

請根據下面的圖片和你的社會學知識，回答第1題。



資料來源: Barnabas and Anabel Kindersley, *Children Just Like Me: Celebrations*, DK Publishing, 1997 (經改編)

- 1 這張照片中的兒童來自不同的文化。他們最經常穿這些樣式的衣服是為了
- (A) 慶祝他們的歷史和風俗
 - (B) 參加服裝比賽
 - (C) 展現特殊的縫紉技巧
 - (D) 參與體育活動

請根據下表和你的社會學知識，回答第2題。

世界上的某些食物

食物	國家
米飯和黑豆	巴貝多
米飯配蒜頭和魚醬	越南
印度米配蔬菜	印度
米飯配豌豆	義大利

2 根據本表所列的資訊，哪一項陳述是對的？

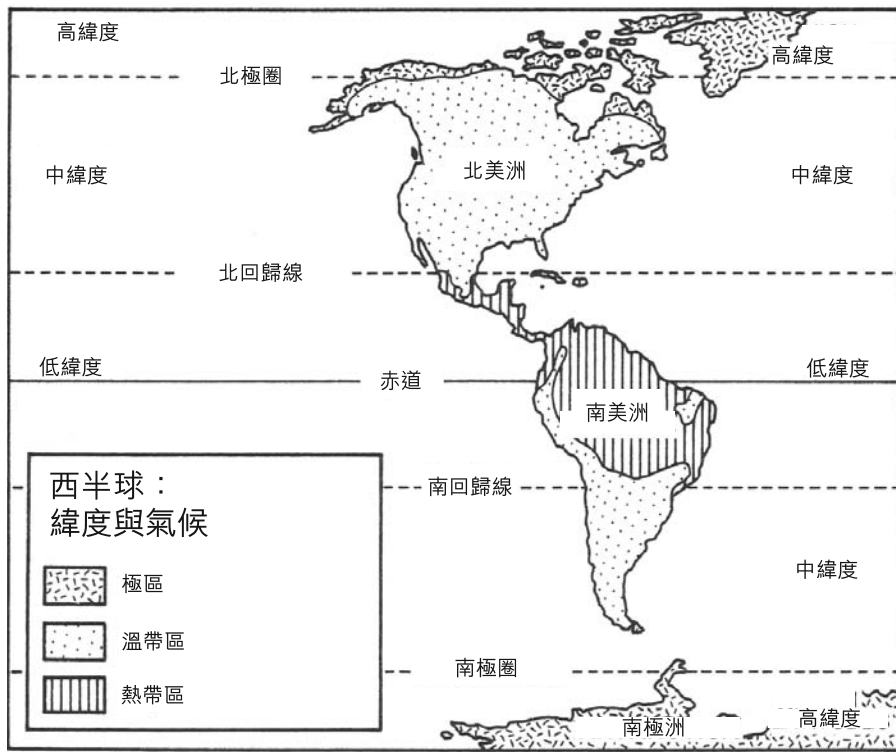
- (A) 大多數的外國食物是用馬鈴薯做的。
 - (B) 很多國家的人吃米飯。
 - (C) 只有亞洲國家用蔬菜煮飯。
 - (D) 黑豆在義大利很流行。
-

3 今日許多現代化國家空氣污染的一個主要原因是什麼？

- (A) 工廠排放廢氣
- (B) 水流過水壩
- (C) 太陽照暖房屋
- (D) 風驅動風車

請翻下頁 ⇨

請根據下面的地圖和你的社會學知識，回答第4和第5題。



資料來源: *Skills for Exploring America's Heritage*, D.C. Heath and Company, 1991

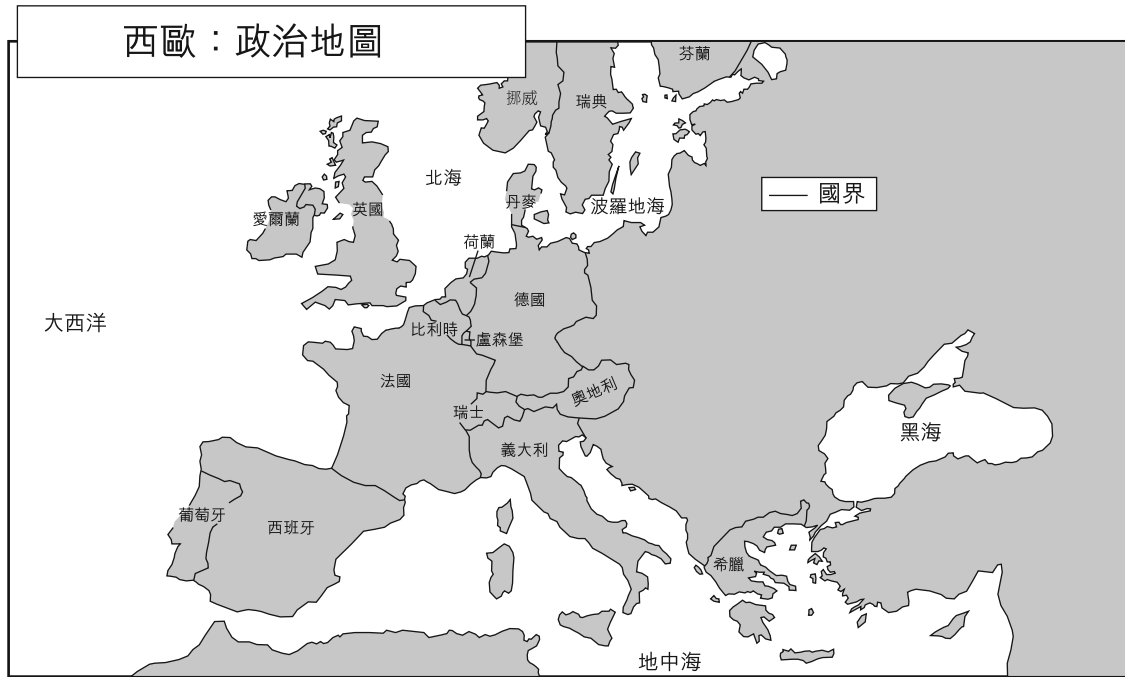
4 哪一項關於西半球的地理的陳述是對的？

- (A) 北美洲的大部分在極區內。
- (B) 赤道經過北美洲。
- (C) 大部分溫帶區位於中緯度。
- (D) 所有熱帶區都位於高緯度。

5 北美洲的大部分位於_____以南。

- (A) 北極圈
- (B) 赤道
- (C) 北回歸線
- (D) 南極圈

請根據下面的地圖和你的社會學知識，回答第6題。



資料來源: *Social Studies and Geography Skills Handbook for World Explorer*,
Prentice Hall, 1998 (經改編)

6 下列哪一個歐洲國家與北海接壤？

- (A) 葡萄牙 (C) 愛爾蘭
(B) 芬蘭 (D) 丹麥

7 以下哪一個辭彙定義從其他國家把商品帶進美國？

- (A) 移民 (C) 出口
(B) 資源 (D) 進口

請根據下面的圖片和你的社會學知識，回答第8題。

圖片 1




圖片 2



圖片 3



圖片 4



資料來源: Sarah Pursel

- 8 哪一個圖片說明某人在出售**服務**？
- (A) 圖片1
 - (B) 圖片2
 - (C) 圖片3
 - (D) 圖片4

請根據下表和你的社會學知識，回答第9和第10題。

民主代議制：英國與美國

政府特性	英國議會民主制	美國總統民主制
行政首長的選擇	首相是通過從議會中多數黨中選舉而由人民間接選舉產生。	總統是由選舉團間接選舉產生，而組成選舉團的代表皆由人民選出。總統可能屬於與主導國會的政黨不同的政黨。
基本民權	凡年滿18歲或以上可以投票；基本自由受到政治傳統的保護	凡年滿18歲或以上可以投票；基本自由受到憲法的保護

資料來源：Faces, Cobblestone Publications, 2001(經改編)

9 哪一個英國領導人最像美國的總統？

- (A) 皇后
- (B) 首相
- (C) 貴族
- (D) 內閣大臣

10 英國與美國的一個相似之處是這兩個國家都有

- (A) 首相
- (B) 議會
- (C) 年滿18歲或以上的投票年齡
- (D) 選舉團制度

11 在大多數國家，首都的主要目的是做為 _____ 的中心。

- (A) 交通
- (B) 觀光
- (C) 採礦
- (D) 政府

請根據下表和你的社會學知識，回答第12和第13題。

北美洲的歐洲人聚居地

國家	聚居地名稱	現今的位置	最早聚居年份
西班牙	聖奧古斯丁	佛羅里達州	1565
英國	詹姆斯敦	維吉尼亞州	1607
法國	魁北克	加拿大	1608
荷蘭	新阿姆斯特丹	紐約州	1625
瑞典	新瑞典	德拉瓦州	1638

12 哪一個聚居地是由英國人開始的？

- (A) 魁北克 (C) 詹姆斯敦
(B) 新阿姆斯特丹 (D) 新瑞典

13 本表中的資訊最能支持以下哪一個結論？

- (A) 英國是最早把北美洲開拓為殖民地的國家。
(B) 五個歐洲國家在北美洲開拓殖民地。
(C) 魁北克的人口多於聖奧古斯丁。
(D) 瑞典在當今的紐約州的地方建立第一個殖民地。

14 易洛魁(Iroquois)北美印第安人部族(Haudenosaunee)成立聯盟的主要原因是

- (A) 對抗奧內達加部族(Onondaga)
(B) 在成員國之間取得和平
(C) 延續美洲印第安原住民的傳統
(D) 聯手與歐洲殖民者作戰

15 塞內卡族人(Seneca)被稱為「西方的守門人」(Keepers of the Western Gate)是因為他們居住在

- (A) 五個部落西邊緣上
(B) 密西西比河以西
(C) 哈德遜河西岸
(D) 大西洋以西

- 16** 克利斯多福·哥倫布(Christopher Columbus)、賈奎·卡蒂埃(Jacques Cartier)和亨利·哈德遜(Henry Hudson)的一個目標是要
- (A) 定居紐約州 (C) 在維吉尼亞州開拓殖民地
(B) 探索五大湖區 (D) 找尋到亞洲更短的水路

請根據下面的陳述和你的社會學知識，回答第17題。

A君：「英國人向我們收的稅太重了。他們怎能如此不公平地對待我們？」
B君：「國王有權力徵收他應得的錢。他多年來一直保護我們不受外敵侵略。」
C君：「我們將秘密集會以計畫攻擊英國人。」
D君：「我的人民受到歐洲殖民者的虐待。」

- 17** 哪一個人最可能是反獨立者(Loyalist)？

- (A) A君 (C) C君
(B) B君 (D) D君

- 18** I. 存在于美洲殖民地的工作

- A. 鐵匠
B. 假髮製造者
C. 銀匠
D. _____ ? _____

哪一種工作最佳地完成這個部分綱要？

- (A) 蒸氣船船長 (C) 電報員
(B) 農夫 (D) 攝影師

19 哪一次戰役是美國獨立戰爭的轉折點？

- (A) 薩拉托加(Saratoga)
- (B) 長島(Long Island)
- (C) 西點(West Point)
- (D) 泰孔德羅加堡(Fort Ticonderoga)

請根據下面的資訊和你的社會學知識，回答第20題。

阿比蓋爾·亞當斯(Abigail Adams)



「假若婦女不被付諸於特別的關懷和注意，我們決心反抗，而且我們拒絕受到我們無權發言或沒有代表權的任何法律的約束。」

阿比蓋爾·亞當斯
(Abigail Adams)
1776年3月31日
— *The American History Herald*,
Steck-Vaughn (經改編)

資料來源: Benjamin Blyth, artist


20 這一句引文的中心主旨是什麼？

- (A) 女性想要有機會當總統。
- (B) 女性對於參與新政府不感興趣。
- (C) 新政府應聽取女性的意見。
- (D) 反抗通常是由女性帶頭。

21 美國獨立戰爭之後，許多殖民者移居到紐約州的西部邊界及更邊遠地區。以下哪一個名詞最能描寫這群人？

- (A) 生意人
- (B) 拓荒者
- (C) 領土地主
- (D) 士兵

請根據下面的圖片和你的社會學知識，回答第22題。



22 美國國旗上的十三條線代表什麼數字？

- (A) 最初的殖民地 (C) 美國的總統
(B) 美國獨立戰爭戰役 (D) 組成聯邦的各州
-

23 伊利運河(Erie Canal)開通帶來的一個重大影響是什麼？

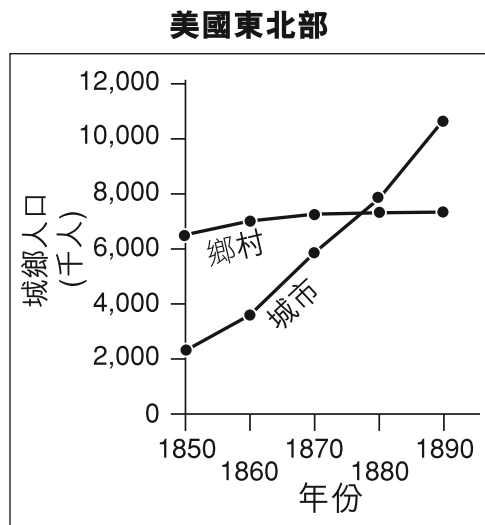
- (A) 紐約市的人口減少。
(B) 迪維特·克林頓(DeWitt Clinton)當選美國總統。
(C) 小麥無法再從東岸運往西岸。
(D) 五大湖區的商品可以比以前更便宜地運往紐約市。

24 哪一個標題最佳地完成這個部分綱要？

I. _____ ?
A. 電報
B. 電話
C. 無線電
D. 電腦

- (A) 通訊技術 (C) 地理
(B) 發明家 (D) 運輸系統

請根據下面的線圖和你的社會學知識，回答第25題。



資料來源: "Welcome to America,"
The American History Herald,
Steck-Vaughn (經改編)

25 以下年代中的哪一年，居住在城市地區的人數多於居住在鄉村地區的人數？

- (A) 1850 (C) 1870
(B) 1860 (D) 1880

26 陣亡將士紀念日(Memorial Day)和退伍軍人日(Veterans Day)都是榮譽美國公民在_____的服務。

- (A) 消防局 (C) 軍方
(B) 參議院 (D) 勞工

27 當總統拒絕簽署一個提案時，就表示他在

- (A) 否決它 (C) 批准它
(B) 認可它 (D) 通過它

- 28** 美國憲法的前十條修正案被稱為
- (A) 序言(Preamble)
 - (B) 人權法案(Bill of Rights)
 - (C) 聯邦條款(Articles of Confederation)
 - (D) 獨立宣言(Declaration of Independence)

- 29** 以下哪一項措施只能由國民政府實施？
- (A) 填補地方道路的坑窪
 - (B) 選舉市長
 - (C) 印鈔票
 - (D) 徵收道路通行費

- 30** 「自行車安全帽須到13歲」
「禁止在公共場所吸煙」
「州公路速限降低」

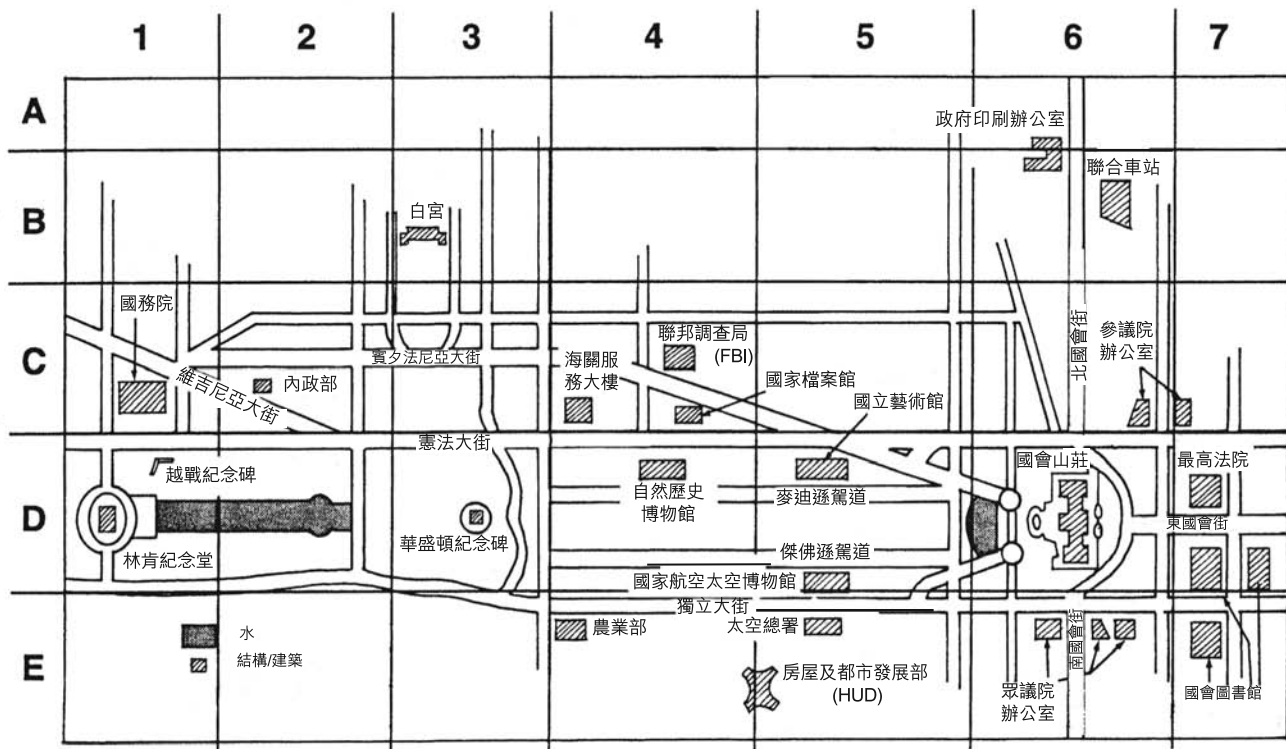
這些標題最能說明紐約州的法律提倡

- (A) 公共安全
- (B) 平等權利
- (C) 個人自由
- (D) 正義

- 31** 哪一個關於紐約州歷史的陳述是一種看法？
- (A) 哈德遜河在紐約被用於貿易。
 - (B) 紐約殖民地是最好的聚居地。
 - (C) 紐約成為新移民的通道。
 - (D) 天然資源在紐約遍地被發現。

請根據下面的地圖和你的社會學知識，回答第32和第33題。

華盛頓特區地圖



資料來源: *Fourth Grade in Review, Instructional Fair, 1995* (經改編)

32 哪一個政府部門位於C-2區段?

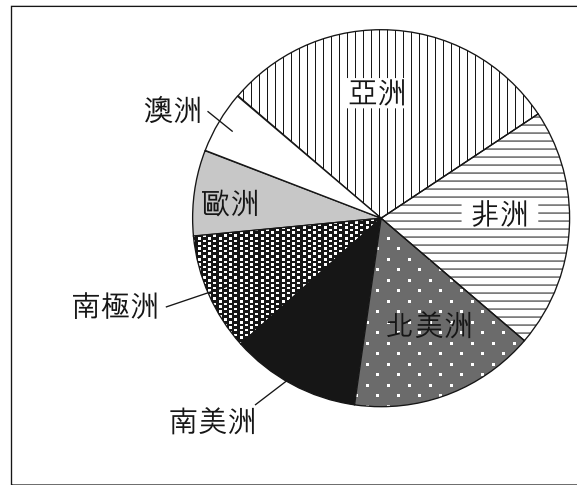
- (A) 國務院
- (B) 農業部
- (C) 內政部
- (D) 房屋及都市發展部

33 國會大廈的座標是什麼?

- (A) B-3
- (B) C-3
- (C) D-6
- (D) D-7

請根據下面的扇形圖及你的社會學知識，回答第34和第35題。

地球的陸地面積



資料來源: Michael Petrovich, et al.,
People in Time and Place: World Cultures,
Silver Burdett & Ginn, 1991 (經改編)

34 哪兩大洲構成大約地球陸地面積的一半？

- (A) 北美洲和南美洲
- (B) 非洲和北美洲
- (C) 南極州和亞洲
- (D) 非洲和亞洲

35 哪個大洲的陸地面積**最小**？

- (A) 北美洲
- (B) 南極洲
- (C) 歐洲
- (D) 澳洲

FOR TEACHER USE ONLY

Total Part I Score _____

Maximum Score is 35

第II部分

答題說明：請把以下問題的答案寫在本卷中的空白處。

請根據下面的一段話及你的社會學知識，回答第1到3題。

社區慶祝

社區內不同群體的人們喜歡慶祝他們自己的節日。在溫哥華，華人慶祝中國新年。他們舉行遊行並放煙火。這個日子最經常發生在二月份。

其他時候，社區內所有的人們都一起慶祝節日。例如，溫哥華在7月1日每個人都會慶祝加拿大日(Canada Day)，國家誕生日。這個節日就像美國的7月4日獨立紀念日。加拿大人在這天都聚集在一起觀看遊行和煙火。他們聽人演說並且吟唱他們國家的特別歌曲.....

資料來源：Richard G. Boehm, et al., *Communities*, Harcourt Brace, 2002

- 1 在加拿大溫哥華有哪一個群體的人們最經常在二月份慶祝新年？ [1]

Score

- 2 美國7月4日的慶祝與加拿大7月1日的慶祝相似的一個方面是什麼？ [1]

Score

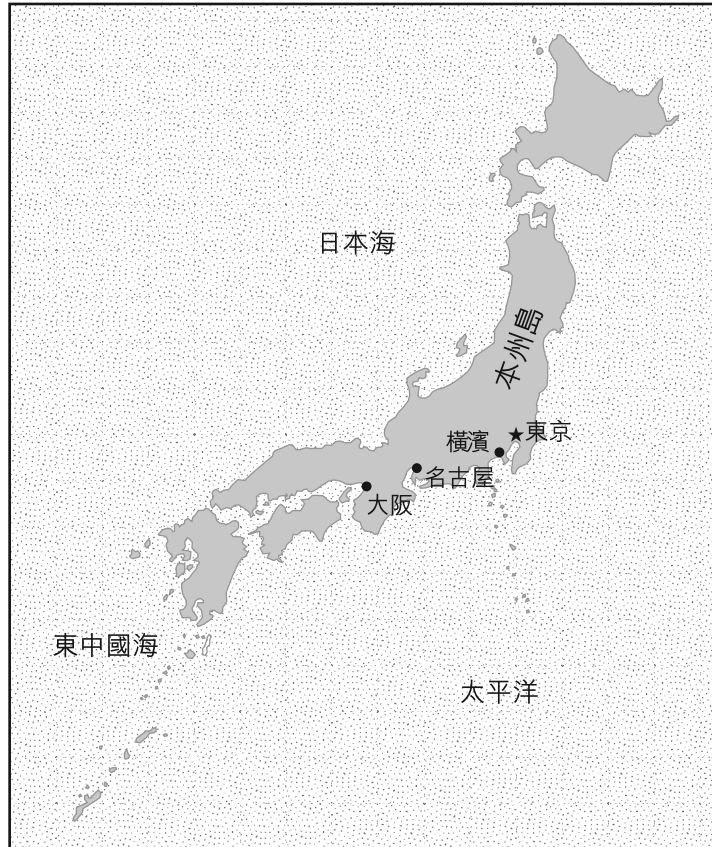
3 美國在1776年7月4日發生了哪個歷史事件？ [1]

Score

請翻下頁 ⇨

請根據下面的地圖及你的社會學知識，回答第4到6題。

日本



資料來源: www.graphicmaps.com (經改編)

..... 五分之四的日本人口居住在城市中。日本的四個主要城市：東京、橫濱、大阪和名古屋都位於本州[島]。這些大城市類似[相似]西方城市，以混凝土和鋼鐵建成的高樓大廈林立，巔峰時間交通阻塞，還有各種各樣的商店、餐館和戲院.....

資料來源：Jane Pofahl, Japan, Instructional Fair, 1996 (經改編)

4 日本的首都是什麼？ [1]

Score

5 日本城市與許多美國城市相似的一個方面是什麼？ [1]

Score


6 海鮮是日本飲食很重要的一部分的一個原因是什麼？ [1]

Score

請翻下頁 ⇨

請根據下面的資訊及你的社會學知識，回答第7到9題。

「瓦庫耳島(Valcour Island)附近的美國艦隊」



資料來源: Charles Randle, Library and Archives Canada

1776年10月11日，美國海軍在夏普倫湖(Lake Champlain)的瓦庫耳島附近(Valcour Island)與英國打了一仗。美國的小艦隊是由班尼狄克·阿諾(Benedict Arnold)所率領。英國的艦隊由25艘戰艦所組成，數量遠遠超過美國戰艦，火力較強[槍砲較多]，並且由訓練有素的船員負責操作。他們狠狠地損壞了美國的小艦隊[船隊]。阿諾和他的船隊趁夜逃離，趕往泰孔德羅加(Ticonderoga)。雖然美國的船員奮勇作戰，他們仍然在前往克朗波因特(Crown Point)的途中被英軍趕上了。美國許多船艦都被擊沉或因而擱淺。阿諾的15艘船艦當中，只有「復仇號」(Revenge)、「杜倫巴爾號」(Trumbull)和「企業號」(Enterprise)這三艘能夠逃離。

7 英軍在「瓦庫耳島之役」(Battle of Valcour Island)中共有多少艘戰艦？ [1]

Score

8 英國海軍能夠如此輕易地擊敗美國海軍的一個原因是什麼？ [1]

Score

9 「瓦庫耳島之役」 (Battle of Valcour Island)發生在哪一場戰爭期間？ [1]

Score

請翻下頁 ⇨

請根據下面的文章及你的社會學知識，回答第10到12題。

說服別人 去投票的5 個步驟

如何能讓你認識的成年人
去投票？只要告訴他們去...

1. 登記。所有投票人都必須填寫登記表。哪裡可以找到登記表？

- 在州車輛管理局
- 在州務卿辦公室
- 在 www.DeclareYourself.com 網站

2. 投遞登記表。如果這個人以前從來沒有登記過，他或她必須隨同填妥並簽名的登記表

一起附上州政府核發的照片身份證影印本。駕駛執照可行。

3. 審視候選人和各項選舉議題，做好選前的心理準備。

找到選舉相關資料：

- 閱讀報章雜誌和觀看電視新聞
- 網際網路上有大量的資源，包括各候選人的網站和不同重要議題的資訊來源
- 請登入 www.DeclareYourself.com 網站

4. 確定投票地點。

5. 最重要的是，在選舉日：確定你認識的成年人去投票！並且告訴他們帶朋友一起去！

資料來源: *TFK Extra!*, Fall 2003, Supplement to Time for Kids (經改編)

10 根據這篇文章，讓某人去投票的**第一個**步驟是什麼？ [1]

Score

11 請陳述投票人可以找到有關公職候選人資料的一個地點。 [1]

Score

12 成年人去投票重要的一個原因是什麼？ [1]

Score

<p>FOR TEACHER USE ONLY</p> <p>Total Part I Score _____</p> <p>Maximum Score is 12</p>
