

THE UNIVERSITY OF THE STATE OF NEW YORK

# 8年級

CHINESE EDITION  
GRADE 8 SOCIAL STUDIES  
BOOK I  
INTERMEDIATE LEVEL

## 中級程度考試 社會科學

### 第一卷 選擇題和問答題

2005年6月1-2日

學生姓名 \_\_\_\_\_

學校名稱 \_\_\_\_\_

請以工整字跡在以上劃線部份填寫你的名字和學校的名稱。

本考試共有三部份。本卷包含第**I**部份和第**II**部份;第二卷包含第**III**部份。

**第I部份**包括45道選擇題。請將答案寫在另外的答題紙上。請僅限用2號鉛筆在答題紙上書寫。

**第II部份**包括一些簡答題。請把第**II**部份的答案填寫在本考題本上。

你將有一個半小時解答第一卷的**所有**問題。

未經指示請勿打開本頁。

Copyright 2005  
THE UNIVERSITY OF THE STATE OF NEW YORK  
THE STATE EDUCATION DEPARTMENT  
ALBANY, NEW YORK 12234



## 第I部份

### 答題說明

本考試第I部份共有45道考題。每道考題有四個答案供選擇,分別標為1至4。請仔細閱讀考題並選擇一個正確答案。然後在另外的答題紙上,根據你選擇的答案號碼把該考題下豎列的相應答案的圓圈塗黑。請使用鉛筆填塗答案。

請看下列考題示範。

#### 示範考題

哪個城市是美國的首都?

- (1) 波斯頓
- (2) 華盛頓哥倫比亞特區
- (3) 紐約市
- (4) 費城

正確的答案是**華盛頓哥倫比亞特區**,答案號碼為**2**。在答題紙上,你可看到方框內示範考題下豎列的答案的圓圈。因為**2**號選項是正確答案,所以**2**號圓圈被塗黑了。

請以同樣的方法解答第I部份的所有問題。每道題只能選擇一個答案。如果需要修改,請務必用橡皮擦把原來填寫的答案擦乾淨。你也許不清楚某些問題的正確答案,但請盡力回答每一道題。

當你完成第I部份以後,請繼續回答第II部份。

## 第I部份

### 請回答本部份的所有問題

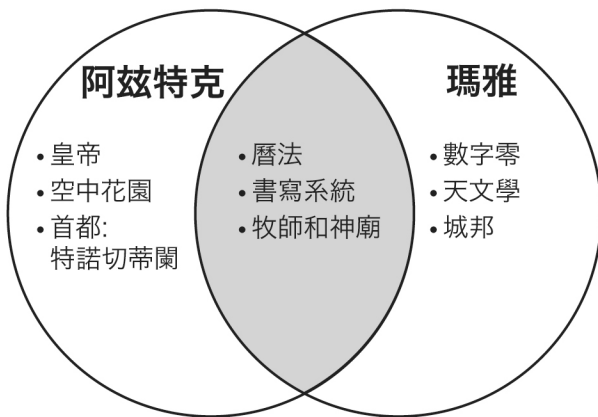
**答題說明(1-45):** 根據每一道題的陳述或問題, 在所給答案中選擇最恰當的詞或語句, 並在另外的答題紙上寫下代表該答案的**編號**。

1 山脈、山丘、平原和高原都屬於:

- (1) 地形
- (2) 草木植物
- (3) 礦物資源
- (4) 政治邊界

根據下面的圖表以及你的社會科學知識回答第2題。

### 阿茲特克文化和瑪雅文化的比較



2 根據這個圖表,阿茲特克和瑪雅文明的共同特徵是什麼?

- (1) 發明空中花園
- (2) 使用數字零
- (3) 捕魚方式的改進
- (4) 書寫系統的發明

3 以下哪個是哥倫布交換(遭受)的一個結果?

- (1) 美國原住民印地安人人口持續增加。
- (2) 非洲奴隸買賣終止。
- (3) 疾病傳給了原住居民。
- (4) 西班牙帝國在“新世界”中衰落。

4 許多不同的原住民文化在北美得到發展的主要原因是:

- (1) 美國原住民印地安人崇拜許多神
- (2) 美國原住民印地安人群落之間無貿易往來
- (3) 狩獵獲取食物是一項重要的活動
- (4) 各式各樣的自然環境條件在這個地區並存

5 “維吉尼亞伯吉斯議會”(Virginia House of Burgesses) 的誕生是殖民地時期美國民主發展中的重要一步,這是因為:

- (1) 採納了一個保障婦女權力的法案
- (2) 允許公民對他們的提案直接投票
- (3) 制定了政府的代表形式
- (4) 提供了第一份書面憲法

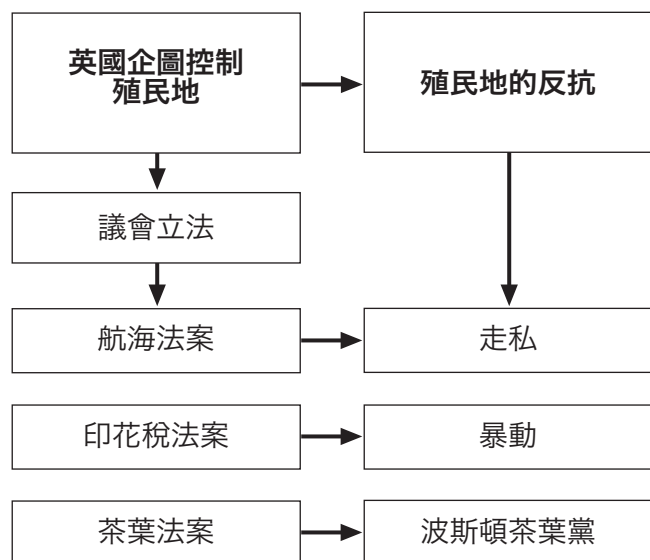
6 1664年州長彼得·史蒂文森割讓給英國的殖民地被以下哪國人控制了?

- (1) 法國人
- (2) 荷蘭人
- (3) 西班牙人
- (4) 瑞典人

7 許多早期移民者遷徙到馬里蘭、麻薩諸塞、賓夕法尼亞和羅德島殖民地的最主要原因是爲了:

- (1) 尋求宗教自由
- (2) 購買廉價的農地
- (3) 從皮毛貿易中獲得利潤
- (4) 得到更好的工作

根據下面的圖表和你的社會科學知識回答第8和第9題。



8 該圖表最能支持以下哪個結論？

- (1) 印花稅法案導致走私橫行。
- (2) 新的稅制使殖民地居民增加了收入。
- (3) 許多殖民地居民反對英國的政策。
- (4) 殖民地居民用非暴力方式反抗了英國的法律。

9 該圖表所展示的一系列事件直接導致了：

- (1) 法國和印度戰爭的開始
- (2) 美國革命的爆發
- (3) 聯合普魯士的殖民聯盟的形成
- (4) 奧爾巴尼聯合計劃的被拒絕(Albany Plan of Union)

10 以下哪個敘述代表了《獨立宣言》的主要觀點之一？

- (1) 美國需要一個強而有力的中央政府。
- (2) 總統的權力必須被立法部門和司法部門所限制。
- (3) 人民有權利反抗不公正的政府。
- (4) 美國人無法負擔高額的英國稅收。

11 在革命戰爭中，美國婦女幫助愛國事業最普遍的方法是：

- (1) 當間諜
- (2) 在軍隊服役
- (3) 管理農場
- (4) 帶她們的孩子去加拿大

12 美國憲法被認為是聯邦條例(Articles of Confederation)的一個改進，這是因為憲法修改了：

- (1) 奴隸的地位
- (2) 少數族裔的公民權利
- (3) 可以參加選舉的美國人人數
- (4) 平衡聯邦政府與州政府的權力

13 美國憲法中包括的哪一項條款允許其能適應時代的變換？

- (1) 權力分離
- (2) 選舉團
- (3) 聯邦制度
- (4) 憲法修訂程序

14 美國憲法的締造者們把權力制衡思想包括在美國憲法之內，是為了：

- (1) 阻止任何一個部門控制另外一個部門
- (2) 保護每個州對付聯邦的權力
- (3) 保障《人權法案》上列舉的自由得到尊重
- (4) 保證美國面對外國攻擊時的安全

15 哪一次土地獲取使美國領土增加最多？

- (1) 合併得克薩斯
- (2) 購買佛羅里達
- (3) 對俄勒岡的條約
- (4) 購買路易斯安那

16 1820年以前,大部份的美國工廠和製造廠使用的能源是:

- (1) 油
- (2) 水
- (3) 電
- (4) 煤

17 哪個廢奴運動領導人是地下鐵路運動的“指揮”?

- (1) 約翰·布朗 (John Brown)
- (2) 威廉·羅德·戈瑞森 (William Lloyd Garrison)
- (3) 哈瑞特·貝切·斯德武 (Harriet Beecher Stowe)
- (4) 哈瑞特·土曼 (Harriet Tubman)

18 1860年和1861年,以下哪個事件直接導致了南方各州從聯邦脫離?

- (1) 阿伯翰·林肯當選為總統
- (2) 通過《堪薩斯-內布拉斯加法案》(Kansas-Nebraska Act)
- (3) 實行新的《逃奴法》(fugitive slave law)
- (4) 最高法院在德勒德·斯哥德 (*Dred Scott*) 對桑福德 (*Sanford*) 案件的裁決

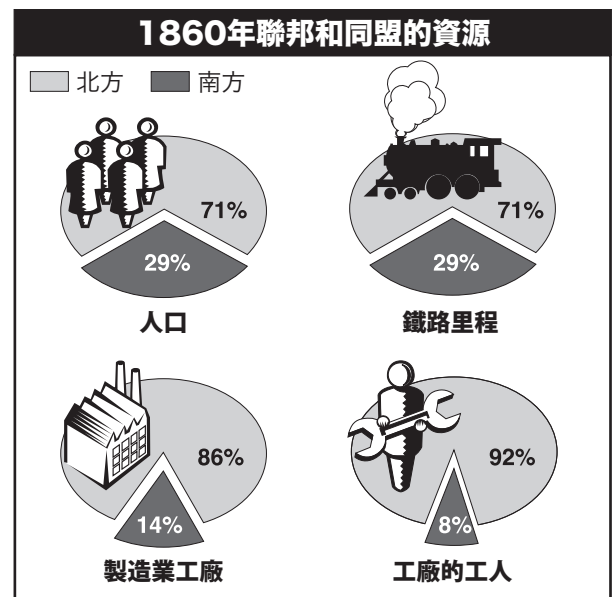
19 三K黨在重建時期形成的原因是:

- (1) 阻止以前被奴役過的人行使他們的權利
- (2) 鼓勵來自東歐和南歐的移民
- (3) 在內戰中支持南方
- (4) 在南方各州去除佃農耕種制

20 以下哪一個發展引起了其它三個的發展?

- (1) 美國軍隊與美國原住民印地安人打了一系列的仗。
- (2) 水牛數量大量減少。
- (3) 成千居住者遷移到密西西比河以西。
- (4) 美國原住民印地安人被迫遷移到保留區。

根據下面的圖示和你的社會科學知識回答問題21題。



資料來源: *Encyclopedia Americana* (經改編)

21 該圖示中的信息最能支持以下哪個結論?

- (1) 北方和南方從事鐵路工作的人口比例相同。
- (2) 北方的製造業工廠比南方少。
- (3) 大部份的國家鐵路都從南方穿過。
- (4) 與南方相比,北方最主要的優勢在於工業生產。

22 1892年美國政府開放了艾利斯島的最主要原因是:

- (1) 辦理國外過來的移民
- (2) 保護紐約市免受襲擊
- (3) 檢查進口貨物的安全
- (4) 作為紐約州的第一個聯邦監獄

23 哪個是在美國工廠中使用大規模生產技術後最直接的經濟結果？

- (1) 家庭製作物品使用的增加
- (2) 物品成本的減少
- (3) 安全狀況的改善
- (4) 工會成員的擴充

24 像厄普頓·辛克萊 (Upton Sinclair) 和艾達塔·貝爾 (Ida Tarbell) 這樣改革時期 (Progressive Era) 的作家被稱為醜聞揭露者,這是因為他們:

- (1) 揭發企業和政府的腐敗
- (2) 他們的作品立足於未被證實的觀點
- (3) 是政治機器的成員
- (4) 支持美國農業耕種方法的轉變

25 哪個法案的通過使得工作環境更加安全？

- (1) 乾草市場暴動 (Haymarket riot)
- (2) 普爾曼罷工 (Pullman strike)
- (3) 三角衣衫廠大火 (Triangle Shirtwaist fire)
- (4) 標準石油公司的崩潰

26 以下哪個資料的來源是第一次世界大戰壕溝戰爭的主要來源？

- (1) 一本談第一次世界大戰的小說
- (2) 一張展示第一次世界大戰戰役地點的教科書地圖
- (3) 一篇百科全書上介紹第一次世界大戰的文章
- (4) 在第一次世界大戰中在西線參戰的一名士兵所寫的日記

27 參議院反對美國成為國際聯盟一員是基於:

- (1) 擔心美國要被迫支付國際聯盟的大部份運作開支
- (2) 認為國際聯盟的決定會使美國捲入外國爭鬥中
- (3) 伍德羅·威爾遜 (Woodrow Wilson) 總統命令國家不加入國際聯盟
- (4) 假設國際聯盟會讓美國減小其軍隊的規模

28 “哈倫復興” (Harlem Renaissance) 的哪個特色反映了“喧嘩的二十幾歲人” (Roaring Twenties) 的形象:

- (1) 對公民權平等的要求
- (2) 對經濟繁榮的憂心
- (3) 通過爵士樂和舞蹈的表達
- (4) 對取消種族歧視的呼籲

根據下面的漫畫和你的社會科學知識回答第29題。



資料來源: Daniel Fitzpatrick, *St. Louis Post-Dispatch*, December 18, 1935 (經改編)

29 漫畫家的觀點是說胡佛總統:

- (1) 實行了有效終止大蕭條的政策
- (2) 責怪窮人造成了大蕭條
- (3) 不能滿足許多美國人的需要
- (4) 支持創辦更多的胡佛村

- 30 1929年10月,股票市場崩潰的一個原因是:
- (1) 許多股票是賒賬購買的
  - (2) 大部份的股票價格都太低
  - (3) 在整個20世紀20年代銀行拒絕貸款來購買股票
  - (4) 許多公司停止出售股票

31 哪個新機構是為提供失業保險和退休工人養老金而建立的?

- (1) 美國聯邦存款保險公司(FDIC)
- (2) 全國恢復管理局 (NRA)
- (3) 社會安全局 (SSA)
- (4) 工作成就管理委員會 (WPA)

32 “昨天,1941年12月7日----一個臭名昭彰的日子.....”

----富蘭克林·羅斯福總統

羅斯福總統用這些詞語來形容:

- (1) 第二次世界大戰在歐洲的開始
- (2) 偷襲珍珠港
- (3) 諾曼地登陸
- (4) 在廣島 (Hiroshima) 扔下原子彈

33 哪個是參加第二次世界大戰對美國經濟的影響之一?

- (1) 許多工廠被迫倒閉。
- (2) 許多日常用品的生產被軍事產品取代。
- (3) 從歐洲進口的物品大量增加。
- (4) 戰爭帶來的物品短缺導致大蕭條的開始。

34 哪個事件使許多歷史學家認為世界距離核子戰爭最近?

- (1) 封鎖柏林
- (2) 共產黨統治了中國
- (3) 古巴導彈事件
- (4) 越南戰爭

35 第二次世界大戰之後形成的冷戰是由以下哪個造成的?

- (1) 來自納粹領導人的新一輪威脅
- (2) 共產黨政府與民主政府之間的衝突
- (3) 美國與蘇聯之間的太空競賽
- (4) 德國對波蘭的入侵

根據下面的漫畫和你的社會科學知識來回答第36題。



資料來源: Walt McDougall, *New York Evening Journal*,  
reprinted in *American Review of Reviews*,  
September 1898 (經改編)

36 這個漫畫的靈感最可能來自:

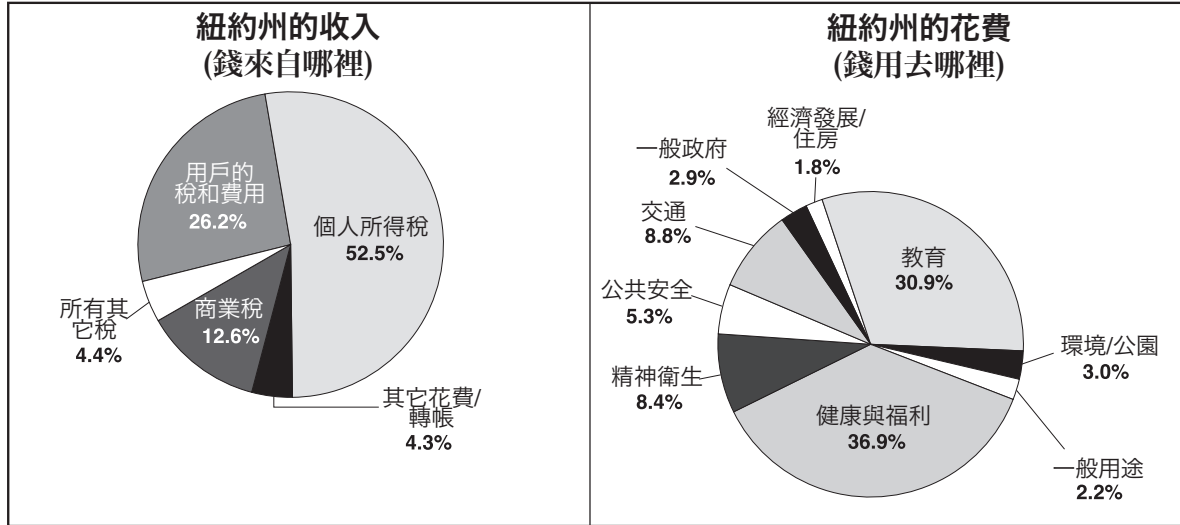
- (1) 美國和西班牙之間的戰爭
- (2) 巴拿馬運河的修建
- (3) 《凡爾賽條約》的簽訂
- (4) 第二次世界大戰的開始

37 州際高速公路系統形成的一個長遠影響是:

- (1) 讓《G.I.法案》通過
- (2) 引起汽車業的衰退
- (3) 改善了加拿大和墨西哥的關係
- (4) 支持了美國工業的增長



根據下面的圖表和你的社會科學知識回答第38和39題。



資料來源: Farran and Wattman, *New York and the Nation*, AMSCO(經改編)

38 根據右邊的圖示,紐約州的稅收在哪個單項的花費的比例最高?

- (1) 交通
- (2) 公共安全
- (3) 健康與福利
- (4) 環境與公園

39 根據該圖示,哪個對紐約州政府的結論最準確?

- (1) 政府的大部份收入來自於商業。
- (2) 政府沒有花費很多錢。
- (3) 紐約州的預算收支不平衡。
- (4) 紐約州提供多方面的公共服務。

40 在美國革命時期及越南戰爭期間中,游擊戰術有利於:

- (1) 外國入侵者
- (2) 那些最熟悉地形的人
- (3) 訓練良好的軍隊
- (4) 武器裝備更好的部隊

41 以下哪個文件最早專門提出了美國婦女的平等權利?

- (1) 《獨立宣言》
- (2) 《人權法案》
- (3) 《賽尼卡福爾斯宣言》(Seneca Falls Declaration)
- (4) 《解放奴隸宣言》(Emancipation Proclamation)

42 哪個題目使以下描述最完整?

I. \_\_\_\_\_

- A. 蒸汽船擴展的河上貿易
- B. 收費站和國家公路建設
- C. 伊利運河開通
- D. 第一條跨州鐵路完工

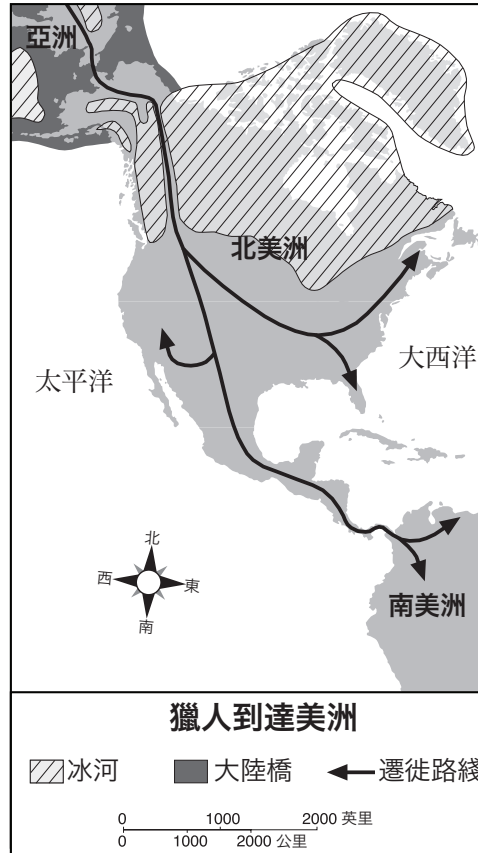
- (1) 交通的進步
- (2) 南北方的合作
- (3) 美國航道
- (4) 新發明



## 第II部份

**答題說明:** 請把問題的答案寫在本試卷問題後面的空白處。

根據下面的地圖和你的社會科學知識回答第1到第3題。



資料來源: *The American Nation*, Prentice-Hall  
(經改編)

1 根據上面地圖所基於的理論,獵人是從哪個大陸遷徙到北美的? [1]

Score

2 根據這張地圖,哪一個特別的地理條件使得獵人可能遷徙? [1]

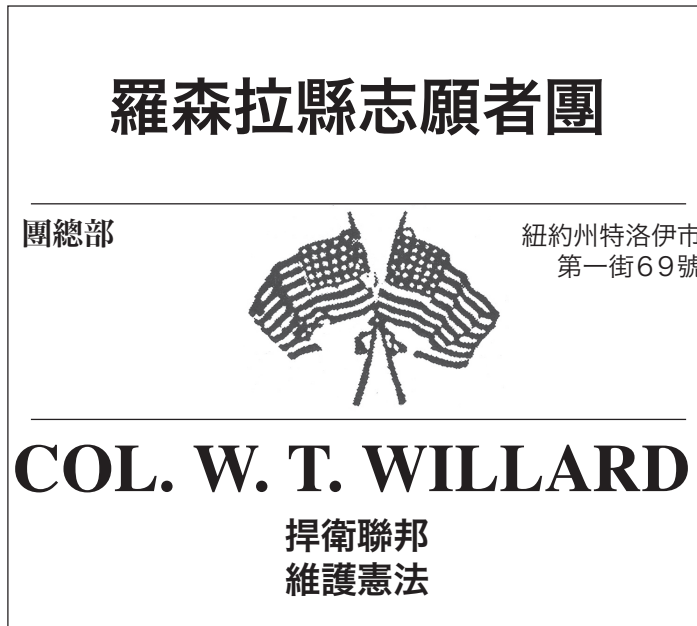
Score

3 敘述一個理由說明獵人沒有在北美的最北邊定居而是向更南方遷徙了。 [1]

Score

根據下面的海報和你的社會科學知識回答問第4到第6題。

內戰時期對自願者的徵召



資料來源: Joy Hakim, *War, Terrible War*, Oxford University Press  
(經改編)

4 根據海報,自願者被要求到哪個城市去報到? [1]

Score

5 根據海報,敘述自願者被要求參加內戰的一個原因。 [1]

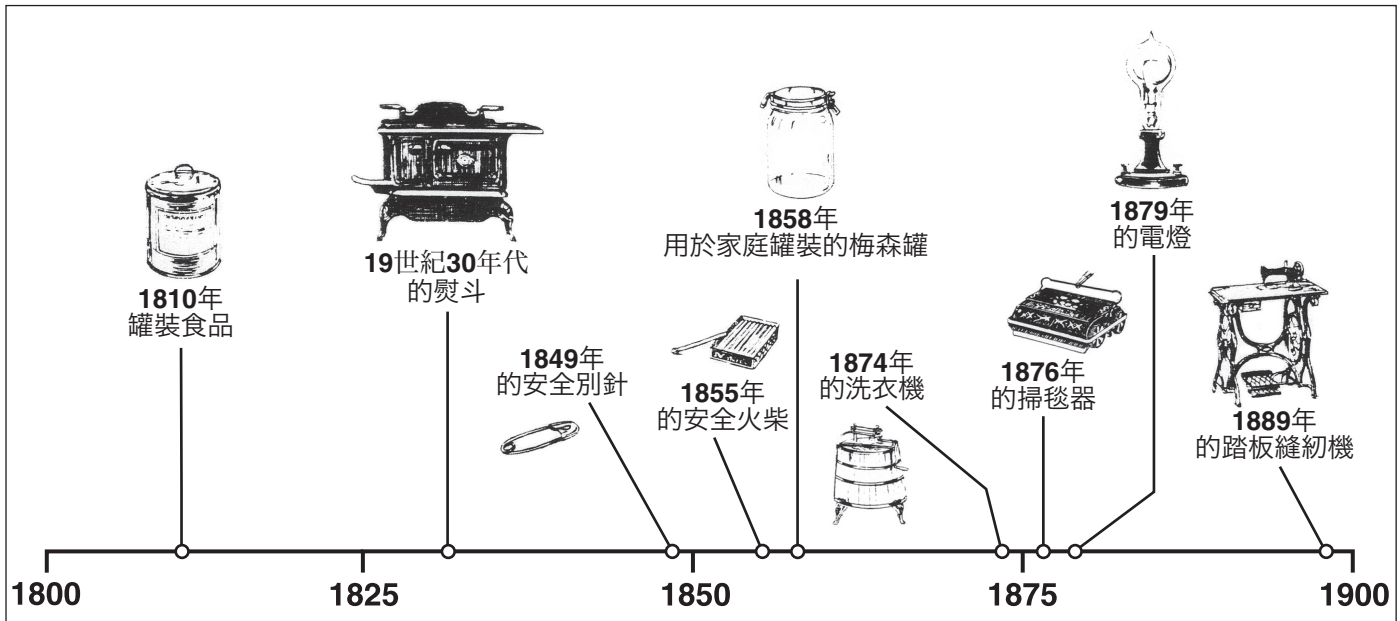
Score

6 除了海報中說到的兩個戰時目標,什麼成了在內戰中的進行中北方新的戰時目標? [1]

Score

根據下面的圖表和你的社會科學知識回答第7到第9題。

### 家裡的新產品



資料來源: *The United States: Its History and Neighbors*, Harcourt Brace (經改編)

7 根據以上的時間表,哪個產品是在安全火柴發明三年以後發明出來的? [1]

Score

8 從時間表上選取**一件**物品,並說明它是如何使我們的家庭生活變得方便了。 [1]

產品: \_\_\_\_\_

此產品是如何使家庭生活變得方便了: \_\_\_\_\_

Score

9 請敘述新的家庭產品生產影響美國企業的一種方式。 [1]

Score

根據下面的信件和你的社會科學知識來回答第10到第11題。

致： 塞繆爾·路得羅先生  
新澤西州鄰近卡姆登市的波希金

來自：愛荷華州路易莎縣,1843年4月25日

兄弟姐妹們,

已經一些時日沒有特地給你們寫信了,不過我想你們還是經常能夠透過我給麗貝卡·費瑟的信中聽到我的消息。我的身體很好,不過已經歷了一生中從未經歷過的嚴冬。我的腳在12月8日被嚴重地凍傷了。我遭受的痛苦無法描述。我的右腳好些了,已經可以穿鞋了;但是兩個外關節的腳趾還很僵硬,而且部份骨頭從三個腳趾裡突了出來。我左腳的腳趾都沒有知覺,治愈了其中的兩個,其餘的三個也在好轉。因而在未來的幾個星期,我會是有些跛腳的.....

當我上次給你寫信的時候,向你推薦了這個國家。我可能已經告訴過你移民到這邊來是有利可圖的..... 如果我不了解情況,我是不會輕易向我的朋友們做這樣的推薦。我很了解新澤西,當然我對愛荷華也有足夠的了解所以應該不會弄錯。對於一個在新澤西租房的人或者是還有借債的人,如果他在新澤西幹得不錯並買下一塊終身擁有的土地,他應該在愛荷華更好些..... 這裡的土地總是在那裡且不需要很多勞動的情況下,畝產量就是你那邊土地的3倍..... 當我剛到布魯明根的時候,這裡只有7戶人家,而現在已經有15家很好的商店以及各樣的商品。儘管這裡的物價也像這裡的城鎮發展一樣的快,但是同樣的80美元會讓你在這邊過得比在那邊更好,這種情況可能會持續200年,當然前提是你能活那麼久了。我們告訴你的這些沒有任何的捏造,只是希望對你和你的家人有用。請你考慮一下,給我回信,我會告訴你更多關於這邊的事。

致敬,

傑瑞瑪·費瑟

資料來源: Joy Hakin, *Liberty for All?*, Oxford University Press

10 當傑瑞瑪·費瑟寫這封信的時候,他住在美國哪裡? [1]

Score

11 敘述傑瑞瑪·費瑟鼓勵他的兄弟姐妹和他一起住在西部的兩個原因。 [2]

(1) \_\_\_\_\_

(2) \_\_\_\_\_

Score

Score

**FOR TEACHER USE ONLY**

**Part II Score \_\_\_\_\_**

