

The University of the State of New York
REGENTS HIGH SCHOOL EXAMINATION

美國歷史和政府

僅限用於2004年1月28日（星期三）下午1時15分至4時15分

學生姓名 _____

學校名稱 _____

用印刷體將你的姓名和校名填寫在上面的直線上，然後翻到本考題本的最後一頁，即本次考試第I部分的答案紙。請沿著虛線把最後一頁折疊起來，慢慢地小心地將答案紙撕下，然後在你的答案紙上填寫各項台頭。現在你要在你的論文考題本內的每頁的台頭上用印刷體填入你的姓名和校名。

本次考試共有三部分。你必須要回答每一部分的全部所有題目。用黑色或深藍色水墨原子筆回答論文考題。

第I部分包括五十道選擇題。將答案記錄在另外一張答案紙上。

第II部分包括一道以主題為主的申論題。在本考題的第一頁起開始回答本申論題。

第III部分的申論題是以下列文件為基礎：

第IIIA部分包含各種文件。每一文件後有一或一個以上的問題要回答。在本考題本上，將各題的答案寫在各問題之後的直線上。務必在這一部分的第一頁上填入你的姓名和校名。

第IIIB部分包括一個以各文件為基礎的申論寫作題。將申論寫作題的答案寫在本考題本的第七頁。

在你回答完本次考試後，你必須在第I部分答頁上簽署聲明，表明你沒有非法得到本次考試的試題或答案，並在本考試過程中既沒有給予過也沒有接受任何幫助。你如果不簽署本聲明，你的考試答頁不會被接受。

在沒有給予指示令前不得打開本考題本。

第I部分

請回答本部份的所有試題。

答卷說明(1-50): 在另外的答案紙上，根據每一項題目的陳述或問題，填入代表最適當答案的編號。

1 哪個標題能夠最恰當地完成下面的部分摘要？

I. _____

- A. 通訊委員會
- B. 禁止進口協定
- C. 波士頓茶會(Boston Tea Party)
- D. 第一次大陸會議(First Continental Congress)

- (1) 抗議美國殖民地的奴隸制
- (2) 英國議會採取措施懲罰殖民地時代的美國人
- (3) 殖民地對英國重商主義政策的回應
- (4) 殖民地試圖結束英國的天高皇帝遠(Salutary Neglect)政策

2 「新國會將為兩院制」

「奴隸計為五分之三人」

「總統由選舉人票選出」

這些標題最有力地支持哪項有關制憲會議(Constitutional Convention)的結論？

- (1) 《憲法》的制定者能夠就重要的議題達成妥協。
- (2) 按照新《憲法》規定，地域較小的各州將喪失權力。
- (3) 人口眾多的各州控制了此次會議的結果。
- (4) 按照新《憲法》規定，總統和國會將具有同等的權力。

3 聯邦政府與紐約州政府共同分享下列哪項權力？

- (1) 頒佈移民法
- (2) 徵稅
- (3) 授予專利和版權
- (4) 頒發護照

4 對不成文憲法(unwritten constitution)的最恰當定義是

- (1) 《美國憲法》修正案
- (2) 《憲法》為各州保留的權力
- (3) 《憲法》未賦予國會和各州的權力
- (4) 依據傳統和習慣的政府行為方式

5 「國會須有權...制定各類法律，這些法律對於行使前述權力，以及本憲法賦予合眾國政府或任何有關部門或官員之所有其它權力必須是必要且正當的。...」

《美國憲法》的本小節在20世紀經常被用於

- (1) 擴大聯邦政府對越州貿易的控制
- (2) 減少聯邦法院的數量
- (3) 推翻選舉團的決定
- (4) 彈劾總統

6 紐約州和美國都採用共和制政體，原因是兩者都有

- (1) 權利法案
- (2) 成文憲法
- (3) 選舉產生的立法機構
- (4) 三權分立的政府

7 在馬伯利訴麥迪遜案(Marbury v. Madison)(1803年)中，最高法院以下列哪種方式加強了自身的權力？

- (1) 確立了司法審查制度
- (2) 確認總統委任權
- (3) 擴大個人自由的涵義
- (4) 宣佈州權違憲(states' rights unconstitutional)的原則

- 8 喬治·華盛頓(George Washington)、湯瑪斯·傑弗遜(Thomas Jefferson)、詹姆斯·門羅(James Monroe)這三位總統在外交政策上的一個相似之處是，他們都
- (1) 喜愛法國勝過英國
 - (2) 推動殖民擴張
 - (3) 幫助保衛拉丁美洲國家
 - (4) 力求避免捲入歐洲的政治鬥爭
- 9 1848年塞尼卡福爾斯(Seneca Falls)會議的《情操宣言》(Declaration of Sentiments)宣佈
- (1) 有必要廢除奴隸制
 - (2) 男女生來平等
 - (3) 加州(California)應被允許作為一個自由州
 - (4) 出售酒精飲料應屬非法行為
- 10 「血腥堪薩斯」(Bleeding Kansas)、斯考特(Dred Scott)裁決以及約翰·布朗(John Brown)的哈爾帕費瑞(Harper's Ferry)起義對美國具有相似的影響的一個方面是這些事件都
- (1) 結束了各地在奴隸制問題上的衝突
 - (2) 緩解了北方與南方之間的緊張局勢
 - (3) 促進了輝格黨(Whig Party)的成立
 - (4) 使各派別的妥協更加困難
- 11 1862年的《宅地法》(Homestead Act)以哪種方式推動了西部的發展？
- (1) 為定居者提供免費土地
 - (2) 為修建越州鐵路(transcontinental railroad)而贈地
 - (3) 允許奴隸制擴展到這些領土
 - (4) 將美國原住民印地安人安置在保留地內
- 12 在1880至1900年之間，遷往美國的大部分移民都定居在東部城市，原因是
- (1) 東部提供許多工廠就業機會
 - (2) 中西部(Midwest)可供定居的耕地所剩無幾
 - (3) 大多數移民來自歐洲城市
 - (4) 城市法律賦予移民各種特殊的權利和保護

請根據以下發言者的陳述和你的社會學知識回答第13和14題。

發言者A：「當需求上升，而市場供應缺乏時，他沒有表現出絲毫仁慈，撕毀了送貨合同，並抬高了價格。」


發言者B：「富有者必須為社會‘保管’其財富，並將之用於仁愛與慈善目的。」

發言者C：「誹謗富人是殘酷的，因為他們是成功的人。他們投身偉大的企業，這些企業使國家繁榮，同時國家也使其自己富裕起來。」

發言者D：「千百萬人的勞動果實被明目張膽地盜取，用於為極少數人積累巨大的財富，這在人類歷史上是史無前例的。」

- 13 哪兩位發言者最有可能將19世紀後期的工業家稱為強盜式資本家(*robber barons*)？
- (1) A和B
 - (2) A和D
 - (3) B和C
 - (4) C和D
- 14 從這些發言者的不同觀點中可以得出的最恰當結論是，19世紀後期的工業家
- (1) 既有益於社會也有害於社會
 - (2) 公正地對待其工人
 - (3) 使用非法手段獲取財富
 - (4) 總體上反對自由企業經濟體系
-
- 15 在普萊西訴弗格森案(*Plessy v. Ferguson*) (1896年)中，最高法院裁定
- (1) 各州不得脫離聯邦
 - (2) 種族隔離是違憲行為
 - (3) 奴隸屬於財產，並且不得從奴隸主手中被帶走
 - (4) 所有西部領土應向奴隸制開放

請根據下面的漫畫和你的社會學知識回答第16和17題。



資料來源：路易斯·保羅(Lewis Paul Todd)和摩爾利·科蒂(Merle Curti)，《美國的崛起》(Rise of the American Nation)，Harcourt Brace Jovanovich (經改編)

- 16 這幅1800年代的漫畫作品的中心思想是什麼？
- (1) 工人正逐步從大企業爭取到權力。
 - (2) 大部分美國人支援工人運動。
 - (3) 企業比工人更具優勢。
 - (4) 政府應支援鐵路擴建。
- 17 美國工人聯合會(American Federation of Labor)採用哪種方式對漫畫中表示的情形做出回應？
- (1) 組織技術工人成立工會
 - (2) 鼓勵開放性移民措施
 - (3) 組建工人擁有的企業
 - (4) 創建工人與農民的單一聯盟
-
- 18 《謝爾曼反托拉斯法》(Sherman Antitrust Act)和《克萊頓反托拉斯法》(Clayton Antitrust Act)的通過是為了
- (1) 推動新托拉斯(new trusts)的形成
 - (2) 維護商業領域中的競爭
 - (3) 增加商業投資
 - (4) 限制外國企業的活動
- 19 從1890年代到第一次世界大戰(World War I)開始前，美國透過哪項政策擴大了其對海外市場的佔有和對原材料的獲取？
- (1) 遏制
 - (2) 帝國主義
 - (3) 孤立主義
 - (4) 中立

請根據下表和你的社會學知識回答第20題。

進步時代立法

年份	立法	目的
1905年	美國林務局成立	管理國家的水和木材資源
1906年	肉類檢驗法	規範肉類加工以確保潔淨
1906年	純淨食品和藥品法	禁止對食品和藥品標貼不誠實標籤
1913年	美國勞工部成立	維護勞動人民的利益

20 上述立法行動的共同目的是

- (1) 保護國家的自然資源
- (2) 改善新到美國的移民的狀況
- (3) 推動大企業的成長
- (4) 改善美國公眾的社會福利

21 下列哪項變化可以最有效地衡量1890年代人民黨(Populist)的成功？

- (1) 該黨取代了兩個主要政黨之一。
- (2) 該黨獲得了工商界領袖的支持。
- (3) 該黨的兩名候選人當選總統。
- (4) 該黨提出的幾項改革建議被制訂成法律。

22 1899年的「門戶開放政策」(Open Door policy)被採納的初衷是使美國能夠

- (1) 限制中國移民
- (2) 阻止日本將中國殖民化
- (3) 在中國取得平等貿易權
- (4) 促進民主在中國的發展

23 在進步時代(Progressive Era)，吉英·亞當斯(Jane Addams)對城市狀況的回應是建立

- (1) 為窮人提供協助的睦鄰安置所
- (2) 幫助美國人瞭解貧民窟狀況的報紙
- (3) 限制某些移民群體的法律
- (4) 位於市中心社區的免費公立學校

24 在第一次世界大戰期間，許多美國婦女透過哪種方式爭取到人們對投票權運動的支持？

- (1) 抗議戰爭
- (2) 參軍服役
- (3) 遊說設立托兒所
- (4) 服務於戰時工業

- 25 第一次世界大戰之後，美國拒絕批准凡爾賽條約(Treaty of Versailles)主要是由於該條約
- (1) 沒有包括威爾遜(Wilson)總統的「十四點計劃」
 - (2) 沒有使德國因發動戰爭而受到懲罰
 - (3) 包含一些可能導致美國與外國衝突的條款
 - (4) 沒有關於削減武器的條款
- 26 在第一次世界大戰期間及結束後，非洲裔美國人移居北方主要是由於
- (1) 軍事廢除種族隔離的成功
 - (2) 民權運動的努力
 - (3) 新工廠就業機會的出現
 - (4) 平權措施(affirmative action)計劃的影響
- 27 在1920年代，有關斯科普斯(Scopes)審判、全國禁酒令(Prohibition)及摩登女(flappers)行為的爭論，都表現了人們對下列哪項的不同看法？
- (1) 回歸常態
 - (2) 傳統價值和不斷變化的生活方式
 - (3) 經濟大恐慌(Great Depression)的原因
 - (4) 新技術的好處
- 28 1920年代的一系列移民法的一個主要目標是
- (1) 允許東南亞人不受限制地移民美國
 - (2) 保證來自各國的移民人數均等
 - (3) 偏向富有且受過良好教育的移民
 - (4) 採用配額來限制南歐和東歐的移民
- 29 哪種狀況是經濟恐慌的最典型特徵？
- (1) 高失業率和生產過剩
 - (2) 大規模商業投資和低稅率
 - (3) 流通領域的貨幣過多及股票價格過高
 - (4) 高就業率和房地產投資增加
- 30 新政(New Deal)試圖透過哪種方式來解決經濟大恐慌的諸多問題？
- (1) 為經濟中的眾多行業提供聯邦救助
 - (2) 為大企業減稅，以激勵其創造就業機會
 - (3) 降低聯邦支出，以維持預算平衡
 - (4) 透過提高關稅，降低國外競爭
- 31 佛蘭克林·D·羅斯福(Franklin D. Roosevelt)總統試圖改組美國最高法院，但國會並不支持他，這是下列哪項的一個例子？
- (1) 國會削弱了三權分立
 - (2) 總統使用不成文憲法
 - (3) 制衡體系的運用
 - (4) 政府的一個分支如何維護聯邦制度
- 32 在1930年代，國會試圖以哪種方式避免使美國捲入第一次世界大戰的局面？
- (1) 頒佈和平時期徵兵法
 - (2) 通過一系列中立法案
 - (3) 批准驅逐美國共產黨員
 - (4) 使日裔美國人遷入收容所(internment camps)
- 33 在第二次世界大戰期間，聯邦政府採用配給制是為了
- (1) 維持武器價格
 - (2) 改善退伍軍人的教育福利
 - (3) 增加缺乏產品的進口量
 - (4) 為軍隊提供更多資源
- 34 在第二次世界大戰結束前不久，國會通過《退伍軍人福利法》(GI Bill)的主要目的是什麼？
- (1) 為國防工業提供低利率貸款
 - (2) 為退伍軍人提供經濟資助
 - (3) 遏制國際共產主義的蔓延
 - (4) 在軍隊中擴大職業機會

請根據下面的照片和你的社會學知識回答第35題。



資料來源：盧米斯·迪恩(Loomis Dean)《生命》(Life) (經改編)

35 這幅照片表示美國在1950年代的什麼情況？


- (1) 採取特別措施隱藏原子武器。
- (2) 該國已經成為唯一的核子超級大國。
- (3) 冷戰引起了很大恐懼。
- (4) 遇到核子攻擊時，只有政府官員才是安全的。

36 在第二次世界大戰結束後的10年間，個人收入的迅速增加導致

- (1) 生育率的下降
- (2) 嚴重的經濟恐慌
- (3) 中產階級的擴大
- (4) 奢侈品供應短缺

請根據下面的漫畫和你的社會學知識回答第37題。

「奇怪為什麼我們跟不上？」



資料來源：赫伯勞克(Herblock)，《華盛頓郵報》(The Washington Post) (經改編)

37 1950年代的哪個事件最可能導致了這幅漫畫的出版？

- (1) 俄國將宇宙飛航員送上月球。
- (2) 蘇聯發射史潑尼克號(Sputnik)衛星。
- (3) 美國在越南戰爭中失敗。
- (4) 美國學生的數學和科學考試分數很低。

38 1962年古巴飛彈危機(Cuban missile crisis)的一個結果是什麼？

- (1) 古巴成為一個共產主義國家。
- (2) 美國奪取了古巴的軍事控制權。
- (3) 蘇聯從古巴撤出其核飛彈。
- (4) 卡斯楚(Fidel Castro)會晤約翰·甘乃迪(John F. Kennedy)總統。

- 39 理查德·尼克松(Richard Nixon)總統採用緩和和政策是為了
- (1) 緩解美國與蘇聯之間的緊張局勢
 - (2) 改善與拉丁美洲的關係
 - (3) 推動中國成立民主政府
 - (4) 與西歐建立更緊密的關係

40 「...我們有關能源的決策將考驗美國人民的品格以及總統和國會的治理能力。這項艱難的努力將「等同於一場道義上的戰爭」,只是我們將齊心合力去建設而不是去破壞。...」

— 吉米·卡特(Jimmy Carter)總統
全國講話,1977年4月18日(經改編)

卡特總統透過哪種方式實踐上述想法?

- (1) 停止核電廠的建設
- (2) 增加外國原油的進口
- (3) 督促代用燃料源的開發
- (4) 對所有石油產品實行價格凍結

請根據下面的漫畫和你的社會學知識回答第41題。



資料來源:布魯斯·貝蒂(Bruce Beattie),代托納灘新聞報(Daytona Beach News-Journal)(經改編)

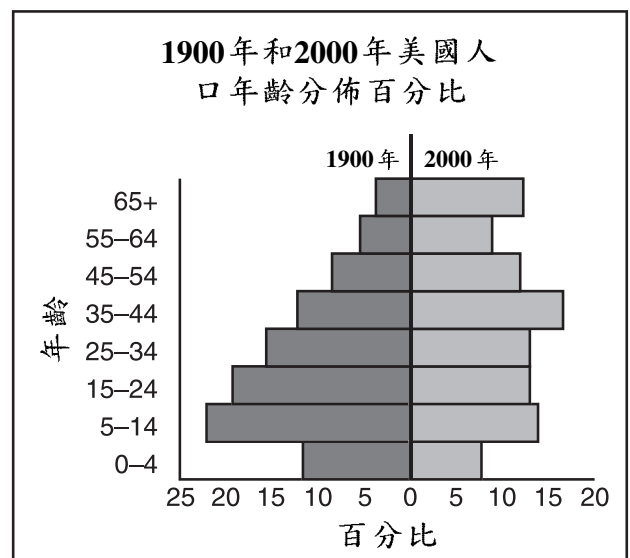
- 41 這幅出自2000年富有爭議的總統競選期間的漫畫,表示獲勝者可能
- (1) 缺乏民眾對其各項計畫的有力支持
 - (2) 輕鬆贏得2004年改選
 - (3) 成功兌現其競選承諾
 - (4) 不能在選舉團中取得勝利

- 42 「克林頓(Clinton)向俄羅斯提供經濟援助」
「美國向波士尼亞派遣維和部隊」
「美國向索馬利亞空運食物和藥品」

這些新聞標題表明,1990年代的美國外交政策強調

- (1) 遏制
- (2) 集體安全
- (3) 全球參與
- (4) 中立

請根據下面的圖表和你的社會學知識回答第43題。

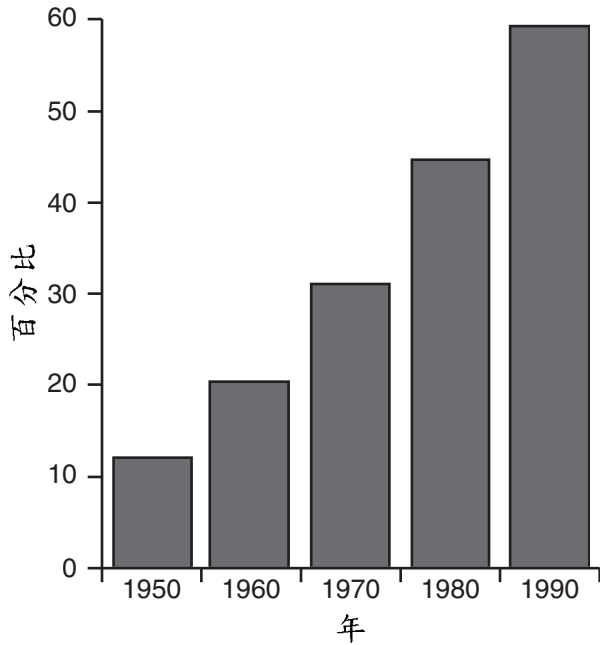


資料來源:美國人口普查局(經改編)

- 43 圖表中顯示的變化,證實了美國人近期對哪方面的擔憂?
- (1) 未來的社會保障(Social Security)和醫療保健(Medicare)
 - (2) 退化到農業社會
 - (3) 醫療保健人員過剩
 - (4) 缺少中小學和大學
- 44 聯邦儲備系統(Federal Reserve System)透過哪種方式影響美國經濟?
- (1) 調整流通領域的貨幣量
 - (2) 向農民和小型企業提供直接貸款
 - (3) 執行嚴格的反托拉斯法(antitrust laws)
 - (4) 控制從其他國家的進口

請根據下面的圖表和你的社會學知識回答第45和46題。

在外工作的母親
(育有6歲以下兒童)
百分比



資料來源：《1996年綠皮書》(1996 Green Book)，
美國勞工部勞工統計局（經改編）

- 45 圖表中的資料最明確地支持下列哪項陳述？
- (1) 1990年6歲以下兒童多於1950年。
 - (2) 自1990年起，婦女佔勞動力的一半以上。
 - (3) 男性和女性的收入差距有所減少。
 - (4) 留在家中撫養子女的婦女越來越少。
- 46 政府公職的候選人在研究了這張圖表之後可能得出的結論是，公眾會希望政府加強對下列哪一項的支援？
- (1) 額外的對外援助
 - (2) 醫療保健設施
 - (3) 日間托兒中心
 - (4) 大專院校

- 47 威廉·勞埃德·加利森(William Lloyd Garrison)、哈利特·塔布曼(Harriet Tubman)以及哈利特·史托(Harriet Beecher Stowe)最為有名的成就是
- (1) 創立免費公立學校
 - (2) 發起禁酒運動(temperance movement)
 - (3) 擴大婦女權利
 - (4) 反對奴隸制做法
- 48 哪個標題能夠最恰當地完成下面的部分摘要？

- I. _____
- A. 門戶開放政策(Open Door policy)
 - B. 巴拿馬革命(Panamanian Revolt) (1903年)
 - C. 羅斯福推論(Roosevelt Corollary)
 - D. 杜魯門主義(Truman Doctrine)

- (1) 美國內政計劃
 - (2) 冷戰事件
 - (3) 美國干涉主義
 - (4) 孤立主義措施
- 49 蕾切爾·卡遜(Rachel Carson)和拉爾夫·納德(Ralph Nader)類似於進步時代(Progressive Era)的醜聞揭發者(muckrakers)，原因是他們
- (1) 主張徹底改革政府結構
 - (2) 試圖披露社會問題
 - (3) 未能影響公眾的看法
 - (4) 支援反美活動
- 50 「天定命運論」(Manifest Destiny)在哪場戰爭中被用來辯護美國政府的行動？
- (1) 獨立戰爭(Revolutionary War)
 - (2) 墨西哥戰爭(Mexican War)
 - (3) 南北戰爭(Civil War)
 - (4) 越南戰爭(Vietnam War)

所有短文題答案均應寫在另外一本答卷上。

在回答第II部分的問題時，請注意以下一般性定義：

(a) 論述指「透過事實、推理和論證闡述觀點；較具體地說明某事」

第II部分

命題論述題

答卷說明：寫一篇條理分明的短文，包括引語、與以下內容相關的幾個段落、以及結論。

主題：憲法修訂

《美國憲法》修正案改變了我們的政府及社會。

任務：

請指出《美國憲法》的兩項修正案，並且逐一：

- 論述導致此項修正案被採納的歷史條件
- 論述此項修正案如何改變了美國政府及/或美國社會

你可以採用在美國歷史課程中學到的任何憲法修正案。你可能會考慮的一些建議包括：第1修正案 — 個人自由(1791年)，第15修正案 — 選舉權(1870年)，第16修正案 — 所得稅(1913年)，第17修正案 — 參議員選舉(1913年)，第18修正案 — 禁酒令(1919年)，第19修正案 — 投票權(1920年)，或第22修正案 — 任期限制(1951年)。

你的選擇不必局限於以上建議。

指南：

在文章中請務必：

- 完成以上任務的各個方面
- 用相關事實、例證和細節支持命題
- 作到邏輯清楚、條理分明
- 請包括一段引語和一個結論，但不要簡單地重複主題

在回答第III部分的問題時，請注意以下一般性定義：

- (a) **論述**指「透過事實、推理和論證闡述觀點；較具體地說明某事」
- (b) **評價**表示「檢查和判斷意義，價值或條件，決定價值」

第III部分

歷史文件題

該問題基於隨附的歷史文件(1-8)。問題的設計旨在測驗你運用歷史文件的能力。在編寫本問題時，有些文件經過編輯。在分析文件時，請考量每一文件的來源以及文件中表達的觀點。

歷史背景：

儘管美國人十分重視教育，但並不總是所有人都有機會受到正規教育。自殖民時代起，在美國越來越多的人可以享有受教育的機會。

任務：運用文件中的資訊和你的美國歷史知識，回答A部分中每一份文件後面的問題。你對問題的回答將有助於你寫作B部份的文章：

- 論述個人及政府(聯邦、州及地方)為擴大美國社會的受教育機會而付出的努力
- 評價這些努力取得了多大程度的成功

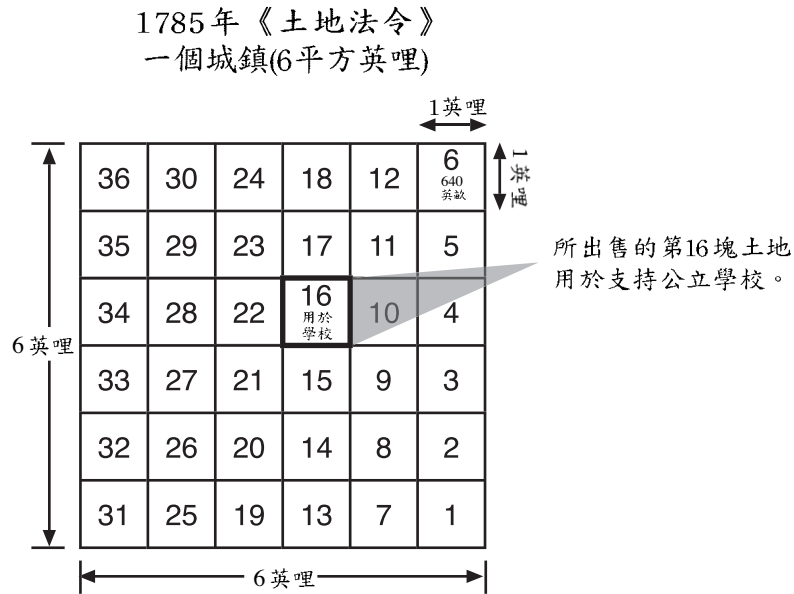
A部分

簡短問答題

答卷說明：分析以下文件，在空白處簡要回答每一份文件後面的問題。

文件1

1785年的《土地法令》(Land Ordinance)規定對西北領土(Northwest Territory)的公共土地進行有序的測量和出售。下面的方格圖表示一個城鎮對待售土地的分區編號。



資料來源：湯姆斯·貝利(Thomas A. Bailey)等，
《美國盛世》(The American Pageant)，
Houghton Mifflin (經改編)

1 根據這張方格圖，1785年的《土地法令》以哪種方式鼓勵在西北領土的教育？ [1]

Score- 得分

... 這些講話使我們不禁要問：這裡提出的女性教育計劃會帶來些什麼，可能在富有家庭的女性中間傳授或保持純粹的禮教，而這種純粹性對於國家繁榮至關重要，對於維繫共和制政府的存在也是必不可缺？

- [1] 透過培養其領悟能力，發展和加強其推理能力，我們可以期望女性更多地受理性支配，而不是只看表面或反覆無常[不可預測]。
- [2] 思維得到此番強化後，她們將學習道德體系，並透過宗教的認可加以鞏固；然後，我們就可以期望她們更加準確、更加開明地看待自己的職責，並有更強大的動力去完成好這些職責。
- [3] 這項教育計劃使我們竭盡所能，避免年輕女性蔑視有益的勞動。學生們將適應它，並結合高水準的文學目標，以及對美術的優雅追求；我們希望，無論從習慣上還是在社交中，在她們將來的生命里都認為這是值得尊敬的。...

資料來源：埃瑪·威拉德(Emma Willard)，
「一篇對公眾，特別是對紐約立法機構成員的講話，提議改善女性教育計劃」
("An Address to the Public, Particularly the Members of the Legislature of New York,
Proposing a Plan for Improving Female Education")，1819年

2 根據這篇短文，闡述埃瑪·威拉德相信女性將得益於教育的一個原因。 [1]

Score-得分

... 教育，超越人類起源中的所有其他作用因素，是平衡人們境況的有效措施，是社會機器的平衡輪。我並不是說教育抬高了道德本質，使人們鄙視和憎惡同胞的壓迫。這種想法關係到它的其他特性。我的意思是，教育賦予每個人獨立性和手段，使他們能夠抵抗其他人的自私。這比緩和窮人對富人的敵意更加奏效；教育可以擺脫貧窮。平均地權運動(Agrarianism)[改善農民經濟狀況的運動]就是貧窮對富有的報復。肆意損壞他人財物 — 焚燒乾草堆和玉米堆，毀壞機器設備，原因是機器代替了手工勞動，往昂貴的衣裝上灑硫酸[腐蝕性物質]—只是在平均地權運動瘋狂到無法收拾時才發生。教育防止了報復，也避免了瘋狂。另一方面，一種對本階級或階層的夥伴情誼會自然而然地發自內心，而不是完全陷於對個人或對家庭的自私中。透過擴大受教育階級或階層而傳播教育，將開闢一個更廣闊的空間，擴展人們的社會認同感；而且，如果這種教育是普遍適用並且全面的，那麼在消除社會的人為等級區分方面，教育的作用將大於其他一切因素。...

— 郝雷斯·曼(Horace Mann)，麻塞諸塞州教育委員會第12次年度報告
(*12th Annual Report of the Secretary of the Massachusetts Board of Education*)，1848年
資料來源：Lawrence Cremin 編輯，《共和國與學校：郝雷斯·曼論自由人教育》
(*The Republic and the School: Horace Mann on the Education of Free Men*)，哥倫比亞大學

3 根據這篇短文，指出郝雷斯·曼認為普遍教育有益於美國社會的兩個原因。 [2]

(1) _____

Score-得分

(2) _____

Score-得分



資料來源：安德魯·克萊頓等(Andrew Cayton, et al.)，*《通向現代的道路》* (Pathways to the Present) Prentice Hall (經改編)

4a 根據這幅照片，在國內戰爭(Civil War)後的一段時期，聯邦政府採取哪種措施來鼓勵非洲裔美國人的受教育機會？ [1]

Score- 得分

我們的學校在開始時—儘管伴隨著白人的恐嚇，以及黑人由此產生的恐懼—有27名學生，即使是最簡單的辭彙也只有4人認識。第6週結束時，我們已經招收了85人，除了15人不識字之外，其他人都認識。在北方7年的教學經歷中，我從未見過像他們這樣如此強烈的求知欲，以及如此快速的進步。這種熱情是否會隨著時間的推移而消退，仍然是個疑問。我對此並不擔心。此時此刻還是讓我們「分秒必爭地工作吧」。當我告訴你下面的事實時，你或許可以對他們的精神多少有個評價，其中3名學生每天早晨步行4英哩，上5小時課後再回家。還有幾名學生從3英哩以外來，很多學生從2英哩或2.5英哩以外來上課。...

—瑪麗·白蒂(Mary S. Battey)，喬治亞州安德森維爾村(Andersonville)教師，1866年
資料來源：喬達·樂納(Gerda Lerner)，*《女性經歷：一部美國文獻》* (The Female Experience: An American Documentary)，
Bobbs-Merrill公司 (經改編)

b 根據這篇短文，1866年的教育機會使南方的非洲裔美國學生受到了哪種影響？ [1]

Score- 得分

文件5

印蒂·哈麗·賽蒙斯(India Harris Simmons)從俄亥俄(Ohio)回到堪薩斯(Kansas)，與依據宅地法安家落戶的父母團聚，並很快被任命為卡尼縣(Kearny County)西北部草原牧場(Prairie Range)區的首位學校教師。

... 課本的來源簡直無法形容，每個學生從「老家」帶來的課本都擺放在他身旁的長椅上。取代了黑板和書寫板的石板大小不一、各式各樣，吉米的小石板帶有發紅的外框，並用繩子系著一枝鉛筆，而瑪麗的雙層大石板帶有家庭自製的大寬邊，並用結實的活頁固定在一起，上面還深深地刻著縮寫姓名和心形圖案。她找到了祖父曾經在俄亥俄用過它的一包紮好的書，其中有來自伊利諾(Illinois)的歷史書，愛荷華(Iowa)的拼寫和寫作書，聖路易(St. Louis)城學校的讀物，甚至還有古老的藍底拼寫書，裡面有五音節的字謎。

根據這些五花八門的材料，教師完全按照自己的判斷佈置作業並劃分類別。學生們已經太久沒有享受過上學的權利，他們非常高興能有機會學習，而他們的迅速進步在很大程度上顯示出，他們來自有知識的家庭。事實如此，沒有用於講解數學地理的地球儀，一個蘋果和一個球就能解決問題。沒有最新的滾軸地圖，只要正確地用心拿好，課本裡的大地圖就能滿足這個目的。...

—印蒂·哈麗·賽蒙斯(1888年)
資料來源：喬安娜·史翠頓(Joanna Stratton)《女性先鋒：來自堪薩斯邊疆的聲音》
(*Pioneer Women: Voices from the Kansas Frontier*) Simon與Schuster

5 根據這份文件，闡述印蒂·哈麗·賽蒙斯利用她可以獲得的教學材料教授學生的兩種方式。

[2]

(1) _____

Score- 得分

(2) _____

Score- 得分

教育狀況
黑人與白人

... 平均起來，南方各州教育黑人孩子的開支是教育白人開支的一半。對白人學校校舍[樓舍]的投資要高出4倍，白人教師的工資也要高出30%。

實行種族隔離的17個州支出4,200萬美元用公車接送白人孩子，而對黑人只花費不到100萬美元。

在實行種族隔離的各州及華盛頓哥倫比亞特區(Washington, D.C.)，就讀年限的中位數是：白人—8.4年；黑人—5.1年。完成學業的白人所佔百分比是黑人的4倍之多。

實行種族隔離的州為白人大學支出8,600萬美元，而對黑人大學只支出500萬美元。經認可的醫學院黑人有1所，而白人有29所；經認可的藥理學院黑人有1所，而白人有40所；法學院黑人有1所，而白人有40所。黑人沒有工程學院，而白人有36所。

在1946年，據估計全部黑人人口的1/4實際上屬於文盲。...

資料來源：哈洛·伊凡斯(Harold Evans)等，《美國世紀》(The American Century)，Alfred A. Knopf

- 7 根據此份文件，就實行種族隔離的州在1954年以前的教育而論，闡述「隔離而平等」兩個不平等的方面。 [2]

(1) _____
Score-得分

(2) _____
Score-得分

... 在公立學校對白人和有色人種的孩子實行種族隔離，將對有色人種的孩子造成非常不利的影響。在獲得法律批准時，這種影響就更為嚴重，因為種族隔離政策通常會被解讀為表明黑人是劣等群體。一種自卑感將影響孩子的學習積極性。因而，種族隔離一旦獲得法律的批准，就往往會[妨礙]黑人孩子的教育和身心發展，並使他們喪失在一個種族融合的學校體系中可能獲得的部分利益。

在審理普萊西訴弗格森案(*Plessy v. Ferguson*)時，不論心理學發展到哪種程度，本裁決都得到了當代政府的充分支援。在普萊西訴弗格森案中，任何與本裁決相抵觸的言論都將被否定。

我們認為，在公共教育領域，「隔離而平等」原則完全沒有立足之地。區分教學設施具有內在的不平等性。鑒於上述，本院裁定原告以及與原告處境相似的其他本案當事人，由於所申訴的種族隔離之原因，被剝奪了第十四修正案有關受法律平等保護的保障。本裁定使我們無需再爭辯，此類種族隔離是否同時觸犯了第十四修正案的「正當程式」(Due Process)條款。...

一大法官厄爾·華倫(Earl Warren)，法院意見，布朗訴托皮卡學校董事會案
(*Brown v. Board of Education of Topeka*) (1954年)

- 8 根據此份文件，在將「隔離而平等」用於公立學校時，最高法院對於此項原則的裁定是什麼？ [1]

Score- 得分

B 部分

文章

答卷說明：寫一篇條理分明的短文，包括引語、幾個段落、以及結論。在文章中至少引用五份文件的例證。用相關事實、例證和細節支持你的論點。請包含其他補充資訊。

歷史背景：

儘管美國人十分重視教育，但並不總是所有人都有機會受到正規教育。自殖民時代起，在美國越來越多的人可以享有受教育的機會。

任務：運用文件中的資訊和你的美國歷史知識寫一篇短文，在文章中：

- 論述個人及政府(聯邦、州及地方)為擴大美國社會的受教育機會而付出的努力
- 評價這些努力取得了多大程度的成功

指南：

在文章中請務必：

- 準確地分析和詮釋至少五份文件，就任務的各方面進行探討
- 在文章主題部份引用文件中的資訊
- 引用相關外部資訊
- 用相關事實、例證和細節支持命題
- 作到邏輯清楚、條理分明
- 請包括一段引語和一個結論，但不要簡單地重複歷史背景

The University of the State of New York

REGENTS HIGH SCHOOL EXAMINATION

美國歷史和政府

僅限用於2004年1月28日（星期三）下午1時15分至4時15分

答卷紙

男性別: 女

學生 _____

教師 _____

學校 _____

第I部分的考題答案則應書寫在本答案紙上。把第IIIA部分的答案寫在考題本上，並把第II部分和把第IIIB部分的答案寫在另外分開的申論文本內。

FOR TEACHER USE ONLY

Part I Score _____

Part III A Score _____

Total Part I and III A Score

Part II Essay Score _____

Part III B Essay Score _____

Total Essay Score

Final Score

(obtained from conversion chart)

第I部份

1.....	26.....
2.....	27.....
3.....	28.....
4.....	29.....
5.....	30.....
6.....	31.....
7.....	32.....
8.....	33.....
9.....	34.....
10.....	35.....
11.....	36.....
12.....	37.....
13.....	38.....
14.....	39.....
15.....	40.....
16.....	41.....
17.....	42.....
18.....	43.....
19.....	44.....
20.....	45.....
21.....	46.....
22.....	47.....
23.....	48.....
24.....	49.....
25.....	50.....

No.
Right

當你考試完畢之後，必須在以下聲明的下方簽名。

本人在此考試結束之際特此聲明，本人在此次考試之前未非法獲得考題內容及答案，並且在考試中，既未向任何人提供幫助亦未從任何人處得到幫助。

簽名

