

REGENTS HIGH SCHOOL EXAMINATION

美國歷史和政府

僅限用於2007年6月19日(星期二)下午1時15分至4時15分

學生姓名 _____

學校名稱 _____

請以工整字跡在上方直線上填寫你的姓名和學校名稱。然後翻到本考題本的最後一頁，即第I部分的答題紙。請沿著虛線把最後一頁折疊起來，慢慢地小心地將答題紙撕下，然後在你的答題紙上填寫各項抬頭。現在你要在申論題考題本內每頁的抬頭上以工整字跡填寫你的姓名和學校名稱。

本考試共有三個部分。你必須回答每一部分的**所有**題目。請用黑色或深藍色的水墨原子筆回答考題。

第I部分包括50道選擇題。請將答案記錄在另外一張答題紙上。

第II部分包括一道以主題為主的申論題。從申論答題本的第1頁起開始回答該題。

第III部分是基於幾份文件：

第IIIA部分包含各種文件。每篇文件後有一個或一個以上的問題要回答。在本考題本中，請將你對每個問題的答案寫在該題之後的直線上。請務必在這部分的第一頁上填寫你的姓名和學校名稱。

第IIIB部分包括一道基於文件的申論題。請將你對本題的答案寫在申論答題本中，請從第7頁開始作答。

在本次考試結束後，你必須在第I部分的答題紙上簽署聲明，表明你在考試前沒有非法得到本考試的試題或答案，或在考試中沒有給予或接受過任何的幫助。你如果不簽署本聲明，你的答題紙將不會被接受。

在本考試中，嚴禁使用任何形式的通訊工具。如果你使用了任何的通訊工具，無論使用多久，你的考試都將無效，並且不會得到任何的分數。

未經指示請勿打開本考題本。

第I部分

請回答本部分的所有問題。

答題說明 (1-50)：在另外的答案紙上，根據每道題目的陳述或問題，填入代表最適當答案的**編號**。

1 在《常理》小冊子中，托馬斯·培恩(Thomas Paine)呼籲美國殖民地居民

- (1) 反對法國殖民北美
- (2) 與英國妥協
- (3) 重申效忠國王喬治三世(George III)
- (4) 宣布脫離大不列顛而獨立

2 在1787年舉行制憲大會的主要原因為

- (1) 在北方及南方取締奴隸制
- (2) 徵收進出口稅
- (3) 修正聯邦條例
- (4) 降低聯邦政府的權力

3 創始者在憲法中包括允許國會滿足社會變化的想法是什麼？

- (1) 聯邦主義
- (2) 三權分立
- (3) 彈性條款
- (4) 各州的權利

4 反聯邦黨人反對批准憲法的主要理由是，因為他們相信

- (1) 修改憲法太容易
- (2) 給予州太多權力
- (3) 聯邦法院系統會太弱
- (4) 個人權利沒有得到充分保護

5 在美國憲法中，哪些權力被授予聯邦政府？

- (1) 建立官方宗教
- (2) 管制州際商務
- (3) 規範結婚及離婚
- (4) 給予貴族稱號

請根據下面的語錄及你的社會學知識，回答第6題及第7題。

……人身保護令的特權不得終止，除非發生叛亂或受到侵犯的情況下，出於公共安全的需要而終止……

— 第1條，第9節，第2款，
《美國憲法》

6 這項憲法條款表明什麼意見？

- (1) 公民自由不是絕對的
- (2) 革命對民主至關重要
- (3) 國防比個人權利較不重要
- (4) 新聞自由得到保證

7 在哪場戰爭中總統暫停了人身保護令？

- (1) 革命戰爭
- (2) 1812年的戰爭
- (3) 墨西哥戰爭
- (4) 內戰

8 哪個標題對以下部分綱要是最適當的？

- I. _____
- A. 政黨
 - B. 國會中的委員會制
 - C. 司法覆核
 - D. 總統內閣

- (1) 不成文憲法
- (2) 憲法修正案
- (3) 選舉過程
- (4) 制衡體系

- 9 • 美國政府徵收汽油稅。
• 紐約州法律規定，許多商品都要徵收營業稅。

這兩個陳述最佳說明哪個原則？

- (1) 共享權力
 - (2) 財產權
 - (3) 保留權力
 - (4) 人民主權
- 10 哪個有關美國眾議院的陳述是準確的？
- (1) 代表是由他們州的立法機關所挑選的。
 - (2) 憲法允許每個州有兩名代表。
 - (3) 每個州的代表人數以其人口為依據。
 - (4) 總統的政黨總是佔眾議院多數席位。
- 11 全國步槍協會(NRA)及全國教育協會(NEA)這些遊說團體，都能夠影響政府的決策，因為它們
- (1) 直接選出國會的領導人
 - (2) 致力於選出支持他們觀點的立法委員
 - (3) 支付當選官員的薪酬
 - (4) 成為第三政黨的會員
- 12 密西西比河系統在上半個十九世紀中，是一項重要的經濟資源，因為它被用作
- (1) 灌溉沙漠地
 - (2) 運輸農產品到市場
 - (3) 移民遷至東北
 - (4) 生產水力發電
- 13 華盛頓的中立宣告(1793年)、杰斐遜的《禁運法案》(Embargo Act)(1807年)，以及門羅主義(1823年)都致力於
- (1) 避免與歐洲國家有政治衝突
 - (2) 直接支持歐洲革命
 - (3) 援助大不列顛與法國的戰爭
 - (4) 推動軍事同盟

- 14 在首席大法官約翰·馬歇爾(John Marshall)(1801年—1835年)的領導下，美國最高法院裁定

- (1) 宣布種族隔離的法律違憲
- (2) 賦予州徵收美國銀行稅收的權力
- (3) 增加國會限制總統權力的能力
- (4) 確立聯邦的法律高於州的法律

- 15 在19世紀的上半個世紀，奴隸制在南方擴大的一個主要原因是什麼？

- (1) 聯邦政府的法規偏向南方出口。
- (2) 新發明導致棉花生產的增加。
- (3) 大多數早期紡織廠都建在南方。
- (4) 聯邦政府鼓勵輸入被奴役的人。

- 16 總統安德魯·杰克遜(Andrew Jackson)用酬庸制度來

- (1) 否決他不喜歡的法案
- (2) 執行最高法院的判決
- (3) 將美國印地安的原住民遷移出他們傳統的土地
- (4) 提供就業機會給政黨支持者

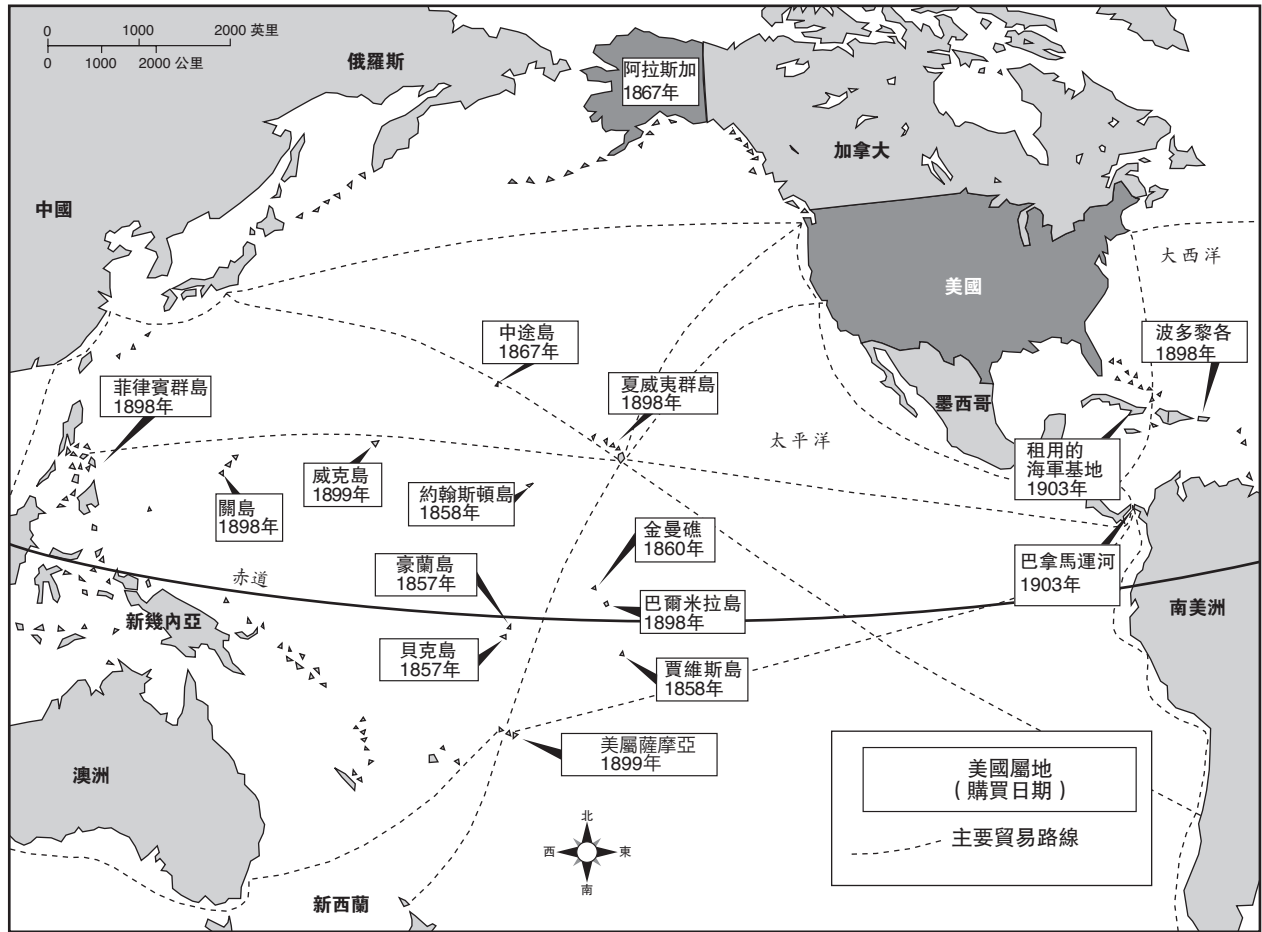
- 17 “要麼54°40’，要麼戰鬥！”的口號、德克薩斯州的併入，以及墨西哥戰爭都涉及到

- (1) 拒行聯邦法令理論
- (2) 脫離聯邦的實行
- (3) 天定命運的信仰
- (4) 正當法律程序的理念

- 18 《宅地法》(Homestead Act)(1862年)試圖為促進西部土地的大開發
- (1) 創造水壩制度來灌溉農作物
 - (2) 為定居者提供免費土地
 - (3) 取消移民入境的一切限制
 - (4) 將美國印地安的原住民安置在保留地內
- 19 在整個19世紀內，哪兩個地理特徵最能影響美國的外交政策？
- (1) 大西洋及太平洋
 - (2) 墨西哥灣及密蘇里河
 - (3) 五大湖及哈德遜河
 - (4) 阿巴拉契亞山脈及洛基山脈
- 20 在1800年代的下半期，聯邦政府鼓勵建設橫貫大陸的鐵路，通過
- (1) 讓土地給鐵路公司
 - (2) 大量購買鐵路股票
 - (3) 強迫囚犯當勞工
 - (4) 控制鐵路信託
- 21 哪個行動標誌著重建美國的結束？
- (1) 第14條修正案的批准
 - (2) 從南部撤出聯邦軍隊
 - (3) 奴隸解放局的成立
 - (4) 彈劾總統安德魯·約翰遜(Andrew Johnson)
- 22 在1800年代的晚期，哪個組織強烈支持開放移民政策？
- (1) 天然資源保護論者
 - (2) 本土文化保護者
 - (3) 廠主
 - (4) 南方農民
- 23 《達維斯法案》(Dawes Act)(1887年)的一個主要目標是什麼？
- (1) 提供一個部落立法機關來管理所有保留地
 - (2) 清除來自美國東南部的徹羅基族
 - (3) 加強美國印地安原住民部落的團結
 - (4) 鼓勵同化美國印地安的原住民
- 24 社會達爾文主義論往往被用來辯護
- (1) 創立三K黨(Ku Klux Klan)
 - (2) 形成商業壟斷
 - (3) 採用工會罷工
 - (4) 通過反壟斷的法律
- 25 全國個人所得稅、免費無限銀錢幣及直接選舉參議員，這些建議都包括在什麼內？
- (1) 情感宣言
 - (2) 重建共和計劃
 - (3) 人民黨論台
 - (4) 聯邦儲備體系
- 26 在進入第一次世界大戰前，美國抗議德國使用潛艇戰，主要是因為它
- (1) 違反門羅主義
 - (2) 阻止移民到美國
 - (3) 對美國城市構成直接威脅
 - (4) 違反海洋的自由原則
- 27 在第一次世界大戰期間，非洲裔美國人往北部城市大遷徙的主要原因是什麼？
- (1) 北部工廠的就業機會。
 - (2) 吉姆克勞法在南方已被廢除。
 - (3) 投票權已在北部各州通過。
 - (4) 聯邦政府已經保證終止歧視。
- 28 薩克及萬澤案件(trial of Sacco and Vanzetti)顯示了1920年代的哪個特色？
- (1) 敵視婦女投票權
 - (2) 支持隔離
 - (3) 反對政教分離
 - (4) 不寬容移民

根據下面的地圖及你的社會科學知識，回答第29題及第30題。

美國領土及契約，1857年—1903年



資料來源：Maps.com（經改編）

29 這幅地圖的主要目的是，說明

- (1) 重要自然資源的來源
- (2) 美國帝國主義的發展
- (3) 大西洋奴隸貿易的增長
- (4) 美西戰爭的結果

30 這幅地圖的資訊最佳支持的結論是，修建巴拿馬運河的動力來自美國的願望以

- (1) 提高拉丁美洲人民的生活水平
- (2) 增加海軍調動及拓展海外市場
- (3) 改善與拉丁美洲及亞洲國家的關係
- (4) 維持集體安全政策

31 國家的禁酒政策結束了，當各州

- (1) 加強了食品及藥品法例
- (2) 把酒精作醫療用途合法化
- (3) 批准了第21條修正案
- (4) 禁止州際運輸含酒精飲料

請根據下面的漫畫及你的社會學知識，回答第32題。

特洛伊木馬在我們的大門前



資料來源：Carey Orr, *The Chicago Tribune*, September 17, 1935(經改編)

32 這幅漫畫的中心思想是，新政方案

- (1) 危及憲法及美國人民
- (2) 威脅兩黨政治制度
- (3) 為美國公民提供更大的政治自由
- (4) 提供免受外來暴政的保護


33 總統法蘭克林·羅斯福(Franklin D. Roosevelt)的睦鄰政策，主要目的在於

- (1) 減少與加拿大的邊界衝突
- (2) 增加接受在美國的少數族裔
- (3) 鼓勵德國及蘇聯解決彼此分歧
- (4) 改善與拉丁美洲的關係

34 總統法蘭克林·羅斯福(Franklin D. Roosevelt)的新政方案的一個結果是

- (1) 增加了國債
- (2) 削弱了工會
- (3) 放寬了股市
- (4) 廢除了聯邦反托拉斯法

請根據下面的圖示及你的社會學知識，回答第35題。



資料來源：Library of Congress (經改編)

35 根據這個圖示所顯示，這些第二次世界大戰配給票的主要目的是

- (1) 徵兵選男
- (2) 節約必需的軍用物資
- (3) 鼓勵增加消費品產量
- (4) 支付軍用硬件的國防承包商

- 36 在哪兩個事件中，第二個事件是第一個的回應？
- (1) 杜魯門主義 → D日進攻
 - (2) 曼哈頓工程 → 《租借法案》(Lend-Lease Act)
 - (3) 大屠殺 → 紐倫堡戰犯審判
 - (4) 德國入侵波蘭 → 慕尼黑會議
- 37 二次世界大戰後美國外交政策的改變，是由於美國
- (1) 參與更多世界事務
 - (2) 返回孤立政策
 - (3) 拒絕加入聯合國
 - (4) 對蘇聯奉行綏靖政策
- 38 總統哈利·杜魯門(Harry Truman)命令要求忠誠檢查，以及由約瑟夫·麥卡錫(Joseph McCarthy)領導的參議院的聽證，兩者均反應
- (1) 第二次世界大戰後武裝部隊的過度開支
 - (2) 對非洲裔美國人有種族歧視
 - (3) 害怕政府內有共產主義的影響
 - (4) 知名的罪犯控制工會
- 39 由於1956年的州際高速公路法案的結論，美國經歷了
- (1) 增加郊區的增長
 - (2) 取消市區重建計劃
 - (3) 減少來自汽車的空氣污染
 - (4) 減少美國對外國石油的依賴
- 40 最高法院對《吉迪恩與溫賴特訴訟案》(Gideon v. Wainwright)(1963年)和《米蘭達與亞利桑那州訴訟案》(Miranda v. Arizona)(1966年)的判決，導致了
- (1) 警察獲取證據權力的增加
 - (2) 有關殘忍和不尋常懲罰的規則的澄清
 - (3) 限制公民僱用律師的權利
 - (4) 擴大被指控有罪的人的權利
- 41 1970年水門醜聞的一個重大影響是
- (1) 導致了阿拉伯石油的禁運
 - (2) 減少了人民對政府的信任
 - (3) 導致了民選官員的任期限制
 - (4) 增加了總統權力
- 42 在大維營協議(1978年)中，總統吉米·卡特(Jimmy Carter)成功地
- (1) 把巴拿馬運河地帶歸還給巴拿馬
 - (2) 向蘇聯及中國暫停銷售糧食
 - (3) 在埃及和以色列之間提供和平條約的基礎
 - (4) 釋放被關押在伊朗的人質
- 43 冷戰結束與哪個事件最有關聯？
- (1) 通過北美自由貿易協定(NAFTA)
 - (2) 與蘇聯建立一個緩和政策
 - (3) 蘇聯入侵阿富汗
 - (4) 柏林圍牆的倒塌
- 44 哪個事件導致了其餘三個的發生？
- (1) 美國推翻阿富汗的塔利班政權
 - (2) 通過了《愛國者法案》(Patriot Act)
 - (3) 恐怖分子在2001年9月11日攻擊美國
 - (4) 成立國土安全部
- 45 哪個人的行動與廢奴運動最有關聯？
- (1) 威廉·羅伊·葛里森(William Lloyd Garrison)出版的《解放者》
 - (2) 布克·T·華盛頓(Booker T. Washington)對非洲裔美國人教育的承諾
 - (3) 涂谷·馬歇爾(Thurgood Marshall)對《布朗與托皮卡教育會議訴訟案》(Brown v. Board of Education of Topeka)的法律爭論
 - (4) 馬丁·路德·金(Martin Luther King, Jr.)領導的伯明翰(Birmingham)遊行

46 “奴役或強迫勞役，除了用以懲罰依法判刑的罪犯之外，不得在美國境內或受美國管轄之任何地方存在。”

這項聲明是什麼的一部分？

- (1) 密蘇里(Missouri)妥協
- (2) 《堪薩斯-內布拉斯加法案》(Kansas-Nebraska Act)
- (3) 得福德·史考特(Dred Scott)的決定
- (4) 第13條憲法修正案

請根據下面的歌詞及你的社會學知識，回答第47題。

兄弟，你能給我一毛錢嗎？

……我曾經築了一座塔，高至太陽，
磚、鉚釘和石灰。

我曾經築了一座塔，現在完成了--
兄弟，你能給我一毛錢嗎？……

— E. Y. Harburg and J. Gorney

47 這些歌詞與什麼最有關聯？

- (1) 哈林文藝復興的作家
- (2) 在大蕭條期間的失業
- (3) 第一次世界大戰後“迷惘的一代”
- (4) 在1950年代期間的商務拓展

48 哪兩個事件顯示正確的因果關係？

- (1) 南卡羅來納州的脫離 → 亞伯拉罕·林肯(Abraham Lincoln)的當選
- (2) 美國參與美西戰爭 → 緬因號美國軍艦的下沉
- (3) 《肉類檢查法案》的通過 → 《叢林》的出版
- (4) 蘇聯發射第一顆人造衛星 → 美國太空人登陸月球

49 馬歇爾計劃(1948年)及古巴導彈危機(1962年)與什麼最有密切關聯？

- (1) 成立和平隊
- (2) 創立進步聯盟
- (3) 冷戰時期美國與蘇聯的關係
- (4) 增加美國及古巴之間的貿易關係

50 在美國，哪個聯邦政府計劃一直受預期有壽命較長的人的最大影響？

- (1) 醫療保險
- (2) 《美國殘疾人法案》(Americans with Disabilities Act)
- (3) 對貧困開戰
- (4) 《不讓任何孩子落後法案》(No Child Left Behind Act)

請將申論題的答案寫於分開的申論題答題卷中。

在你考慮第II部分的答案時，請注意以下一般性定義：

- (a) **解釋**指“使其簡單或可理解；提出原因或起因表明出邏輯發展或彼此關聯性”
- (b) **討論**指“透過事實、推理及論證來作觀察評論；並描述其細節”

第II部分

主題申論題

答題說明：撰寫一篇條理分明的短文，包含引言、與下列任務相關的幾個段落、以及結論。

主題：改變 — 工業化

在十九世紀期間，美國工業經歷了巨大的增長。這個工業增長導致了許多美國人的生活改變。

任務：

指出美國工業增長造成美國人生活的**兩個**改變，並且**逐一**

- 解釋工業化如何促成這個改變
- 討論這個改變對美國人生活的**一個**正面**或**一個負面的影響

你可以運用工業增長所造成的任何適當的改變。你可能希望考慮有些建議，包括移民的增加、新發明或技術、工會的增長、壟斷的增長、改革運動的成長，以及城市化的增長。

你不必局限於這些建議。

指南：

在你的短文中，請務必：

- 完成任務的各個方面
- 引用相關事實、例證及詳細資料來支持主題
- 須合乎邏輯、條理分明，包括引言和結論，切勿重複主題

在你考慮第III部分的答案時，請注意以下一般性定義：

討論指“透過事實、推理及論證來作觀察評論，並描述其細節”

第III部分

歷史文件題

本問題是基於隨附的文件。該問題是為了測驗你運用歷史文件的能力而設計的。在編寫本問題時，其中有些文件是經過修改的。當你分析文件時，請參考每份文件的來源及文件中所論述的任何觀點。

歷史背景：

1800年代及1900年代初期的婦女投票權運動，與1950年代及1960年代的民權運動有許多相似的目標，並使用類似的方法來實現這些目標。然而，這些運動也有許多不同的目標，並使用不同的方法來實現它們。

任務：運用文件中的資訊及你的美國歷史知識，回答A部分中每份文件後面的問題。你對這些問題的回答將有助於你撰寫B部分的短文，你將被要求：

- 討論1800年代及1900年代初期的婦女投票權運動，與1950年代及1960年代的民權運動之間的相似**和(或)**不同之處在於
 - 運動的目標**及**
 - 為達到這些目標運動所採用的方法

A部分 簡答題

答題說明：分析以下文件，在空白處簡要地回答每份文件後的問題。

文件1

在1872年11月5日，蘇珊·B·安東尼(Susan B. Anthony)連同其他十六名婦女，到羅切斯特(Rochester)當地的投票站為大選投票。她被逮捕，並在她的審判中作此聲明。在審判中，她被裁定有罪並判處罰款。

……安東尼小姐。[發言]—尊敬的法官大人，我永遠不會為你不公平的判決而付出一元。我所擁有的只是一項10,000美元的債務，是由於出版我的刊物《革命》。這份刊物的唯一目的是，為了教導所有的婦女做像我已做到的事，那就是反抗你們這些人爲的、不公平的、違反憲法的形式：對婦女徵稅、罰款、下監並絞刑，同時拒絕她們在政府的代表權；我將全心地努力工作，去償還那份誠實債務的每一塊錢，卻不會為這個不公平的索求付出一分錢。我會迫切地並百折不撓地繼續督促所有婦女，使她們對那句古老的革命箴言有實踐的認同，就是“反抗暴政等於服從神。”……

資料來源：Ida Husted Harper, *The Life and Work of Susan B. Anthony*, Vol. I, The Hollenbeck Press, 1898

1 根據蘇珊·B·安東尼(Susan B. Anthony)，她為什麼拒絕繳納罰款？ [1]

Score

婦女投票權公司
在各州操作
在加特(Catt)夫人的領導下

婦女投票權運動現在採用
資深男政治家使用的所有方法

……投票權出版公司是全美投票權協會工作的一個重要附屬機構，其第一任總裁是塞拉斯·菲爾德(Cyrus W. Field)夫人，現任總裁為埃絲特·奧格登(Esther Ogden)小姐。作為一個經營企業，它已證明是非常成功的，在開始運作的兩年後，在本年一月，公司宣布派息百分之三。這個公司發行傳單、小冊子、書籍、海報及投票地圖。出版公司附帶生產的宣傳品包括紙牌、印有“為婦女投票”的文具、日曆、晚餐卡、明信片；以及陽傘[等等]用於遊行。這家公司去年發行5,000,000張傳單……


資料來源：New York Times, April 29, 1917

2 根據《紐約時報》這篇文章，全美投票權協會為把注意力引向其目標而使用的一個方法是什麼？ [1]

Score

文件3a

婦女投票權主義者遊行，大約在1913年



資料來源：Library of Congress

威斯康辛州 (Wisconsin) 婦女自1900年以來就有學校選舉權

康涅狄格州 (Connecticut) 婦女自1893年以來就有學校選舉權

除了四個州以外，其他州的婦女都有一些選舉權

白宮示威者，1917年



文件3b

資料來源：Miles Harvey, *Women's Voting Rights*, Children's Press

3a 在這些照片中的婦女的一個目標是什麼？ [1]

Score

b 這些照片顯示，當時婦女為達到她們的目標而採用的一個方法是什麼？ [1]

Score

**婦女應該投票
的十二個理由**

1. **因為**那些遵守法律的人應該協助挑選那些制定法律的人。
2. **因為**法律對婦女的影響與男人的相同。
3. **因為**影響**婦女**的法律，在沒有與她們協商的情況下現已通過。
4. **因為**影響**兒童**的法律應該包括婦女及男子的觀點。
5. **因為**影響**家庭**的法律在立法機構的每個會議中表決。
6. **因為**婦女的經驗將有助於立法。
7. **因為**剝奪婦女選舉權是降低她們的地位。
8. **因為**投票權將會增加婦女對公眾重要性問題的責任感。
10. **因為**成千上萬有理智的、有思想的、勤奮工作的婦女希望投票。
11. **因為**反對他們投票權是基於偏見，而非理性。
12. **因為**綜合上述所有原因，**這是為了共同造福全人類。**

為婦女的選舉權投票
把這個給朋友，請他投票支持

馬薩諸塞州(Massachusetts)婦女選舉權協會
總部：585 Boylston St., Boston

N. W. S. Publishing Co., Inc.

資料來源：Massachusetts Woman Suffrage Association

(備註：該傳單的原著沒有包括第9個理由。)

4 根據這份文件，婦女投票權主義者在這張1915年的傳單中，為支持他們的目標而使用的**兩個**論點是什麼？ [2]

(1) _____

Score

(2) _____

Score

文件5

……在這些會議[有關非洲裔美國人在公共汽車上的待遇]中，我們不僅討論了這兩位被逮捕的婦女，還有不少未能進入法庭的其他幾樁公共汽車事件，毫無疑問，這是因為受害乘客是黑人。幾個白人司機決定利用每一個機會騷擾我們的人民。舉例來說，當公共汽車只是稍微擁擠時，司機會讓黑人繳納他們的車費，然後叫他們下車，再從後門進入。他們有時甚至會在一個乘客支付後艱難地向後方走時，突然嘎吱一聲啓動車而去。至少有一次，司機關閉後門時夾住了一個黑人婦女的手臂，然後把她拖到下一個站，才讓她上車。顯然這種無理[無謂]的殘酷行爲，只會令蒙哥馬利(Montgomery)的巴士日益緊張。我們試圖與地方當局和巴士公司的官員據理力爭。他們是客氣的，聆聽我們投訴時表情嚴肅，但並沒有採取任何行動。

在1955年12月1日，帕克太太帶著她如今家喻戶曉的乘坐公共汽車的經歷，發動了將導致一場不朽的社會革命事件……

資料來源：Ralph David Abernathy, *And the Walls Came Tumbling Down*, Harper & Row

- 5a 根據勞夫·大衛·艾伯納西(Ralph David Abernathy)，阿拉巴馬州蒙哥馬利(Montgomery, Alabama)的非洲裔美國人的一個目標是什麼？ [1]

Score

- b 根據勞夫·大衛·艾伯納西(Ralph David Abernathy)，非洲裔美國人爲表達他們的顧慮而採用的一個方法是什麼？ [1]

Score

文件6a

在1963年，大學生在南方一個“只許白人”的午餐櫃檯上面臨敵對的人群。



資料來源：Juan Williams, *Eyes on the Prize*, Viking

文件6b

非洲裔美國大學生在“只許白人”的午餐櫃檯上等待服務或被強行驅出。



資料來源：Gary Nash et al., *The American People*, Pearson Longman

6a 根據這些照片，指出這些民權活躍分子為達到他們的目標而採用的一個方法。 [1]

Score

b 這些照片顯示了民權活躍分子的一個具體目標是什麼？ [1]

Score

文件7

1963年4月16日

阿拉巴馬州伯明翰 (Birmingham, Alabama)

……你可能會問：“爲什麼採取直接行動？爲何靜坐、遊行等等？談判不是一個更佳的途徑嗎？”你說得不錯，要求進行談判。事實上，這是我們直接行動的根本目的。非暴力的直接行動，目的是製造這樣的一場危機，並鼓勵一種緊張氣氛，使得一個一貫拒絕談判的社會不得不正視這個問題。它旨在把問題戲劇化，使其不能再被忽視。我引用造成緊張作爲非暴力抗爭者工作的一部分，聽起來頗爲驚人。但我必須承認，我並不害怕“緊張”這個字。我已認真反對暴力緊張局勢，但有一種建設性的和非暴力的緊張，這是成長的必要條件。就像蘇格拉底覺得有必要創造一個緊張的心情，以便使個人能夠從神話和半真理上升到不受約束[自由]的創造性分析和客觀性評價境界，我們必須看到對非暴力而有激動力的人[活躍分子]在社會上製造某些壓力的需要，來幫助人們從偏見和種族主義的黑暗深處上升到認識和兄弟情誼的雄偉高度……

資料來源：Martin Luther King, Jr., “Letter from Birmingham Jail,” 1963

7a 根據小馬丁·路德·金(Martin Luther King, Jr.)，實現民權運動目標的一個方法是什麼？ [1]

Score

b 根據小馬丁·路德·金(Martin Luther King, Jr.)，民權運動的一個具體目標是什麼？ [1]

Score

文件8

200,000人井然有序地在華盛頓舉行民權集會



華盛頓，8月28日—超過200,000位美國人，其中大部分是黑人，但亦有很多白人，今天在這裏示威公民權利及平等就業機會的一個全面而迅速的計劃。

這個集會是本首都從未見過的最大型糾正不滿的集會。

在亞伯拉罕·林肯(Abraham Lincoln)命令解放的奴隸“放棄一切暴力”及“忠實地為合理的工資勞動”之後的一百年又二百四十天，這個龐大群眾[人群]以遊行和歌曲的方式，並透過其領導人的演說宣布他們仍在等待自由和工作……

資料來源： *New York Times*, August 29, 1963

8a 根據《紐約時報》這篇文章，這些活躍分子採用什麼方法來達到他們的目標？ [1]

Score

b 根據《紐約時報》這篇文章，這些活躍分子的一個具體目標是什麼？ [1]

Score

文件9

美國耶利哥(Jericho)



資料來源：Herblock, *Washington Post*, March 21, 1965 (經改編)

9 正如赫布洛克(Herblock)這幅漫畫所顯示，這些遊行者在他們努力爭取平等權利上的一個具體目標是什麼？[1]

Score

B部分 短文題

答題說明： 撰寫一篇條理分明的短文，包含引言、幾個段落和結論。引述取自**至少五個文件**中的證據來支持你的回答。使用相關事實、事例和細節來支持你的論點。包括其他的外部資訊。

歷史背景：

19世紀及20世紀初的婦女投票權運動，與20世紀50年代及60年代的民權運動有許多相似的目標，並使用類似的方法來實現這些目標。然而，這些運動也有許多不同的目標，並使用不同的方法來實現它們。

任務： 運用文件的資訊及你對美國歷史的知識，撰寫一篇短文，在短文中

- 討論1800年代及1900年代初期的婦女投票權運動，與1950年代及1960年代的民權運動之間的相似**和(或)**不同之處在於
 - 運動的目標**及**
 - 為達到這些目標運動而採用的方法

指南：

在你的短文中，請務必：

- 發展任務的各個方面
- 綜合**至少五份文件**的資訊
- 綜合相關的外部資訊
- 引用相關事實、例證及詳細資料來支持主題
- 做到邏輯清楚，條理分明；請包括一段引語和一項結論，但不要簡單地重複主題

美國歷史和政府

僅限用於2007年6月19日(星期二)下午1時15分至4時15分

答題紙

學生..... 性別: 男
教師..... 女
學校.....

第I部分的考題答案則應寫在本答題紙上。把第IIIA部分的答案寫在考題本上，
並把第II部分和把第IIIB部分的答案寫在另外的申論題答題本內。

1..... 26
2..... 27
3..... 28
4..... 29
5..... 30
6..... 31
7..... 32
8..... 33
9..... 34
10..... 35
11..... 36
12..... 37
13..... 38
14..... 39
15..... 40
16..... 41
17..... 42
18..... 43
19..... 44
20..... 45
21..... 46
22..... 47
23..... 48
24..... 49
25..... 50

FOR TEACHER USE ONLY
Part I Score _____
Part III A Score _____
Total Part I and III A Score []
Part II Essay Score _____
Part III B Essay Score _____
Total Essay Score []
Final Score (obtained from conversion chart) []

No. Right []

當你考試完畢之後，必須在以下聲明的下方簽名。

本人在此考試結束之際特此聲明，本人在此次考試之前未非法獲得考題內容及答案，並且在考試中，既未向任何人提供幫助亦未從任何人處得到幫助。

簽名

沿此虛線剪下

沿此虛線剪下

