

The University of the State of New York

## REGENTS HIGH SCHOOL EXAMINATION

## 美國歷史和政府

僅限用於2010年1月28日(星期四)上午9時15分至下午12時15分

學生姓名 \_\_\_\_\_

學校名稱 \_\_\_\_\_

請用工整字跡在以上直線上填寫你的姓名和學校名稱。然後翻到本考題本的最後一頁，即本考題本的第I部分答題紙。請沿齒孔線把最後一頁摺疊起來，慢慢地、小心地將答題紙撕下。然後填入你答題紙的標題。現在請用工整字跡在論文每一頁的標題處，填寫你的姓名和學校名稱。

本次考試共有三個部分。你必須要回答每一部分的**所有**題目。用黑色或深藍色的水墨原子筆回答。

**第I部分**包括50道選擇題。請將答案記錄在分開的答題紙上。

**第II部分**包括一道以主題為主的論文題。請在論文本上寫下你對這個問題的答案，從第1頁開始。

**第III部分**基於幾份文件：

**第III A部分**包含這些文件。每一文件後有一個或一個以上的問題要回答。在本考題本上，將各題的答案寫在各問題後面的直線上。請務必在這部分的第一頁上填寫你的姓名和學校名稱。

**第III B部分**包含一個基於這些文件的論文題。請在論文本上寫下你對這個問題的答案，從第7頁開始。

在你答完題後，你必須簽署印在第I部分的答題紙上的聲明，表明你沒有非法得到本考試的試題或答案，而且在本考試中也沒有給予過或接受過任何的幫助。你如果不簽署本聲明，你的答題紙不會被接受。

在考試期間，嚴禁使用任何形式的通訊工具。如果你使用了任何的通訊工具，無論使用多久，你的考試都將無效，而且不會得到任何的分數。

未經指示請勿打開本考題本。

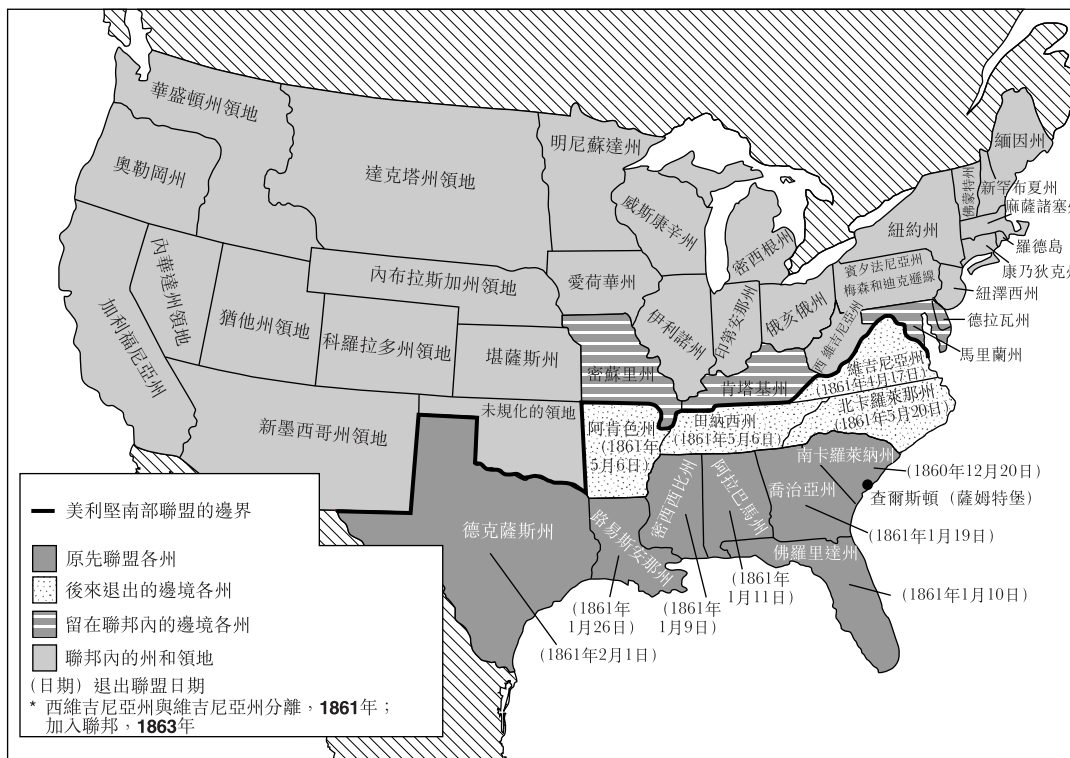
## 第I部分

### 請回答本部分的所有問題。

答題說明(1-50)：根據每一條題目的陳述或問題，在所給答案中選擇最恰當的詞或詞句，把代表該答案的編號寫在分開的答題紙上。

- 1 良好的港口、豐富的森林、岩石土壤和一個短的生長季節，在哪個區域對殖民地經濟產生最大的影響？
  - (1) 南部殖民地
  - (2) 大西洋沿岸中部地區
  - (3) 西北地區
  - (4) 新英格蘭殖民地
- 2 五月花公約和維吉尼亞鄉鎮會議與什麼最密切相關？
  - (1) 絕對君主濫用職權
  - (2) 建立宗教寬容
  - (3) 逐步走向殖民地自治
  - (4) 採行普選
- 3 獨立宣言的作者用「生命、自由和追求幸福」這個短語來代表
  - (1) 自然權利
  - (2) 法律權利
  - (3) 州的權利
  - (4) 經濟權利
- 4 為了贏得美國憲法批准，其支持者同意
  - (1) 增列人權法案
  - (2) 允許新的州加入聯邦
  - (3) 建立一個選舉團
  - (4) 賦予參議院批准條約的權力
- 5 漢密爾頓(Alexander Hamilton)在1790年代支持哪項措施？
  - (1) 限制與英國的貿易
  - (2) 分配免費的土地
  - (3) 成立國家銀行
  - (4) 撤除威士忌徵稅
- 6 美國最高法院在馬伯里訴麥迪遜(Marbury v. Madison)中，透過法院的決定獲得了哪種權力？
  - (1) 司法審查
  - (2) 審理下級聯邦法院的上訴
  - (3) 裁決涉及兩個或更多州的案件
  - (4) 透過終身任用取得司法獨立
- 7 肯塔基州和維吉尼亞州決議(1798年)和南卡羅來納州的法令廢止條例(1832年)的一個相似點是它們各自
  - (1) 聲稱各州有解釋聯邦法律的權力
  - (2) 構成部分不成文憲法
  - (3) 支持聯邦政府宣戰的權力
  - (4) 提供了讓新的州加入聯邦的一個方式
- 8 在1800年代早期，哪個因素對美國工業革命的開始貢獻最大？
  - (1) 限制歐洲移民
  - (2) 奴隸勞動制度的結束
  - (3) 豐富的天然資源
  - (4) 電力供應
- 9 門羅主義(1823年)的一個主要目標是
  - (1) 防止歐洲干預拉丁美洲
  - (2) 創造一個兼併加拿大的機會
  - (3) 保護一個橫跨中美洲的運河地點
  - (4) 幫助歐洲國家建立新的西半球殖民地
- 10 什麼是伊利運河於1825年完工後的立即效應？
  - (1) 大西洋沿岸的食品價格上升。
  - (2) 農民可以更容易地船運糧食到東部市場。
  - (3) 與加拿大就大湖區的領土開始有衝突。
  - (4) 鐵路被迫降低運費。

依據以下地圖和你的社會學知識來回答第11題。



資料來源: John M. Blum et al., *The National Experience: A History of the United States* Harcourt Brace Jovanovich, 1981 (經改編)

11 這張地圖最正確的名稱什麼？

- (1) 關閉邊境
- (2) 重建時代的結果
- (3) 一個分裂的國家
- (4) 1850年妥協案

12 最高法院在 *德瑞德·史考特訴山福特* (*Dred Scott v. Sanford*) 案 (1857年) 中的裁決有助於提高地方衝突，因為該裁決

- (1) 否認國會有權監管領地內的奴隸制度
- (2) 允許十年進口被奴役者
- (3) 禁止密西西比河以西的土地實施奴隸制度
- (4) 給予所有被奴役者完全的公民身份

13 1862年，《安家法案》(Homestead Act)和《太平洋鐵路法》(Pacific Railway Act)獲得通過以便

- (1) 在南北內戰中得到北方的勝利
- (2) 開發國家的中西部和西部地區
- (3) 改善被解放奴隸的生活
- (4) 將海外市場拓展至亞洲和歐洲

14 南北內戰之後，定居在南方的移民比其他區域少，因為

- (1) 大多數的「新」移民選擇定居在大平原
- (2) 獲得自由的人已取得南方大多數現有的農田
- (3) 在西海岸移民的工作較充裕
- (4) 在北方有較多僱用沒有特殊技能的工人的工廠

15 對非裔美國人的人頭稅和識字測試最直接的影響是

- (1) 阻止他們投票
- (2) 限制他們使用公共設施
- (3) 阻礙他們接受教育的機會
- (4) 剝奪他們的經濟進步

- 16 在1800年代後期，工業化對美國工人的主要影響是什麼？
- (1) 工會的會員人數下降。
  - (2) 工人遷移到鄉村地區。
  - (3) 大多數工廠工作成為服務業的工作。
  - (4) 熟練的工匠被半熟練的機器作業員所取代。

依據發言者的以下陳述和你的社會學知識來回答第17題和第18題。

發言者A 給予貧困者溫飽是一個錯誤。正如自然淘汰不適合的成員一樣，資本主義社會應該被允許這樣做。

發言者B 為了提供共同利益和保護人民，政府應通過法律以防止銷售酒類。

發言者C 為了促進經濟成長，政府應擴大美國海外市場。

發言者D 由於運輸是一種公共需要，政府應擁有並經營鐵路以符合公眾利益。

- 17 哪一位發言者最有可能支持社會達爾文主義的理論？

- (1) A
- (2) B
- (3) C
- (4) D

- 18 哪個第三方政黨所持的信念最類似於發言者D所表達的看法？

- (1) 不知黨
- (2) 美鈔黨
- (3) 人民黨
- (4) 雄鹿黨

- 19 在1800年代後期，總統和州長最常在勞資糾紛期間使用武力來

- (1) 支持工業家和結束罷工
- (2) 促使僱主簽訂集體談判的協議
- (3) 保護工人不受僱主的私人軍隊傷害
- (4) 用士兵取代工廠罷工的工人

- 20 從1880年至1920年，大多數美國的「新」移民來自

- (1) 北歐和西歐
- (2) 南歐和東歐
- (3) 加拿大和拉丁美洲
- (4) 中國和東南亞

- 21 哪個因素與美國於1898年向西班牙宣戰的決定最密切相關？

- (1) 孤立政策
- (2) 工會壓力
- (3) 不符合事實的報導
- (4) 無限制潛艇戰爭

- 22 威爾遜總統(Woodrow Wilson)十四點方案(1918年)的一個主要目的是

- (1) 要求國會加入第一次世界大戰
- (2) 設定在第一次世界大戰後實現和平的目標
- (3) 為受戰爭蹂躪的國家提供一個重建的援助計劃
- (4) 報復路西塔尼亞號被擊沉

- 23 在申克訴美國案 (*Shenck v. United States, 1919年*) 成立的「明顯而現今的危險」原則是有關以下哪個課題

- 1) 言論自由
- (2) 攜帶武器的權利
- (3) 尋求律師的權利
- (4) 政教分離

- 24 為什麼許多美國農民沒有受益於1920年代的經濟繁榮？

- (1) 農業沒有技術進步。
- (2) 農業生產水準下降。
- (3) 農產品出口被課以重稅。
- (4) 農產品的生產過剩。

- 25 1920年代的Scopes審判涉及以下哪兩者之間的衝突


- (1) 共產主義與資本主義
- (2) 新教徒與天主教徒
- (3) 科學與宗教
- (4) 勞工與管理階層

26 哪些經濟因素最直接造成大蕭條的開始？

- (1) 低勞工生產率
- (2) 高所得稅
- (3) 降低關稅稅率
- (4) 使用融資購買股票

依據以下漫畫和你的社會學知識來回答第27題。

「啊，死亡！啊，變化！啊，時間！」



資料來源: Herblock, NEA Service, 1937 (經改編)

27 這個漫畫描繪哪個憲法的原則？

- (1) 聯邦主義
- (2) 制約和平衡
- (3) 州的權利
- (4) 行政特權

28 新政經濟政策中的一個指導原則是什麼？

- (1) 親商減稅能夠解決與城市貧困有關的問題。
- (2) 反壟斷的立法會破壞美國的自由市場經濟。
- (3) 必須允許用堅決的個人主義來解決社會不平等。
- (4) 政府必須承擔更多的責任來幫助貧困者。

29 1935年和1937年的中立法目的是

- (1) 執行國際聯盟政策
- (2) 刺激美國的經濟成長
- (3) 避免將國家引入第一次世界大戰的政策
- (4) 支持在歐洲動用維持和平部隊

30 羅斯福(Franklin D. Roosevelt)、邱吉爾(Winston Churchill)和史達林(Joseph Stalin)於1945年在雅爾塔會議中見面時的主要目標是什麼？

- (1) 建立對英國的戰後援助
- (2) 分享原子武器的發展
- (3) 保護參戰國的殖民帝國
- (4) 解決同盟國戰時的重大問題

31 第二次世界大戰的結束對戰爭期間曾在國防工業中工作的美國婦女有什麼影響？

- (1) 她們被邀請參加工會。
- (2) 她們的工作被返回的軍人拿走。
- (3) 她們的工資增加到與男性工人相當。
- (4) 她們的貢獻得到了政府的獎勵。

32 第二次世界大戰之後在紐倫堡和東京舉行的戰爭罪審判建立了什麼概念

- (1) 國家應被要求賠償戰時造成的損害
- (2) 應赦免所有被指控的戰犯
- (3) 應給予被定罪者比一般罪犯更短的刑期
- (4) 個人在戰爭中的行為應可被追究

33 在1960年代，哪個問題是最高法院對馬普訴俄亥俄州(Mapp v. Ohio)、吉迪恩訴溫賴特(Gideon v. Wain Wright)和米蘭達訴亞利桑那州(Miranda v. Arizona)等案的裁決的焦點？

- (1) 新聞自由
- (2) 種族隔離
- (3) 被告人的權利
- (4) 州際商業

依據以下一段話和你的社會學知識來回答第34題和第35題。

「本政府一直如承諾地對古巴島上的蘇聯軍事集結保持著最密切的留意。在上星期，明確的證據顯示了，在那被禁錮小島上，一系列具有攻擊性的導彈基地正在建設的事實。這些基地除了提供針對西半球核子攻擊能力外，實在找不出其他存在的目的。 . . .」

甘乃迪總統(John F. Kennedy) 1962年10月22日

34 甘乃迪總統(John F. Kennedy)在發表這段陳述之後採取了以下哪個行動？

- (1) 敦促盟軍剷除來自古巴的蘇聯武器
- (2) 下令對古巴進行海上隔離
- (3) 與蘇聯斷絕外交關係
- (4) 要求聯合國停止將糧食運往蘇聯

35 這一段話描述的危機在何時得到了解決

- (1) 古巴成為一個資本主義國家
- (2) 美國掌控古巴
- (3) 蘇聯總理赫魯雪夫(Khrushchev)會見美國總統甘乃迪
- (4) 蘇聯從古巴撤回導彈


36 尼克森總統(Richard Nixon)的緩和外交政策是企圖要

- (1) 解決中東衝突
- (2) 改善與蘇聯的關係
- (3) 維護美國在拉丁美洲的利益
- (4) 加強聯合國安全理事會的權力

37 福特總統(Gerald Ford)採取了哪個行動來試圖結束對因水門事件(Water Gate Affair)所造成的全國爭議？

- (1) 赦免尼克森(Richard Nixon)
- (2) 向貧困宣戰
- (3) 婉拒競選連任
- (4) 要求國會彈劾尼克森(Richard Nixon)

依據以下漫畫和你的社會學知識來回答第38題。



資料來源: Bill Mauldin, *Chicago Sun Times*, 1975

38 在1970年代，許多婦女權利的倡導者對漫畫中所示的情況有何反應

- (1) 拒絕第九條條款
- (2) 反對平權措施方案
- (3) 要求在所有選舉中有投票權
- (4) 支持平等權利的憲法修正案

39 卡特總統(Jimmy Carter)決定赦免那些逃往加拿大的越戰逃兵，是總統哪個職責的一個例子

- (1) 首席外交官 (3) 行政首領  
(2) 政黨領袖 (4) 世界領袖

40 美國國會可以如何制約政府行政部門

- (1) 任命大使  
(2) 推翻否決權  
(3) 提名法官  
(4) 宣布法律違憲

依據以下圖表和你的社會學知識來回答第41題。

美國人年齡在85歲以上的人數  
年份 (百萬為單位)

1900	0.1
1950	0.6
1960	0.9
2000	4.2
2010*	6.1
2020*	7.3

\*預計

(資料來源)：Federal Interagency Forum on Aging-Related Statistics

41 圖表中的資訊最明顯地支持哪個陳述？

- (1) 老年男性多於老年女性。  
(2) 1960年，超過百分之十的美國人是85歲或以上。  
(3) 活到超過85歲的美國人人數正在增加。  
(4) 1900年，只有1百萬美國人是85歲。

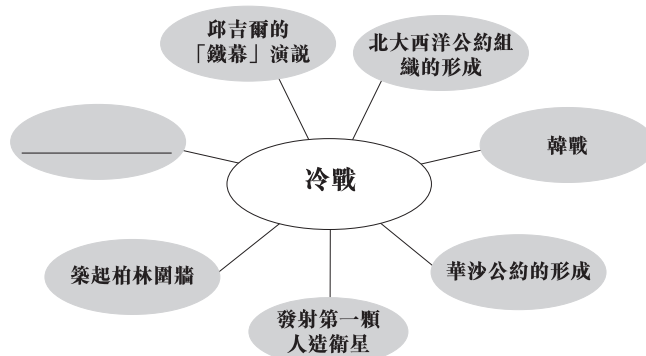
42 什麼是全球石油價格自1970年代起上漲的一個原因？

- (1) 建設橫跨阿拉斯加的石油管道  
(2) 中東的政治動盪  
(3) 美國油公司提倡保育工作  
(4) 美國政府加倍徵收石油進口關稅

43 美國在過去 20年一直有貿易赤字是因為國家

- (1) 對進口商品徵收保護性關稅  
(2) 對出口商品課以重稅  
(3) 拒絕加入國際自由貿易協定  
(4) 進口的商品比出口多

依據以下圖形組織圖和你的社會學知識來回答第44題。

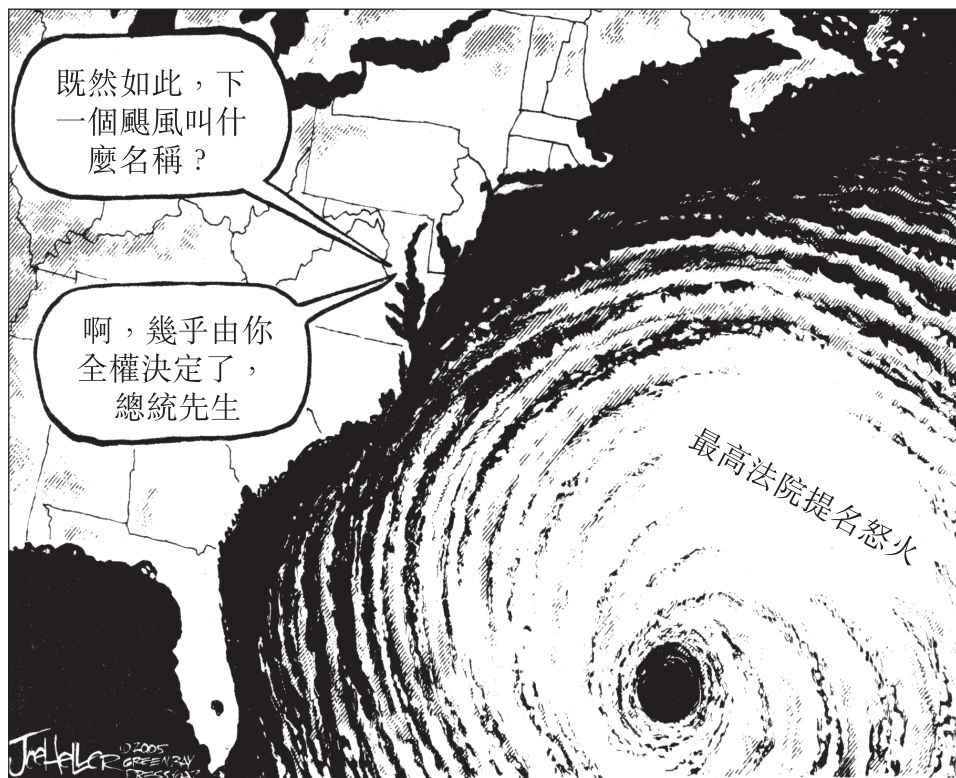


44 以下哪個事件最能完成這個圖形組織圖？

- (1) 越戰 (3) 波斯灣戰爭  
(2) 大屠殺 (4) D日入侵

依據以下漫畫和你的社會學知識來回答第45題。

### 最高法院提名的候選人



資料來源: Joe Heller, *Green Bay Press-Gazette*, July 20, 2005 (經改編)

45 這幅漫畫的主要意見是什麼？

- (1) 總統有責任幫助颶風災民。
- (2) 最高法院成員通常可以忽視政治問題。
- (3) 最高法院的法官提名往往造成爭議。
- (4) 應該修訂憲法使最高法院法官由選舉產生。

46 激進派共和黨通過南北戰爭修正案，羅斯福總統(Theodore Roosevelt)的公平交易政策和詹森總統(Lyndon Johnson)的偉大社會計劃都是企圖要

- (1) 促進不干預理論
- (2) 透過政府作為來改善社會
- (3) 降低政府經濟作用的角色
- (4) 增強大型企業的影響力

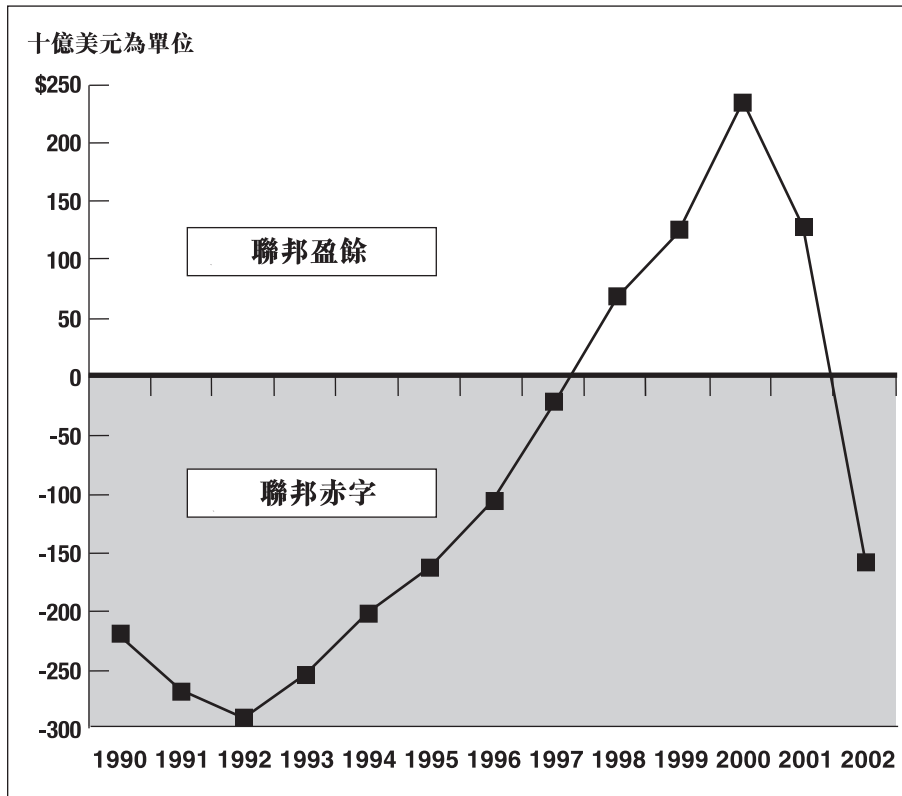
47 1941年12月7日的襲擊珍珠港事件和2001年9月11日的襲擊，兩者類似處是它們都導致

- (1) 日益孤立
- (2) 建立徵兵法
- (3) 彈劾總統
- (4) 美國外交政策產生重大變化



依據以下圖表和你的社會學知識來回答第48題。

聯邦預算赤字和盈餘  
(1990年-2002年)



資料來源: CQ Researcher, 2003 (經改編)

48 以下圖形的資訊最明確地支持對於聯邦預算的哪個陳述？

- (1) 預算在整個1990年代的大部分時間是平衡的。
- (2) 預算盈餘在1998年開始下降。
- (3) 預算赤字在1992年至1997年間變小。
- (4) 預算赤字在1992年至2000年間保持不變。

49 1798年通過外僑法和懲治煽動暴亂法(Alien and Sedition Acts)、1950年代的麥卡錫聽證會以及2001年通過美國愛國法案(USA Patriot Act)都造成了爭議，因為它們

- (1) 需要大筆金錢去執行
- (2) 造成有關保護公民自由的疑慮
- (3) 與外國政府建立聯盟
- (4) 限制行政部門的權力

50 金錢外交政策、睦鄰政策和進步聯盟的目的是

- (1) 增強美國在拉丁美洲的影響力
- (2) 開放與東南亞的貿易
- (3) 與歐洲國家維持和平
- (4) 對非洲國家提供外國援助

論文題的答案應填寫在分開的論文題本中。

## 第II部分

### 主題論文題

答題說明：撰寫一篇條理分明的論文，包括引言、與下列任務相關的幾個段落、以及結論。

#### 主題：個人、團體、機構—寫作與改革

在整個美國歷史上，人們利用寫作的方式，來強調美國人民所面臨的問題。為了解決這些寫作中提出的問題，政府、團體或個人都採取了行動。

#### 任務：

選擇**兩則**重點在美國社會所面臨的問題上的寫作，並且**對於每一則寫作**

- 描述該作者所討論的問題所在的歷史環境
- 論述政府或一個團體或個人針對作者提出的問題所採取的一項行動

你可以使用學習美國歷史時所學到的任何一篇文章，其重點是在美國社會所面臨的問題。你不妨考慮以下建議：*Common Sense* by Thomas Paine (1776)、*Uncle Tom's Cabin* by Harriet Beecher Stowe (1852)、*How the Other Half Lives* by Jacob Riis (1890)、*The Jungle* by Upton Sinclair (1906)、“I, Too, Sing America” by Langston Hughes (1925)、*The Other America* by Michael Harrington (1962)、*Silent Spring* by Rachel Carson (1962)、*The Feminine Mystique* by Betty Friedan (1963) 以及 “Letter from Birmingham Jail” by Dr. Martin Luther King Jr. (1963)。

你不必侷限於以上建議。

#### 指南：

##### 在你的論文中請務必

- 闡述任務的各個方面
- 引用相關事實、例證及細節來支持主題
- 須合乎邏輯、條理分明，包括一個不只是重複主題的引言和結論

在回答問題時，請注意以下一般性定義：

(a) **描述**指「用文字闡述或陳述」

(b) **論述**指「透過事實、推理和論證來對某件事發表意見；加以詳述」

姓名 \_\_\_\_\_

學校 \_\_\_\_\_

在回答第III部分的問題時，請注意以下一般性定義：

論述指「透過事實、推理和論證來對某件事發表意見；加以詳述」

### 第III部分

#### 基於文件題

本問題是基於隨附的文件。該問題的設計是為了測驗你運用歷史文件的能力。其中一些文件是為這個問題編輯的。當你分析文件時，請參考每份文件的來源及文件中所論述的任何觀點。

#### 歷史背景：

從殖民時代到現在，水在美國歷史上一直扮演了重要的角色。如河流、湖泊、海洋、運河、天然港灣和豐富的地下水等水資源，在許多方面影響了美國的政治和經濟發展。這些方面包括探險和定居，西向擴展到太平洋，農業和工業發展，遷徙模式，和環境問題。

**任務：**運用文件資料和你的美國歷史知識，回答A部分每一份文件後面的問題。你對這些問題的回答將有助於撰寫B部分的論文，在這篇論文中，你將被要求

- 討論水對美國發展所產生的影響

## A部分 簡答題

答題說明：分析以下文件，在所提供的空白處上回答每份文件後的簡答題。

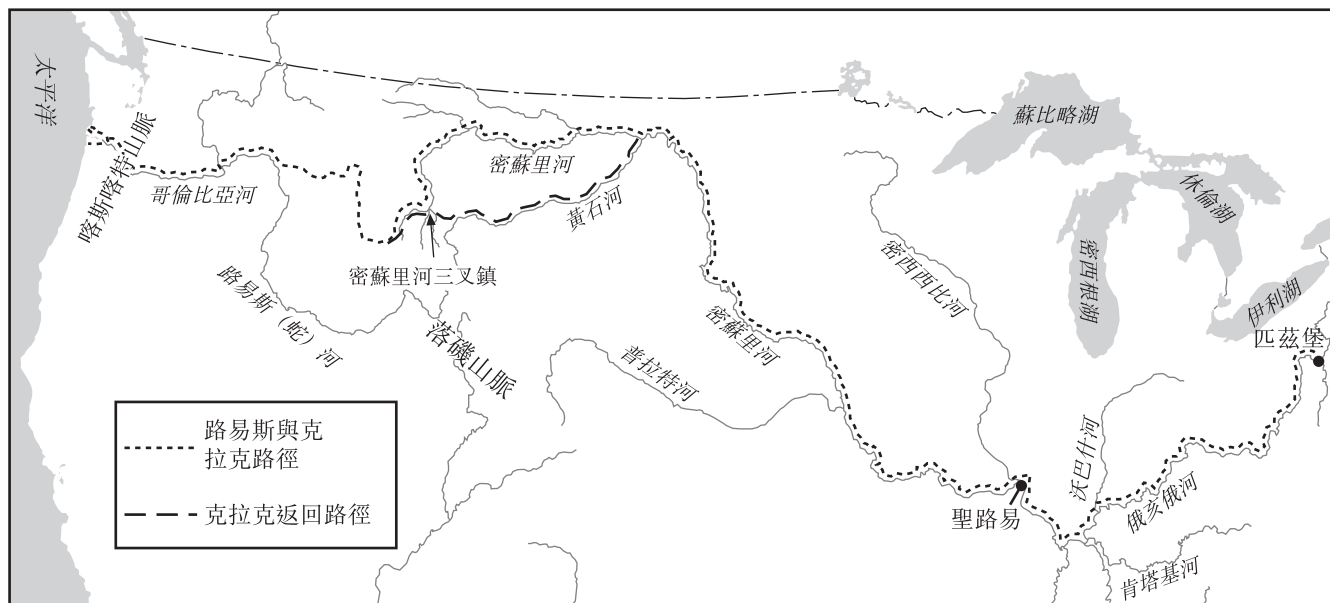
### 文件1a

... 鄰近海洋和可通航的河流，以及居住地點的當地因素，主宰了在大西洋沿岸何處建立初步立足點的核心區[定居點]的位置。如何讓殖民機構及早察覺這些要素是決定成敗的關鍵。詹姆士河、波托馬克河、德拉瓦河、哈德遜河和康乃狄克河全都成為滲透主要路線。在大多數英國殖民地，定居者在1700年代前不久越過「瀑布線」，沿著這條航行路徑的決口架設了堡壘和交易站，也進入南部和中部殖民地的皮爾蒙特台地和新英格蘭和紐約州的丘陵地。河流一直都是滲透的前鋒。交易商和探險家穿越高山屏障來到西部，尋得了俄亥俄河的源頭；荷蘭人以及後來的英國人循著哈德遜河上行至奧伯尼以北；新英格蘭人迅速前進到康乃狄克河谷。波士頓、紐約市、費城和接近城市規模的小型定居點成為成長和商業的中心。到了1700年，殖民地時期美國的總人口大約有275,000人。...

資料來源：Herman R. Friis, "A Series of Population Maps of the Colonies and the United States, 1625-1790,"  
*The Geographical Review*, July, 1940 (經改編)

### 文件1b

#### 路易斯與克拉克探險，1803年至1806年



資料來源：Stephen E. Ambrose, *Undaunted Courage*, Simon and Schuster, 1996 (經改編)

1 根據這些文件，河流影響美國的定居和探險的**一個**方式是什麼？ [1]

Score

## 文件2

根據歷史學家諾曼·葛柏訥(Norman Graebner)，在1840年代的擴張主義者逐漸視奧勒岡州和加利福尼亞州為延伸國家的邊界到太平洋海岸的「單一野心的兩半」。

．．． 隨著1846年奧勒岡條約的簽訂，美國已延伸到了太平洋。其臨海面從42°沿著海岸線直到富卡海峽和普吉特海灣，達到了擴張主義者的半個夢想。美國拓荒者向前延伸的發展，將止步於這些海岸。但商業擴張主義者卻更向前躍進，希望因取得奧勒岡州給美國帶來的衝勁（原動力）會給予美國在太平洋地區的貿易。班頓 [美國密蘇里州參議員(Thomas Hart Benton)]預言道：「就商業而言，奧勒岡州的優勢一將遠大於大西洋沿岸各州任何相等的部分。」這位密蘇里人相信，東方[亞洲]的市場和出口產品將比歐洲的市場和產品更能補足美國的商業[貿易]需求。．．．

資料來源：Norman Graebner, *Empire on the Pacific: A Study in American Continental Expansion*, Ronald Press Co., 1955 (經改編)

2 根據諾曼·葛柏訥(Norman Graebner)，美國在1840年代向太平洋沿岸擴張的一個主要原因是什麼？ [1]

Score

### 文件3

... 在 1898 年時，一些帝國主義論的先驅（前哨）如羅斯福(Roosevelt)、洛奇(Lodge)、印第安那州參議員貝弗里奇(Albert J. Beveridge)和其他人，認為美國在為古巴爭取自由獨立與西班牙一戰所得到的勝利，也是個併吞遙遠的菲律賓的機會。馬漢並非這群人的一員，自從1896年，馬漢便已經看到了美國的商業在太平洋擴展和進入中國市場的需求和機會。但沒有足以令人信服的證據顯示，他將吞併整個菲律賓群島與這個特定的目標連結在一起。他認為在馬尼拉、關島以及長江口收購海軍加煤站，已完全足夠維持美國未來在中國的商業野心。

可以確定的是，他很早就主張吞併夏威夷，他的論點始終 [總是]專注在太平洋沿岸的國防，對東方移民的控制，和日本向中太平洋擴張的戰略影響。他多次要求吞併夏威夷，最近的一次是在1898年2月，當時南達科塔州的參議員凱爾(James H. Kyle)請他就這些島嶼的戰略優點和價值發表聲明。在1898年7月，當美國如同國防反射作用一樣，眨兩下眼睛，嚥一口口水，最後一口就吞下整個夏威夷群島時，他為此而歡呼喝采。正如他於8月中旬寫道：「委員會認為，取得這些我們現在愉快地擁有的群島，對我們過境到亞洲，和我們在太平洋沿岸的國防，都有軍事上的必要性。」...

資料來源：Robert Seager II, *Alfred Thayer Mahan: The Man and His Letters*,  
Naval Institute Press, 1977

3 根據作者，馬漢(Alfred Thayer Mahan)認為控制太平洋島嶼對美國的發展重要的一**個**原因是什麼？ [1]

Score

文件4a

... 奧加拉拉蓄水層(Ogallala Aquifer)\* (也稱為高原蓄水層) 目前[2000年]面臨著水位下降和水質的惡化。超過 90%從奧加拉拉抽出來的水, 用來灌溉了至少美國全部耕地的五分之一。這些水佔美國用於灌溉的所有地下水的30%。受益於這個蓄水層的作物有棉花、玉米、苜蓿、大豆和小麥。這些作物為中西部地區的養牛業務提供巨量飼料, 這些飼料佔美國本地40%的飼養場牛肉產量。由於20世紀初期農業灌溉的進步, 奧加拉拉使得如內布拉斯加州和堪薩斯州等州, 能夠生產飼養牲畜所需的大量糧食。...

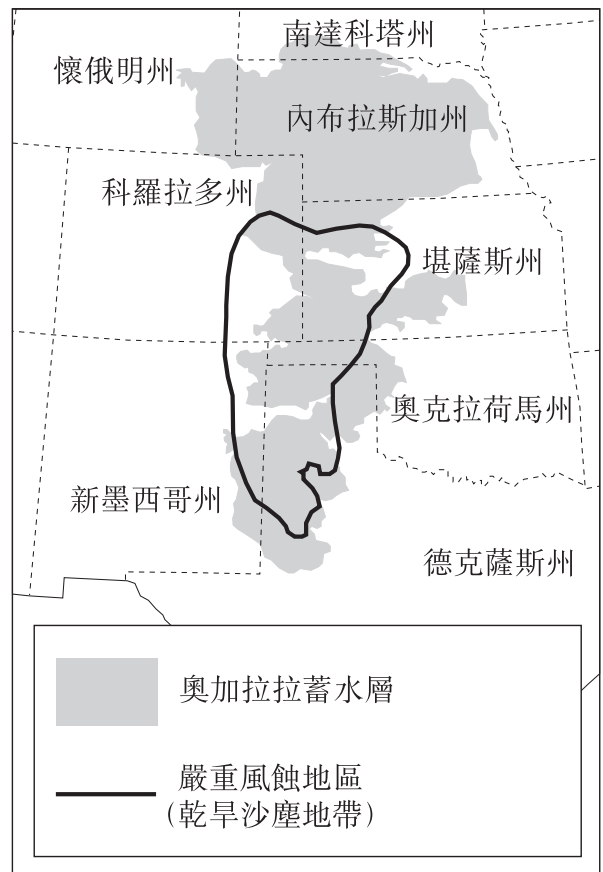
如果沒有灌溉, 高原區就會一直停留在惡劣和無生產力的邊境環境。即使在今天, 旱地農業仍然是令該地區生產者有所疑慮的高風險農業。不過, 雖然乾旱沙塵地帶仍是適當的名稱, 高原已成為全世界最多產的農業地區。但是, 現在由於地下水位下降, 我們必須進一步探索能維持可持續發展的可行替代方法。...

\* 蓄水層是天然潔淨水的地下來源。在1930年代, 農民缺乏達到奧加拉拉蓄水層的技术。

資料來源: Manjula Guru and James E. Horne, *The Ogallala Aquifer*, The Kerr Center for Sustainable Agriculture, 2000 (經改編)

文件4b

乾旱沙塵地帶和奧加拉拉蓄水層



資料來源: <http://www.wadsworth.com> and The Kerr Center for Sustainable Agriculture (經改編)

4a 根據這些文件, 奧加拉拉蓄水層對美國高原地區農業生產很重要的一個原因是什麼? [1]

---

Score

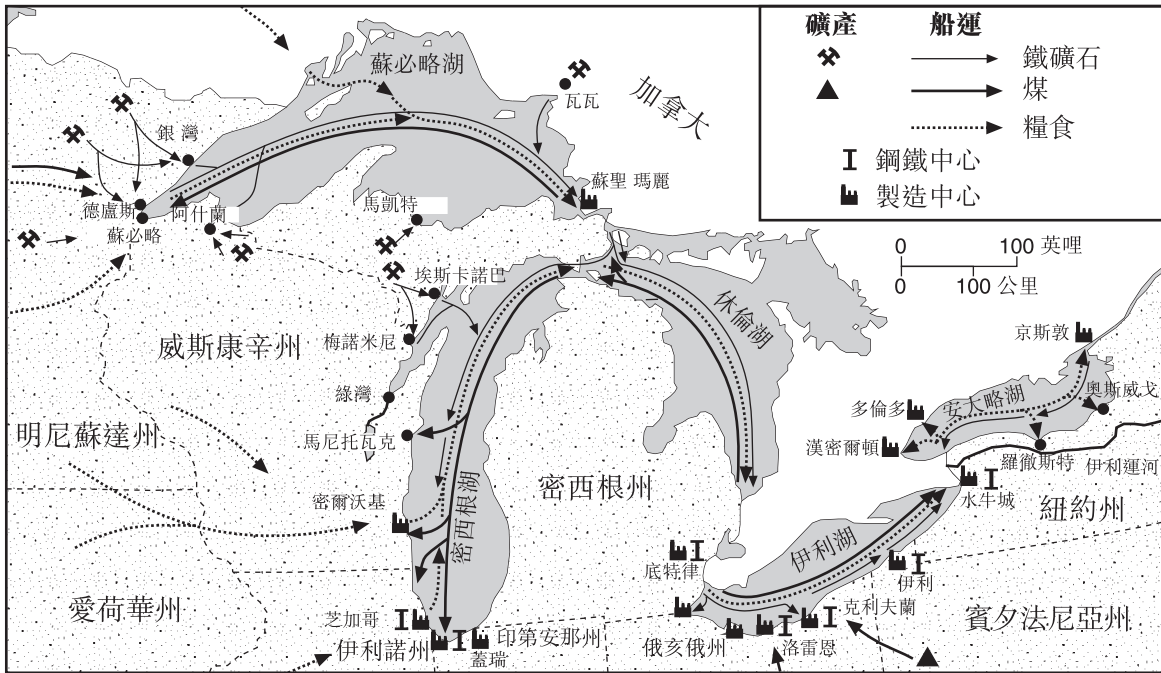
b 根據文件4b, 在1930年代, 缺水對大平原的各部分有什麼影響? [1]

---

Score

文件5a

大湖區船運



資料來源: <http://www.geo.msu.edu> (經改編)

文件5b

在1890年5月29日，一艘名為 *W. R. Stafford* 的船駛離密西根州馬凱特，展開一個例行的航程，她運載大量的鐵礦石前往俄亥俄州，然後運載大量的煤返回。

... 該年，有數百艘船行駛[航行]大湖區數千次，他們從沿著蘇必略湖的南岸和西岸豐富的礦場到俄亥俄州和密西根州的工業中心之間，不斷地重複著她的 [*W. R. Stafford*] 班期。這些船隻所運輸的礦石的豐富和品質，幫助推動了美國在19世紀的最後幾十年間前所未有的工業成長。大湖區運輸在這成長中扮演了決定性的角色。如果沒有這層聯繫，美國的工業能否如此迅速地成長，是值得懷疑的。...

資料來源: [http://www.geo.msu.edu/geogmich/iron\\_ore\\_taconite.html](http://www.geo.msu.edu/geogmich/iron_ore_taconite.html)

5 根據這些文件，大湖區影響美國工業化的一個方式是什麼？ [1]

Score



## 文件6

這篇節錄描述了1927年密西西比河的洪水造成的影響。

．．．到了1928年初，黑人[非裔美國人]從華盛頓縣 [密西西比州]，以及有可能從三角洲其餘部分的外流，達到了百分之五十。自從內戰後重建時代結束以來，一直有黑人離開南方，向北部和西部遷移。但外流的速度緩慢，從1900年至1910年之間，南方減少了大約200,000名黑人。第一次世界大戰期間，「大遷徙」開始；南方在1910年至1920年之間失去了522,000名黑人，大多數是從1916年到1919年之間。此時，黑人以更多於以前的人數從密西西比河漫灘、阿肯色州、路易斯安那州、密西西比州向北遷。在1920年代，離開南方的黑人比回來的黑人多了872,000人。（在1930年代，遷移潮大幅下降；離開阿肯色州、路易斯安那州和密西西比州的黑人人數下降了將近三分之二，回到1900年代初的程度。）

來自三角洲的黑人最喜歡的目的是芝加哥。他們把藍調音樂帶到那個城市，那裡黑人人人口爆增，從1910年的44,103人，到1920年代的109,458人—再到1930年代的233,903人。當然，這種外流人口並不是全都來自密西西比河漫灘。即使在該沖積帝國內，1927年的大洪水也並非是黑人離鄉背井的唯一原因。但對於密西西比河三角洲成千上萬的黑人來說，這個洪水是最後的一個原因。．．．

資料來源：John M. Barry, *Rising Tide: The Great Mississippi Flood of 1927 and How It Changed America*, Simon & Schuster, 1997

6 根據這篇文件，1927年的密西西比河洪水對許多非裔美國人造成了什麼影響？ [1]

Score

## 文件7

... 如果你從太平洋沿岸開始向內陸移動，你會看到大城市，許多城鎮和欣欣向榮的農場，直到越過內華達山脈和喀斯喀特山脈，這些山脈阻礙了季節性的鋒面從太平洋內移，在冰雪和滂沱大雨中擠掉了其中的水氣。在這些山脈的東側，水分驟然下降—從西坡多達150英寸的降水，到東坡可減少到4英寸—而除了在高海拔以外，不會增加太多，直到越過子午線一百度，它將達科塔州、內布拉斯加州和堪薩斯州南至德克薩斯州艾比林對分為二，將國家劃分成最重要的兩個半邊—一邊每年可以接收至少20英寸的降水，另一邊一般則獲得較少的降水。任何降雨量不到20英寸的地方對完全依賴天氣的農民來說是艱難的地形—而像鳳凰城、艾爾帕索和雷諾—這些只獲得7英寸或更少降水的地方可以說是完全不適合居住的地方。所有事情都取決於對水的操縱—將它攔截在大壩之後，儲存起來，並用混凝土河[溝渠]使它改變路線，流經數百英里的距離。如果不是一個半世紀以來，為達此目的救世主式的努力[積極的聖戰]，今天所知道的西部將不會存在。...

資料來源：Marc Reisner, *Cadillac Desert: The American West and Its Disappearing Water*, Penguin Books, 1993

7 根據這篇文件，水對定居於美國西部有什麼影響？ [1]

Score

文件8

有關《淨水法案》(Clean Water Act) 的簡史

<p><b>1968</b></p>	<p>根據在1968年進行的一項調查顯示，切薩皮克灣的污染每年對漁業造成三百萬美元的損失。</p> <p>同時，美國漁業體育局(U.S. Bureau of Sport Fisheries)在590個測試樣本當中，其中有584個有滴滴涕(DDT)[一種殺蟲劑]的存在，且含量高達美國 FDA [食品和藥物管理局]所設限定的9倍之多。</p>
<p><b>1969</b></p>	<p>1969年，哈得遜河的細菌含量是安全限制的170倍。</p> <p>同時，1969年報告了破記錄超過4100萬條魚的死亡數量。這包括了在佛羅里達州多諾托薩撒湖，由於4個食品加工廠排放的廢水，造成史上最大的魚類死亡數量，共計2600萬條魚死亡。</p>
<p><b>1970</b></p>	<p>在1970年7月，美國衛生教育和福利部(Department of Health, Education and Welfare)的飲水衛生局(Bureau of Water Hygiene)報告說，有百分之30的飲用水樣本中的化學品含量超過建議的公共衛生服務標準範圍。</p>
<p><b>1971</b></p>	<p>FDA 在1971年2月報告說，有百分之87的劍魚樣本含汞量不適宜供人食用。</p>
<p><b>1972</b></p>	<p>1972年，為了針對在我們的水道中近乎猖獗的傾倒污染的現象，因此通過了《淨水法案》(Clean Water Act)。當時，美國已經有三分之二的湖泊、河流和沿海水域變成無法供人安全地捕撈或游泳。未經處理的污水被傾倒在公開的水域。</p> <p>《淨水法案》的目標是為了減少美國所有水域的污染，以「重建並維持我們國家水域的化學、物理和生物完整性。」這條法律呼籲「於1985年達到通航水域零排放的目標，並於1983年實現水域可供捕撈和游泳。」</p>

資料來源：“Troubled Waters – A Brief History of the Clean Water Act,” pbs.org/now/science/cleanwater.html (經改編)

8 根據這個圖表，陳述導致了《淨水法案》(Clean Water Act)的**兩個**環境問題。 [2]

(1) \_\_\_\_\_

Score

(2) \_\_\_\_\_

Score

## 文件9

西部是一個烤箱。中西部的大部分都乾燥如火種。

當美國其餘的大部分地區正在應付極度的高溫和乾旱，現在是重新討論大湖區的水源和導流問題的時候了。

美國中部和西南部面臨的其中最重要的問題之一就是水的短缺。...

在很多乾旱的州，其居民覬覦[帶著嫉妒的眼光看著]大湖區的水源，這已不是什麼秘密。而且不用多久，其中有些乾旱而且滿心羨慕的州，就會開始想辦法來大量轉運大湖區的水。如果他們能成功地從大湖區劫取大量的淡水，可預期的經濟和環境的破壞將隨之而來。...

資料來源：“Keep Great Lakes water in the Great Lakes,” mlive.com (Everything Michigan), 25 de julio de 2005

9 根據這篇文件，對大湖區的水有所關注的一**個**原因是什麼？ [1]

Score

## B部分 論文題

答卷說明：撰寫一篇條理分明的論文，包括引言、與下列任務相關的幾個段落、以及結論。在你的論文中，引述取自最少**五份**文件中的證據。引用相關事實、例證及細節來支持你的回應。包括其他的外部資料。

### 歷史背景：

從殖民時代到現在，水在美國歷史上一直發揮著重要的作用。如河流、湖泊、海洋、運河、天然港灣和豐富的地下水等水資源，在許多方面影響了美國的政治和經濟發展。這些方面包括探險和殖民，向西擴展到太平洋，農業和工業發展、遷徙模式、和環境問題。

**任務：**運用文件資料和你的美國歷史知識撰寫一篇論文，在這篇論文中

- 討論水對美國的發展所產生的影響

### 指南：

#### 在你的論文中請務必

- 闡述任務的各個方面
- 綜合來自至少**五份**文件的資料
- 綜合相關的外部資料
- 引用相關事實、例證及細節來支持主題
- 須合乎邏輯、條理分明，包括一個不只是重複主題的引言和結論



# 美國歷史 和地理

僅限用於2010年1月28日(星期四)上午9時15分至下午12時15分

學生 ..... 性別:  男性  女性

教師 .....

學校 .....

第I部分的考題答案應填寫在本答題紙上。第III A部分的答案應填寫在考題本上，第II和第III B部分的答案填寫在分開的論文本上。

1.....	26.....
2.....	27.....
3.....	28.....
4.....	29.....
5.....	30.....
6.....	31.....
7.....	32.....
8.....	33.....
9.....	34.....
10.....	35.....
11.....	36.....
12.....	37.....
13.....	38.....
14.....	39.....
15.....	40.....
16.....	41.....
17.....	42.....
18.....	43.....
19.....	44.....
20.....	45.....
21.....	46.....
22.....	47.....
23.....	48.....
24.....	49.....
25.....	50.....

僅供教師使用	
Part I Score	_____
Part III A Score	_____
Total Part I and III A Score	<input style="width: 80px; height: 25px;" type="text"/>
Part II Essay Score	_____
Part III Essay Score	_____
Total Essay Score	<input style="width: 80px; height: 25px;" type="text"/>
Final Score (obtained from conversion chart)	<input style="width: 80px; height: 25px;" type="text"/>

No.   
Right

當你考完試之後，必須在以下聲明的下方簽名。

本人在此考試結束之際特此聲明，本人此考試之前未非法獲得考試內容或答案，並且在考試中，既未向任何人提供幫助，也未從任何人處得到幫助。

簽名

沿此虛線撕下

沿此虛線撕下

