

ENTORNO FÍSICO CIENCIAS DE LA TIERRA

Viernes, 18 de junio de 2004 — 1:15 a 4:15 p.m., solamente

FOLLETO DE RESPUESTAS

Masculino

Estudiante. Sexo: Femenino

Profesor

Escuela Grado

Conteste todas las preguntas de la Parte B-2 y la Parte C. Escriba sus respuestas en este folleto.

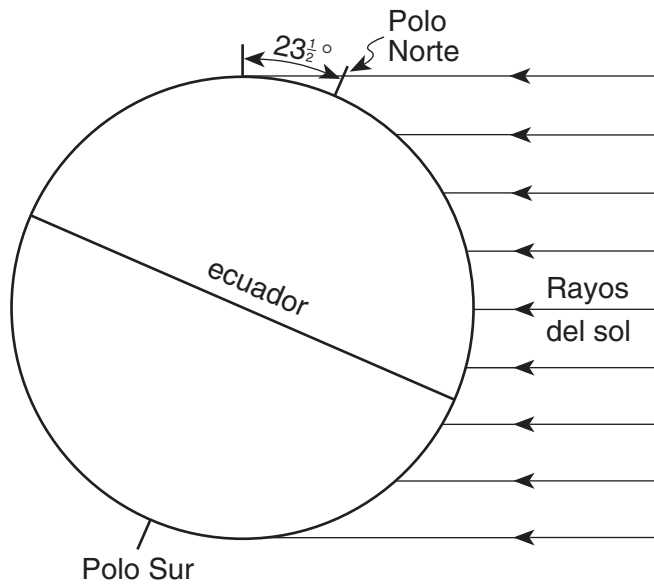
<input type="text"/>	Performance Test Score (Maximum Score: 23)	
.....		
Part	Maximum Score	Student's Score
A	35	
B-1	15	
B-2	15	
C	20	
Total Written Test Score (Maximum Raw Score: 85)		<input type="text"/>
Final Score (from conversion chart)		<input type="text"/>
Raters' Initials:		
Rater 1 Rater 2		

Parte B-2	
51 Presión del aire: _____ mb	
Temperatura del aire: _____ °F	
Cantidad de precipitación durante las últimas seis horas: _____ pulgada(s)	
Cubierta de nubes: _____ %	
Tiempo actual: _____	

For Raters Only

51

52 y 53



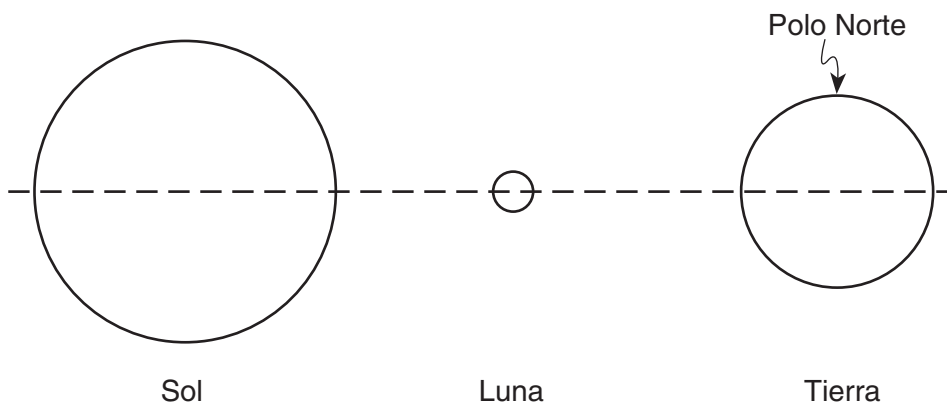
52

53

54 _____

54

55



55

(No está dibujado a escala)

56 Más brillante: (a) _____

(b) _____

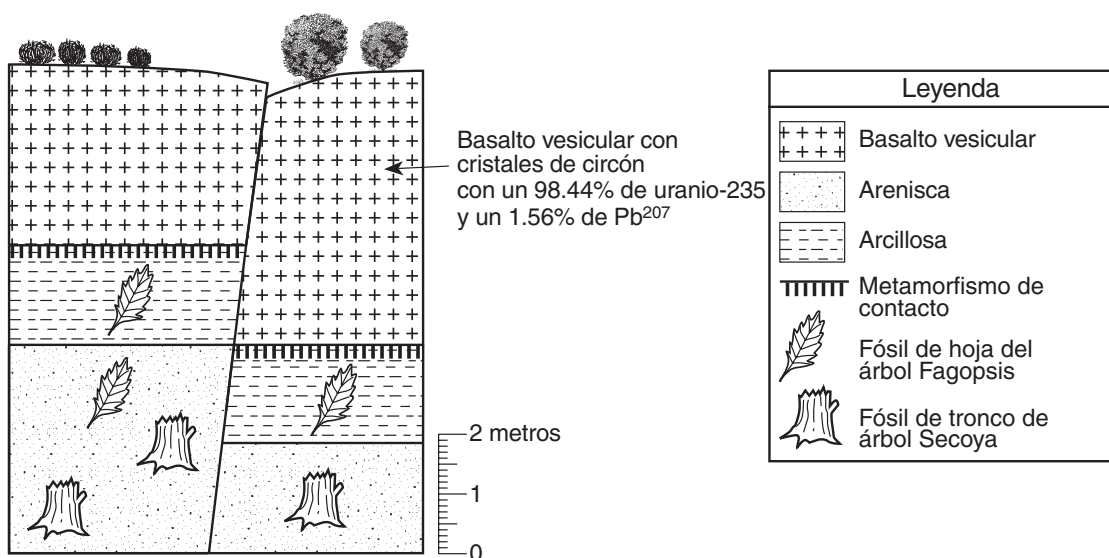
(c) _____

(d) _____

Menos brillante: (e) _____

56

57



57

58 _____ metro(s)

58

59 _____ Se formó la falla.

_____ Se depositó la arcillosa.

_____ Se formó el basalto vesicular.

_____ Se depositó la arenisca.

59

60 _____ millones de años

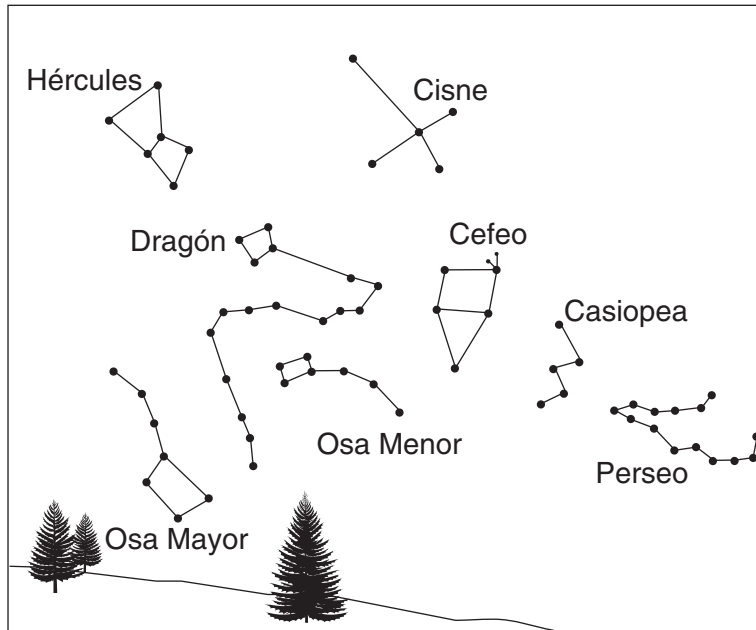
60

61 _____ medias vidas

61

62

Diagrama 2 — 11 p.m.



62

63 _____

63

64 Hércules parece haberse movido: _____

64

Perseo parece haberse movido: _____

Total Score for Part B-2

Parte C

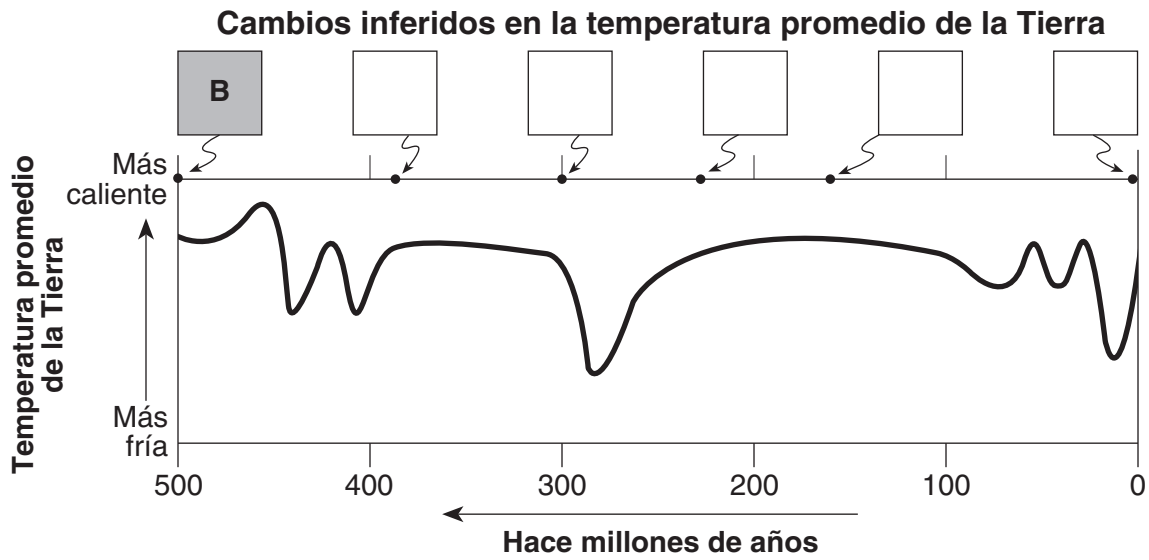
For Raters Only

65 Material: _____

65

Procesos: _____ y _____

66



66

67 Factor A:

Efecto en la temperatura de la Tierra: _____

Por qué cambia la temperatura: _____

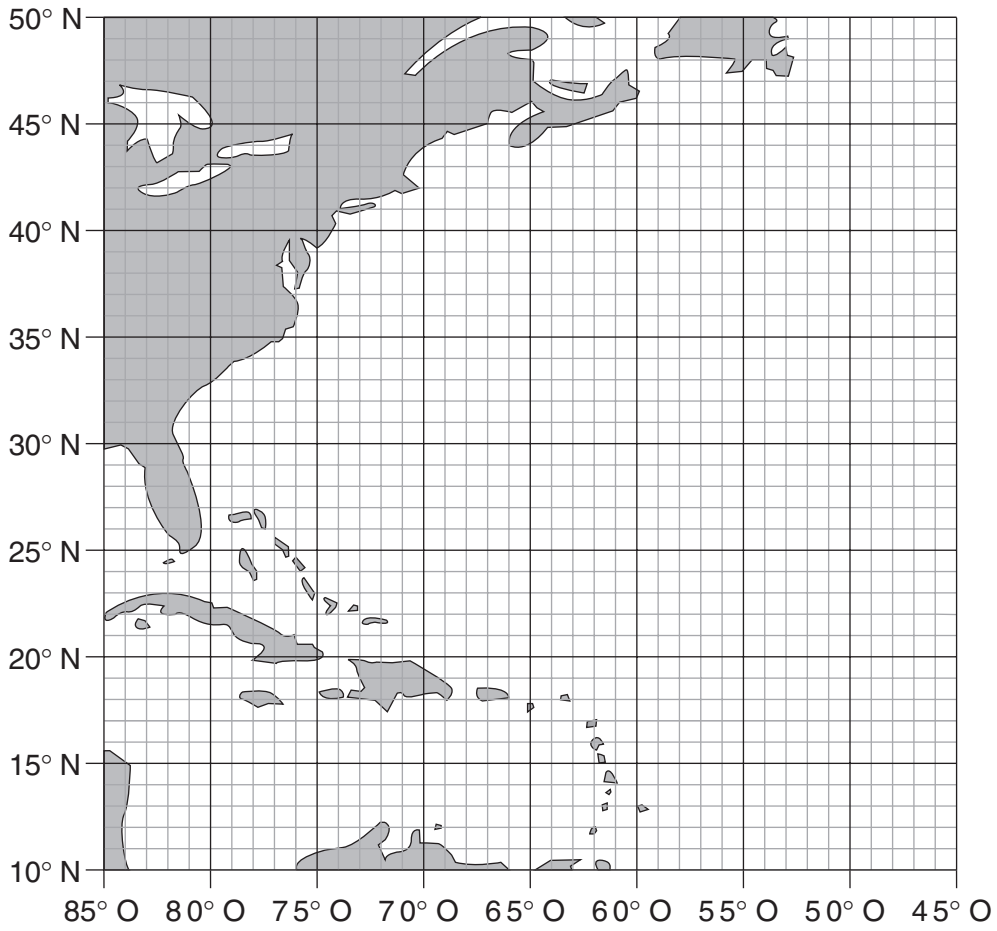
67

Factor B:

Efecto en la temperatura de la Tierra: _____

Por qué cambia la temperatura: _____

68 y 69



For Raters Only

68

69

70 _____

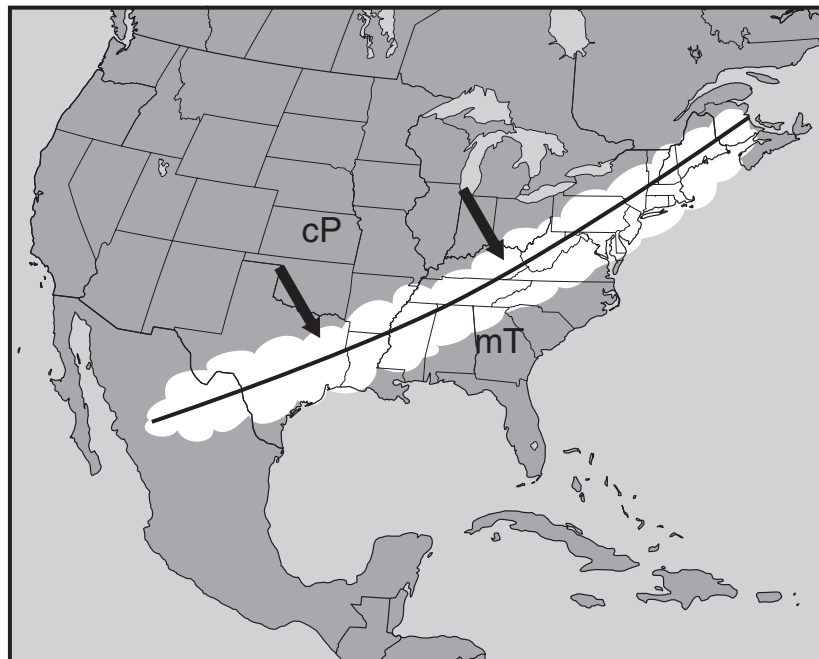
70

71 _____

71

For Raters Only

72 y 73



72

73

74 (1) _____

(2) _____

(3) _____

(4) _____

74

75 _____

75

76 _____

76

77 _____

77

**For Raters
Only**

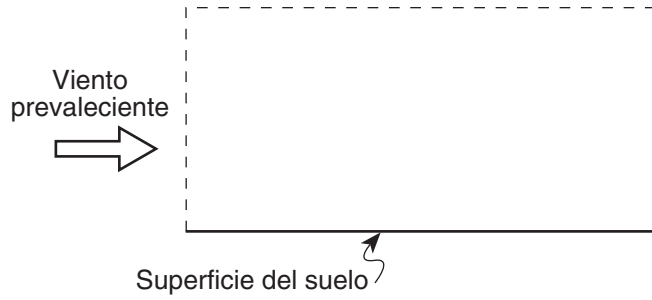
78

78

79

79

80



80

81

81

Total Score for Part C