

# ENTORNO FÍSICO CIENCIAS DE LA TIERRA v202

## FOLLETO DE RESPUESTAS

Estudiante.....

Maestro.....

Escuela ..... Grado .....

**Escriba sus respuestas para la Parte B-2 y la Parte C en este folleto.**

### Parte B-2

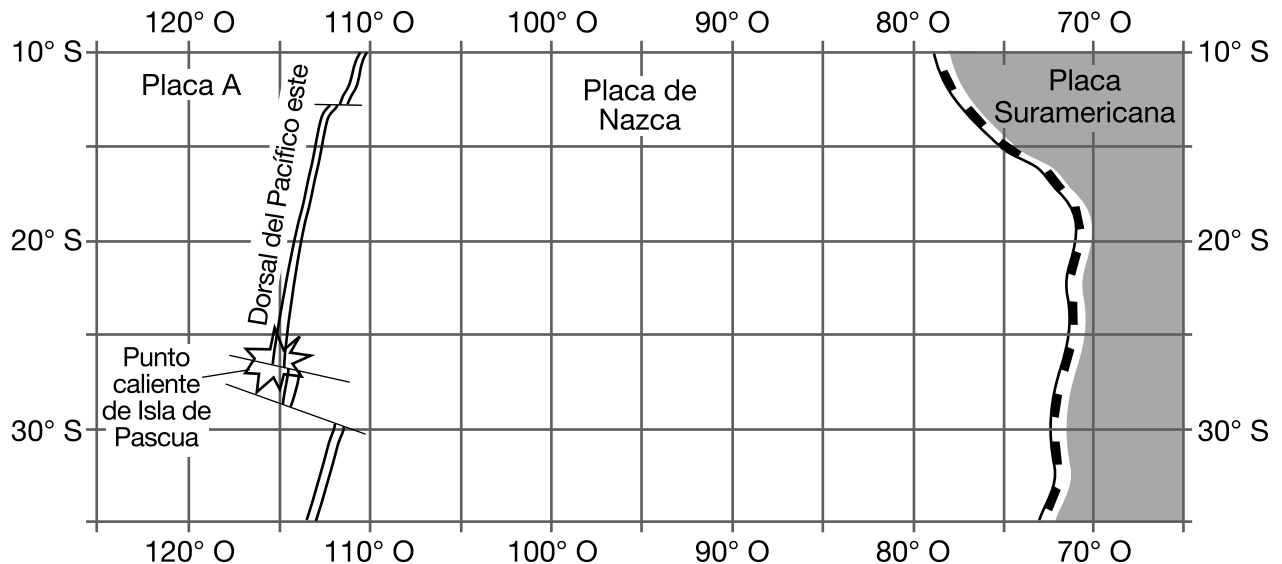
51 Época \_\_\_\_\_

52 \_\_\_\_\_

53 \_\_\_\_\_

54 \_\_\_\_\_

### Sudeste del Océano Pacífico



55 Placa \_\_\_\_\_

56 \_\_\_\_\_

\_\_\_\_\_


57 \_\_\_\_\_ **J/g**

58 *B*: \_\_\_\_\_ y *C*: \_\_\_\_\_

59 \_\_\_\_\_

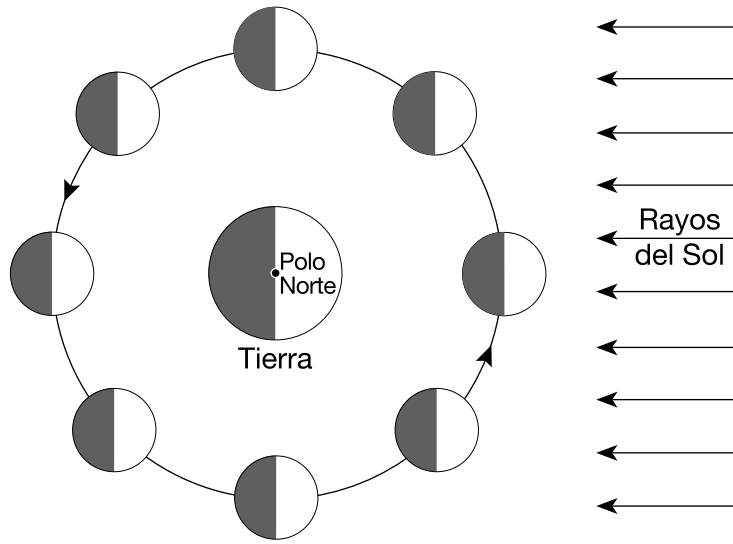
60 \_\_\_\_\_ **in de Hg**

61



62 \_\_\_\_\_

63-64

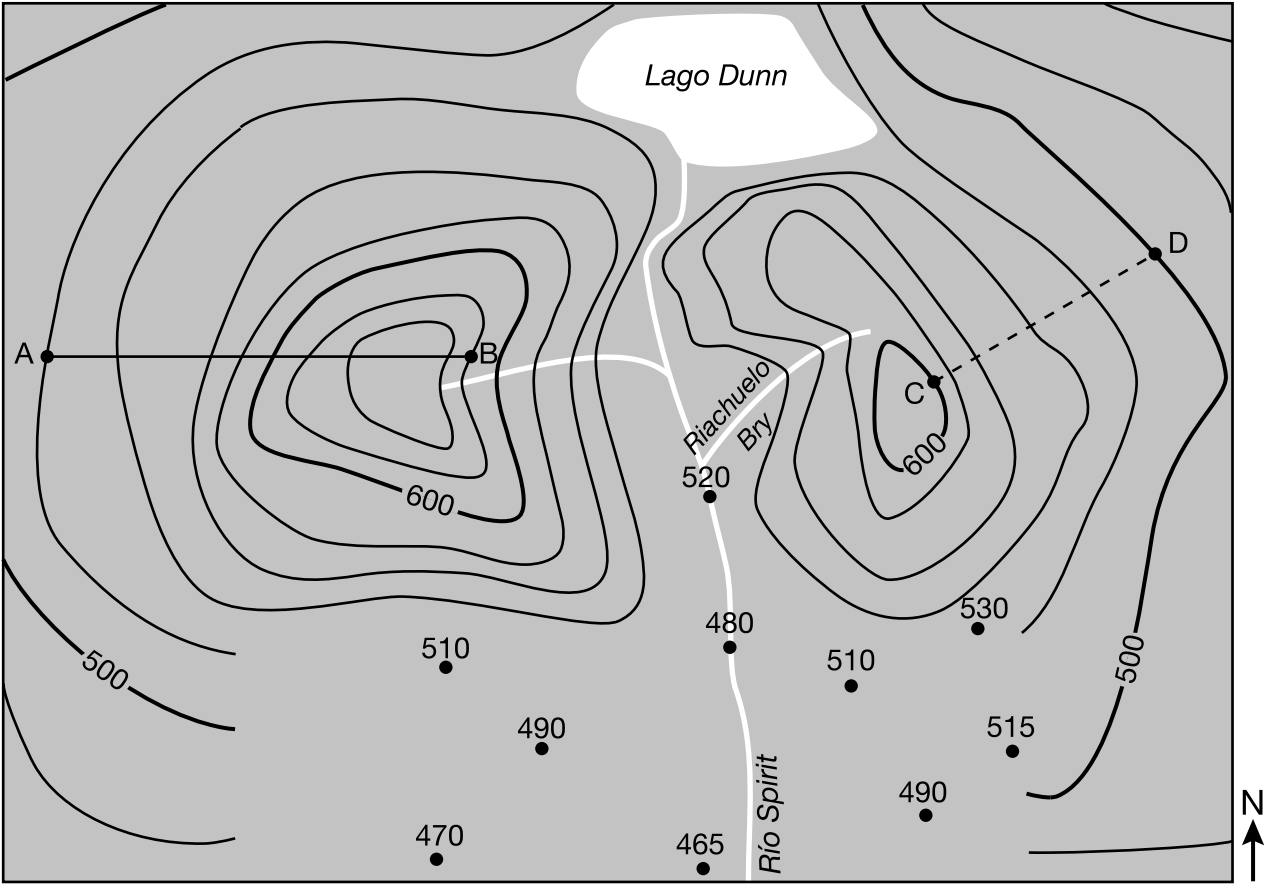


(No está dibujado a escala)

65 \_\_\_\_\_ de febrero de 2019

Parte C


66



0 1 2 3 4 5 6 7 8 kilómetros

Intervalo de contorno = 20 metros

67



68 \_\_\_\_\_ m/km

69 \_\_\_\_\_

\_\_\_\_\_

70 \_\_\_\_\_

71 Cambio en la presión: \_\_\_\_\_

Cambio en la temperatura: \_\_\_\_\_

72 \_\_\_\_\_

\_\_\_\_\_

73 \_\_\_\_\_

74 \_\_\_\_\_

75 \_\_\_\_\_ y \_\_\_\_\_

76 \_\_\_\_\_

77 \_\_\_\_\_

78 \_\_\_\_\_

\_\_\_\_\_

79 \_\_\_\_\_

\_\_\_\_\_

80 Tipo de precipitación en Calgary: \_\_\_\_\_

Tipo de precipitación en Monterrey: \_\_\_\_\_

81 \_\_\_\_\_

82 \_\_\_\_\_

\_\_\_\_\_

83



84 \_\_\_\_\_

85 Más joven: \_\_\_\_\_



\_\_\_\_\_

\_\_\_\_\_

Más antiguo: \_\_\_\_\_

