

ENTORNO FÍSICO CIENCIAS DE LA TIERRA

Jueves, 20 de junio de 2019 — 1:15 a 4:15 p.m., solamente

FOLLETO DE RESPUESTAS

Estudiante.....

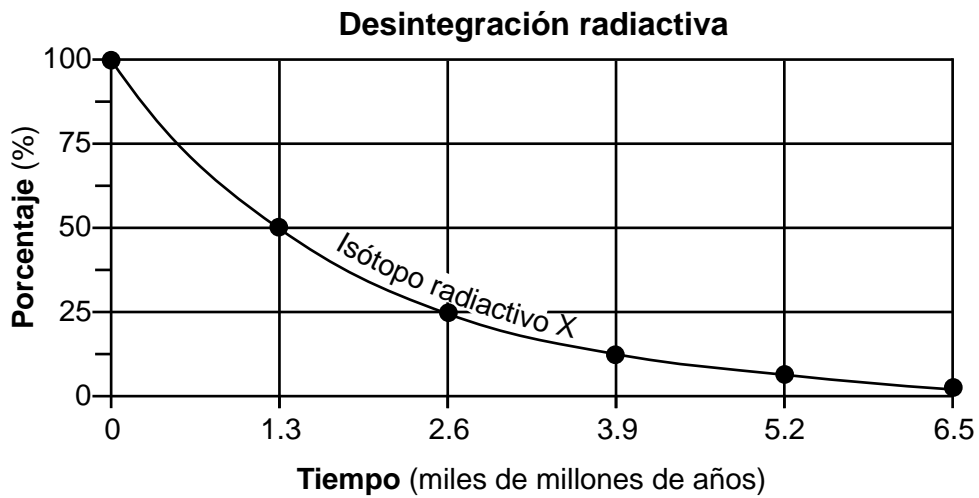
Maestro.....

Escuela..... Grado.....

Escriba sus respuestas para la Parte B-2 y la Parte C en este folleto.

Parte B-2

51



52 _____

53 _____ g

54 Cambio en la presión del aire: _____

Cantidad de nubosidad: _____

55

Temperatura del aire (°F)	Presión barométrica (mb)	Dirección del viento desde el	Velocidad del viento (nudos)

56 _____ %

57 _____

58 _____

59 _____

60 _____

61 _____

62 _____

63 _____

64 _____ h

65 _____

Parte C

66 _____ veces más grande

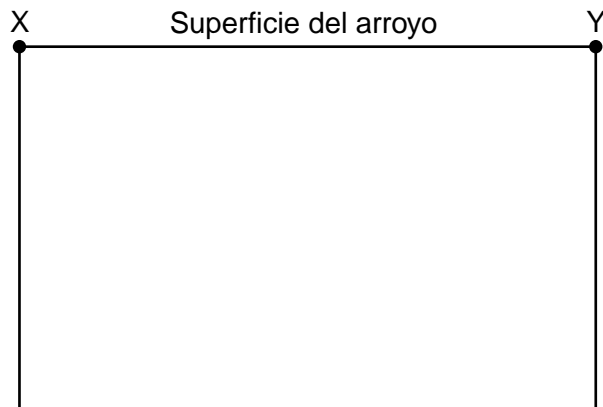
67 _____

68 Planetas terrestres: _____ y _____

Explicación: _____

69 _____

70



71 Tamaño: _____

Forma: _____

72 _____ cm

73 _____

74 _____

75 _____

76 **Corriente** _____

77 1: _____

2: _____

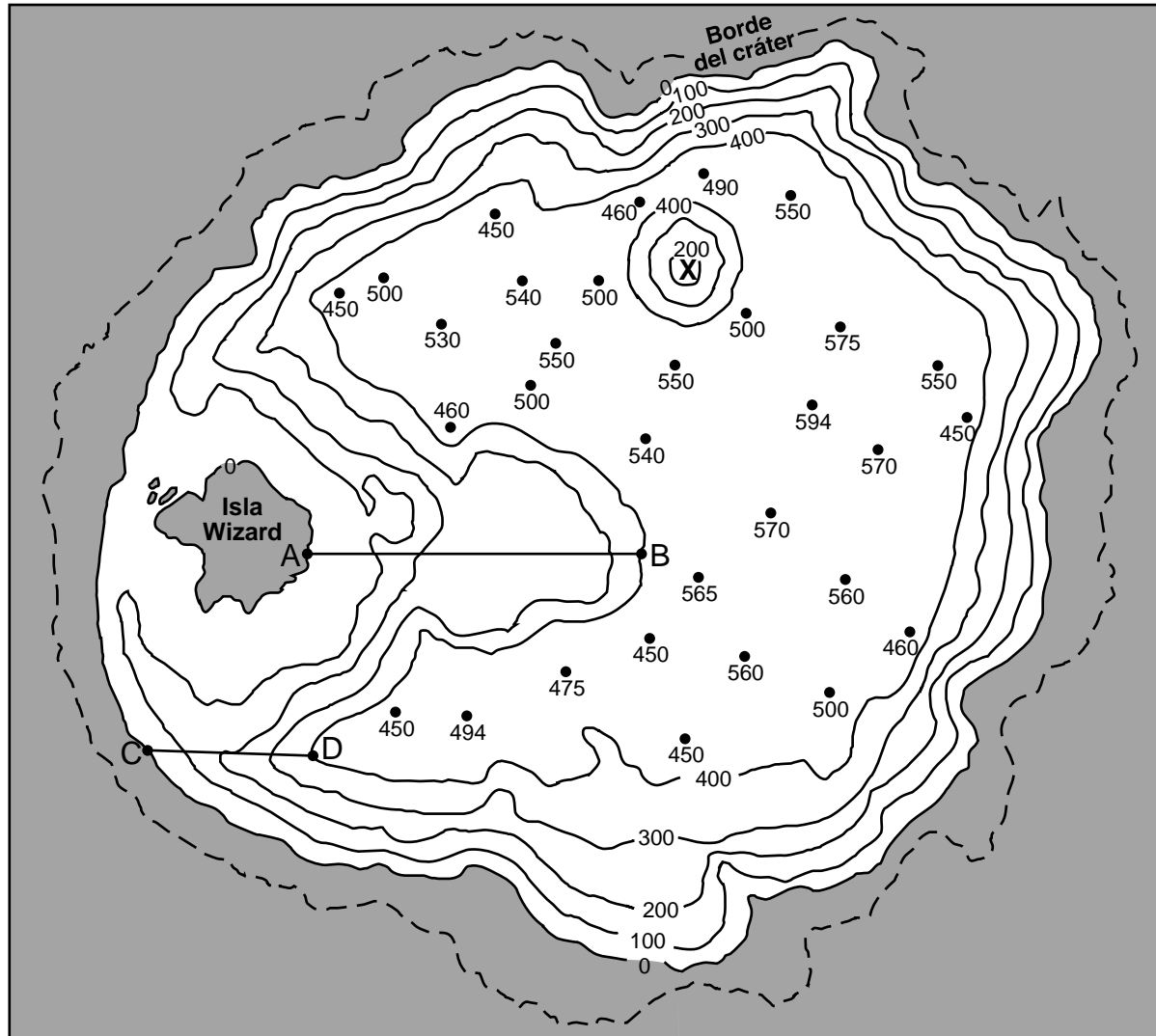
78 _____

79 _____

80 Ubicación X: _____

Ubicación Y: _____

Mapa de campo del lago Cráter



0 1 2
Kilómetros

www.craterlakeinstitute.com

82



83 _____ m/km

84 _____ metros

85 Feldespatio plagioclasa: _____ %

Biotita: _____ %

Anfíbol: _____ %

