

The University of the State of New York

REGENTS HIGH SCHOOL EXAMINATION

世界歷史和地理

僅限用於2005年6月21日(星期二)上午9時15分至下午12時15分

學生姓名 _____

學校名稱 _____

請以工整字跡在以上直線上填寫你的姓名和學校名稱,然後翻到本考題本的最後一頁,即本考題本的第I部份答題紙。請沿虛線把最後一頁折疊起來,慢慢地小心地將答題紙撕下。然後在你的答題紙上填寫各項擡頭。現在你要在申論題考題本內每頁的擡頭上用工整字跡填寫你的姓名和學校名稱。

本次考試共有三個部份。你必須要回答每一部份的**所有**題目。用黑色或深藍色的水墨原子筆回答申論考題。

第I部份包括50道選擇題。請將答案記錄在另外一張答題紙上。

第II部份包括一道以主題為主的申論題。從本考題本的第1頁起開始回答該申論題。

第III部份是以下列文件為基礎的:

第IIIA部份包含各種文件。每一文件後有一或一個以上的問題要回答。在本考題本上,將各題的答案寫在各問題後的直線上。請以工整字跡在這一部份的第1頁上填寫你的姓名和學校名稱。

第IIIB部份包含一個以各文件為基礎的申論題。請將申論題的答案寫在本考題本的第7頁。

在本次考試結束後,你必須在第I部份的答題紙上簽署聲明,表明你沒有非法得到本考試的試題或答案,在本考試中沒有給予過或接受過任何的幫助。你如果不簽署本聲明,你的答題紙不會被接受。

在本考試中,嚴禁使用任何形式的通訊工具。如果你使用了任何的通訊工具,無論使用多久,你的考試都將無效,並且不會得到任何的分數。

未經指示請勿打開本考題本。

第I部份

請回答本部份的所有問題

答題說明(1-50): 根據每一個敘述或問題,在所給答案中選擇最恰當的詞或詞句,並在另外的答題紙上寫下代表該答案的**編號**。

- 1 在哪個時期,馴養動物和種植農作物第一次出現?
- (1) 鐵器時代
 - (2) 舊石器時代
 - (3) 新石器革命
 - (4) 科學革命

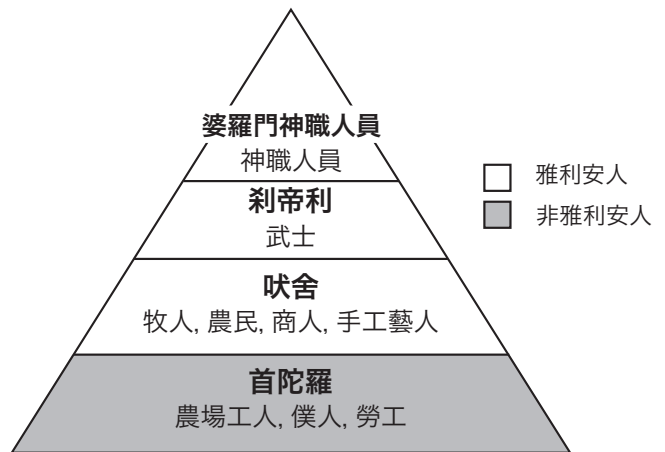
根據下面的敘述和你的社會科學知識來回答問題2。

- 早期河谷中的肥沃土地促成了早期文明的發展和繁榮。
- 在16世紀和17世紀,對馬六甲海峽的控制決定了誰能在香料島(Spice Islands)上進行貿易。
- 因為日本座落在一個以山地為主的島上,所以人口都密集在沿海地區。

- 2 這些敘述最能支持下列哪個結論?
- (1) 主要的城市中心只在沿河的地方發現。
 - (2) 國家和地區的地理影響了其自身的發展。
 - (3) 沒有山脈和河流,人類無法發展文明。
 - (4) 貿易和征服阻止了新思想的傳播。
-
- 3 哪個說法對亞洲文化傳播的描述最準確?
- (1) 拜占庭的商人把查士丁尼法典(Justinian Code)帶到了中國。
 - (2) 羅馬軍團把基督教傳到了印度。
 - (3) 印度的僧侶把伊斯蘭教傳到了中東。
 - (4) 中國的思想行為都傳入了韓國和日本。

- 4 哪個對希臘文明的敘述僅是一種觀點而非事實:
- (1) 斯巴達的少年被訓練成為戰士。
 - (2) 雅典的文化比斯巴達的更高級。
 - (3) 蘇格拉底,柏拉圖,和亞里斯多德都是希臘哲學家。
 - (4) 許多雅典的成年人沒有選舉權。

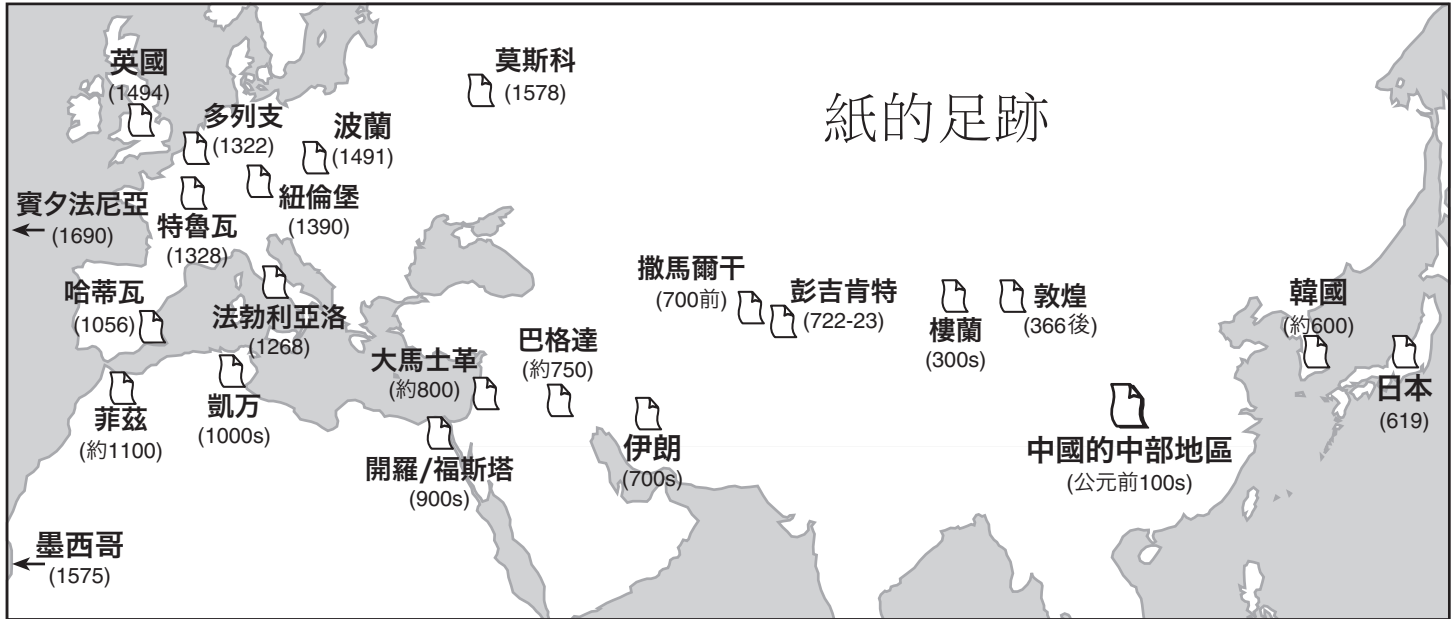
根據下面的圖示和你的社會科學知識來回答問題5-6。



資料來源: Guide to the Essentials of World History, Prentice Hall, 1999 (經改編)

- 5 以上的圖表闡釋了哪個概念?
- (1) 莊園制度
 - (2) 種族隔離制度
 - (3) 種姓制度
 - (4) 委托監護制
- 6 哪個宗教或信仰系統與以上的圖表顯示的社會等級系統最有關聯?
- (1) 印度教
 - (2) 道教
 - (3) 天主教
 - (4) 萬物有靈論

根據下面的地圖和你的社會科學知識來回答問題7。



資料來源：Aramco World, May/June, 1999 (經改編)

7 造紙術從中國傳到巴格達是通過：

- | | |
|---------------|-----------|
| (1) 撒哈拉沙漠商路 | (3) 絲綢之路 |
| (2) 橫穿西伯利亞的鐵路 | (4) 蘇伊士運河 |

8 “.....讓大王和他的臣子們互相體諒,共同努力,‘我們受命於天,而這一天命就像夏王朝所受的天命一樣偉大;是的,天命一定會在殷永遠傳承的’。我祝願大王在他的人民的輔助下來接受這永承的天命.....”

- 《書經》,卡利·沃特曼編訂
亨利·瑞格拉公司

這段話涉及的是什麼概念?

- | | |
|------------|----------|
| (1) 王朝更替循環 | (3) 自然權利 |
| (2) 母系社會 | (4) 一神論 |
- 9 宗教詞彙"四聖諦"、"八正道"和"涅槃"和哪個宗教關係最緊密:
- | | |
|----------|---------|
| (1) 猶太教 | (3) 神道教 |
| (2) 伊斯蘭教 | (4) 佛教 |

10 “穆斯林文化黃金時期”最爲人們所熟知的是它的:

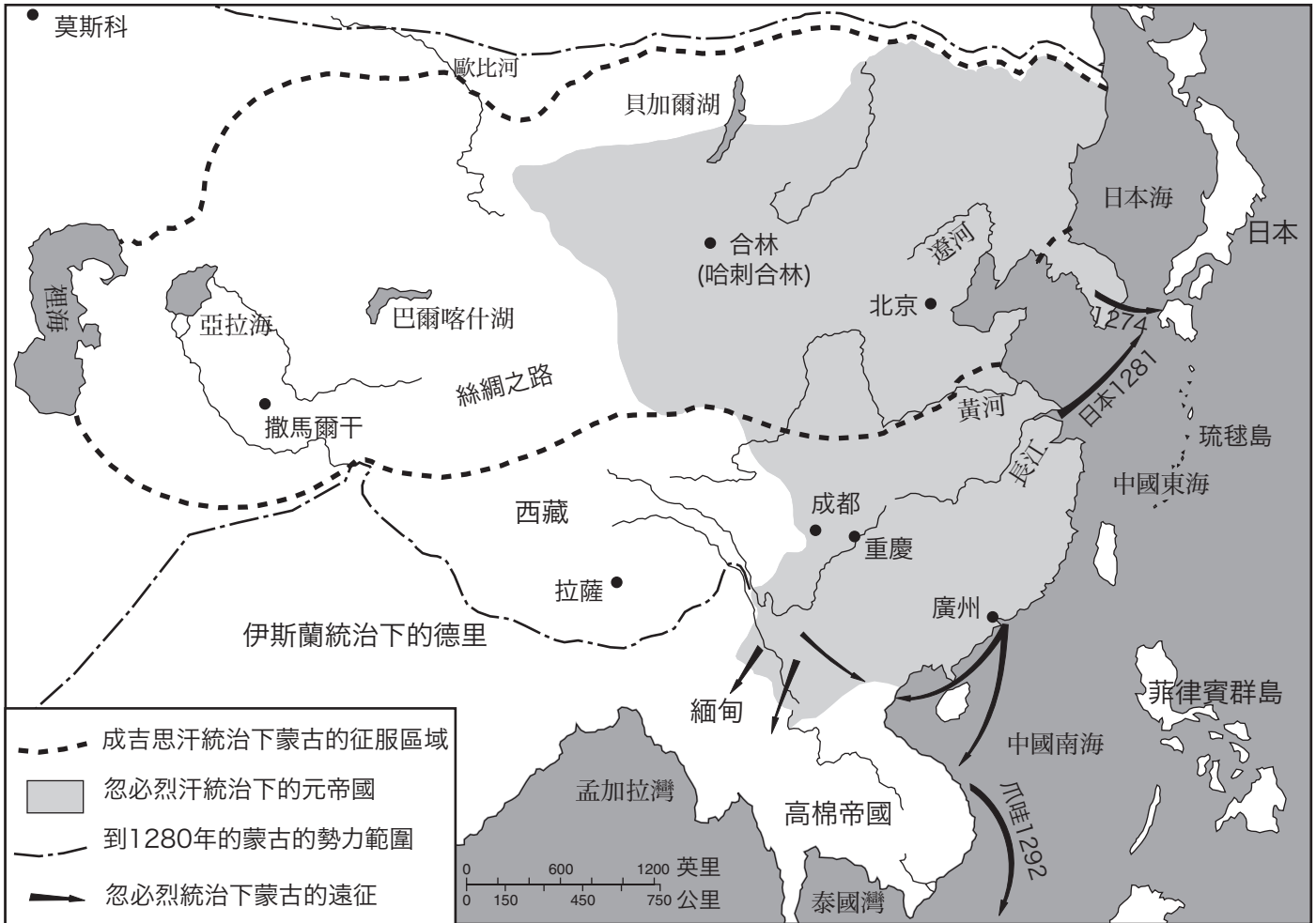
- (1) 殖民北美的企圖
- (2) 基督徒與猶太教徒間經常性的衝突
- (3) 數學、科學和醫藥的進展
- (4) 減少中東地區與中國貿易的政策

11 商業革命促進了工業革命的發生,這是因爲在商業革命時期:

- (1) 物物交換系統得到了確立
- (2) 新形式的商業得到發展
- (3) 社會主義傳到了歐洲
- (4) 溫飽型農業(subsistence agriculture)得到了提倡

根據下面的地圖和你的社會科學知識來回答問題12。

蒙古的勢力範圍



資料來源：John K. Fairbank, *China: A New History*, Harvard University Press, 1992 (經改編)

12 這幅地圖所提供的資訊支持下列哪個關於蒙古的敘述？

- (1) 元朝隔絕了外國勢力對中國的影響。
- (2) 大多數的中國人都生活在河谷地帶。
- (3) 忽必烈汗和成吉思汗把蒙古的勢力擴展到亞洲的其它地方。
- (4) 撒馬爾干城是元帝國的一部份。

13 馬基雅維利的信條“目的可以使手段合理化”的意思是：

- (1) 統治者可以採用對國家最有利的任何方法。
- (2) 人們總是在維護自己的最佳利益。
- (3) 使所有的人在什麼時候都滿意是可能的。
- (4) 統治者必須總是維護共有利益。

14 歐洲的威尼斯、非洲的摩加迪沙和中國的廣州在13世紀脫穎而出是因為它們成為了哪個重要的中心？

- (1) 農業
- (2) 貿易
- (3) 製造業
- (4) 礦業

- 15 哪項是蒙古統治對俄國歷史的影響？
- (1) 與西歐各王國極大地增加了聯繫。
 - (2) 中國的文字書寫系統傳入並被採用。
 - (3) 大部分的俄國人從正統派的基督教皈依到了伊斯蘭教。
 - (4) 俄國領導人採納了強大的中央集權統治的思想。

- 16
- 廷巴克圖(Timbuktu)以其為一個偉大的教育和貿易中心而聞名。
 - 津巴布韋帝國的城牆顯示出了一個強大而富有的社會。
 - 多樣的文化造就了貝寧(Benin)的黃銅雕刻。

基於以上的這些敘述,可以從中得出下列哪個綜述?

- (1) 在許多非洲社會中,宗教信仰是最重要的元素。
- (2) 一些非洲社會達到了一個很高的經濟和文化的發展水平。
- (3) 北非社會比南非社會更先進。
- (4) 在技術使用上,大部分的非洲社會比亞洲社會晚了幾百年。

- 17 葡萄牙和西班牙建立通向亞洲香料市場的航路的最主要原因是什麼?

- (1) 試驗新科技,比如星盤和六分儀。
- (2) 為航海者,地圖繪製者和造船者提供工作。
- (3) 避開被穆斯林商人控制的陸上通道。
- (4) 發現新的大陸以及新的植物和動物。

- 18 《大憲章》可以被描述成:

- (1) 英國封建社會的期刊
- (2) 限制英國君主權力的封建權利的清單
- (3) 封建制時期英國對繳稅貴族的人口普查
- (4) 英國中產階級的訴苦函

根據下面的地圖和你的社會科學知識來回答問題19。

馬楚皮楚 (Macchu Picchu): 隱藏的城市

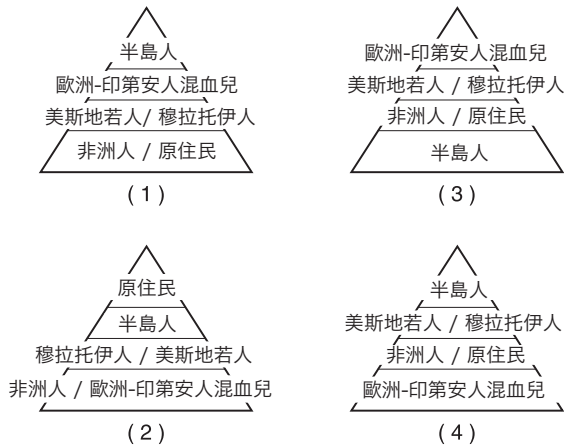


資料來源: *Latin American History on File*, Media Projects, Inc., 1996 (經改編)

- 19 哪個關於印加人的馬楚皮楚城的結論可以從地圖中推論出?

- (1) 宗教活動在這座城市是被禁止的。
- (2) 這座城市是舉行儀式的地方,不是個永久居住地。
- (3) 這座城市看不到社區規劃和有規序生活的跡象。
- (4) 這座城市有一個擁有法律,領導者和軍隊的政府。

20 下列哪個圖示正確地揭示了西班牙在西半球殖民統治中的社會等級？



21 啓蒙運動時期的哲學家相信社會最可以通過什麼發展？

- (1) 依靠信仰和神權
- (2) 借助古希臘和羅馬的觀念
- (3) 依靠理性和自然法則
- (4) 研究成功統治者的作為

22 哪個地理特徵使南美很難統一？

- (1) 安第斯山脈
- (2) 麥哲倫海峽
- (3) 墨西哥灣
- (4) 阿根廷草原

23 19世紀“不干涉主義”經濟學家認為：

- (1) 政府應該對經濟和貿易進行調控
- (2) 個人應被允許在自由市場上追尋自身的利益
- (3) 政府應該建立一個國家經營的銀行系統來避免不穩定
- (4) 如果每個人都被給予了選舉權,就會導致無政府狀態

根據下面的地圖和你的社會科學知識來回答問題24。



24 以上地圖所提供的資訊最能支持下列哪個結論？

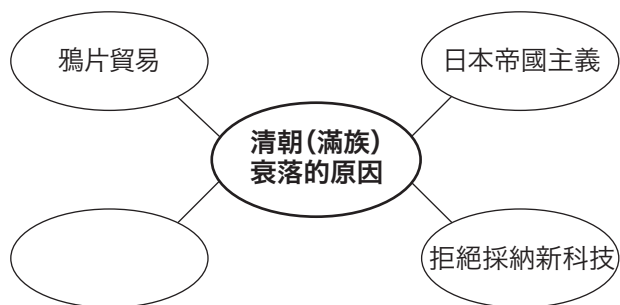
- (1) 英國的自然資源促使了工業城市的發展。
- (2) 1830年英國有貿易逆差。
- (3) 英國的繁榮使人民團結在一起。
- (4) 人們因為污染而從英國遷走。

25 卡爾·馬克思預測無產階級革命最早會在什麼地方發生？

- (1) 工業化的歐洲
- (2) 獨立的拉丁美洲
- (3) 被殖民的非洲
- (4) 農業化的俄國

- 26 哪個敘述最好地闡釋了西方觀點中對盧迪亞·吉普林“白人的負擔”的認識?
- (1) 歐洲人應該維護非洲和亞洲的傳統文化。
 - (2) 歐洲人必須保護現存的非洲和亞洲的經濟。
 - (3) 歐洲人在尋找通向亞洲的新商路上遭遇了很大的困難。
 - (4) 歐洲人有義務把其文明的好處介紹給非歐洲的民族。

根據下面的圖示和你的社會科學知識回答問題 27。



- 27 哪個短語可以正確完整地補充以上圖示?
- (1) 中國出口茶葉到歐洲
 - (2) 儒家信條的傳播
 - (3) 義和團運動的失敗
 - (4) 毛澤東權力的擴展
-
- 28 由記者西奧多·赫茨爾發起的在巴勒斯坦促成一個獨立的猶太人國家的運動被看作是：
- (1) 收復失土 (the Reconquista)
 - (2) 大流散 (the Diaspora)
 - (3) 烏托邦 (Utopianism)
 - (4) 復國運動 (Zionism)
- 29 20世紀歐洲婦女選舉權運動的成功,部份地歸結於女性:
- (1) 掌握了政府的高層
 - (2) 在第一次世界大戰中在工廠中工作
 - (3) 被鼓勵營造大家庭
 - (4) 在第一次世界大戰中參與了戰鬥工作

- 30 “.....對所有殖民主張自由開明而完全公正的調整,這個調整應基於對一個原則的嚴格遵守,那就是在決定所有這些關於主權方面的問題上,大眾的利益都必須和政府的主張同樣有份量。而該政府的資格有待於被.....所決定.....”
- 伍德羅·威爾遜總統,《14點》,1918年

這個敘述對殖民統治下的民族主義者很有吸引力,這是因為它提出了:

- (1) 民族自決
 - (2) 經濟發展
 - (3) 聯盟系統
 - (4) 防止恐怖主義者
- 31 20世紀20年代至30年代間,穆斯塔法·凱末爾·阿托塔克改變土耳其政府用的是:
- (1) 引進民主改革
 - (2) 增加蘇丹的權力
 - (3) 支持專制主義
 - (4) 把宗教教義引入民法中
- 32 20世紀20年代至30年代間,法西斯領導人在意大利和德國上臺,這是因為他們:
- (1) 支持“國際聯盟”
 - (2) 利用經濟困難來獲得了大眾的支持
 - (3) 拒絕所有形式的極端民族主義
 - (4) 保持了政治傳統
- 33 地理是如何影響拿破侖和希特勒對俄國的入侵的?
- (1) 沙漠地形促成了入侵。
 - (2) 天氣造成了成功的障礙。
 - (3) 凍土環境幫助了軍隊的前進。
 - (4) 暖水港阻止了補給的供給。
- 34 亞美尼亞大屠殺和德國對猶太人的大屠殺以及南京大屠殺都是什麼例子?
- (1) 綏靖政策
 - (2) 抵抗運動
 - (3) 俄化政策
 - (4) 人權踐踏

- 35 在印度的獨立運動期間,許多在印度的穆斯林要求建立一個獨立的巴基斯坦政權來:
- (1) 保持在英國的統治之下
 - (2) 防止阿富汗和中國今後的入侵
 - (3) 強調他們自己作為有宗教信仰少數族裔的地位的關注
 - (4) 保護做為聖河的印度河和恒河

根據下面的郵票和你的社會科學知識回答問題 36。



資料來源: www.usps.com

EUROPEAN AID = 對歐洲的資助
PROGRAM = 計劃
The Marshall Plan = 馬歇爾計劃

- 36 這枚郵票發行於“馬歇爾計劃”出臺的50年之後。喬治·馬歇爾被紀念是因為他:
- (1) 堅持德國和其它軸心國要對發起第二次世界大戰賠款
 - (2) 提議了美國對重建歐洲國家實施經濟援助
 - (3) 組建了歐盟從而使西歐可以重建自己的經濟
 - (4) 鼓勵西歐國家接受來自蘇聯的援助
-
- 37 在1970年代和1980年代,什麼主要原因導致了許多中美洲國家的內戰?
- (1) 不同社會階層間的經濟差異
 - (2) 奴隸制在委托監護制中被停止了
 - (3) 迅速的經濟改革
 - (4) 石油生產政策

- 38 列赫·瓦文薩和米凱爾·戈爾巴喬夫以及納爾遜·曼德拉的一個相似之處在於他們每一個都:
- (1) 領導各自的國家朝更民主的政府邁進
 - (2) 為多數的黑人獲得高於少數白人的權利而戰鬥
 - (3) 致力於在各自國家結束共產黨的統治
 - (4) 拒絕加入聯合國
- 39
- 北大西洋公約組織和華沙條約組織的建立
 - 柏林牆的修建
 - 古巴導彈事件

這些事件和以下哪一項關係最緊密?

- (1) 第一次世界大戰
 - (2) 第二次世界大戰
 - (3) 冷戰
 - (4) 波斯灣戰爭
- 40 和特蕾莎修女活動最相關的事件是:
- (1) 民主和政治自由
 - (2) 工業化和市場開放
 - (3) 民族主義和獨立運動
 - (4) 窮人的需要和健康保健
- 41
- 切爾諾貝爾遭遇核子災難。
 - 氟氯烴破壞臭氧層。
 - 世界各地的河流和海洋都遭到了污染。

從這些敘述中可以得出的最佳結論是:

- (1) 現代科技可能有很嚴重的負面影響。
- (2) 今天的環境在自我更新。
- (3) 只有發展中國家有環境問題。
- (4) 大部分的環境問題起源於歐洲。

根據下面的漫畫和你的社會科學知識回答問題
42。



資料來源：Steve Sack, *Minneapolis Star and Tribune*, 1983

- 42 這幅政治漫畫的主要思想是什麼？
- (1) 只有美國和非洲受到食物缺乏的影響。
 - (2) 污染經常是導致饑荒的原因。
 - (3) 非洲的政府沒有意識到他們國家的人民缺乏食物。
 - (4) 閱讀世界各地的饑荒報道是和親身體驗饑荒是不一樣的。
-
- 43 伊朗的阿亞圖拉·霍梅尼和阿富汗的塔利班的一個相似之處在於他們都：
- (1) 建立了一個伊斯蘭的國家
 - (2) 發起了一次有關婦女權利的聯合國會議
 - (3) 加入了石油輸出國組織(OPEC)
 - (4) 把共產主義信條引入了他們的政府中

- 44 哪個因素決定了中東在國際社會中的重要地位？
- (1) 政治和社會的革新
 - (2) 出眾的武器技術
 - (3) 在戰略性位置擁有至關重要的自然資源
 - (4) 科技的先進和工業的發展

- 45 “.....很難構想一個比曼徹斯特更缺乏有趣事物的地方。從大小和人口來說,它是王國的第二大城市,擁有八萬[80,000]的居民。想像這麼多人就擁擠在狹窄的街道上,出入於被煙熏黑的磚塊建的房子裏。這裏經常有和修道院差不多大的房子,但沒有一點古雅,沒有美感,沒有神聖。你在這些房子裏面能聽到什麼?當你走過的時候,只有無窮盡的機器轟鳴。當你聽到鐘聲的時候,這不是讓這些不幸的人們去祈禱而是去工作.....”

— 羅伯特·索西 (Robert J. Southey),
《來自英國的信》, 1807年

文章中提到的情況發生在什麼時期？

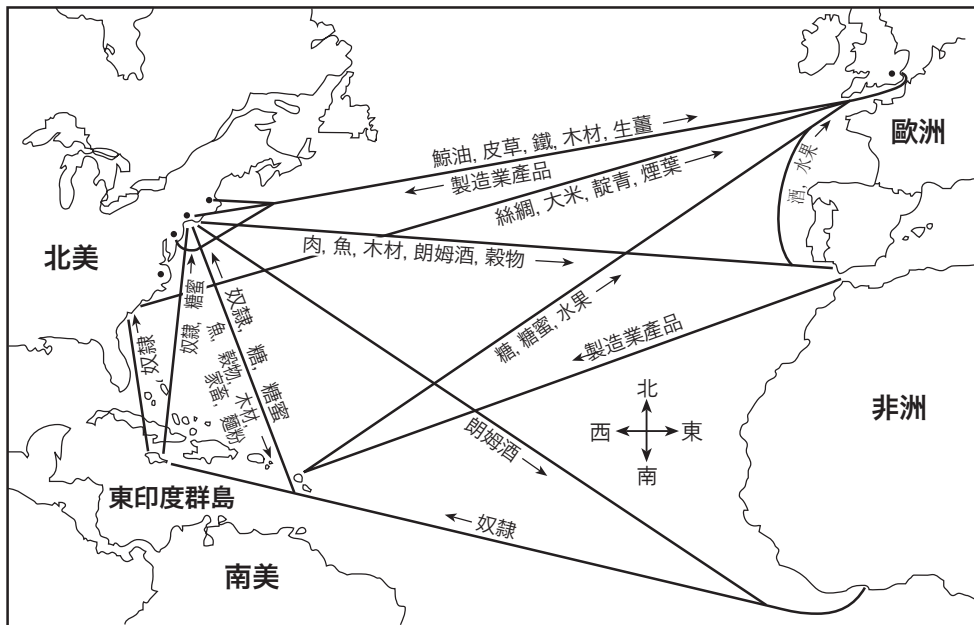
- (1) 發現時代
 - (2) 文藝復興
 - (3) 工業革命
 - (4) 綠色革命
- 46 哪個題目可使下面的要點描述最完整？

- I. _____
- A. 君士坦丁堡的衰亡
 - B. 哥倫布航行
 - C. 馬丁·路德的《九十五論綱》
 - D. 蘇聯共產主義的崩潰

- (1) 革命的重要性
- (2) 戰爭與起義
- (3) 歷史的轉折點
- (4) 經濟變革的影響

根據下面的地圖和你的社會科學知識來回答問題47。

大西洋貿易路線



資料來源：Goldberg and Dupré, *Brief Review in Global History and Geography*, Prentice Hall, 2004 (經改編)

47 以上地圖中顯示的大西洋貿易路線發生在:

- (1) 希臘時期
- (2) 羅馬帝國
- (3) 中世紀早期
- (4) 重商主義時期

48 德國統一和意大利統一以及印度獨立的一個共同之處是:

- (1) 天主教教會的支持
- (2) 民族主義領導人的力量
- (3) 國際聯盟的調解
- (4) 民主制度的存在

49 哪個領導人和運用非暴力不合作來結束殖民統治最相關?

- (1) 莫馬·哈達非
- (2) 薩達姆·侯賽因
- (3) 胡志明
- (4) 莫罕達斯·甘地

50 法國大革命時期的恐怖統治時期和中國的文化大革命的一個相似之處是:

- (1) 限制獨裁領導人的權力
- (2) 顯示了在制定國家政策上大衆想法的力量
- (3) 建立了社會的穩定和經濟的增長
- (4) 用暴力手段來清除他們的反對者

所有申論題的答案均應寫在另外的申論題考題本上。

在考慮回答第II部份的問題時,請注意以下一般性定義:

- (a) **描述指:** “用文字或講述的方式來闡明”
- (b) **討論指:** “透過事實、推理和論證來對某事發表意見,較具體地說明某事”

第II部份

主題為主的申論題

答題說明: 寫一篇條理分明的論文,包括一段引言,與以下任務相關的幾個段落和一個結論。

主題: 全球性問題

通觀歷史,全球性問題是擺在國家與地區面前的主要挑戰。

任務:

選擇**兩個**全球性問題並且**逐一**

- 描述造成這個全球性問題的一個主要原因
- 討論這個全球性問題對一個具體國家或地區的一個影響

你可以運用任何你所學過的世界歷史涵蓋的全球性問題。你可能考慮的一些主題包括:環境污染,沙漠化,森林減少,人口過剩,難民問題,疾病傳播,國際間的毒品交易和種族衝突。

你不必局限於以上建議。

請不要討論美國事件,儘管在討論全球性問題的影響時可能會涉及美國。

指南:

在論文中請務必:

- 完成任務的各個方面
- 用相關的事實、例子和細節支持主題
- 做到邏輯清楚,條理分明。請包括一段引言和一個結論,但不要簡單地重複主題。

在考慮回答第III部份的問題時,請注意以下一般性定義:

討論指:“透過事實、推理和論證來對某件事發表意見;較具體的說明某事”

第III部份

歷史文件題

該問題基於隨附的歷史文件。該問題的設計是爲了測驗你運用歷史文件的能力。在編寫本問題時,有些文件經過改編。在分析文件時,請參考每一份文件的來源以及文件中敘述的任何觀點。

歷史背景:

縱觀歷史,有許多導致戰爭爆發的不同原因存在。這些戰爭導致了預期和非預期的結果。

任務: 運用文件中的資訊和你的世界歷史知識,回答A部份中的每一文件後面的問題。你對這些問題的回答,將有助於你撰寫B部份的論文。你將被要求

- 討論導致戰爭爆發的經濟、社會和/或政治原因
- 討論戰爭爆發的預期和非預期的結果

A部份

簡答題:

答題說明: 分析以下文件,在空白處簡要回答每一份文件後面的問題。

文件1

.....儘管王公諸侯們傾向於保持現在超然於事外的狀態,但西部的騎士們卻很積極地響應了對聖戰的請求。他們的動機部分出於真正的宗教熱誠。他們羞於互相戰爭但他們希望為十字架而戰。不過,對土地的渴望也激發了他們。特別是法國的北部,在那裡,長子繼承制(即最大的兒子繼承所有的財產)正在確立之中。因為領主越來越不希望他的財產和職位被分割,而開始專注於石建的城堡,他們的非長子們必須到其它的地方去尋找自己的財富。在法國,騎士階層習慣於一種普遍的不安定狀態和對冒險的嘗試,他們是諾曼人中最有特徵的一群,而諾曼人是剛剛在幾代人前從游走的海盜轉變過來的。在南方的社會風氣下,把基督徒的義務和對土地的獲取結合起來確實是很有吸引力的。教會有理由為運動的進展而感到高興。這種局面為何不能也在基督世界的東面發生呢?.....

資料來源: Steven Runciman, *A History of the Crusades*, Cambridge University Press, 1951

- 1 根據以上文件,敘述歐洲騎士和士兵加入十字軍的一個原因。 [1]

Score

文件2

.....十字軍東征一個正面和不可辯駁的結果是它大大地擴展了以前西方所獲得的地理學知識。面對從歐洲各地聚集而來如此大量的流動的入侵者,“神秘東方”的面紗就被永久地揭開了.....

阿拉伯的建築者從十字軍那裏學會了很多源於諾曼地和意大利的關於石造軍事建築的知識。在建造著名的開羅西塔塔城堡的時候,薩拉丁就把他在利文特(地中海東的陸地)全面觀察到的十字軍城堡的特點引入了修建中。而後,當歐洲的大教堂在稍後開始興建時,他們的修建者在窗子上安裝了有色的玻璃。這種玻璃的製造技術源於古代敘利亞的腓尼基(Phoenicians)人,而後通過敘利亞的阿拉伯人傳到了住在東部的歐洲人.....

就純軍事角度來說,十字軍東征對於西方世界是一個失敗。因為,在轉手很多次後,包括了基督教領域的耶路撒冷在內的土地都永遠地變成(交回給)穆斯林了。不過,在經過東西雙方兩個世紀的戰爭,現在很清楚的是每一方都為對方的文化做出了重要貢獻。不可估量的雙邊互動為黑暗的歐洲帶入了幾許光亮,而且永遠地去除了存在於歐亞之間無知的壁壘.....

資料來源: “Legacy of the Crusades”, *Aramco World*, VII, May 1956

2a 根據這份文件,敘述十字軍東征對西方文明**一個**正面,非預期的結果? [1]

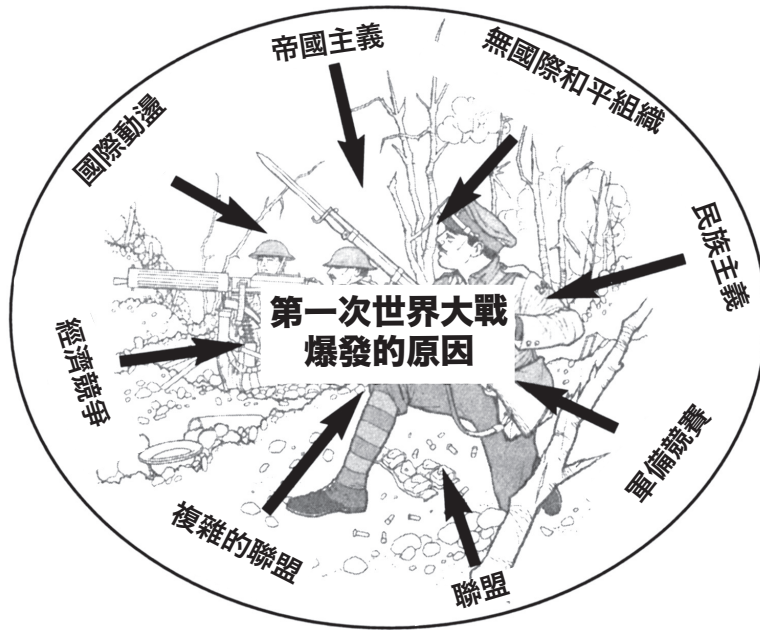
Score

b 根據這份文件,什麼是十字軍東征對穆斯林文明**一個**正面,非預期的結果? [1]

Score

c 根據這份文件,敘述十字軍東征的後果讓西方世界失望的**一個**原因。 [1]

Score



資料來源：Kime and Stich, *Global History and Geography STARreview*, N & N, 2003

3 根據上圖,第一次世界大戰爆發的兩個原因是什麼? [1]

(1) _____

(2) _____

Score

文件4

《凡爾賽條約》節選條款 (1919年6月28日)

第45條: 作為對法國南部煤礦毀壞的補償以及德國對戰爭引起的毀壞的戰爭賠款的一部份,德國把全部和絕對的煤礦所有權讓給法國,包括開採的專有權利,不受和免除所有債務及所有任何費用。煤礦位于薩爾河盆地中.....

第119條: 為取悅主要的同盟國,德國放棄(讓與)其海外的所有財產權利和資格。

第231條: 同盟國政府證實(承認)並且德國也接受了,德國及其同夥國家應對於戰爭(第一次世界大戰)所給同盟國國家政府及其國民造成的損失和破壞負責,這些損失和破壞被認為是德國和其同夥的侵略戰爭所導致的.....

資料來源:《凡爾賽條約》

4a 根據這份文件,對於第一次世界大戰中所遭受的損失,法國是怎樣被補償的? [1]

Score

b 根據這份文件,對於德國而言,第一次世界大戰的後果是什麼? [1]

Score

文件5

.....國家的邊界是人制定的,也可以被人改變.

一個國家曾經擁有很廣闊的土地的這個事實並不能成爲它[永遠]擁有那些土地的理由。最多只能說,對這份土地的擁有說明了征服者的強大和臣服者的懦弱。而且擁有的權力只存在於征服之中。如果德國人被囚禁在一個令人無法忍受的地區,而且因爲這個原因必須面對一個淒涼的未來。這個不是出於命運的安排,拒絕接受這樣的境遇也絕不是對命運法則的違背。就像上天並沒有給任何其它國家安排比德國更多的土地,所以就沒有理由責備對上天土地分配的不均。我們現在居住的土地並不是上天賜予我們祖先的禮物,而是他們冒著生命的危險征服而來的。因此,我們的人民將來只能用勝利的刀劍的力量去奪取土地,而不是從任何其它民族的恩惠中獲得土地以及與此有關的生存方式.....

資料來源: Adolf Hitler, *Mein Kampf*, Hurst and Blackett Ltd.

5 根據這份文件,希特勒認爲戰爭是必要的一個原因是什麼? [1]

Score

文件6

1945年2月4至11日美國、英國和蘇維埃社會主義共和國聯邦[蘇聯]政府首腦召開的雅爾塔會議得出以下這些結論:

自由歐洲宣言

.....歐洲建立的秩序和重建國家的經濟生活必需通過一些步驟實現,這些步驟將會使解放了的人民消滅納粹和法西斯的[殘餘],且在他們自己的選擇下建立民主的政府。這是《**大西洋憲章**》的一個原則—即所有民族應具有選擇政府形式的權利,並在這個政府統治下,人民將生活下去。並恢復那些被侵略國家強迫奪去的主權和自治權。

波蘭

.....因為紅軍對波蘭的完全解放,新的形勢在波蘭產生了。這就呼籲建立一個比波蘭西部地區解放之前可能建立的根基更廣的波蘭臨時政府。現在正在運作的波蘭臨時政府應該重新組建成一個有更廣民主根基的政府,將波蘭的民主領導人和在國外的波蘭人也都包括在這個新政府中。新的政府應該被稱為“波蘭全國臨時聯合政府.....”

資料來源: *Protocol of the Proceedings of the Crimea (Yalta) Conference, February, 1945* (經改編)

6 根據雅爾塔會議,敘述第二次世界大戰後歐洲被期望朝哪**兩個**方向改變。 [2]

(1) _____

Score

(2) _____

Score

文件7

.....我們在波斯灣的意圖是明確的,我們的目標是清楚的和為人熟知的:

- 伊拉克必須無條件、迅速徹底地退出科威特.
- 必須恢復科威特的合法政府.
- 必須保證波斯灣的安全和穩定.
- 必須保護在國外的美國人.

這些目標不僅僅是我們的目標。幾周以來,這些目標已經得到了聯合國安理會的支持五次了。許多國家都支持我們的原則。波斯灣的穩定與許多國家都有利害關係。這不是像薩達姆·侯賽因所認為的那樣美國在針對伊拉克。而是伊拉克在針對全世界.....

資料來源: 喬治 H.W. 布什總統的演說, 1990年

7 根據這份文件,哪**兩個**原因使布什總統關心1990年的波斯灣地區? [2]

(1) _____


Score

(2) _____

Score

文件8

自1990年時期至2003年的美國和伊拉克的戰爭之前,一些人就在擔心伊拉克和薩達姆·候薩因繼續的行動。



資料來源: Jimmy Margulies, *The Record*, 1998 (經改編)

8 根據1998年的這幅漫畫,波斯灣戰爭的一個非預期的結果是什麼? [1]

Score

B部份

論文

答題說明: 寫一篇條理分明的論文,包括一段引言、幾個段落和一個結論。你的論文應**至少**引用**五份**文件的例證。用相關事實,例子和細節支持你的論點。請包含其它補充資訊。

歷史背景:

縱觀歷史,有許多導致戰爭爆發的不同原因可存在。這些戰爭導致了預期和非預期的結果。

任務: 運用文件中的資訊和你的世界歷史知識,寫一篇文章,並

- 討論導致戰爭爆發的經濟、社會**和/或**政治原因
- 討論戰爭爆發的預期**和**非預期的結果

指南:

在論文中,請務必:

- 完成任務的各個方面
- 在文章中**至少**加入**五份**文件的例證
- 引用相關的外部資訊
- 用相關事實,例子和細節支持主題
- 做到邏輯清楚、條理分明。請包括一段引言和一個結論,但不要簡單地重複主題。

世界歷史和地理

僅限用於2005年6月21日(星期二)上午9時15分至中午12時15分

答題紙

學生.....性別: 男
 女

教師.....

學校.....

第I部份的考題答案應填寫在本答題紙上。第IIIA部份的答案應填寫在考題本上,第II部份和第IIIB部份的答案填寫在另外的申論題考題本上。

1.....	26
2.....	27
3.....	28
4.....	29
5.....	30
6.....	31
7.....	32
8.....	33
9.....	34
10.....	35
11.....	36
12.....	37
13.....	38
14.....	39
15.....	40
16.....	41
17.....	42
18.....	43
19.....	44
20.....	45
21.....	46
22.....	47
23.....	48
24.....	49
25.....	50

FOR TEACHER USE ONLY

Part I Score _____

Part III A Score _____

Total Part I and III A Score

Part II Essay Score _____

Part III B Essay Score _____

Total Essay Score

Final Score (obtained from conversion chart)

No.
Right

當你考試結束之後,必須在以下聲明的下方簽名。

本人在此考試結束之際特此聲明,本人在此考試之前未非法獲得考題內容及答案,並且在考試中,既未向任何人提供幫助,也未從任何人處得到幫助。

簽名

沿此處撕下

沿此處撕下

