

REGENTS HIGH SCHOOL EXAMINATION

世界歷史和地理

僅限用於2007年6月13日（星期三）下午1時15分至4時15分

學生姓名 _____

學校名稱 _____

請以工整字跡在以上直線上填寫你的姓名和學校名稱。然後翻到本考題本的最後一頁，即本考題本的第I部分答題紙。請沿虛線把最後一頁折疊起來，慢慢地小心地將答題紙撕下。然後在你的答題紙上填寫各項擡頭。現在你要在申論題考題本內每頁的擡頭上用工整字跡填寫你的姓名和學校名稱。

本次考試共有三個部分。你必須要回答每一部分的**所有**題目。用黑色或深藍色的水墨原子筆回答。

第I部分包括50道選擇題。請將答案記錄在另外一張答題紙上。

第II部分包括一道以主題為主的申論題。從另一答題本的第1頁起開始回答該申論題。

第III部分是以幾份文件為基礎的：

第IIIA部分包含各種文件。每一文件後有一或一個以上的問題要回答。在本考題本上，將各題的答案寫在各問題後的直線上。請以工整字跡在這一部分的第一頁上填寫你的姓名和學校名稱。

第IIIB部分包含一個以各文件為基礎的申論題。請將申論題的答案寫在申論答題本中，由第7頁開始。

在本次考試結束後，你必須在第I部分的答題紙上簽署聲明，表明你沒有非法得到本考試的試題或答案，在本考試中沒有給予過或接受過任何的幫助。你如果不簽署本聲明，你的答題紙不會被接受。

在本考試中，嚴禁使用任何形式的通訊工具。如果你使用了任何的通訊工具，無論使用多久，你的考試都將無效，並且不會得到任何的分數。

未經指示請勿打開此考題本。

第I部分

請回答本部分的所有問題。

答題說明(1-50)：在另外的答案紙上，根據每一條題目的陳述或問題，在所給答案中選擇最恰當的詞或詞句，並在另外的答題紙上寫下代表該答案的**編號**。

請根據下圖及你的社會學知識回答第1題。



資料來源：Charles F. Gritzner, *Exploring Our World, Past and Present*, D. C. Heath and Company (經改編)

1 這幅地圖的主要目的是要說明哪個位置？

- (1) 海外貿易路線
- (2) 早期信仰體系
- (3) 河谷文明
- (4) 古代統治者墓葬遺址

2 哪類社會科學家專門研究如資源的缺乏及物品的供應的問題？

- (1) 人類學家
- (2) 社會學家
- (3) 經濟學家
- (4) 考古學家

3 在自然地圖上最有可能顯示哪項特徵？

- (1) 人口密度
- (2) 植被帶
- (3) 氣候
- (4) 山脈

4 哪個社會實施了直接民主？

- (1) 古代雅典
- (2) 中國朝代
- (3) 笈多帝國
- (4) 早期埃及

5 印度種姓制度的特點是

- (1) 容忍不同的宗教信仰
- (2) 男女平等
- (3) 缺乏社會流動
- (4) 人民有權選擇自己的職業

6 哪個信仰跟儒家哲學有最密切的關聯？

- (1) 涅槃
- (2) 輪迴
- (3) 祈禱
- (4) 孝道


7 在十字軍東征期間，大軍長途拔涉的一個結果是什麼？

- (1) 歐洲的人口嚴重下降。
- (2) 民主在中東增長。
- (3) 文化傳播增加。
- (4) 奴隸制度被淘汰。

8 君士坦丁堡在13世紀是一個欣欣向榮的城市，主要是因為它在以下重要商路間的位置

- (1) 中國及南非
- (2) 大西洋及波羅的海
- (3) 印加帝國及阿茲特克帝國
- (4) 亞洲及東歐

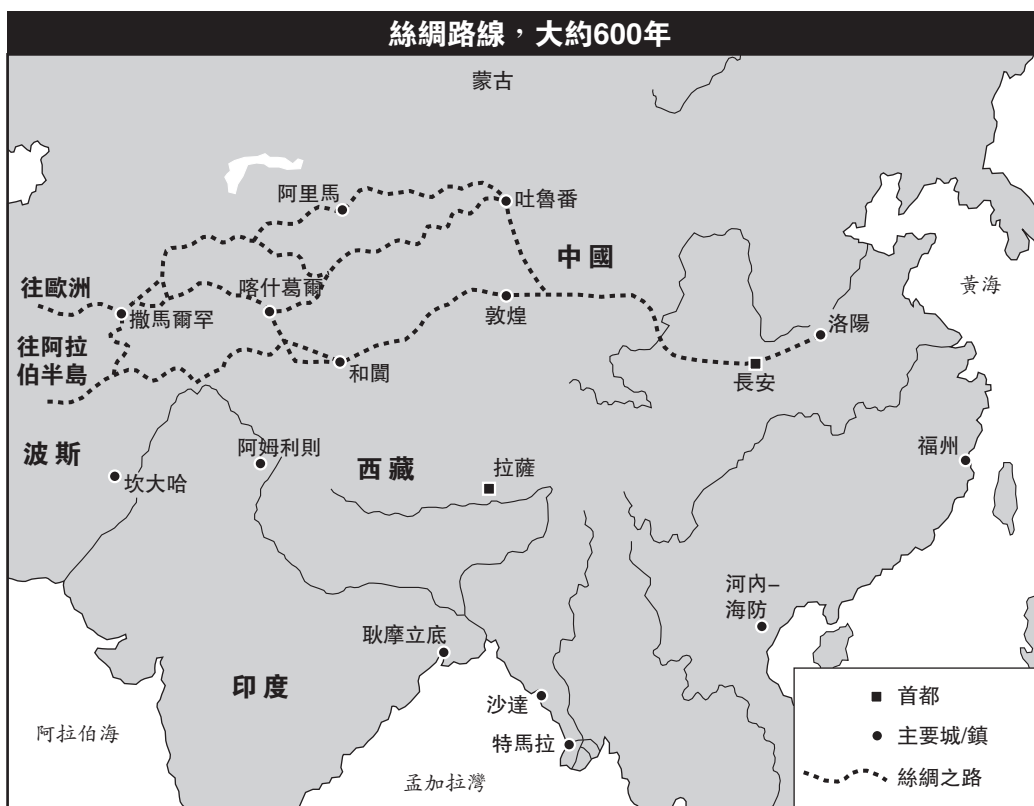
請根據下面的照片及你的社會學知識，回答第9題。



9 這些建築成就最佳表明

- (1) 早期文明具有先進科技
- (2) 宗教微不足道
- (3) 娛樂對這些古代社會是重要的
- (4) 中國及美洲之間所存在的貿易路線

請根據下面的地圖及你的社會學知識，回答第10題。

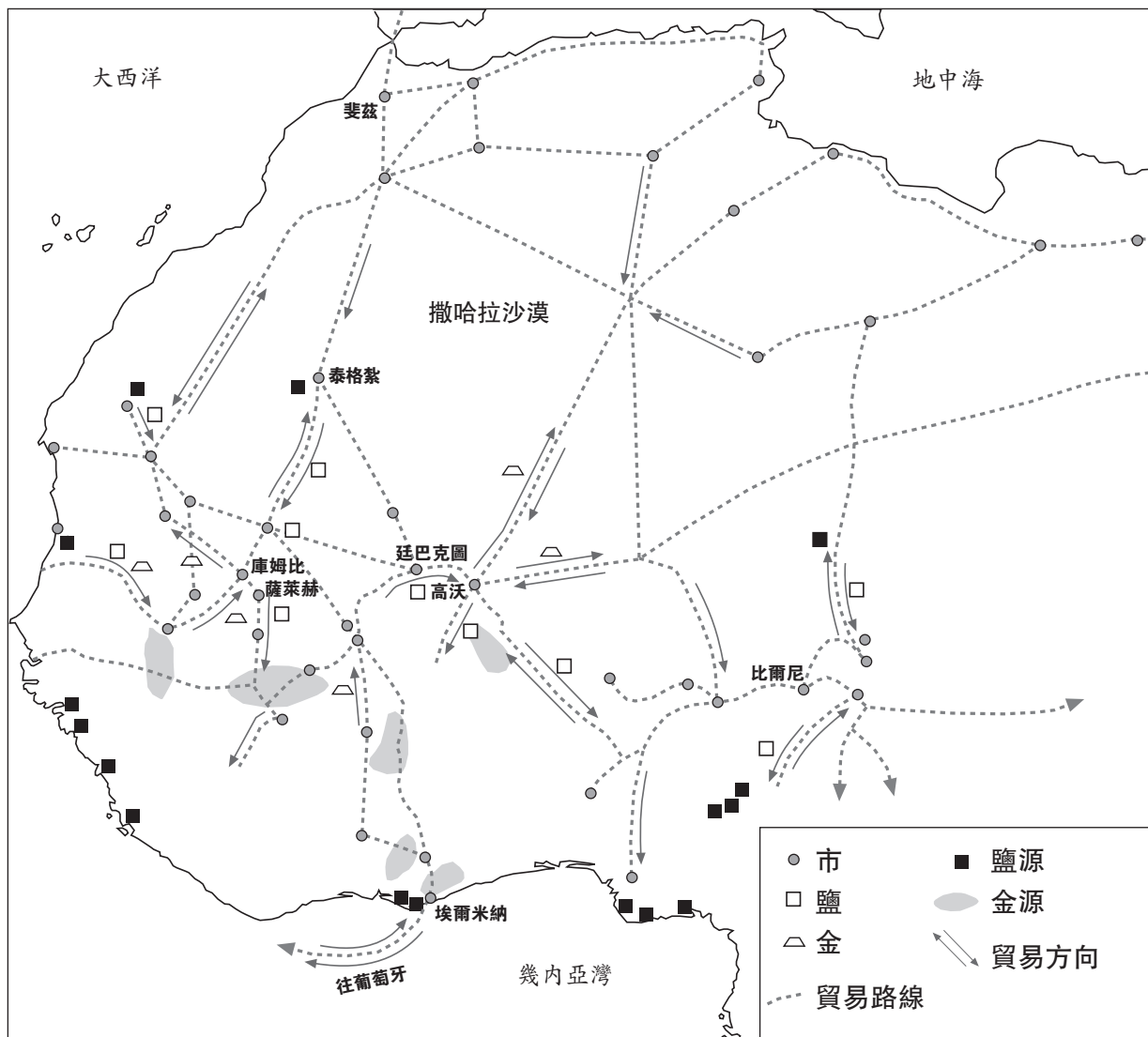


10 這幅地圖顯示絲綢之路

- (1) 越過非洲及亞洲
- (2) 主要是位於亞洲
- (3) 沿着單一路線
- (4) 始於和闐

請根據下面的地圖及你的社會學知識，回答第11題。

西非，800年–1500年



資料來源：Patrick K.O'Brien, ed., *Oxford Atlas of World History*, Oxford University Press (經改編)

11 根據地圖，對這個地區能夠得出哪個最好的結論？

- (1) 撒哈拉沙漠作為貿易障礙。
- (2) 河流作為整個地區的主要貿易路線。
- (3) 地區的經濟受到廣泛的貿易聯繫所影響。
- (4) 貨物從幾內亞灣直接與英格蘭的城市作交換。

12 武士道、武士及大名的說法，與日本歷史中的哪個組織有最密切的關聯？

- (1) 帝王
- (2) 勇士
- (3) 農民
- (4) 商人

13 在1453年，奧斯曼帝國上台打敗了

- (1) 神聖羅馬帝國
- (2) 歐洲十字軍
- (3) 拜占庭帝國
- (4) 蒙古人入侵

請根據下面的地圖及你的社會知識，回答第14題及第15題。



資料來源：American History, Historical Outline Map Book, Prentice Hall (經改編)

14 哪個英文字母顯示在安第斯山區有許多印加人定居？

- (1) A (3) C
(2) B (4) D

15 英文字母C顯示這個拉丁美洲的地區被哪國人殖民統治？

- (1) 荷蘭人 (3) 英國人
(2) 葡萄牙人 (4) 法國人

16 • 在1515年，教皇利奧(Leo)授權出售贖罪卷
• 在1517年，馬丁·路德(Martin Luther)公佈九十五條論文

這些事件與什麼有最密切的關聯？

- (1) 基督新教改革
(2) 十字軍東征
(3) 理性時期
(4) 清教徒革命

17 約翰·洛克(John Locke)對哲學思想啓蒙的一個貢獻是

- (1) 應該繼續絕對君主制
(2) 處罰應該符合罪行
(3) 個人權利應受拒絕
(4) 政府應該基於人民的允許

18 光榮革命的主要結果是什麼？

- (1) 拿破崙(Napoleon)恢復權力。
(2) 英格蘭進一步限制君主制。
(3) 奧利佛·克倫威爾(Oliver Cromwell)成為英格蘭的領袖。
(4) 西班牙艦隊戰敗。

19 一份對19世紀拉丁美洲革命的研究顯示

- (1) 宗教是引發衝突的主要起因
(2) 在西班牙半島出生的人率領大部分的拉丁美洲人起義
(3) 民族主義對結局的影響不大
(4) 北美及歐洲的事件影響了拉丁美洲的人民

20 工業革命在英格蘭開始的一個重要原因是，英格蘭擁有

- (1) 平緩的海岸線
(2) 豐富的煤及鐵資源
(3) 許多瀑布
(4) 眾多山脈

21 在19世紀40年代後期，愛爾蘭大量飢荒的直接後果是什麼？

- (1) 綠色革命向愛爾蘭擴大
(2) 愛爾蘭接受英國的統治
(3) 許多愛爾蘭移民到其他國家
(4) 愛爾蘭混合經濟的建立

22 哪位與統一德國相關的短語**血及鐵**有聯繫？

- (1) 奧托·馮·俾斯麥(Otto von Bismarck)
(2) 吉賽貝·加里波第(Giuseppe Garibaldi)
(3) 凱撒·威廉二世(Kaiser Wilhelm II)
(4) 卡米洛·迪·加富爾伯爵(Count Camillo di Cavour)

23 社會達爾文主義者最有可能支持哪個說法？

- (1) 普選權是一個基本的人權。
- (2) 政治平等加強政府的成效。
- (3) 較強的群體有權統治及控制較弱的群體。
- (4) 應該保證社會的所有成員接受公共教育。

24 斯波伊叛變及義和團叛亂之間的一個相似之處是，他們都

- (1) 反對歐洲帝國主義
- (2) 結束一個已確立的王朝
- (3) 導致土地再分配
- (4) 建立共產政權

25 第一次世界大戰的直接結果是什麼？

- (1) 尼古拉二世(Nicholas II)被命名為俄國沙皇。
- (2) 德國喪失了在非洲及亞洲的殖民地。
- (3) 弗朗茨·斐迪南大公(Archduke Franz Ferdinand)被恐怖分子暗殺。
- (4) 擴展了奧斯曼帝國。

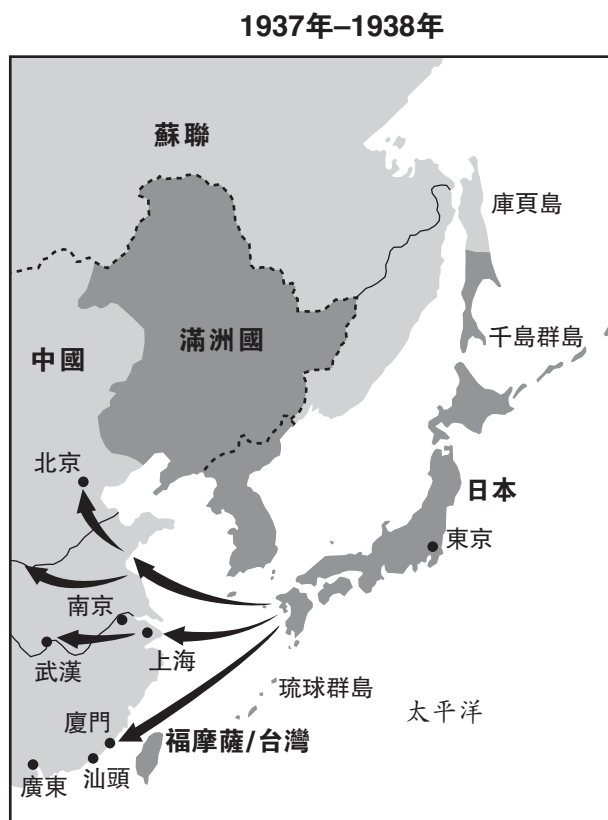
26 有關俄羅斯的布爾什維克革命以及法西斯主義在德國和意大利的崛起，哪個陳述是正確的？

- (1) 經濟條件導致政治改變。
- (2) 工業化阻礙國家發展。
- (3) 以和平的方式實現目標。
- (4) 共產主義者的理想激起兩場運動。

27 平息主義一詞最佳定義為

- (1) 為了避免衝突而滿足侵略者需求的企圖
- (2) 和平及繁榮的時期帶來文化成就
- (3) 兩個或多個國家之間的宣戰
- (4) 清除國與國之間經濟障礙的協議

請根據下面的地圖及你的社會學知識，回答第28題。



28 這幅地圖最恰當的標題是什麼？

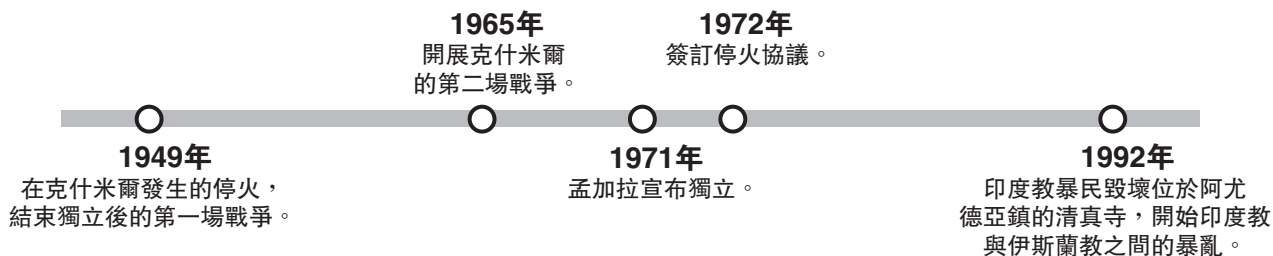
- (1) 滿洲國的統治
- (2) 日本帝國的擴張
- (3) 東亞的貿易路線
- (4) 中國及日本的自然資源

29 「墨索里尼襲擊埃塞俄比亞」(1935年)
「德國取回萊茵蘭」(1936年)
「德國及俄羅斯划分波蘭」(1939年)

這些標題可以用來說明哪個軟弱？

- (1) 聯合國
- (2) 維也納會議
- (3) 華沙條約
- (4) 國際聯盟

請根據以下的時間線及你的社會學知識，回答第30題。



30 哪些國家曾經最直接參與該時間線內所描述的事件？

- (1) 蒙古及中國
- (2) 印度及巴基斯坦
- (3) 緬甸及泰國
- (4) 柬埔寨及老撾

31 哪個共產主義國家與胡志明的領導及西貢的投降有最密切的關聯？

- (1) 北韓
- (2) 蘇聯
- (3) 越南
- (4) 中華人民共和國

32 1980年的波蘭團結工會及1989年的中國天安門廣場抗議者，兩者的一個相似之處在於

- (1) 對民主運動的支持
- (2) 成功結束了共產主義
- (3) 鼓勵蘇聯的軍事佔領
- (4) 主張增加軍費

33 香港的地位在1997年7月改變了，當這個城市

- (1) 回歸了中國
- (2) 封閉了國際貿易
- (3) 成爲了一個獨立國家
- (4) 採取了資本主義經濟

34 米哈伊爾·戈爾巴喬夫(Mikhail Gorbachev)的改革及新思維導致了

- (1) 世界和平及蘇聯繁榮的時代
- (2) 幫助導致了蘇聯瓦解的條件
- (3) 俄羅斯計劃經濟的成功轉型
- (4) 對俄羅斯新聞媒體的審查

35 奧古斯托·皮諾契特(Augusto Pinochet)、薩達姆·侯賽因(Saddam Hussein)及斯洛博丹·米洛舍維奇(Slobodan Milosevic)是哪個政府的範例？

- (1) 絕對君主制
- (2) 壓迫性政權
- (3) 民主共和國
- (4) 伊斯蘭神權國家

36 戰爭、宗教衝突及天災的一個相似之處，在於這些情況都可能會導致

- (1) 大規模的人口遷移
- (2) 經濟穩定
- (3) 預期壽命的增加
- (4) 全球變暖

請根據下面的段落及你的社會學知識，回答第37題及第38題。

……首先，我們要平等的政治權利，因為如果沒有，我們將會永久無力。我知道對這個國家的白人來說聽起來很有革命性，因為多數選民將會是非洲人。這樣會造成白人恐懼民主。

可是，不能允許這個畏懼阻擋保證種族和諧及全民自由的唯一途徑。全民選舉權[表決權]將導致種族統治的說法是不正確的。基於膚色的政治分歧完全是人為的，一旦消失，一個膚色的種族統治另一個膚色的種族也會消失。ANC[非洲國民會議]花了半個世紀反對種族主義。一旦勝利時，他們也不會改變這個政策……

— 納爾遜·曼德拉(Nelson Mandela)，
里馮尼阿審判的演說，1964年

37 這段文字描述了非洲國民會議反對

- (1) 復興殖民主義
- (2) 各部落之間互相對抗
- (3) 實行種族隔離
- (4) 建立一個聯合政府


38 這段文字可以支持哪個概括？

- (1) 南非的種族主義已經消失。
- (2) 非洲國民會議改變了其社會目標。
- (3) 賦予非洲黑人的投票權，將會導致種族統治。
- (4) 納爾遜·曼德拉(Nelson Mandela)反對基於膚色的政治分歧。

39 金正日(Kim Jong Il)及菲德爾·卡斯特羅(Fidel Castro)是21世紀的領導者，他們都相信誰的思想？

- (1) 卡爾·馬克思(Karl Marx)
- (2) 亞當·斯密夫(Adam Smith)
- (3) 悉達多·喬答摩(Siddhartha Gautama)
- (4) 讓·雅克·盧梭(Jean-Jacques Rousseau)

請根據下面的漫畫及你的社會學知識，回答第40題及第41題。



資料來源：Jeff Koterba, *Omaha World Herald*, 2003 (經改編)

40 這幅2003年的漫畫的主要思想是什麼？

- (1) 解決和平之路存在著一些問題。
- (2) 科林·鮑威爾(Colin Powell)移除了和平的絆腳石。
- (3) 兩個組織已經在和平之路的地圖上達成協議。
- (4) 和平之路已經精心繪製。

41 該幅2003年的漫畫說明巴勒斯坦人與什麼人之間的鬥爭？

- (1) 伊拉克人
- (2) 哈馬斯人
- (3) 埃及人
- (4) 以色列人

42 哪個標題最能完成下面的部分綱要？

- I. _____
- A. 統一意大利
 - B. 組成印度國民會議
 - C. 成立穆斯林聯盟
 - D. 瓦解奧地利—匈牙利

- (1) 冷戰的緊張局勢
- (2) 國家主義的影響
- (3) 第二次世界大戰的起因
- (4) 經濟改革的成果

- 43 A. 十字軍東征
B. 羅馬帝國的衰敗
C. 希臘的黃金時代
D. 文藝復興

哪個英文字母的排序是這些事件按時間先後的正確序列？

- (1) A → B → C → D
(2) D → C → B → A
(3) C → B → A → D
(4) C → D → B → A
- 44 阿索卡(Asoka)、曼薩穆薩(Mansa Musa)及偉大的蘇萊曼(Suleiman the Magnificent)的一個相似之處是，他們都
- (1) 建立了共和國
(2) 領導了民族主義運動
(3) 在繁榮時期統治
(4) 阻止科學進步

請根據下面的段落及你的社會學知識，回答第45及46題。

……上帝的力量可以在瞬間從世界的一端感覺到另一端：皇家權力同時刻表現在整個王國之上。它擁有整個王國就像上帝擁有全世界。

如果上帝縮回他的手，整個世界將會變回一無所有：如果王國終止了權威，一切將會陷入混亂之中……

— 雅克·貝尼涅博(Jacques-Benigne Bossuet)主教

45 這段文字描述什麼思想？

- (1) 神權統治
(2) 議會制民主
(3) 馬克思主義
(4) 極權主義

46 這段文字與哪個歷史時期有最密切的關聯？

- (1) 工業革命
(2) 農業革命
(3) 帝國主義時代
(4) 專制主義時代

請根據下面的漫畫及你的社會學知識，回答第47題。

資本主義將會打倒俄羅斯！



資料來源: Student Artwork, Shaneekwa Miller, Fashion Industries High School (經改編)

47 這幅漫畫描繪哪段歷史？

- (1) 工業革命
(2) 啟蒙時代
(3) 帝國主義時代
(4) 冷戰

48 哪種情況最佳描述孤立主義的概念？

- (1) 西班牙政府要求在其殖民地發現的黃金直接帶到西班牙。
(2) 日本關閉了與其他國家進行貿易的口岸。
(3) 法國、德國、比利時及英國談判分割非洲多個地區成為殖民地。
(4) 英國通過地方統治者來統治印度的許多地方。

49 「轟炸、彈幕、火幕、地雷、毒氣、坦克、機槍、手榴彈，這些雖只是文字，卻令世界變得恐怖。」

— 埃里希·瑪麗亞·雷馬克(Erich Maria Remarque)，
西線無戰事

這個語錄最佳描述什麼影響？

- (1) 第一次世界大戰期間使用的科技發展
- (2) 在第二次世界大戰組成的聯盟
- (3) 在冷戰期間，超級大國之間的緊張局勢
- (4) 在印度獨立運動期間對改革的抗議

50 西蒙·玻利瓦爾(Simón Bolívar)及喬莫·肯雅塔(Jomo Kenyatta)領導的一個相似之處是，兩位領袖都

- (1) 促進歐洲管制美洲
- (2) 在各自的國家成為宗教領袖
- (3) 控制美洲的大面積土地
- (4) 從歐洲的控制中爭取獨立

所有申論短文題的答案都應填寫在另外的答題本上。

在回答第II部分的問題時，請注意以下一般性定義：

- (a) **描述**指“用文字闡述或講述”
- (b) **解釋**指“使其清楚或可理解，舉出原因或起因；顯示邏輯發展或彼此關係”
- (c) **論述**指“透過事實、推理及論證闡述觀點；具體地說明某事”

第II部分

主題論述題

答題說明：撰寫一篇條理分明的短文，包含引言、與下列任務相關的幾個段落、以及結論。

主題：政治改變

政府經常執行政策，力圖改變社會。

任務：

從世界歷史中選擇**一個**政府試圖改變社會的範例

- 描述政府想要帶來的改變
- 解釋政府進行這個改變的原因
- 描述政府試圖帶來這個變化所執行的一**個**具體政策
- 討論這個改變所成就的程度

你可以運用從你所學的世界歷史中，有關政治改變的任何範例。你可能希望考慮有些建議，包括加強在曼薩·穆薩統治下的馬里帝國、亨利八世改革英格蘭、俄羅斯在彼德大帝的統治下西方化、羅伯斯庇爾領導下的法國大革命恐怖時期、日本在明治天皇統治下的明治維新、土耳其阿塔圖爾克統治下的現代化、蘇聯約瑟夫·斯大林的五年計劃、意大利貝尼托·墨索里尼統治下的法西斯主義，以及查韋斯統治下的委內瑞拉石油政策。**你不必局限於這些建議，你在答案中不可引用毛澤東或鄧小平領導下的社會主義作為政治改變的範例。**

你在答案中不可引用美國政治改變的範例。

指南：

在你的申論短文中，請務必：

- 完成任務的各個方面
- 引用相關事實、例證及詳細資料來支持主題
- 須合乎邏輯、條理分明，包括引言和結論，切勿重複主題

在回答第III部分的問題時，請注意以下一般性定義：

- (a) 描述指「用文字闡述或講述」
- (b) 論述指「透過事實、推理及論證闡述觀點；具體地說明某事」

第III部分

歷史文件題

本問題是基於隨附的文件。該問題是為了測驗你運用歷史文件的能力而設計的。在編寫本問題時，其中有些文件是經過修改的。當你分析文件時，請參考每份文件的來源及文件中所論述的任何觀點。

歷史背景：

縱貫歷史，不同的經濟制度影響特定的國家、地區及人民。這些制度包括中世紀西歐的**莊園制度**、拓荒時代的**重商主義**及第二次世界大戰後中國的**共產主義**。

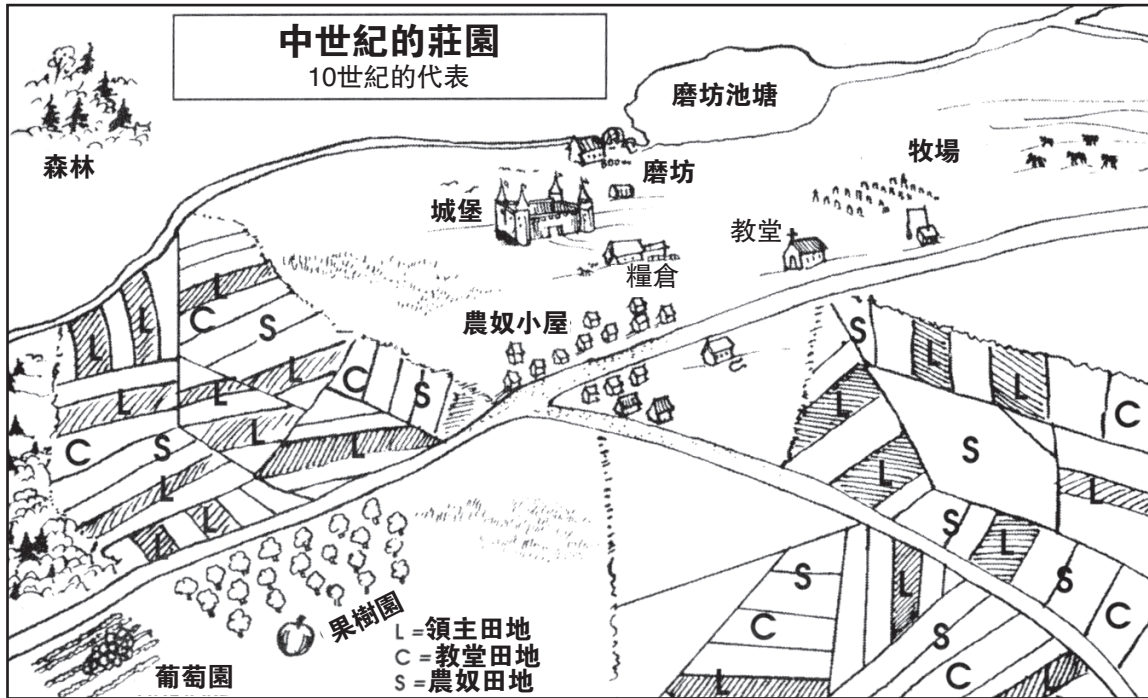
任務：運用文件中的資訊及你的世界歷史知識，回答A部分中每份文件後面的問題。你對這些問題的回答將有助於你撰寫B部分的短文，你將被要求：

- 選擇歷史背景中提到的**兩個**經濟系統，並**逐一**
- 描述經濟系統特徵
 - 討論經濟系統對某個國家**或**地區**或**一群人的影響

A部分 簡答題

答題說明：分析以下文件，在空白處簡要地回答每份文件後的問題。

文件1



資料來源：Kime and Stich, *Global History and Geography*, STARReview, N & N Publishing Company

1 根據這幅圖片，指出中世紀的莊園的一個經濟特點。 [1]

Score

文件2

莊園的佃戶欠了領主之勞役。以下列舉了一些勞役。

……用一輛推車及兩頭牛攜帶糞肥兩天，然後跟以前一樣領取食物[每天三餐]；
找一個男子割草兩天得到上述的食物；據估計，他兩天可以割一畝半的草；
收集及堆高已割好的乾草，每個男子得到兩餐；
用一輛推車及三個佃戶自己的牲畜給領主運乾草一天，跟以往一樣得到三餐；
在秋天扛豆子或燕麥兩天，在夏天扛木材兩天，以同樣的方式得到同樣的食物……

資料來源：S. R. Scargill-Bird, ed., *Custumals of Battle Abbey in the Reigns of Edward I and Edward II (1283–1312)*, The Camden Society (經改編)

2a 根據*Custumals of Battle Abbey*一書，指出領主在莊園制度下得到的一個好處。 [1]

Score

b 根據*Custumals of Battle Abbey*一書，指出佃戶在莊園制度下得到的一個好處。 [1]

Score

文件3

……必然地，鑑於當時的運輸極其困難，莊園是一個自給自足的經濟單位。國際貿易僅為有錢人的需求提供服務，而且它主要掌握在外國人[不同民族]——希臘人、猶太人及穆斯林的手中。當地社會幾乎沒有使用金錢的需要。至於當地的交換以易貨方式進行。少量的國際貿易需要消除了[排除了]對黃金硬幣的需要。卡羅林王朝只鑄銀幣，這就已經足夠了，因為那時最少的銀幣就可以買一頭牛。當需要金幣時，則使用拜占庭及穆斯林貨幣……

資料來源：Norman F. Cantor, *The Civilization of the Middle Ages*, Harper Perennial

3 根據諾曼·康托(Norman Cantor)，莊園制度影響歐洲經濟的**兩個**途徑是什麼？ [2]


(1) _____

Score

(2) _____

Score

重商主義者為殖民擴張而爭論

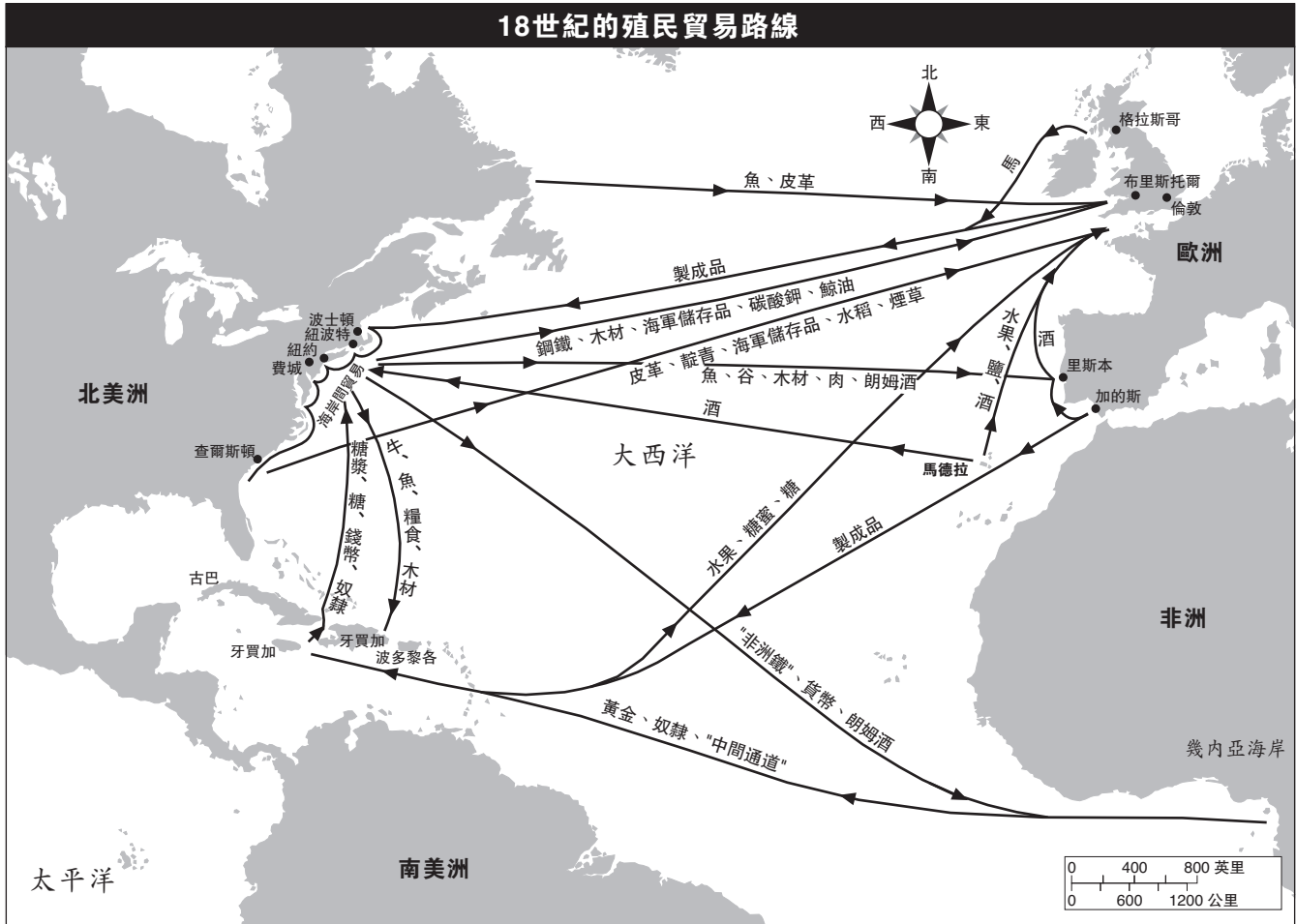


資料來源：Philip Dorf, *Our Early Heritage: Ancient and Medieval History*, Oxford Book Company (經改編)

4 根據飛利浦·多夫 (Philip Dorf) 的這幅漫畫，從母國的觀點來看，重商主義的一個特徵是什麼？ [1]

Score

文件5



資料來源：Historical Maps on File, Revised Edition (經改編)

5 根據這幅地圖，指出大西洋貿易的一個影響。 [1]

Score

文件6

這是摘自一封由米雪·索里亞諾約 (Michele Soriano) 寫於1559年的信件，關於西班牙及其在美洲的殖民地互相影響。

……從新西班牙獲得金銀、胭脂蟲紅(象蒼蠅一樣的小昆蟲)，用來製作鮮紅染料，皮革、棉花、食糖等；但從秘魯除了礦產之外沒有得到其他東西。全部所產的五分之一歸國王，但由於金銀送到西班牙，他有十分之一送到造幣廠經過精煉和製幣，他最終獲得總數的四分之一，四分之一不超過四十或五十萬達克特，雖然據估計不下於百萬，而是數百萬英鎊。也不是可能會長期維持在這個數目，因為大量的金銀已不像過去一樣在地球表面上被發現；而透入地球的深處需要更大的努力、技巧及支出，西班牙人不願意自己工作，也不能強迫當地人去做，因為當他們接受基督教後，皇帝就已經免除了他們的任何義務。因此有必要購買黑人奴隸[奴役非洲人]，他們來自非洲海峽內外的沿海區，而這些人每天都是賣得更昂貴[更貴]，原因在於他們[奴役非洲人]天性乏力及氣候變化，加上主人對他們缺乏謹慎[照顧]，讓他們工作太辛苦、給他們吃太少，他們生病，並且大部分人死亡……

資料來源：Merrick Whitcomb, ed., "The Gold of The Indies — 1559," *Translations and Reprints from the Original Sources of European History*, The Department of History of the University of Pennsylvania

6 根據米雪·索里亞諾約 (Michele Soriano)，金銀對西班牙的**一個**影響是什麼？ [1]

Score

文件7

這是摘自1954年《中華人民共和國憲法》第一章，總則。

第1條 中華人民共和國是工人階級領導的，以工農聯盟為基礎的人民民主國家。

第6條 國營經濟是全民所有制的社會主義經濟，是國民經濟中的領導力量和國家實現社會主義改造的物質基礎。國家保證優先發展國營經濟。

礦藏、水流，由法律規定為國有的森林、荒地和其他資源，都屬於全民所有。

第7條 合作社經濟是勞動群眾集體所有制的社會主義經濟，或者是勞動群眾部分集體所有制的半社會主義經濟。勞動群眾部分集體所有制是組織個體農民、個體手工業者和其他個體勞動者走向勞動群眾集體所有制的過渡形式……

資料來源：*Constitutions of Asian Countries*, N. M. Tripathi Private

7 根據這些《中華人民共和國憲法》的條目，列出中國社會主義制度的**兩個**特色。 [2]

(1) _____

Score

(2) _____

Score

文件8

在試圖突破俄羅斯共產主義模式及趕超發達國家的過程中，毛澤東提出中國需要進行現代化的“大躍進”。他開始了激進的五年計劃，推廣技術及農業的自給自足。一夜之間，肥沃的稻田都被耕過了，工廠開始興建。密集型勞動及大規模的集體化耕作都被推行。運動創造了約23,500個公社，每個控制自己的生產方式。但以前的農民不知如何使用新工廠，那麼，把曾經肥沃的土地變成災難性荒地。大躍進負上1960年及1961年飢荒的責任。兩千萬人餓死，毛澤東暫時撤離公眾場合。

資料來源：BBC News, Special Reports, China's Communist Revolution

8 根據這則BBC新聞，大躍進對中國經濟的一個影響是什麼？ [1]

Score

文件9

這是摘自鄧小平於1987年6月12日「我們應該加快改革」的演說。

……中國正進行改革，我完全贊成。我們別無其他辦法。經過多年的實踐，原來舊東西是不行的。過去我們機械地照抄外國的模式，只能阻礙[阻擋]我國生產力的發展，導致[造成]人們思想僵化，阻止基層單位採取任何主動。我們自己亦作了一些失誤，例如我們自己發明的大躍進、文化大革命[毛澤東的政策]。我會說，自1957年，我們的重大失誤是“左傾”。文革是極左的錯誤。實際上，在過去從1958年到1978年這二十年間，中國仍處於停頓狀態。幾乎沒有經濟增長，人民的生活水平也沒有多少提高。我們怎能不引入改革而繼續這樣下去？因此，在1978年召開的第十一屆中央委員會第三次全體會議上，我們制定了新的基本政治路線：以現代化建設為首位及致力發展生產力。按照這個路線，我們制定了一系列新的政策方針，主要是改革及開放政策。我們的意思是全面的改革，包括經濟體制及政治體制的改革，以及相應在其他各個領域上的變化。我們開放政策的意思是包括對所有其他國家開放，不論[無論]其社會制度，以及對內開放，這意味著國內的經濟振興[加快]……

資料來源：Deng Xiaoping, *Fundamental Issues in Present-Day China*, Foreign Languages Press, 1987

9 根據鄧小平的演說，毛澤東的經濟政策對中國的影響有哪**兩種**方式？ [2]

(1) _____

Score

(2) _____

Score

B部分 申論短文題

答題說明： 撰寫一篇條理分明的短文，包含引言、幾個段落和結論。引述取自最少**四個**文件中的證據來支持你的回答。使用相關事實、事例、和細節論證你的回覆。包括其他的外部資訊。

歷史背景：

縱觀歷史，不同的經濟制度影響了特定的國家、地區及人民。這些制度包括中世紀西歐的**莊園制度**、拓荒時代的**重商主義**及第二次世界大戰後的中國**共產主義**。

任務： 運用文件的資訊和你對世界歷史的知識，撰寫一篇短文，在短文中

選擇歷史背景中所提到的**兩種**經濟制度，並**逐一**

- 描述經濟體制的特徵
- 討論經濟體制對某一國家**或**地區**或**一群人的影響

指南：

在你的短文中，請務必：

- 發展任務的各個方面
- 在短文中**至少**綜合**四份**文件的資訊
- 綜合相關的外部資訊
- 引用相關事實、例證及詳細資料來支持主題
- 做到邏輯清楚，條理分明；請包括一段引語和一項結論，但不要簡單地重複主題

世界歷史和地理

僅限用於2007年6月13日（星期三）下午1時15分至4時15分

答題本

學生姓名.....性別： 男
 女

教師姓名.....

學校名稱.....

第I部分的考題答案應填寫在本答題紙上。第IIIA部分的答案應填寫在考題本上，第II部分和第IIIB部分的答案填寫在另外的申論題答題本上。

- 1..... 26.....
- 2..... 27.....
- 3..... 28.....
- 4..... 29.....
- 5..... 30.....
- 6..... 31.....
- 7..... 32.....
- 8..... 33.....
- 9..... 34.....
- 10..... 35.....
- 11..... 36.....
- 12..... 37.....
- 13..... 38.....
- 14..... 39.....
- 15..... 40.....
- 16..... 41.....
- 17..... 42.....
- 18..... 43.....
- 19..... 44.....
- 20..... 45.....
- 21..... 46.....
- 22..... 47.....
- 23..... 48.....
- 24..... 49.....
- 25..... 50.....

FOR TEACHER USE ONLY

Part I Score _____

Part III A Score _____

Total Part I and III A Score

Part II Essay Score _____

Part III B Essay Score _____

Total Essay Score

Final Score (obtained from conversion chart)

No.
Right

當你考試結束之後，必須在以下聲明的下方簽名。

本人在此考試結束之際特此聲明，本人在此考試之前未非法獲得考題內容及答案，並且在考試中，既未向任何人提供幫助，也未從任何人處得到幫助。

簽名

沿此虛線撕下

沿此虛線撕下

