

REGENTS HIGH SCHOOL EXAMINATION

世界歷史 和地理

僅限用於2010年6月15日(星期二)下午1時15分至下午4時15分

學生姓名 _____

學校名稱 _____

請用工整字跡在以上直線上填寫你的姓名和學校名稱。然後翻到本考題本的最後一頁，即本考題本的第I部分答題紙。請沿齒孔線把最後一頁摺疊起來，慢慢地小心地將答題紙撕下。然後在你的答題紙上填寫各項抬頭。現在請用工整字跡在論文的每一頁填寫你的姓名和學校名稱。

本次考試共有三個部分。你必須要回答每一部分的**所有**題目。用黑色或深藍色的水墨原子筆回答。

第I部分包括50道選擇題。請將答案記錄在分開的答題紙上。

第II部分包括一道以主題為主的論文題。請在論文本上寫下你對這個問題的答案，從第1頁開始。

第III部分基於幾份文件：

第III A部分包含這些文件。每一文件後有一個或一個以上的問題要回答。在本考題本上，將各題的答案寫在各問題後的直線上。請務必在這部分的第一頁上填寫你的姓名和學校名稱。

第III B部分包含一個基於這些文件的論文題。請在論文本上寫下你對這個問題的答案，從第7頁開始。

在你答完題後，你必須簽署印在第I部分的答題紙上的聲明，表明你沒有非法得到本考試的試題或答案，而且在本考試中也沒有給予過或接受過任何的幫助。你如果不簽署本聲明，你的答題紙不會被接受。

在本考試中，嚴禁使用任何形式的通訊工具。如果你使用了任何的通訊工具，無論使用多久，你的考試都將無效，而且不會得到任何的分數。

未經指示請勿打開本考題本

第I部分

請回答本部分的所有問題。

答題說明(1-50)：根據每一條題目的陳述或問題，在所給答案中選擇最恰當的詞或詞句，把代表該答案的編號寫在分開的答題紙上。

1 哪一種文件可視為原始資料？

- (1) 百科全書上的文章
- (2) 現代的教科書
- (3) 傳記
- (4) 個人通信記錄

2 哪個標題最能完成以下的部分大綱？

- I. _____
- A. 位於火山和地震活動頻繁的地區
 - B. 礦物資源有限
 - C. 人口集中在海岸平原

- (1) 日本的地理特徵
- (2) 蒙古在環境上的挑戰
- (3) 沙特阿拉伯所面臨的經濟問題
- (4) 影響英國工業化的各種因素

3 新石器時代的哪個發展帶動了其它三個發展？

- (1) 複雜的文明
- (2) 食物過剩
- (3) 分工制度
- (4) 植物的栽培和動物的馴養

4 • 恆河對於信仰印度教的人而言是神聖的。
• 神道教的寺廟通常位於山或湖的附近。
• 約旦河是許多基督教徒受洗之處。

這些基於信仰體系的陳述而得出的哪個結論最可信？

- (1) 中東是這些信仰體系的誕生地。
- (2) 水在這些信仰體系中佔有重要地位。
- (3) 這些信仰體系都鼓勵人們到山區去朝聖。
- (4) 這些信仰體系都要求人們了解大自然。

依據下圖和你的社會學知識來回答第5題。



資料來源: Wilson G. Turner, *Maya Designs*,
Dover Publications

5 這張瑪雅的藝術作品最清楚地顯示了哪個文明要素？

- (1) 都市化
- (2) 教育制度
- (3) 法律規則
- (4) 社會階級

6 以下哪些成就與中國的唐代和宋代最密切相關？

- (1) 車輪和馬鐙
- (2) 契南帕耕作法(chinampas)和曆法
- (3) 火藥和活字木刻印刷術
- (4) 馬賽克磚和圓頂建築

7 韓國往往作為哪兩種文化之間的橋樑？

- (1) 柬埔寨和越南
- (2) 俄羅斯和印度
- (3) 泰國和印尼
- (4) 中國和日本

8 哪個機構是中世紀西歐的主要凝聚力？

- (1) 立法院
- (2) 教會
- (3) 君主
- (4) 軍隊

依據以下地圖和你的社會學知識來回答第9題。

羅馬世界的新加入者，約公元526年



資料來源: Lim and Smith, *The West in the Wider World, Sources and Perspectives*, Vol. 1, Bedford/St. Martin's (經改編)

9 由這張地圖上的資料可得出哪個有關公元526年羅馬的結論？

- (1) 高盧人支配了地中海的貿易。
- (2) 羅馬是整個西部地區的首都。
- (3) 東部地區由拜占庭帝國統一。
- (4) 東西羅馬是以天然界線劃分的。

10 馬丁路德建議基督教會改用哪種做法？

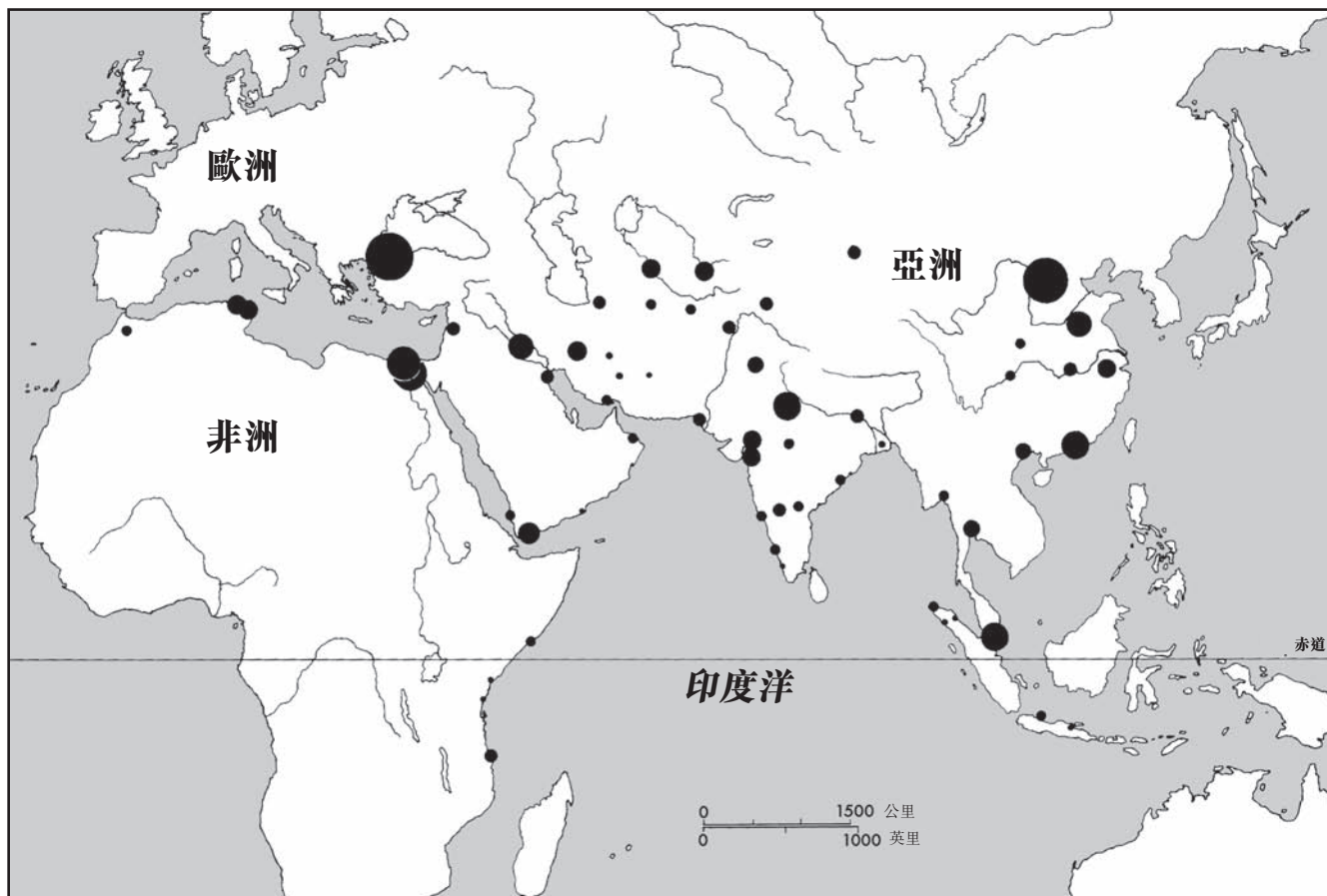
- (1) 增加贖罪券的銷售
- (2) 在教堂內設置聖人的塑像
- (3) 以拉丁文做彌撒，好讓信徒學習
- (4) 以地方語言印製聖經，讓所有人都能閱讀

11 西非文明進行的跨撒哈拉貿易，主要是以什麼交易為基礎？

- (1) 黃金與鹽
- (2) 象牙與絲綢
- (3) 銀與茶
- (4) 硬木與獸皮

依據以下地圖和你的社會學知識來回答第12題。

都市化的模式：首位[一級]和次級城市，650 - 1500年



資料來源: K.N. Chaudhuri, *Trade and Civilization in the Indian Ocean*, Cambridge University Press (經改編)

12 依據此地圖所提供的資料，哪個有關650至1500年間都市地區的陳述是正確的？

- (1) 都市化大多發生在南半球。
- (2) 都市化大多與熱帶氣候有關。
- (3) 都市地區大多位於歐洲。
- (4) 都市地區大多在水路附近發展。

13 中國將自己視為「中央的國度」，這與什麼有關？

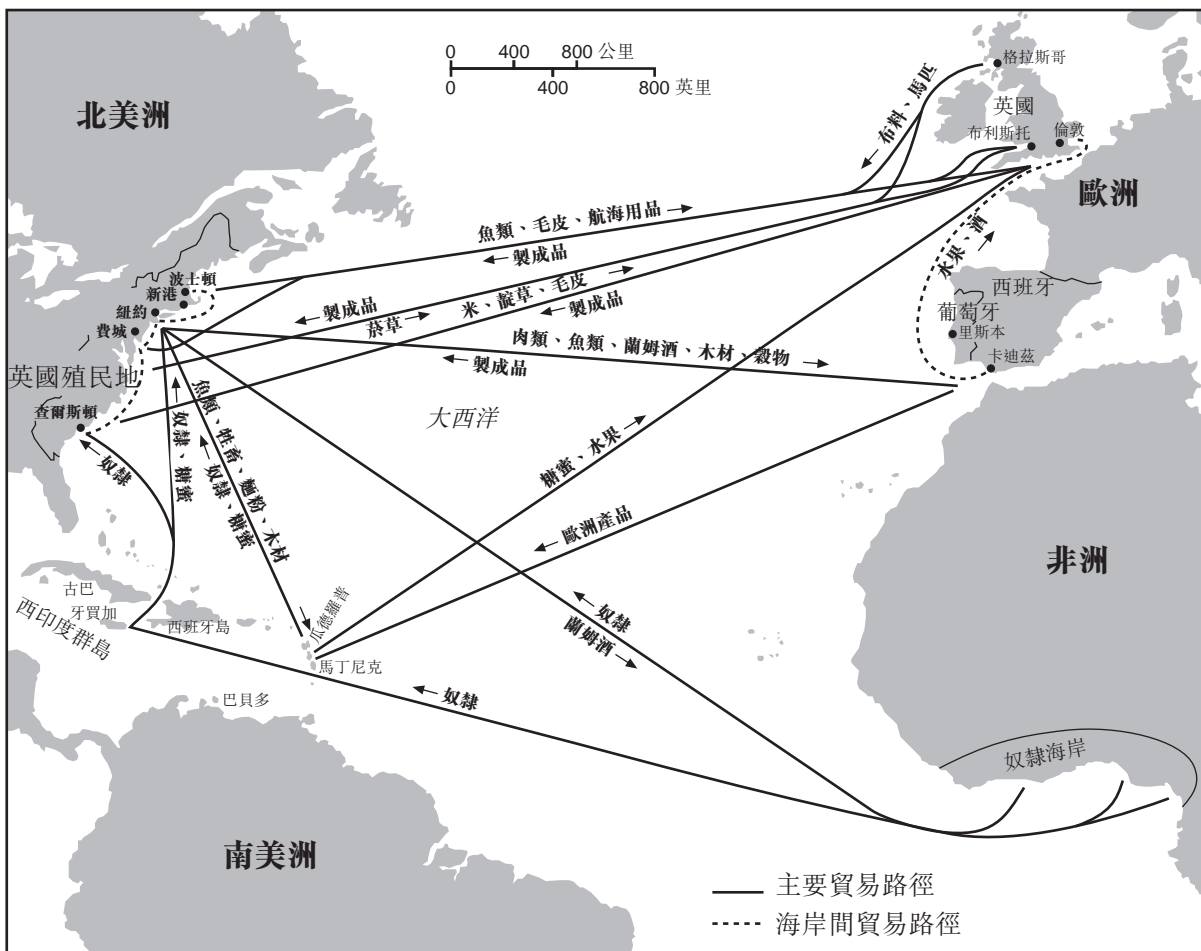
- (1) 歡迎外來的思想和影響
- (2) 將西方宗教與中國傳統哲學融合
- (3) 控制與其他文化接觸的方式
- (4) 開挖大運河，擴大中國境內的貿易

14 哪個因素對於哥倫布之前的南美洲多元文化發展影響最大？

- (1) 貿易協定
- (2) 地理特徵
- (3) 傳入的宗教理念
- (4) 農民叛亂

依據以下地圖和你的社會學知識來回答第15題。

新世界和舊世界之間的貿易路徑



資料來源: Marvin Perry et al., *Western Civilization: Ideas, Politics & Society*, Houghton Mifflin, 2000 (經改編)

15 依據此地圖上顯示的資料，大部分的製成品都是產於

- (1) 西印度群島
- (2) 歐洲
- (3) 英國殖民地
- (4) 非洲

16 第16和17世紀君主專制的關鍵特徵是什麼？

- (1) 中央政府集權
- (2) 農民和農奴的政治權力提高
- (3) 宗教自由
- (4) 制衡體系

17 1215年簽定的大憲章和1688年的光榮革命是英國歷史上的關鍵事件，因為它們導致

- (1) 與法國結盟
- (2) 打敗新教的貴族
- (3) 限制君主的權力
- (4) 併吞領土

依據下文和你的社會學知識來回答第18題。

... 蒙古人在科技上沒有突破，沒有創建新的宗教，沒有寫下幾本著作或戲劇，也沒有給世界帶來新的農作物或農耕方法。他們自己的手藝人不會織布、鑄造金屬、製造陶器，甚至不會烤麵包。他們不會製造陶器或瓷器，不會畫圖，也不會建築。然而，他們的大軍卻不斷征服各個文化，將這些技術收集起來，從一個文明傳遞到下一個文明。...

— Jack Weatherford

18 由這段文字可得出的結論是蒙古人

- (1) 拒絕科技
- (2) 愛好和平
- (3) 被都市化
- (4) 對文化的擴散有貢獻

19 許多啟蒙時期的哲學家使用理性來

- (1) 強化傳統信仰
- (2) 加強宗教權威
- (3) 揭示自然法則
- (4) 鼓勵審查制度

20 德國在俾斯麥的領導之下統一，顯示了

- (1) 馬克思思維的影響
- (2) 民族主義的影響
- (3) 不合作主義的力量
- (4) 民主理念的力量

21 歐洲工業革命的結果是什麼？

- (1) 中產階級的成長
- (2) 遊牧民族放牧增加
- (3) 都市人口減少
- (4) 國際貿易減少

22 蘇伊士運河對於埃及以外的國家具有重要戰略性的一個原因是這條運河

- (1) 讓北大西洋和印度洋之間的移動加速
- (2) 讓歐洲人能探索西半球
- (3) 讓俄羅斯人更容易控制阿富汗
- (4) 讓奧匈帝國能進入它在南亞的殖民地

23 世界上哪個地區在19世紀大多成為歐洲的殖民地？

- (1) 日本
- (2) 西南亞
- (3) 非洲
- (4) 拉丁美洲

24 英軍中的印度士兵叛變和中國的義和團之亂的相似之處在於，兩者都

- (1) 試圖排除外來的影響力
- (2) 動員來建立共產主義政府
- (3) 努力恢復貿易壟斷
- (4) 爭取將文化西化

依據下文和你的社會學知識來回答第25題。

一名第一次世界大戰士兵的觀察

亞奇蘇富利大兵，1918年2月8日—我們在艾克利附近樹林的軍營裏已經好幾天了，這裡的情況非常糟糕，滿目瘡痍，只見動盪和不可預知的未來，每個人都快忍不下去了。

— Malcolm Brown, *Tommy Goes to War*

25 這段文字最能支持哪個陳述？

- (1) 盟軍快要戰勝了。
- (2) 飛行科技造成軍事對峙。
- (3) 俄國大革命加速了戰爭的結束。
- (4) 情況惡劣使得軍隊士氣低落。

26 做為一個世界組織的國際聯盟失敗的一個原因是因為它

- (1) 支持法西斯國家的興起
- (2) 缺乏武力來解決衝突
- (3) 以海軍封鎖來處理衝突
- (4) 鼓勵以武力兼併領土

27 日本於1937年入侵中國以及德國於1939年攻擊波蘭，直接引起

- (1) 第二次世界大戰在亞洲和歐洲爆發
- (2) 美國和蘇聯之間雅爾達會議
- (3) 歐洲領袖們的慕尼黑會議
- (4) 英國與法國退出歐洲事務

28 紐倫堡大審被視為20世紀的重大事件，因為它

- (1) 結束種族大屠殺
- (2) 譴責核子武器的使用
- (3) 對戰後德國佔領地的條文做出裁決
- (4) 定下對侵犯人權的責任原則


29 北大西洋公約組織(NATO)最初成立的目的是

- (1) 提倡宗教自由
- (2) 保衛西歐不受蘇聯侵略
- (3) 讓會員國與世界其他地區隔絕
- (4) 阻止會員國之間互相移民

30 毛澤東在1949年以後為中國社會帶來什麼變革？

- (1) 給予男女法律上的平等
- (2) 規定婚姻必須透過安排
- (3) 採用纏足的習俗
- (4) 規定以儒家作為治國哲學

根據以下漫畫和你的社會學知識來回答第31題和第32題。



資料來源: Dana Summers, *The Orlando Sentinel*, 1989

31 這幅1989年的漫畫暗示中國和東德政府都

- (1) 解除軍隊權力
- (2) 由獨裁統治改為法西斯統治
- (3) 讓人民有權決定如何被統治
- (4) 在維持共產政府的能力上面臨挑戰

32 這幅1989年的漫畫中的「民主女神」象徵著中國的哪個事件？

- (1) 長征
- (2) 大躍進
- (3) 文化大革命
- (4) 天安門廣場抗議

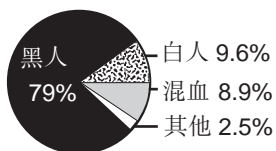
33 有關聯合國的哪個陳述是屬於事實而非見解？

- (1) 聯合國有太多的委員會，因此成效不彰。
- (2) 如果將總部搬到歐洲去，聯合國將更有效率。
- (3) 自從聯合國成立以來，會員已有所增加。
- (4) 聯合國已成功地實現了其大部分的目標。

依據下表和你的社會學知識來回答第34題。

南非：廢除種族隔離後的十年

人口：4480萬
根據2001年人口普查



2002年失業率 包括放棄求職者		可支配收入 人均數字，以美元計算	
黑人	<input type="text"/> 47.8%	1994	黑人 \$1,158
白人	<input type="text"/> 9.9%		白人 \$8,652
合計	<input type="text"/> 40.9%	2002	黑人 \$1,480
			白人 \$9,555

資料來源: *New York Times*, April 26, 2004 (經改編)

34 由這張表可以獲得有關南非經濟的哪個結論？

- (1) 自從種族隔離制度取消以來，大部分的黑人已經獲得經濟平等。
- (2) 在某些經濟產業中，黑人賺的錢比白人多。
- (3) 儘管種族隔離制度已經取消，許多黑人仍然有經濟上的困難。
- (4) 黑人的經濟機會與教育改革有直接的關係。

35 哪份文件與阿拉伯和以色列的衝突最密切相關？

- (1) 貝爾福宣言
- (2) 京都議定書
- (3) 共產黨宣言
- (4) 南京條約

36 「對於進口石油的依賴在中國、歐洲和美國引起憂慮」

「可口可樂在印度被控浪費寶貴的水」
「控制鈷礦的競爭在剛果造成暴力事件」

這些標題最能說明哪個經濟概念？

- (1) 通貨膨脹
- (2) 禁運
- (3) 抵制貨品
- (4) 資源短缺

37 發展中國家快速工業化，往往造成

- (1) 市區中心幾乎不見成長
- (2) 污染程度減低
- (3) 工作場所中傳統觀念的延續
- (4) 貧富差距加大

38 埃及亞斯文水壩和中國三峽大壩的一個相似之處在於，兩者都

- (1) 將鹹水變為淡水
- (2) 利用自然力量來製造能源
- (3) 為農業生產提供肥料
- (4) 將小水域連結成為大的水域

依據下文和你的社會學知識來回答第39題。

... 可怕的事實是，若無法根除[摧毀]恐怖主義的根源，則幾乎絕對會延伸「恐怖主義時代」，而是否真正能加以根除，則不確定。討好極端主義份子可能容易，但不見得有效用。讓他們獲勝，就是承認邪惡至上。提倡民主和開放政府可能是最佳的解決方法，但是這些概念基礎很薄弱，因為它對於世界的本質和多元文化所定的假設還未經測試。

不幸地，當今的世界雖已見識到恐怖主義的危險，但是還沒有解藥。更糟的是，解藥可能並不存在。

—Steven Metz, "Can Terrorism Be Cured?"
Project Syndicate

39 這段2006年的文章的作者下的結論是恐怖主義

- (1) 未能紮根
- (2) 需要強烈的軍事回應
- (3) 非常難以擊敗
- (4) 會透過外交手段來克服

40 亞歷山大帝、薩拉丁(Saladin)和恰卡祖魯(Shaka Zulu)的行動的一個相似之處在於，他們都實施了

- (1) 軍事策略來擊敗對手
- (2) 憲政來定義政治權力
- (3) 政策來增加宗教迫害
- (4) 法律變革來保護人權

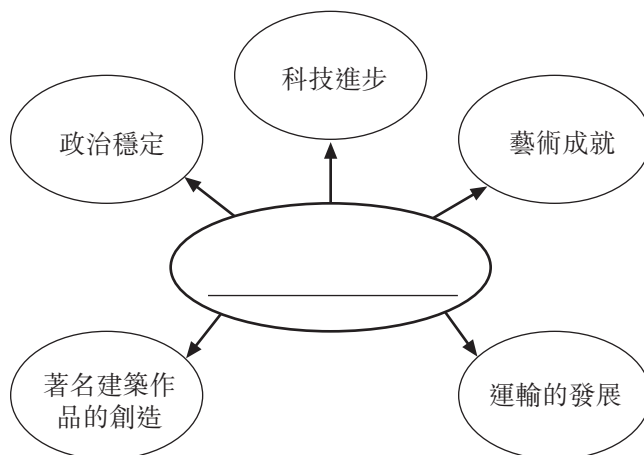
41 在傳統印度教的種姓制度以及殖民拉丁美洲的社會階級中，一個人的地位通常取決於

- (1) 教育
- (2) 財富
- (3) 出身
- (4) 權力

42 馬可波羅和伊本白圖泰(Ibn Battuta)旅遊的一個相似之處在於，兩者都

- (1) 使歐洲人大量向外遷移
- (2) 引發對其他文化的興趣
- (3) 導致殖民地的建立
- (4) 造成在非洲的考古發現

依據以下組織圖和你的社會學知識來回答第43題。



43 哪個標題最能完成這個組織圖？

- (1) 印加黃金時代的特徵
- (2) 收復失地運動(Reconquista)的原因
- (3) 列寧新經濟計劃的結果
- (4) 馬歇爾計劃的特點

依據下文和你的社會學知識來回答第44題。

... 先知穆罕默德在公元632年去世之後，對於誰來繼承他的地位引起的爭議造成了決裂。有些追隨者相信，他的繼任者應該由部落的共識來決定，於是他們指定了穆罕默德的一名親信作為第一個哈里發(caliph)，即精神領袖。但是其他人認為繼位者應該直接來自先知的家人，即他的表親暨女婿，阿里...

資料來源: *National Geographic*, June 2004

44 這段文字所敘述的情況導致

- (1) 在俄羅斯對少數民族的迫害
- (2) 君士坦丁堡的淪陷
- (3) 遜尼和什葉派的分裂
- (4) 新教徒和天主教徒的不和

依據以下的木刻畫和你的社會學知識來回答第45題。



資料來源: James L. Huffman, *Modern Japan, A History in Documents*,
Oxford University Press

45 這張木刻畫所顯示的改變出現在日本歷史上的哪個時期？

- | | |
|------------------------------|-----------------------------|
| (1) 平安時代(Heian court) | (3) 明治維新(Meiji Restoration) |
| (2) 江戶幕府(Tokugawa shogunate) | (4) 美國佔領 |

46 在1300年和1600年之間，由於全球貿易轉型，使得哪種經濟體制開始發展？

- (1) 社會主義
- (2) 資本主義
- (3) 共產主義
- (4) 莊園制度

47 在1400年代後期，卡拉維爾帆船(caravel)、羅盤和星盤的結合使用促成了

- (1) 班圖族遷徙
- (2) 美洲的探險
- (3) 佛教引入東亞
- (4) 鄭和下西洋

48 • 注重個人成就
• 採用古典的希臘和羅馬的理念
• 達文西的藝術作品

這些特點與哪個時期關係最密切？

- (1) 希臘化黃金時代
- (2) 中古時代早期
- (3) 歐洲文藝復興
- (4) 科技革命

49 • 羅馬人摧毀耶路撒冷的寺廟。
• 英國官員在印度實施劃分制度。
• 胡圖族和圖西族在盧安達內戰中對抗。

這些事件的一個相似之處在於，它們都造成

- (1) 建立一致的法律條文
- (2) 人民遷離家園
- (3) 聯軍的干預
- (4) 接受新的政治範圍

50 以下哪些團體是20世紀共產主義革命的主要支持者？

- (1) 牧師和工匠
- (2) 中產階級和貴族
- (3) 企業家和資本主義者
- (4) 工人和農民

本頁刻意留白

接下頁 ⇨

論文題的答案填寫在分開的論文本上。

回答第II部分的問題時，注意以下一般性定義：

- (a) **解釋**指「使其容易或能了解；提供原因或來由；顯示邏輯發展或關係」
- (b) **描述**指「用文字闡述或陳述」
- (c) **論述**指「透過事實、推理和論證來對某件事發表意見；加以詳述」

第II部分

主題論文題

答題說明：撰寫一篇條理分明的論文，包括引言、與下列任務相關的幾個段落、以及結論。

主題：改變一理念

個人理念對於團體、國家和地區具有重要影響力。

任務：

選擇**兩個人**，並且對於**每個人**

- 解釋其發展的某一特定理念
- 描述該理念發展所處的歷史背景
- 論述這個理念如何影響到一個團體**或**國家**或**地區的發展。

你可以使用學習世界歷史時所學到的任何具有重要影響力的人。建議你可以考慮孔子、馬凱維里(Niccolò Machiavelli)、伽利略(Galileo Galilei)、洛克(John Locke)、玻利瓦爾(Simón Bolívar)、馬克思、阿塔土爾克(Kemal Atatürk)、曼德拉、鄧小平和戈巴喬夫(Mikhail Gorbachev)。

你不必侷限於以上建議。

在答題時，不要來自美國的任何人。

指南：

在你的論文中，請務必

- 闡述任務的各個方面
- 引用相關事實、例證及細節，來支持主題
- 須合乎邏輯、條理分明，包括一個不只是重複主題的引言和結論

第III部分

基於文件題

本問題是基於隨附的文件。該問題的設計是為了測驗你運用歷史文件的能力。其中一些文件是為這個問題編輯的。當你分析文件時，請參考每份文件的來源及文件中所論述的任何觀點。

歷史背景：

在歷史上，**沙漠**、**季風**和**寒冷氣候**等地理因素對於不同地區帶來了各種影響。

任務：運用文件資料和你的世界歷史知識，回答A部分每一份文件後面的問題。你對這些問題的回答將有助於撰寫B部分的論文，在這篇論文中，你將被要求

選擇歷史背景中所提到的**兩個**地理因素，並且對於**每個因素**

- 描述地理因素
- 論述該地理因素對特定地區所產生的影響

在回答第III部分的問題時，請注意以下一般性定義：

- 描述**指「用文字闡述或陳述」
- 論述**指「透過事實、推理和論證來對某件事發表意見；加以詳述」

A部分 簡答題

答題說明：分析以下文件，在所提供的空白處上回答每份文件後的簡答題。

文件1

... 北非乾草原的貧瘠，到了撒哈拉，這塊全球最廣闊的沙漠，就變得荒蕪。在一般人的想像中，撒哈拉是充滿了沙丘的荒野；然而這個地區的景觀最具多樣性，從阿哈加和提貝斯壯觀的山岳[高原]，有著形狀獨特的岩石和高聳的火山峰，到遼闊的砂礫平原或不斷變化的寬廣帶狀沙丘。沙漠並非完全無水 — 在有些部分，尤其是北緣，大量的地下水促成了豐富的綠洲文化 — 它也並非完全缺少[沒有]植物。因此人們發現，無論是在綠洲進行耕種或在其他地區游牧[放牧]，都能夠在撒哈拉維生...

資料來源: Robin Hallett, *Africa to 1875: A Modern History*, The University of Michigan Press, 1970

1 根據哈勒特(Robin Hallett)，撒哈拉沙漠的**一個**特徵是什麼？ [1]

Score

文件2

... 幾世紀以來，這些[北非和內陸之間的]接觸受到撒哈拉本身特性的限制。撒哈拉沙漠佔地超過3百萬平方英里，是世界上最大的沙漠。由於白天溫度可高達華氏120度，而且缺水，橫越沙漠的40天旅程需要勇氣、決心和詳細的規劃。旅人如果與同伴走散，就很少能活著走出。第四世紀之後，因為駱駝取代了馬匹後，穿越撒哈拉的徒步旅行稍微容易了一些，駱駝可以長途跋涉而不需要水，蹄也比較寬，更易於在沙上行走。然而，到了第七世紀，當地的政治和宗教生活發生革命性的變化，北非和內陸才開始有了頻繁的接觸。此時，地中海和中東的古老帝國已經式微或成為廢墟。取而代之的是一股新的力量：伊斯蘭...

資料來源: Philip Koslow, *Ancient Ghana: The Land of Gold*, Chelsea House Publishers

2a 根據克斯羅(Philip Koslow)，撒哈拉沙漠難以穿越的一個原因是什麼？ [1]

Score

b 根據克斯羅(Philip Koslow)，第四世紀之後所採取的哪個改變使得旅行較為容易？ [1]

Score

文件3

... 沙漠化直接影響到12億人口，具有生產力的土地逐年地減少。這對於110多個國家的政府和援助機構帶來挑戰已有一段時間，也是造成蘇丹等國的貧窮和區域性衝突的原因之一。這對於埃及也是一個重大問題，該國有百分之90的陸地是沙漠。面對人口的增長，政府不得不採行一些開拓居地和灌溉方案，來增加額外的生活和工作空間。在中國，幾乎全國三分之二的地區和4億的人口都受到影響，其中最嚴重的區域是西北部的戈壁沙漠和西部的塔克拉瑪干沙漠...

資料來源: Ute Schaeffer, "Deutsche Welle reporters on the ground,"
Down to Earth: News & Views on Desertification,
UNCCD, June 2006, Volume 21

3 根據斯奇弗(Ute Schaeffer)，由於沙漠化，各地所面臨的**一個**挑戰是什麼？ [1]

Score

文件4

印度次大陸

...只有在北部的山區，氣溫才會下降到冰點以下。暑熱季節在三月開始，氣溫分布從沿岸地區的80度到90度之間，到印度河 — 恆河大平原可達到遠高於100度。六月到九月是雨季，西南季風帶來印度洋的濕氣。在這裡，濕氣在西岸的某些地方以及東北角的阿薩姆邦帶來高達450英寸的降雨量。在內陸和東部沿岸，夏季季風已經失去了大部分的濕氣，降雨量可能平均只有40至80英寸。來自孟加拉灣的濕氣，為印度東北部和孟加拉帶來約120英寸的雨量。季風一年發生兩次，在整個季節中不斷吹襲。東北季風即冬季季風，在次大陸的大部分地區從陸地吹向海洋，所帶來的雨量極少...

資料來源: James I. Clark, *India: The Subcontinent: India, Pakistan, and Bangladesh*, McDougal, Littell & Company

4 根據克拉克(James I. Clark)，什麼是季風？ [1]

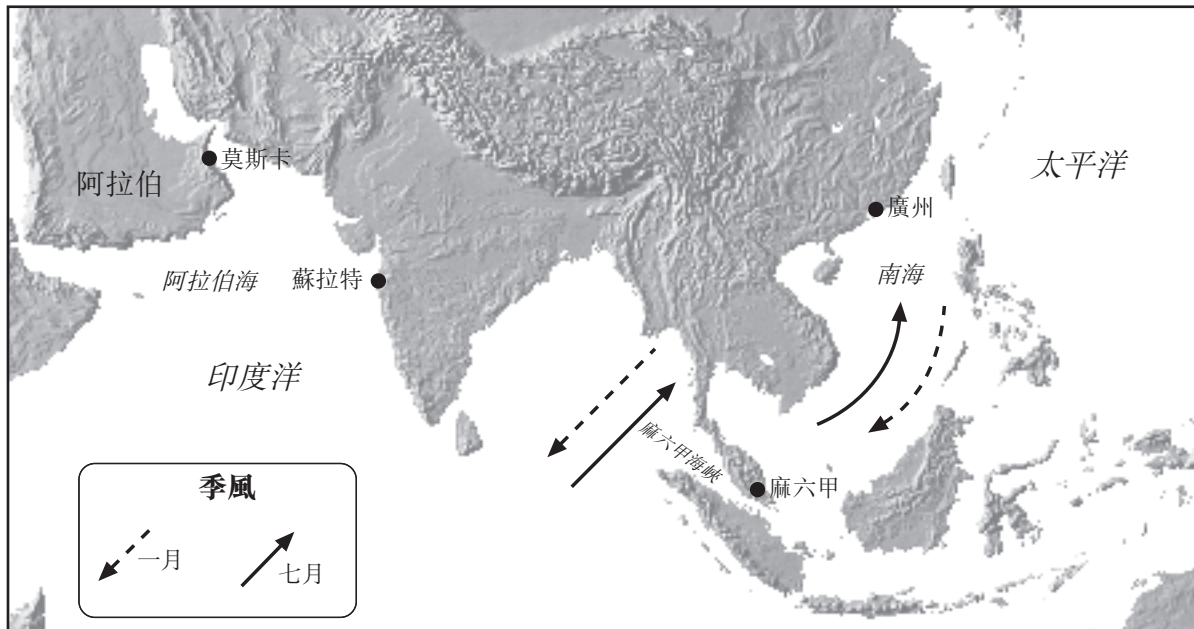
Score

文件5a

... 大自然對運輸所造成的限制[阻礙]，也決定了貿易的節奏以及貿易進行的地點。穿越亞洲沿海 — 從[中國]廣州到[南阿拉伯]莫加 — 貿易的時間表都受到季風的支配。由於強風朝一個方向不斷地吹襲，達數月之久，然後停止，接著再從相反方向不斷吹襲數月，因此沒有理由和風作對。經商者（偶爾有女性）順著一個方向盡可能前進，直到風轉向為止；然後他/她將貨品轉運給另一名商人，這名商人已於稍早到達，並清楚知道他能在下個季節安全地停留多久，且仍有足夠的日數順風回家。因此，中國的經商者不會載著絲綢，用兩個或更多的風季（和年）一路航行到波斯等地，較合理的做法是在某一個風季出海，與位於中途點的中間商交換商品，然後帶著乳香和地毯回家。在麻六甲、[印度的]蘇拉特和[阿曼的]莫斯卡等地發展出一連串的貿易中心，它們的發展與一個航行季節內能航行多遠有關，反而與當地能製造的貨品關係較小。結果，亞洲沿岸便出現一連串海港城市，形成一道繁榮熱鬧的都會鏈，但在大部分的情況下，這些城市與其相鄰的腹地[港口旁的內陸地區]關係並不密切。...

資料來源: Pomeranz and Topik, *The World That Trade Created*, M. E. Sharpe, 1999 (經改編)

文件5b



資料來源: "The West and the Spice Trade," Calliope, Cobblestone (經改編); Mountain High Maps, Digital Wisdom (經改編)

5 根據這些文件，季風影響東南亞貿易的一種方式是什麼？ [1]

Score

1983 年夏季



季風的雨水，使得恆河的水漫過河堤，在北方邦的瓦拉納西市造成水患，此時三輪車不能再用腳踩，只得改用手推。去年[1983年]，這個城市遭到大水淹沒，水中混雜著污水、腐爛的穀物和動物浮屍。邦內的其他地方，來勢洶洶的大水，把一個火車頭和三節車廂沖走了。

資料來源: Priit J. Vesilind, "Monsoons: Life Breath of Half the World," *National Geographic*, December 1984, Photograph by Steve McCurry
(經改編)

6a 根據這張國家地理雜誌的照片和文字說明，印度的瓦拉納西地區民眾在1983年夏天季風來臨時，遭遇到的一個問題是什麼？ [1]

Score

文件6b

遲來的季風

6月9日[1984年]

... 午夜時分，四周寂靜得令人窒息。特里凡得朗市在實行居家用電定量供給之下，冷氣機停止運轉。重型工業用戶的供電早已被切斷。現在，電影院一天只能放映一場電影，不准使用霓虹燈，天一黑商店就得關門休業。...

由於陸地降雨稀少，印度各地水庫中的儲水所剩無幾。國內約有一半的電力是來自水力發電，因此要依賴季風。政府官員焦急地向報紙承認，雨水來遲會阻礙[妨害]食物的生產，使通貨膨脹更嚴重，提高物價，這一切都是在大選前一年發生的。正在歐洲進行參訪之旅的總理英迪拉甘地(Indira Gandhi)，要求在她的每日政情簡報中加入季風預報。...

資料來源: Priit J. Vesilind, "Monsoons: Life Breath of Half the World," *National Geographic*, December 1984

6b 依據Priit J. Vesilind的文章，說出印度各地在季風來遲時所面臨的**兩個**問題。 [2]

(1) _____

Score

(2) _____

Score

文件7

... 俄羅斯由於幅員遼闊，國土緊密，所以大部分屬於大陸性氣候。它的大部分土地距離海洋超過400公里，其中心點距離海洋有3,840公里。此外，俄羅斯的山嶺大多位於南部和東部，阻擋了來自印度和太平洋溫和的氣溫，但是歐洲部分和西伯利亞北部卻又缺乏類似的地形來阻擋來自北極和北大西洋的寒風...

寒冷漫長的冬季，對於俄羅斯聯邦的生活各方面都帶來深遠影響。這影響到人們工作起居的地點和時間長短，種植的作物，以及種植的地點（全國沒有一個地方能全年耕種）。由於冬天漫長而嚴寒，加上夏季和冬季的平均溫度相差太大，因此經濟中的許多部分都受到限制。在永凍層區，建築物必須以打樁方式興建，機器必須以特別回火的鋼製成，運輸系統必須設計在極低和極高的溫度下都能可靠運行。此外，在長期黑暗寒冷的時期，對能源、保健和紡織品的需求也有所增加...

資料來源: www.country-studies.com/Russia/climate.html

- 7 根據來自Country Studies的這份資料，寒冬對俄羅斯的永凍層區造成的一**個**影響是什麼？ [1]

Score

冬老頭



資料來源: Leslie Gilbert Illingworth, November 10, 1941,
Library of Wales, Aberystwyth (經改編)

8 根據Leslie Gilbert Illingworth的這幅漫畫，「冬老頭」在保衛俄羅斯上扮演什麼角色？ [1]

Score

文件9

... 阿達林[俄羅斯北極的一個地區]獨特的生態環境對於在野外尋找新方法來保護北極凍原脆弱生態系統的俄羅斯和西方人士都造成了挑戰。由於凍原在夏季格外脆弱，因此建築和鑽取的工作只能在冬季進行，以避免凍原遭到有害的影響。道路由冰築成，以將器材和補給品運送到偏遠地區。地面解凍後，便使用直昇機來帶入器材和補給品...

資料來源: IPIECA, "Conoco in the Russian Arctic: Preserving delicate Arctic ecology by minimizing the development footprint and environmental impact"

9 根據International Petroleum Industry Environmental Conservation Association (IPIECA)，俄國人採用哪**兩種**方式來面對開發凍原的挑戰？ [2]

(1) _____

Score

(2) _____

Score

B部分 論文題

答題說明：撰寫一篇條理分明的論文，包括引言、與下列任務相關的幾個段落、以及結論。在你的論文中引述取自最少**四份**文件中的證據。使用相關事實、例證及細節來支持你的回應。包括其他的外部資訊。

歷史背景：

在歷史上，**沙漠**、**季風**和**寒冷氣候**等地理因素對於不同地區帶來了各種影響。

任務：運用文件資料和你的世界歷史知識撰寫一篇論文，在這篇論文中

- 選擇歷史背景中所提到的**兩個**地理因素，並且對於**每個因素**
- 描述地理因素
 - 論述該地理因素對特定地區所產生的影響

指南：

在你的論文中，請務必

- 闡述任務的各個方面
- 綜合來自至少**四份**文件的資料
- 綜合相關的外部資訊
- 引用相關事實、例證及細節來支持主題
- 須合乎邏輯、條理分明，包括一個不只是重複主題的引言和結論

世界歷史
和地理

僅限用於2010年6月15日(星期二)下午1時15分至下午4時15分

答題紙

男性

學生 性別： 女性

教師

學校

第I部分的考題答案應填寫在本答題紙上。第III A部分的答案應填寫在考題本上，第II和第III B部分的答案填寫在分開的論文本上。

1.....	26.....
2.....	27.....
3.....	28.....
4.....	29.....
5.....	30.....
6.....	31.....
7.....	32.....
8.....	33.....
9.....	34.....
10.....	35.....
11.....	36.....
12.....	37.....
13.....	38.....
14.....	39.....
15.....	40.....
16.....	41.....
17.....	42.....
18.....	43.....
19.....	44.....
20.....	45.....
21.....	46.....
22.....	47.....
23.....	48.....
24.....	49.....
25.....	50.....

僅供教師使用

Part I Score	_____
Part III A Score	_____
Total Part I and III A Score	<input type="text"/>
Part II Essay Score	_____
Part III B Essay Score	_____
Total Essay Score	<input type="text"/>
Final Score (obtained from conversion chart)	<input type="text"/>

No. Right

當你考完試之後，必須在以下聲明的下方簽名。

本人在此考試結束之際特此聲明，本人此考試之前未非法獲得考試內容或答案，並且在考試中，既未向任何人提供幫助，也未從任何人處得到幫助。

簽名

沿此虛線撕下

沿此虛線撕下

