

世界歷史 和地理

僅限用於2011年1月28日(星期五)上午9時15分至下午12時15分

學生姓名 _____

學校名稱 _____

請用工整字跡在以上直線上填寫你的姓名和學校名稱。然後翻到本考題本的最後一頁，即本考題本的第I部分答題紙。請沿齒孔線把最後一頁摺疊起來，慢慢地、小心地將答題紙撕下。然後在你的答題紙上填寫各項抬頭。現在請用工整字跡在論文的每一頁填寫你的姓名和學校名稱。

本次考試共有三個部分。你必須要回答每一部分的**所有**題目。用黑色或深藍色的原子筆回答。

第I部分包括50道選擇題。請將答案記錄在分開的答題紙上。

第II部分包括一道以主題為主的論文題。請在論文本上寫下你對這個問題的答案，從第1頁開始。

第III部分基於幾份文件：

第III A部分包含這些文件。每一文件後有一個或一個以上的問題要回答。在本考題本上，將各題的答案寫在各問題後的直線上。請務必在這部分的第一頁上填寫你的姓名和學校名稱。

第III B部分包含一個基於這些文件的論文題。請在論文本上寫下你對這個問題的答案，從第7頁開始。

在你答完題後，你必須簽署印在第I部分的答題紙上的聲明，表明你沒有非法得到本考試的試題或答案，而且在本考試中也沒有給予過或接受過任何的幫助。你如果不簽署本聲明，你的答題紙不會被接受。

在本考試中，嚴禁使用任何形式的通訊工具。如果你使用了任何的通訊工具，無論使用多久，你的考試都將無效，而且不會得到任何的分數。

未經指示請勿打開本考題本

第I部分

請回答本部分的所有問題。

答題說明(1-50)：根據每一條題目的陳述或問題，在所給答案中選擇最恰當的詞或詞句，把代表該答案的編號寫在分開的答題紙上。

依據下文和你的社會學知識來回答第1題。

遺傳學家利用我們的DNA作為時光機器來追蹤史前時代歐洲人的移動情況……

— Joe Palca, "Tracing Human Migration Through DNA,"
NPR Weekend Edition Saturday, August 11, 2007

1 這段話表明現代科學可以用來

- (1) 協助歷史分析
- (2) 顯示觀點的發展
- (3) 解釋古代的醫療方式
- (4) 預測未來的事件

2 為什麼東南亞被視為一個十字路口？

- (1) 原油藏量豐富。
- (2) 有多條貿易路線交會。
- (3) 單一文化位居主導地位。
- (4) 河流當作公路使用。

3 在早期文明使用的哪一種經濟制度下有關商品分配的決定主要是基於習俗、信仰和習慣？

- (1) 混合
- (2) 自由市場
- (3) 傳統
- (4) 命令

4 在歷史上新石器革命通常被認為是一個轉折點，因為

- (1) 城市居民學會了控制火
- (2) 社會更趨於游牧性
- (3) 核心家庭演變成大家庭
- (4) 在河谷開發出永久定居地

5 孝與五倫最常與什麼有關？

- (1) 印度教
- (2) 道教
- (3) 萬物有靈論
- (4) 儒家思想

6 哪個名稱用來識別位於底格里斯河和幼發拉底河之間的地區？

- (1) 好望角
- (2) 西奈半島
- (3) 美索不達米亞
- (4) 非洲之角

7 自耕自給農業最好的定義是

- (1) 提供海外出口的農作物
- (2) 用農作物換取製成品
- (3) 儲存多餘的食物，以防饑荒
- (4) 生產的糧食只夠一個家庭使用

8 哪個地理特徵最直接地影響了希臘城邦的發展？

- (1) 沙漠
- (2) 山地地形
- (3) 遼闊的平原
- (4) 季風

9 哪項發展與拜占庭帝國的起始最密切相關？

- (1) 俄羅斯東正教教會的出現
- (2) 羅馬帝國的分裂
- (3) 聖索非亞大教堂的建立
- (4) 君士坦丁堡的沒落

- 10 • 在巴格達建立了「智慧宮」
• 代數的發展
• 使用書法成為一種藝術形式

哪個黃金時代與這些成就最密切相關？

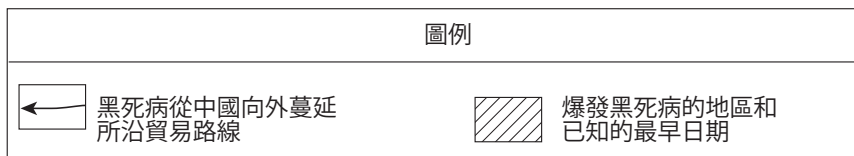
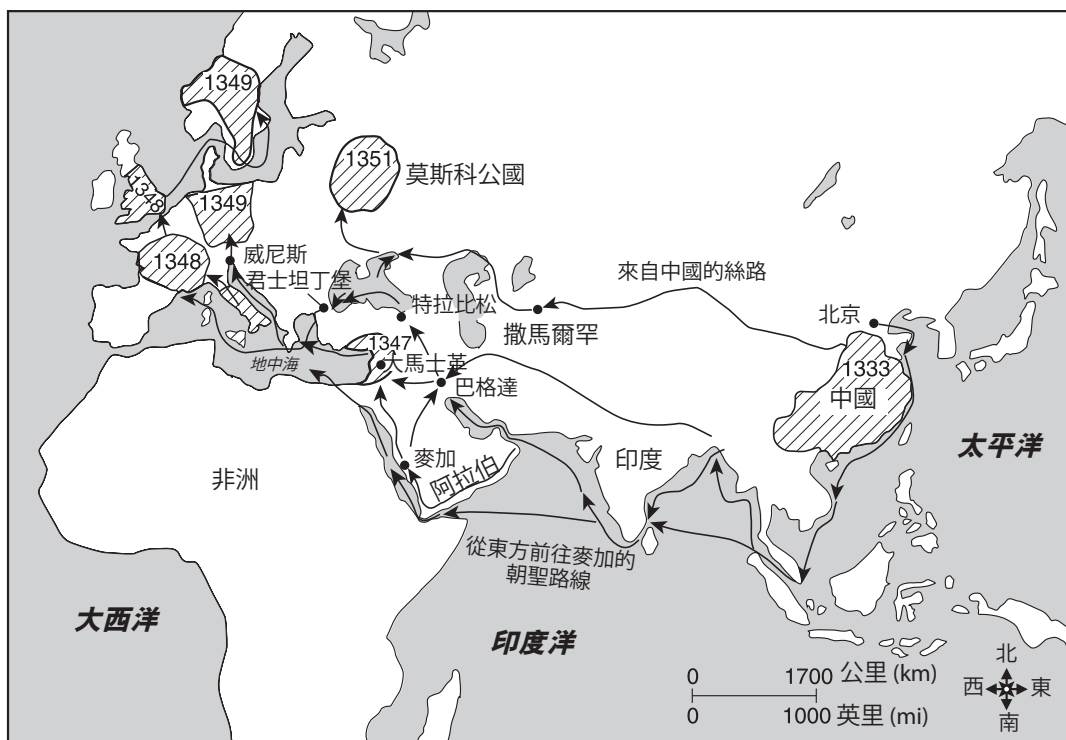
- (1) 伊斯蘭
- (2) 古普塔
- (3) 唐朝
- (4) 桑海

11 馬可波羅(Marco Polo)和伊本•巴圖塔(Ibn Battuta)最著名的是

- (1) 探索西半球
- (2) 領導宗教運動
- (3) 開放非洲和日本之間的貿易
- (4) 提供有關土地和人種的廣泛資訊

依據以下的地圖和你的社會學知識來回答第12題。

在歐洲和亞洲最早發生的黑死病，(1333年至1351年)



資料來源: Decameron Web, Brown University (經改編)

12 這張地圖上的資訊表明，黑死病主要是經由哪些人的行動而傳播的？

- (1) 侵略軍
- (2) 游牧民族
- (3) 商人
- (4) 探險者

- 13 • 彩繪玻璃窗幫助人們了解聖經中的故事。
• 又高又大的大教堂強調上帝的莊嚴和榮耀。

這些陳述最能描述什麼的要素？

- (1) 四聖諦(Four Noble Truths)
- (2) 中國寶塔
- (3) 哥特式建築
- (4) 希臘思想

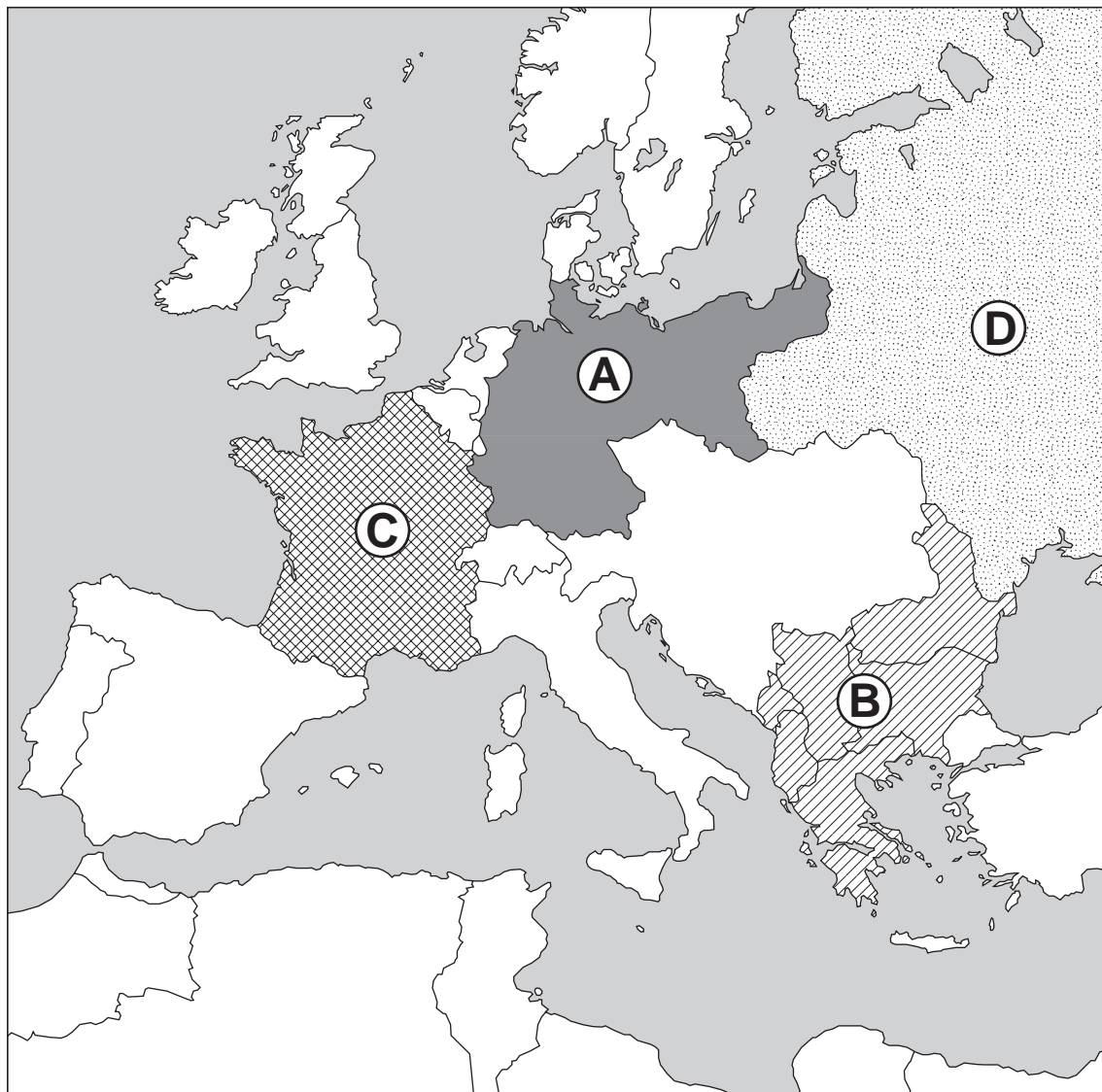
14 哪個陳述是一個觀點而不是事實？

- (1) 芒薩姆薩(Mansa Musa)到麥加朝聖。
- (2) 沒有芒薩姆薩的影響馬里應能蓬勃發展。
- (3) 馬里的經濟是建立在黃金和鹽的貿易的基礎之上。
- (4) 廷巴克圖成為伊斯蘭學術的中心。

- 15 尼羅河河谷和非洲稀樹草原之間的一個相似點在於他們都
- (1) 成為人們和貨物移動的主要障礙
 - (2) 提供定居必要的資源
 - (3) 位於大陸的西側
 - (4) 對於居住在這些地區人們的生活影響不大
- 16 德川幕府在十七世紀對大多數外國人關閉日本港口，企圖要
- (1) 保護日本不受歐洲的影響
 - (2) 增加日本農業生產
 - (3) 消除日本對東南亞的影響
 - (4) 破壞傳統的日本文化
- 17 奧圖曼帝國是在整個十七世紀中葉時一個強大的貿易帝國，因為他們
- (1) 控制了進入地中海東部的通路
 - (2) 有世界上最強大的海軍
 - (3) 主導了西非商隊路線
 - (4) 征服了亞洲大部分
- 18 阿茲特克和印加文明的一個相似點是它們都
- (1) 擊敗了西班牙征服者
 - (2) 發展了先進的建築技術
 - (3) 缺乏強有力的中央政府
 - (4) 主要定居在河谷區域
- 19 拉丁美洲的賜封制度的一個影響是它
- (1) 廢除職業行會的使用
 - (2) 提倡孤立主義
 - (3) 剝削土著人民
 - (4) 減少西班牙的影響力
- 20 大憲章(Magna Carta)、請願權(Petition of Right)以及英國權利法案(English Bill of Rights)導致英國政府發展出何種政治制度：
- (1) 統治者對人民負責
 - (2) 宗教權威控制了立法程序
 - (3) 君主的權力來自上帝
 - (4) 個人被剝奪了由陪審團審判的權利
- 21 哪個陳述準確地反映出因大冒險時代而發生的人口變化？
- (1) 大多數拉丁美洲人口變得文化更為多元化。
 - (2) 歐洲三分之一的人口因接觸到來自美洲的疾病而死亡。
 - (3) 美洲商品的引進導致亞洲人口下降。
 - (4) 美洲原住民遷移到非洲導致非洲人口增長。
- 22 啟蒙思想家鼓勵通過什麼來改善社會
- (1) 教會的教義
 - (2) 運用理性
 - (3) 專制的發展
 - (4) 建立嚴格的社會階級
- 23 「憤怒的暴民摧毀巴士底獄」
「羅伯斯庇爾被處決結束了恐怖統治」
「拿破崙奪取政權」
- 這些標題指的是哪個國家的革命？
- | | |
|---------|---------|
| (1) 西班牙 | (3) 法國 |
| (2) 奧地利 | (4) 俄羅斯 |
- 24 「鐵血」口號和一個統一的德國與什麼最密切相關
- | | |
|----------------------------------|--------------------------------|
| (1) 梅特涅王子
(Prince Metternich) | (3) 加富爾
(Camillo Cavour) |
| (2) 西蒙•玻利瓦爾
(Simón Bolívar) | (4) 俾斯麥 (Otto
von Bismarck) |
- 25 在工業革命時期，哪兩種天然資源被用來改變英國的交通運輸和製造業？
- (1) 黃金和鹽
 - (2) 鑽石和石油
 - (3) 銅和錫
 - (4) 煤炭和鐵礦石
- 26 日本介入第一次中日戰爭和吞併朝鮮的其中一個原因是什麼？
- (1) 追求帝國主義目標
 - (2) 對外來侵略的反應
 - (3) 五年計劃的制定
 - (4) 需要一個溫水港

依據以下的地圖和你的社會學知識來回答第27題。

第一次世界大戰爆發時的歐洲，1914年8月



資料來源: Make History web page, Bedford/St. Martin's (經改編)

27 歐洲的哪個地區在第一次世界大戰爆發之前被稱為歐洲的「火藥庫」？

- (1) A
- (2) B
- (3) C
- (4) D

28 印度的士兵叛變(Sepoy Rebellion)和中國的義和團起義(Boxer Rebellion)之間的一個相似點是

- (1) 宗教改革運動
- (2) 對鴉片貿易的反應
- (3) 試圖結束外國的干涉
- (4) 反對絕對君主的成功起義

29 在1923年至1938年間，哪個領導人制定了土耳其的現代化計劃？

- (1) 巴勒維 (Shah Reza Pahlavi)
- (2) 尼赫魯 (Jawaharlal Nehru)
- (3) 凱末爾 (Kemal Atatürk)
- (4) 胡志明 (Ho Chi Minh)

30 第一次世界大戰到第二次世界大戰期間法西斯在德國的興起經常與什麼有關

- (1) 促進種族多樣性
- (2) 非暴力學說的訴求
- (3) 一個強有力議會制度的建立
- (4) 全球經濟不景氣的影響

31 日本征服滿洲（1931年）和德國吞併捷克（1939年）的一個相似點是這些行動

- (1) 標誌了這些國家的侵略擴張的結束
- (2) 證明了國際聯盟的弱點
- (3) 重新確立了世界上權力的平衡
- (4) 導致長征

32 第二次世界大戰期間，1944年的登陸諾曼第作戰(D-Day invasion)的重要性在於它

- (1) 迫使德國在數個前線作戰
- (2) 使德國將其軍事行動移到俄羅斯前線
- (3) 結束了對德國的轟炸
- (4) 展現了德國的軍事優勢

33 人們寧願保有自己不好的政府，也不願服從好的外國政權。

這個陳述說明了哪個概念的特點？

- (1) 民族主義
- (2) 共產主義
- (3) 社會主義
- (4) 軍國主義

34 聯合國的哪項功能是基于集體安全的概念？

- (1) 提供醫療服務
- (2) 協調全球維持和平的行動
- (3) 監控教育方案
- (4) 協助農業研究

依據以下的漫畫和你的社會學知識來回答第35題。



資料來源: Henry Brun, *The World Today: Current Problems and Their Origins*, 2005

35 在這幅漫畫中，這些正在尋求成為北大西洋公約組織(NATO)成員的國家代表哪個地區？

- (1) 拉丁美洲
- (2) 中部非洲
- (3) 東南亞
- (4) 東歐

36 哪個地區與約旦河西岸、戈蘭高地和西奈半島的衝突最密切相關？

- (1) 東非
- (2) 中東
- (3) 西歐
- (4) 中亞

37 在二十世紀90年代，哪兩個國家因為發生了集體屠殺而成了主要的頭條新聞？

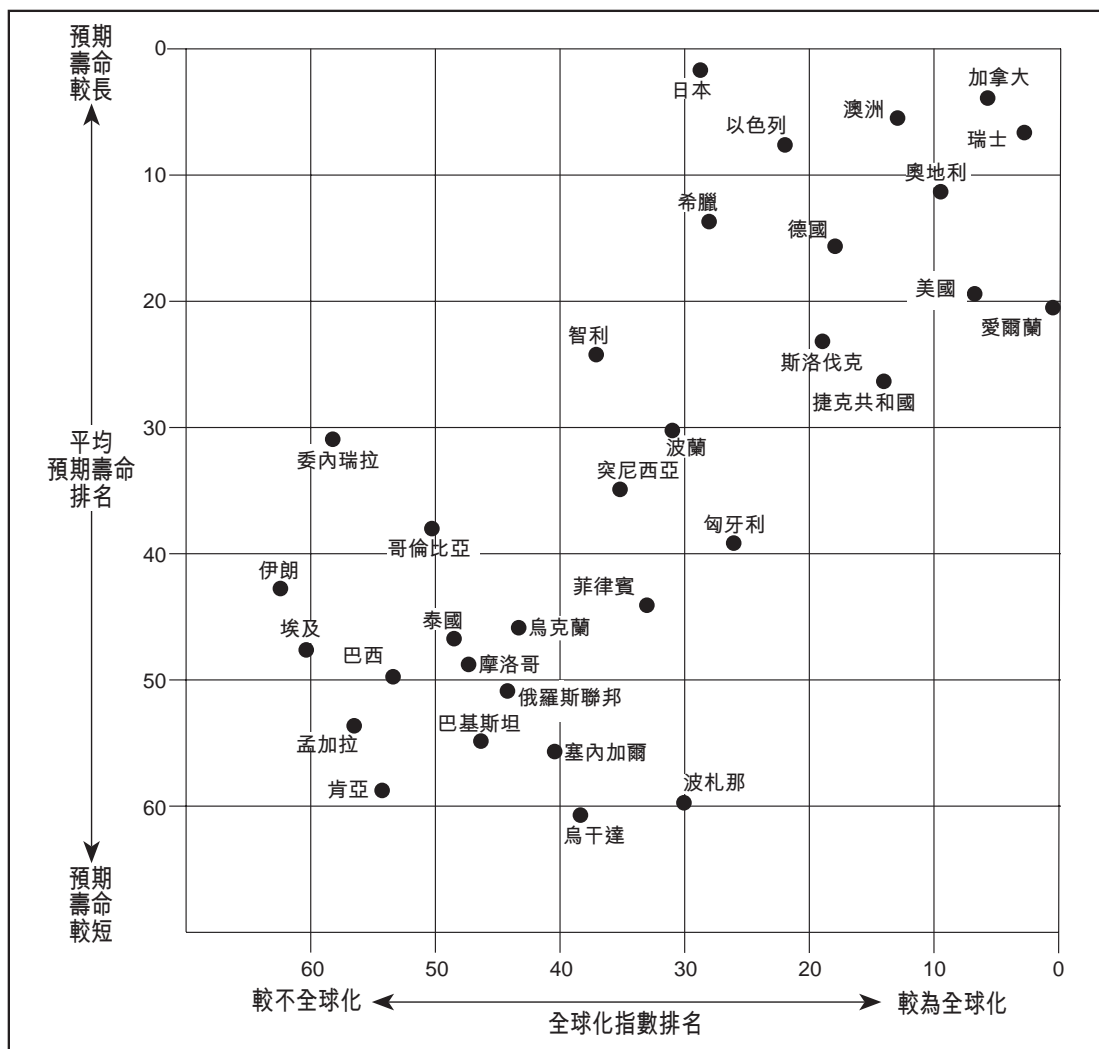
- (1) 瑞士和波蘭
- (2) 越南和新加坡
- (3) 蘇丹和盧安達
- (4) 哥斯達黎加和牙買加

38 哪個領導人的政策包括開放政策和協調重組新思維？

- (1) 卡斯楚 (Fidel Castro)
- (2) 赫魯雪夫 (Nikita Khrushchev)
- (3) 戈巴契夫 (Mikhail Gorbachev)
- (4) 鄧小平 (Deng Xiaoping)

依據以下的圖表和你的社會學知識來回答第39題和第40題。

全球化和預期壽命



資料來源: Roger A. Arnold, *Economics: New Ways of Thinking*, EMC Publishing, 2007 (經改編)

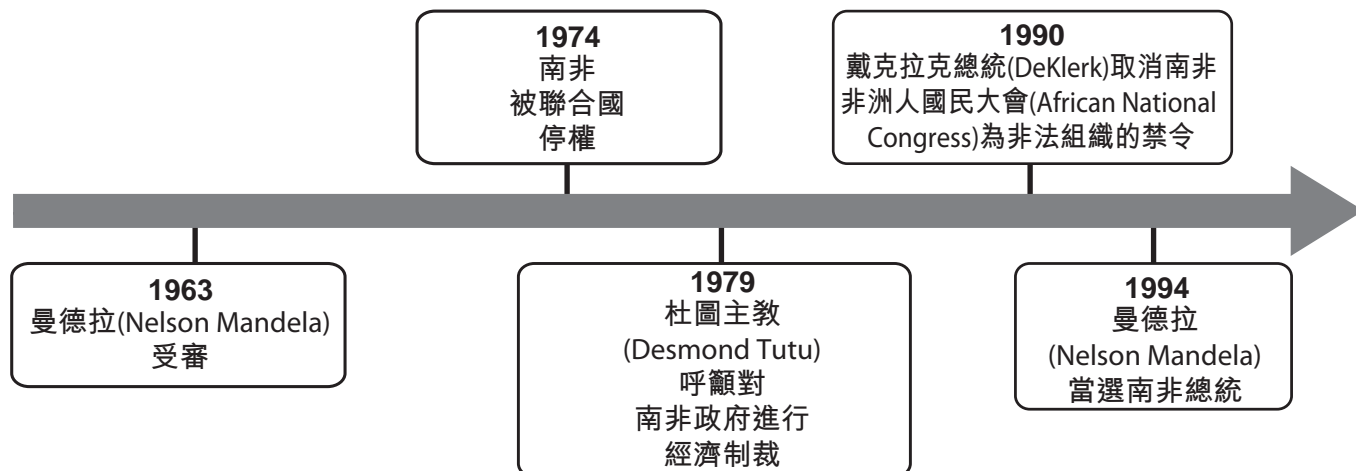
39 依據此圖表中的資料，哪個國家的平均壽命最長？

- (1) 愛爾蘭
- (2) 日本
- (3) 委內瑞拉
- (4) 希臘

40 依據此圖表中的資料，哪個陳述最正確？

- (1) 波蘭比孟加拉更不全球化。
- (2) 瑞士比泰國更全球化。
- (3) 巴西人的壽命通常比加拿大人長。
- (4) 巴基斯坦人的壽命通常比烏干達人短。

依據以下的時間線和你的社會學知識來回答第41題。



41 哪個政策與這個時間線上的事件最密切相關？

- (1) 不結盟
- (2) 緊張關係的緩和
- (3) 圍堵政策
- (4) 種族隔離

42 歐洲聯盟(EU)在二十一世紀初的一個目標是

- (1) 從其軍事同盟中撤出
- (2) 進一步整合他們的經濟體制
- (3) 建立一個核子緩衝區域
- (4) 限制替代燃料的生產

43 「來自中國的污染食品在美國銷售」
「電腦病毒導致全球數百家企業停工」
「跨國公司遷移工廠」

這些標題與什麼有直接關係

- (1) 世界饑荒
- (2) 人口過剩
- (3) 全球暖化
- (4) 經濟的相互依賴

44 騎士、武士和軍閥的一個相似點是他們都

- (1) 是傳統的宗教領袖
- (2) 在中華帝國擔任軍事職位
- (3) 從西班牙將摩爾人驅逐出境
- (4) 在封建制度下佔居權力職位

45 俄羅斯的河流以何種方式影響了它的歷史？

- (1) 它們為拜占庭帝國和俄羅斯之間的貿易提供了一個網絡。
- (2) 它們使得日本在日俄戰爭中擊敗俄羅斯。
- (3) 拿破崙利用他們來入侵俄羅斯。
- (4) 它們提供蒙古人征服俄羅斯的路線。

46 哪個標題最好地完成了下面的部分大綱？

- I. _____
- A. 糖、煙草和棉花到歐洲
 - B. 紡織品、朗姆甜酒以及製成品到非洲
 - C. 被奴役的非洲人到美洲

- (1) 在漢薩同盟內的貿易
- (2) 三角貿易的要素
- (3) 工業化的因素
- (4) 維也納國會的結果

- 47 • 達伽馬(Vasco da Gama)發現了一條從歐洲到印度的水路。
• 麥哲倫(Ferdinand Magellan)的船隊環航地球。
• 牛頓(Issac Newton)定義了重力。

這些事件與什麼最直接相關？

- (1) 修正了對自然環境的理解
 - (2) 質疑重商體制的好處
 - (3) 加深不同宗教之間的猜疑
 - (4) 新的製造技術的開發
- 48 法國國王路易十六和俄國沙皇尼古拉二世的一個相似點是他們兩個人都
- (1) 被革命者處死
 - (2) 被稱為偉大的軍事領導人
 - (3) 主張宗教改革
 - (4) 支持解放農奴

- 49 迪亞斯(Porfirio Diaz)潘喬維亞(Francisco “Pancho” Villa)和埃米利亞諾(Emiliano Zapata)最出名的是他們在什麼中的奮鬥？

- (1) 海地獨立運動
- (2) 墨西哥革命
- (3) 尼加拉瓜戰爭
- (4) 古巴革命

- 50 哪個地區和它所配對的事件最密切相關？

- (1) 中非洲—教皇烏爾班二世呼籲十字軍東征
- (2) 東亞—簽發貝爾福宣言
- (3) 南美洲—慕尼黑會議
- (4) 東歐—柏林空投行動

論文題的答案填寫在分開的論文本上。

回答第II部分的問題時，注意以下一般性定義：

論述指「透過事實、推理和論證來對某件事發表意見；加以詳述」

第II部分

主題論文題

答題說明：撰寫一篇條理分明的論文，包括引言、與下列任務相關的幾個段落、以及結論。

主題：地理

地理特徵影響了世界文明、帝國、國家和地區的歷史和文化發展。

任務：

選擇三個不同的地理特點，並且對於**每個**特點

- 論述這個地理特點如何影響了特定的文明、帝國、國家或地區的歷史**和/或**文化發展

你可以使用在學習世界歷史時所學到的任何地理特徵。你可以考慮的建議包括河流、海域、大洋、雨林、平原、山區、沙漠、島嶼和季風等。

你不必侷限於以上建議。

在答題時，不要寫美國的地理特徵。

指南：

在你的論文中，請務必

- 闡述任務的各個方面
- 引用相關事實、例證及細節來支持主題
- 須合乎邏輯、條理分明，包括一個不只是重複主題的引言和結論

第III部分

基於文件題

本問題是基於隨附的文件。該問題的設計是為了測驗你運用歷史文件的能力。其中一些文件是為這個問題編輯的。當你分析文件時，請參考每份文件的來源及文件中所論述的任何觀點。

歷史背景：

縱觀歷史，思想塑造並影響了不同的社會和地區。這些思想包括 **日心說**、**自然權利**和**馬克思主義**。

任務：運用文件資料和你的世界歷史知識，回答A部分每一份文件後面的問題。你對這些問題的回答將有助於撰寫B部分的論文，在這篇論文中，你將被要求

選擇歷史背景中所提到的**兩個**思想，並且對於**每個**思想

- 解釋這種思想
- 論述這種思想如何對社會或地區產生影響

在回答第III部分的問題時，請注意以下一般性定義：

- (a) **解釋**指「使其平實易懂；提供原因或來由；顯示邏輯發展或關係」
- (b) **論述**指「透過事實、推理和論證來對某件事發表意見；加以詳述」

A部分 簡答題

答題說明：分析以下文件，在所提供的空白處上回答每份文件後的簡答題。

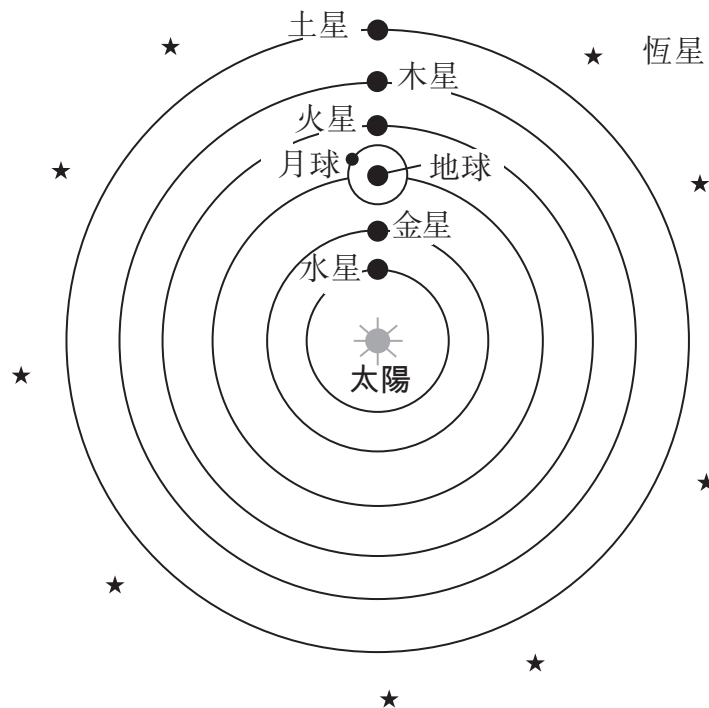
文件1

哥白尼的模型：以太陽為中心的太陽系

亞里士多德(Aristotle)和托勒密(Ptolemy)的地球為宇宙中心的學說主導[管轄]西方思想將近二千年。然而在十六世紀，波蘭天文學家哥白尼(Nicolai Copernicus) (1473 – 1543) 提出了一種新思想。

日心體系(Heliocentric System)

在《天體的革命》(*On the Revolutions of the Heavenly Bodies*) (於哥白尼臨終前發行) 書中，哥白尼提出了太陽，而非地球，才是太陽系中心的觀點。這種模型被稱為日心體系。在這個新體系中，哥白尼所認知的行星順序如下圖所示，即我們現代公認的這些行星的順序。...



資料來源: The Copernican Model: A Sun-Centered Solar System,
Department of Physics & Astronomy, University of Tennessee

1 根據此文件，哥白尼的日心說理論與托勒密關於宇宙的思想有何不同？ [1]

Score

文件2

這是伽利略(Galileo Galilei)於1615年寫給公爵夫人克里斯蒂納(Christina)的一封信的摘錄，他在信中捍衛他對科學的態度。

幾年前，如殿下您所知，我發現了天體有許多在我們以前的年代沒有見過的事物。這些事物的新奇性以及因為他們與學術界哲學家普遍認定的物理概念互相矛盾所造成的後果，激怒了不少教授來反對我——好像是我為了破壞自然和顛覆科學，用我自己的雙手把這些東西放在天上似的。他們似乎忘記了，已知真理的增加是有助於刺激藝術的探索、建立和發展；而不是他們的縮減[減少]或毀滅。

他們表現出對自己觀點的鍾愛勝過真理，反而試圖要否認和反駁新事物，而如果他們認真去尋找，他們自己的感覺就會向他們證明這些事實。為此，他們憤慨地做出各種指控，出版了許多充滿了空洞爭論的著作，而且他們犯下了斷章取義的嚴重錯誤，從聖經中拿出一些他們沒有正確了解的章節，而這些章節根本不符合他們的目的。...

資料來源: Galileo Galilei, "Letter to the Grand Duchess Christina (1615)"

2a 根據伽利略所說，尋求真理為什麼很重要？ [1]

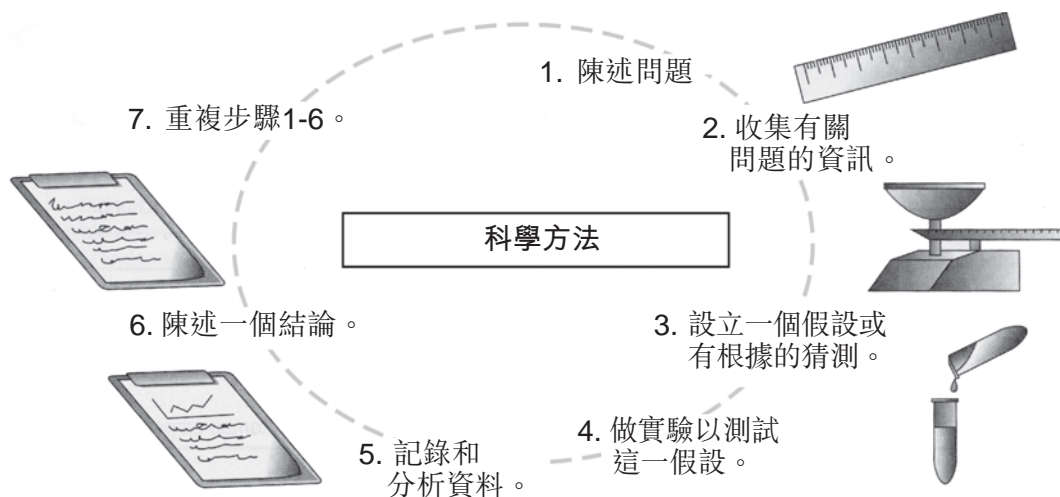
Score

b 伽利略的對手使用哪份文件來支持他們的觀點？ [1]

Score

文件3

... 起初，哥白尼和伽利略的發現讓許多歐洲人感到心煩意亂。然而隨著時間推移，一種對科學的新的思考方式出現了。科學家們開始觀察他們周圍的世界並發展出有關事情為什麼會發生的想法。他們利用實驗來測試這些思想。這種新的思考方式就是所謂的科學方法。...

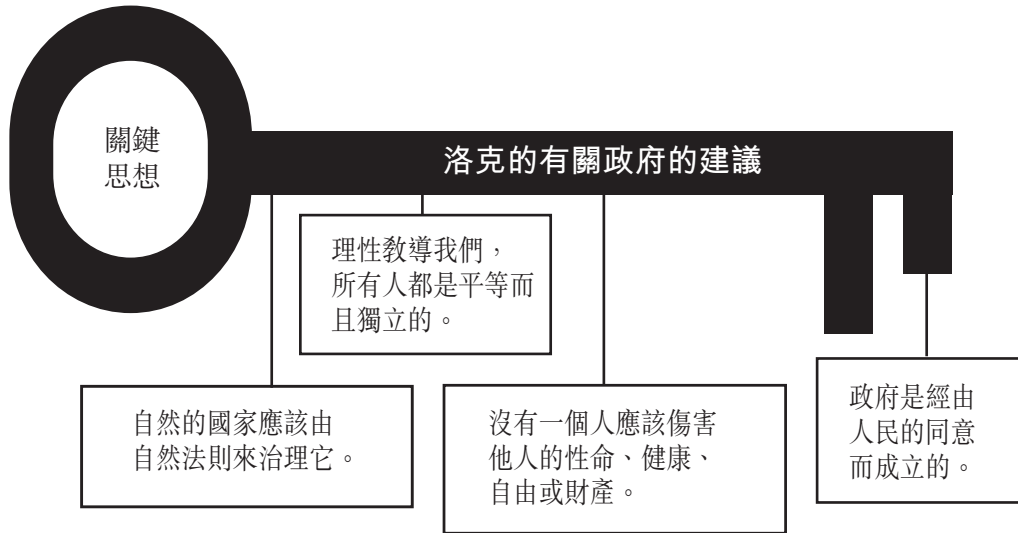


資料來源: *Guide to the Essentials of World History*, Prentice Hall, 1999 (經改編)

3 根據來自《世界歷史精華指南》(*Guide to the Essentials of World History*)的這段摘錄和示意圖，哥白尼、伽利略等人用**哪一種**方法影響了科學家的工作方式？ [1]

Score

文件4



4 依據此架構圖中的資訊，說明洛克(John Locke)認為所有人都擁有的**兩種**特定的權利。 [2]

(1) _____

Score

(2) _____

Score

文件5a

人民與公民權利宣言—1789年

經法國國民議會批准，1789年8月26日

條款：

1. 在權利面前，人們生來是而且始終是自由平等的。除了因為公共利益所可能產生的的社會差別外，其他一概不能成立。
2. 任何政治結合的目的都在於保護人的自然的和不可動搖的[不可剝奪的]權利。這些權利就是自由、財產、安全和反抗壓迫。...
4. 自由就是指有權從事一切無害於他人的事情。因此，每個人自然權利的行使，只受限於用以保證社會上其他成員能享有同樣權利。這些限制僅得由法律規定之。...

資料來源: The Avalon Project at Yale Law School (經改編)

文件5b

聯合國《世界人權宣言》於1948年12月10日由聯合國大會通過。

世界人權宣言

第一條： 人人生而自由，在尊嚴和權利上一律平等。他們賦有理性和良心，並應以兄弟情誼的精神彼此對待。...

第三條： 人人有權享有生命、自由和人身安全。...

第七條： 法律之前人人平等，並有權享受法律的平等保護，不受任何歧視。人人有權享受平等保護，以免受違反本宣言的任何歧視行為以及煽動這種歧視行為的傷害。...

資料來源: United Nations

5 陳述《人民與公民權利宣言》以及聯合國《世界人權宣言》所共同的**兩種**思想。 [2]

(1) _____

Score

(2) _____

Score

文件6

皮諾切特將軍(General Augusto Pinochet)於1998年10月16日在倫敦被捕。他被指控在身為智利前領導人時犯下了侵犯人權的罪行。皮諾切特將軍後來被移交給西班牙就這些罪行接受審判。

皮諾切特案—喚醒暴君和受害者雙方的警鐘

．．． 1996年，代表在阿根廷和智利遭受到軍事鎮壓但無法在本國要求賠償的受害者的律師，在西班牙對這些國家的前軍事領導人提出了刑事申訴，這其中包括皮諾切特將軍。雖然大多數的罪行是在阿根廷和智利所犯下的，由於西班牙立法和國際法中堅定地體現了人權暴行的「普遍管轄權」，雖然這條原則很少被援引，但是西班牙法院允許利用該原則在西班牙進行審理這些案件。．．．

人權觀察組織(Human Rights Watch)形容皮諾切特的逮捕無異於給各地的暴君「當頭棒喝」，但該案件另一個同樣重要的影響是給予其他受害者希望，即使在國外也可以將迫害他們的人繩之以法。事實上，在2000年1月，人權觀察組織就曾幫助查得(Chad)的受害者，在塞內加爾(Senegal)對查得的流亡獨裁者侯賽因(Hissein Habre)提出刑事起訴，他已經因施用酷刑的指控而被起訴，並正等待審判。．．．

資料來源: "The Pinochet Precedent: How Victims Can Pursue Human Rights Criminals Abroad,"
Human Rights Watch, March 2000 (經改編)

6 根據此文件，當人權受到侵犯時，受害者可以用**哪一種**方法尋求正義？ [1]

Score

文件7

共產黨宣言，1848年

II. 無產階級和共產黨人

...共產黨的當前目標與所有其他無產階級政黨是一樣的：將無產階級形成一個階級，推翻資產階級的霸權，由無產階級取得政權。...

共產主義的顯著特點不是普遍廢除財產，而是廢除資產階級的財產。現代資產階級的私有財產是產品生產和佔有體系最終且最完整的表現，這種體系是建立在階級對立以及少數人剝削多數人的基礎之上的。...

資料來源: Marx and Engels, *Manifesto of the Communist Party*,
International Publishers

7 根據馬克思(Marx)和恩格斯(Engels)，什麼是馬克思共產主義所特有的**兩種**思想？ [2]

(1) _____

Score

(2) _____

Score

文件8

宣告社會主義新政府的成立，1917年11月

同志們，布爾什維克(Bolsheviks)一再重申其必要性的工農革命已經成功。

這個工農革命的意義是什麼？其意義是，首先，我們將擁有一個蘇維埃政府，我們自己的權力機構，資產階級在其中完全沒有份。被壓迫的人民群眾會自己創造權力。舊的國家機器將徹底被粉碎，而新的行政機構將以蘇維埃組織的形式成立。

從現在起，俄羅斯的歷史將展開一個新的階段，而這個第三次俄國革命，最終將導致社會主義的勝利。...

在俄羅斯有很大部分的農民說，他們已經陪資本家玩得夠久了，現在將會與工人為伍。我們只需一聲令下，結束土地所有權，就會贏得農民的信任。農民都將明白，農民的拯救全在於與工人結成聯盟。我們應建立真正由工人控制的生產體系。...

我們現在必須著手在俄羅斯建立一個無產階級的社會主義國家。...

資料來源: V. I. Lenin, *Collected Works*, Volume 26, Progress Publishers

8 根據列寧(V. I. Lenin)，布爾什維克革命的一個目標是什麼？ [1]

Score

文件9

... 中國共產黨與他們在蘇聯的同志不同，他們紮根於農民大眾，新政府的社會改革也是最先嘗試在農村進行。

1950年6月30日，政府通過了《土地[農業]改革法》(Agrarian Reform Law)，目的在於將土地還給那些實際耕作的人。工作組被派往全國各地，來執行有利於貧下中農的土地重新分配，並且組成農會或互助組，也就是合作社的前身。...

資料來源: Associated Press, "China: From the Long March to Tiananmen Square," Henry Holt and Company

9 根據美聯社的這段摘錄，中國共產黨企圖用**哪一種**方法改革他們的社會？ [1]

Score

B部分 論文題

答題說明：撰寫一篇條理分明的論文，包括引言、幾個段落、以及結論。在你的論文中引述取自最少**四份**文件中的證據。使用相關事實、例證及細節來支持你的回應。包括其他的外部資訊。

歷史背景：

縱觀歷史，思想塑造並影響了不同的社會和地區。這些思想包括**日心說**、**自然權利**和**馬克思主義**。

任務：運用文件資料和你的世界歷史知識撰寫一篇論文，在這篇論文中

- 選擇歷史背景中所提到的**兩個**思想，並且對於**每個**思想
- 解釋這種思想
 - 論述這種思想如何對社會或地區產生影響

指南：

在你的論文中，請務必

- 闡述任務的各個方面
- 綜合來自至少**四份**文件的資料
- 綜合相關的外部資訊
- 引用相關事實、例證及細節來支持主題
- 須合乎邏輯、條理分明，包括一個不只是重複主題的引言和結論

世界歷史
和地理

僅限用於2011年1月28日(星期五)上 9時15分至下午12時15分

答題紙

男性

學生 性別： 女性

教師

學校

第I部分的考題答案應填寫在本答題紙上。第III A部分的答案應填寫在考題本上，第II和第III B部分的答案填寫在分開的論文本上。

1.....	26
2.....	27
3.....	28
4.....	29
5.....	30
6.....	31
7.....	32
8.....	33
9.....	34
10.....	35
11.....	36
12.....	37
13.....	38
14.....	39
15.....	40
16.....	41
17.....	42
18.....	43
19.....	44
20.....	45
21.....	46
22.....	47
23.....	48
24.....	49
25.....	50

僅供教師使用

Part I Score _____

Part III A Score _____

Total Part I and III A Score

Part II Essay Score _____

Part III B Essay Score _____

Total Essay Score

Final Score (obtained from conversion chart)

No. Right

當你考完試之後，必須在以下聲明的下方簽名。

本人在此考試結束之際特此聲明，本人此考試之前未非法獲得考試內容或答案，並且在考試中，既未向任何人提供幫助，也未從任何人處得到幫助。

簽名

沿此虛線剪下

沿此虛線剪下

