

The University of the State of New York

REGENTS HIGH SCHOOL EXAMINATION

# 世界歷史和地理

僅限用於2003年1月29日（星期三）上午9時15分至下午12時15分

學生姓名 \_\_\_\_\_

學校名稱 \_\_\_\_\_

用印刷體將你的姓名和校名填寫在上面的直線上，然後翻到本考題本的最後一頁，即本次考試第I部分的答案紙。請沿著虛線把最後一頁折疊起來，慢慢地小心地將答案紙撕下，然後在你的答案紙上填寫各項台頭。現在你要在你的論文考題本內的每頁的台頭上用印刷體填入你的姓名和校名。

本次考試共有三部分。你必須要回答每一部分的全部所有題目。用黑色或深藍色水墨原子筆回答論文考題。

第I部分包括五十道選擇題。將答案記錄在另外一張答案紙上。

第II部分包括一道以主題為主的申論題。在本考題的第一頁起開始回答本申論題。

第III部分的申論題是以下列文件為基礎：

第IIIA部分包含各種文件。每一文件後有一或一個以上的問題要回答。在本考題本上，將各題的答案寫在各問題之後的直線上。務必在這一部分的第一頁上填入你的姓名和校名。

第IIIB部分包括一個以各文件為基礎的申論寫作題。將申論寫作題的答案寫在本考題本的第七頁。

在你回答完本次考試後，你必須在第I部分答頁上簽署聲明，表明你沒有非法得到本次考試的試題或答案，並在本考試過程中既沒有給予過也沒有接受任何幫助。你如果不簽署本聲明，你的考試答頁不會被接受。

在沒有給予指示令前不得打開本考題本。

## 第I部分

請回答本部份的所有試題。

答卷說明(1-50): 在另外的答案紙上，根據每一項題目的陳述或問題，填入代表最適當答案的編號。

1 研究口頭歷史，考古證據和文化歷史是誰最常用的方法

- (1) 經濟學家
- (2) 人類學家
- (3) 哲學家
- (4) 政治學家

2 研究古代文明時，地理學家最有興趣注意

- (1) 作為表達方式的語言
- (2) 家庭結構
- (3) 對糧食生產有影響的氣候
- (4) 領導力的標準

3 大多數傳統社會

- (1) 和自然環境緊密相連
- (2) 坐落在大城市地區附近
- (3) 根據複雜的經濟體制而組織
- (4) 依賴製造業

4 黃河，印度河和尼羅河文明的一個相似之處是每一個文明都

- (1) 通過賣買鹽和金而繁榮
- (2) 發展了單神教
- (3) 屢遭入侵
- (4) 從河谷開始起源

5 「漢謨拉比法典」和「羅馬十二銅表法」是用於

- (1) 建造一個穩定的社會
- (2) 提倡和其他文化的和平關係
- (3) 提供民主發展的構架
- (4) 強調死亡後生命的重要

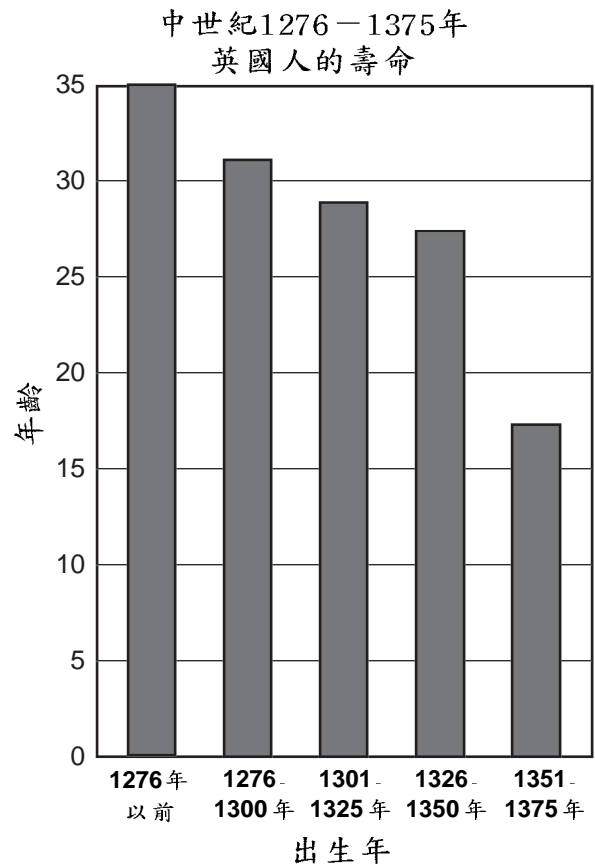
6 梵天，達摩和解脫這幾個詞和哪一個宗教最緊密相關？

- (1) 猶太教
- (2) 伊斯蘭教
- (3) 印度教
- (4) 泛神論

7 君士坦丁堡成為拜占庭帝國的中心是因為

- (1) 教皇使它成為基督教世界的首都
- (2) 它是伊斯蘭教徒的宗教中心
- (3) 其位置使它成為歐亞交匯點
- (4) 地理上它與週圍的帝國隔絕

根據下圖和你的社會科學知識回答第8題。



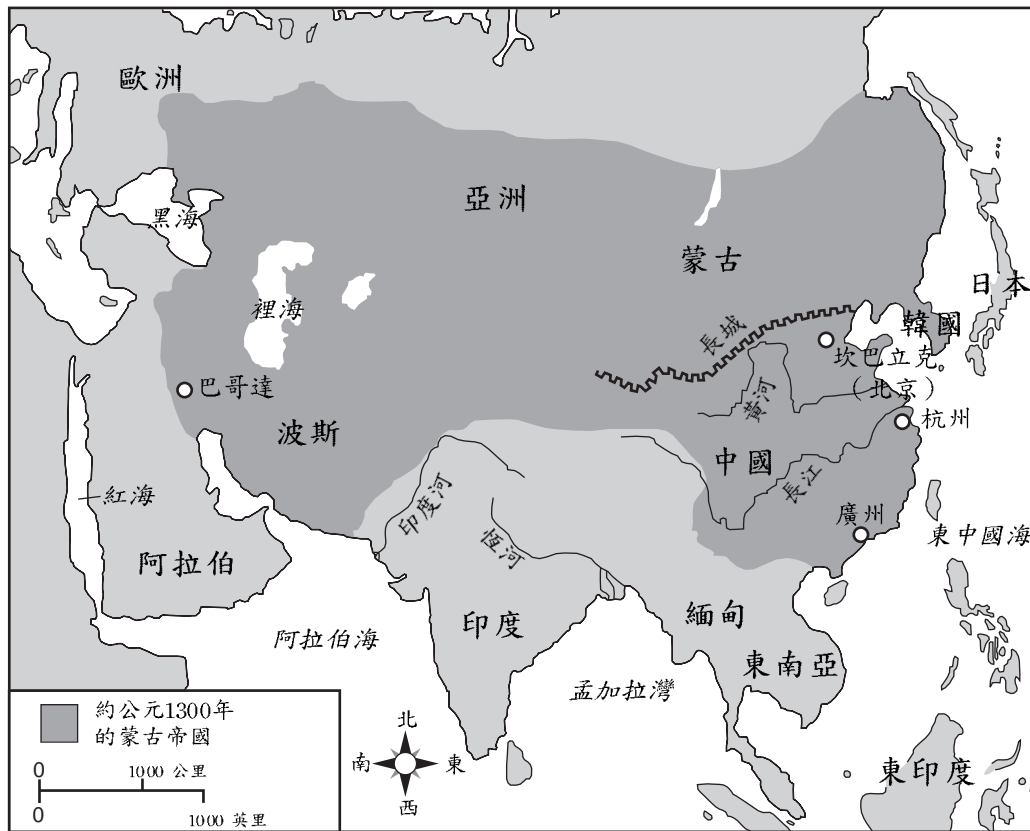
資料來源：「世界戰略史」，格蘭科 (Glencoe) (改編版)

8 如圖所示，造成英國這一趨勢的主要原因是

- (1) 飢荒
- (2) 疾病
- (3) 移民
- (4) 較低出生率

根據下圖和你的社會科學知識回答第9 和第10題。

### 1300年蒙古帝國



資料來源：H·布朗，L·弗曼，H·布若德斯基，「全球歷史和地理回顧」  
(*Reviewing Global History and Geography*)，AMSCO，(改編版)

#### 9 長城是為了

- (1) 保護中國人免遭北亞和中亞遊牧部落的襲擾
- (2) 從南方供應糧食到坎巴立克(北京)
- (3) 控制黃河和長江的洪水
- (4) 保護港口城市廣州

#### 10 本地圖的資訊最支持哪一個陳述？

- (1) 到1300年為止，蒙古帝國已達到紅海。
- (2) 到1300年為止，蒙古帝國已控制了印度和日本。
- (3) 到1300年為止，歐洲大部份已被蒙古征服。
- (4) 到1300年為止，蒙古帝國已控制了亞洲的很大一部份。

#### 11 歐洲的騎士制度和日本武士道的一個相似之處是兩種制度都是為了

- (1) 幫助統治者控制人民
- (2) 引導武士階層的行為
- (3) 有利於社會所有階層
- (4) 支持革命思想

#### 12 精心描寫的書法，禪庭院和茶道是

- (1) 馬薩姆薩(Mansa Musa) 延巴克圖(Timbuktu) 的製品
- (2) 新教改革的成就
- (3) 早期日本文化
- (4) 佛羅倫薩(Florence) 文藝復興時的成就

13 哪個標題對以下的部份提要最合適？

- I. \_\_\_\_\_
- A. 從封建義務中被解放出來的願望
  - B. 保衛聖地
  - C. 對原罪的饒恕
  - D. 對來自中東的財富的慾望

- (1) 宗教改革的理由
- (2) 歐洲十字軍東征的動機
- (3) 羅馬帝國衰落的原因
- (4) 東西方教會分裂的原因

14 在16世紀，航行的技術進步、航海工程學和繪製地圖對什麼的興起有直接貢獻

- (1) 笈多(Gupta)帝國
- (2) 蒙古帝國
- (3) 探索時代
- (4) 中世紀的行會

15 希臘和羅馬文化的復興，15世紀意大利的城市國家的經濟增長和人道主義的發展是下列哪項的幾個方面

- (1) 革命時代
- (2) 新教改革
- (3) 伊斯蘭教的擴散
- (4) 歐洲文藝復興

16 1521年科特斯(Hernán Cortés)征服特諾奇提特蘭城(Tenochtitlán)的一個直接結果是

- (1) 西班牙驅除猶太人和回教徒
- (2) 在非洲地區建立了葡萄牙的貿易路線
- (3) 阿茲臺克帝國的衰落
- (4) 征服庫希(Kush)王國

17 三角貿易制度的成功依靠什麼的增加

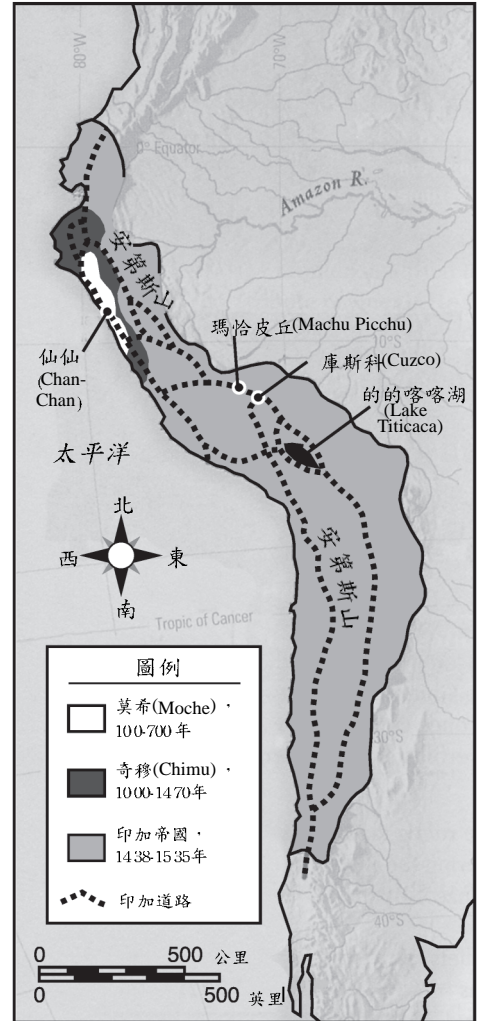
- (1) 加勒比海國家的政治獨立
- (2) 歐洲國家強調自由貿易
- (3) 西半球的奴隸買賣
- (4) 南美殖民國家的工業化

18 伊斯蘭教傳播到加納和馬裡王國是由於

- (1) 帝國主義
- (2) 民族中心主義
- (3) 文化傳播
- (4) 自決

根據以下地圖和你的社會科學知識回答第19題。

100-1535年的南美文化

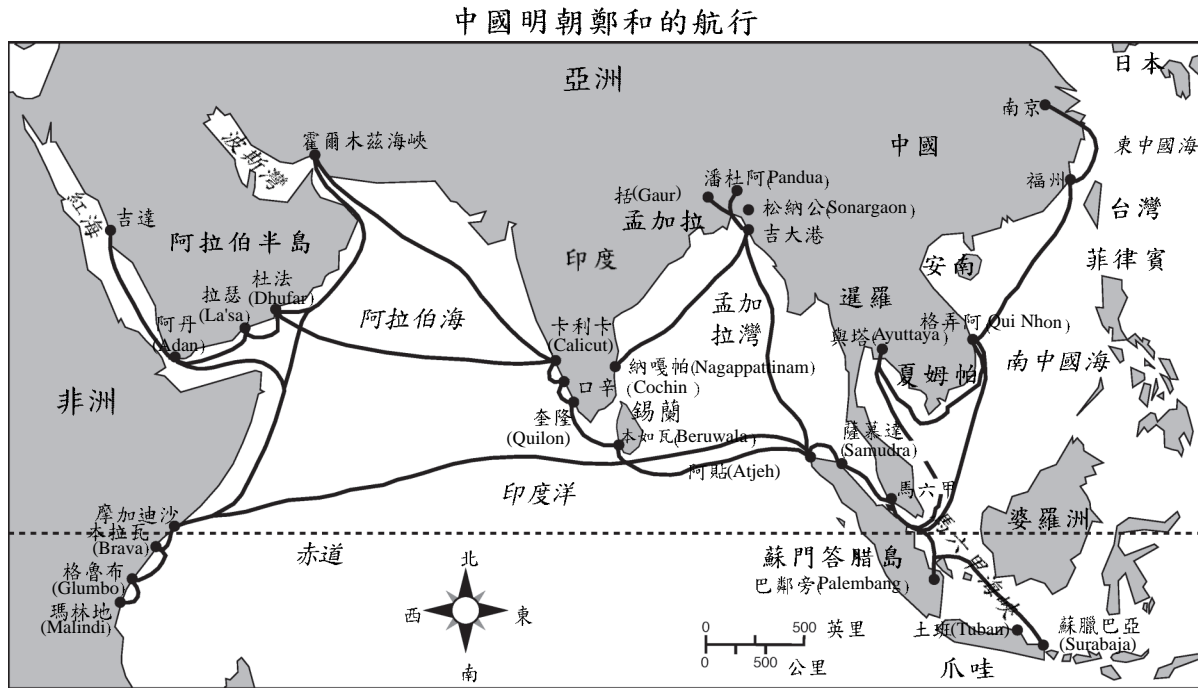


資料來源：「世界歷史：相互作用模式」，  
麥克道戈·裡特爾(McDougal Littell)

19 從這幅地圖能夠對印加社會得出下列哪項結論？

- (1) 為了貿易，大規模的道路系統連接了帝國的各個部份。
- (2) 其貿易依靠很多海港。
- (3) 整個帝國都是熱帶氣候條件。
- (4) 相似的語言使印加文明統一。

根據以下地圖和你的社會科學知識回答第20題。



資料來源：蓋勒·羅森費爾德，全球研究(Harriett Geller, Erwin M. Rosenfeld, *Global Studies*)，「亞洲非洲和拉丁美洲」(Volume I, Asia, Africa, and Latin America)，巴仁教育服務公司(Barrons Educational Services, Inc.) (改編版)

20 鄭和旅行的結果可用來對中國明朝作出什麼結論？

- (1) 中國從非洲的貿易比從亞洲貿易獲利更多。
- (2) 伊斯蘭教成為中國的主要宗教。
- (3) 明朝建立了到歐洲的貿易通道。
- (4) 中國有先進的航海技術。

21 專制君主最有可能說哪一句引語？

- (1) 「管理得最好的政府是管理得最少的。」
- (2) 「朕即國家。」
- (3) 「政府必須建立在完備憲法的基礎上。」
- (4) 「法律必須由議會制定。」

22 英國光榮革命的結果是

- (1) 加強了君權神授統治
- (2) 形成有限制的君主制
- (3) 削弱了議會的財政權力
- (4) 結束了權利請願書中所保證的民眾自由

23 科學革命和啟蒙運動的一個相似之處是二者都

- (1) 有羅馬天主教會的支持
- (2) 強調傳統觀念的價值
- (3) 強調人類理性的價值
- (4) 對結束封建主義有貢獻

24 「今天生活在西班牙體系內的美國人在社會中所佔的位置也許比以前任何時候都在更大程度上比一個註定要勞動的農奴好不了多少，或最好的情形他們也不比僅僅是消費者更有地位...」

寫於1815年9月的這段引語代表誰的觀點

- |                                 |                             |
|---------------------------------|-----------------------------|
| (1) 馬丁·路德 (Martin Luther)       | (3) 西蒙·波里維亞 (Simón Bolívar) |
| (2) 凱瑟琳大帝 (Catherine the Great) | (4) 亞當·史密斯 (Adam Smith)     |

25 「如果人在自然狀態裡是自由的，如果他是自己和其財產的絕對主宰，他為什麼要放棄他的自由呢？他為什麼要將自己置於任何人或制度的控制之下呢？明顯的回答是自然狀態裡的權利常遭別人的侵犯。因為每個人都是平等的，又因為大多數人不關心公正和公義，所以在自然狀態裡權利的享受不安全，沒有保障。所以每個人都要在社會中和別人聯合起來以保存其生命、自由和財產。」

— 約翰·洛克「兩篇政府論文」1690年

這一陳述為以下什麼提供支持

- (1) 消滅自由放任的資本主義
- (2) 形成根據社會契約為基礎的政府
- (3) 繼續絕對君主制
- (4) 拋棄自然權利的哲學

26 19世紀的哪一項思潮導致德國統一和意大利統一，並導致奧匈帝國和奧土曼帝國的最終崩潰？

- |          |          |
|----------|----------|
| (1) 帝國主義 | (3) 自由主義 |
| (2) 民族主義 | (4) 社會主義 |

27 「飢荒似乎是大自然最後的也是最可怕的一著。人口的力量遠遠大於土地向人們提供糧食的力量，以致於夭折必須以一種形式或另一種形式光顧人類...」

— 托馬斯·馬爾薩斯，  
「人口隨筆」，1798年

這一預言被證明是錯誤的，部份原因是由於什麼的增長

- (1) 種族滅絕
- (2) 農場生產力
- (3) 戰爭數量
- (4) 旱災的數量

根據以下段落和你的社會科學知識回答第28和29題。

「這是一個紅磚城，或是說如果煙灰能讓它紅的話它的磚可以是紅的；但實際上這座城是不自然的紅和黑；就像畫了臉的蠻人那樣。這座城到處是機械和高高的煙囪，其中冒出無休止的煙像蛇一般拖曳，一直一直地在拖，永遠也解不開。城裡有一條黑運河，還有一條能聞到臭染料的紫色的河...」

— 查爾斯·狄更斯，「艱難時代」

28 這一段作者在描述由什麼引起的狀況

- (1) 商業革命
- (2) 法國大革命
- (3) 工業革命
- (4) 科學革命

29 這一段的主題是關於什麼問題？

- (1) 經濟的不平等
- (2) 城市污染
- (3) 沒有童工法
- (4) 很差的交通系統

30 日本的明治維新一部份是由什麼促發的

- (1) 對日本將淪為西方國家殖民地的恐懼
- (2) 日本擴張的失敗
- (3) 幕府時代將軍皈依基督教
- (4) 想保持孤立的願望

31 歐洲民族主義和軍國主義的壯大以及秘密同盟的產生是

- (1) 民主興起的理由
- (2) 第一次世界大戰的原因
- (3) 經濟發展的必要條件
- (4) 共產主義崩潰的原因

根據下圖和你的社會科學知識回答第32題。

強國國防評估，1870-1914年  
(以數百萬英鎊計)

	1870	1880	1890	1900	1910	1914
德國	10.8	20.4	28.8	41.0	64.0	110.8
奧匈帝國	8.2	13.2	12.8	13.6	17.4	36.4
法國	22.0	31.4	37.4	42.4	52.4	57.4
大不列顛	23.4	25.2	31.4	116.0	68.0	76.8
意大利	7.8	10.0	14.8	14.6	24.4	28.2
俄羅斯	22.0	29.6	29.0	40.8	63.4	88.2

資料來源:A.J.P. 泰勒，「1848-1918年，為控制歐洲進行的鬥爭」  
(*The Struggle for Mastery in Europe: 1848-1918*)，牛津大學出版社(改編版)

32 圖表中的數據最支持哪一項陳述？

- (1) 奧匈帝國在1880年不能負擔龐大的軍事開支。
- (2) 法國1900年在防禦上的花費最大。
- (3) 1890年以後德國迅速增加軍費。
- (4) 大不列顛試圖為長期地面戰爭做準備。

33 日本人，德國人和意大利人為得到什麼而在二次大戰前執行擴張主義政策

- (1) 自然資源
- (2) 不凍港
- (3) 工廠
- (4) 航海自由

34 關於地理對波蘭歷史的影響哪一項陳述最準確？

- (1) 天然屏障孤立並保護了波蘭。
- (2) 北歐平原使波蘭易遭受入侵。
- (3) 山脈限制了波蘭文化的散播。
- (4) 缺乏港口限制了波蘭經濟的增長。

35 1931年日本入侵滿州和希特勒在1935年重建德國軍事表明

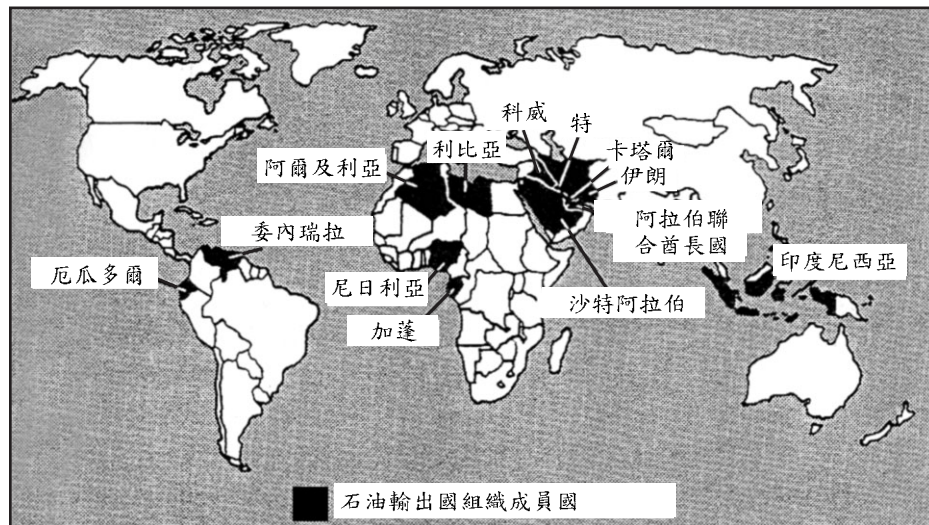
- (1) 防禦同盟的勝利
- (2) 對共產主義擴展的恐懼
- (3) 對凡爾賽條約的支持
- (4) 國聯的失敗

36 哪一個行動說明種族滅絕的概念？

- (1) 英國在1938年慕尼黑會議期間與希特勒(Adolf Hitler)協商和平
- (2) 希特勒和史達林(Joseph Stalin)在1939年簽署互不侵犯條約
- (3) 作為希特勒終極方案的一部份，納粹軍隊消滅猶太人和其他族類
- (4) 德國將軍們謀反阿道夫·希特勒

根據以下地圖和你的社會科學知識回答第37和38題。

### 石油輸出國組織成員國



資料來源：克勞然，茲瑪，亞瑞(Killoran, Zimmer, Jarret)，「理解全球歷史的要點」，Jarret 出版社

37 根據地圖，世界上的哪一個地區有最多石油輸出國組織成員國？

- (1) 中東
- (2) 南非
- (3) 北美
- (4) 東南亞

38 石油出口國組織成員國的潛在力量在於其

- (1) 對熱帶地區的政治影響
- (2) 控制重要宗教場地的通道
- (3) 軍事控制有戰略意義的航道
- (4) 對工業化國家的經濟影響

39 馬歇爾計劃的目的是

- (1) 恢復日本的經濟發展
- (2) 對中東的同盟提供軍事援助
- (3) 保證中國內戰中的國民黨勝利
- (4) 為西歐經濟復原提供援助

40 杜魯門主義，朝鮮戰爭，瓜地馬拉危機和蘇聯入侵阿富汗全是

- (1) 產業革命的原因
- (2) 日本帝國主義的例子
- (3) 冷戰事件
- (4) 引起第二次世界大戰的緣由

41 戈爾巴喬夫(Mikhail Gorbachev)為什麼執行公開和改革政策

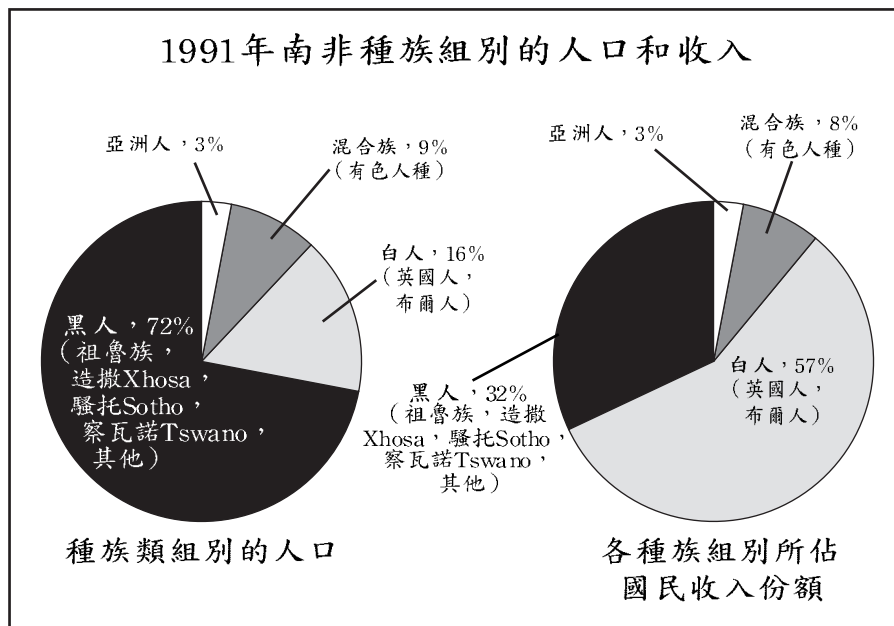
- (1) 加強共產主義的基本經濟原則
- (2) 讓蘇聯進入歐洲經濟共同體
- (3) 進行蘇聯的政治經濟改革
- (4) 為自由政治選舉贏得選民的接受

42 在20世紀後期，哪個地區的森林破壞成為嚴重問題？

- (1) 歐洲大平原
- (2) 亞馬遜盆地
- (3) 德干高原(Deccan Plateau)
- (4) 大裂谷(Great Rift Valley)



根據下圖和你的社會科學知識回答第43題。



資料來源：克勞然，茲瑪，亞瑞 (Killoran, Zimmer, Jarret), 「理解全球歷史的要點」, Jarret 出版社

43 從這些圖表能得出的最好的結論是在1991年

- (1) 在南非布爾人多於英國人
- (2) 由於外移，黑人人口已經減少
- (3) 亞洲人控制的收入比重大於他們的人口比重
- (4) 白人在種族隔離結束後繼續控制最大部份的收入

根據1998年報紙上出現的以下這段陳述回答第44題。

「新德里的人們對原子彈試驗的反應是走到街上點燃爆竹，感謝印度教的神並叫喊‘印度母親勝利!’ (Bharat Mata Jai!)。」

「克林頓總統(Bill Clinton)因為印度政府起爆三個地下原子核，今晚決定對其進行經濟制裁。」

44 這兩段新聞選錄支持哪一個陳述？

- (1) 印度在發展核武器競賽中落後。
- (2) 美國正式支持印度的核武器計劃。
- (3) 印度人民和美國人民對印度核試驗的反應截然不同。
- (4) 印度發展核武器將改善該地區的和平。

45 地球臭氧層的惡化和酸雨數量的增加所帶來的問題表明全球需要

- (1) 發展中經濟的迅速工業化
- (2) 更好的醫療計劃
- (3) 利用原子能的產電設施
- (4) 更嚴格的污染規章

46 1960年代開始，全球很多地方的飢荒已經透過什麼而減少

- (1) 城市化的增長
- (2) 全球變熱
- (3) 自由放任的資本主義
- (4) 綠色革命

47 哪一個題目對完成以下的部份提要最合適？

I. \_\_\_\_\_

- A. 愛爾蘭的民眾飢荒 (1845-1850年)
- B. 印度分割 (1947年)
- C. 拉美人在美國尋找工作 (二次世界大戰後)
- D. 巴爾干半島的種族滅絕 (90年代)

- (1) 全球遷移的原因
- (2) 工業化的原因
- (3) 殖民主義的理由
- (4) 文化借用的理由

48 歐洲歷史的發展

- A 新教改革
- B 封建時期
- C 產業革命
- D 新石器革命

哪一系列事件是正確的時間順序？

- (1) C → A → B → D
- (2) D → C → B → A
- (3) B → D → A → C
- (4) D → B → A → C

49 聖雄甘地和肯亞塔(Jomo Kenyatta)的相似之處是兩人都

- (1) 支持殖民政策
- (2) 尋求從大不列顛獨立
- (3) 領導全球抵制英貨
- (4) 運用暴力革命達到其目的

50 • 遜尼派和什葉派教徒對誰應該領導伊斯蘭教有不同看法。

- 如今一些印度教徒比其他人更膺服種姓統治。
- 大部份佛教徒屬於兩個主要宗派的一支。
- 基督教由天主教徒和新教徒實踐。

這四個陳述中的資訊支持哪一個結論？

- (1) 很多的宗教中，經常存在多個信仰。
- (2) 信仰一個神對於所有宗教都是共同的。
- (3) 權力等級存在於所有宗教中。
- (4) 宗教對人們變得不那麼重要了。

所有申論題答案均應寫在另一本答卷上。

在回答第二和第三部分考題時，請記住下列的一般性定義：

- (a) 解釋表示「使清楚或能理解，舉出原因或理由，顯示邏輯發展或關係」
- (b) 描述表示「用文字闡述或講述」
- (c) 評價表示「檢查和判斷意義，價值或條件，決定價值」
- (d) 比較和對比表示「表達相似之處和不同之處」

## 第II部分

### 命題論述題

答卷說明：寫一篇條理分明的短文，包擴引語、與以下內容相關的幾個段落、以及結論。

命題：變化

在整個歷史中，政治革命有很多原因。這些革命影響了社會並導致許多變化。這些變化可能會也可能不會解決引起革命的那些問題。

任務：

從您所學的世界歷史和地理選一個政治革命並：

- 解釋革命的原因
- 描述這場政治革命對社會產生的效果
- 評價這場政治革命帶來的變化是否解決了引起革命的問題

你可以使用任何你在世界歷史中學到的例子，但不要用美國革命。建議你可考慮法國革命（1789年），墨西哥革命（1910年），俄國革命（1917年），中國革命（1949年），古巴革命（1959年）或伊朗革命（1979年）。

請不要以任何在美國發生的環境變化為例答題。

指南：

在文章中請務必：

- 完成以上任務的各個方面
- 用相關事實、例證和細節支持命題
- 作到邏輯清楚、條理分明
- 在介紹命題時建立一個框架，而不是簡單地重複任務，結束時對命題加以總結

## 第III部分

## 歷史文件題

該問題基於隨附的歷史文件(1 - 8)。問題的設計旨在測驗你運用歷史文件的能力。有一些文件因為所提的問題而進行了編輯。在你分析這些文件時，請考慮每個文件的來源以及或許在文件中提出的任何觀點。

## 歷史背景：

歷史背景，地理位置因素和資源獲得因素影響了大不列顛和日本的歷史。

任務：運用文件中的資訊和你的世界歷史知識，回答A部分中每一份文件後面的問題。你對問題的回答將有助於你寫作B部份的文章：

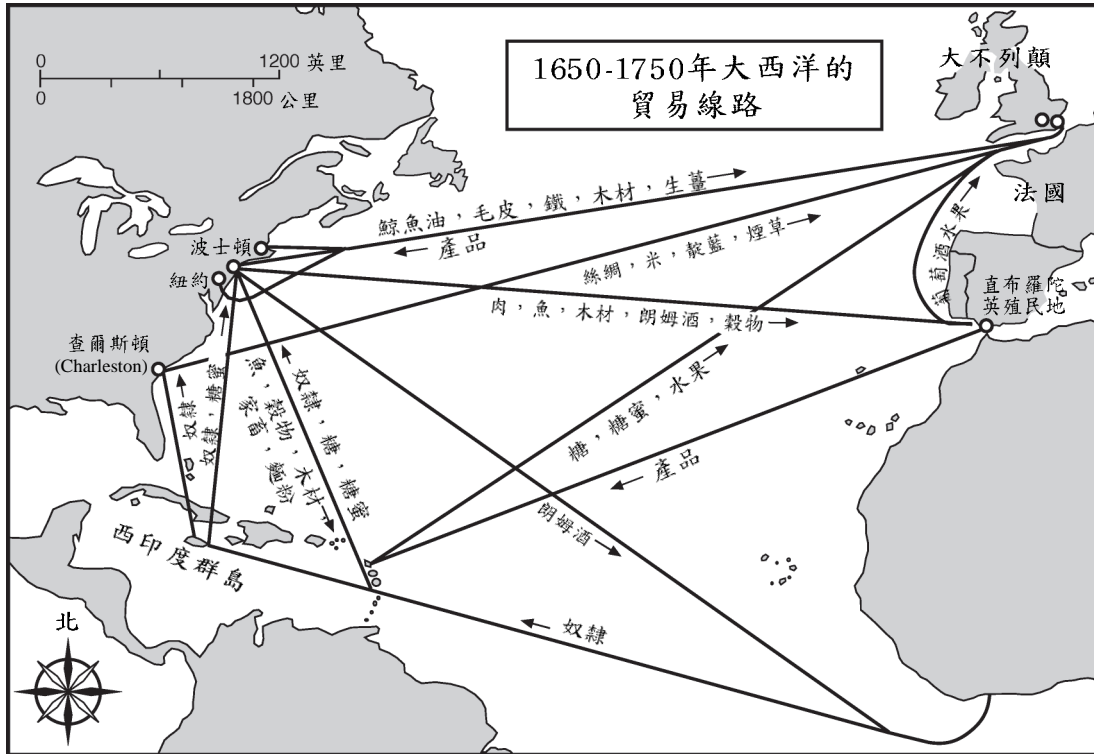
- 任務，比較和對比例如位置和資源獲得等地理因素對大不列顛和日本的政治經濟發展影響。

A部分

簡短問答題

答卷說明： 分析以下文件，在空白處簡要回答每一份文件後面的問題。

文件1



資料來源：史蒂文·戈德博和朱迪思·克拉克·杜普埃，「全球歷史和地理簡評」，普倫蒂斯·豪公司（改編版）

1 大不列顛沿大西洋貿易線路出口什麼？ [1]

---

---

Score-得分

文件2

在將英國製造方面的優勢和其他國家的相比較時，我們切不可忽視這個國家極佳的貿易位置—靠近南北歐之間;而且地處隔絕[島嶼位置]，既擁有大海，又使我們的領土免遭入侵或騷擾。德國的海洋，波羅的海和地中海是我們船隻的正常通道，而且，我們朝西的港口到大西洋和到世界各地[部份]一無阻隔[空曠]。

資料來源：愛德華•本因斯，「大不列顛製棉史」，A•M•凱利

2 根據本文件，找出英國從其地理位置中受益的兩個方面。 [2]

(1) \_\_\_\_\_

\_\_\_\_\_

(2) \_\_\_\_\_

\_\_\_\_\_

Score- 得分

文件3

...然而英國已在兩方面變得強大。她既是殖民強國又是工業大國。她很幸運擁有成功所需的自然條件。

擁有大海受自然條件的限制，工商業也深受自然條件限制。先進的製造業聚集在煤田附近，那裡電力便宜；擁有良港對海上貿易至關重要；一個擁有寬闊和緩河流作為自然運河的國家在內部交通上比一個被山脈切斷的國家具有優勢... 當我們認識到英國有很多這些優勢，她有埋在一起的煤和鐵，她的羊出產最好的羊毛，她有很多港口，她不缺少河流，而且全國沒有一個地方離海超過70英里，我們還沒說完...

資料來源：喬治·T·華納，「英國工業史里程碑」，布萊基父子有限公司

3 根據本文件，大不列顛從其地理中受益的兩個方面是什麼？ [2]

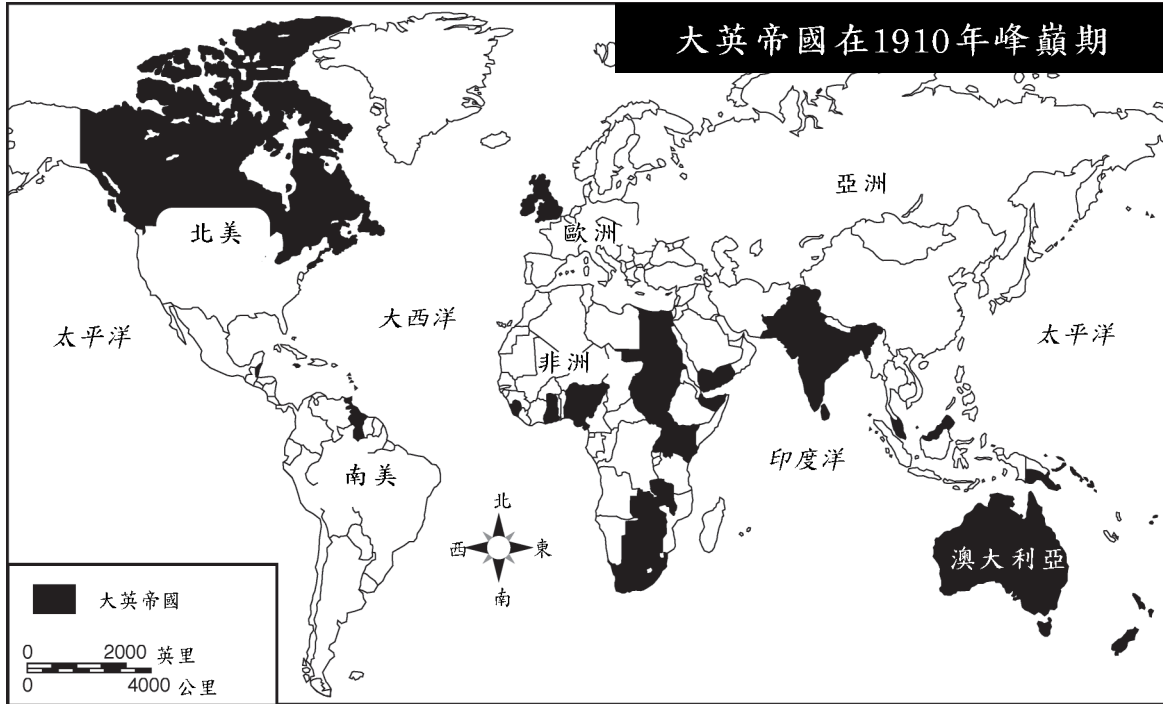
(1) \_\_\_\_\_

\_\_\_\_\_

(2) \_\_\_\_\_

\_\_\_\_\_

Score-得分



資料來源：羅杰·貝克和琳達·布萊克等，「世界歷史：相互作用模式」，麥克道戈·裡特爾(McDougal Littell) (改編版)

4 這個大英帝國在1910年範圍的地圖表明什麼？ [1]

---

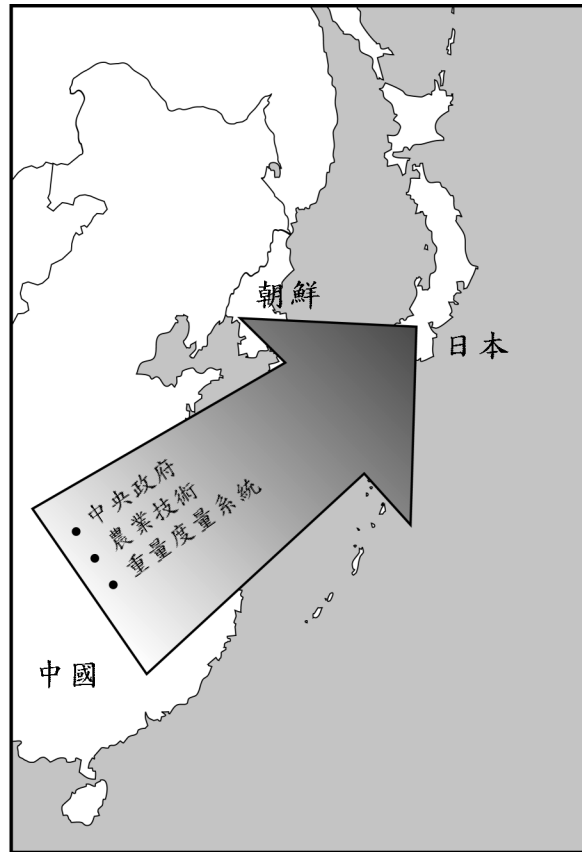
---

---

Score-得分



公元500-1000年來自中國的文化傳播



5a 日本的位置對來自中國的文化傳播有什麼影響？ [1]

---

---

Score-得分

b 找出一個由中國對日本社會所作的文化貢獻。 [1]

---

---

Score-得分

文件6

...日本的地理特点和古希腊[希臘]有很多共同之處。兩國同樣有山脈，峽谷和平原的結合，也有鋸齒形的帶海灣，半島的海岸線和隔開的島嶼。內地只有極少的地方遠離山脈，沒有什麼地方真正遠離大海...

陸地到處都保護得很好，但也都朝向大海，並且每一個地方從早期就自由接觸商業和文明...

日本深深的鋸齒形海岸線給太平洋海岸提供許多良港，海岸各種魚類豐富，幾個世紀來構成人們一項主要食物。捕魚業為擁有現代最強大和龐大的海軍之一的日本提供征兵源...

資料來源：沃爾特·魏斯特，「日本地理對日本人民性格之影響」，  
倫敦日本協會、會報和會議錄，XX（1922-1923年）

6 根據本文件，找出地理影響日本發展的兩點。 [2]

(1) \_\_\_\_\_

\_\_\_\_\_

(2) \_\_\_\_\_

\_\_\_\_\_

Score- 得分

...[明治]維新時日本[ 1868-1912年 ]幾乎是一個簡單純粹的農業國。幾乎是沒有重要的產業。從事農業的人 [農民] 生產足夠的糧食物供應全國，無論從哪個方面，日本完全是自立。甚至連稅都以大米支付，農民遠比商人的地位高。不過歷史告訴日本人民，如果土地的收入和人民的昌盛要絕對依靠雨水或陽光的多少，這將很難維持國家強大的高水準....

除了滿足生活必須，還有另一個原因，就是了解到工業發展將極大地增強國力，不僅僅是在遠東，在歐洲國家也一樣。人們認識到工商的發展比軍事力量更能確實保證強大，征服市場比摧毀軍隊和海軍更靈驗[有效]。認識到這一點，日本希望成為東方的英國....

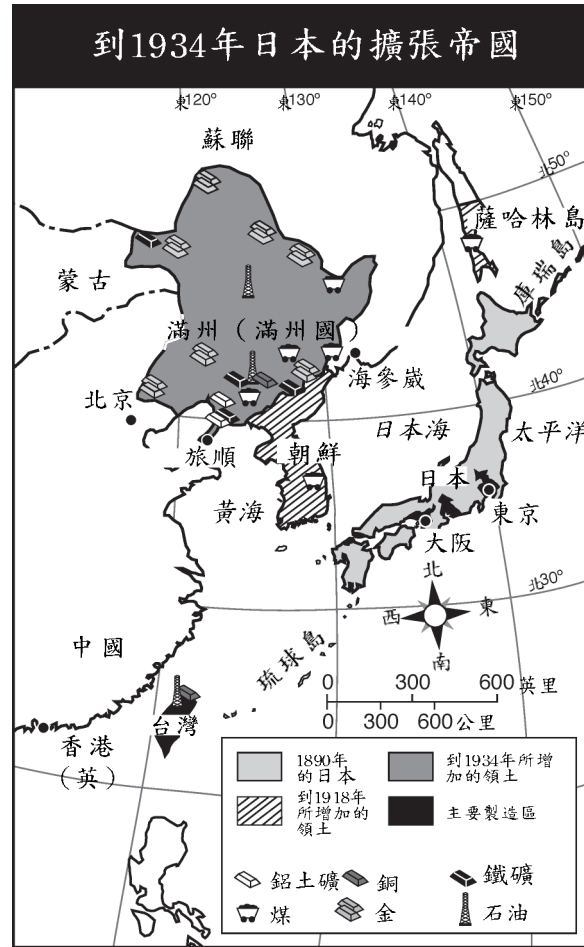
資料來源：阿爾弗雷德·史泰德，「大日本：國家效率之研究」，  
約翰·萊恩公司

7a 找出明治維新前日本經濟生活的一個特點。 [1]

Score-得分

b 找出明治維新改變日本經濟生活的一個方面。 [1]

Score-得分



資料來源：埃利斯和愛斯勒 (Elisabeth Gaynor Ellis, Anthony Esler)，「世界歷史與今天的聯繫：現代」，Prentice-Hall (改編版)

8 根據本地圖提供的資訊，陳述一個日本想得朝鮮和滿州的理由。 [1]

---

---

---

Score-得分

## B部分

### 文章

答卷說明：寫一篇條理分明的短文，包擴引語、幾個段落、以及結論。在文章中至少引用五份文件的例證。用相關事實、例證和細節支持你的論點。請包含其他補充資訊。

歷史背景：

位置和擁有資源的地理因素影響了大不列顛和日本的歷史。

任務：運用文件中的資訊和你的世界歷史知識寫一篇短文，在文章中：

- 比較和對比諸如位置和擁有資源的地理因素對大不列顛和日本在政治和經濟發展方面產生的影響

指南：

在文章中請務必：

- 完成任務的各個方面，準確地分析和詮釋至少五份文件
- 在文章主題部份引用文件中的資訊
- 引用相關外部資訊
- 用相關事實、例證和細節支持命題
- 作到邏輯清楚、條理分明
- 在介紹命題時建立一個框架，而不是簡單地重複任務或歷史背景，結束時對命題加以總結



## The University of the State of New York

REGENTS HIGH SCHOOL EXAMINATION

## 世界歷史和地理

僅限用於2003年1月29日（星期三）上午9時15分至下午12時15分

## 答卷紙

學生 \_\_\_\_\_ 性別： 男  
 教師 \_\_\_\_\_  
 學校 \_\_\_\_\_

第I部分的考題答案則應書寫在本答案紙上。把第IIIA部分的答案寫在考題本上，並把第II部分和把第IIIB部分的答案寫在另外分開的申論文本內。

## FOR TEACHER USE ONLY

Part I Score \_\_\_\_\_

Part III A Score \_\_\_\_\_

Total Part I and III A Score 

Part II Essay Score \_\_\_\_\_

Part III B Essay Score \_\_\_\_\_

Total Essay Score Final Score  
(obtained from conversion chart) 

## 第I部分

- |         |         |
|---------|---------|
| 1.....  | 26..... |
| 2.....  | 27..... |
| 3.....  | 28..... |
| 4.....  | 29..... |
| 5.....  | 30..... |
| 6.....  | 31..... |
| 7.....  | 32..... |
| 8.....  | 33..... |
| 9.....  | 34..... |
| 10..... | 35..... |
| 11..... | 36..... |
| 12..... | 37..... |
| 13..... | 38..... |
| 14..... | 39..... |
| 15..... | 40..... |
| 16..... | 41..... |
| 17..... | 42..... |
| 18..... | 43..... |
| 19..... | 44..... |
| 20..... | 45..... |
| 21..... | 46..... |
| 22..... | 47..... |
| 23..... | 48..... |
| 24..... | 49..... |
| 25..... | 50..... |

No.   
Right 

當你考試完畢之後，必須在以下聲明的下方簽名。

本人在此考試結束之際特此聲明，本人在此次考試之前未非法獲得考題內容及答案，並且在考試中，既未向任何人提供幫助亦未從任何人處得到幫助。

簽名

