



Chinese Edition
Grade 3 Mathematics Test, Book 1
March 3–7, 2008

紐約州考試計劃
數學考試
第 1 卷

3 年級

2008 年 3 月 3–7 日



Developed and published by CTB/McGraw-Hill LLC, a subsidiary of The McGraw-Hill Companies, Inc., 20 Ryan Ranch Road, Monterey, California 93940-5703. Copyright © 2008 by New York State Education Department. All rights reserved. No part of this publication may be reproduced or distributed in any form or by any means, or stored in a database or retrieval system, without the prior written permission of New York State Education Department.

考試建議

以下建議可幫助你獲得好成績：

- 請務必仔細閱讀測驗本中的所有說明。
- 在回答問題之前，仔細閱讀每一試題，並好好思考一下答案後再作答。



此圖表示你會使用尺子。

例題 A

$$\begin{array}{r} 227 \\ + 14 \\ \hline \end{array}$$

- A 311
- B 241
- C 231
- D 232

例題 B



接下來會服務哪個號碼？



A



B



C



D

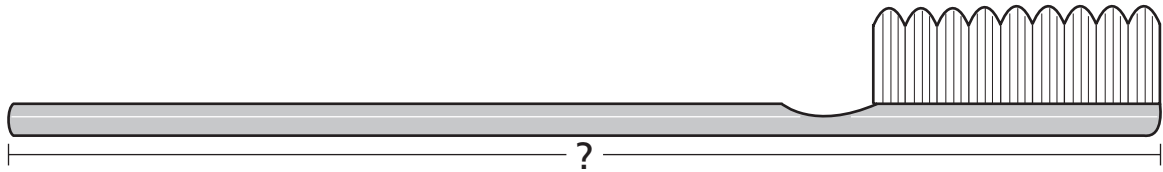
繼續

例題 C



使用你的尺子來協助解答。

下圖的牙刷有幾英寸長？



- A $4\frac{1}{2}$
- B 5
- C $5\frac{1}{2}$
- D 6

停止作答

1 哪個數字和八百零四相同？


- A 84
- B 804
- C 840
- D 8,004

2



使用你的尺子來協助解答。

下圖顯示了貝琪所買的書籤。



貝琪的書籤有幾英寸長？

- A $4\frac{1}{2}$
- B 5
- C $5\frac{1}{2}$
- D 6

繼續

3

那卡塔小姐在商店裡花了 \$0.70。哪一組錢幣正好表示 \$0.70？



繼續

4 線上應填入哪個數字，才能使數字句型正確？

$$6 + 4 + 5 = 4 + \underline{\quad} + 6$$

- A 4
- B 5
- C 10
- D 15

5 有一隻大象星期六吃了 345 磅食物，星期日吃了 263 磅食物。這隻大象在這兩天裡共吃了多少食物？

- A 508 磅
- B 598 磅
- C 608 磅
- D 609 磅

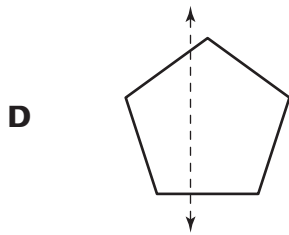
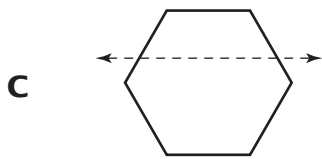
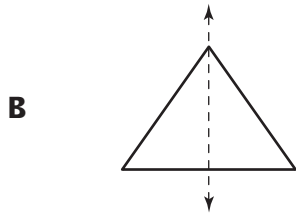
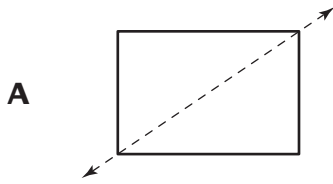
6 大衛有奇數本漫畫書。大衛可能有多少本漫畫書？

- A 16
- B 23
- C 38
- D 40

繼續

7

哪個形狀顯示出正確的對稱線？



繼續

8

譚雅在學校商店購買用品。下面的硬幣是她找回的零錢。



譚雅找回多少零錢？

- A \$0.51
- B \$0.56
- C \$0.61
- D \$0.66

9

傑洛米寫出下面的數字句型。

$$4 \times 8 = 8 \times \underline{\quad}$$

線上應填入哪個數字，才能使數字句型正確？

- A 4
- B 8
- C 12
- D 32

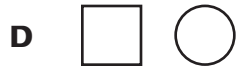
繼續

10

達尼爾畫了下面的模式。



達尼爾的模式中接下來的兩個形狀是什麼？



11

「常青樹」苗圃種下了一些檸檬樹。他們種了 4 排檸檬樹，每一排有 7 顆樹。
「常青樹」苗圃總共種了多少顆檸檬樹？

- A 11
- B 21
- C 28
- D 32

繼續

12

羅賓先生正在為學校前門製作一個標示牌。他要把下面的數字放在牌子上。


7 , 5 , 9

羅賓先生可以用這三個數字拼出的**最大**數字是什麼？

- A 795
- B 957
- C 975
- D 759

13

安妮塔烤了下图所示的餅乾。



哪個表達式可用來算出安妮塔所烤的餅乾數？

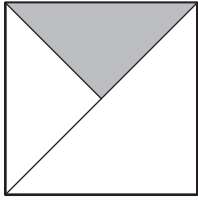
- A $4 + 4$
- B 5×4
- C $4 + 5$
- D 5×5

繼續


14

哪個圖形有 $\frac{1}{3}$ 陰影？


A



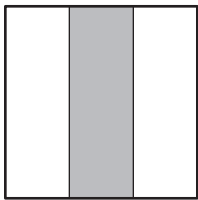
B



C

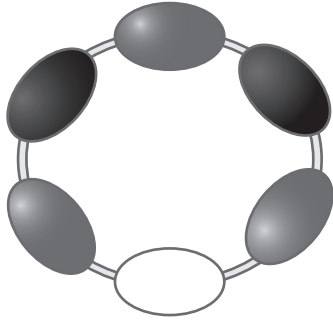


D



繼續

- 15 妮可用小珠子來串下圖所示的手鐲。



珠子的總數當中有幾分之幾是白色的？

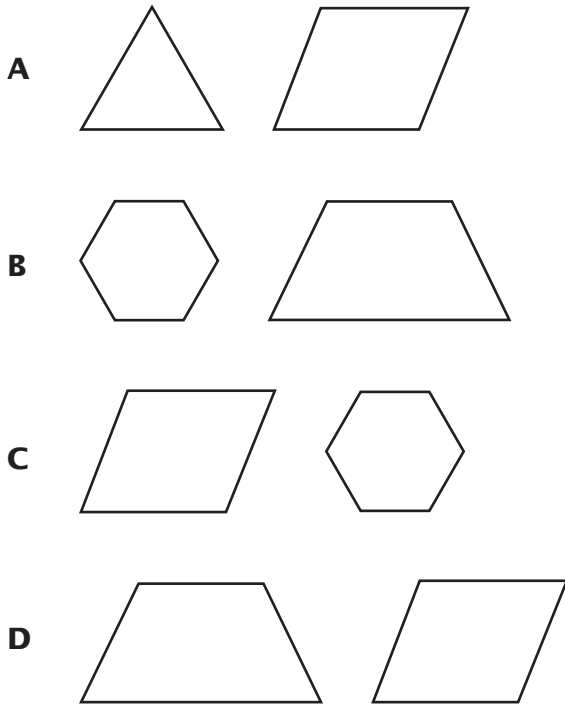
- A $\frac{1}{2}$
B $\frac{1}{3}$
C $\frac{1}{5}$
D $\frac{1}{6}$

- 16 荷西測量他家前門的尺寸。以下哪個尺寸最可能是門的高度？

- A 8 英尺
B 8 碼
C 8 英寸
D 8 夸脫

繼續

17 哪一組形狀的角數目是一樣的？



18 強納森寫出下面的數字句型。

$$37 \times \square = 37$$

框內應填入哪個數字，才能使數字句型正確？

- A** 0
- B** 1
- C** 37
- D** 74

繼續

19

山姆寫出下面的數字句型。


$$\underline{\quad} < 486$$

線上應填入哪個數字，才能使數字句型正確？

- A 554
- B 492
- C 438
- D 509

20

安德烈亞給以下所示的 4 個信封當中的 1 個貼上郵票。

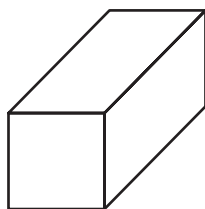


安德烈亞給 4 個信封的幾分之幾貼上郵票？

- A $\frac{1}{5}$
- B $\frac{1}{4}$
- C $\frac{1}{3}$
- D $\frac{1}{2}$

繼續

諾瑟普先生的工作室裡有以下所示的木塊。




哪兩個圖形是木塊的面？



繼續

22 丹尼爾鋼琴課開始的時間如下面時鐘所示。



丹尼爾的鋼琴課從什麼時間開始？

- A 3:30
- B 6:15
- C 6:30
- D 7:15

23 可麗畫出以下所示的點狀模式。



可麗的模式中的第五個圖形有多少個點？

- A 7
- B 8
- C 9
- D 10

繼續

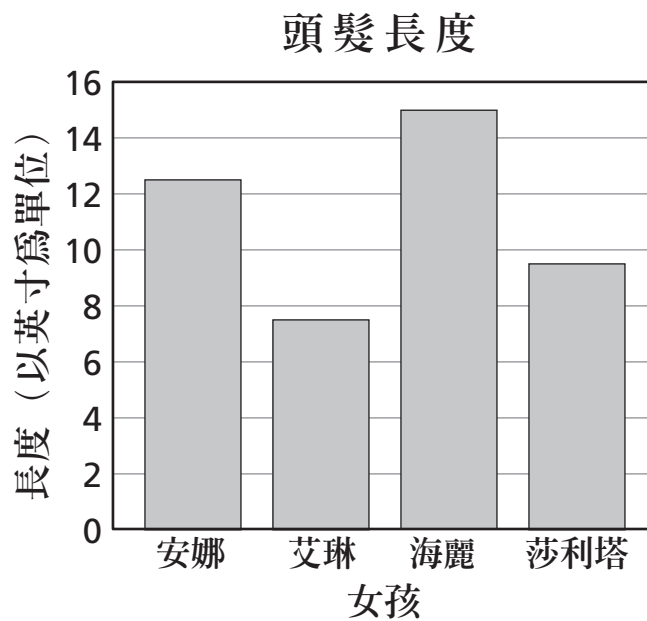
24

愛蜜莉在班上玩遊戲的時候贏了 489 分。在玩同樣的遊戲時，馬可斯贏了 655 分，而坎德拉則贏了 614 分。以下哪個關於所贏的分數的陳述是正確的？

- A $489 > 614$
- B $489 > 655$
- C $614 < 489$
- D $614 < 655$

25

安娜和她的朋友測量頭髮的長度。以下條形圖以英寸為單位來顯示每個女孩的頭髮長度。



哪個女孩的頭髮比 8 英寸長，但比 12 英寸短？

- A 安娜
- B 艾琳
- C 海麗
- D 莎利塔

停止作答



**3 年級
數學考試
第 1 卷
2008 年 3 月 3-7 日**

**Grade 3
Mathematics Test
Book 1
March 3-7, 2008**

The McGraw-Hill Companies