



Chinese Edition
Grade 3 Mathematics Test, Book 2
March 3–7, 2008

紐約州考試計劃
數學考試
第 2 卷

3 年級

2008 年 3 月 3–7 日

姓名 _____



Developed and published by CTB/McGraw-Hill LLC, a subsidiary of The McGraw-Hill Companies, Inc., 20 Ryan Ranch Road, Monterey, California 93940-5703. Copyright © 2008 by New York State Education Department. All rights reserved. No part of this publication may be reproduced or distributed in any form or by any means, or stored in a database or retrieval system, without the prior written permission of New York State Education Department.

考試建議

以下建議可幫助你獲得好成績：

- 請務必仔細閱讀測驗本中的所有說明。
- 在回答問題之前，仔細閱讀每一試題，並好好思考一下答案後再作答。
- 如果有要求時，務必寫出你的演算過程。如果寫出演算過程，可能獲得部份分數。



此圖表示你會使用尺子。

26

某家電影院有 450 個座位。在某部電影放映期間，一共有 283 個座位上有觀眾。那場電影還有多少個空位？

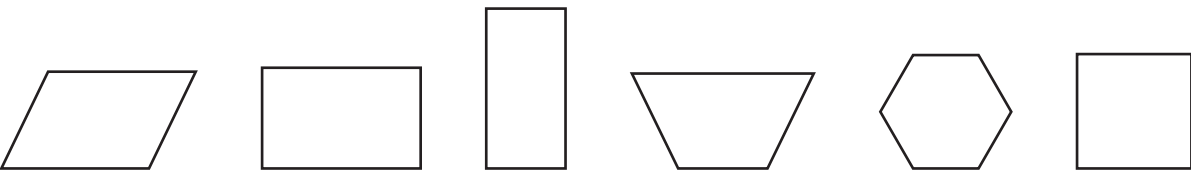
寫出你的演算過程。

答案 _____ 個空位

繼續

A 部份

梅根畫了以下所示的幾個形狀。
在梯形旁邊的長方形上畫一個大 X 記號。



B 部份

所有的正方形都有 4 個邊和 4 個角。在以下線上空白處，寫下所有正方形的另一種相似之處。

繼續

28

博物館總共準備了 900 張海報要贈送給前來博物館參觀的人。每個人都能獲得一張海報。星期五那天有 185 名大人和 135 名兒童拿到海報。博物館還剩下多少張海報？




寫出你的演算過程。


答案 _____ 張海報

繼續

每個星期一，一輛卡車來清理三條街上的垃圾桶。以下象形圖表示每條街上清空的垃圾桶數目。

清空的垃圾桶

街名	垃圾桶數目
緬因街	
歐克街	
派瑞街	

圖例
 = 5 個垃圾桶

緬因街上清空的垃圾桶比派瑞街多出多少個？

寫出你的演算過程。

答案 _____ 個垃圾桶

繼續

A 部份

艾瑞克寫了下面的數字模式。


10, 17, 24, 31, 38, ?

數字模式中的下一個數字應該是什麼？

答案 _____

B 部份

茱麗亞畫出下面的形狀模式。



在以下線上，畫出茱麗亞的形狀模式中接下來的兩個形狀。

在以下線上，說明你怎樣決定茱麗亞的形狀模式中接下來的兩個形狀。

繼續

喬治收集五個國家的郵票。下列表格表示他所收集其中四個國家的郵票數目。

喬治的郵票

國家	郵票數目
加拿大	20
法國	5
日本	10
墨西哥	15
中國	?

繼續

A 部份

完成以下象形圖表來表示喬治所收集每個國家的郵票數目。請使用所提示的圖例。

喬治的郵票

國家	郵票數目					
加拿大						
法國						
日本						
墨西哥						
中國	<table border="1"><tr><td>X</td><td>X</td><td>X</td><td>X</td><td>X</td></tr></table>	X	X	X	X	X
X	X	X	X	X		

圖例		
<table border="1"><tr><td>X</td><td>= 5 張郵票</td></tr></table>	X	= 5 張郵票
X	= 5 張郵票	

B 部份

根據象形圖，喬治收集到多少張中國郵票？

答案 _____ 張郵票

停止作答

Place Student Label Here



**3 年級
數學考試
第 2 卷
2008 年 3 月 3-7 日**

**Grade 3
Mathematics Test
Book 2
March 3-7, 2008**

The McGraw-Hill Companies
