



Chinese Edition
Grade 4 Mathematics, Book 2
Sample Test 2005

數學
第 2 冊

4 年級

2005 年模擬測驗

姓名 _____

模擬測驗作答說明

以下建議可協助你獲得好成績：

- 請務必仔細閱讀測驗本中的所有指示說明。
- 可以用工具來協助解答測驗中的任何問題。
- 仔細閱讀每一題，思考答案，然後再寫下答案。
- 務必在要求時寫出你的演算過程。如果你寫出演算過程，可能獲得一部份的分數。



此圖表示你會用到尺。



此圖表示你會用到圖案塊。



此圖表示你會用到計數器。

繼續

31

下表顯示四座學校圖書館裡的書本數目。

圖書館的書籍

學校	書籍的數目
湖景	2,265
國王	1,304
平鎮	1,746
羅傑士	4,355

四座學校圖書館裡總共有多少本書？

寫出你的演算過程。

答案 _____ 本書

繼續

32

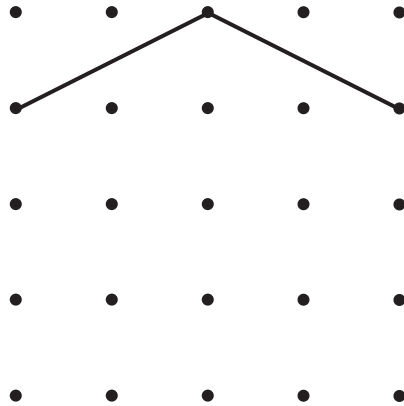
諾納德的公寓大樓每一層樓有 17 戶。大樓總共有 6 層。那麼諾納德的公寓大樓裡總共有多少戶？

寫出你的演算過程。

答案 _____ 戶公寓

33

傑森想在下面的圖表上畫一個五邊形。他現在已經畫出 2 條線段。



A 部分

在圖表上畫出傑森的五邊形的剩下部份。

B 部分

五邊形共有幾個邊？

答案 _____ 個邊

繼續

34

哈林頓先生在市場買了幾箱柳橙。他總共買了 72 顆柳橙。每箱有 6 顆柳橙。
哈林頓先生到底買了多少箱柳橙？

寫出你的演算過程。

答案 _____ 箱

35 珍和關各自都有雷射唱片。關比珍多 12 張唱片。

A 部分

寫出一個數語句以顯示關比珍多 12 張唱片。就以 J 來代表珍所有的唱片張數。而以 K 來代表關所有的唱片張數。

數語句 _____

B 部分

如果珍有 7 張唱片，那麼關有多少張唱片？


寫出你的演算過程。

答案 _____ 張唱片

繼續

36

所有進入下面打號機中的號碼都遵守一個規則。



填入兩個缺少的號碼以完成下面打號機號碼表。

打號機號碼表

入	出
3	9
5	15
6	18
8	
	27

在以下線上，寫出這台打號機用來將**入號碼**變更為**出號碼**的規則。

繼續

37

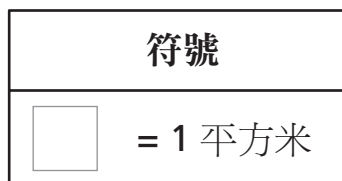
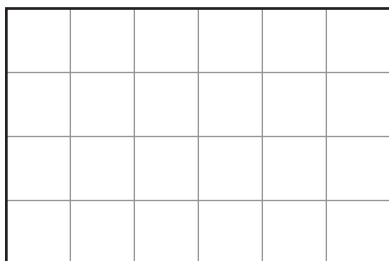
上個星期六約翰去看了電影。他有 \$10.00。他花了 \$5.00 買電影票，又花了 \$3.25 買爆米花。約翰還剩下多少錢？

寫出你的演算過程。

答案 \$ _____

下面顯示了泰勒先生的陽台圖表。

泰勒先生的陽台



A 部分

陽台的面積等於多少平方米？

答案 _____ 平方米

B 部分

陽台的周長等於多少米？

寫出你的演算過程。

答案 _____ 米

繼續

下表顯示凱爾的同班同學所養的寵物種類和數目。

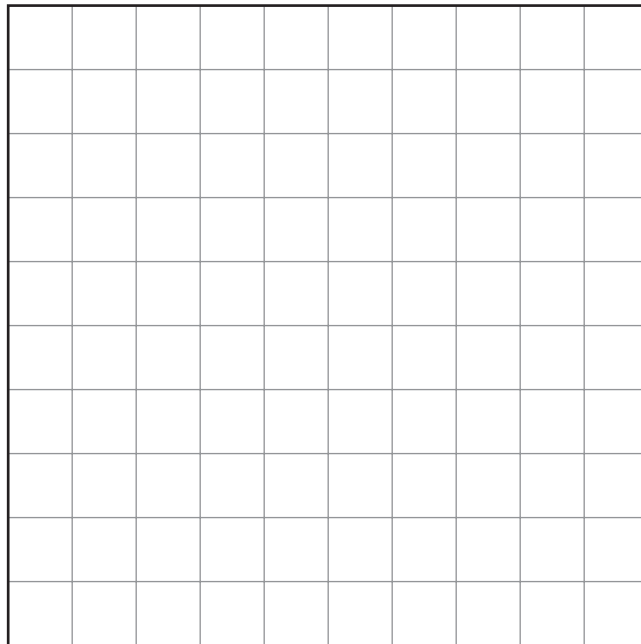
寵物

寵物種類	寵物數目
狗	6
貓	4
魚	5

在以下格線上畫一個條形圖，以顯示凱爾的同班同學所養的寵物種類和數目。

請務必：

- 為圖表定標題
- 標出兩個軸
- 將所有數據畫在圖表中
- 為圖表提供刻度



停



4 年級
數學
第 2 冊
2005 年模擬測驗

The McGraw-Hill Companies
