

## 中級程度考試 社會科學

### 第一卷

#### 選擇題和問答題

2007年6月5日

學生姓名 \_\_\_\_\_

學校名稱 \_\_\_\_\_

請以工整字跡在以上劃線部份填寫你的名字和學校的名稱。

本考試共有三部分。本卷包含第I部分和第II部分；第二卷包含第III部分。

**第I部分**包括45道選擇題。請將答案寫在另外的答題紙上。請僅限用2號鉛筆在答題紙上書寫。

**第II部分**包括一些簡答題。請把第II部分的答案填寫在本考題本上。

你將有一個半小時解答第一卷的**所有**問題。

**未經指示請勿打開本頁。**



## 第I部分

### 答題說明

第一部分考試共有45道考題。每道考題有四個答案供選擇，分別標為1至4。請仔細閱讀考題，選出一個正確的答案。然後在另外的答卷紙上，根據你選擇的答案號碼把該考題下所列的相應答案圓圈塗黑。在答卷紙上請使用鉛筆。

請閱讀下面的範例題：

#### 範例題

哪個城市是美國的首府？

- (1) 波士頓
- (2) 華盛頓哥倫比亞特區
- (3) 紐約市
- (4) 費城

正確的回答是**華盛頓哥倫比亞特區**，答案號碼為**2**。在答卷紙上，你可看到方框內示範考題下豎列的答案圓圈。由於示範考題的正確答案為**2**，所以**2**號圓圈已被塗黑。

請回答本試卷第I部分的所有問題。每道題僅限塗黑一個圓圈。如果需要更改答案，請務必用橡皮擦把原來填寫的答案擦乾淨。你可能不知道某些問題的答案，但請盡量回答每道問題。

第I部分結束後，請繼續做第II部分。

## 第I部分

### 請回答本部分的所有問題。

請根據下面的照片及你的社會學知識，回答第1題及第2題。

#### Sayil瑪雅宮殿的遺址



資料來源：[http://mayaruins.com/sayil/y2\\_025.html](http://mayaruins.com/sayil/y2_025.html) (經改編)

1 哪位社會科學家最有可能研究這些文物的遺址？

- (1) 考古學家
- (2) 經濟學家
- (3) 地理學家
- (4) 心理學家

2 這張有關瑪雅遺址的照片，證實了瑪雅人

- (1) 抄襲了易洛魁人的建築
- (2) 建成了木製的公共建築物
- (3) 開發了梯田農耕
- (4) 建立了先進的文明

3 一個廣為人接受的理論建議，美洲原住民印地安人的祖先從亞洲移居到美洲，是穿越

- (1) 阿帕拉契山脈
- (2) 白令海峽陸橋
- (3) 大西洋
- (4) 大平原

4 哪群歐洲人首先定居於哈德遜流域，並建立了大莊園主的土地權制度？

- (1) 英國人
- (2) 荷蘭人
- (3) 法國人
- (4) 西班牙人

5 哪個大西洋沿岸的地理特徵對殖民地的貿易增長有最大的貢獻？

- (1) 許多近海島嶼
- (2) 高、岩石峭壁
- (3) 天然港灣
- (4) 礁石屏障

請根據下面的圖示及你的社會學知識，回答第6題。



資料來源：*Guide to the Essentials of World History*, Prentice Hall (經改編)

6 此圖示最佳支持的結論是，哥倫比亞式的交換

- (1) 增加了歐洲與美洲之間的隔離
- (2) 結束了在東半球的奴隸貿易
- (3) 導致了疾病蔓延給美洲原住民
- (4) 造成了北美與歐洲之間貿易的減少

請根據下面的圖表及你的社會學知識，回答第7題。

一些美洲原住民印地安人文化			
文化	位置	食物來源	環境
太平洋西北岸	西岸， 俄勒岡至阿拉斯加	捕魚	帶有森林的沿海
阿納薩茲	西南部，主要在亞利桑那州及新墨西哥州	農耕	山地河谷
易洛魁人	東北部，主要在紐約州	狩獵及農耕	北面的林地
美洲克里克族 印第安人	東南部，阿拉巴馬州及佐治亞州	農耕及部分狩獵	南方氣候、亞熱帶

資料來源: *Exploring American History Workbook*, Globe Book Co. (經改編)

7 此圖表最明顯支持了哪個有關美洲原住民印地安人的結論？

- (1) 地理因素幫助了本土生活方式的形成。
- (2) 大部分原住民都是遊牧民族。
- (3) 本土文化都十分相似。
- (4) 在氣候較溫暖的原住民比在氣候較寒冷的較先進。

請根據下面的漫畫及你的社會學知識，回答第8題。



資料來源: Benjamin Franklin, *Pennsylvania Gazette*

8 哪份文件跟這幅在1754年繪畫的漫畫最有關聯？

- (1) 五月花號公約
- (2) 康乃迪克州基本法
- (3) 奧爾巴尼聯盟計劃
- (4) 解放宣言

9 英國政府在1763年，發行嚴禁殖民定居阿巴拉契亞山區以西的宣言，主要原因是

- (1) 避免與美洲原住民印地安人的衝突
- (2) 減少法國與印第安人戰爭期間的傷亡
- (3) 維持英國工業品的市場
- (4) 推動容易徵收新稅

下一頁繼續 ⇨

請根據下面的圖表及你的社會學知識，回答第10題。

在北美的三種英國殖民地			
	特許公司管治殖民地	皇家殖民地	專利殖民地
國王與殖民地的關係	國王把地批給一家公司。這家公司治理這塊土地。特許公司通常是自治的，而人民保留他們英國人的權利。	國王與他的部長們管治這塊土地。	國王把地批給一個家庭、一個人或一群人。這些人(領主)擁有與國王同等的土地管治權。
如何選擇總督	總督是由那些有資格投票的人選出的。	國王任命了一位總督及一個助理議會。總督有否決權。	地主通常會委任一位總督及一個助理議會。
如何選擇立法機關	兩院立法機關(上議院及下議院)是由選民選出。	總督及議會擔任上議院。下議院是由選民選出。	總督及議會屬於上議院。下議院是由選民選出。

資料來源：Norman K. Risjord, *History of the American People*, Holt, Rinehart, and Winston (經改編)

10 此圖表的資訊最明顯支持了哪個結論？

- (1) 大部分婦女行使她們的選舉權。
- (2) 每個殖民地的選民選擇自己的總督。
- (3) 大部分殖民地有單一立法機關。
- (4) 所有英國的殖民地都存在某種形式的民主。

11 誰撰寫大部分的《獨立宣言》？

- |                                     |                                   |
|-------------------------------------|-----------------------------------|
| (1) 約翰·亞當斯<br>(John Adams)          | (3) 帕特里克·亨利<br>(Patrick Henry)    |
| (2) 本傑明·富蘭克林<br>(Benjamin Franklin) | (4) 托馬斯·杰弗遜<br>(Thomas Jefferson) |

12 美國革命的第一場戰爭在哪裏發生？

- |          |          |
|----------|----------|
| (1) 熔爐谷  | (3) 薩拉托加 |
| (2) 列剋星敦 | (4) 約克鎮  |

13 在制憲會議(1787年)上，來自人口多的州及來自人口少的州的代表展開的辯論主要靠什麼解決？

- (1) 建立兩院立法機關
- (2) 建立聯邦管制州際商務
- (3) 允許各州把美洲原住民印地安人計算在他們的人口內
- (4) 提供選舉團

請根據下面的圖表及你的社會學知識，回答第14題。

A	B
附和國王	爭取獨立
與英國文化有關	給收稅官身上塗焦油及貼羽毛
許多在戰爭中失去家園	在沒有代表下抗議稅務
支持英國及黑森僱傭兵	加入民兵及使用游擊戰術

14 A欄及B欄所描述的是哪兩個在美國歷史上的團體？

- (1) 清教徒及早期到麻省的移民
- (2) 英國人及法國人
- (3) 親英分子及愛國者
- (4) 聯邦黨人及反聯邦黨人

15 哪種文件經常描述政府的基本結構、功能及權力？

- (1) 憲法
- (2) 公告
- (3) 議案
- (4) 條約

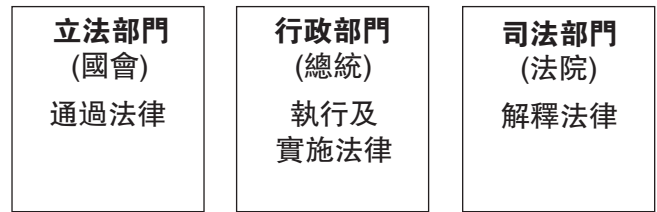
16 在1820年代，紐約市由什麼與大湖地區相連接？

- (1) 驛馬快信的制度
- (2) 購買路易斯安那州
- (3) 紐約中央鐵路
- (4) 伊利運河

17 總統安德魯·傑克遜 (Andrew Jackson) 捍衛政黨分贓制有利於民主，因為這個制度

- (1) 創造了更多政黨
- (2) 賦予了更多人投票權
- (3) 加強了州的權力
- (4) 讓普通百姓填補了政府工作

請根據下面的圖表及你的社會學知識，回答第18題及第19題。



18 這個圖表顯示了哪個政治原則？

- (1) 聯邦制
- (2) 默許的權力
- (3) 權力分立
- (4) 不成文憲法

19 此圖表最佳支持了哪個有關美國所採用的政府制度的結論？

- (1) 投票選出三個部門的成員。
- (2) 總統有權力去判決法律。
- (3) 可以上訴最高法院對法律的裁決。
- (4) 法律受政府所有三個部門影響。

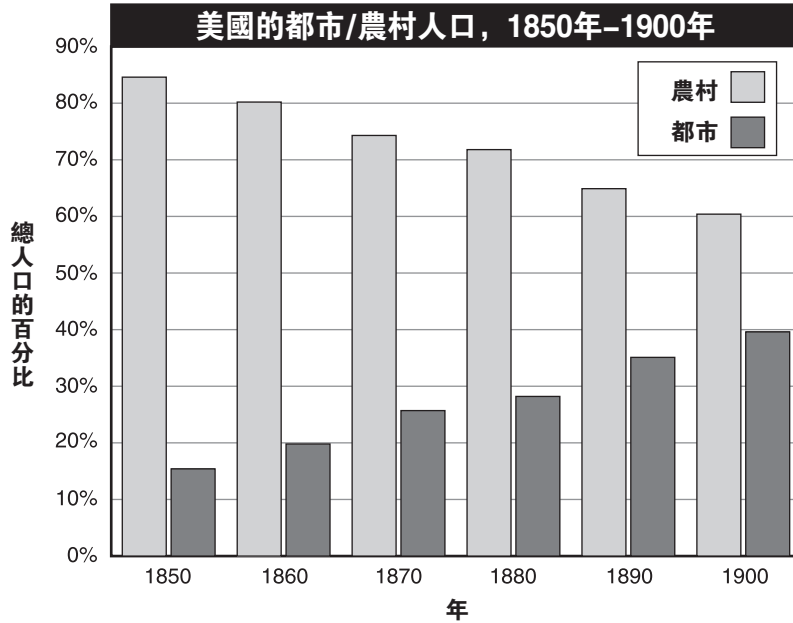
20 弗雷德里克·道格拉斯 (Frederick Douglass)、威廉·勞埃德·加利森 (William Lloyd Garrison) 及哈利特·塔布曼 (Harriet Tubman) 都是十九世紀什麼運動的領袖？

- (1) 改革監獄
- (2) 建立婦女選舉權
- (3) 保護美洲原住民印地安人
- (4) 廢除奴隸制

21 賽尼卡福爾斯會議 (1848年) 的一個主要目標是

- (1) 組建一個新政黨
- (2) 反對墨西哥戰爭
- (3) 宣傳婦女權益的需求
- (4) 提高公共教育

請根據下圖及你的社會學知識，回答第22題。



資料來源: U. S. Bureau of the Census (經改編)

22 這個圖表的資訊最佳支持了哪個陳述？

- (1) 許多住在市區的都是窮人。
- (2) 在1850年至1900年之間，城市人口的比例上升了。
- (3) 在1890年，70%的人口生活在農村地區。
- (4) 在1800年代後期，工業化導致了農村人口的上升。

23 哪份參考證明是內戰的原始來源文件？

- (1) 一份有關北部比南部更優越的百科全書文章
- (2) 一份有關將軍尤利塞斯·S·格蘭特(Ulysses S. Grant)的傳記
- (3) 由一名參戰蓋茨堡之戰的士兵繪製的一幅戰場圖
- (4) 一本有關內戰對南部的影響的書

24 在重建期間所用的“拿毯制手提包的投機者”(carpetbaggers)一詞描述

- (1) 南部的白人支持激進共和黨計劃
- (2) 非洲裔美國人獲得前南方種植園的控制權
- (3) 移居到南部的北部人謀取私利
- (4) 原被奴役的非洲裔美國人遷往西部

25 在內戰後多年，南部的農業發生了哪個改變？

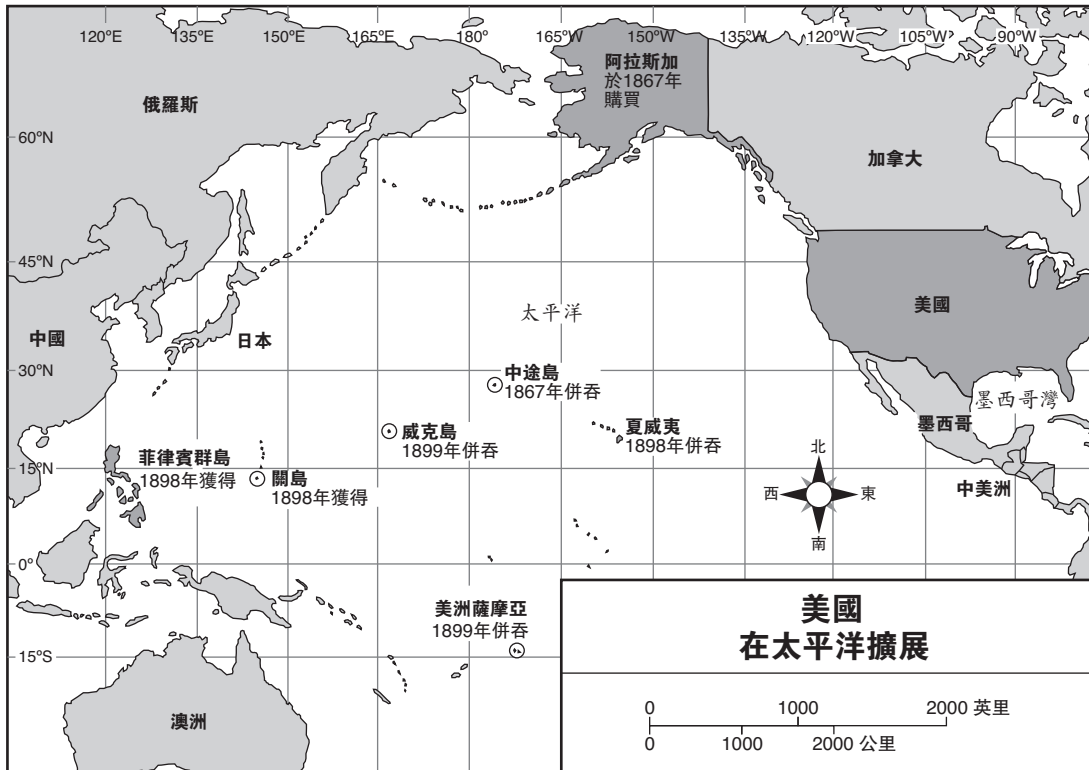
- (1) 許多原被奴役的人成為收益分成的佃農。
- (2) 自給農業成為非法。
- (3) 結束了棉花的生產。
- (4) 大多數的小型種植園加入大型種植園。

26 人頭稅、識字檢驗及祖父條款都是在1800年代後期產生的，目的都是為了限制誰的選舉權？

- (1) 美洲原住民印地安人
- (2) 婦女
- (3) 移民
- (4) 非洲裔美國人



請根據下面的地圖及你的社會學知識，回答第27題。



資料來源：James Davidson and Michael Stoff, *American Nation*, Prentice Hall (經改編)

27 這幅地圖支持了在1900年以前，美國致力於什麼外交政策的結論？

- (1) 遏制計劃
- (2) 帝國主義
- (3) 孤立主義
- (4) 中立

28 美國想要建築巴拿馬運河的一個主要理由是

- (1) 改善美國與拉丁美洲的關係
- (2) 增加與英國的貿易
- (3) 保護在南美洲生活的美國公民
- (4) 縮短大西洋海岸及太平洋海岸之間的海上航線

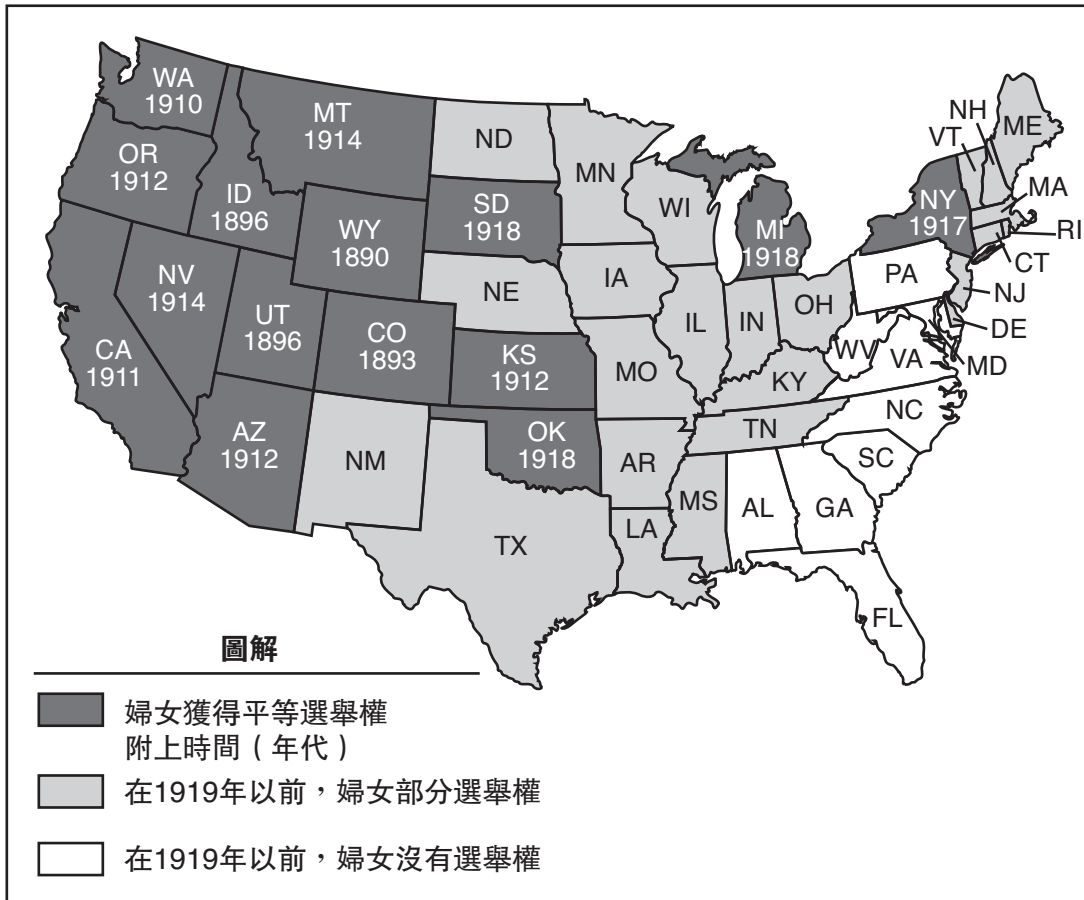
- 29 ● 德國要承擔在歐洲戰爭的責任。
- 德國要向歐洲各國支付戰爭賠款。
- 德國要解除及降低其軍事力量。

哪份文件在第一次世界大戰之後對德國施加這些嚴懲？

- (1) 羅斯福推論
- (2) 雅爾塔協定
- (3) 十四點方案
- (4) 凡爾賽條約

請根據下面的地圖及你的社會學知識，回答第30題。

在批准修正案十九之前的婦女選舉權，1920年



資料來源：Sandra Opdycke, *The Routledge Historical Atlas of Women in America*, Routledge (經改編)

30 在1919年以前，大多數給予婦女全部選舉權的州都是位於

- (1) 西部
- (2) 中西部
- (3) 東北部
- (4) 東南部

31 在1920年代的哈萊姆文藝復興如何影響美國社會？

- (1) 終止種族隔離的公共設施
- (2) 提高非洲裔美國人對美國文化貢獻的意識
- (3) 鼓勵在美國的主要大城市推行市區重建計劃
- (4) 建立政府計劃以協助非洲裔美國人

32 在1920年代設立的配額制是美國移民政策的一部分，主要是爲了

- (1) 限制某些國家的移民人數
- (2) 增加移民的總人數
- (3) 允許每個國家有相等的移民人數
- (4) 吸引有技能的工人及企業投資者

33 在1920年代的經濟增長，很大程度上是由什麼所創造？

- (1) 運河系統的迅速擴展
- (2) 增加對農民的政府援助
- (3) 銷售新的消費品
- (4) 政府用於防務的費用

34 哪個陳述最能準確地描述第二次世界大戰如何影響在美國的後方的支前活動？

- (1) 汽油得到配給、人民種植勝利園，以及更多婦女在工廠工作。
- (2) 美國的家園被炸、工廠關閉、糧食生產下降。
- (3) 工廠生產下降、婦女失去權益，以及美國人失業。
- (4) 失業上升、企業生產過剩，以及農場失敗。

35 在第二次世界大戰期間，哪個團體因為受到拘留，後來從聯邦政府收到道歉及金錢？

- (1) 德國裔美國人
- (2) 日本裔美國人
- (3) 墨西哥裔美國人
- (4) 意大利裔美國人

36 在第二次世界大戰後的紐倫堡審判意義重大，因為這些審判

- (1) 要求個人對自己在戰時的行動負責
- (2) 赦免日本的政治領袖
- (3) 強迫國家向戰勝國支付戰爭賠償
- (4) 由戰敗國的公民進行

37 聯合國的創立主要是爲了

- (1) 控制原子武器
- (2) 推動支持世界和平的條件
- (3) 開展在第二次世界大戰後的重建工作
- (4) 爲更多國家帶來民主政府

38 在1950年代及在1960年代，建設州際公路系統的主要結果是什麼？

- (1) 航空旅行下降。
- (2) 汽油使用率下降。
- (3) 火車旅行增加。
- (4) 郊區增多。

請根據下面的文章及你的社會學知識，回答第39題及第40題。

「……當我們讓自由之聲響起來，讓自由之聲從每一個大小村莊、每一個州和每一個城市響起來時（對），我們將能夠加速這一天的到來，那時，上帝的所有兒女，黑人和白人，猶太教徒和非猶太教徒，基督新教徒和天主教徒，都將攜手，合唱一首古老的黑人靈歌：

[終於自由啦！（對）終於自由啦！  
感謝全能的上帝，我們終於自由啦！]

39 在段落中的「終於自由了！」這句話是指哪裡得自由？

- (1) 飢餓
- (2) 審查制度
- (3) 種族主義
- (4) 稅務

40 哪個陳述最明顯支持了這段訊息？

- (1) 平等及相互的尊重將有利於所有美國人。
- (2) 非洲裔美國人是民權的領袖。
- (3) 宗教自由是我們最重要的自由。
- (4) 奴隸制度的結束是值得慶祝的。

請往下一頁繼續作答 ⇨

請根據下面的漫畫及你的社會學知識，回答第41題。



「試想像--以前這裏甚麼都不是  
只是原始荒野！」

資料來源: Bill Mauldin, *Chicago Sun-Times* (經改編)

- 41 哪個陳述最能準確地表達漫畫家的觀點？
- (1) 政府已經成功地終止污染。
  - (2) 工業化已經帶來環境問題。
  - (3) 消費者對國外石油的依賴程度已經下降。
  - (4) 大企業已經對美國環境有利。

42 自從1960年代，美國經濟的改變的一個主要途徑是

- (1) 工作已從製造業轉向服務業
- (2) 小型農場的數目增加了而製造業則下降了
- (3) 與外國的貿易減少了
- (4) 技術的重要性失去了

43 憲法修正案在重建時期得到通過，主要涉及

- (1) 美國參議員的選擇方法
- (2) 擴大非洲裔美國人的權利
- (3) 禁止出售含酒精飲料
- (4) 允許婦女有選舉權

44 門羅主義、羅斯福推論及睦鄰政策都形成美國與哪裡的關係？

- (1) 拉丁美洲
- (2) 中東
- (3) 亞洲
- (4) 非洲

45 朝鮮戰爭及越南戰爭的一個相似之處是，兩者都

- (1) 對美國領土的襲擊作出反應
- (2) 努力在冷戰期間遏止共產主義的蔓延
- (3) 繼續受到美國民眾的支持
- (4) 在聯合國指揮下由個別國家攻打

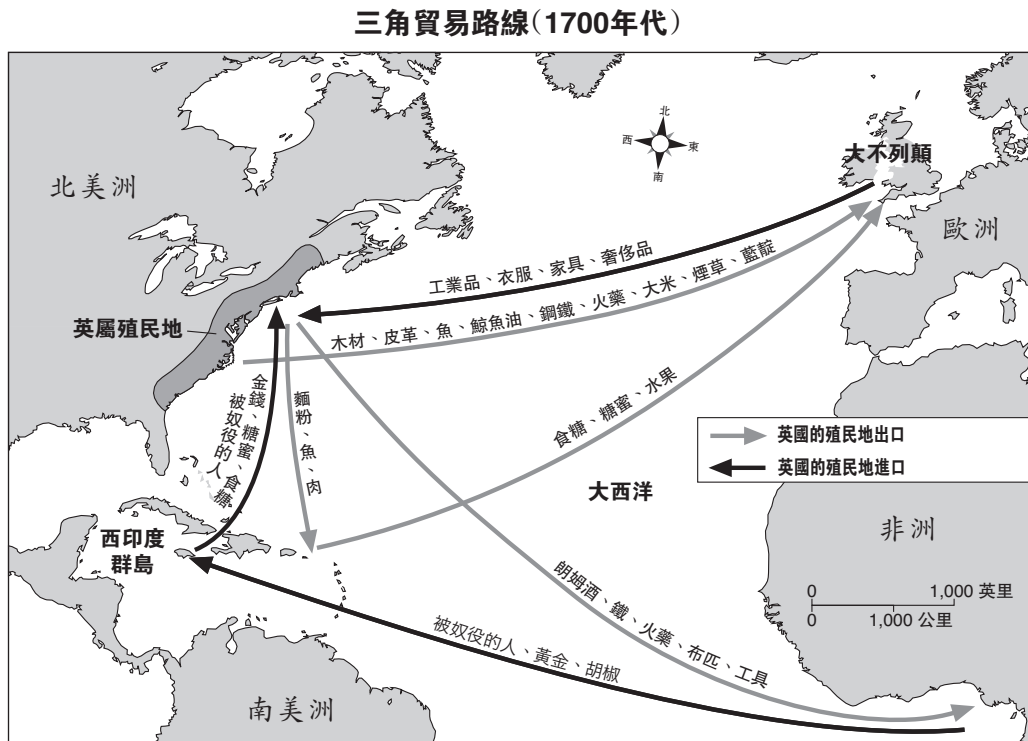
**FOR TEACHER USE ONLY**

Part I Score \_\_\_\_\_

## 第II部分

答題說明：請在此考題本問題下面空白處填寫你的答案。

請根據下面的地圖及你的社會學知識，回答第1題至第3題。



資料來源：Joyce Appleby et al., *The American Journey*, Glencoe/McGraw-Hill (經改編)

1 請指出在1700年代期間，從英國殖民地到大不列顛的一個出口。 [1]

Score

2 英國重商主義的一個特點是什麼？ [1]

Score

3 十三個原殖民地反對英國重商主義導致了哪場戰爭？ [1]

Score

請根據下面的漫畫及你的社會學知識，回答第4題至第6題。



資料來源：Frank Bellew, *Harper's Weekly*, Oct. 11, 1862

4 漫畫中的樹代表什麼？ [1]

Score

5 在漫畫中，美國的哪**兩個**階段是由亞伯拉罕·林肯(Abraham Lincoln)及傑佛遜·戴維斯(Jefferson Davis)所代表？ [1]

Score

6 美國歷史上的哪個重大衝突發生於完成繪畫這幅漫畫之時？ [1]

Score

請根據下面的報紙廣告及你的社會學知識，回答第7題至第9題。

這幅由鋼鐵托拉斯出錢的報紙廣告於1919年在匹茲堡發生的鋼鐵罷工期間，刊登於《匹茲堡電報新聞》。



7 這則報紙廣告的主要思想是什麼？ [1]

---

---

Score

8 為什麼這個訊息以幾種不同的語言列出來？ [1]

---

---

Score

9 請指出在1800年代後期及1900年代早期，工人參與罷工的**兩個**理由。 [2]

(1) \_\_\_\_\_

---

Score

(2) \_\_\_\_\_

---

Score

請根據下面的報紙文章及你的社會學知識，回答第10題至第12題。

**黑人[非洲裔美國人]仍在抵制乘公共汽車**

蒙哥馬利，亞拉巴馬州，12月19日(美聯社) — 一個由八名當地白人及八名黑人組成的公民委員會，今天再次不能為結束持續十五天的黑人抵制乘坐城市汽車達成共識。抵制的開始是由於一名黑人婦女拒絕移至公共汽車內的黑人區域，而被判罰款十四元。

— 「黑人仍在抵制乘公共汽車」，《紐約時報》，1955年12月20日

10 這場抵制乘公共汽車發生在哪個城市？ [1]

Score

11 這份文件最後一句的非洲裔美國婦女是指向誰？ [1]

Score

12 這場抵制乘公共汽車的目的是什麼？ [1]

Score

**FOR TEACHER USE ONLY**

Part II Score \_\_\_\_\_









