

THE UNIVERSITY OF THE STATE OF NEW YORK

8年級

CHINESE EDITION
SOCIAL STUDIES—GRADE 8
MULTIPLE-CHOICE &
CONSTRUCTED-RESPONSE QUESTIONS
BOOKLET 1

**中級程度
社會科學測驗**

第一卷

選擇題和問答題

2010年6月14日

學生姓名 _____

學校名稱 _____

請用工整字跡在以上劃線部分填寫你的名字和學校名稱。

本測驗包含三部分。你今天要考第I部分和第II部分。

第I部分包括45道選擇題。請將答案寫在另外的答案紙上。請僅限用2號鉛筆在答案紙上書寫。

第II部分包括一些簡答題。請把第II部分的答案填寫在本考題本上。

你將有一個半小時解答第一卷的**所有**問題。

未經指示請勿打開本頁。

第I部分

答題說明

第I部分考試共有45道考題。每道考題有四個答案供選擇，分別標為1至4。請仔細閱讀考題，你將決定哪個給出的文字或表述最能使陳述句完整或回答考題。然後在另外的答案紙上，在每一個考題的一排圓圈，塗黑跟你選擇的答案同樣號碼的圓圈。在答案紙上請使用鉛筆。

請閱讀下面的示範題。

示範題

哪個城市是美國的首府？

- (1) 波士頓
- (2) 華盛頓哥倫比亞特區
- (3) 紐約市
- (4) 費城

正確的回答是**華盛頓哥倫比亞特區**，答案號碼為**2**。在答案紙上，你可看到方框內顯示示範題的一排答案圓圈。由於示範題的正確答案為**2**，所以**2**號圓圈已被塗黑。

請依照同樣方式回答本試卷第I部分的所有考題。每道考題僅限塗黑一個圓圈。如果需要更改答案，請務必用橡皮擦把原來填寫的答案擦乾淨。你可能不知道某些考題的答案，但請盡量回答每道考題。

第I部分結束後，請繼續做第II部分。

第I部分

請回答本部分的所有問題。

- 根據許多人類學家，在冰河時代的一個陸橋允許哪兩個洲之間的遷徙？
 - (1) 南美洲和北美洲
 - (2) 北美洲和歐洲
 - (3) 亞洲和北美洲
 - (4) 歐洲和亞洲
- 「運輸成本隨著汽油價格達到歷史最高紀錄而上漲」**
「在紐約上州，失業率回落了 1.5%」
「經濟衰退的威脅導致預算刪減」

哪種社會科學家最有可能研究在這些標題中報告的資訊？

 - (1) 心理學家
 - (2) 考古學家
 - (3) 經濟學家
 - (4) 地理學家
- 在以下的例子中，哪一個是關於工業化的資訊的次要來源？
 - (1) 工廠工人的日記
 - (2) 在一家工廠工作的孩子的照片
 - (3) 一個移民紡織工人寫的信
 - (4) 關於安德魯·卡內基(Andrew Carnegie)的教科書中的章節
- 歐洲人探險對美洲土著印第安人造成的一個影響是什麼？
 - (1) 歐洲農業技術很快被採納。
 - (2) 許多美國土著印第安人被重新安置在歐洲各地。
 - (3) 美國土著印第安人部落之間的衝突結束。
 - (4) 由歐洲人帶來的疾病造成大量死亡。
- 哪個宗教團體與其成員幫助建立的殖民地正確配對？
 - (1) 清教徒 → 喬治亞州
 - (2) 基督教貴格會 → 賓夕法尼亞州
 - (3) 英國清教徒 → 維吉尼亞州
 - (4) 天主教 → 羅德島州
- 最早在現在的紐約州建立殖民地的歐洲人是誰？
 - (1) 西班牙人
 - (2) 英國人
 - (3) 荷蘭人
 - (4) 法國人
- 哪項經濟作物有助於幫助詹姆斯敦殖民地生存？
 - (1) 菸草
 - (2) 棉花
 - (3) 稻米
 - (4) 甘蔗
- 維吉尼亞州自治議會(House of Burgesses)對美洲殖民地的發展很重要，因為這是第一次嘗試
 - (1) 實踐代議制民主
 - (2) 開始農業種植園制度
 - (3) 抗議重商主義
 - (4) 建立宗教自由
- 「...不自由，毋寧死！」
「人民自治政府是我們與生俱來的權利...」
「我們必須緊緊地團結一致，否則我們肯定會一個個地被絞死。」

在美國獨立戰爭期間，哪個組織成員發表了這些言論？

 - (1) 英國兵
 - (2) 愛國者
 - (3) 保守黨
 - (4) 土著美洲印第安人

請根據下面的地圖和你的社會科學知識，回答第10題。

法國和印第安人戰爭戰後時期



資料來源: Green and Leschen, *Exploring and Colonizing America*, McDonald Publishing, 1980 (經改編)

10 許多殖民者被《1763年皇家宣言》激怒了，因為它

- (1) 從加拿大掠奪了太多土地
- (2) 把佛羅里達給了法國
- (3) 限制了他們西移的自由
- (4) 鼓勵了美洲土著印第安人的襲擊

11 薩拉託加戰役(The Battle of Saratoga)在獨立戰爭中意義重大，因為它

- (1) 結束了英國對南方的威脅
- (2) 保證了加拿大給殖民者幫助
- (3) 說服了法國支持美國
- (4) 迫使英國退出北美洲

12 哪份文件保障人民言論自由、攜帶武器的權利和保護不受不合理的搜查和押收？

- (1) 人權法案
- (2) 奧本尼聯盟計劃
- (3) 感傷宣言
- (4) 《聯邦論》

13 “... 我們認為這些真理是不言而喻的，人人生而平等，造物主賦予他們若干不可剝奪的權利，其中包括生命權、自由權和追求幸福的權利...”

哪份文件包含這些話？

- (1) 五月花公約
- (2) 巴黎條約
- (3) 解放黑人奴隸宣言
- (4) 獨立宣言

14 憲法的哪條規定能防止國民政府的一個分支變得過於強大？

- (1) 聯邦至上
- (2) 制約與平衡
- (3) 選舉團
- (4) 彈性條款

15 路易斯和克拉克探險隊的目的是探索經由什麼方式而獲得的土地？

- (1) 路易斯安那購買
- (2) 哥斯登購買
- (3) 購買佛羅里達
- (4) 購買阿拉斯加

16 最高法院在瑪伯瑞訴麥迪遜(1803)一案中的裁決的一個影響是

- (1) 樹立法院宣布法律違憲的權力
- (2) 允許國會徵收所得稅
- (3) 批准總統有權否決法案
- (4) 解決眾議院和參議院之間的分歧

17 1812年戰爭的一個結果是，美國

- (1) 擊敗西班牙
- (2) 控制了古巴
- (3) 從加拿大取得了土地
- (4) 保持其脫離英國的獨立

請根據下面的陳述和你的社會科學知識，回答第18題。

我們必須對進入我們國家的貨物設立稅以保護在美國本土生產的產品。如果我們希望企業能及時成長的話，我們的政府必須在他們起步時且尚未成熟的時候，幫助支持他們。

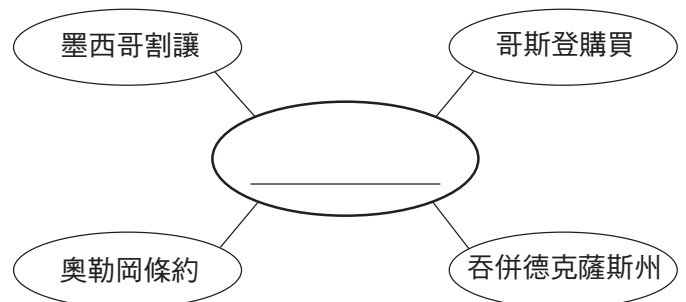
18 在19世紀初，誰最有可能做出這個陳述？

- (1) 新英格蘭部長
- (2) 北部工廠老闆
- (3) 南部佃農
- (4) 西部淘金者

19 哪項在1825年完成的工程是由於州長德威特·克林頓(DeWitt Clinton)連接哈得遜河到中西部地區的計劃所產生的結果？

- (1) 國家公路
- (2) 尚普蘭運河
- (3) 伊利運河
- (4) 胡佛水壩


請根據下面的組織圖和你的社會科學知識，回答第20題。



20 以下哪個標題最能完成這個組織圖？

- (1) 奴隸制的擴張
- (2) 天定命運(Manifest Destiny)信念的結果
- (3) 門羅主義的目標
- (4) 密蘇里協定的通過

請根據下面的漫畫和你的社會科學知識，回答第21題。



資料來源: Library of Congress (經改編)

- 21 這幅安德魯·傑克遜(Andrew Jackson)總統的畫像反映了他的一些反對者的意見，他們認為
- (1) 行政部門已經變得過於強大
 - (2) 英國對總統有太多的影響力
 - (3) 總統已經變得過於同情老百姓
 - (4) 政黨分贓制(spoils system)未能改善政府

請根據下面的圖表和你的社會科學知識，回答第22題。

北方和南方的資源，1861年

資源	北方		南方	
	數量	佔全國 總數百分比	數量	佔全國 總數百分比
農地	105,817,694英畝	65%	56,832,154英畝	35%
鐵路軌道	21,847英里	71%	8,947英里	29%
製成品的價值	\$1,794,417,000	92%	\$155,531,281	8%
工廠	119,500	85%	20,631	15%
工業工人	1,198,000	92%	110,721	8%
人口	22,340,000	63%	9,103,000名 (3,950,531名被奴役者)	37%

資料來源: James West Davidson et al., *The American Nation*, Prentice Hall, 2000 (經改編)

22 圖表中的資料最能夠支持哪項陳述？

- (1) 在1861年，南方比北方有更大比例的工業勞動者。
- (2) 在1861年，南方比北方有更多的農場。
- (3) 在南北戰爭開始時，北方有許多勝過南方的優勢。
- (4) 南北戰爭以前，北方和南方生產同等數量的製成品。

23 南方各州通過了制定識字考試、人頭稅和祖父條款的法律是為了

- (1) 籌集資金以重建戰後的南方
- (2) 改善美國公民的教育
- (3) 限制先前被奴役者的權利
- (4) 支持激進的共和黨人

24 雅各·里斯(Jacob Riis)和厄普頓·辛克萊(Upton Sinclair)被認為是揭發醜聞的人，因為他們

- (1) 建立一個新政黨
- (2) 暴露社會上的腐敗和濫用
- (3) 組織工會
- (4) 畫漫畫批評政治家

25 在19世紀末和20世紀初，禁酒運動和婦女選舉權運動一個相似的地方是兩者都試圖

- (1) 保護工廠工人權利
- (2) 降低大企業的力量
- (3) 結束保護性關稅以幫助消費者
- (4) 以支持一項憲法修正案來實現改革

26 在1800年代末期，美國成為一個帝國主義國家，因為當時它

- (1) 取得海外領地
- (2) 宣布中立
- (3) 組成軍事聯盟
- (4) 減少與其他國家的貿易

請根據下面的漫畫和你的社會科學知識，回答第27題。

總統的一個成功打獵的夢。

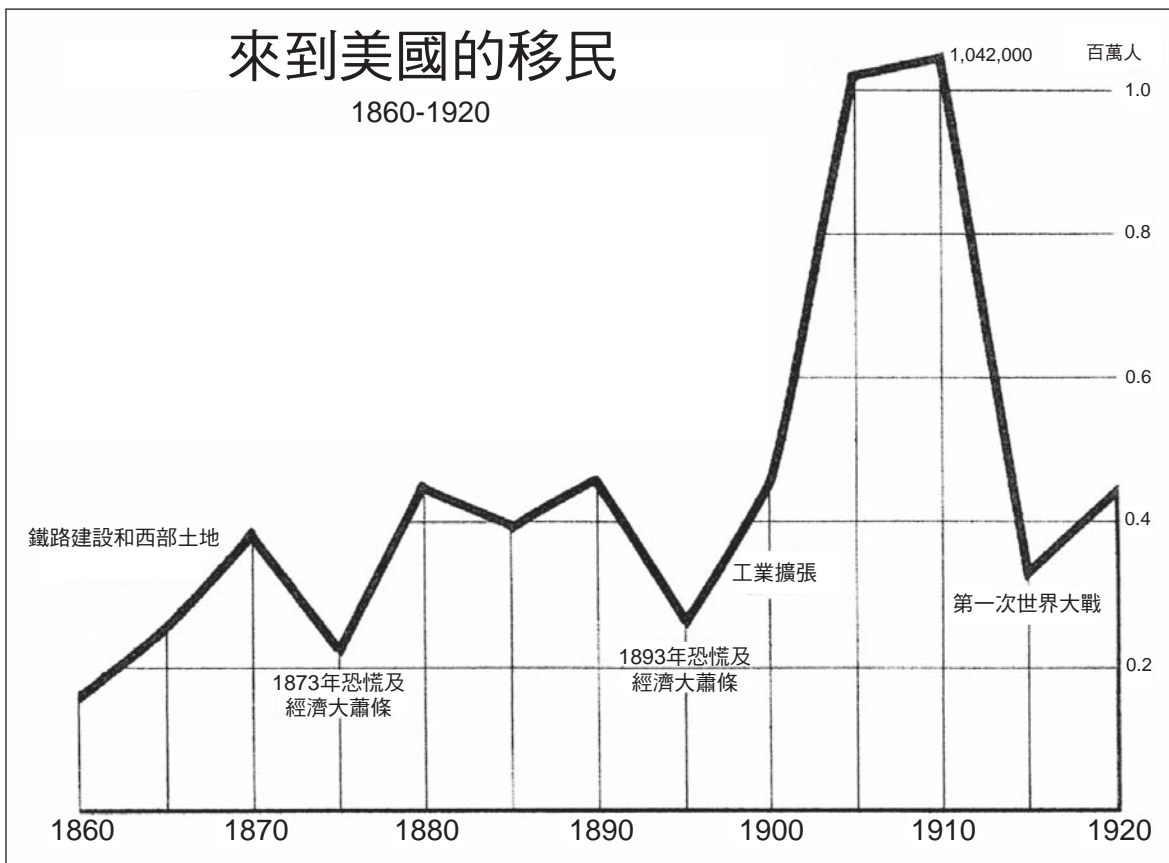


資料來源: Clifford K. Berryman, *Washington Evening Star*, October 11, 1907 (經改編)

27 根據這名漫畫家，西奧多•羅斯福(Theodore Roosevelt)總統對信託的政策是什麼？

- (1) 良好的信託必須被摧毀。
- (2) 良好的信託必須加以控制；不良的信託必須打破。
- (3) 信託必須使用自己的資源來保護環境。
- (4) 只有不良的信託應該加以規範。

請根據下圖和你的社會科學知識，回答第28題。



資料來源: Edward L. Biller, *Story of the American Nation: Teachers Manual*, Harcourt, Brace and World (經改編)

28 根據圖中的資料，1895年和1905年間為什麼移民迅速增加？

- (1) 鐵路建設為移民創造就業機會。
- (2) 西部低廉的土地價格吸引農民移民。
- (3) 工業成長為移民提供工廠就業機會。
- (4) 第一次世界大戰造成移民逃離歐洲。

29 哪份文件包含伍德羅·威爾遜(Woodrow Wilson)總統創立國際聯盟的呼籲？

- (1) 齊默曼電報
- (2) 大西洋憲章
- (3) 十四點計劃
- (4) 凱洛格-白里安公約

30 全國禁酒令失敗的一個原因是什麼？

- (1) 商店不出售酒。
- (2) 許多美國人不支持法律。
- (3) 聯邦政府拒絕執行禁酒令的法律。
- (4) 美國最高法院宣布禁酒令不合憲法。

請根據下面的漫畫和你的社會科學知識，回答第31題和第32題。

沒有用的！他看不到火早已熄滅。



資料來源: Edwin Marcus, *The New York Times*, August 8, 1937 (經改編)

31 這幅1937年的漫畫表明一些美國人擔心

- (1) 政府花費太多的錢
- (2) 太多美國人揮霍無度
- (3) 社會方案主要使富人受益
- (4) 富蘭克林•羅斯福(Franklin D. Roosevelt)總統無視人民的需要

32 之所以發展出漫畫所描述的問題，主要是因為政府

- (1) 準備加入第二次世界大戰
- (2) 為富人減稅
- (3) 降低農產品價格
- (4) 試圖解決經濟大蕭條所產生的問題

- 33 「紐倫堡法律剝奪了德國猶太人的公民權」
「德國各地的猶太會堂和猶太人所擁有企業都被摧毀」
「猶太人和其他受害者在奧斯威辛遭到大規模屠殺」

這些標題與什麼最直接有關

- (1) 德國閃電行動
 - (2) 大屠殺
 - (3) 曼哈頓計劃
 - (4) 建立了柏林牆
- 34 美國對1941年12月7日偷襲珍珠港做出了什麼回應？
- (1) 對日本宣戰
 - (2) 向聯合國申訴
 - (3) 重申孤立主義的決心
 - (4) 通過租借法案
- 35 哪項陳述是關於第二次世界大戰的見解？
- (1) 結束戰爭沒有必要丟原子彈。
 - (2) 許多國家的經濟遭到戰爭的破壞。
 - (3) 許多家庭在戰爭期間遭受喪失親人的痛苦。
 - (4) 意大利和德國是軸心國成員。
- 36 「幾年前，我可以用100元去商店買回六或七袋雜貨。現在，如果100元買得到3袋就很幸運了。唉，價格上升了！」

這段引述最能形容哪種經濟問題？

- (1) 赤字
- (2) 通貨膨脹
- (3) 投機
- (4) 失業

請根據下面的詩和你的社會科學知識，回答第37題。

旋轉木馬

先生，請問在這個旋轉
木馬上，黑人部分
在哪裡？因為我想坐。
我來自南方
那裡白種人和有色人種
不能平起平坐。
在南方的火車上
有一節種族歧視車廂。
我們在公共汽車上被趕到後面——
但是旋轉木馬上
卻沒有後面
對於一個黑人小孩來說，
哪裡有馬可以騎啊？

-蘭斯頓·休斯(Langston Hughes)，1942

37 這首詩主要關切的社會問題是什麼？

- (1) 破陋的住屋
- (2) 失業
- (3) 白人暴力
- (4) 種族隔離

38 哪一個人是1960年代民權運動有名的主要領導人？

- (1) 杜·波依斯(W. E. B. Du Bois)
- (2) 小馬丁·路德·金恩(Martin Luther King, Jr.)
- (3) 瑟古德·馬歇爾(Thurgood Marshall)
- (4) 柯林·鮑威爾(Colin Powell)

39 約翰·甘迺迪(John F. Kennedy)總統和林登·詹森(Lyndon B. Johnson)總統出兵越南是企圖要

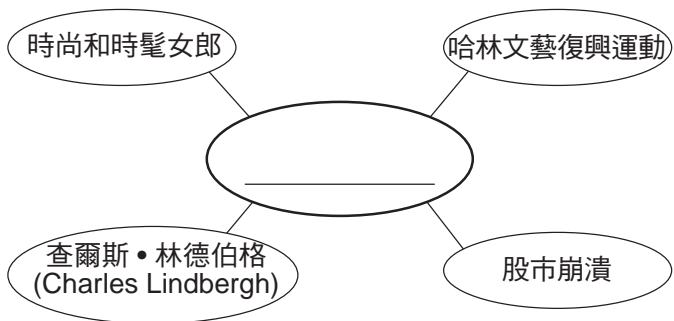
- (1) 限制共產主義的擴散
- (2) 反對南越獨立
- (3) 支持北越政府
- (4) 保護美國在中東的利益

40 哪個標題最能完成下面的部分大綱？

I. _____
A. 探求東亞貿易路線
B. 尋找黃金
C. 傳播宗教信仰的慾望

- (1) 橫貫大陸鐵路的目的
- (2) 歐洲人探索美洲的原因
- (3) 1920年代移民的推/拉因素
- (4) 美國經濟成長的原因

請根據下面的組織圖和你的社會科學知識，回答第41題。



- 41 以下哪個標題最能完成這個組織圖？
- (1) 鍍金時代
 - (2) 重建時期
 - (3) 咆哮的20年代
 - (4) 進步時代

42 勝利花園、定量配給、撿廢物活動和債券籌募與什麼最密切相關？

- (1) 第二次世界大戰期間後方的努力
- (2) 冷戰期間麥卡錫主義
- (3) 1960年代的反戰運動
- (4) 1970年代環境保護

43 「非裔美國人在蒙哥馬利抵制公共汽車」
「萊維敦郊區的發展不斷成長」
「嬰兒潮目前已進入第十個年頭」

這三個標題可能是在哪個年代發佈的？

- (1) 1920年代
- (2) 1930年代
- (3) 1940年代
- (4) 1950年代

44 水門醜聞最直接的結果是

- (1) 約翰·甘迺迪(John F. Kennedy)總統被暗殺
- (2) 林登·詹森(Lyndon Johnson)總統決定不尋求連任
- (3) 理查·尼克森(Richard Nixon)總統辭職
- (4) 隆納德·雷根(Ronald Reagan)總統當選

45 哪個戰爭序列是按正確的時間順序排列的？

- (1) 墨西哥戰爭 → 南北戰爭 → 獨立戰爭 → 韓戰
- (2) 獨立戰爭 → 墨西哥戰爭 → 南北戰爭 → 韓戰
- (3) 墨西哥戰爭 → 獨立戰爭 → 韓戰 → 南北戰爭
- (4) 獨立戰爭 → 韓戰 → 南北戰爭 → 墨西哥戰爭

前往下頁，開始回答第II部分

FOR TEACHER USE ONLY

Part I Score _____

第II部分

答題說明: 請在此考題本問題下面空白處填寫你的答案。

請根據下面的文件和你的社會科學知識，回答第1題到第3題。

美洲土著印第安人的家園



資料來源: Davidson and Stoff, *America: History of Our Nation*, Prentice Hall, 2007 (經改編)

1 根據這份文件，對於生活在大平原上的部落而言，哪種動物很重要？ [1]


Score

2 根據這份文件，哪個美洲土著印第安人族群生活在現在的紐約州？ [1]

Score

3 說明美洲土著印第安人部落發展出不同形式的居所的一個原因。 [1]

Score

前往下一頁 

請根據下面的一段話和你的社會科學知識，回答第4題到第6題。

．．． 雖然我們祝賀自己[為我們自己慶幸]，我們也同情那些[唯恐]遭到與波士頓相同命運的人。但是除非他們被膽小[缺乏勇氣]和懦弱所掌控，否則他們不會處於類似的情況。他有時間也獲得警告，去看到邪惡並且躲避它—我渴望聽到你已宣布獨立—並且在我設想你有必要制定的新法典中，我希望你會記得我們這些婦女，並且比你的祖先對她們更慷慨和有利。不要把這種無限的權力交到丈夫們的手中。切記，所有的男人若有機會，都可能成為暴君。如果不給予婦女特別[刻意]的關懷和照顧，我們就會決心揭竿[開始]反抗，而且不會讓自己受到我們在其中沒有發言權或代表權的任何法律的約束．．．

資料來源: Letter from Abigail Adams to John Adams, March 31, 1776,
<http://www.masshist.org/digitaladams> (經改編)

4 這封信是寫給誰的？ [1]

Score

5 說明艾比嘉爾 • 亞當斯(Abigail Adams)在這封信中提到的一**個**問題。 [1]

Score

6 說明後來的美國女性的**哪一個**政治或經濟成就，最有可能讓艾比嘉爾 • 亞當斯(Abigail Adams)感到高興。 [1]

Score

請根據下面的一段話和你的社會科學知識，回答第7題和第8題。

首先讓我告訴你一些有關我們的工作方式和我們的薪水。有兩種工作—固定性（即領薪）工作和計件工作。固定性工作每週約支付6美元，女孩們必須上午7點便坐在她們的機器前，一直要做到晚上8點，中間只有半個小時的午餐時間...

車間並不衛生—雖然普遍使用這個詞，但實在應該使用一個更糟的詞來形容才對。每當我們撕破或損壞我們縫製的任何產品，或者當我們做完之後發現已損壞時，不論是否是我們的錯，我們都得賠錢，有時甚至是一整碼的布料。

在每個淡季一開始，還要從我們的工資中扣除2美元。我們始終不理解這是為什麼。

資料來源: Clara Lemlich, "Life in the Shop," *New York Evening Journal*, November 28, 1909, online at Cornell University ILR School

7 說明克拉拉 • 蘭姆里奇(Clara Lemlich)所經歷的**兩種**工作條件。 [2]

(1) _____

Score

(2) _____

Score

8 說明工人試圖改善工廠的工作條件的**一個**方法和政府**一個**方法。 [2]

工人： _____

Score

政府： _____

Score

本頁故意空白。

前往下一頁 ⇨

請根據下面的報紙頁和你的社會科學知識，回答第9題和第10題。

「所有適合印行的新聞。」

紐約時報

氣象
今天和週日晴天：新鮮
到強烈的西南向西風。
如需完整的天氣預報，請見第28頁。

VOL. LXIV. N.° 20,923 紐約，星期六，1915年5月8日。二十四頁。 一美分 其他埠每份西幣和郵費一分

露西塔尼亞號被一艘潛水艇擊沉，可能有1000人死亡； 於愛爾蘭的外海被兩枚魚雷擊中；15分鐘內沉沒； 船上的美國人包括VANDERBILT和FROHAM； 華盛頓認為一個嚴重的危機就在眼前

令總統十分震驚
華盛頓對災難十分震怒並擔心危機發生。
白宮佈告欄
威爾遜密切關注這些新聞，但是對國家應採取的行動保持沉默。
美國國會呼籲的傳聞
露西塔尼亞號的損失喚回我們給德國最初警告的強硬口氣。
首都充滿謠言
報告說遊輪要被擊沉

羅斯福稱其是海盜行為。
紐約時報批准
紐約州雪城5月7日訊 - 羅斯福上校今晚將擊沉露西塔尼亞號的做法稱為「海盜行為」。
「我不知道足夠的事實，」上校說。「無法做出任何進一步的評論，或者說這個政府在這種情況下該怎樣做才是恰當的。」
「我只能重複我在Gulfight受到攻擊那天所說的。然後，我呼籲大家注意這個事實，即德國宣戰的幾個月前，以及威脅要擊沉露西塔尼亞號等事端之前，如果犯下這樣的罪行，就無異於海盜的行程。」



消逝的丘納德輪船露西塔尼亞號

海軍禁止新聞報導
倫敦5月8日訊 - 據報導，英國海軍不願聽任何有關露西塔尼亞已確切的事實，但拒絕只是因為謠言而通過新聞報導。
預計英國海軍會在取得驗證的事實之後盡快發表聲明。
倫敦擔心弗羅曼已死
「美國打算做些什麼？」英國同事經理問。
羅斯福在倫敦時說
倫敦5月7日訊 - 倫敦的戲劇界對有關露西塔尼亞號的報導感到不安。弗羅曼先生是倫敦戲劇界一位響噓的人物，由戲劇觀察家與演員們都視他為

某些死者被沖上岸
數百名倖存者在皇后鎮和金塞爾。
船員講述了災難
一枚魚雷射進了這艘受詛咒的輪船船頭，另一枚則擊中引擎室。
船身立即下沉
但是船沉得這麼快，許多人一定都和她一起走了。沒有官員獲救。
在光天化日之下攻擊

資料來源: New York Times, May 8, 1915

9 根據這些報紙頭條新聞，造成露西塔尼亞號沉沒的原因是什麼？ [1]

Score

10 哪個戰爭與這些報紙的頭條新聞有關？ [1]

Score

請根據下面的文件和你的社會科學知識，回答第11題到第13題。

... 我想你已聽過每一種藍調，
我想你已聽過每一種藍調，
但是，當塵埃高揚的時候，你甚至看不到天空...

我看到風如此之高，它吹倒了我的圍牆，
我看到風如此之高，它吹倒了我的圍牆，
把我的拖拉機深深埋在6英尺的地下。

而且，它把我的農場變成了一個沙堆，
是的，它把我的農場變成了一個沙堆，
我得帶著一瓶酒上路去。...

資料來源：Lyrics by Woody Guthrie



資料來源: United States Department of Agriculture

11 根據這些文件，說明風產生的**兩個**問題。 [2]

(1) _____

Score

(2) _____

Score

12 在經濟大蕭條期間，這些文件中所述的地區被稱為什麼？ [1]

Score

13 說明政府或個人因應這些文件中描述的環境狀況所採取的一項行動。 [1]

Score

FOR TEACHER USE ONLY

Part II Score _____