

ফিজিক্যাল সেটিং ভূ-বিজ্ঞান

শুক্রবার, 26 জানুয়ারি, 2024 — 9:15 a.m. থেকে 12:15 p.m. পর্যন্ত

উত্তর পুস্তিকা

শিক্ষার্থী.....

শিক্ষক

স্কুল..... গ্রেড

অংশ B-2 এবং অংশ C এর প্রশ্নগুলোর জন্য আপনার উত্তর এই পুস্তিকাটিতে লিপিবদ্ধ করুন।

অংশ B-2

51 _____

52 _____ মিলিয়ন km

53 _____

54 ভূপৃষ্ঠের বৈশিষ্ট্য: _____

বিবরণ: _____

55 আটলান্টা: _____

লস এঞ্জেলস: _____

56 _____

57 _____ যুগ

58 _____ $\text{km}^3/\text{বছর}$

59 মানুষের কার্যকলাপ: _____

প্রভাব: _____

60 বাতাসের তাপমাত্রা: _____

বৃষ্টিপাত: _____

61 _____

62 _____

63 _____

64 ফেরক্যাডে ভূপৃষ্ঠের তাপমাত্রা (কোনো একটির চারপাশে বৃত্ত করুন): শীতলতর উষ্ণতর একই

ফেরক্যাডের উজ্জ্বলতা (কোনো একটির চারপাশে বৃত্ত করুন): কম বেশি একই

65 _____ → _____ → _____
প্রাচীনতম → নবীনতম

অংশ C

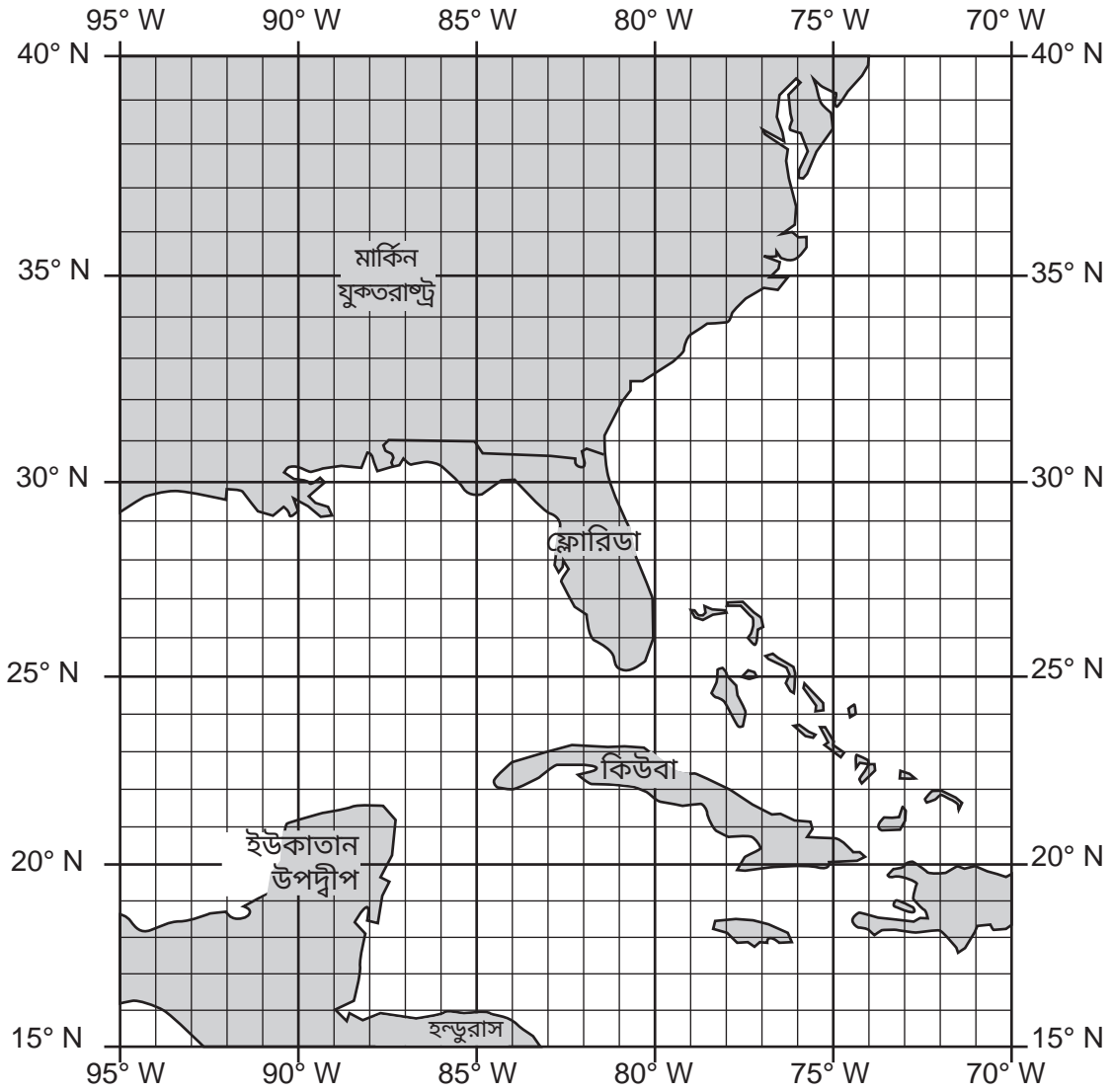
66 _____

67 _____

68 _____ cm

69

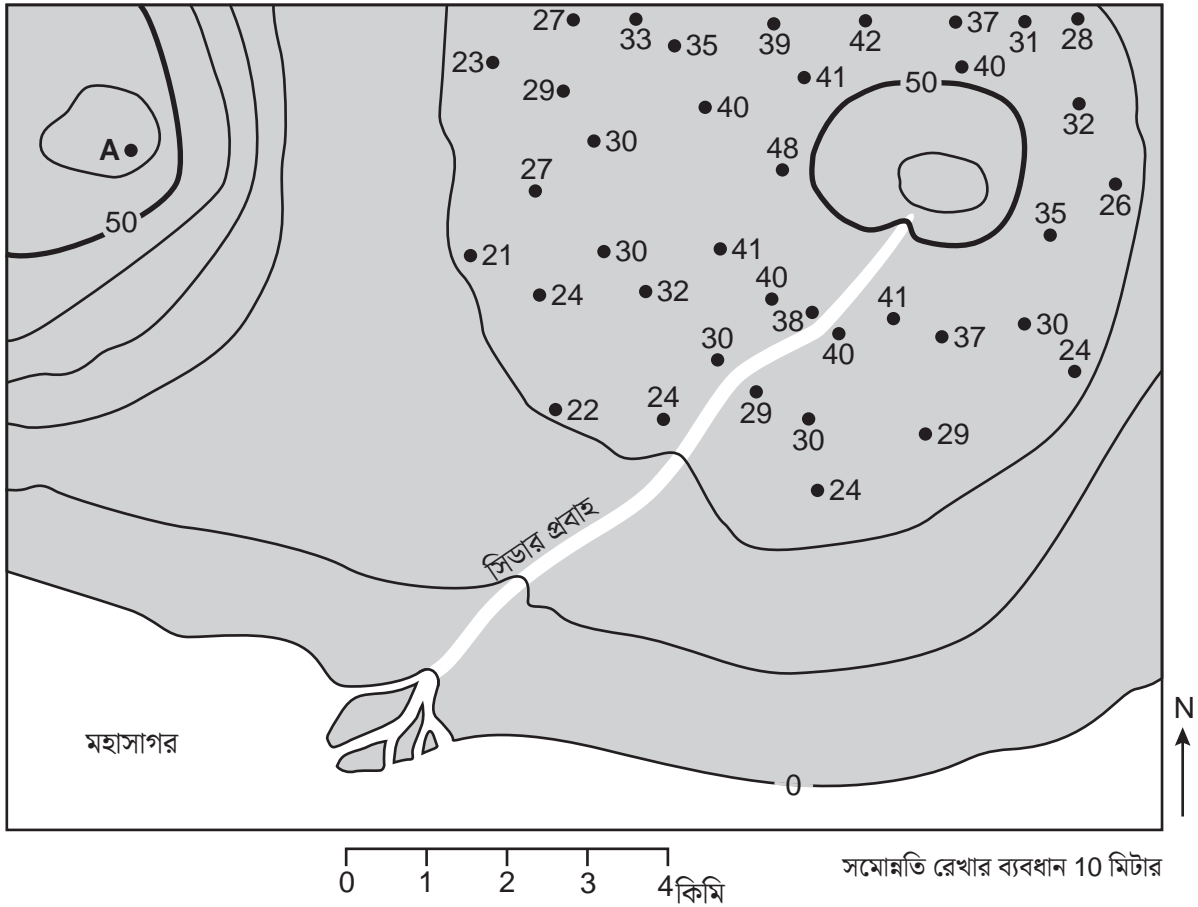
হারিকেন মাইকেল



70 বিভাগ: _____

71 _____

72

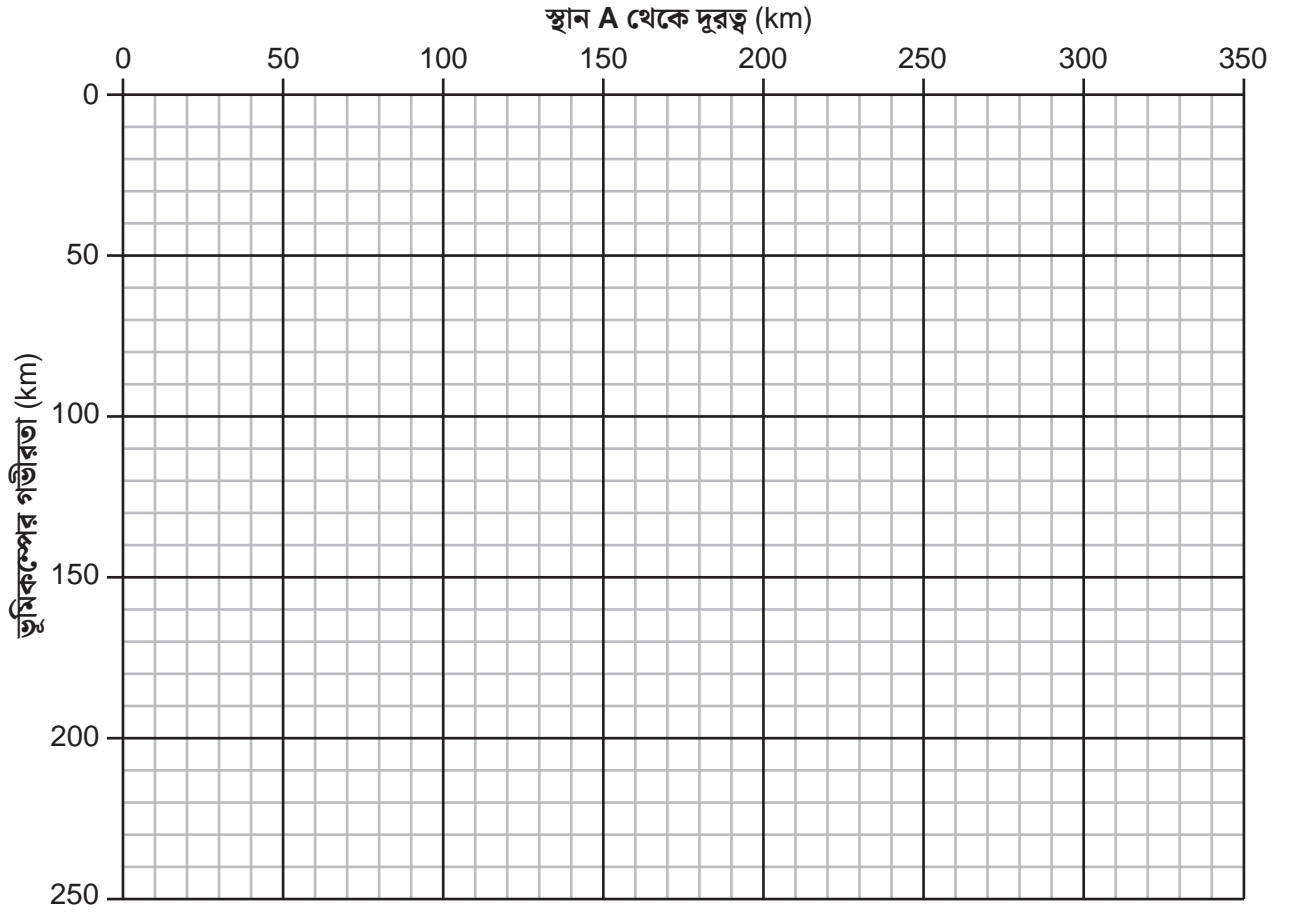


73 _____ m

74 _____

75 _____ km

প্লেটের সীমা থেকে লাইন AB বরাবর ভূমিকম্পের গভীরতা



77 _____ প্লেট এবং _____ প্লেট

78 _____

79 _____

80 _____

81 উপত্যকার আসল আকার: _____

হিমবাহী উপত্যকার আকার: _____

82 _____

83 _____

84 _____

85 _____

