

물리 분야 지구 과학

v202

답안 책자

학생명

교사명

학교명 학년

파트 B-2와 파트 C에 대한 답을 이 책자에 기록하십시오.

파트 B - 2

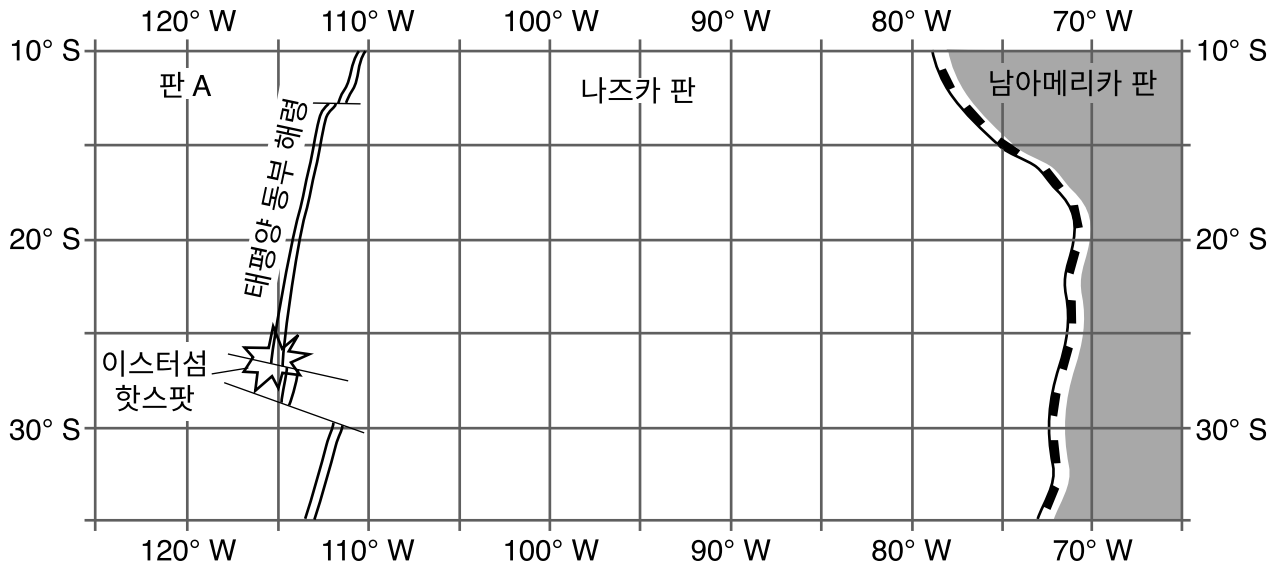
51 _____ 시대

52 _____

53 _____

54 _____

태평양 동남부



55 _____ 판

56 _____


57 _____ J/g

58 B: _____ 및 C: _____

59 _____

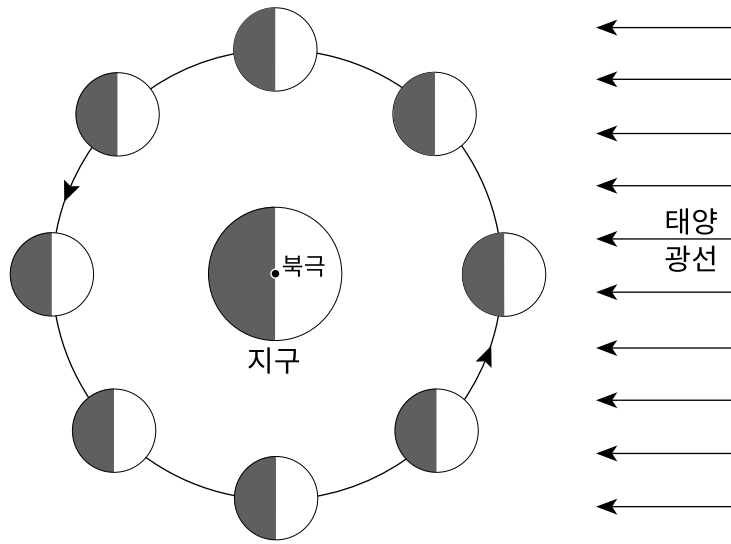
60 _____ 수은 인치

61



62 _____

63-64

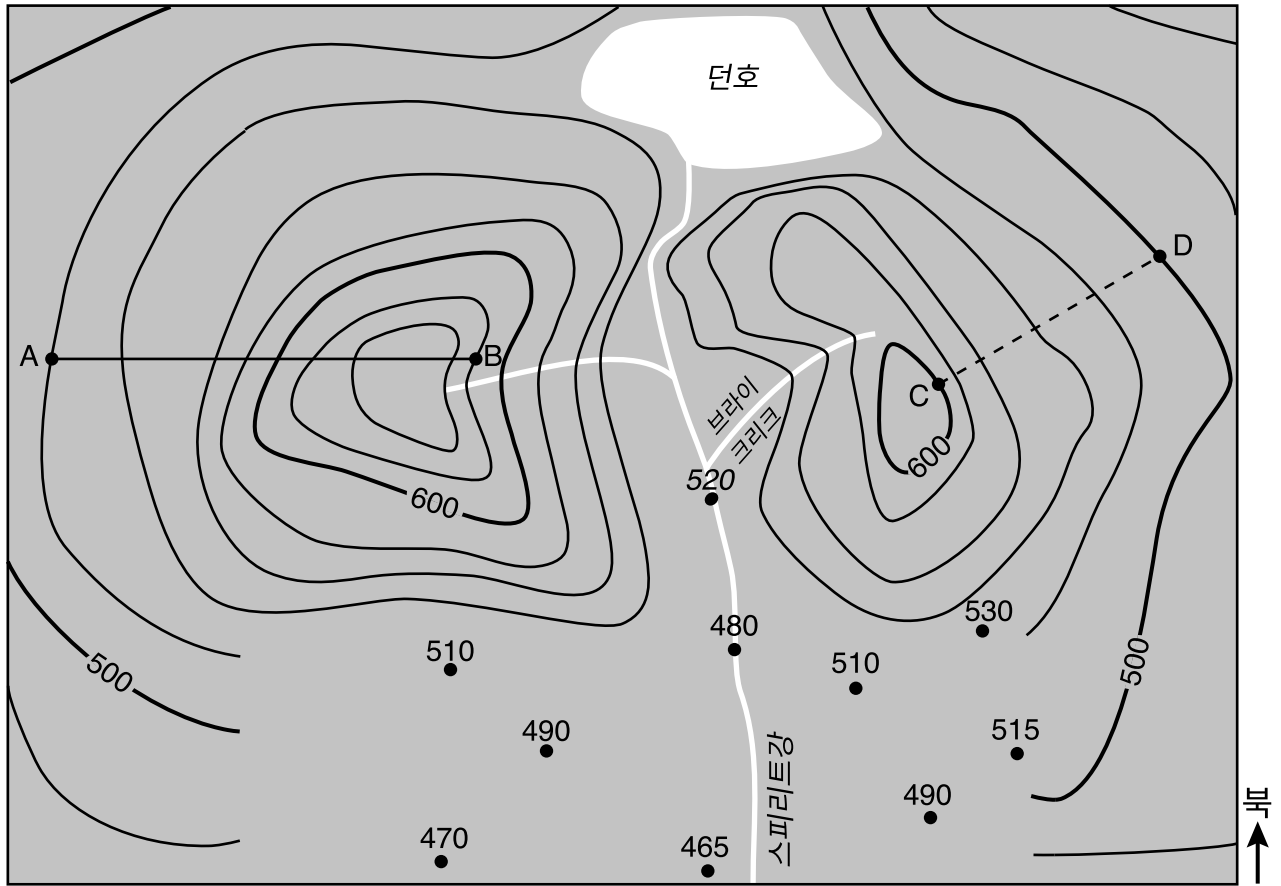


(실제 크기와 비율이 다름)

65 2019년 2월 _____ 일

파트 C


66



0 1 2 3 4 5 6 7 8 킬로미터

등고선 간격 = 20미터

67



68 _____ m/km

69 _____

70 _____

71 압력의 변화: _____

온도의 변화: _____

72 _____

73 _____

74 _____

75 _____ 및 _____

76 _____

77 _____

78 _____

79 _____

80 캘거리의 강수 유형: _____

몬테레이의 강수 유형: _____

81 _____

82 _____

83



84 _____

85 가장 최근의 것: _____



가장 오래된 것: _____

