

물리 분야 지구 과학

2019년 6월 20일, 목요일 — 오후 1시 15분부터 오후 4시 15분까지만 실시

답안 책자

학생명

교사명

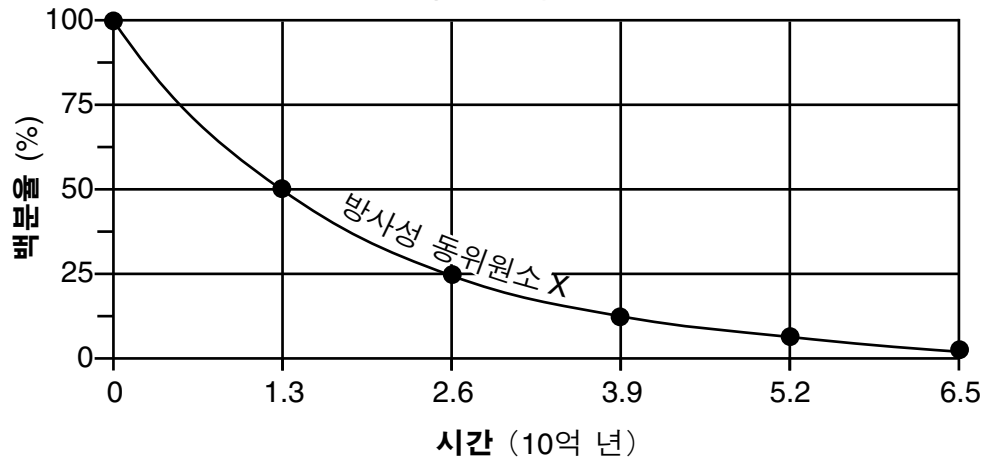
학교명 학년

파트 B-2와 파트 C에 대한 답을 이 책자에 기록하십시오.

파트 B-2

51

방사성 동위원소



52 _____

53 _____ g

54 기압 변화: _____

구름량: _____

55

기온 (°F)	기압 (mb)	풍향	풍속 (노트)

56 _____ %

57 _____

58 _____

59 _____

60 _____

61 _____

62 _____

63 _____

64 _____ 시

65 _____

파트 C

66 _____ 배 큼


67 _____

68 지구형 행성들: _____ 및 _____

설명: _____

69 _____

70



71 크기: _____

모양: _____

72 _____ cm

73 _____

74 _____

75 _____

76 _____ 해류

77 1: _____

2: _____

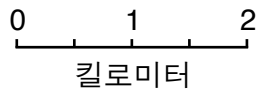
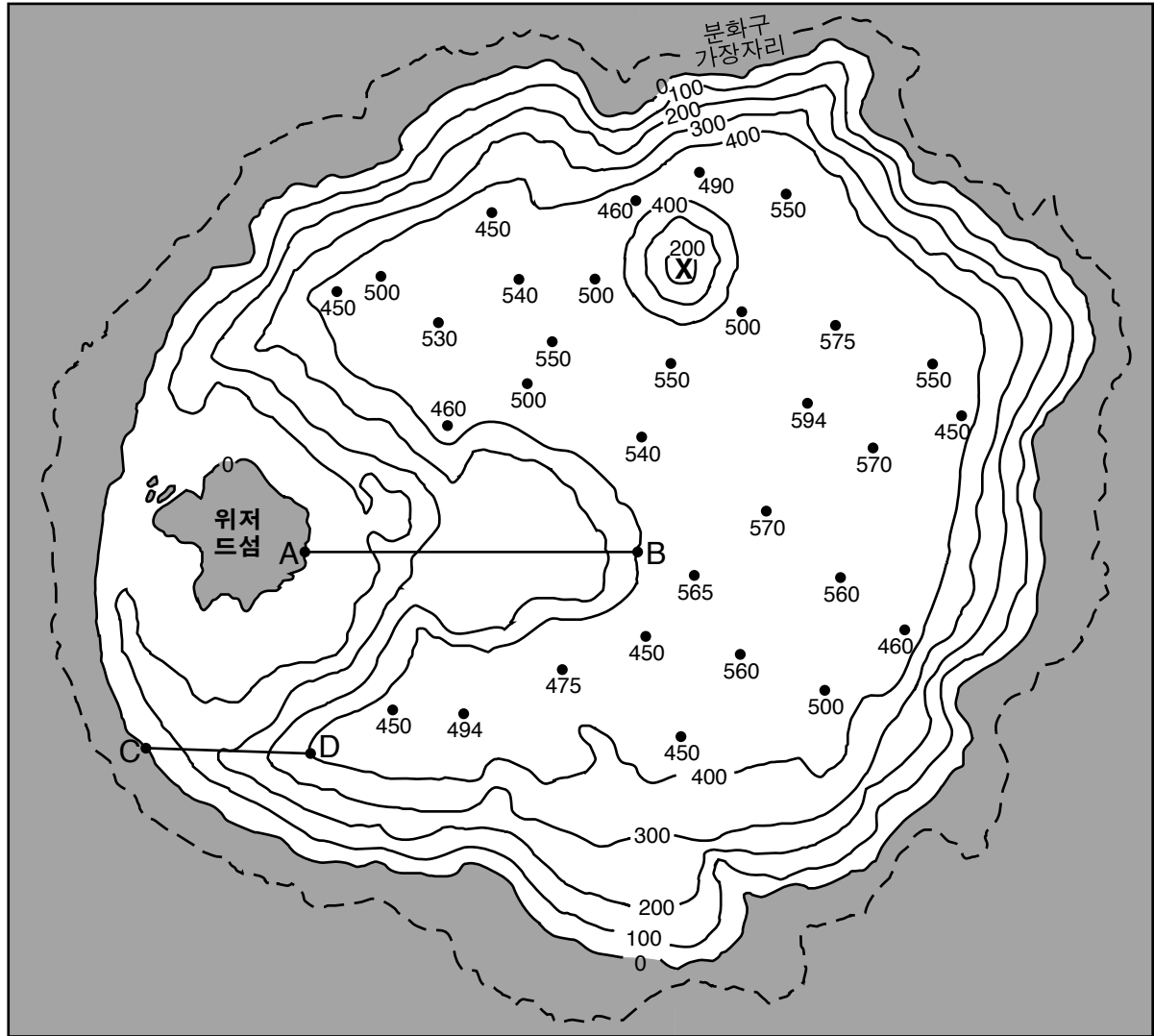
78 _____

79 _____

80 점 X: _____

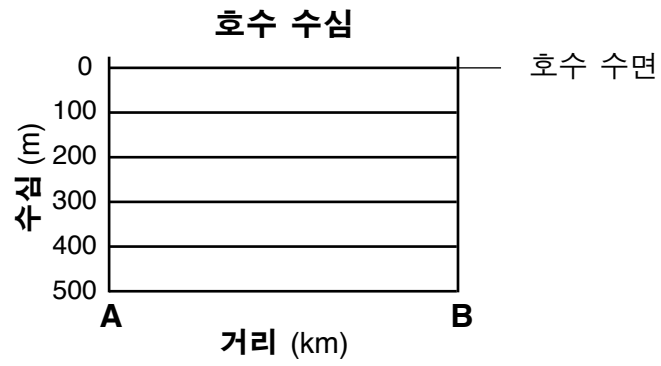
점 Y: _____

크레이터호의 자기장 지도



www.craterlakeinstitute.com

82



83 _____ m/km

84 _____ 미터

85 사장석: _____ %

흑운모: _____ %

각섬석: _____ %

