

ФИЗИЧЕСКИЕ ХАРАКТЕРИСТИКИ ЕСТЕСТВОЗНАНИЕ

Среда, 27 января 2010 г. — время строго ограничено с 9:15 до 12:15

БУКЛЕТ ДЛЯ ОТВЕТОВ

Мужской

Имя и фамилия ученика. Пол: Женский

Преподаватель

Школа. Класс

Ответьте на все вопросы части В–2 и части С. Запишите ваши
ответы в этот буклет.

<input type="text"/>	Performance Test Score (Maximum Score: 16)	
.....		
Part	Maximum Score	Student's Score
A	35	
B–1	15	
B–2	15	
C	20	
Total Written Test Score (Maximum Raw Score: 85)		<input type="text"/>
Final Score (from conversion chart)		<input type="text"/>
Raters' Initials: Rater 1 Rater 2		

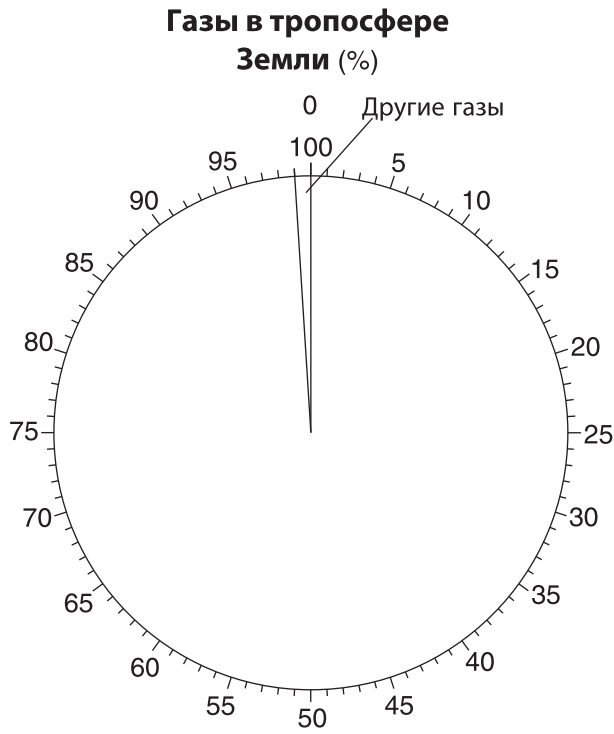
Часть В–2	
51	_____

52	_____
53	_____

Только для проверяющих

51	<input type="text"/>
52	<input type="text"/>
53	<input type="text"/>

54



54

55

77	75	73	71	68	65	63
78	78	77	73	69	65	62
82	80	78	74	70	68	65
81	80	77	75	70	67	64
79	77	76	73	68	66	62
75	75	72	69	65	63	61

55

56

56

Только для
проверяющих

57 _____

57

58 _____

58

59 _____

59

60 _____

60

61 _____

61

62 _____ см

62

63 _____

63

64 _____

64

65 (1) _____

(2) _____

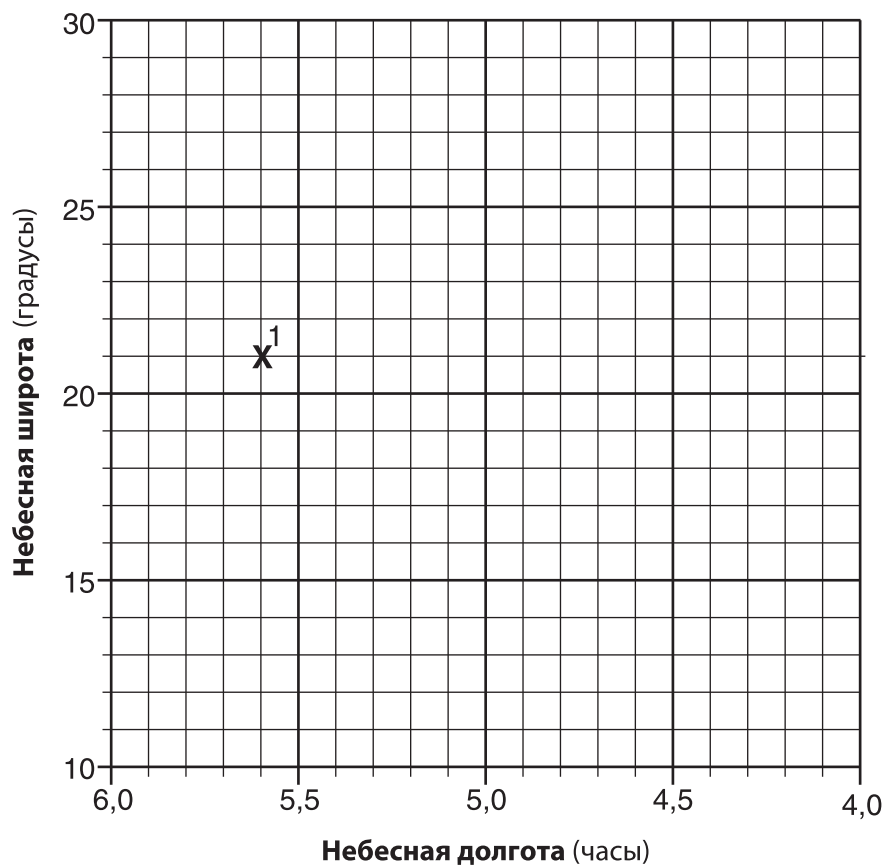
(3) _____

65

Total Score for
Part B-2

66

Расположение шести звезд в созвездии Тельца



66

67

Звезды	Температура (К)	Яркость (по сравнению с Солнцем)	Классификация
<i>Альдебаран</i>		300	гигант
<i>Эль-Нат</i>	13 700	700	

67

68

68

Только для
проверяющих

69 Наибольшее атмосферное давление на станции: _____



Наименьшее атмосферное давление на станции: _____

69

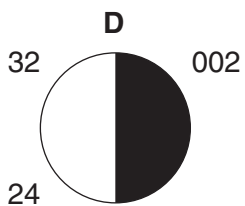
70 _____ °C

70

71 _____

71

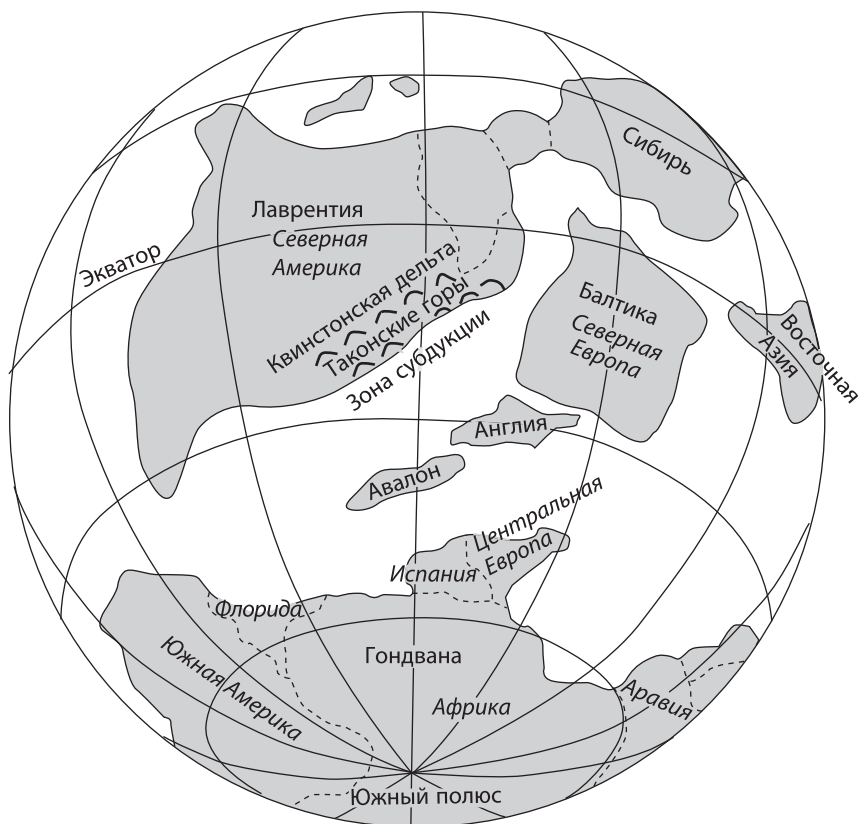
72



72

73-74

Только для проверяющих



73

74

75 _____ Период

75

76

Профиль ручья



76

77

77

78

Точка C → → → Точка D

78

Только для
проверяющих

79 _____

79

80 _____

80

81 _____

81

82 _____

82

83 _____

83

84 _____

84

**Total Score
for Part C**