

ФИЗИЧЕСКИЕ ХАРАКТЕРИСТИКИ ЕСТЕСТВОЗНАНИЕ

Четверг, 25 января 2018 г. — Время строго ограничено с 9:15 до 12:15

БУКЛЕТ ДЛЯ ОТВЕТОВ

Учащийся

Преподаватель

Школа Класс

Запишите в этом буклете свои ответы на вопросы части В–2 и части С.

Часть В–2

51 _____

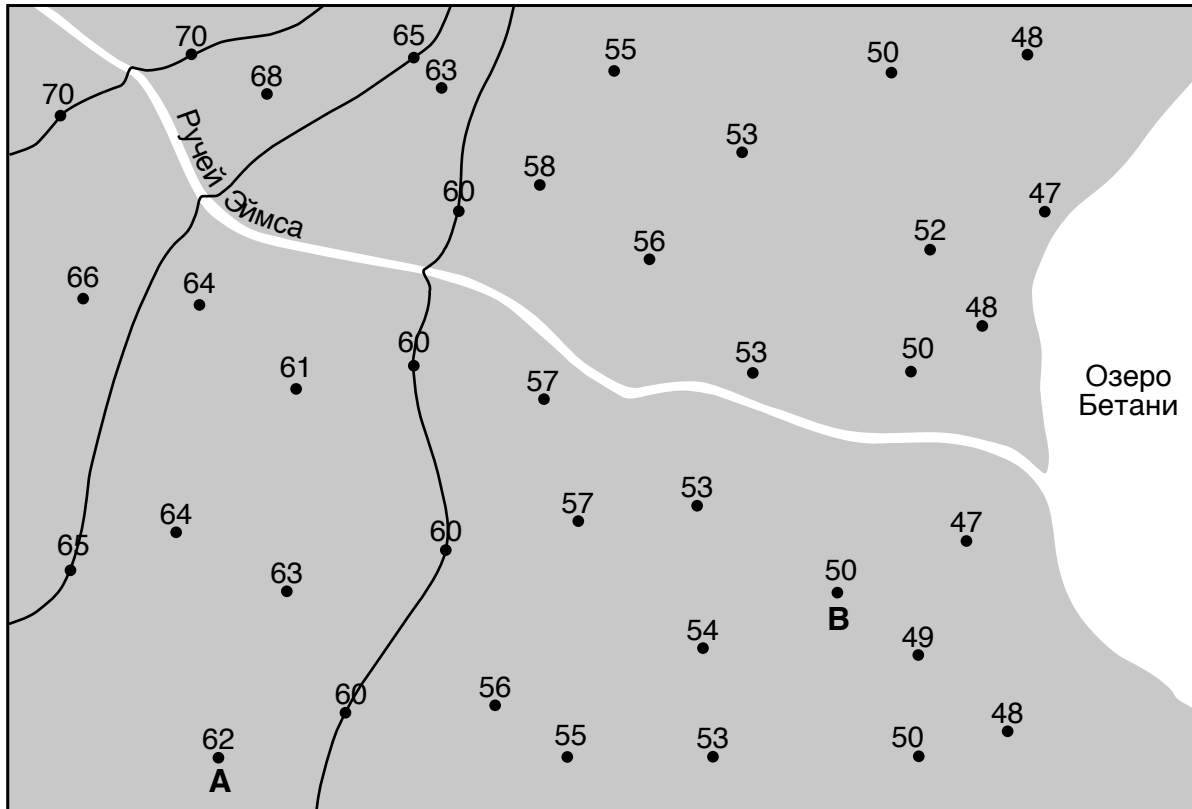
52 _____

53 Относительное время для звезды С: _____

Объяснение: _____

54 _____

55 _____



Интервал изолиний = 5 футов 0 0,5 1,0 1,5 2,0 мили

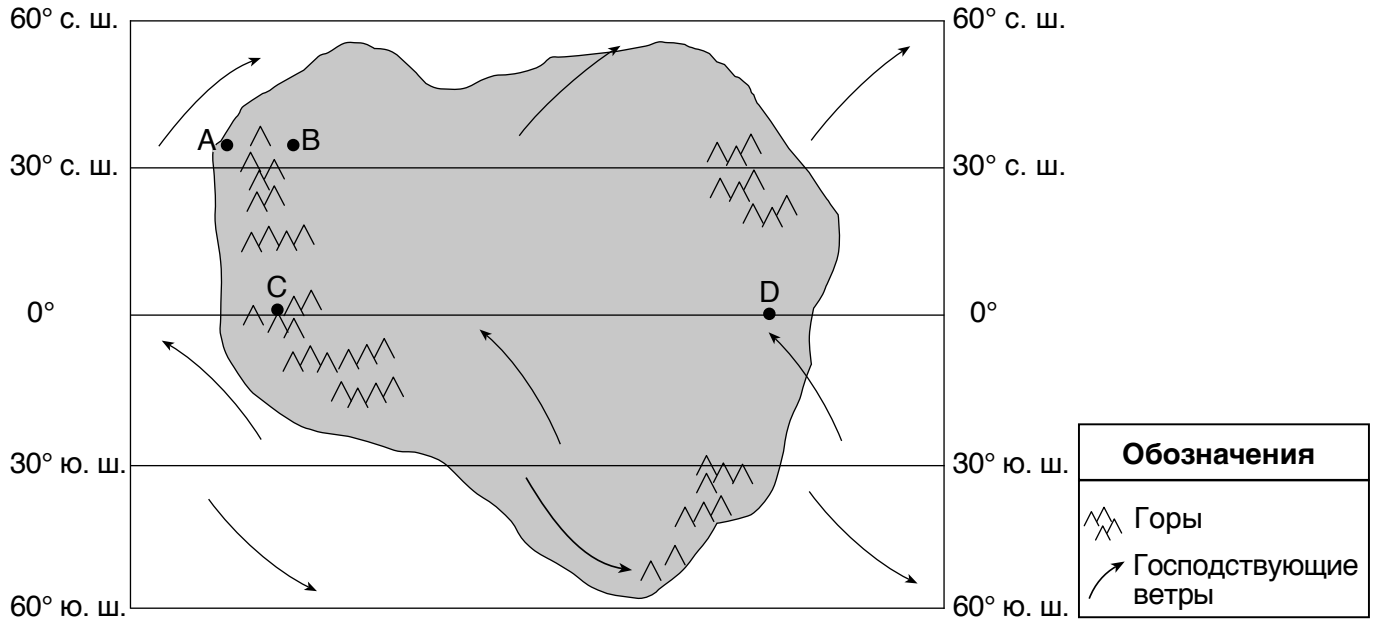


57 _____ футов на милю

58 Направление по компасу: _____

Данные: _____

59



60 Относительная средняя температура воздуха в *B*: _____

Относительные средние атмосферные осадки в *B*: _____

61 _____

62 _____

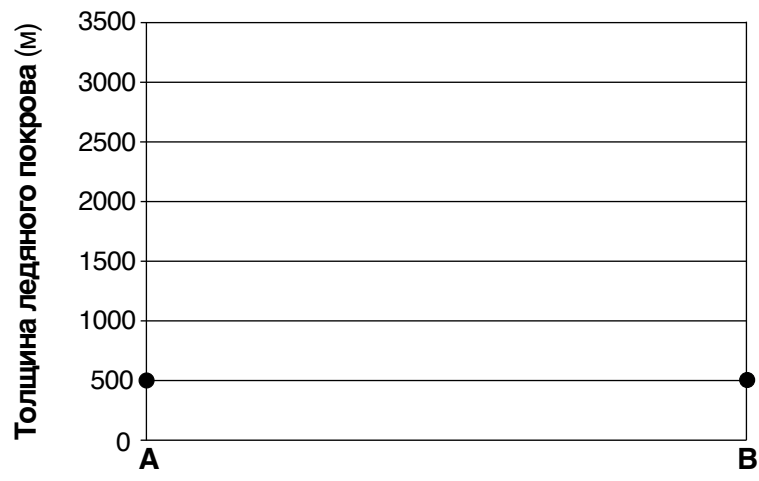
63 _____ ч.

64 _____

65 _____ °

Часть С

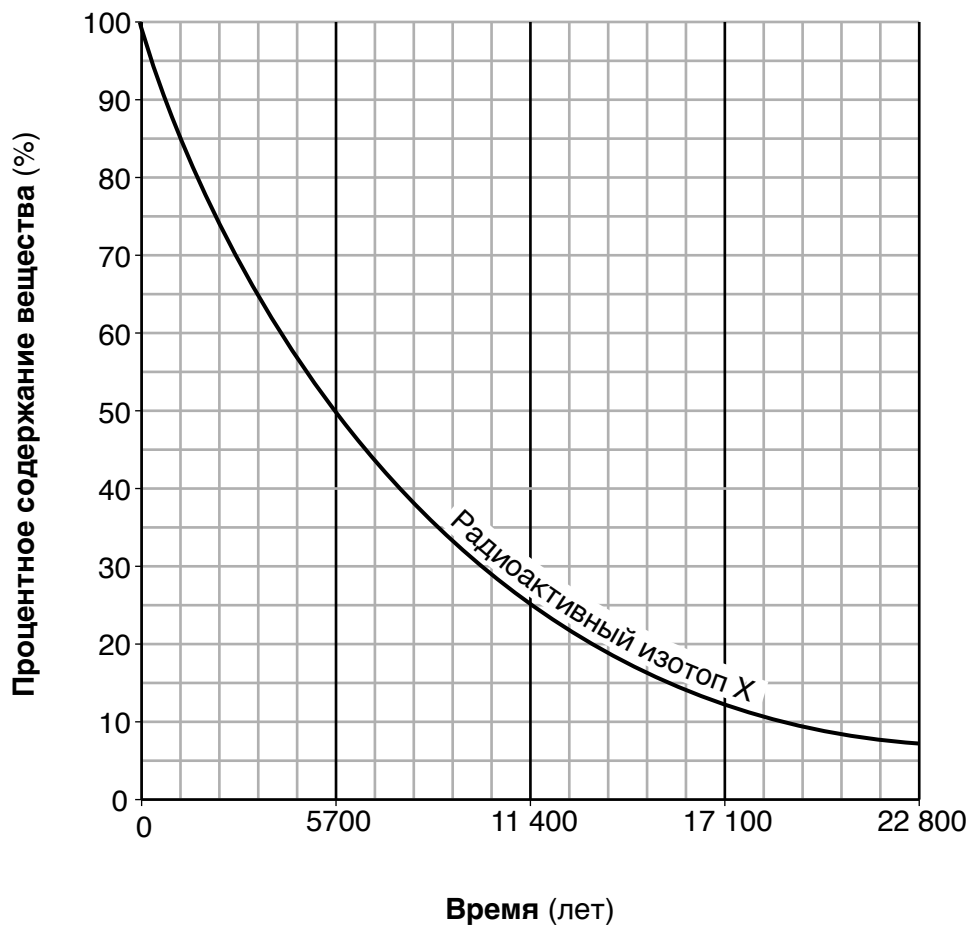
66



67 _____

68 _____ и _____

Радиоактивный распад X

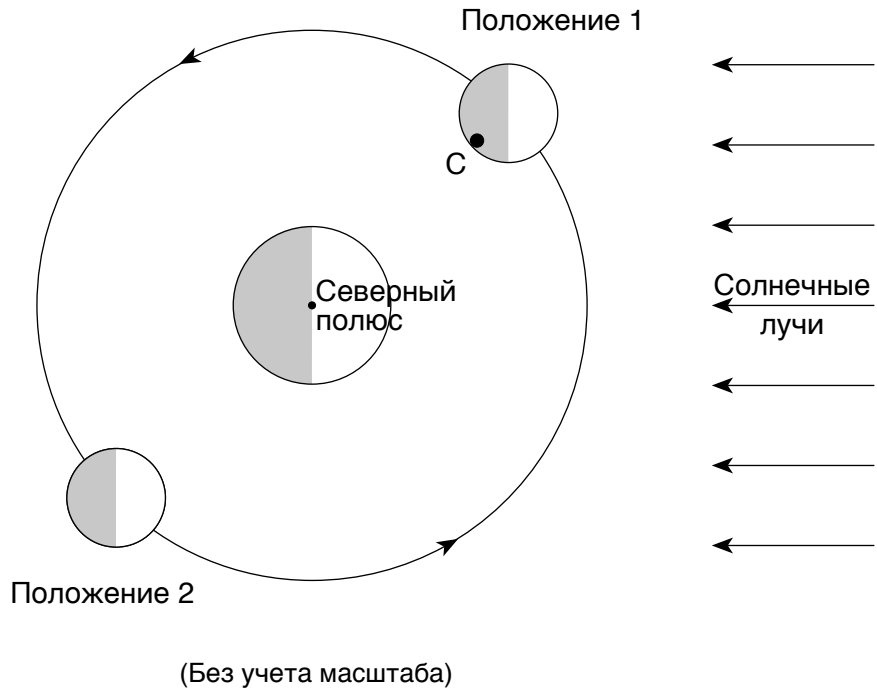


70 _____ лет

71 Радиоактивный изотоп X: _____


Устойчивый продукт распада: _____

72–73



74 _____ дней

75



76

г. Атланта, штат Джорджия	
Погодная переменная	Фактическое значение
Температура воздуха	°F
Атмосферное давление	мбар
Скорость ветра	узлов
направление ветра	со стороны

77 _____ фронт

78 _____

79 Точка А: _____ **плита**

Точка В: _____ **плита**

80 Относительный возраст в точке D: _____

Объяснение: _____

81 Термин для больших океанических волн: _____

Действия в чрезвычайной ситуации: _____

82

Буква	Отсутствующая информация
A	
B	
C	
D	

83 _____ и _____

84 _____

85 _____

