

# ФИЗИЧЕСКИЕ ХАРАКТЕРИСТИКИ ЕСТЕСТВОЗНАНИЕ

Пятница, 25 января 2019 г. — Время строго ограничено с 9:15 до 12:15

## БУКЛЕТ ДЛЯ ОТВЕТОВ

Учащийся.....

Преподаватель.....

Название школы..... Класс.....

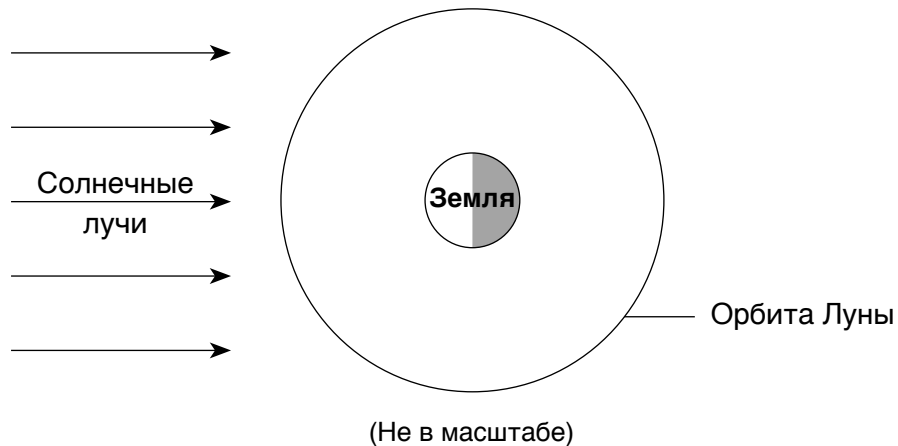
Запишите в этом буклете ответы на вопросы Части В-2 и Части С.

### Часть В-2

51

Местоположение в штате Нью-Йорк	Видимое полное солнечное затмение
Кингстон	
Массена	
Ниагарский водопад	
Риверхэд	
Освего	

52



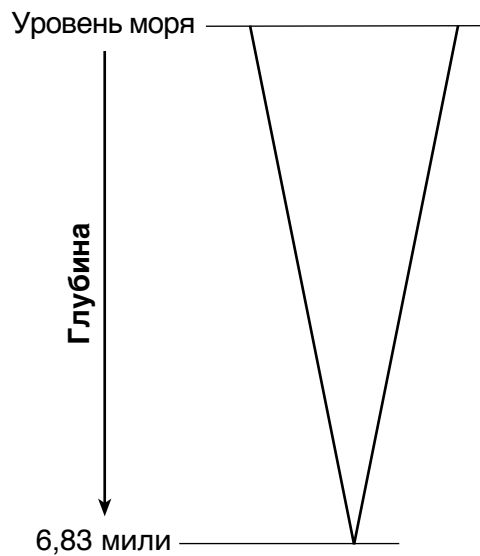
53 Плита А: \_\_\_\_\_ Плита

Плита В: \_\_\_\_\_ Плита


54 \_\_\_\_\_

55 \_\_\_\_\_

56



**Глубина  
Бездны  
Челленджера**



**Высота  
горы  
Эверест**


57 \_\_\_\_\_

58 \_\_\_\_\_

59 \_\_\_\_\_

60

**Модель радиоактивного распада  
углерода-14**



**Условные обозначения**

- Радиоактивный углерод-14
- Продукт распада

61 \_\_\_\_\_

62 \_\_\_\_\_

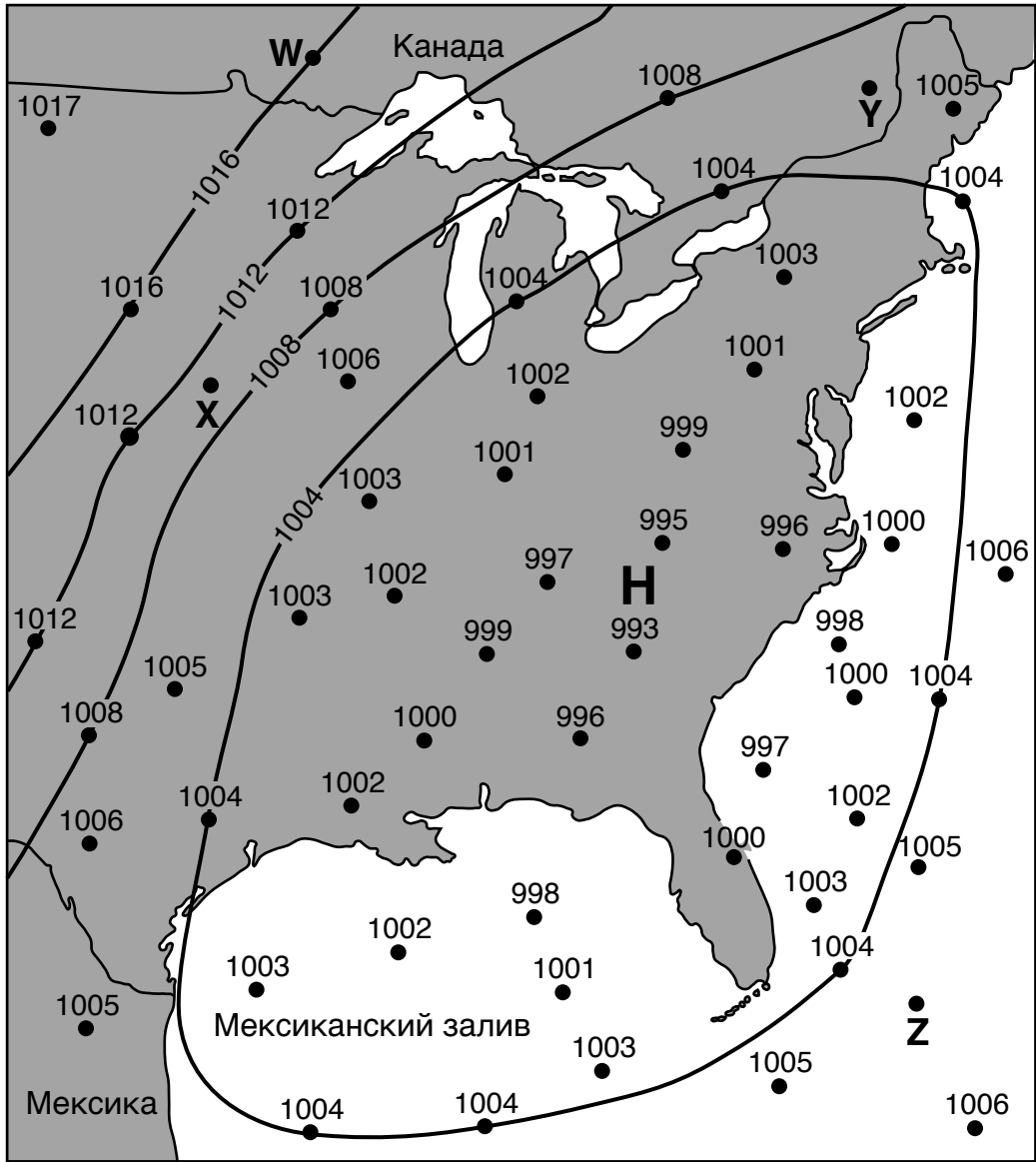
\_\_\_\_\_

63 \_\_\_\_\_ м

64 \_\_\_\_\_ м/км

65 \_\_\_\_\_

Полевая карта давления воздуха



67 Местоположение: \_\_\_\_\_

Доказательство: \_\_\_\_\_

\_\_\_\_\_

68 \_\_\_\_\_

69 Характеристика 1: \_\_\_\_\_

Характеристика 2: \_\_\_\_\_

70 \_\_\_\_\_

71 \_\_\_\_\_

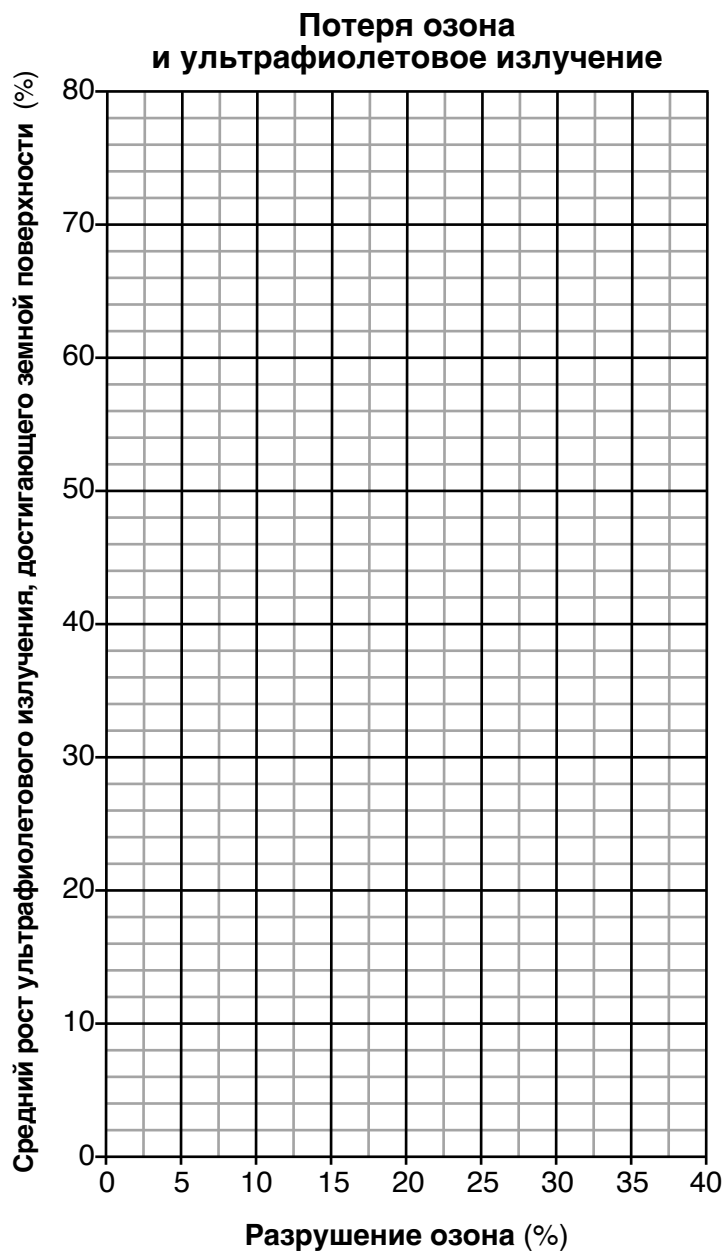
72 \_\_\_\_\_

73 \_\_\_\_\_ дней

74 Обведите один вариант:    **Планета земной группы**    **Планета группы Юпитера**

Объяснение: \_\_\_\_\_

\_\_\_\_\_



76 \_\_\_\_\_ %

77 \_\_\_\_\_

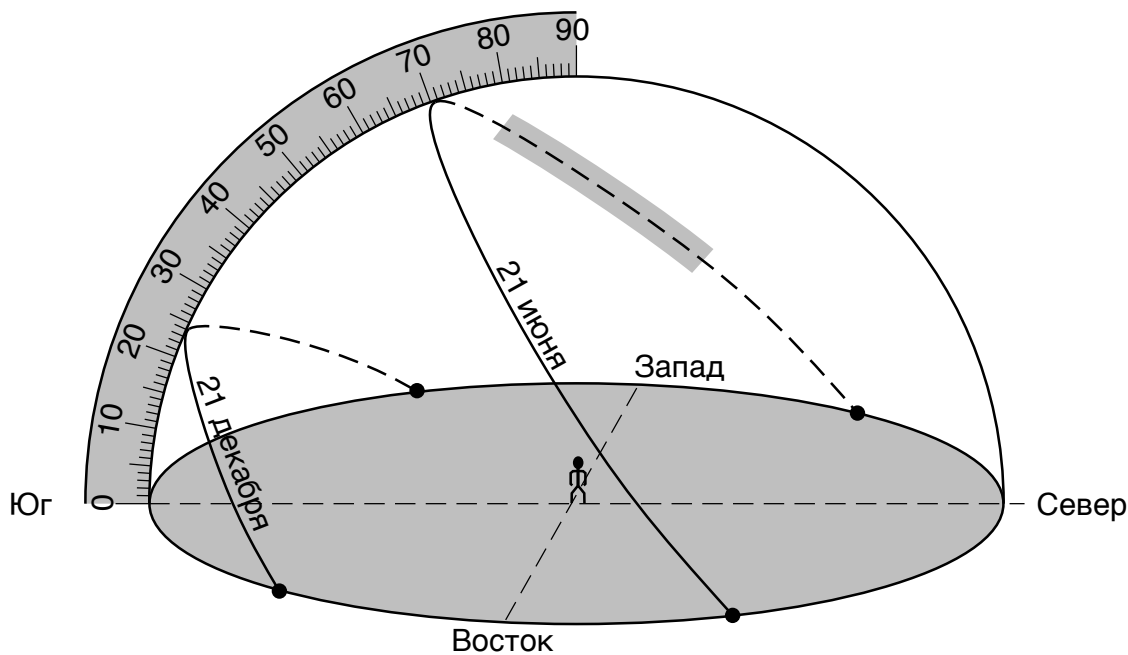
78

Сравнение длин волн с ультрафиолетовым (УФ) излучением

Тип электромагнитного излучения	Все длины волн короче УФ	Все длины волн длиннее УФ	Некоторые длины волн короче УФ и некоторые длины волн, совпадающие с УФ
Гамма-излучение			
Микроволны			
Видимый световой спектр			
Рентген			

79 \_\_\_\_\_ и \_\_\_\_\_

80



81 21 декабря: \_\_\_\_\_

21 июня: \_\_\_\_\_

82 \_\_\_\_\_ ч

