

ENTORNO FÍSICO CIENCIAS DE LA TIERRA

Miércoles, 16 de agosto de 2006 — 12:30 a 3:30 p.m., solamente

FOLLETO DE RESPUESTAS

Masculino

Estudiante Sexo: Femenino

Profesor

Escuela Grado

Conteste todas las preguntas de la Parte B-2 y la Parte C. Escriba sus respuestas en este folleto.

<input type="text"/>		Performance Test Score (Maximum Score: 23)
.....		
Part	Maximum Score	Student's Score
A	35	_____
B-1	15	_____
B-2	15	_____
C	20	_____
Total Written Test Score (Maximum Raw Score: 85)		<input type="text"/>
Final Score (from conversion chart)		<input type="text"/>
Raters' Initials:		
Rater 1		Rater 2

Parte B-2

51 _____

52

Orden de los planetas desde el Sol

(Las distancias no están dibujadas a escala)

53 _____

For Raters Only

51

52

53

**For Raters
Only**

54 Período _____

54

55 _____

55

56 _____

56

57 _____

57

58 _____

58

59 Lecho rocoso granítico

Textura: _____

Densidad: _____

Lecho rocoso basáltico

Textura: _____

Densidad: _____

59

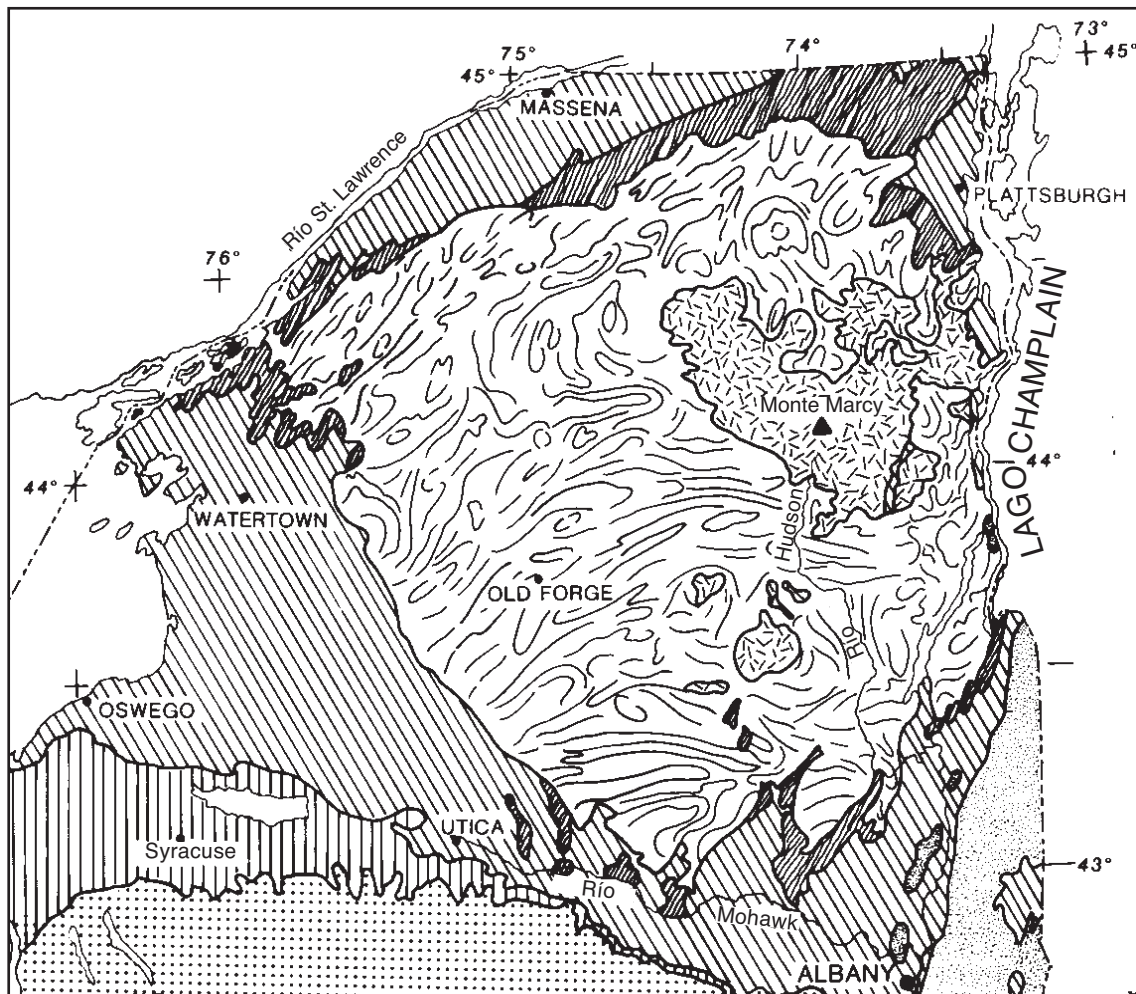
60 _____ y _____

60

61 _____

61

62



62

63 Longitud: _____

63

64 Edad geológica: _____

64

Nombre del lecho rocoso: _____

Total Score for Part B-2

Parte C

For Raters Only

65 _____

65

66

Número	Proceso del ciclo de agua
1	
2	
3	
4	
5	
6	

66

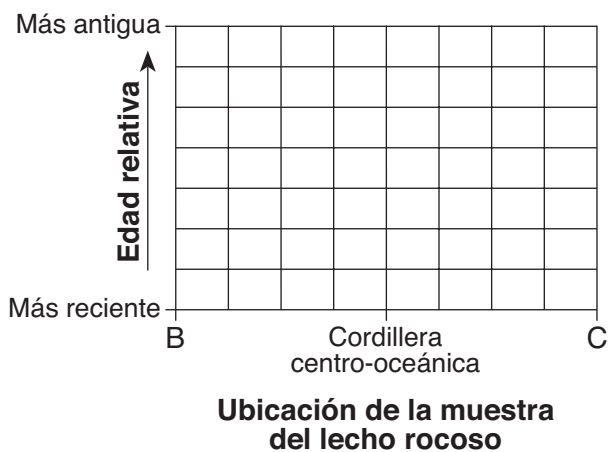
67 _____

67

68 _____

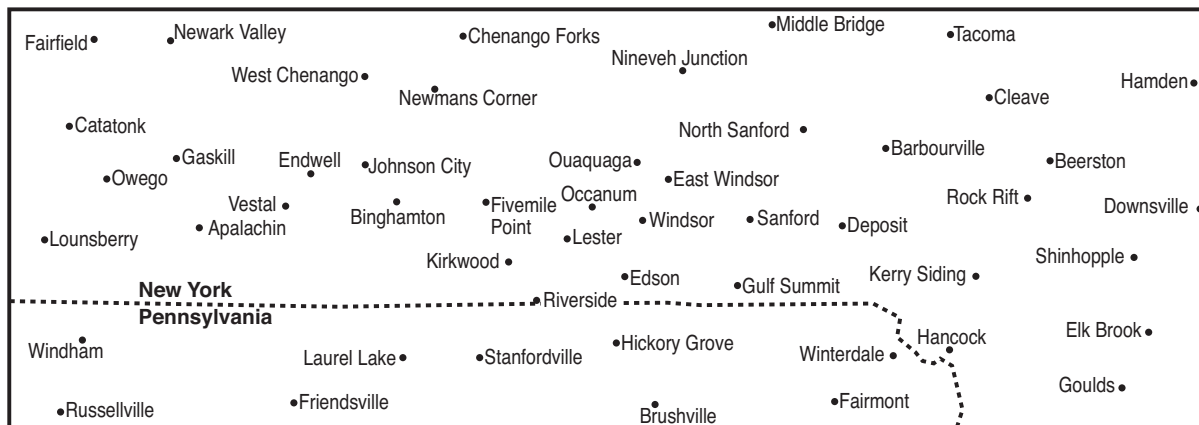
68

69



69

70



70

71 _____ y _____

71

72 frente _____

72

73

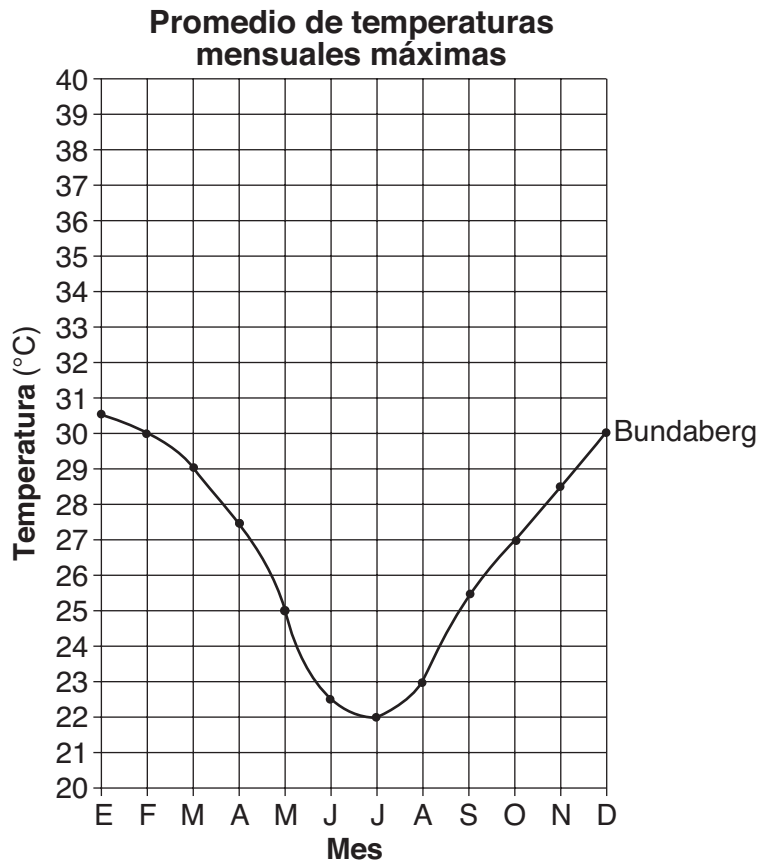
Pueblo	Número de la escla F
Vestal	
Windsor	
Sanford	
Deposit	

73

74 Velocidad = _____ millas/min

74

75



75

76

76

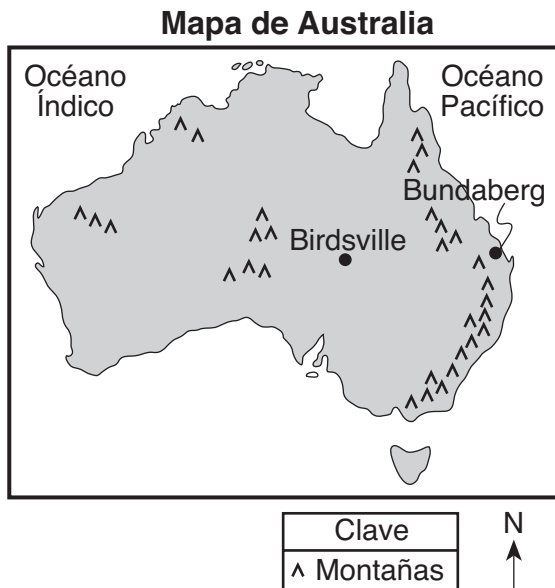
77

77

78

78

79



79

80 _____ millones de km

80

81 _____

81

82 _____ millones de años

82

Total Score for Part C

