



Korean Edition
Grade 4 Mathematics, Book 2
Sample Test 2005

수학
제 2권

4학년

2005년도 샘플 시험

이름 _____

시험 관련 도움말

다음은 자신의 실력을 최고로 발휘하는 데 도움이 되는 사항들입니다.

- 시험지에 있는 모든 지시사항들을 자세히 읽으십시오.
- 시험 문제를 풀기 위해 도구를 사용할 수 있습니다.
- 각 문제를 자세히 읽고 정답을 쓰기 전에 답이 맞는지 한 번 더 생각해 보십시오.
- 풀이 과정을 써야 하는 문제도 있습니다. 이 경우 풀이 과정을 쓰면 부분 점수를 받을 수도 있습니다.



이 그림은 문제를 풀기 위해 자를 사용해야 한다는 표시입니다.



이 그림은 문제를 풀기 위해 패턴 블록을 사용해야 한다는 표시입니다.



이 그림은 문제를 풀기 위해 계산기를 사용해야 한다는 표시입니다.

아래 표는 학교 네 군데의 도서관에 있는 책의 수를 나타낸 것입니다.

도서관 장서수

학교	장서수
레이크뷰	2,265
킹	1,304
펜타운	1,746
로저스	4,355

학교 네 군데의 도서관에 있는 책의 수는 모두 몇 권입니까?

풀이 과정을 쓰시오.

답 _____ 권

계속

32

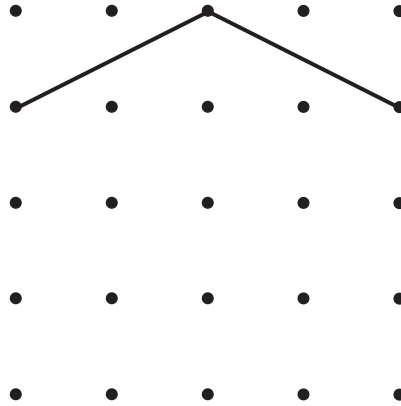
로날드의 아파트 건물에는 각 층별로 17채의 아파트가 있습니다. 이 건물은 6층짜리 건물입니다. 로날드의 아파트 건물에는 총 몇 채의 아파트가 있습니까?

풀이 과정을 쓰시오.

답 _____ 채의 아파트

33

제이슨은 아래 다이어그램에 오각형을 그리려고 합니다. 지금까지 2개의 선분을 그렸습니다.



영역 A

다이어그램에 제이슨이 그리려는 오각형의 나머지 부분을 그리시오.

영역 B

오각형에는 변이 몇 개 있습니까?

답 _____ 개의 변

계속

34

해링톤씨는 시장에서 오렌지를 몇 상자 구입했습니다. 그는 총 72개의 오렌지를 구입했습니다. 각 상자에는 각각 6개의 오렌지가 들어 있습니다. 그러면 해링톤씨가 구입한 오렌지는 모두 몇 상자입니까?

풀이 과정을 쓰시오.

답 _____ 상자

35

제인과 환은 각각 음악 CD를 가지고 있습니다. 환은 제인보다 12장의 CD를 더 가지고 있습니다.

영역 A

환이 제인보다 12장의 CD를 더 가지고 있다는 것을 나타내는 수식을 작성하십시오. 여기서 J 는 제인이 가지고 있는 CD의 수를 의미하고, K 는 환이 제인이 가지고 있는 CD 수를 의미합니다.

수식 _____

영역 B

제인이 7장의 CD를 가지고 있다면 환은 몇 장의 CD를 가지고 있습니까?

풀이 과정을 쓰시오.

답 _____ 장의 CD

계속

36

아래 수 변환 상자는 들어오는 모든 숫자들에 일정한 규칙을 적용하고 있습니다.



아래 수 변환 상자 표에서 빠진 숫자 두 개를 빈 칸에 채워 넣으시오.

수 변환 상자 표

입력	결과
3	9
5	15
6	18
8	
	27

이 수 변환 상자에서 입력한 숫자들이 결과 숫자들로 바뀌는 데 사용된 규칙을 아래 빈 칸에 적으시오.

계속

37

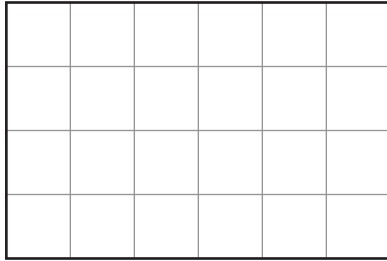
지난 주 토요일, 존은 영화를 보러 극장에 갔습니다. 존은 \$10.00를 가지고 있었습니다. 그 중 영화표를 구입하는 데 \$5.00를 지불하고, 팝콘을 사는 데 \$3.25를 지불했습니다. 그러면 존에게 남아 있는 돈은 얼마입니까?

풀이 과정을 쓰시오.

답 \$ _____

아래 도표는 테일러씨의 안뜰을 나타낸 것입니다.

테일러씨댁 안뜰



기호 표시	
<input type="checkbox"/>	= 1평방(제곱) 미터

영역 A

안뜰의 총 면적은 몇 평방(제곱) 미터입니까?

답 _____ 평방(제곱) 미터

영역 B

안뜰의 둘레 길이는 몇 미터입니까?

풀이 과정을 쓰시오.

답 _____ 미터

계속

39

아래 표는 카일네 반 친구들이 가지고 있는 애완 동물의 종류와 마리수를 나타낸 것입니다.


애완동물


종류	마리수
개	6
고양이	4
물고기	5

카일네 반 친구들이 가지고 있는 애완동물의 종류와 마리수를 나타내는 막대 그래프를 아래 모눈에 그리시오.

다음 사항을 지킬 것

- 그래프의 제목을 쓸 것
- 두 축에 이름을 표시할 것
- 모든 데이터를 그래프에 표시할 것
- 그래프의 눈금 및 단위를 표시할 것





4학년
수학
제 2권
2005년도 샘플 시험

The McGraw-Hill Companies
