



Russian Edition
Grade 4 Mathematics, Book 3
Sample Test 2005

Математика
Книга 3

Класс **4**

Образец теста 2005

Фамилия и имя _____

Советы по выполнению образца теста

Вот несколько советов, призванных помочь вам в работе:

- Обязательно прочтите внимательно все указания в руководстве по тестированию.
- Вы можете использовать изображенные ниже средства для решения задач.
- Внимательно прочтите каждый вопрос и обдумайте ответ, прежде чем выбрать его.
- Обязательно по требованию преподавателя покажите свой ход решения задачи, что может быть зачтено как частичное решение этой задачи.



Данный рисунок означает, что необходимо использовать линейку.



Данный рисунок означает, что необходимо использовать геометрические шаблоны.



Данный рисунок означает, что необходимо использовать калькулятор.

Дальше

40

За прошлый месяц Кевин прочитал 8 книг. В каждой книге 32 страницы. Сколько всего страниц прочитал Кевин?

Покажите свой ход решения задачи.

Ответ _____ страниц

41

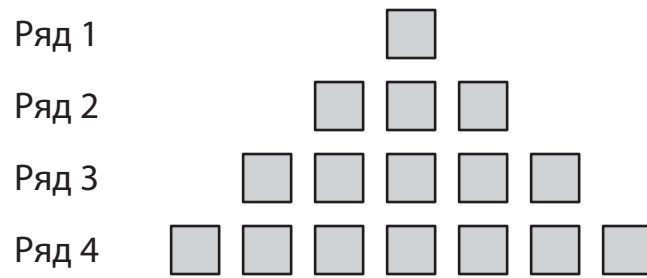
Мисс Сэндерс отправилась на велосипеде в путешествие длиной 300 миль. Каждый день она проезжает на своем велосипеде 30 миль. Сколько дней понадобится мисс Сэндерс, чтобы завершить свое путешествие?

Покажите свой ход решения задачи.

Ответ _____ дней

Дальше

Нора рисует последовательность квадратов. На рисунке ниже показаны первые 4 ряда последовательности.



Если Нора продолжит последовательность, сколько квадратов будет в **ряду 6**?

Ответ _____ квадратов

В строчках ниже объясните, как вы получили ваш ответ.

43

Рониша принимала участие в соревнованиях по легкой атлетике в своей школе. По прыжкам в длину она прыгнула на 48 дюймов. На сколько футов в длину прыгнула Рониша?

Покажите свой ход решения задачи.

Ответ _____ футов

Дальше

44


У Гейл есть 35 семян помидоров и 4 цветочных горшка. Она сажает по 8 семян помидоров в каждый цветочный горшок. Сколько семян помидоров останется у Гейл?

Покажите свой ход решения задачи.

Ответ _____ семян

45

В системе координат ниже начертите прямоугольник длиной 7 единиц и шириной 5 единиц.



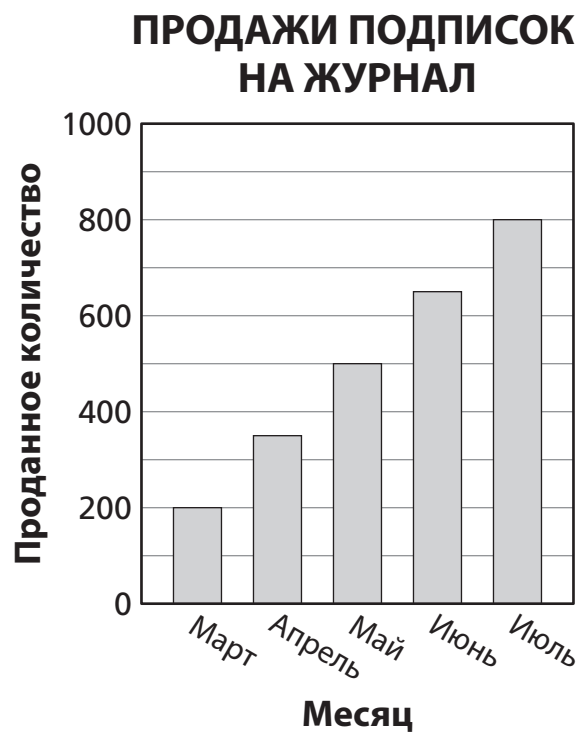
Каков периметр вашего прямоугольника?

Покажите свой ход решения задачи.

Ответ _____ единиц

Дальше

На столбчатой диаграмме ниже показано количество подписок на журнал, продаваемых популярным издательством каждый месяц в течение 5 месяцев.



Часть А

На сколько подписок больше было продано в мае, чем в апреле?

Покажите свой ход решения задачи.

Ответ _____ подписок

Часть В

Если эта закономерность продолжится, сколько подписок на журнал будет продано в ноябре?

Покажите свой ход решения задачи.

Ответ _____ подписок

Дальше

47

Мари пригласила на вечеринку 9 друзей. Она купила всего 63 стикера, чтобы раздать их своим друзьям. Если каждый из друзей получит равное количество стикеров и лишних стикеров не останется, то сколько стикеров Мари должна дать каждому другу?


Покажите свой ход решения задачи.

Ответ _____ стикеров

Мисс Ландри планирует вечеринку для своего класса. Ученики голосуют за свои любимые виды булочек, которые должны быть на вечеринке. Каждый ученик голосует за 2 вида булочек. Результаты показаны в приведенной ниже пиктограмме.

ЛЮБИМЫЕ ВИДЫ БУЛОЧЕК

Виды булочек	Количество голосов
Апельсиновые	
Черничные	
Банановые с орехами	
Шоколадные	
Овсяные с изюмом	

КЛЮЧ
 = 5 голосам

Сколько всего студентов проголосовали в классе мисс Ландри?

Покажите свой ход решения задачи.

Ответ _____ учеников

СТОП



Класс 4
Математика
Книга 3
Образец теста 2005

The McGraw-Hill Companies