

物理环境 地球科学

仅限用于 2024 年 1 月 26 日 (星期五) 上午 9 时 15 分至下午 12 时 15 分

答题本

学生.....

教师.....

学校..... 年级

请在本答题本中填写 B-2 部分和 C 部分的答案。

B-2 部分

51 _____

52 _____ 百万千米

53 _____

54 表面特征: _____

描述: _____

55 亚特兰大: _____

洛杉矶: _____

56 _____

57 _____ 地质年代

58 _____ km³/y

59 人类活动: _____

影响: _____

60 空气温度: _____

降水量: _____

61 _____

62 _____

63 _____

64 北极—表面温度(圈出一项): 更低 更高 相同

北极—光度(圈出一项): 更低 更高 相同

65 _____ → _____ → _____
最古老 最年轻

C 部分

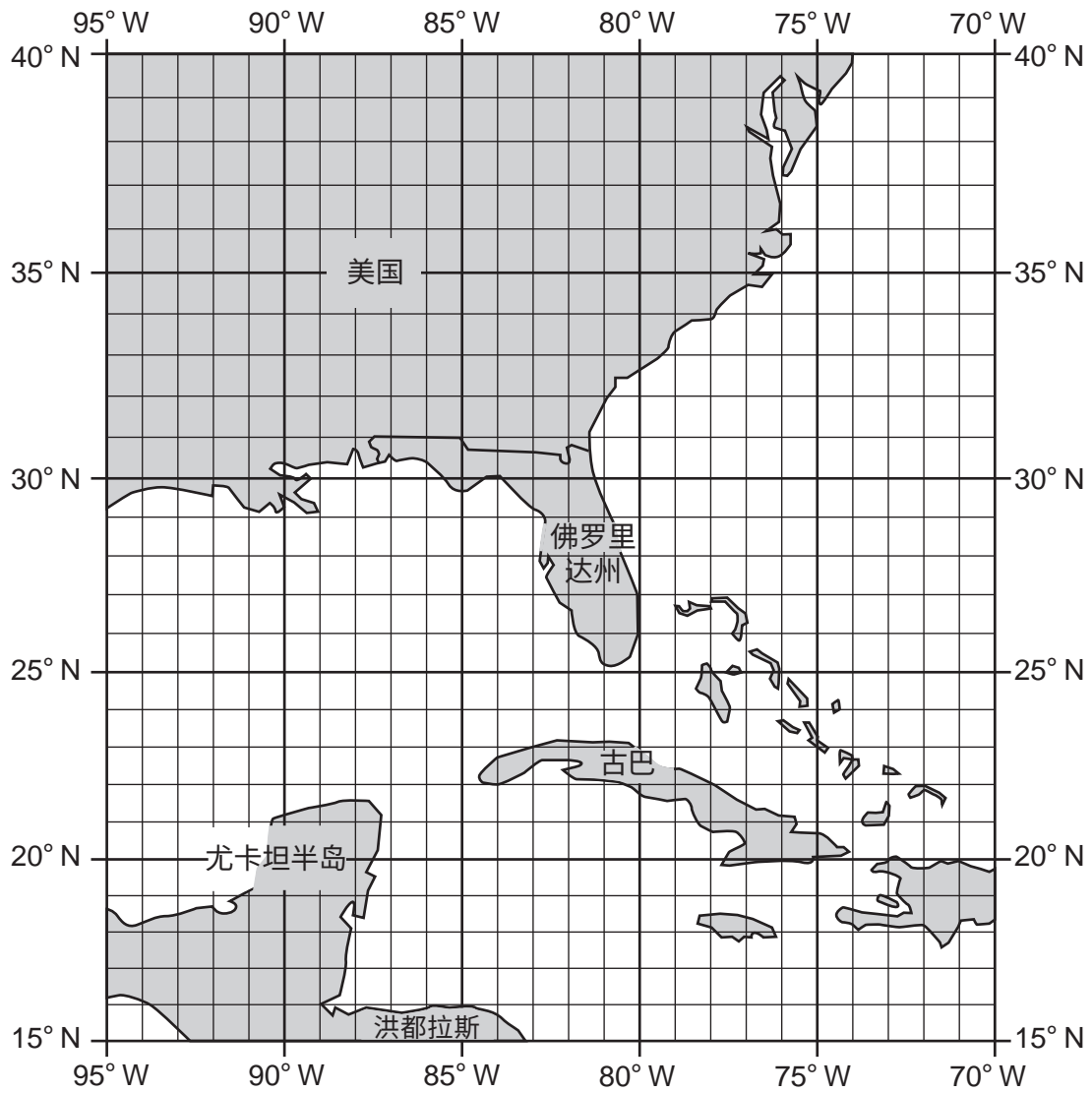
66 _____

67 _____

68 _____ cm

69

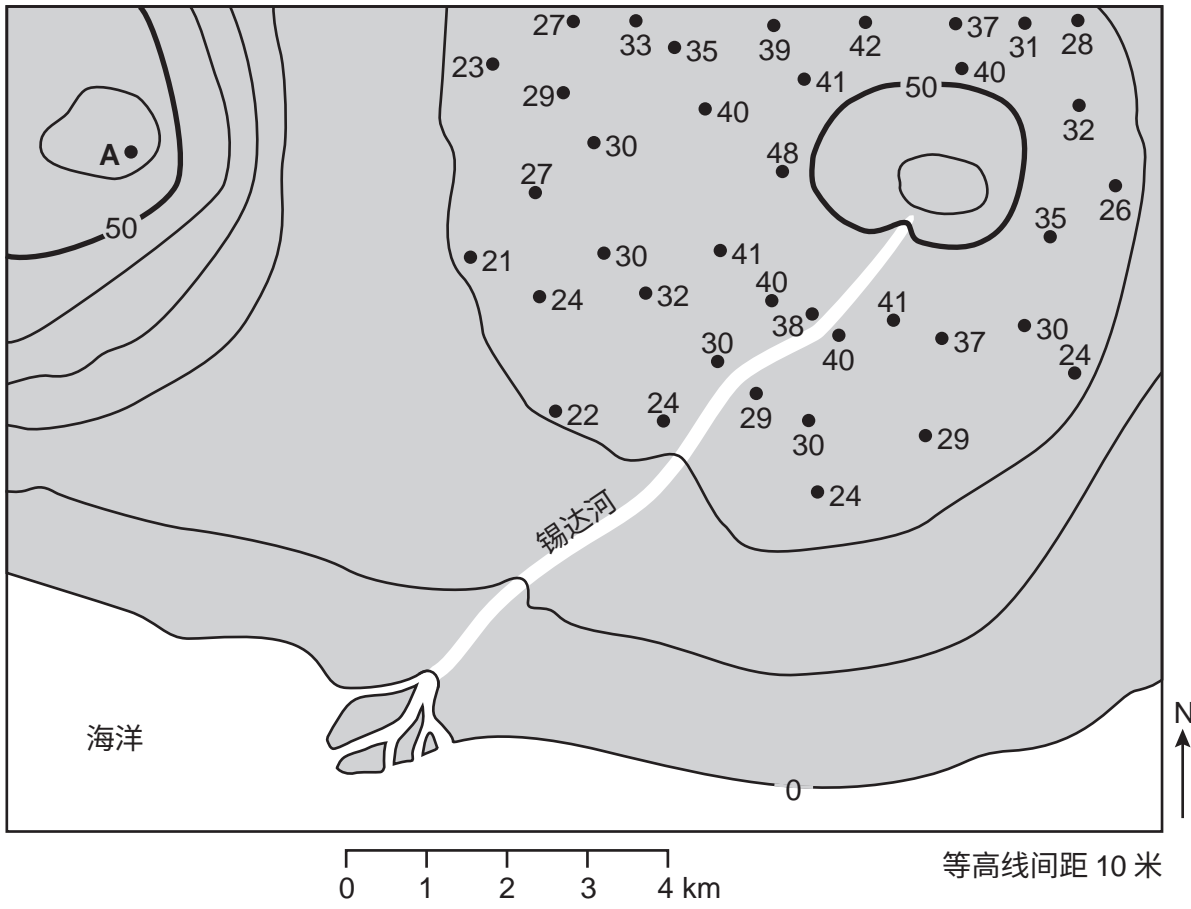
飓风迈克尔



70 等级: _____

71 _____

72



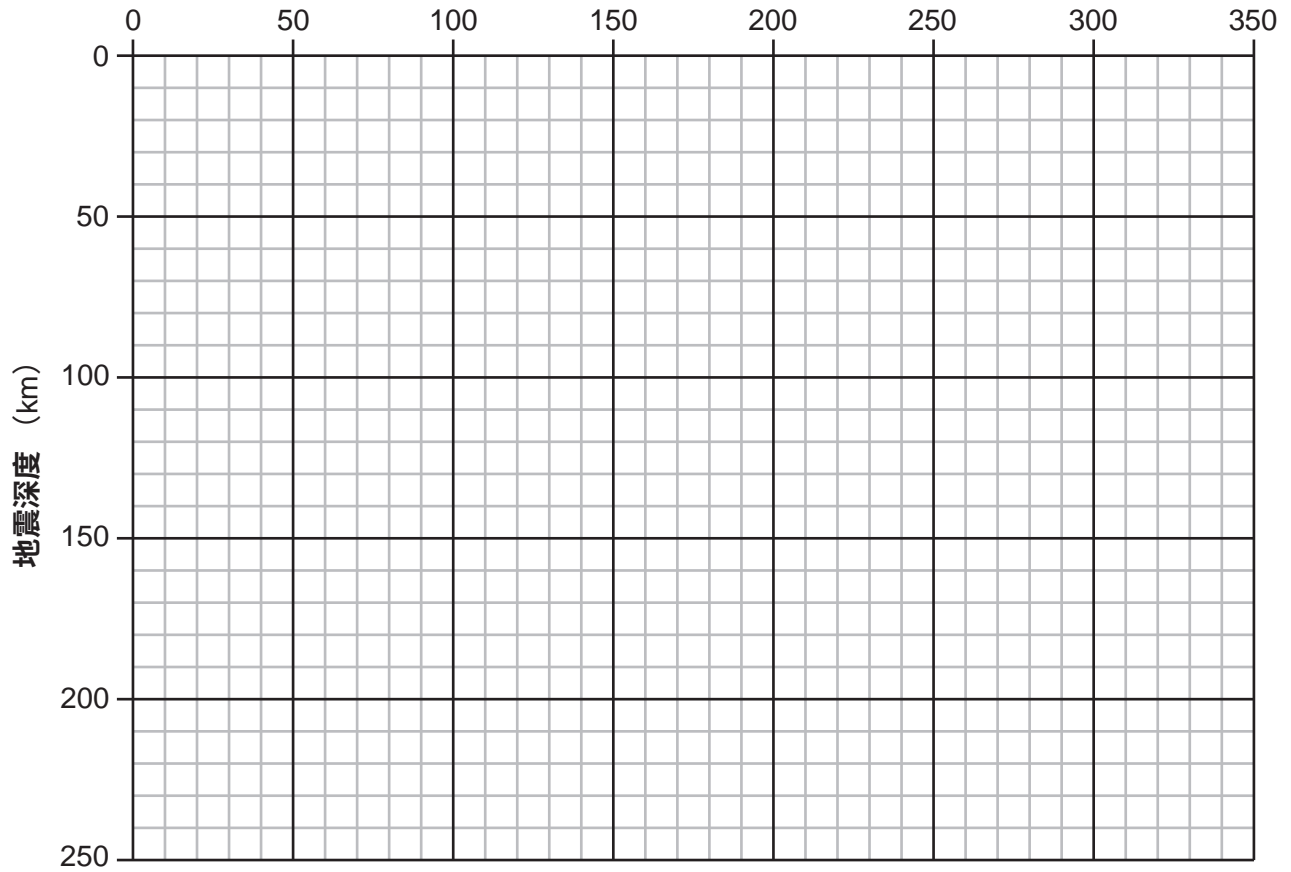
73 _____ m

74 _____

75 _____ km

沿 AB 线板块边界的地震深度

离位置 A 的距离 (km)



77 _____ 板块和 _____ 板块

78 _____

79 _____

80 _____

81 原始河谷形状: _____

冰川侵蚀后的河谷形状: _____

82 _____

83 _____

84 _____

85 _____

