

ФИЗИЧЕСКИЕ ХАРАКТЕРИСТИКИ ЕСТЕСТВОЗНАНИЕ

Среда, 26 января 2011 г. — Время строго ограничено с 9:15 до 12:15

БУКЛЕТ ДЛЯ ОТВЕТОВ

Мужской

Имя и фамилия ученика Пол Женский

Преподаватель

Школа Класс

Ответьте на все вопросы этого экзамена. Запишите свои ответы в этот буклет.

Часть А

- | | | |
|----------|----------|----------|
| 1 | 13 | 25 |
| 2 | 14 | 26 |
| 3 | 15 | 27 |
| 4 | 16 | 28 |
| 5 | 17 | 29 |
| 6 | 18 | 30 |
| 7 | 19 | 31 |
| 8 | 20 | 32 |
| 9 | 21 | 33 |
| 10 | 22 | 34 |
| 11 | 23 | 35 |
| 12 | 24 | |

Part A Score

Performance Test Score
(Maximum Score: 16)

Part	Maximum Score	Student's Score
A	35	
B-1	15	
B-2	15	
C	20	

Total Written Test Score
(Maximum Raw Score: 85)

Final Score
(from conversion chart)

Raters' Initials:

Rater 1 Rater 2

Часть В-1

- | | |
|----------|----------|
| 36 | 44 |
| 37 | 45 |
| 38 | 46 |
| 39 | 47 |
| 40 | 48 |
| 41 | 49 |
| 42 | 50 |
| 43 | |

Part B-1 Score

После того как вы закончите отвечать на вопросы экзамена, вы должны подписать приведенное ниже заявление.

Настоящим по завершении этого экзамена я подтверждаю, что до начала экзамена мне не были никоим образом известны ни экзаменационные вопросы, ни ответы на них, и что в ходе экзамена я никому не оказывал(а) и ни от кого не получал(а) помощь в ответе ни на один экзаменационный вопрос.

Подпись

Часть В-2

Только для
проверяющих

51

Время года	Положение Земли
весна	
лето	
осень	
зима	

51

52 _____ дн.

52

53 _____

53

54 _____ Эра

54

55 _____

55


56 _____ плита и _____ плита

56

57 _____

57

58



58

59 _____

59

Только для
проверяющих

60 _____

60

61 _____

61

62 _____

62

63 _____

63

64 A: _____

B: _____

C: _____

D: _____

64

65 _____

65

Total Score for
Part B-2

Часть С

Только для
проверяющих

66 _____

66

67 _____ Период

67

68 Основание для вывода 1: _____

Основание для вывода 2: _____

68

69 Процесс 1: _____

Процесс 2: _____

69

70 _____ см

70

71 _____

71

72 Диаметр: _____

Плотность: _____


72

73 Цвет: _____

Яркость: _____

73

74



74

75 W: _____ прилив

X: _____ прилив

Y: _____ прилив

Z: _____ прилив

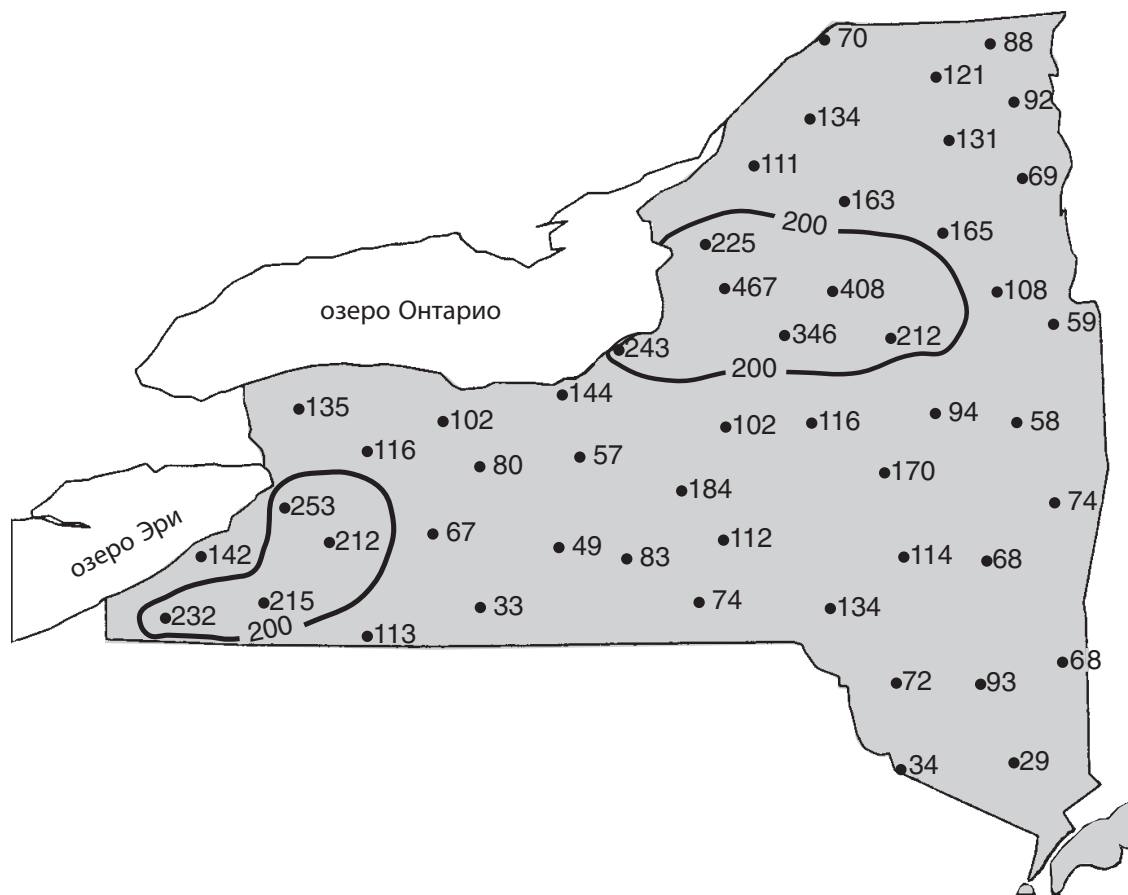
75

76 _____

76

77

77



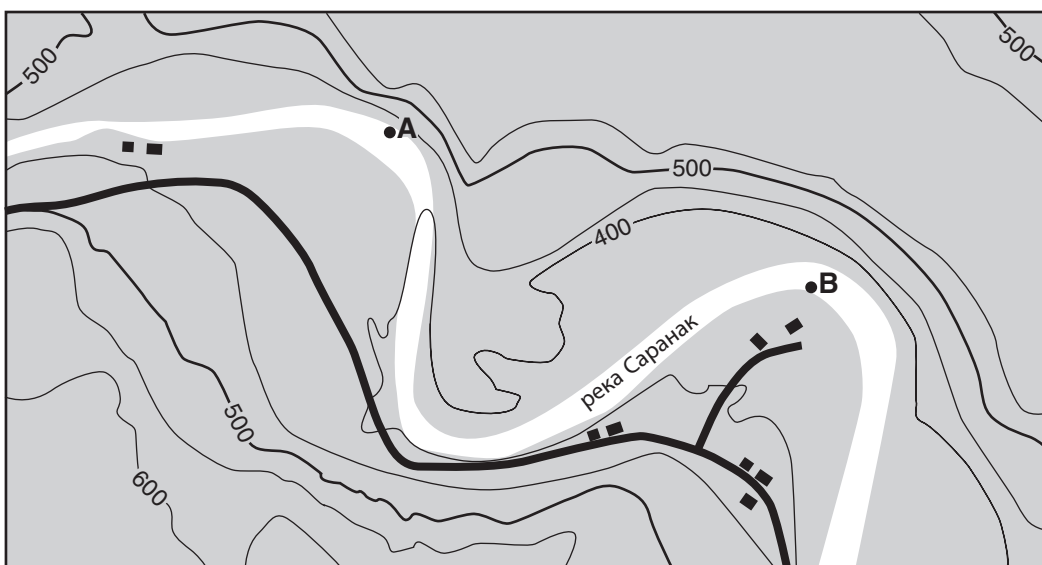
78 _____ дюймов

78

79 _____

79

80



Обозначения	
	Дорога
	Строение

Интервал изолиний = 50 футов



80

81

81

82

82

83

83

Только для
проверяющих

84

85

Total Score for
Part C

84 _____ см

85 _____
