

ФИЗИЧЕСКИЕ ХАРАКТЕРИСТИКИ ЕСТЕСТВОЗНАНИЕ

Четверг, 20 июня 2019 г. — Время строго ограничено с 13:15 до 16:15

БУКЛЕТ ДЛЯ ОТВЕТОВ

Учащийся

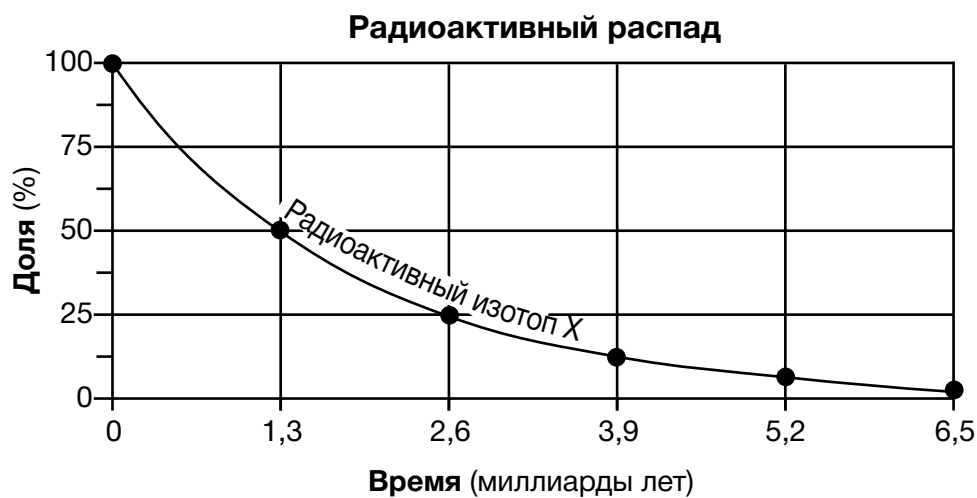
Преподаватель

Школа Класс

Запишите в этом буклете свои ответы на вопросы части В-2 и части С.

Часть В-2

51



52 _____

53 _____ г

54 Изменение атмосферного давления: _____

Уровень облачного покрытия: _____

55

Температура воздуха (°F)	Атмосферное давление (мбар)	Метеорологическое направление ветра	Скорость ветра (узлы)

56 _____ %

57 _____

58 _____

59 _____

60 _____

61 _____

62 _____

63 _____

64 _____ ч

65 _____

Часть С

66 В _____ раз(а) больше


67 _____

68 Планеты земной группы: _____ и _____

Объяснение: _____

69 _____

70



71 Размер: _____

Форма: _____

72 _____ см

73 _____

74 _____

75 _____

76 _____ Течение

77 1: _____

2: _____

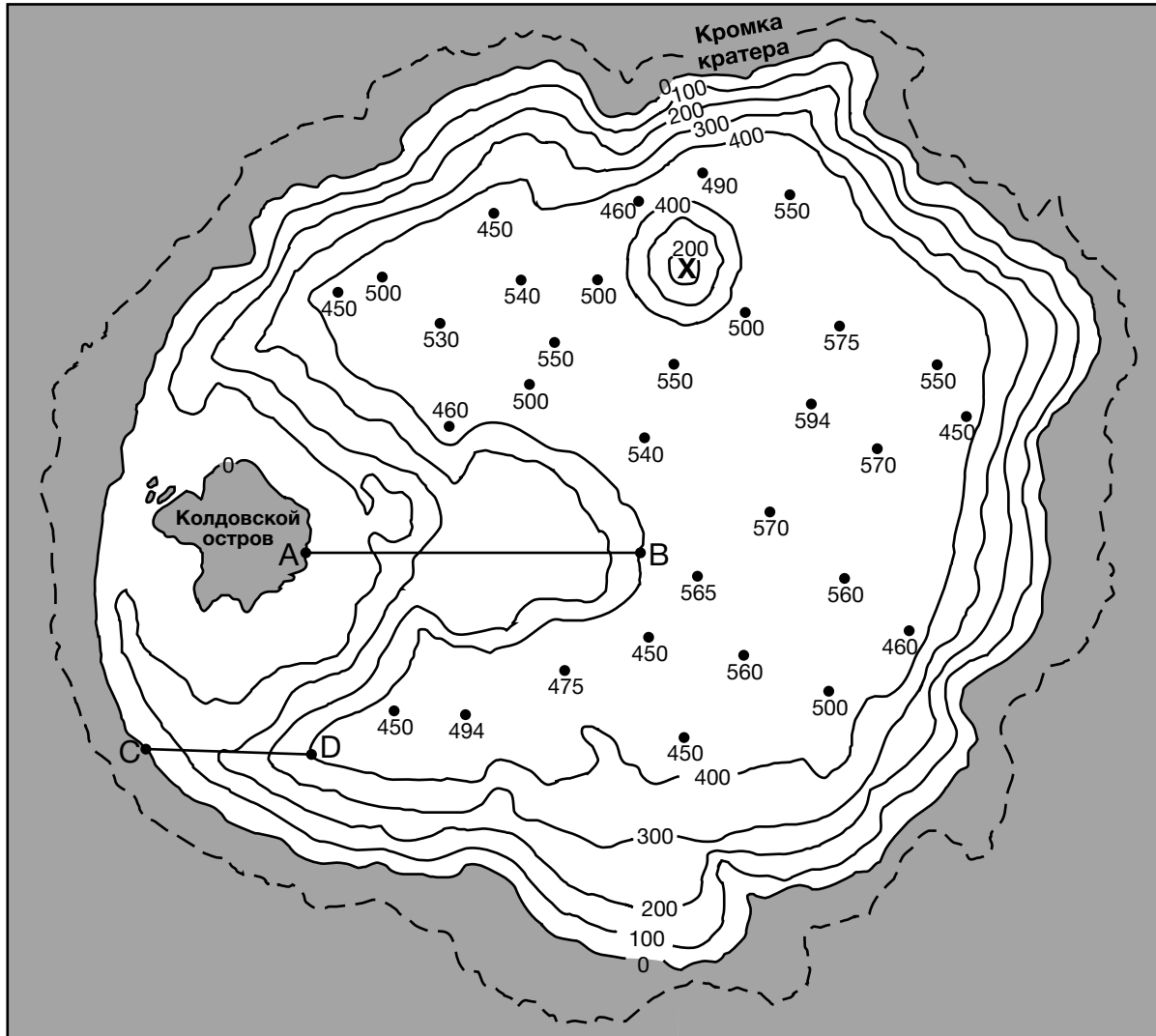
78 _____

79 _____

80 Точка X: _____

Точка Y: _____

Топографическая карта озера Крейтер



0 1 2

Километры

www.craterlakeinstitute.com

82



83 _____ м/км

84 _____ м

85 Плагноклазный полевой шпат: _____ %

Биотит: _____ %

Амфибол: _____ %

