

## REGENTS HIGH SCHOOL EXAMINATION

# 美國歷史 和政府

僅限用於 2013 年 1 月 24 日 (星期四) 上午 9 時 15 分至下午 12 時 15 分

學生姓名 \_\_\_\_\_

學校名稱 \_\_\_\_\_

**在本考試中，嚴禁持有或使用任何形式的通訊工具。如果你持有或使用了任何的通訊工具，無論多短暫，你的考試都將無效，並且不會得到任何分數。**

請用工整字跡在以上直線上填寫你的姓名和學校名稱。已經提供給你分開的答題紙以用於填寫第 I 部分的答案。按照監考人的指示把你的學生資料填寫在答題紙上。然後填寫你的論文本上每一頁的標題。

本次考試共有三個部分。你必須要回答每一部分的**所有**題目。用黑色或深藍色的原子筆回答第 II 部分、第 III A 部分和第 III B 部分。

**第 I 部分**包括 50 道選擇題。請依照指示將這些問題的答案記錄在答題紙上。

**第 II 部分**包括一道以主題為主的論文題。請在論文本上寫下你對這個問題的答案，從第 1 頁開始。

**第 III 部分**基於幾份文件：

**第 III A 部分**包含這些文件。請務必在這部分的第一頁上填寫你的姓名和學校名稱。

每一文件後有一個或一個以上的問題要回答。在本考題本上，將各題的答案寫在各問題後面的直線上。

**第 III B 部分**包含一個基於這些文件的論文題。請在論文本上寫下你對這個問題的答案，從第 7 頁開始。

在本次考試結束後，你必須簽署印在答題紙最後的聲明，表明在考試之前你沒有非法得到本考試的試題或答案，並且在本考試中沒有給予過或接受過任何的幫助。你如果不簽署本聲明，你的答題紙將不會被接受。

未經指示請勿打開本考題本。

## 第 I 部分

### 請回答本部分的所有問題。

答題說明 (1–50)：對於每個陳述或問題，在分開的答題紙上寫下所提供的、最佳完成陳述或回答問題的詞或語句的編號。

- 1 哪種地理因素最直接地影響了北美洲第一個英國聚居地的位置？
  - (1) 大西洋沿岸的河流
  - (2) 中西部有可用的平坦土地
  - (3) 墨西哥灣沿岸地區溫和的氣候
  - (4) 遍佈中部殖民地的森林
- 2 《大憲章》(The Magna Carta) 和英國《權利法案》(Bill of Rights) 對於美國憲法發展產生了重大的影響，因為它們
  - (1) 為所有男女提供了選舉權
  - (2) 限制了政府的權力
  - (3) 要求廢除奴隸制
  - (4) 支持了聯邦主義的發展
- 3 《獨立宣言》(The Declaration of Independence) 包含
  - (1) 提議再次聯合殖民地和英國
  - (2) 對英國國王的抱怨陳述
  - (3) 要求殖民地和西班牙之間簽訂條約
  - (4) 計劃組織西部領土
- 4 哪一組與早期美國有關的事件是按照正確的時間順序排列？
  - (1) 喬治·華盛頓的就職典禮 → 通過印花稅法案 → 薩拉托加戰役 → 法聯印第安人對英之戰
  - (2) 薩拉托加戰役 → 法聯印第安人對英之戰 → 通過印花稅法案 → 喬治·華盛頓的就職典禮
  - (3) 法聯印第安人對英之戰 → 通過印花稅法案 → 薩拉托加戰役 → 喬治·華盛頓的就職典禮
  - (4) 通過印花稅法案 → 法聯印第安人對英之戰 → 喬治·華盛頓的就職典禮 → 薩拉托加戰役
- 5 《邦聯條款》(Articles of Confederation) 的批評者認為它
  - (1) 對各州強加不公平的稅收
  - (2) 使用一份草案來籌募國家軍隊
  - (3) 提供強大的聯邦法院系統
  - (4) 交給各州過多權力
- 6 「... 第六條. 除了懲罰那些已經被適當地定罪的犯罪，在上述領土內不應該有奴隸制或強迫勞役的存在：惟任何人若從原來任何一個州可以合法地要求勞動或服務的人那裡逃入上述領土內，這類逃亡者得依法被討回並送至上述要求其勞動或服務的人那裡。...」

— Northwest Ordinance, 1787

根據這段取自《西北條款》的摘錄，哪一個陳述是有效的結論？
  - (1) 在內戰之前，奴隸制問題很大程度上被忽視了。
  - (2) 廢奴主義者取得對制憲會議的控制。
  - (3) 西北領土在法律上禁止奴隸制。
  - (4) 被奴役的人擁有受憲法保護的公民權利。
- 7 《大妥協》(The Great Compromise) 使制憲會議 (1787 年) 的代表得以
  - (1) 在領土上建立人民主權原則
  - (2) 給予國會在國家遭到攻擊時宣戰的專屬權
  - (3) 保護人口少的和人口多的各州的利益
  - (4) 規定透過總統選舉團間接選舉總統

- 8 哪項總統行動是使用不成文憲法的一個例子？
- (1) 簽署由國會通過的法律
  - (2) 召開內閣會議
  - (3) 命令海軍巡邏波斯灣
  - (4) 提名聯邦法院法官
- 9 在美國憲法中擁有彈性條款的主要益處是它
- (1) 允許政府對不斷變化的條件做出回應
  - (2) 保護少數民族的權利
  - (3) 防止政府的某個分支變得太過強大
  - (4) 建立郵政服務
- 10 漢彌爾頓 (Alexander Hamilton) 的財政計劃對美國 18 世紀 90 年代的經濟有何影響？
- (1) 國家稅收收入減少。
  - (2) 高關稅增加了對外貿易。
  - (3) 財政政策導致了普遍的通貨膨脹。
  - (4) 新創立的美國銀行幫助穩定了經濟。
- 11 購買路易斯安那領土 (1803 年) 的一個結果是美國
- (1) 從西班牙獲得了加利福尼亞州
  - (2) 獲得了對紐奧良港的控制
  - (3) 結束了與英屬加拿大的邊界衝突
  - (4) 吞併了佛羅里達州
- 12 在馬伯瑞訴麥迪森 (*Marbury v. Madison*) 案 (1803 年) 中的判決很重要，因為它確立了最高法院
- (1) 對州法院擁有的權力有限
  - (2) 擁有選擇它自己的成員的權力
  - (3) 可以宣佈某項聯邦法律違憲
  - (4) 可以彈劾總統和其他政府官員
- 13 直接導致內戰開始的憲法爭議涉及到各州的什麼權利
- (1) 控制關稅稅率
  - (2) 與外國簽署條約
  - (3) 重劃國會選區
  - (4) 從聯邦中脫離

- 14 哪個團體從關於德雷德·斯科特訴桑福德 (*Dred Scott v. Sanford*) 案 (1857 年) 的最高法院判決直接受益最多？
- (1) 廢奴主義者
  - (2) 移民
  - (3) 奴隸主
  - (4) 被奴役的人
- 15 哪一個標題最好地完成了下面的部分大綱？

- I. \_\_\_\_\_
- A. 加州淘金熱 (1849 年)
  - B. 《安家法案》(Homestead Act) (1862 年)
  - C. 橫貫大陸鐵路的完成 (1869 年)

- (1) 鼓勵向西部遷移的因素
- (2) 政府資助的運輸方案
- (3) 承認美國土著印第安人的土地權
- (4) 推動保護自然資源的行動

根據以下庭審筆錄和你的社會科學知識來回答第 16 題。

... 安東尼女士：當我被帶到閣下面前接受審判時，我希望獲得憲法及其最近的修正案廣泛自由的解釋，即聲明在其庇護（盾牌）之下的所有美國公民享有國家保證給予所有在美國出生或取得國籍的所有人的平等的權利。但是未能獲得這種公正 — 甚至未能獲得不是由我的同胞所組成的陪審團審判 — 我要求的不是您手中的仁慈 而是法律的完全嚴格。...

資料來源：*United States v. Susan B. Anthony*, 1873

- 16 這段陳述中所指的憲法修正案被批准目的在於
- (1) 結束進口奴隸
  - (2) 增加聯邦稅收
  - (3) 制定全國禁酒令
  - (4) 為非裔美國人提供法律權利

- 17 哪一個陳述最佳描述南部非裔美國人的地位在 1877 年重建時期結束後如何迅速改變？
- (1) 最高法院一貫地支持非裔美國人的公民權利。
  - (2) 對非裔美國人的人頭稅和識字測驗被廢除了。
  - (3) 有更多的非裔美國人被選舉擔任公職。
  - (4) 非裔美國人面臨越來越多的歧視和隔離。

- 18 自由放任經濟理論在 19 世紀末期被用於
- (1) 使未經調節的商業成長正當化
  - (2) 要求更多的消費者保護
  - (3) 支持進步方案
  - (4) 實現收入平均分配

根據以下對話內容和你的社會學知識來回答第 19 題和第 20 題。

說話者 A：防止政府腐敗最好的方法是允許公民直接參與立法程序。

說話者 B：打破托拉斯和壟斷將會增加商業競爭。

說話者 C：聯邦政府的一個重要目標應該是保護我們的自然資源。

說話者 D：只有當女人獲得完全選舉權時，政府才會改進。

- 19 哪一位說話者的陳述與創制權、人民複決權和罷免權等政治概念最直接相關？
- (1) A
  - (2) B
  - (3) C
  - (4) D
- 20 哪兩位說話者的觀點反映了老羅斯福總統 (Theodore Roosevelt) 在他總統任內 (1901 -1909 年) 採取的行動？
- (1) A 和 B
  - (2) B 和 C
  - (3) C 和 D
  - (4) D 和 A

- 21 揭露醜聞者(*muckraker*)一詞在 20 世紀初被用來描述哪些作家
- (1) 支持對政府監管的限制
  - (2) 揭露美國社會的弊端
  - (3) 想要美國禁止所有移民
  - (4) 推動種族融合運動

- 22 在 20 世紀初，美國提議「門戶開放政策」是為了
- (1) 在太平洋地區獲得新的殖民地
  - (2) 為建造巴拿馬運河贏得支持
  - (3) 改善與歐洲的關係
  - (4) 確保進入項中國市場的通路

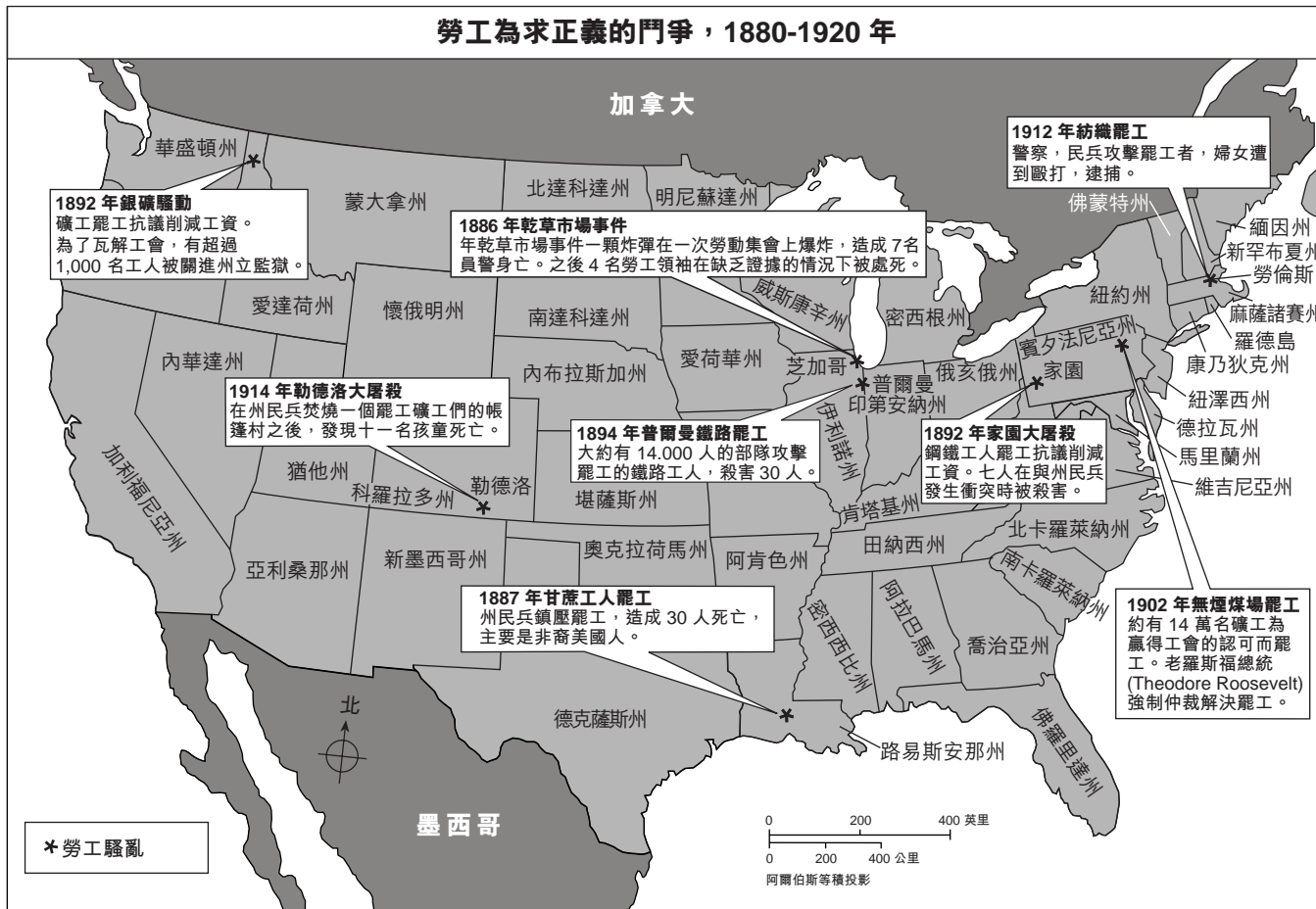
- 23 哪一個標題最好地完成了下面的部分大綱？

- I. \_\_\_\_\_
- A. 沒有不受被統治者贊同的政府
  - B. 防衛美國以外領土的高成本
  - C. 美國的非參與傳統

- (1) 美國的新移民政策
- (2) 海外擴張的理由
- (3) 美西戰爭的原因
- (4) 反對帝國主義的主張

- 24 於 1913 年創建聯邦儲備系統是為了
- (1) 授權國會設定利率
  - (2) 調控國家的貨幣供應
  - (3) 允許政府擁有國營銀行
  - (4) 接管印製鈔票的責任

根據以下地圖和你的社會學知識來回答第 25 題和第 26 題。



資料來源：Gary B. Nash, *American Odyssey: The United States in The Twentieth Century*, Glencoe, 1994 (經改編)

25 這張地圖上的資訊最能清楚地支持哪一個關於美國的勞工工會的概括？

- (1) 聯邦政府支持勞工工會運動。
- (2) 勞工工會的罷工經常遭到政府行動的鎮壓。
- (3) 勞工工會成員限於礦工。
- (4) 各州政府表示要仲裁勞資糾紛。

26 哪一個是第一次以總統代表工人進行干預告終的勞動罷工？

- (1) 1886 年乾草市場事件
- (2) 1894 年普爾曼鐵路罷工
- (3) 1902 年無煙煤場罷工
- (4) 1912 年紡織罷工



根據以下海報和你的社會學知識來回答第 27 題。



資料來源：Library of Congress

- 27 美國政府出版了這些第一次世界大戰海報來鼓勵美國人
- (1) 增加軍隊徵募
  - (2) 減少使用消費品
  - (3) 投資戰爭時期的努力
  - (4) 為軍隊保存稀有資源

- 28 在第一次世界大戰後，紅色恐怖、《配額法》(Quota Acts) 的通過和三 K 黨的成長的一個相似之處在於他們都
- (1) 利用對於被認為不是美國人的人的恐懼
  - (2) 鼓勵新移民歸化美國社會
  - (3) 支持選舉權運動的目標
  - (4) 展示對非裔美國人的偏見

根據以下圖表和你的社會學知識來回答第 29 題。

大蕭條時期失業統計數字

年份	失業的人數	民間勞動力百分比
1929	1,550,000	3.2
1930	4,340,000	8.9
1931	8,020,000	16.3
1932	12,060,000	24.1
1933	12,830,000	25.2
1934	11,340,000	22.0
1935	10,610,000	20.3
1936	9,030,000	17.0
1937	7,700,000	14.3
1938	10,390,000	19.1
1939	9,480,000	17.2
1940	8,120,000	14.6
1941	5,560,000	9.9
1942	2,660,000	4.7
1943	1,070,000	1.9
1944	670,000	1.2
1945	1,040,000	1.9

資料來源：U.S. Bureau of the Census

- 29 圖表中的資訊最明確支持哪個結論？
- (1) 胡佛總統 (Herbert Hoover) 的經濟政策增加了就業機會。
  - (2) 美國失業率在 1938 年達到最高水準。
  - (3) 小羅斯福總統 (Franklin D. Roosevelt) 的《新政》(New Deal) 方案未能解決失業危機。
  - (4) 第二次世界大戰結束了經濟大蕭條時期的高失業率。

- 30 為了實行《新政》而創立了證券交易委員會 (SEC) 和聯邦存款保險公司 (FDIC) 以
- (1) 允許股價迅速恢復
  - (2) 提供直接貸款給企業
  - (3) 保護個人投資者免受股票詐欺和銀行倒閉的傷害
  - (4) 允許銀行和公司投資股市
- 31 參議員休伊·朗 (Huey Long)、法蘭西斯·湯森 (Francis Townsend) 博士以及查爾斯·科林 (Charles Coughlin) 神父等人都是最著名的
- (1) 小羅斯福總統 (Franklin D. Roosevelt) 的內閣成員
  - (2) 對於小羅斯福總統的《新政》最直言不諱的批評家
  - (3) 1940 年小羅斯福總統競選連任的支持者
  - (4) 由小羅斯福總統提名的最高法院成員
- 32 「現購自運」(cash and carry) 政策和《租借法案》(Lend-Lease) 被美國用於
- (1) 幫助資助國際聯盟的維持和平運動
  - (2) 鼓勵英國對德國綏靖
  - (3) 履行與英國和法國的條約義務
  - (4) 在不參戰的情況下對第二次世界大戰中的同盟國提供支援
- 33 小羅斯福總統 (Franklin D. Roosevelt) 把 1941 年 12 月 7 日稱作「國恥日」，因為那天
- (1) 德國入侵波蘭
  - (2) 日本攻擊珍珠港
  - (3) 義大利向美國宣戰
  - (4) 美國在廣島投放了一顆原子彈

根據以下海報和你的社會學知識來回答第 34 題。




資料來源：The Authentic History Center (經改編)

- 34 哪個憲法修正案為回應這張明信片上提出的問題而被通過？
- (1) 累進所得稅
  - (2) 直接選舉美國參議員
  - (3) 在總統選舉中禁止人頭稅
  - (4) 限制一位總統可以任職的年數
- 
- 35 在松訴美國 (Korematsu v. United States) 案 (1944 年) 中，最高法院維持從美國西海岸驅逐日裔美國人的軍事命令，是基於這次行動被認為是
- (1) 國家安全事件
  - (2) 經濟的需要
  - (3) 嘗試限制日本移民
  - (4) 保護日裔美國人不受反日狂潮危害的方法

依據以下漫畫和你的社會學知識來回答第 36 題和第 37 題。

「他最後總算抓到了竅門。」



資料來源：Dorman Smith, *Phoenix Gazette*, 1949 (經改編)

- 36 哪一個陳述最正確地表達了漫畫的主要思想？
- (1) 美國納稅人希望馬歇爾計劃將能迅速穩定歐洲經濟。
  - (2) 馬歇爾計劃將會限制歐洲的經濟復甦。
  - (3) 歐洲將不會利用馬歇爾計劃。
  - (4) 馬歇爾計劃將會使美國納稅人破產。
- 37 美國採取漫畫中所示的行動主要是為了
- (1) 防止蘇聯發展核子武器
  - (2) 防止希特勒 (Adolf Hitler) 在德國重新掌權
  - (3) 停止共產主義在西歐的傳播
  - (4) 迫使蘇聯的衛星國家脫離蘇聯控制

根據以下引述和你的社會學知識來回答第 38 題和第 39 題。

... 今天我們絕不能忘記我們都是當年革命先烈的子民。讓我們的話語從此時此地散播出去，到達朋友和敵人那裡，讓他們知道火炬已經傳遞給出生於本世紀、收到戰爭的洗禮、體認和平得來不易並對先賢傳承感到驕傲的新一代美國人的手中，他們無法坐視或容許人權逐漸被忽略，因為他們深知這個國家始終以維護人權為職志，並將維護本國人和全世界的人權都視為己任。...

對於那些住在大半個地球上的茅舍和村莊裡、掙扎著突破普遍貧困的桎梏的人們，我們保證盡我們最大的努力幫助他們自助，無論需要多長的時間，這並不是因為共產主義者可能會這麼做，也不是因為我們要爭取他們的選票，而是因為這麼做是正確的。一個自由的社會如果不能幫助貧窮的多數人，也就不能保全那些富裕的少數人。...

— President John F. Kennedy, Inaugural Address, January 20, 1961

- 38 根據這段引述，甘迺迪總統 (Kennedy) 想要
- (1) 堅持美國對世界事務擁有領導權的主張
  - (2) 遵守中立政策
  - (3) 採納綏靖作為外交政策
  - (4) 放棄圍堵政策
- 39 甘迺迪總統 (Kennedy) 的哪一項外交政策行動目的是要解放這段引述中所描述的人類的苦難？
- (1) 建立美國和平部隊
  - (2) 授權對古巴進行海上封鎖
  - (3) 在維也納會見蘇聯總理赫魯雪夫 (Nikita Khrushchev)
  - (4) 談判《禁止核子試驗條約》(Nuclear Test Ban Treaty)



40 詹森總統 (Lyndon B. Johnson) 的「大社會」方案的主要目標是

- (1) 擴大對外援助
- (2) 消除貧困
- (3) 贏得越南戰爭
- (4) 推動太空探索

根據以下報紙頭條和你的社會科學知識來回答第 41 題。

## 尼克森辭職

他敦促「癒合」的時間，  
福特總統將在今天走馬上任

資料來源：New York Times, August 9, 1974

41 這些頭條標題最清楚地闡明了哪一條憲法條款？

- (1) 總統權力
- (2) 總統資格
- (3) 總統接替
- (4) 參議員的建議和贊同

42 「... 蘇聯可以做出一個明確無誤的訊號，以利顯著推向自由與和平的目標。總書記戈巴契夫先生 (General Secretary Gorbachev)，如果您要追尋和平，追求蘇聯與東歐的繁榮昌盛，如果您要追求自由化：就到這扇大門前來吧！戈巴契夫先生，打開這扇大門吧！戈巴契夫先生，推倒這堵高牆吧！...」

— President Ronald Reagan, June 12, 1987

雷根總統呼籲結束

- (1) 核武競賽
- (2) 蘇聯入侵阿富汗
- (3) 德國柏林的分裂
- (4) 華沙公約

根據以下海報和你的社會學知識來回答第 43 題。

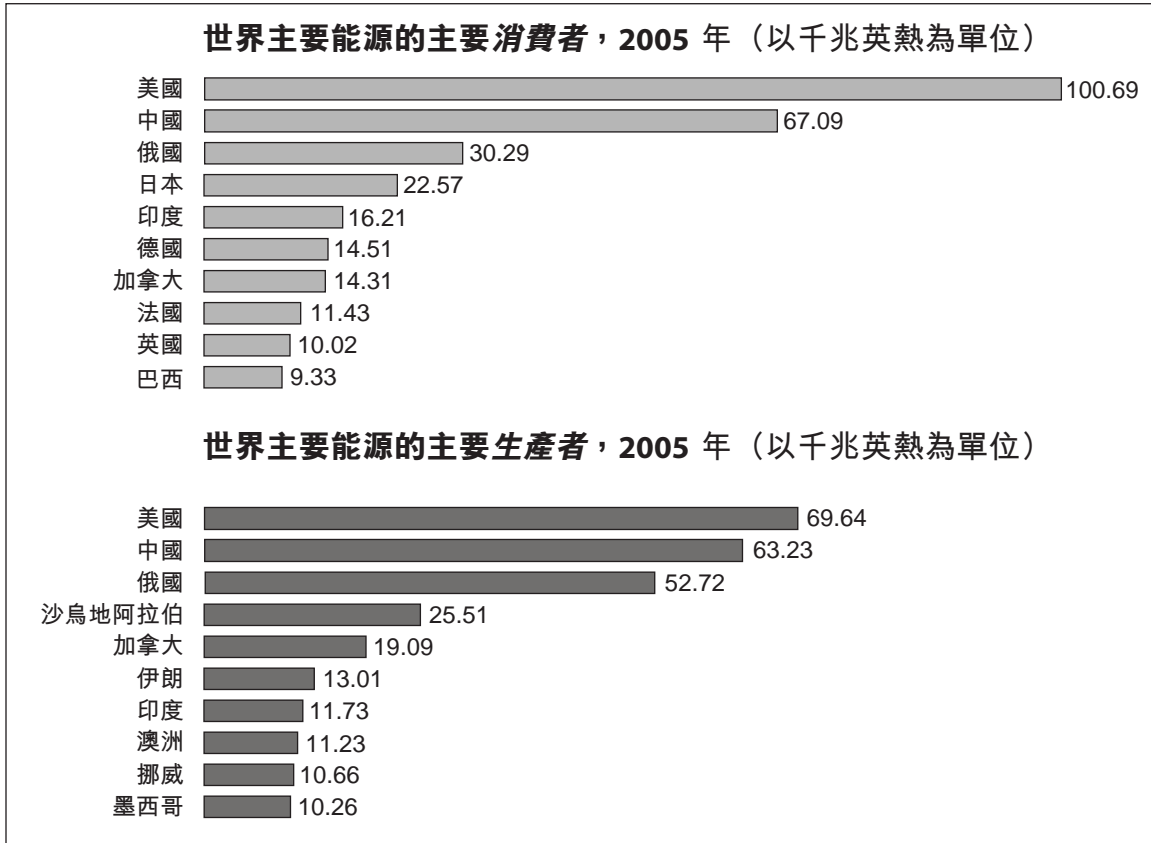


資料來源：Library of Congress, 1978

43 海報上呼籲的聯合抵制的一個結果是什麼？

- (1) 生菜和葡萄的銷售量增加。
- (2) 大地主對於他們的勞動者的權力增加。
- (3) 聯邦軍隊被派往鎮壓西部的農場暴亂。
- (4) 大眾對農業工人的目標的支持增加。

根據以下圖表和你的社會學知識來回答第 44 題和第 45 題。



資料來源：International Energy Annual 2005, Energy Information Administration, Department of Energy (經改編)


44 這些圖片上的資訊最能支持哪一個結論？

- (1) 有更多國家生產能源而不是消耗能源。
- (2) 南美洲國家是最大的能源生產國。
- (3) 生產最多能源的國家是世界上最富有的國家。
- (4) 美國使用的能源比生產的能源更多。

45 這些圖片上所示的情況的一個結果是美國

- (1) 在做出外交政策決定時必須考慮它對能源的需求
- (2) 主要依賴歐洲國家提供能源
- (3) 領導著世界的石油和鋼的生產
- (4) 必須為其剩餘能源尋找市場

根據以下漫畫和你的社會學知識來回答第 46 題。



資料來源：Jim Morin, *Miami Herald*, in *New York Times*, September 10, 1989

46 哪一個陳述最正確地表達了漫畫的主要思想？

- (1) 連續幾任總統未能有效地處理非法藥物濫用的問題。
- (2) 這些總統在打擊毒品的戰爭中是成功的。
- (3) 打擊毒品是這些總統主要的國內關注問題。
- (4) 許多總統提議立法以使非法藥物合法化。

47 約翰·彼得·曾格 (John Peter Zenger) 案 (1734-1735 年) 和《五角大廈文件》(Pentagon Papers) 爭議 (1971 年) 中的中心問題是什麼？

- |             |                 |
|-------------|-----------------|
| (1) 攜帶武器的權利 | (3) 出版自由        |
| (2) 宗教自由    | (4) 獲得律師協助辯護的權利 |

48 「塞尼加福爾斯會議」(Convention Meets at Seneca Falls)

「批准了第 19 條修正案」

「貝蒂·傅瑞丹 (Betty Friedan) 組織了全國婦女組織」

這些標題最能闡明關於美國婦女的哪一個陳述？

- (1) 婦女在社會中的角色從殖民時代開始就一直維持不變。
- (2) 爭取婦女權利的鬥爭延續了幾十年。
- (3) 當今女性的收入和男性不相上下。
- (4) 爭取婦女權利的運動已經缺乏領導。

49 1876 年海斯-提爾登 (Hayes-Tilden) 選舉和 2000 年布希-戈爾 (Bush-Gore) 選舉的一個相似之處在於每一次選舉中的獲勝者是

- (1) 由州議會選出
- (2) 在沒有獲得絕對多數的情況下選舉產生
- (3) 獲得第三方候選人的協助
- (4) 由美國最高法院選定

50 老羅斯福總統 (Theodore Roosevelt) 斡旋採納《樸茨茅斯條約》(Treaty of Portsmouth)。

- 尼克森總統 (Richard Nixon) 訪華。
- 克林頓總統 (Bill Clinton) 支持北愛爾蘭和平協議。

這些行動是總統作為各種各樣的什麼的例子

- (1) 首席外交官
- (2) 黨魁
- (3) 首席立法者
- (4) 總司令

論文題的答案應填寫在分開的論文本上。

## 第 II 部分

### 主題論文題

答題說明：撰寫一篇條理分明的論文，包括引言、解決以下任務的幾個段落、以及結論。

#### 主題：政府（國會立法）

縱觀美國歷史，國會總是通過立法來解決重要的政治、社會或經濟問題。這些法律往往對美國社會產生重大的影響。

#### 任務：

選擇由美國國會通過的**兩部**法律，並且對**每一部**法律

- 論述導致通過該法律的歷史情況
- 論述該法律對美國社會的影響

你可以使用在學習美國歷史時學到的，目的是要解決一個重要問題的任何聯邦法律。你不妨考慮以下建議：

《禁運法案》 (Embargo Act) (1807 年)	《純淨食品與藥物法案》 (Pure Food and Drug Act) (1906 年)
《印第安人移居法案》 (Indian Removal Act) (1830 年)	《社會安全法案》 (Social Security Act) (1935 年)
《Kansas-Nebraska 法案》 (Kansas-Nebraska Act) (1854 年)	《士兵福利法案/軍人復員法案》 (GI Bill/Servicemen's Readjustment Act) (1944 年)
《州際商業法案》 (Interstate Commerce Act) (1887 年)	《美國殘障法案》 (Americans with Disabilities Act) 1990 年)

**你不必侷限於以上建議。**

**你不能論述憲法修正案。**

#### 指南：

**在你的論文中，請務必：**

- 闡述任務的各個方面
- 引用相關事實、例證及細節來支持主題
- 須合乎邏輯、條理分明，包括一個不只是重複主題的引言和結論

在回答第 II 部分的問題時，請注意以下一般性定義：

**論述指「透過事實、推理和論證來對某件事發表意見；加以詳述」**

在回答第 III 部分的問題時，請注意以下一般性定義：

- (a) **描述**指「用文字闡述或陳述」
- (b) **論述**指「透過事實、推理和論證來對某件事發表意見；加以詳述」

### 第 III 部分

#### 基於文件題

本問題是基於隨附的文件。該問題的設計是為了測驗你運用歷史文件的能力。其中一些文件是為這個問題編輯的。當你分析文件時，請參考每份文件的來源及文件中所論述的任何觀點。

#### 歷史背景：

在第二次世界大戰後，美國人期望和平和繁榮的時代。然而，20 世紀 50 年代的關鍵事件挑戰著這種國民情緒，並且對 20 世紀 60 年代以後的美國造成了重大的社會、經濟和政治影響。這些事件包括**朝鮮戰爭（韓戰）**、**蒙哥馬利市巴士抵制運動**以及**發射人造衛星**。

**任務：**運用文件資料和你的美國歷史知識，回答 A 部分每一份文件後面的問題。你對這些問題的回答將有助於撰寫 B 部分的論文，在這篇論文中，你將被要求

選擇在歷史背景中指出的發生在 20 世紀 50 年代的**兩個**事件，並且對**每一個**事件

- 描述該事件歷史的來龍去脈
- 論述該事件對美國和/或美國社會造成的影響



## A 部分 簡答題

答題說明：分析以下文件，在所提供的空白處上回答每份文件後的簡答題。

### 文件 1

在[南]韓，為了防止邊界襲擊以及維持國內治安而武裝起來的政府軍隊，遭到入侵的北朝鮮軍隊的攻擊。聯合國安理會要求入侵軍隊停止敵對行動並且撤退到三十八度線以外。他們不但沒有照做，反而加緊進攻。安理會要求聯合國全體成員盡力協助聯合國執行這項決議。在這樣的情況下，我已經命令美國空軍和海軍部隊給予韓國政府軍隊掩護和支援。...

資料來源：President Harry Truman, Statement on the Situation in Korea, June 27, 1950

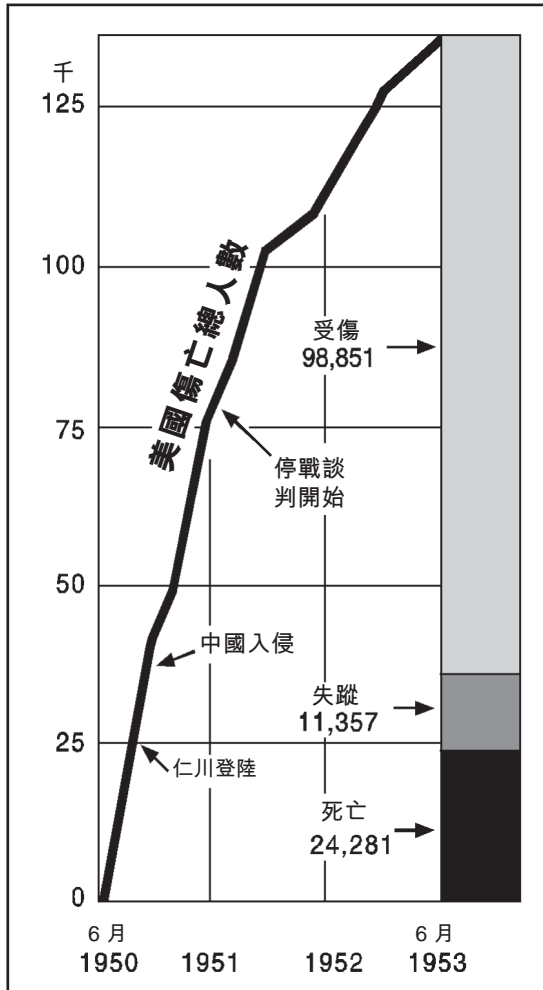
- 1 根據杜魯門總統 (Harry Truman)，他在 1950 年命令美國軍隊支援南韓政府部隊的~~一個~~原因是什麼？ [1]

---

---

Score

文件 2a



資料來源：“Korea: Three Years of War,” *Time*, June 29, 1953 (經改編)

文件 2b

... 在朝鮮內戰開始一年之內，在美國武裝部隊中服役的人數增加了一倍以上，達到了 320 萬人次；陸軍師由 10 個增為 18 個；空軍飛行聯隊從 42 支增加到 72 支；而海軍軍艦數量也從 600 艘擴增為 1000 多艘。此時軍隊組建的速度超過了美國剛加入第二次世界大戰時所設定的速度。美國中央情報局 (CIA) 的官員也如雨後春筍般地迅速發展。1949 年，美國中央情報局政策協調處辦公室有 302 名員工。到了 1952 年，已經有大約 6000 名員工。在國外的中央情報站從 1951 年的 7 個增加到 1953 年初的 47 個。...

資料來源：Steven Hugh Lee, *The Korean War*, Pearson Education Limited, 2001 (經改編)

2 基於這些文件，朝鮮戰爭（韓戰）對美國的**兩個**影響是什麼？ [2]

(1) \_\_\_\_\_

Score

(2) \_\_\_\_\_

Score

### 文件 3

... 非裔美國人士兵關於陸軍存在種族歧視的抱怨，導致 NAACP [全國有色人種進步協會] 在 1951 年初派遣民權活動家和律師瑟古德·馬歇爾 (Thurgood Marshall) 前往韓國進行調查。馬歇爾發現軍事法庭數量過多的問題就出在 24 步兵團，並且判處 [施以] 的懲罰比針對不是非裔美國人的懲罰要嚴厲得多。在他名為「即決裁判：黑人美國大兵在朝鮮」的報告中，馬歇爾強調這一個事實，即制度化的種族隔離是在朝鮮的黑人部隊遭受的大部分不公平待遇的原因。...

朝鮮戰爭（韓戰）因此促成了這次危機，最終推動一支不情願的軍隊開始實施 [杜魯門總統] 在第 9981 號行政命令中做出的政策建議。早在冷戰中已經被明確地表達 [闡明] 的政策今天終於付諸實踐了。在軍隊中廢除種族隔離雖然沒有結束歧視，但是這代表朝著非裔美國人獲得更大程度的平等邁出的重要一步。非裔美國人士兵在朝鮮的經歷因此得益於並有助於國內更普遍爭取更大程度的種族平等的運動。...

資料來源：Steven Hugh Lee, *The Korean War*, Pearson Education Limited, 2001

3a 根據史帝芬·休·李 (Steven Hugh Lee)，瑟古德·馬歇爾 (Thurgood Marshall) 發現在朝鮮的非裔美國人士兵受到什麼樣的待遇？ [1]

---

Score

b 根據史帝芬·休·李 (Steven Hugh Lee)，朝鮮戰爭（韓戰）對美國社會的一**個**影響是什麼？ [1]

---

Score

## 文件 4

伊內茲·傑西·巴斯金 (Inez Jessie Baskin) 對在始於 1955 年 12 月的巴士抵制之前她在阿拉巴馬州蒙哥馬利市使用巴士系統的經歷發表評論。

... 我每天搭公車上班。就像幾乎所有事情一樣，我們的巴士系統實際上是有隔離的。為白人乘客和黑人乘客預留的座位並沒有特別劃分。這通常是由司機決定的，而且這要看一天中的時間和司機而定，但是你理應知道。有一件事是可以確定的，當一個白人佔了座位，即使是一個人佔住了整張長椅，黑人也必須從旁邊走過去。有一天傍晚大約 6 點的時候，我接到一個朋友母親的電話，叫我去德克斯特大街浸信會教堂。我就是在那裡聽說羅莎·帕克斯 (Rosa Parks) 被逮捕的事。當我還是 NAACP (全國有色人種進步協會) 的會員時第一次遇見羅莎·帕克斯。她總是讓我印象深刻。她簡直就是一個天使。不論發生了什麼會讓多半人心煩的事，她都只是面露天使般的微笑，然後事情就此結束。當我到那裡時，一小群人已經聚集在教堂的地下室，他們已經在討論抵制當地巴士系統的事，並且在分發一些相關的傳單。...

資料來源：Jennings and Brewster, *The Century*, Doubleday, 1998

- 4 根據伊內茲·傑西·巴斯金 (Inez Jessie Baskin)，為什麼非裔美國人對蒙哥馬利市的巴士系統感到不滿？ [1]

Score

## 文件 5a

在阿拉巴馬州蒙哥馬利市的巴士抵制運動期間，許多非裔美國人居民共乘車輛上班。



資料來源：Clayborne Carson et al., *Civil Rights Chronicle: The African-American Struggle for Freedom*, Publications International

## 文件 5b

... 芝加哥國家城市運輸幹線分支之一的蒙哥馬利市運輸幹線的官員拒絕公佈抵制行動對公司的財務造成了何種影響。但是巴士票價從 10 美分漲到 15 美分的高達 50% 的漲幅，再加上營運規模的縮減，在一定程度上彌補了業務的損失。

在去年 12 月 5 日抵制運動開始之前，大約 65% 的巴士線路乘客是黑人 [非裔美國人]。從那時候起，估計有 75% 或者更多黑人顧客已經不再乘車。

以軍事精密度營運的共乘車輛被組織起來用於接送黑人上下班。黑人計程車因此生意蒸蒸日上。警察局長克萊德·塞勒斯 (Clyde Sellers) 表示許多黑人抱怨他們被以傷害威脅不許他們乘坐巴士。...

由一名 27 歲浸信會牧師馬丁·路德·金恩 (Martin Luther King Jr.) 牧師領導的黑人領袖們要求依照「先上先坐」的座位安排，讓黑人從後面開始坐，白人乘客從前面開始坐，直到所有座位都坐滿。

目前的座位安排是由司機來劃分界線。巴士公司官員拒絕這項「先上先坐」的提議。...

資料來源：Montgomery Advertiser, February 19, 1956 (經改編)



5 根據這些文件，蒙哥馬利市巴士抵制運動對阿拉巴馬州蒙哥馬利市的**兩個**影響是什麼？ [2]

(1) \_\_\_\_\_

Score

(2) \_\_\_\_\_

Score

## 文件 6a

... 長久以來被南方白人 以及許多北方人 珍視的這個理念，即南方黑人（無論是因為無知或是害怕或是聰明地承認現實）滿足於事情原本的方式，只有少數挑撥者反對隔離制度，被大規模的遊行、示威和集會踢得遠遠地。蒙哥馬利市最早出現這種跡象，現在，整個南方的黑人過去只是一直在等待一個機會結束他們漫長的沉默，這已經是不爭的事實。...

靜坐抗議對南方白人和那些深信南方意識中某種神秘的、揮之不去的偏見幼苗的北方人來說都是重要的學習經歷：當第一個午餐櫃檯被廢除隔離時，世界末日並沒有到來。顯而易見，白人和黑人可以一起使用公共設施，沒有激烈的反彈，而且也沒有白人選擇迴避。一旦在社區內建立一種新的模式並且被接受，南方白人將會像他們順應舊模式那樣地順應它。在午餐櫃檯點三明治的男男女女，正如年輕黑人很容易在許多靜坐抗議中看到的那樣，只在乎填飽自己的肚子，而不是誰坐在他們旁邊。在北卡羅萊納州的溫斯頓-賽勒姆市廢除隔離的兩個月後，一名大賣場的經理說：「你會以為 50 年以來一直是這種情況。我對這個局面很滿意。」...

資料來源：Howard Zinn, *SNCC: The New Abolitionists*, Beacon Press

## 文件 6b

北卡羅萊納州格林斯博羅市的一家伍爾沃斯的午餐櫃檯旁的大學生們。



資料來源：Greensboro Record, February 2, 1960

6 根據這些文件，蒙哥馬利市巴士抵制運動對美國社會的一個影響是什麼？ [1]

Score

## 文件 7

赫魯雪夫 (Nikita Sergeevich Khrushchev) [蘇聯領袖] 幾乎想盡了辦法要在某些事情上打敗美國。*任何事*。他吹噓說共產主義會打敗資本主義，事後卻聲稱他其實指的是會變得更富有更有生產力，而不是透過開戰的方式。但是這要花多久時間呢？50 年？還是 100 年？他現在就要看到成果。在 1955 年的夏天，艾森豪 [總統] (Dwight Eisenhower) 在日內瓦會議上慫恿他接受《開放領空》(Open Skies) 的提案，而大概在他回來的時候，赫魯雪夫的幾名科學顧問告訴一個有趣的新發展。

他們透過閱讀美國科學雜誌瞭解到美國從 1958 年展開了一項將人造衛星放到軌道中的計劃，作為美國對國際地球物理年所做的貢獻。一個環繞軌道的衛星有明顯的軍事用途，但是愚蠢的美國人決定不把它作為一項軍事計劃 而希望將它用於和平和科學目的。科學家們說服了赫魯雪夫相信我們在這方面可以打敗他們，因為我們已經在製造火箭了。

蘇聯的氫彈體積十分巨大，蘇聯工程師和技術人員早在 1955 年就在研發巨大的液體燃料推進火箭，這種火箭的威力強大，足可載著氫彈飛行 5,000 英里。科學家們說，把火箭做一些修改的話，在可以用它來運送氫彈之前，我們早就可以用火箭把小型衛星放到軌道裡。赫魯雪夫看到了任何一位美國華府的領袖都沒看到的 贏得本世紀宣傳攻勢的機會。代號 *Sputnik* (意為「同行者」) 的蘇聯人造衛星獲得了熱切的「贊同！」。[好!]...

資料來源：Geoffrey Perret, *Eisenhower*, Random House, 1999 (經改編)

7 根據傑佛瑞·佩雷特 (Geoffrey Perret)，蘇聯對於將衛星送入軌道感興趣的*一個*原因是什麼？ [1]

Score

## 文件 8

1958 年 9 月 2 日，發射人造衛星之後不到一年，艾森豪總統 (Dwight Eisenhower) 將《國防教育法》(NDEA) 簽署成為法律。

... 1958 年到 1968 年間，NDEA (美國國防教育法) 也提供貸款給超過 150 萬名大學生。這些獎學金直接贊助了每年 15,000 位博士畢業生。NDEA (美國國防教育法) 在四年間撥款大約 10 億美元來支持科學研究和教育；直到 1964 年，聯邦對科學相關的研究和教育的支援每年增加 21% 到 33%，意味著科學研究和教育支出在五年間增為三倍。州在平均分攤費用的基礎上獲得撥款來加強學校教育，數千名教師被送到由 NDEA (美國國防教育法) 贊助的暑期學校，並且國家科學基金會 (National Science Foundation) 也資助了超過 53 項課程發展計劃。到 1969 年登陸月球時，單單 NDEA (美國國防教育法) 就對美國教育注資 30 億美元。...

資料來源：Paul Dickson, *Sputnik: The Shock of the Century*, Walker Publishing Company, 2001

8 根據保羅·迪克遜 (Paul Dickson)，發射人造衛星對美國教育的**兩個**影響是什麼？ [2]

(1) \_\_\_\_\_

Score

(2) \_\_\_\_\_

Score

## 文件 9

... 首先，我認為這個國家應該在這 10 年結束以前致力於達到送一個人登陸月球並且讓他成功返回地球的這個目標。這個時期沒有任何太空計劃能比這個更讓人印象深刻，或是比太空的遠程探測更為重要，也沒有任何一項計劃會如此艱巨和昂貴。我們建議加速建造合適的月球飛船。我們建議在確定最優異的機種以前，持續開發比目前正在研發的任何一種都更大型的替代液態和固態燃料助推器。我們建議投入更多資金用於其他引擎的開發和進行無人探測 對於我們國家永遠不會忽視的這個目標來說特別重要的探測：讓第一個進行這項大膽飛行的人活著回來。但是實際上，去月球的不會只是一個人 如果我們做出肯定的判斷，去月球的將是整個國家。因為我們所有人都要齊心努力才能把他送到那裡。...

第三，額外的 5,000 萬美元將用於加速航太衛星在全球通訊方面的運用，充分地利用我們目前的領導力。

第四，在額外的 7,500 萬美元 中，5,300 萬美元分配給氣象局，這有助於我們儘早開發出可以觀測世界各地天氣的衛星系統...

資料來源：President John F. Kennedy, Special Message to Congress, May 25, 1961

9 根據甘迺迪總統 (John F. Kennedy)，為什麼花錢在太空專案上對美國來說很重要？ [1]

Score



## B 部分

### 論文題

答題說明：撰寫一篇條理分明的論文，包括引言、幾個段落、以及結論。在你的論文中，引述取自最少**四份**文件中的證據。引用相關事實、例證及細節來支持你的答案。包括其他的外部資料。

#### 歷史背景：

在第二次世界大戰後，美國人期望和平和繁榮的時代。然而，20 世紀 50 年代的關鍵事件挑戰著這種國民情緒，並且對 20 世紀 60 年代以後的美國造成了重大的社會、經濟和政治影響。這些事件包括**朝鮮戰爭（韓戰）**、**蒙哥馬利市巴士抵制運動**以及**發射人造衛星**。

**任務：**使用文件資料和你的美國歷史知識撰寫一篇論文，在這篇論文中

選擇在歷史背景中指出的發生在 20 世紀 50 年代的**兩個**事件，並且對**每一個**事件

- 描述該事件歷史的來龍去脈
- 論述該事件對美國和/或美國社會造成的影響

#### 指南：

**在你的論文中，請務必**

- 闡述任務的各個方面
- 綜合來自至少**四份**文件的資料
- 綜合相關的外部資料
- 引用相關事實、例證及細節來支持主題
- 須合乎邏輯、條理分明，包括一個不只是重複主題的引言和結論







