

The University of the State of New York

REGENTS HIGH SCHOOL EXAMINATION

미국 역사
및 정부2010년 1월 28일, **목요일** — 오전 9시 15분 - 오후 12시 15분에만 실시

학생 이름 _____

학교명 _____

자신의 이름과 학교명을 인쇄체로 기입하십시오. 다음, 이 책자의 마지막 페이지에 있는 파트 I 답안지를 여십시오. 점선을 따라서 마지막 페이지를 접은 다음, 천천히 주의해서 답안지를 절취하십시오. 다음, 답안지의 윗부분에 이름, 교사, 학교명과 성별을 기입하십시오. 에세이 책자의 각 페이지 윗부분에 자신의 이름과 학교명을 인쇄체로 기입하십시오.

이 시험은 세 파트로 구성되어 있습니다. 모든 파트의 **모든** 질문에 답하십시오. 검정 혹은 진한 청색 잉크를 사용하여 답하십시오.

파트 I에는 50개의 선다형 문제가 있습니다. 이 문제에 대한 답을 별도의 답안지에 기입하십시오.

파트 II에는 한 개의 주제를 다루는 에세이 문제가 있습니다. 이 질문에 대한 답은 에세이 책자의 1 페이지부터 기입하십시오.

파트 III는 여러 개의 문서에 기반을 둡니다:

파트 III A에는 여러 문서가 포함되어 있습니다. 각 문서는 하나 이상의 문제가 따릅니다. 각 문제들의 답은 시험책자 안에 질문을 뒤따르는 줄에 기입하십시오. 이 부분의 첫 장에 자신의 이름과 학교명을 반드시 기재하십시오.

파트 III B에는 주어진 문서를 바탕으로 하는 한 개의 에세이 문제가 있습니다. 이 문제에 대한 답은 에세이 책자의 7페이지부터 기입하십시오.

시험을 마친 후, 파트 I의 답안지에 인쇄된 진술문에 서명함으로써 이 시험을 치르기 전에 문제나 답에 대한 불법적인 지식이 없었으며 시험을 치르는 동안 도움을 주지도 또한 받지도 않았음을 표시하십시오. 이 진술문에 서명하지 않은 학생의 답안지는 인정하지 않습니다.

이 시험 중에는 모든 통신 장비의 사용을 철저히 금지합니다. 만일 아주 잠시라도 통신 장비를 사용하는 경우 당신의 시험은 무효화되며 당신은 시험 점수를 받지 못할 것입니다.

지시가 있을 때까지는 이 시험 책자를 열어보지 마십시오.

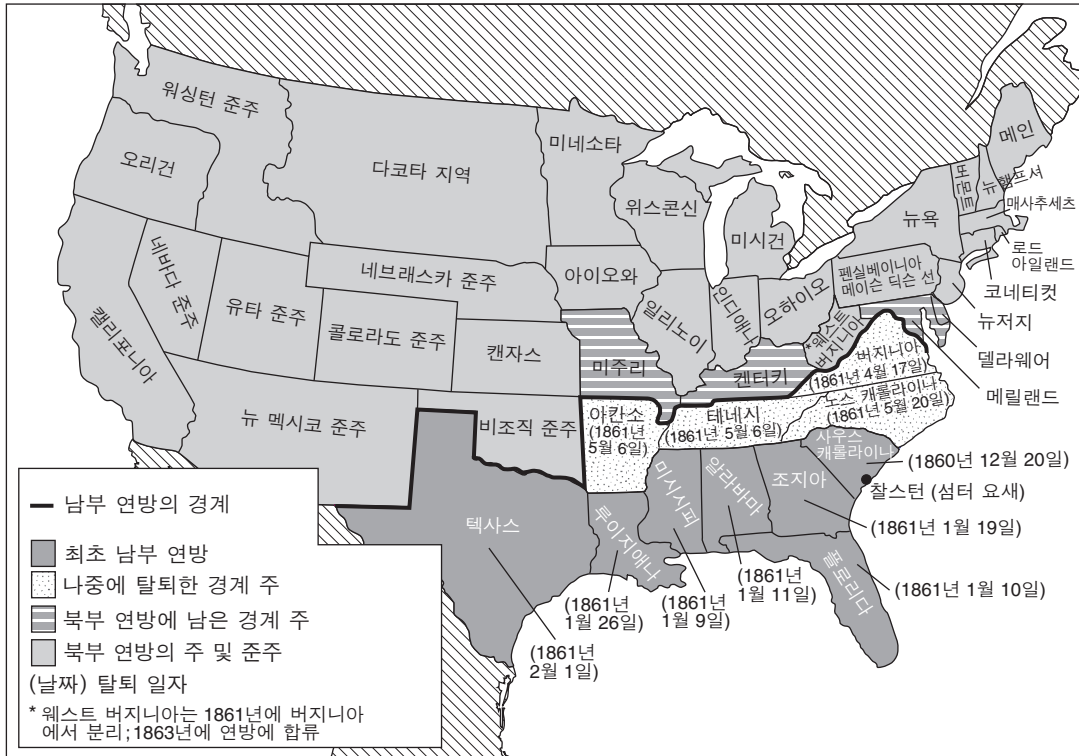
파트 I

이 파트의 모든 문제에 답하십시오.

지시 사항(1-50): 각 문제의 문장이나 질문에 가장 적절한 답의 번호를 답안지에 기입하십시오.

- 1 다음의 지역 중 좋은 항구, 풍부한 삼림, 돌이 많은 토양, 짧은 재배기가 그 곳 식민지 경제에 가장 큰 영향을 미친 곳은?
 - (1) 남부 식민지
 - (2) 대서양 연안 중부의 식민지
 - (3) 북서부 영토
 - (4) 뉴잉글랜드 식민지
- 2 메이플라워 서약(Mayflower Compact)과 버지니아 하원은 어떤 면에서 밀접한 관련이 있는가?
 - (1) 절대 군주의 폭정
 - (2) 종교적 관용 수립
 - (3) 식민지 자치 정부 수립을 위한 발판
 - (4) 보통 선거권 채택
- 3 미국 독립선언문(Declaration of Independence)의 작성자들이 "생명, 자유 및 행복의 추구(Life, Liberty and the pursuit of Happiness)"라는 어구를 사용한 목적은 무엇을 밝히기 위한 것인가?
 - (1) 자연권
 - (2) 법적 권리
 - (3) 주의 권리
 - (4) 경제권
- 4 미국 헌법의 비준을 얻기 위해 지지자들은 무엇에 동의했는가?
 - (1) 권리장전 추가
 - (2) 연방에 새로운 주를 받아들임
 - (3) 선거인단 구성
 - (4) 상원에 조약을 비준할 수 있는 권한을 부여
- 5 알렉산더 해밀턴이 1790년대에 지지했던 활동은?
 - (1) 영국과의 무역 제한
 - (2) 주인 없는 토지의 분배
 - (3) 국영 은행 설립
 - (4) 위스키 세금 제거
- 6 마베리 대 매디슨(Marbury v. Madison) 판결을 통해 미국 대법원이 얻은 권한은?
 - (1) 사법 심사권
 - (2) 하위 연방 법원의 항소 심리권
 - (3) 두 개 이상의 주가 관련된 소송 판결권
 - (4) 평생 임명을 통한 사법적 독립성
- 7 켄터키 주와 버지니아 주의 결의안(Kentucky and Virginia Resolutions)(1798)과 사우스 캐롤라이나 주 연방법 실시 거부 법령(South Carolina Ordinance of Nullification)(1832)의 유사점 한 가지는?
 - (1) 개별 주들이 나름대로 연방법을 해석할 권리가 있음을 주장
 - (2) 각각이 불문법의 일부를 형성
 - (3) 연방 정부의 전쟁 선포권을 지지
 - (4) 새로운 주가 연방에 합류되는 방법을 제시
- 8 다음 중 1800년대 초반 미국의 산업 혁명 개시에 가장 큰 기여를 한 요소는?
 - (1) 유럽 이민 제한
 - (2) 노예 제도의 종결
 - (3) 풍부한 천연 자원
 - (4) 전기의 가용성
- 9 먼로주의(Monroe Doctrine) (1823)의 주요 목적은?
 - (1) 유럽인들의 남미 간섭 방지
 - (2) 캐나다와 합병 기회 마련
 - (3) 중미를 가로 지르는 운하 구역 보호
 - (4) 유럽 국가들의 새로운 서반구 식민지 건설 지원
- 10 1825년 이어리 운하의 완공은 즉시 어떤 효과를 낳았는가?
 - (1) 대서양 해안을 따라 식량 가격이 상승했다.
 - (2) 농부들이 수월하게 곡물을 동부 시장으로 수송할 수 있었다.
 - (3) 5대호를 놓고 캐나다와 영토 분쟁이 시작됐다.
 - (4) 철도 회사들이 운송비를 내려야만 했다.

11번 문제는 아래 지도와 본인의 사회과학 지식을 바탕으로 답하십시오.



출처: John M. Blum et al., *The National Experience: A History of the United States*, Harcourt Brace Jovanovich, 1981 (개정판)

11 이 지도의 제목으로 가장 정확한 것은?

- (1) 국경 폐쇄
- (2) 재건의 결과
- (3) 분리된 국가
- (4) 1850년의 타협

12 드레드 스콧 대 샌포드(Dred Scott v. Sanford) (1857) 재판에 대한 대법원의 판결이 지역 분쟁을 증가시킨 이유는?

- (1) 의회의 지역 노예제 통제 권한을 거부했기 때문
- (2) 10년 동안 노예의 수입을 허용했기 때문
- (3) 미시시피강 서쪽 지역에서의 노예제도를 금지했기 때문
- (4) 모든 노예들에게 완전한 시민권을 부여했다.

13 1862년 홈스테드법(Homestead Act)과 태평양 철도 법(Pacific Railway Act)이 통과된 목적은?

- (1) 남북전쟁에서 북부가 승리하도록 하기 위해
- (2) 미국의 중서부 및 서부 지역을 개발하기 위해
- (3) 해방된 노예의 생활을 개선해주기 위해
- (4) 아시아와 유럽으로 해외 시장을 확대해 나가기 위해

14 남북전쟁 후 남부에 정착한 이민자가 다른 지역보다 적은 이유는?

- (1) 대부분의 "새로운" 이민자들이 대초원 지역에 정착하기를 원했기 때문
- (2) 남부의 이용 가능한 토지 대부분이 해방 노예에게 주어졌기 때문
- (3) 태평양 연안에 이민자들을 위한 일자리가 더 많았기 때문
- (4) 비숙련 노동자를 고용하는 공장들이 북부에 더 많이 위치해 있었기 때문

15 인두세와 읽기 쓰기 시험이 미국 흑인에게 미친 가장 직접적인 영향은?

- (1) 투표를 못하게 함
- (2) 공공 시설의 이용을 제한함
- (3) 교육의 기회를 차단함
- (4) 경제적 향상이 허락되지 않음

- 16 1800년대 후반, 산업화가 미국 노동자들에게 미친 주요 영향은?
- (1) 노조 회원수가 줄어듦
 - (2) 노동자가 시골 지역으로 이주
 - (3) 대부분의 공장 일자리가 서비스 산업의 일자리가 됨
 - (4) 반숙련 기계조작자가 숙련된 장인을 대체

17-18번 문제는 아래의 연설자의 말과 본인의 사회과학 지식을 바탕으로 답하십시오.

연설자 A: 가난한 사람을 먹여주고 입혀주는 것은 잘못이다. 자연에서 적응하지 못한 생물이 축출되듯이 자본주의 사회에서도 같은 원칙이 적용돼야 한다.

연설자 B: 공익을 낳고 사람들을 보호하기 위해 정부는 술 판매를 금지하는 법을 통과시켜야 한다.

연설자 C: 경제 성장을 촉진시키기 위해, 정부는 미국 시장을 해외로 확대해야 한다.

연설자 D: 교통수단은 일반인에게 필수적인 것이므로 정부는 공공의 이익을 위해 철도를 소유하고 운영해야 한다.

- 17 사회 진화론을 지지하는 연설자로 가장 가능성이 높은 것은 누구인가?

- (1) A
- (2) B
- (3) C
- (4) D

- 18 연설자 D가 표현한 내용과 가장 유사한 신념을 가진 제3당은?

- (1) 아메리카당 (Know-Nothing)
- (2) 그린백당 (Greenback)
- (3) 인민당 (Populist)
- (4) 진보당 (Bull Moose)

- 19 1800년대 말, 대통령과 주지사가 노사 간의 분쟁 시 병력을 자주 사용한 이유는?

- (1) 생산업자를 지원하고 파업을 종료시키기 위해
- (2) 고용주들이 단체 협약 합의서에 서명하도록 하기 위해
- (3) 고용주의 민영 병력으로부터 노동자를 보호하기 위해
- (4) 파업 공장 노동자를 군인으로 대체하기 위해

- 20 1880년에서 1920년 사이, 미국에 온 "새로운" 이민자들은 대부분 어디에서 왔는가?

- (1) 유럽의 북부와 서부
- (2) 유럽의 남부와 동부
- (3) 캐나다와 라틴 아메리카
- (4) 중국과 동남 아시아

- 21 1898년 스페인에 전쟁을 선포한 미국의 결정과 가장 밀접한 관계가 있는 요인은?

- (1) 고립주의 정책
- (2) 노동 조합의 압력
- (3) 황색 저널리즘
- (4) 무제한 잠수함전

- 22 우드로우 윌슨 대통령의 14개 조항(1918)의 주요 목적은?

- (1) 의회에 제1차 세계 대전에 참여하도록 요청
- (2) 제1차 세계 대전 후 평화 달성을 위한 목표 설정
- (3) 전쟁으로 파괴된 국가를 재건하기 위한 지원 프로그램 제공
- (4) 루시타니아 호의 침몰에 대한 보복

- 23 쉐크 대 미국 연방 정부 (Schenck v. United States) (1919)의 판결에서 확립된 "명백하고도 현존하는 위험" 원칙은 다음 중 어느 사안과 관련이 있는가?

- (1) 언론의 자유
- (2) 무기 소지 권리
- (3) 변호사 선임 권리
- (4) 정교분리

- 24 많은 미국 농부가 1920년대 경제 번영의 혜택을 누리지 못했던 이유는?

- (1) 농업 분야의 기술 발전이 없었기 때문
- (2) 농작물 생산량이 감소했기 때문
- (3) 농산물 수출에 대해 높은 과세가 매겨졌기 때문
- (4) 농산물이 과잉 생산되었기 때문

- 25 1920년대 스코프스 재판은 어느 두 그룹간의 분쟁을 다룬 것인가?

- (1) 공산주의와 자본주의
- (2) 신교도와 구교도
- (3) 과학과 종교
- (4) 노동자와 경영자

- 26 세계 대공황의 시작에 가장 직접적인 영향을 미친 경제적 요인은?
- (1) 낮은 노동자 생산성
 - (2) 높은 소득세
 - (3) 관세율 감소
 - (4) 주식의 투기 매입

27번 문제는 아래의 만화와 본인의 사회과학 지식을 바탕으로 답하십시오.

“오, 사망이여! 오, 변화여! 오, 시간이여!”



출처: Herblock, NEA Service, 1937 (개정판)

- 27 다음 중 이 만화에서 이야기하는 헌법의 원칙은?
- | | |
|------------|------------|
| (1) 연방주의 | (3) 주의 권리 |
| (2) 견제와 균형 | (4) 행정부 특권 |

- 28 뉴딜 경제 정책의 지침이 되었던 원칙은?
- (1) 친기업적 세제 특혜가 도시 빈곤과 관련된 문제를 해결할 것이다.
 - (2) 독점금지법이 미국의 자유시장 경제를 파괴할 것이다.
 - (3) 사회적 불평등을 해결하려면 극렬 개인주의를 허용해야 한다.
 - (4) 정부는 빈곤층 지원에 대해 더 많은 책임을 져야 한다.

- 29 1935년과 1937년의 연방 중립법(Neutrality Acts)의 목적은?
- (1) 국제연맹 정책 이행
 - (2) 미국의 경제 성장 촉진
 - (3) 미국을 제1차 세계 대전으로 끌어들이는 정책 회피
 - (4) 유럽에서의 평화유지군 활용 지원

- 30 1945년 알타회담에서 프랭클린 D. 루즈벨트와 윈스턴 처칠, 그리고 조셉 스탈린이 만났을 때 이들의 가장 큰 목적은 무엇이었는가?
- (1) 영국을 위한 전후 지원 계획 수립
 - (2) 원자폭탄 개발 지식의 공유
 - (3) 전쟁 중인 국가의 식민지 제국 보호
 - (4) 연합국의 주요 전시 문제 해결

- 31 제2차 세계 대전의 종결은 전쟁 중 방위 산업 체에서 일했던 미국 여성들에게 어떤 영향을 미쳤는가?
- (1) 노동조합에 참여하도록 권유를 받음
 - (2) 전쟁에서 돌아온 군인들에게 일자리를 빼앗김
 - (3) 남성 노동자의 임금에 상응하도록 임금이 인상됨
 - (4) 정부가 여성들의 공헌을 보상함

- 32 제2차 세계 대전 후 뉘른베르크와 도쿄에서 열린 전범재판으로 생겨난 개념은?
- (1) 전시 손해에 대해 국가가 변상하도록 할 수 있다.
 - (2) 고발된 모든 전범자들은 사면되어야 한다.
 - (3) 전범자들은 일반 범죄자들보다 형이 가벼워야 한다.
 - (4) 전시 행동에 대해 개인도 책임을 부담할 수 있다.

- 33 1960년대, 맵 대 오하이오(Mapp v. Ohio), 기드온 대 웨인라이트(Gideon v. Wainwright), 미란다 대 애리조나(Miranda v. Arizona) 재판에서 대법원의 판결이 주력한 사안은?
- (1) 언론의 자유
 - (2) 인종 차별
 - (3) 피고인의 권리
 - (4) 주 사이의 상거래

34-35번 문제는 아래의 지문과 본인의 사회과학 지식을 바탕으로 답하십시오.

“약속한 대로, 우리 정부는 쿠바섬의 소련군사 증강 여부를 면밀히 감시해 왔습니다. 지난 주 중에는 그 감옥과 같은 섬 위의 몇몇 공격 미사일 기지들이 이제 준비 상황에 들어갔다는 분명한 증거가 확인되었습니다. 이 기지들의 목적은 다름아닌 서반구에 대항한 핵무기 공격능력을 갖추는 것입니다. . . .”

— 존 F. 케네디 대통령, 1962년 10월 22일

34 케네디 대통령은 이 말을 한 뒤 어떤 조치를 취했는가?

- (1) 연합국들에게 쿠바에서 소련의 무기를 제거할 것을 촉구
- (2) 쿠바의 해군 고립화를 명령
- (3) 소련과 외교적 관계를 파기
- (4) UN에 소련으로의 곡물 배송 중지를 요청

35 이 지문에서 묘사된 위기는 언제 해결되었는가?

- (1) 쿠바가 자본주의 국가가 되었을 때
- (2) 미국이 쿠바에 대한 통제권을 획득했을 때
- (3) 소련의 니키타 흐루시초프 수상이 케네디 대통령과 만났을 때
- (4) 소련이 쿠바에서 미사일을 철수했을 때


36 리처드 닉슨 대통령의 데탕트 외교정책의 목적은?

- (1) 중동 분쟁 해결
- (2) 소련과의 관계 개선
- (3) 라틴 아메리카에서 미국 이익 보호
- (4) 유엔 안전 보장 이사회의 권한 증대

37 제랄드 포드 대통령은 워터게이트 사건에 대한 국가적 논쟁을 종결시키기 위한 시도로 어떤 조치를 취했는가?

- (1) 리처드 닉슨을 사면
- (2) 빈곤과의 전쟁 선포
- (3) 재선 출마 거부
- (4) 의회에 리처드 닉슨을 탄핵하도록 요청

38번 문제는 아래의 만화와 본인의 사회과학 지식을 바탕으로 답하십시오.



출처: Bill Mauldin, *Chicago Sun-Times*, 1975

38 1970년대, 수많은 여성권 옹호자들은 이 만화에 나타난 상황에 어떠한 방법으로 반응했는가?

- (1) Title IX 조항에 거부함으로써
- (2) 차별 철폐 조치(affirmative action) 프로그램에 반대함으로써
- (3) 모든 선거에서 투표할 권리를 요구함으로써
- (4) 남녀평등 헌법 수정안 (Equal Rights Amendment to the Constitution)에 지지함으로써

- 39 지미 카터 대통령이 캐나다로 탈주한 베트남 전쟁 징병 기피자를 사면하기로 한 결정은 대통령 역할의 어떤 예인가?
 (1) 외교부 수반 (3) 행정식 수반
 (2) 정당 대표 (4) 세계 지도자
- 40 미국 의회는 어떠한 방법으로 정부의 행정부문을 견제할 수 있는가?
 (1) 대사 임명
 (2) 거부권 무효화
 (3) 판사 지명
 (4) 법률 위헌 선언

41번 문제는 아래의 차트와 본인의 사회과학 지식을 바탕으로 답하십시오.

85세 이상의 미국인 수
 연도 (백만 단위)

1900	0.1
1950	0.6
1960	0.9
2000	4.2
2010*	6.1
2020*	7.3

*추정치

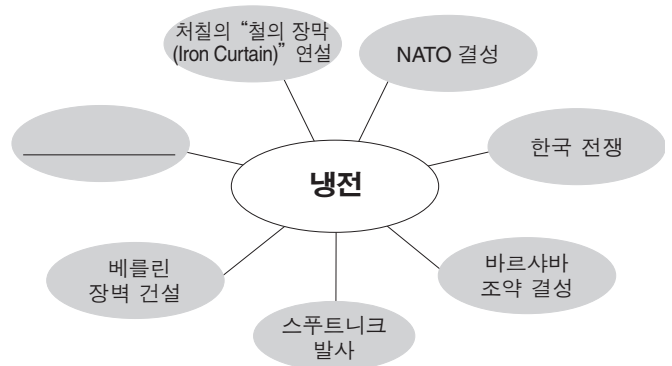
출처: Federal Interagency Forum on Aging-Related Statistics

- 41 차트의 정보가 가장 확실하게 뒷받침해주는 설명은?
 (1) 남성 노인의 수가 여성 노인의 수보다 많다.
 (2) 1960년에는 미국인의 10% 이상이 85세 이상의 노인이었다.
 (3) 85세 이상 장수하는 미국인의 수가 증가하고 있다.
 (4) 1900년에 85세 인구는 백만명에 불과했다.

- 42 1970년 이후로 전 세계 석유 가격이 인상되어 온 이유 한 가지는?
 (1) 알래스카 종단(Trans-Alaska) 송유관의 건설 때문에
 (2) 중동의 정치적 불안 때문에
 (3) 미국 석유 회사들의 자원 보존 노력의 촉구때문에
 (4) 미국 정부가 석유 수입 관세를 배로 증가시켰기 때문에

- 43 미국이 지난 20년 동안 무역수지 적자를 보인 것은 다음 중 어떤 이유 때문인가?
 (1) 수입품에 보호관세를 부과했기 때문
 (2) 수출품에 높은 세금을 부과했기 때문
 (3) 국제 자유무역협정 가입을 거절했기 때문
 (4) 수출한 것보다 더 많은 재화를 수입했기 때문


44번 문제는 아래의 도표 자료와 본인의 사회과학 지식을 바탕으로 답하십시오.



- 44 이 도표 자료의 빈자리에 들어갈 가장 적절한 사건은?
 (1) 베트남 전쟁 (3) 페르시아 만 전쟁
 (2) 유대인 대학살 (4) 노르망디 상륙

45번 문제는 아래의 만화와 본인의 사회과학 지식을 바탕으로 답하십시오.

대법원 지명자



출처: Joe Heller, *Green Bay Press-Gazette*, July 20, 2005 (개정판)

45 이 만화가 담고 있는 주된 생각은 무엇인가?

- (1) 대통령은 허리케인 희생자들에게 도움을 주어야 할 책임이 있다.
- (2) 대법원 판사들은 때때로 정치 사안을 무시할 수 있다.
- (3) 대법원 판사 지명은 종종 논란을 일으킨다.
- (4) 대법원 판사들을 선출할 수 있도록 헌법이 개정되어야 한다

46 공화당 급진파의 남북전쟁 수정안 통과, 테오도어 루즈벨트 대통령의 공평 정책, 린든 존슨 대통령의 위대한 사회 프로그램은 다음 중 어떤 것을 시도하기 위한 것인가?

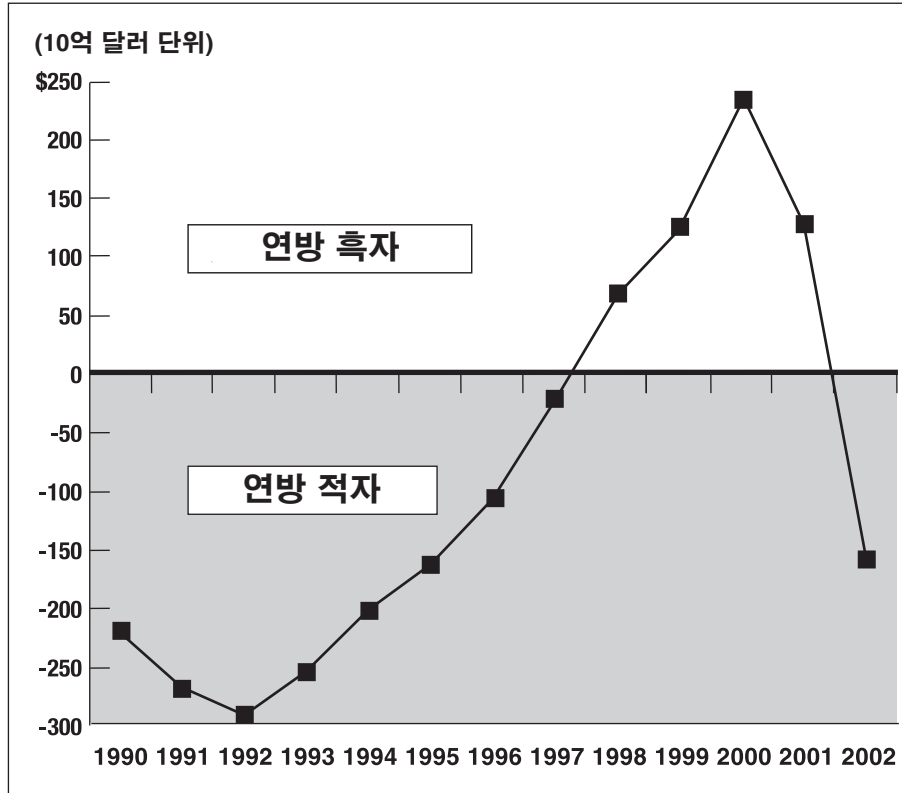
- (1) 자유방임주의 이론 장려
- (2) 정부 조치를 통한 사회 개선
- (3) 정부의 경제적 역할 축소
- (4) 대기업의 영향력 증대

47 1941년 12월 7일의 진주만 공격과 2001년 9.11 테러가 유사한 것은 두 가지 모두 어떠한 결과를 낳았기 때문인가?

- (1) 고립의 심화
- (2) 군대징집의 개시
- (3) 대통령 탄핵
- (4) 미국 외교정책상의 큰 변화

48번 문제는 아래의 그래프와 본인의 사회과학 지식을 바탕으로 답하십시오.

연방 예산 적자 및 흑자 (1990-2002)



출처: CQ Researcher, 2003 (개정판)

48 다음 중 그래프의 정보가 가장 명백하게 뒷받침해주는 연방정부 예산에 대한 설명은 어느 것인가?

- (1) 1990년대에는 대부분 예산이 균형을 이루었다.
- (2) 1998년에 예산 흑자가 감소하기 시작했다.
- (3) 1992년과 1997년 사이에는 예산 적자량이 줄어들었다.
- (4) 1992년과 2000년 사이에는 예산 적자량에 변동이 없었다.

49 1798년 외국인 규제법과 보안법(Alien and Sedition Acts)의 통과와 1950년대의 매카시 청문회, 또 2001년 미국 애국법(USA Patriot Act)의 통과가 논란을 가져온 이유는?

- (1) 이 법률들의 시행에 막대한 자금이 요구됐기 때문
- (2) 시민 자유 보호에 대한 의구심을 제기했기 때문
- (3) 외국 정부들과 협정을 야기했기 때문
- (4) 행정부문의 권한을 제한했기 때문

50 달러 외교 정책, 선린 외교 정책, 진보를 위한 동맹은 무엇을 위해 입안되었는가?

- (1) 라틴 아메리카에 대한 미국의 영향력 증대를 위해
- (2) 동남 아시아와의 무역거래 개시를 위해
- (3) 유럽 국가들과의 평화 유지를 위해
- (4) 아프리카 국가들에게 외교적 지원을 제공하기 위해

에세이 문제에 대한 답은 별도의 에세이 책자에 기입하십시오.

파트 II

주제형 에세이 문제

지시 사항: 서론과 아래의 과제를 다루는 여러개의 문단 그리고 결론을 포함하는 잘 구성된 에세이를 작성하십시오.

주제: 개인, 단체, 기관 - 저술과 개혁

미국 역사 전반에 걸쳐 사람들은 미국인들이 그들이 직면하고 있는 사안에 관심을 모으기 위한 방법으로 저술 작업을 활용하였다. 이러한 글에서 제기된 사안을 해결하기 위해 정부와 단체 또는 개인들은 행동을 취해왔다.

과제:

미국 사회가 직면하고 있는 사안에 관심을 모은 저술작품 **두 가지**를 선택하고 **각각**에 대해

- 저자가 다룬 사안을 둘러싼 역사적인 배경에 대해 묘사하십시오.
- 저자가 제기한 사안에 대한 반응으로 정부 또는 단체 또는 개인이 취한 행동에 대해 논하십시오.

본인이 미국 역사를 공부하면서 배운 저술작품 중 미국 사회가 직면하고 있는 사안에 관심을 모은 글이라면 어떤 것이든 사용할 수 있습니다. 고려해 볼만한 제안으로는 Thomas Paine의 *Common Sense*(1776) Harriet Beecher Stowe의 *Uncle Tom's Cabin*(1852), Jacob Riis의 *How the Other Half Lives*(1890), Upton Sinclair의 *The Jungle* (1906), Langston Hughes의 "I, Too, Sing America"(1925), Michael Harrington의 *The Other America*(1962), Rachel Carson의 *Silent Spring*(1962), Betty Friedan의 *The Feminine Mystique*(1963), Dr. Martin Luther King Jr.의 "Letter from Birmingham Jail"(1963) 등이 있습니다.

위의 제안된 내용에 국한되지 않습니다.

지침 사항:

에세이 작성 시, 반드시

- 과제의 모든 측면을 전개 시키십시오.
- 관련사실과 실례 및 서부사항을 이용하여 주제를 뒷받침하십시오.
- 주제의 단순 반복이 아닌 서론과 결론을 포함한 논리적이고 명확한 구성 계획을 이용하십시오.

답을 전개할 때, 반드시 다음의 일반적 정의를 염두에 두십시오:

- (a) **묘사하십시오**란 "무엇에 관해 글로 설명하거나 그것에 대해 말한다"는 의미입니다.
- (b) **논하십시오**란 "사실과 추론 및 논증을 이용하여 어떤 것에 대해 관찰하고, 어느 정도 자세하게 진술한다"는 의미입니다.

파트 III의 답을 전개할 때, 반드시 다음의 일반적 정의를 염두에 두십시오.

논하십시오란 "사실과 추론 및 논증을 이용하여 어떤 것에 대해 관찰하고, 어느정도 자세하게 진술한다"는 의미입니다.

파트 III

문서에 기초한 문제

이 문제는 함께 제공되는 문서를 기초로 합니다. 이 문제는 역사적 문서를 처리하는 능력을 시험하기 위한 의도로 고안되었습니다. 문서들의 일부는 문제를 위해 편집되었습니다. 문서를 분석하는 과정에서 각 문서의 출처와 문서에 나타난 관점을 참작하도록 하십시오.

역사적 배경:

식민지 시절부터 오늘날까지 물은 미국 역사에 있어 중요한 역할을 해왔습니다. 강과 호수, 대양과 운하, 자연 항구와 풍부한 지하수 같은 물 자원은 여러 가지 방법으로 미국의 정치 및 경제 발전에 영향을 주어왔습니다. 영향을 준 방법에는 탐험과 정착, 서부와 태평양으로의 진출, 농업과 산업의 발전, 이주 양식과 환경 문제 등이 포함됩니다.

과제: 문서에서 제공되는 정보와 미국 역사에 대한 본인의 지식을 이용하여 파트 A의 각 문서 아래에 나와 있는 문제에 답하십시오. 이 문제들에 대한 답은 파트 B의 에세이 문제를 작성하는데 도움이 될 것입니다. 아래는 파트 B에서 작성해야 할 에세이 문제입니다.

- 미국의 발전에 있어서 물의 영향에 대해 논하십시오.

파트 A

단답형 문제

지시 사항: 문서들을 분석하고 각 문서 아래에 나와있는 단답형 문제의 답을 주어진 공간에 쓰십시오.

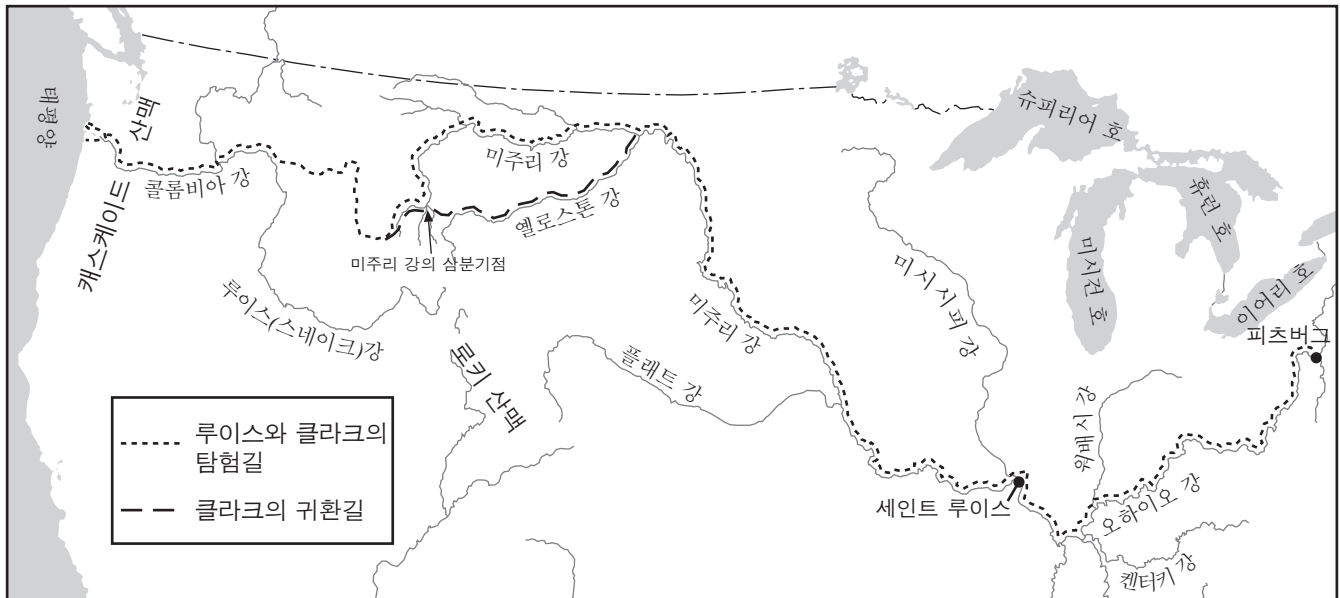
문서 1a

대서양 해안지역 초기 거점이 형성된 중심지(정착지)의 위치는 장소의 지방적 요소 뿐만 아니라 근처에 대양과 항해할 수 있는 강이 있느냐 없느냐에 따라 결정되었다. 식민지 기관들이 이런 요소들을 초기에 얼마나 잘 파악했느냐에 따라 성공과 실패가 좌우되었다. 제임스 강과 포토맥 강, 델라웨어 강과 허드슨 강, 또 코네티컷 강은 주요 진출 노선이 되었다. 대부분의 영국 식민지에서 정착자들은 1700년 직전 폭포선(Fall Line: 피드먼트 평원과 해안 평야와의 한계선)을 건넜다. 그리고 이 항해의 변환선을 따라 요새와 교역장소를 세우고 남부와 중부 식민지의 피드먼트 그리고 뉴잉글랜드와 뉴욕의 구릉지대로 들어왔다. 이 강들은 항상 진입경로의 선두에 있었다. 상인들과 탐험가들은 산맥의 장벽을 넘어 서쪽으로 오하이오강의 상류를 알아냈고 네덜란드인들과 또한 그 후에 영국인들은 허드슨 강을 따라 올바니와 그 북쪽으로 갔으며 뉴잉글랜드 주민들은 빠른 속도로 코네티컷 계곡으로 나아갔다. 보스턴, 뉴욕, 필라델피아 및 도시 규모에 근접하는 소규모 정착지들은 성장과 상업의 중심지가 되었다. 1700년 즈음 영국 식민지 시대 미국의 총 인구는 약 275,000명이었다....

출처: Herman R. Friis, "A Series of Population Maps of the Colonies and the United States, 1625-1790," *The Geographical Review*, July, 1940 (개정판)

문서 1b

루이스와 클라크의 탐험, 1803-1806



출처: Stephen E. Ambrose, *Undaunted Courage*, Simon and Schuster, 1996 (개정판)

1 이 문서들을 바탕으로 볼 때, 강이 미국의 정착과 탐험에 영향을 준 **한 가지** 방법은 무엇인가? [1]

점수

문서 2

역사학자 Norman Graebner에 따르면, 1840년대 확장주의자들은 점차적으로 오리건과 캘리포니아를 미국 경계를 태평양 해안까지 확장하고자 하는 “하나의 야망을 구성하는 두 절반”으로 보았다.

... 1846년의 오리건 협약(Oregon treaty)으로 미국은 태평양까지 도달했다. 42°선에서 푸카 해협 및 퓨젓 만까지 바다를 따라 이어지는 땅은 확장주의자들의 꿈을 절반 정도 이루어주었다. 그 해안들에서 미국 개척자의 전진은 멈출 것 같았지만, 상업 팽창주의자들은 오리건의 점유가 태평양에서의 미국 무역에 줄 기세[여세]에 힘입어 눈을 더 멀리로 돌렸다. 벤턴(미주리주의 토마스 하트 벤튼 상원 의원)은 “상업적으로 오리건주의 장점은 대서양 연안에 위치한 같은 크기의 어느 주보다도 더욱 클 것이다”라고 예상했다. 이 미주리인은 동양(아시아) 시장과 그 쪽으로의 수출 상품은 유럽 시장과 그 쪽으로의 수출 상품보다 미국 상업(교역)의 필요조건을 더욱 훌륭히 보완해줄 것이라고 믿었다....

출처: Norman Graebner, *Empire on the Pacific: A Study in American Continental Expansion*, Ronald Press Co., 1955 (개정판)

2 Norman Graebner에 따르면 미국이 1840년대에 태평양 해안까지 경계를 확장한 주된 이유 **하나**는 무엇인가? [1]

점수

문서 3

... 마한은 승리를 거둔, Cuba Libre(독립)를 위한 스페인과의 전쟁을 통해서, 멀리 위치한 필리핀을 합병시킬 기회를 보았던 루즈벨트, 로지, 인디애나 주의 상원의원 앨버트 J. 베버리지 및 다른 지도자들과 같은 1898년 제국주의자들의 선도자 (지도자) 중에 끼어 있지 않았다. 마한은 1896년 이래로 태평양 지역에서 미국의 상업적 확장 및 중국 시장 진출의 필요성과 기회를 파악하고 있었다. 하지만 그가 그런 특정 목표를 전체 필리핀 군도의 합병과 연관시켰다는 설득력 있는 증거는 없다. 그는 마닐라, 괌, 양쯔강 입구의 석탄 공급항구 취득이 앞으로 미국이 중국에서 상업적 야망을 유지하기에 충분하다고 생각했다.

분명히 하자면, 그는 오랫동안 하와이 합병을 옹호했으며 그의 주장은 변함없이(항상) 태평양 해안의 방어, 동양인 이민의 통제, 일본의 중앙 태평양 지역 확장에 대한 전략적 의미 등에 초점을 맞추어 왔다. 사우스 다코타 주의 상원의원 제임스 H. 카일이 하와이의 전략적 장점과 가치에 대한 설명을 부탁했던 최근 1898년 2월에도 그는 하와이 합병을 다시 주장했다. 1898년 7월, 미국이 거의 국가적 방어반사로 눈을 두 번 깜박이고 침을 꿀꺽 삼킨 뒤 마침내 하와이 전체를 통채로 집어 삼켰을 때 그는 환호했다. 그가 8월 중순에 "위원회의 의견으로는, 이제는 다행스럽게도 우리의 땅이 된 이 섬의 소유권은 우리의 아시아로의 진출 및 태평양 해안 영토 방어의 차원에서 군사적이다"라고 쓴 것처럼...

출처: Robert Seager II, *Alfred Thayer Mahan: The Man and His Letters*,
Naval Institute Press, 1977

- 3 저자에 따르면 알프레드 테이어 마한이 태평양 섬들을 통치하는 것이 미국의 발전에 중요하다고 생각한 이유 **한 가지**는 무엇인가? [1]

점수

문서 4a

... 오갈랄라 대수층(Ogallala Aquifer)* (하이플레인스 대수층이라고도 함)은 지금 [2000년] 수량 감소와 수질 악화에 직면해 있다. 오갈랄라에서 퍼올린 물의 90% 이상이 미국 전체 농경지의 적어도 1/5에 물을 대고 있다. 이 물은 미국에서 관개에 사용되는 지하수의 30%에 해당한다. 이 대수층의 혜택을 받고 있는 농작물로는 면, 옥수수, 알팔파, 대두, 밀이 있다. 이런 농작물은 중서부 소 농장에 다량의 사료를 제공하고 이곳 미국에서 사육장 쇠고기 생산의 40%를 제공한다. 20세기 초반 농사 관개의 발달 이후, 오갈랄라 대수층은 네브라스카와 캔자스 같은 주들이 가축을 먹이는 데 필요한 다량의 곡식 생산을 가능하게 했다. . . .

관개가 없었다면 하이플레인스 지역은 척박하고 비생산적인 미개발 환경상태로 남아 있었을 것이다. 심지어 오늘날에도 땅이 건조한 지역의 농사는 그 지역의 생산자도 성공을 의심할 정도로 위험성이 큰 농사로 남아있다. 그러나 황진 지대라는 호칭이 여전히 적절함에 불구하고, 하이플레인스는 전 세계에서 가장 생산성이 높은 농경지 중의 하나가 되었다. 하지만 지하수 양이 감소해가는 요즘, 환경 친화적 개발을 위한 실행 가능한 대안의 탐구가 필요하다.

*대수층은 깨끗한 지하수원이다. 1930년대 농부들은 대수층에 근접할 수 있는 기술이 없었다.
출처: Manjula Guru and James E. Horne, *The Ogallala Aquifer*, The Kerr Center for Sustainable Agriculture, 2000 (개정판)

문서 4b

황진 지대 및 오갈랄라 대수층



출처: <http://www.wadsworth.com> and The Kerr Center for Sustainable Agriculture (개정판)

4a 이 문서들을 바탕으로 볼 때, 오갈랄라 대수층이 미국의 하이플레인스 지역 농산물 생산에 중요한 이유 **한 가지**는 무엇인가? [1]

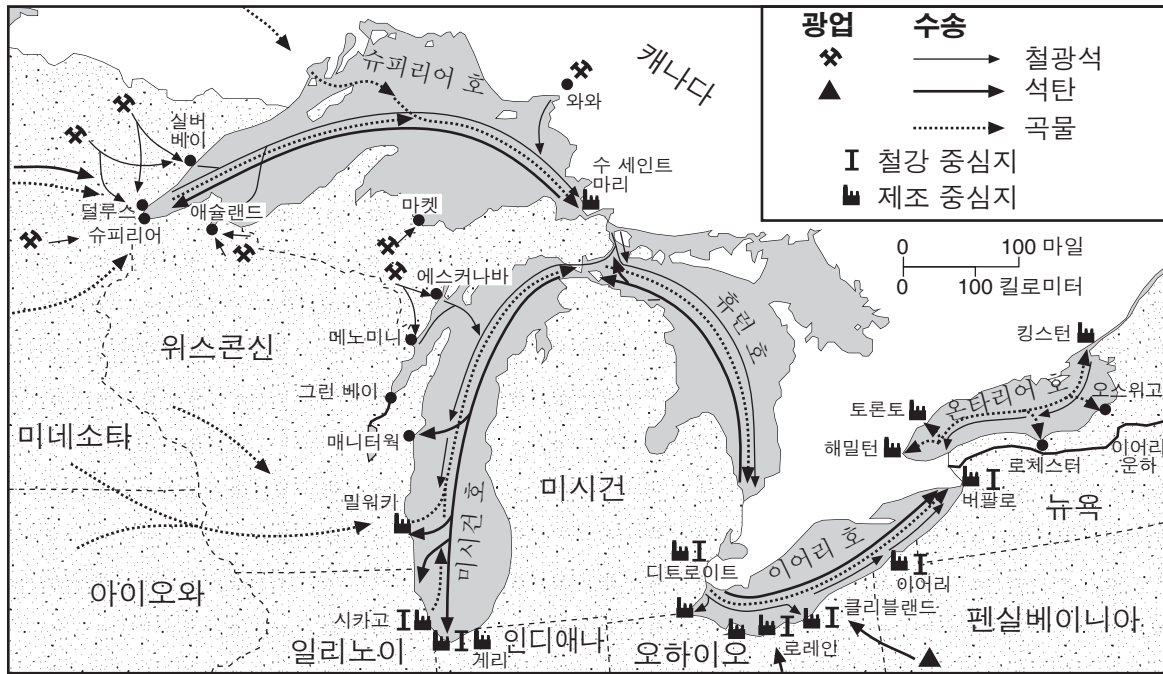
점수

b 문서 4b를 바탕으로 볼 때, 물의 부족은 1930년대 대평원의 일부에 어떤 영향을 주었는가? [1]

점수

문서 5a

5대호 수송



출처: <http://www.geo.msu.edu> (개정판)

문서 5b

1890년 5월 29일 *W. R. Stafford*호는 철광석을 싣고 미시간 주 마켓에서 출발하여 정기 경로를 따라 오하이오 주로 간 뒤 석탄을 싣고 돌아왔다.

... 이 한 해 동안, 수백 척의 선박들이 5대호를 사이에 두고 슈피리어 호 남부 및 서부 해안의 철광석이 풍부한 지역과 오하이오 및 미시간의 산업 중심지 사이를 왕복(항해)하며 수천 번도 넘게 그 선박 [*W.R. Stafford*]의 항해 일정을 반복했다. 이러한 선박들이 운반했던 철광석의 풍부한 양과 그 품질은 19세기 말 수십 년 동안 미국의 전대미문의 산업 성장에 원동력이 되었다. 5대호 운송은 그러한 성장에서 매우 중요한 역할을 했다. 이 연결로가 없었다면 미국 산업의 성장은 그렇게 빨리 진행될 수 없었을 것이다....

출처: http://www.geo.msu.edu/geogmich/iron_ore__taconite.html

5 이 문서들을 바탕으로 볼 때, 5대호가 미국의 산업화에 영향을 준 방법 **한 가지**는 무엇인가? [1]

점수

문서 6

이 인용구는 1927년 미시시피강 홍수의 영향에 대해 설명하고 있다.

... 1928년 초에 이르러서는 워싱턴 카운티(미시시피 주)와 아마도 삼각주의 나머지 지역으로부터 온 흑인(아프리카계 미국인)의 대이동은 50%에 달했다. 재건시대가 끝난 이래로 흑인들은 남부를 떠나 북부와 서부로 이주했다. 하지만 초기에는 그 이동이 서서히 느린 속도로 일어났으며, 1900년과 1910년 사이 남부를 떠난 흑인의 수는 약 200,000 정도였다. "대이동"은 제1차 세계대전 중 시작되었다. 1910년에서 1920년 사이에 522,000 명의 흑인이 남부를 떠났고, 그 대부분의 이동은 1916년에서 1919년 사이에 일어났다. 이번에는 미시시피강의 범람원과 아칸소, 루이지애나와 미시시피의 흑인들이 더 큰 숫자로 북부를 향해 떠났다. 1920년대에는 돌아온 흑인보다 872,000명이나 더 많은 흑인들이 남부를 떠났다. (1930년대에 대이동 수는 급격하게 줄었으며 아칸소, 루이지애나, 미시시피를 떠나는 흑인의 수는 거의 2/3로 떨어져 다시 1900년대 초 수준으로 돌아갔다.)

삼각주 흑인들이 선호하는 목적지는 시카고였다. 이들은 시카고에 블루스를 전파했으며 이 지역의 흑인 인구는 1910년의 44,103명에서 1920년에는 109,458명 그리고 1930년에는 233,903명으로 폭발적인 증가를 보였다. 이 이주자들이 모두 미시시피 강 범람원에서 온 것은 분명 아니었다. 그리고 그 총적토의 제국 내에서도 1927년의 대 홍수가 흑인들이 고향을 버릴 수 밖에 없었던 유일한 이유는 아니었다. 하지만 그 홍수가 수만 명의 미시시피 강 삼각주 흑인들에게는 마침내 고향을 떠나도록 한 결정적인 이유가 되었다. . . .

출처: John M. Barry, *Rising Tide: The Great Mississippi Flood of 1927 and How It Changed America*, Simon & Schuster, 1997

- 6 이 문서에 따르면, 1927년 미시시피 강의 홍수가 많은 아프리카계 미국인들에게 어떤 영향을 주었는가? [1]

점수

문서 7

... 환태평양 지역에서 시작해 내륙쪽으로 이동하게 되면, 대도시들과 수 많은 마을들, 그리고 비옥한 농장들을 볼 수 있다. 하지만 이러한 광경은 시에라 네바다 산맥과 캐스케이드 산맥을 넘기전까지만이다. 이 두 산맥들은 태평양으로부터 이동해 들어오는 계절성 기생전선을 차단하여 눈과 호우로부터 물기를 다 짜내버린다. 시에라-캐스케이드 봉우리의 동쪽은 강수량이 급격히 떨어진다. 서쪽 경사면의 강수량이 150인치인 반면 동쪽은 4인치에 불과하다. 다코타와 네브래스카, 캔자스를 비롯하여 아래쪽으로는 텍사스의 애빌린을 가로지르는 경도 100도를 지날때까지 고도가 높은 지역을 제외하고는 강수량은 크게 증가하지 않는다. 결국 이는 미국을 가장 분명하게 두 지역으로 분간하도록 하는데, 그 하나는 연중 강우량이 최소 20인치 이상을 기록하는 지역들이고, 다른 하나는 강우량이 이에 못 미치는 지역들을 포함한다. 강우량이 20인치 이하인 곳들은 온전히 하늘에만 의존해야 하는 농부들에게는 아주 혹독한 지대이며, 피닉스, 엘파소, 리노와 같이 7인치 미만의 곳들은 논쟁의 여지는 있으나 곡식이 전혀 자랄 수 없는 곳들이다. 모든 것은 물을 어떻게 관리하느냐에 달려있다. 댐에 물을 모으고, 물을 저장하며, 콘크리트 강(송수로)을 만들어 수로를 변경하여 수백 마일 떨어진 곳으로 물을 흘려보내는 것과 같은 물의 관리에 모든 것이 달려있다. 그 목적 달성을 위한 150년간의 절대적 노력(적극적인 개혁운동)이 없었더라면, 우리가 지금 알고 있는 서부는 존재하지 않았을 것이다. . . .

출처: Marc Reisner, *Cadillac Desert: The American West and Its Disappearing Water*, Penguin Books, 1993

7 이 문서에 따르면, 미국의 서부 지역에서의 정착에 물은 어떤 영향을 주어왔는가? [1]

점수

청정수 법(Clean Water Act)에 대한 간략한 역사

<p>1968</p>	<p>1968년에 실시한 설문조사에 의하면, 체서피크 만의 오염은 수산업계에 연간 300만 달러의 손실을 야기했다고 한다. 한편, 미국 스포츠 수산국(U.S. Bureau of Sport Fisheries)이 측정한 590개 샘플 중 584개에서 검출된 DDT[살충제]의 수치가 FDA[식약청] 한도를 최고는 9배까지도 초과하기도 하였다.</p>
<p>1969</p>	<p>1969년에 허드슨 강의 박테리아 수준은 안전 한도의 170배에 달했다. 또한 1969년에는 4100만 마리가 넘는 기록적인 물고기 떼죽음이 기록되었다. 여기에는 식품 가공 공장에서 나온 방출물로 인해 플로리다주의 토노토사싸 호에 있는 2600만 마리의 물고기가 떼죽음을 당한 역사상 가장 최대 기록이 포함되어 있다.</p>
<p>1970</p>	<p>1970년 7월 보건, 교육, 복지부의 물 위생 관리국에서는 음용수 샘플의 30%에 공공보건 서비스의 권장 한도를 초과하는 화학물질이 포함되어 있다고 발표했다.</p>
<p>1971</p>	<p>1971년 2월 FDA는 황새치 물고기 샘플의 87%에 식품으로 소비할 수 있는 수준을 초과하는 수은이 포함되어 있다고 발표했다.</p>
<p>1972</p>	<p>1972년에 통과된 청정수법은 오염물질을 아무런 제한 없이 물에 방출하는 관행을 관리하고자 하는 시도였다. 당시 미국 호수, 강, 해변의 2/3가 낚시나 수영을 하기에 부적합했다. 미처리 폐수가 공공인들이 이용하는 물에 버려졌다. 청정수법의 목적은 "전국의 물에 화학적, 물리적, 생물학적 무결성을 복원하고 유지"하기 위해 모든 물의 오염물질을 줄이는 것이었다. 이 법안은 1985년까지 향해 가능한 물에 오염물질을 전혀 방출하지 않을 것과 또 1983년까지 낚시와 수영이 가능한 물"로 만들 것을 요구했다.</p>

출처: "Troubled Waters – A Brief History of the Clean Water Act," pbs.org/now/science/cleanwater.html (개정판)

8 이 차트를 바탕으로 청정수법을 탄생하게 한 **두 가지** 환경적 문제에 대해 진술하시오. [2]

(1) _____

점수

(2) _____

점수

문서 9

서부는 오븐과 같은 곳이다. 중서부의 대부분은 바싹 말린 부싷깃처럼 말라있다. 미국의 나머지 지역 대부분이 극심한 더위 및 가뭄과 싸우고 있지만, 지금은 5대호의 물과 5대호 물을 다른 데로 보내는 것에 대해 다시 생각해봐야 할 때이다. 미국의 중부 및 남서부 지역이 직면한 가장 중요한 문제들 중 하나는 물이 부족하다는 것이다. . . .

많은 건조한 주들의 주민들이 5대호의 물에 눈독을 들이고(질투하고) 있다는 것은 모두가 아는 사실이다. 이런 부러움에 찬 건조한 주들 중 일부는 5대호의 물을 다량 전환할 방법을 곧 찾기 시작할 것이다. 그들이 5대호에서 다량의 물을 성공적으로 끌어낼 수 있게 된다면, 경제적 및 환경적 손해가 있을 것을 예상해야 한다. . . .

출처: "5대호의 물은 5대호 안에," mlive.com (Everything Michigan), July 25, 2005

9 이 문서에 따르면, 5대호 물에 대해 걱정을 하는 이유 **한 가지**는 무엇인가? [1]

점수

파트 B 에세이

지시 사항: 서론, 몇 개의 문단 및 결론을 포함하여 잘 구성된 에세이를 작성하십시오. 최소한 5개의 문서에 나와있는 증거를 에세이에 이용하십시오. 관련 사실, 실례 및 세부사항을 이용하여 답을 뒷받침하고 그 외의 외부 정보를 첨가하십시오.

역사적 배경:

식민지 시절부터 오늘날까지 물은 미국 역사에 있어 중요한 역할을 해왔습니다. 강과 호수, 대양과 운하, 자연항구와 풍부한 지하수 같은 물 자원은 여러 가지 방법으로 미국의 정치 및 경제 발전에 영향을 주어왔습니다. 영향을 준 방법에는 탐험과 정착, 서부와 태평양으로의 진출, 농업과 산업의 발전, 이주 패턴과 환경 문제 등이 포함됩니다.

과제: 문서에서 제공되는 정보와 미국 역사에 대한 본인의 지식을 이용하여 다음에 대한 에세이를 작성하십시오.

- 미국의 발전에 있어 물의 영향에 대해 논하십시오.

지침사항:

에세이 작성 시, 반드시

- 과제의 모든 면을 전개시키십시오.
- 최소한 5개의 문서에 있는 정보를 반영하십시오.
- 관련 있는 외부 정보를 반영하십시오.
- 관련 사실과 실례 및 세부사항을 이용하여 주제를 뒷받침하십시오.
- 주제의 단순한 재진술 그 이상의 서론과 결론을 포함하는 논리적이고도 명확한 구성 계획을 이용하십시오.

미국 역사 및 정부

2010년 1월 28일, **목요일** — 오전 9시 15분 - 오후 12시 15분에만 실시

답안지 남

학생 성별: 여

교사

학교

파트 I에 대한 답은 이 답안지에 기입하십시오. 파트 III A에 대한 답은 시험 책자에 기입하십시오. 파트 II 및 파트 III B에 대한 답은 별도의 에세이 책자에 기입하십시오.

1.....	26.....
2.....	27.....
3.....	28.....
4.....	29.....
5.....	30.....
6.....	31.....
7.....	32.....
8.....	33.....
9.....	34.....
10.....	35.....
11.....	36.....
12.....	37.....
13.....	38.....
14.....	39.....
15.....	40.....
16.....	41.....
17.....	42.....
18.....	43.....
19.....	44.....
20.....	45.....
21.....	46.....
22.....	47.....
23.....	48.....
24.....	49.....
25.....	50.....

교사 작성란

Part I Score _____

Part III A Score _____

Total Part I and III A Score

Part II Essay Score _____

Part III Essay Score _____

Total Essay Score

Final Score (obtained from conversion chart)

No. Right

시험을 완료한 학생은 아래 진술서에 서명해야 합니다.

본인은 시험을 치르기 이전에 문제나 답에 대한 어떠한 불법적 사전 지식이 없었으며 시험 동안 문제를 푸는데 있어서 어떠한 도움도 주고 받은 사실이 없음을 본 시험의 종료와 함께 확인하는 바입니다.

서명

절취선

절취선

